



# 北京市西城区九年级统一测试

## 历史试卷

2021.4

考生须知	<p>1. 本试卷共 10 页，共两部分，24 道题，满分 70 分。考试时间：70 分钟。</p> <p>2. 在试卷和答题卡上准确填写姓名、准考证号、考场号和座位号。</p> <p>3. 试题答案一律填涂或书写在答题卡上，在试卷上作答无效。</p> <p>4. 在答题卡上，选择题用 2B 铅笔作答，其他试题用黑色字迹签字笔作答。</p> <p>5. 考试结束，将本试卷、答案卡和草稿纸一并交回。</p>
------	--------------------------------------------------------------------------------------------------------------------------------------------------------------------------------------------------------------

### 第一部分（选择题 共 30 分）

本部分共 20 小题，每小题 1.5 分，共 30 分。在每小题列出的四个选项中，选出最符合题目要求的一项。

- 下列各项中能为人类起源的研究提供可靠证据的是
  - 北京人头盖骨化石
  - 河姆渡遗址出土的陶钵
  - 半坡人制造的生产工具
  - 良渚遗址出土的玉璧
- 《史记》记载了“烽火戏诸侯”的故事：周幽王时期，为让宠妃开心，将国都附近骊山上标有紧急军情的烽火台上烽火点燃。诸侯纷纷赶到救援，到达后发现被戏弄而愤愤不平。其中“诸侯纷纷赶到救援”反映的西周政治制度是
  - 分封制
  - 郡县制
  - 科举制
  - 行省制
- 观察下方图示，其中表述正确的一项是



- 秦二世统治时期，半两钱开始在全国流通
  - ①处对应的货币为五铢钱
  - 到宋朝时，纸币成为当时唯一的流通货币
  - ②处对应的时代应为隋朝
- 与右图所示书籍可归类为同一领域的著作是
    - ①《兰亭集序》
    - ②《伤寒杂病论》
    - ③《农政全书》
    - ④《天工开物》
- ①③
  - ②③
  - ②④
  - ③④



《齐民要术》



5. 观察下表

河南、江苏两地科举考试状元人数表

	唐	宋	明	清
河南	15	16	2	1
江苏	7	8	17	49

表中呈现的变化反映了

- A. 科举制影响力不断扩大  
B. 经济发展促进文化兴盛  
C. 河南地区经济发展停滞  
D. 江苏地区迁入人口最多

6. 观察下列不同时期形势（疆域）图并依据所学，分析所体现出的趋势是

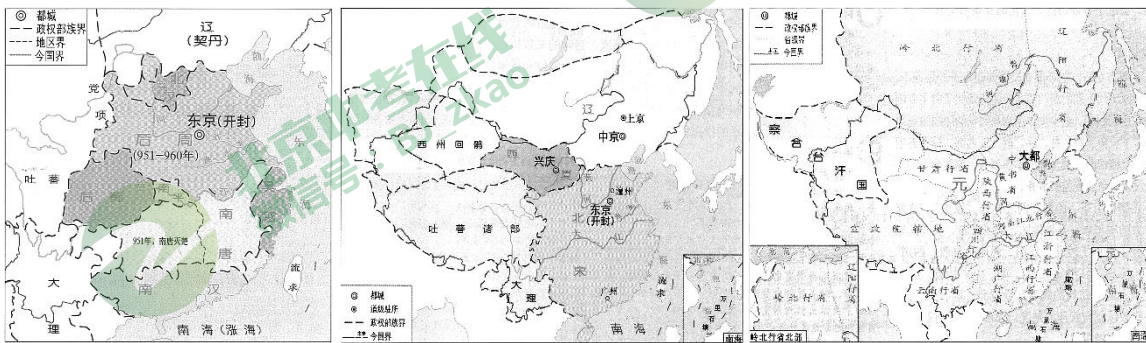


图1 五代十国形势图（后周时期）

图2 辽、北宋、西夏形势图（1111年）

图3 元朝疆域图（1330年）

- A. 藩镇割据的局面在不断重现  
B. 各民族间交融趋势受到阻碍  
C. 东西方的文化交流时断时续  
D. 统一多民族国家的不断发展

7. 中华民族共同体是中华各族人民在长期历史发展中形成的政治上团结统一，文化上兼容并蓄，经济上相互依存，情感上相互亲近的民族共同体。下列能够为中华民族共同体的历史发展提供依据的史实是

- ①唐朝文成公主与吐蕃赞普联姻  
②宋朝实行重文轻武的政策  
③元朝设置宣政院  
④清朝土尔扈特部回归
- A. ①②③  
B. ①②④  
C. ①③④  
D. ②③④

8. 从1842年的《南京条约》到1895年的《马关条约》、1901年的《辛丑条约》，这一系列条约造成的相同影响是

- A. 使中国被迫开放了通商口岸  
B. 损害了中国的国家主权  
C. 使中国被迫割让了大片土地  
D. 摧残了中国的思想文化

9. 下列北京历史名人纪念地与人物事迹对应正确的是

	名人纪念地	人物事迹
A	曹雪芹纪念馆	清朝著名小说家，代表作《水浒传》
B	梁启超墓	资产阶级革命派代表人物，参与戊戌变法
C	孙中山纪念馆	成立中国同盟会，颁布《中华民国约法》
D	鲁迅故居	新文化运动代表人物，代表作为《狂人日记》



10. 有学者说：“5 个多小时的激战，不仅决定了北洋水师和日本舰队的命运，而且决定了战争全局。说得远一点，它同时又决定了此后半个世纪里中日关系的格局：把 37 年之后‘九一八’的炮声看做黄海海面炮声的历史回响也不为过。”通过这段材料可以得出的结论是
- A. 甲午战争失败后，清政府掀起了洋务运动
  - B. 黄海海战的失败引发了九一八事变
  - C. 九一八事变是全民族抗战的开端
  - D. 甲午战争的结局，影响到长时期的中日关系

11. 与右侧图片反映的史实相关的诗词是
- A. 敌军围困千万重，我自岿然不动
  - B. 红军不怕远征难，万水千山只等闲
  - C. 钟山风雨起苍黄，百万雄师过大江
  - D. 一桥飞架南北，天堑变通途

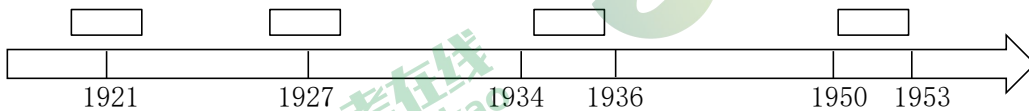


人民解放军占领南京总统府

12. 1949 年 3 月 23 日，中共中央机关离开西柏坡前往北平。毛泽东在出发时说：“今天是进京的日子，进京赶考去。”下表内容为“进京”后所需要完成的两项重要任务，表中①②分别对应的历史事件是

筹备新政权	①
解放农村生产力	②

- A. 第一届中国人民政治协商会议 一五计划
  - B. 第一届中国人民政治协商会议 土地改革
  - C. 第一届全国人民代表大会 一五计划
  - D. 第一届全国人民代表大会 土地改革
13. 习近平总书记在 2021 年 2 月 20 日党史学习教育动员大会上指出，要“大力弘扬红色传统、传承红色基因，赓续共产党人精神血脉，始终保持革命者的大无畏奋斗精神，鼓起迈进新征程、奋进新时代的精气神。”按时间顺序将中国共产党的“红色精神”填入时间轴，依次是



- ①井冈山精神      ②长征精神      ③抗美援朝精神      ④红船精神
- A. ④①②③      B. ①④③②      C. ④②①③      D. ④①③②

14. “火药、指南针、印刷术——这是预告资产阶级社会到来的三大发明：火药把骑士阶层炸得粉碎，指南针打开了世界市场并建立了殖民地，而印刷术则变成了新教的工具。”其中与“指南针打开了世界市场并建立了殖民地”相关的历史事件为
- A. 文艺复兴      B. 新航路开辟      C. 宗教改革      D. 光荣革命
15. 若想研究“欧洲资本主义制度的初步确立”这一单元主题，有价值的文献史料是
- A. 《权利法案》文本      B. 《拍卖黑人奴隶》广告
  - C. 《拿破仑》电影海报      D. 《凡尔赛条约》文本



16. 符合下表所反映情况的一项是

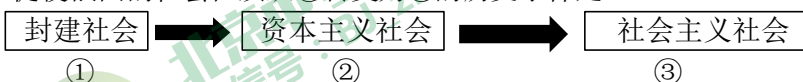
1850-1900年主要国家温室气体二氧化碳排放表(单位:百万吨)

	英国	德国	法国	美国
1850年	122.7	15.2	19.6	19.8
1870年	228.7	76.7	50.6	98.7
1890年	353.3	208.4	97.9	402.1
1900年	420.1	327.0	129.4	663.3

- ①各国温室气体排放量均有所增加
- ②环境问题随着人类工业时代的发展愈发突出
- ③工业革命时期上述各国温室气体排放量接近
- ④第二次工业革命引发温室气体排放量进一步提升

A. ①②③      B. ①②④      C. ①③④      D. ②③④

17. 促使俄国的社会性质从②转变为③的历史事件是



A. 农奴制改革      B. 二月革命      C. 十月革命      D. 苏联解体

18. 右侧材料为一本著作的目录部分, 该著作最有可能是

- A. 《文艺复兴时期的思想与艺术》
- B. 《中世纪欧洲经济社会史》
- C. 《大萧条与罗斯福新政》
- D. 《欧盟扩大: 背景发展史实》

第一章 负债的世界  
第二章 胡佛那几年  
第三章 萧条的美国  
第四章 复胀与复苏

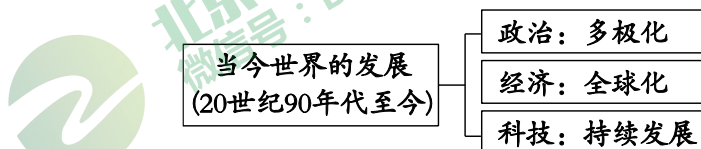
19. 右侧照片拍摄于20世纪40年代末, 与该照片相关的历史事件为

- A. 第二次世界大战
- B. 铁幕演说
- C. 美苏冷战
- D. 东欧剧变



“柏林危机”期间的空运

20. 20世纪90年代以来, 世界的发展呈现出新的趋势, 能为下图政治、经济、科技的发展趋势依次提供例证的是



- A. 苏联成立 马歇尔计划实施 飞机的发明
- B. 欧盟成立 世界贸易组织成立 互联网的应用
- C. 不结盟运动开展 欧共体成立 计算机的发明
- D. 北约成立 世界贸易组织成立 电话的发明



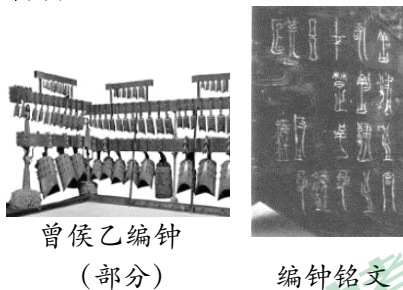


## 第二部分 (非选择题 共 40 分)

本部分共 4 大题, 共 40 分。请用黑色字迹签字笔在答题卡上各题的答题区域内作答, 在试卷上作答无效。

21. (9 分) 音乐来源于生活, 脱胎于时代的社会经济基础, 映射着时代的价值取向。

### 材料一



曾侯乙编钟  
(部分)

编钟铭文

在周朝礼乐制度下, “礼” 必然与 “乐” 配合使用。在礼的进行中, 如没有乐相配, 将失去礼的庄严穆气氛, “礼为内核, 乐为外衣”。

曾侯乙编钟分为从上至下的高、中、低三个音区, 中间的中音区是核心音区, 它的八度之内具备完整的十二个半音, 音律音阶结构与现代国际通用的十二平均律音阶相同。

(1) 曾侯乙编钟是战国早期曾国国君的大型礼乐重器, 依据材料一, 说出曾侯乙编钟的研究价值。(2 分)

### 材料二

文物图片	记载或相关研究	体现的时代特征
莫高窟 445 窟 菩萨伎乐线描图	箜篌 (kōnghóu) 是拨弦乐器, 东晋初年由身毒 (古印度) 传入我国, 敦煌莫高窟中有箜篌图案的洞窟约 127 窟, 其中唐朝 67 窟。	①
《西夏书事》	历五代入宋, 年隔百余, 而其音节悠扬, 声容清厉, 犹有唐代遗风。……其礼文仪节, 律度声音, 无不遵依宋制。	②

(2) 根据材料二中有关音乐的文物记载或相关研究, 概括其体现的时代特征。(2 分)

### 材料三

冼星海《黄河大合唱》乐谱的手稿	苏联《真理报》上刊登的歌曲《神圣的战争》
《黄河大合唱》节选 (创作于 1938 年) 风在吼。马在叫。黄河在咆哮……万山丛中, 抗日英雄真不少! 青纱帐里, 游击健儿逞英豪……保卫家乡! 保卫黄河! 保卫华北! 保卫全中国!	《神圣的战争》节选 (创作于 1941 年) 起来, 伟大的国家, 做决死斗争, 要消灭法西斯恶势力……不让邪恶的翅膀飞进我们的国境, 不让敌人蹂躏……贡献出一切力量和全部精神, 保卫亲爱的祖国。

(3) 依据材料三并结合所学, 分析以上两首歌曲产生的共同历史背景, (1 分) 结合歌词, 说出两国在相关重大历史事件中, 取得最终胜利的原因。(2 分)



材料四 以下是部分历史歌曲的歌词节选

<p><b>辛亥首义歌</b></p> <p>长枪大炮都准备好，楚望台上旌旗飘！驱除鞑虏，还我中华！铁血男儿壮志冲九霄！</p>	<p><b>国民革命歌</b></p> <p>打倒列强，打倒列强，除军阀，除军阀……国民革命成功，国民革命成功，齐欢唱，齐欢唱。</p>	<p><b>长征组歌</b></p> <p>遵义会议放光辉……雪皑皑，野茫茫，高原寒，炊断粮。红军都是钢铁汉，千锤百炼不怕难。</p>	<p><b>中国人民志愿军战歌</b></p> <p>雄赳赳，气昂昂，跨过鸭绿江。保和平，卫祖国，就是保家乡。</p>
------------------------------------------------------------------	----------------------------------------------------------------------	---------------------------------------------------------------------	-------------------------------------------------------------

(4) 结合所学，仿照示例，选择材料四中的任一首歌曲加以说明（示例除外）。（2分）

**示例：**“国民革命歌”反映了国民革命时期国民革命军北伐的历史，北伐的胜利进军基本推翻了北洋军阀的统治，沉重打击了帝国主义势力。

22. (9分) 贫困是人类社会的顽疾，反贫困始终是古今中外治国安邦的大事。

材料一

序号	史料内容	史料作者或出处
①	民为贵，社稷次之，君为轻	孟子
②	君者，舟也；庶人者，水也。水则载舟，水则覆舟	荀子
③	富者田连阡陌，贫者无立锥之地	《汉书·食货志》
④	白骨露于野，千里无鸡鸣	曹操
⑤	太子与竟陵王子良俱好释氏（佛教），立六疾馆以养穷民	《南齐书·列传》
⑥	（明）太祖设养济院收无告者（有疾苦而无处管理的人），月给粮；设漏泽园（公共墓地）葬贫民	《明史·食货志》

(1) 将材料一的内容与以下观点相对应。（3分。填序号，每空多选、少选、错选均不得分）

古代思想家关注社会民生问题：\_\_\_\_\_

战乱及土地兼并导致生活贫困：\_\_\_\_\_

古代统治者采取措施救助贫困：\_\_\_\_\_

**材料二** 江西省井冈山市神山村，是昔日最偏远的贫困村之一。1928年春，神山村在共产党领导下，打土豪、分田地，开展了轰轰烈烈的土地革命。分得土地的农民生产积极性空前高涨，土地收成比上一年平均增加三成。群众纷纷要求加入红军，只有61人的神山村，就有28名村民义务为红军当挑夫、向导、炊事员、通讯员等。

(2) 依据材料二，分析神山村进行土地革命的意义。（2分）



**材料三** 马克思通过研究揭示出资本主义社会贫穷与富裕之间的因果关系，指出贫困产生于资产阶级对无产阶级的剥削。1935年，美国颁布《社会保障法》，旨在解决社会贫困问题，但是由于资本主义制度的原因，反贫困效果始终不显著。欧洲各国用了很长的时间，进行反贫困探索，但是在“福利国家危机”下止步，过高的社会福利对于解决贫困现象收效寥寥。

(3) 依据材料三，概括欧美各国反贫困效果不理想的表现。（2分）



材料四

不同时期的脱贫宣传画

<p>coll. SRL 中華人民共和國三年來的偉大成就</p>		<p>新华社发 刘道伟 作</p>
<p>1952 年底，约 3 亿无地少地的农民，分到了约 7 亿亩的土地</p>	<p>1978 年以后，国家高度重视农村公路建设</p>	<p>2013 年以来，在精准扶贫战略指引下，电商扶贫、旅游扶贫等多种形式的助农行动开展</p>

(4) 依据材料四，谈谈对我国建国后对贫困治理的认识。(2分)

23. (11分) 从相对封闭到联络渐多，中国在逐渐认识世界，世界也更加关注中国。

**材料一** 长颈鹿原产地是今东非。麒麟是古代中国人幻想出来的一种象征祥瑞的神兽。明永乐(明成祖朱棣年号)十二年九月，榜葛刺(今孟加拉国)贡使随中国远航船队到达中国并献上长颈鹿，明成祖误以为眼前这一“怪兽”便是传说中的“麒麟”，龙颜大悦。诏画工绘制麒麟图。



明人绘麒麟图

(1) 写出与材料一中提到的榜葛刺贡使到中国相关的重大历史事件。(1分) 说明明朝对外交流的特点。(1分)

**材料二** 夷最初指我国古代东方部族，后泛指华夏族以外的少数民族，常带有贬义；近代前期，往往用来称外国或外国人。19世纪40年代的许多著作把西方人称“夷”，如著名思想家魏源在此时也称西方人为“夷”。随着中外交流的逐渐增加和各国政府的一再要求，到了19世纪七八十年代的新作以及前述著作再版时都将“夷”改作“洋”了。曾经的天朝上国变成了过去式，曾经的海外蛮夷也变成了诸国列强。

(2) 依据材料二，写出近代前期对外国人称谓的变化。(1分) 分析出现这种变化的背景。(2分)



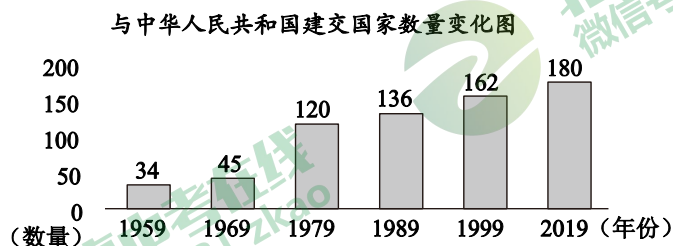


材料三 中华人民共和国成立后的三个月内（1949年10月1日—12月31日），与我国建立正式外交关系的国家有10个，国家如下：

国家	国家性质（当时）
苏联	社会主义国家
保加利亚	社会主义国家
罗马尼亚	社会主义国家
匈牙利	社会主义国家
捷克斯洛伐克	社会主义国家
朝鲜	社会主义国家
波兰	社会主义国家
蒙古	社会主义国家
民主德国	社会主义国家
阿尔巴尼亚	社会主义国家

(3) 依据材料三，写出在1949年内与新中国建交国家的特点。（1分）结合所学，分析出现这一现象的主要原因。（2分）

材料四 1972年2月，美国总统尼克松访华，是中美关系的重要事件，也引发了全世界的聚焦，中美关系开始走向正常化。回到美国后，尼克松说，他在“这一周改变了世界。”毛泽东听到后也说了一句：“是尼克松改变了世界么？我看还是世界改变了他。”



(4) 依据材料四并结合所学，从“世界改变了尼克松”这一视角，谈谈你的看法。（3分）



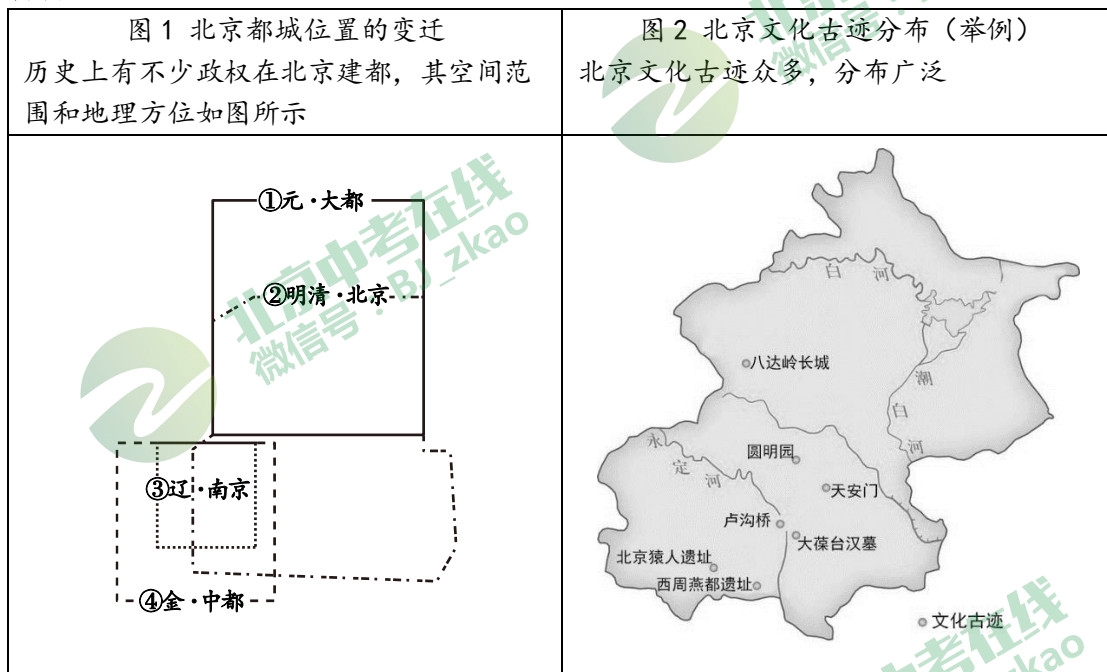


24. (11分) 北京是一座历史悠久的文化城市，一直焕发着勃勃生机。

【古代北京】 北京拥有丰富的历史文化遗产，曾是多个朝代的定都之地。

材料一 自宋至清，北京逐渐成为全国的经济、政治中心。这首先缘于北京在地理和交通上的优越、国防上的重要价值，其次归功于北方游牧民族建立的政权从地方性政权逐渐发展成全国性政权的推动。后者也是北京都城地理空间不断“膨胀”的重要原因。此外，政治的稳定、城市经济的发展、人口规模的稳定增长等，都直接或间接地推动了北京都城地理空间的拓展。


材料二



- (1) 依据图1，将历史上在北京建都的政权按先后顺序排序。(1分) 根据材料一、二，概括北京城空间范围不断变化的原因。(1分)
- (2) 依据图2并结合所学，选择其中一处古迹，简述其历史文化价值。(2分)

【近代北京】 北京是马克思主义在中国传播的重要城市之一。

材料三



- ① 纪念建党 95 周年 ② 北洋政府罢免曹汝霖、陆宗輿、章宗祥的电文 ③ 1916 年在北京出版的小说《红船》 ④ 在北京首映的电影《建党伟业》 ⑤ 1919 年 5 月北京街头的传单

(3) 材料三中，能证明“北京是新文化运动的发祥地”的史料有\_\_\_\_\_，能证明“北京是五四运动的发祥地”的史料有\_\_\_\_\_ (3分。填序号，每空多选、少选、错选均不得分)



【现代北京】 1949年10月1日，北京的历史掀开了新的一页。

材料四 新中国成立以来，北京矗立起一座座地标性质的建筑。

①人民大会堂	②国家体育场	③北京站	④全国政协礼堂
每年“两会”的会议场所，也是重大外交活动的场所，和人民群众举行政治、外交、文化活动的场所	2008年北京奥运会的主体体育场，承办了北京奥运会、残奥会开闭幕式及相关赛事。现继续服务于各种体育、文娱活动	北京站1959年9月开通运营，是京沪、京哈等多条客运专线及城际高速铁路的交会节点	全国政协常委会的办公场所。国家领导人和各民主党派举行政治、外交、文化活动的场所
⑤国家大剧院	⑥北京工人体育馆	⑦中国美术馆	⑧大兴国际机场
每年组织上百场公益演出和多种形式的艺术普及推广活动。	1961年为举办第26届世界乒乓球锦标赛而兴建。是重要的娱乐、体育活动中心。	收藏各类美术作品11万余件，覆盖历代中国艺术名家代表作品。	是大型国际航空枢纽、支撑雄安新区建设的京津冀区域综合交通枢纽。

(4) 依据材料四并结合所学，参照下面的示例将上述建筑任选组合并拟定一个主题，阐述理由。(4分)

示例：

组合	主题	理由
①④	重要的政治活动场所	人民大会堂是重大国家会议及活动的场所；全国政协礼堂是重要政治机构的办公场所

