



2024 北京石景山初一（上）期末

历史

考生须知	1.本试卷共10页，共24道小题，满分70分。考试时间70分钟。 2.在答题卡上准确填写学校名称、姓名和准考证号。 3.试题答案一律填涂或书写在答题卡上，在试卷上作答无效。 4.在答题卡上，选择题用2B铅笔作答，其他试题用黑色字迹签字笔作答。 5.考试结束，将本试卷和答题卡一并交回。
------	--

第一部分

本部分共20题，每题1.5分，共30分。在每题列出的四个选项中，选出最符合题目要求的一项。

1.右图是古人类两颗门齿化石。1965年出土，经古地磁学方法测定其生活年代为距今约170万年前。这一重大发现把中国人类历史年代向前推进了100万年。材料中的古人类指的是



- A. 元谋人
- B. 北京人
- C. 山顶洞人
- D. 河姆渡人

2.《三字经》是中国的传统启蒙教材。①处应该补充的内容是

“夏传子，①。四百载，迁夏社。②，国号商。六百载，至纣亡。③，始诛纣。八百载，最长久。”
 ——《三字经》

- A. 家天下
- B. 汤伐夏
- C. 盘庚迁殷
- D. 武王伐纣

3.司母戊鼎，是迄今世界上出土的最重的青铜器，重达832.84千克。铸造这样硕大的器物，工艺十分复杂，需要很多人协同合作才能完成。上述材料说明商朝

- ①青铜器广泛应用于农业生产
 - ②青铜铸造技艺高超
 - ③青铜铸造业规模非常宏大
 - ④青铜铸造业分工细致
- A. ①②③
 - B. ①②④
 - C. ①③④
 - D. ②③④

4.它上承原始刻绘符号，后启青铜铭文，现代汉字由它演变而来。材料中的“它”是

- A. 甲骨文
- B. 金文
- C. 隶书
- D. 行书

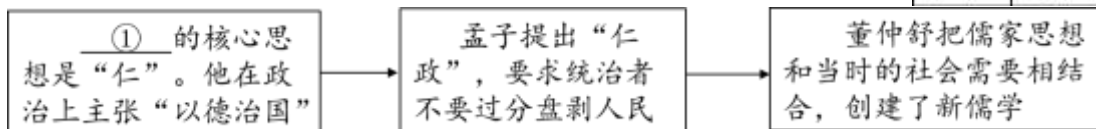
5.对右侧表格内容理解正确的选项是

- A. 封国只有鲁、燕等六个国家
- B. 血缘关系是分封的唯一标准
- C. 受封对象以同姓宗亲为主
- D. 诸侯具有较大的独立性

西周重要封国一览表

国名	第一代诸侯
鲁国	武王弟周公旦
燕国	武王弟召公奭
卫国	武王弟康叔
晋国	成王弟叔虞
齐国	功臣姜尚
宋国	商纣王庶兄微子启

6.下面示意图①处应补充的历史人物是





- A. 老子 B. 孔子 C. 墨子 D. 韩非子

7. 下面资料显示的都江堰水利工程的特点是

都江堰建成之初，灌溉面积五六十万亩。后来逐渐延伸到13个县，支流和渠道有500多条，灌溉面积300多万亩，新中国成立以后，经过不断维护和修整，都江堰的灌溉面积超过1000万亩。

- A. 选址科学 B. 结构精巧 C. 综合性强 D. 造福千秋

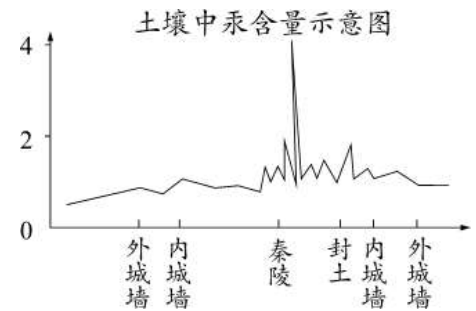
8. 右侧资料卡片反映的主题是

- A. 秦国经济的发展
B. 秦的崛起
C. 秦的兴亡
D. 秦朝疆域的扩展



9. 《史记》记载：秦始皇陵地宫中“以水银（汞）为百川江河大海”。考古工作者对皇陵遗址及周边进行汞含量测定，其结果（见下图）成为确定地宫位置的重要依据。这表明

- A. 秦始皇北击匈奴有了考古依据
B. 秦始皇陵地宫位于外城墙之下
C. 《史记》的所有记载都真实可信
D. 考古发现与文献记载可以相互印证



10. 西汉初，诸侯王势力强大，有的公开反抗朝廷派来的官吏，有的甚至举兵叛乱。汉武帝解决这一问题的措施是

- A. 实施“推恩令” B. 盐铁专卖 C. 北击匈奴 D. 合并郡县

11. 某同学进行主题学习，他搜集了如下的资料。他研究的主题应为



- A. 传统医学的发展 B. 道教的兴起
C. 两汉的科技与文化 D. 辉煌的史学成就

12. 公元前60年，西汉朝廷设置西域都护，作为管理西域的最高长官，管辖西域36国，都护府设在乌垒城。西域都护颁行汉朝的号令，调遣军队，征发粮草。材料重在说明西汉政府

- A. 鼓励开辟海上交通线 B. 与西域各国友好往来
C. 对西域进行有效的管辖 D. 能直接与大秦进行贸易

13. 丝绸之路是古代东西方往来的大动脉。下面史实能说明这一观点的是


- ① 西汉中叶，汉武帝遣使远航，到达锡兰（今斯里兰卡）
② 东汉明帝时，西域的僧人运载佛经到洛阳



- ③东汉、魏、晋时期，我国北方的游牧民族不断内迁
 ④南北朝时期，我国的茶叶陆续传入南亚、中亚和西亚

- A. ①②③ B. ①②④ C. ①③④ D. ②③④

14. 某同学为体验我国古代一项伟大发明的工艺流程，进行了以下实践活动。这项发明



- A. 对作战方式产生了巨大影响 B. 发展中医学的治疗理论
 C. 促进了远洋航海技术的发展 D. 推动文化的传播和发展

15. 下面资料反映了东汉光武帝统治时期的施政措施，其带来的影响是

·释放奴婢，减轻农民负担，减轻刑罚
 ·裁减官员，加强对官吏的监督，惩处贪官污吏
 ·允许少数民族内迁，缓和民族矛盾

- A. 农业劳动力严重不足 B. 滋生了贪污腐败
 C. 经济得到恢复与发展 D. 导致了社会动荡

16. 下表反映了中国古代一次以少胜多的战役。这次战役

时间	交战双方	结果
208年	曹操——孙刘联军	曹军大败，退回北方

- A. 导致了东汉末年州牧割据 B. 使曹操最终统一黄河流域
 C. 为三国鼎立局面奠定基础 D. 使北方再次陷入分裂状态

17. 《中国人口史》一书认为，东汉末年人口数量的谷底大致在2224万—2361万之间，而到三国末期达到3000万人。这说明三国时期

- A. 经济有所恢复 B. 魏蜀吴形成对峙
 C. 魏国实力最强 D. 东吴造船业发达

18. 秦和西晋两个朝代的共同之处是

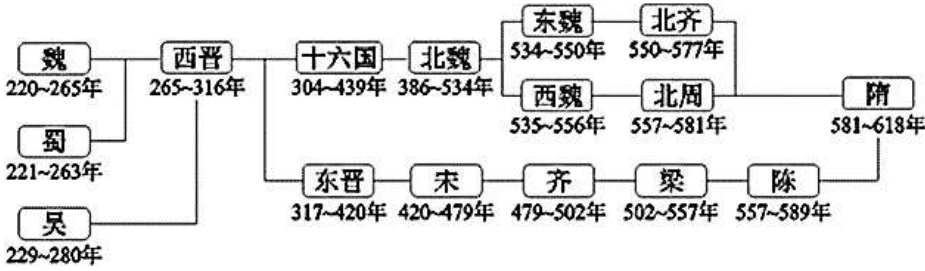
- ①结束分裂，完成统一 ②大封同姓诸王导致战乱发生
 ③王朝存在的时间短暂 ④小篆作为通用文字颁行全国

- A. ①② B. ①③ C. ①④ D. ②④

19. 数学和天文学是两个关系密切的领域。在这两个领域都取得突出成就的历史人物是

- A. 张仲景 B. 蔡伦 C. 王羲之 D. 祖冲之

20. 对下面的示意图解读正确的选项是



- ①政权分立 ②政权更替频繁 ③北方相对安定 ④孕育着统一的趋势
- A. ①②③ B. ①②④ C. ①③④ D. ②③④

第二部分

本部分共4题，共40分。

21. (10分) 考古发现是了解原始社会的重要依据。

材料一

①	②	③
		
北京人使用的石器	北京人洞穴中很厚的灰烬遗存	北京人采集生活想象图

(1) 从材料一中选出研究北京人生产生活最可信的两则资料。(2分。写序号) 从这两则资料中任选其一(写序号)，写出你从中得出的结论。(1分)

材料二

遗址名称	部分考古发现
①	用牛或鹿的肩胛骨制作的骨耜和刃口呈锯齿状的骨镰；大量的稻谷遗存，最厚处超过1米；干栏式建筑遗迹；刻有猪纹的陶钵等
②	40多处圆形或方形的半地穴式房屋遗迹；石斧、骨针、彩陶等大量生产、生活用具；多达数斗的粟；贮存芥菜或白菜菜籽的陶罐等

(2) 依据材料二，请写出①②对应的遗址名称。

A: 半坡遗址 B: 河姆渡遗址 (2分。填写字母)

归纳①②处居民生产生活的共同点。(3分)

材料三陕西榆林的石峁遗址距今约4000多年，面积逾400万平方米。以石砌的内城和外城拱卫着一块有城墙的台地，这是石峁遗址的核心区域，已具备了早期“宫城”的性质。石砌的墙垣不仅是防御设施，还具有神权或王权的象征意义。这里还发现了铸铜、制骨等早期“核心技术”的生产遗存。遗址中的墓葬分四



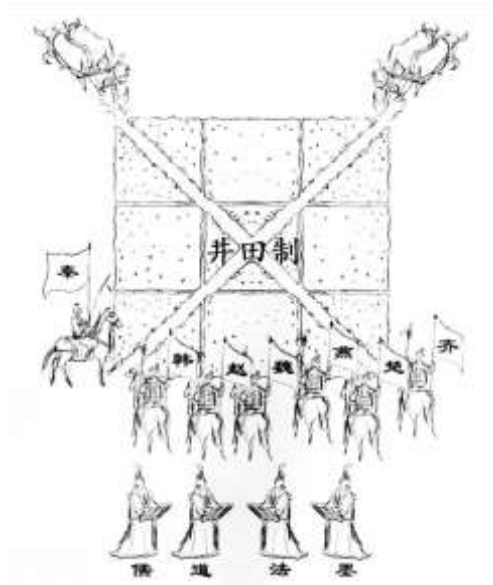
类，墓葬规模由大到小，随葬品由多到少，四类墓葬极可能代表了四个不同阶层的人群。

——摘编自孙周勇等《石峁遗址的考古发现与研究综述》

(3) 依据材料三，补全下面的表格。(2分)

中华文明探源工程提出进入文明社会的主要标准	石峁遗址符合文明社会标准的主要依据
生产发展，出现城市	铸铜、制骨等生产遗存
贫富分化，出现阶级	①
出现王权国家	②

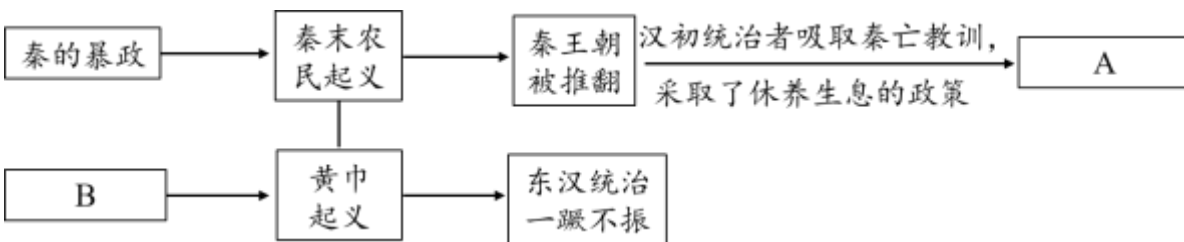
22. (10分) 探究历史事件之间的因果联系是学习历史的重要方法。【绘制漫画】



漫画：铁器牛耕引发的“风波”

(1) 结合漫画和所学，判断漫画反映的历史时期，并说明判断的理由。(2分) 说明铁器牛耕引发的社会变化。(1分)

【制作示意图】



(2) 将以下史实填入示意图相应位置。(2分。写序号) 指出农民起义的作用。(1分) ①外戚宦官交替专权 ②“文景之治”

【制作资料卡片】

卡片 1	(西晋怀帝永嘉五年) 时海内大乱，独江东差(略微，比较)安，中国士民避乱者多南渡江。 ——司马光《资治通鉴》
卡片 2	江南之为国盛矣……地广野丰，民勤本业，一岁或稔，则数郡忘饥。…… 渔盐杞梓之利，充仞八方；丝绵布帛之饶，覆衣天下。



--	--

(3) 依据卡片内容和所学，分别指出卡片1和卡片2反映的历史现象。(2分) 并说明二者之间的内在联系。(2分)

23. (11分) 铸牢中华民族共同体意识。材料一

	<p>从黄帝到尧、舜、禹时代，持续了几百年。他们在黄河流域一带吸收夷人部落与羌人部落，结成新的部落联盟，逐渐形成了“华夏”。</p> <p>——樊树志《国史十六讲》</p>
--	--

(1) 依据材料一和所学，补全①处。(1分) 指出华夏族形成过程的特点。(1分)

材料二春秋时期，在诸侯国势力膨胀，华夏族向周边扩张的同时，各少数民族也不断深入到华夏族居住的区域，这样就打破了原来各族之间的地域界限，形成了华夏族与夷狄各部犬牙交错的杂居局面，这为民族的交融创造了非常有利的条件。

——许兆昌《夏商周简史》

(2) 依据材料二，指出春秋时期促进民族交融的条件。(1分)

材料三秦汉时期的中国已经凝聚为一个巨大的政治、经济和文化的复杂系统。其中特别提及：A政治力量渗透达到了底层；B经济力量将全国纳入一个巨大的网络中；C而在文化方面，经过共同使用一套文字系统，以及儒家思想逐渐成为正统，建构起具有一定水平的价值观念。

——许倬云《说中国:一个不断变化的复杂共同体》

(3) 结合所学，为材料三划线句匹配合适的史实。(3分。填写序号。多选、少选和错选均不得分) 说出这一时期政治、经济和文化三重凝聚所起的主要作用。

(1分)

- ①罢黜百家、尊崇儒术
- ②统一度量衡
- ③实行郡县制
- ④统一货币

材料四



北魏孝文帝改革简笔画

(4) 依据材料四，指出北魏孝文帝改革的主要内容。(3分) 结合所学，说明其作用。

(1分)



24. (9分) 《齐民要术》对我国后世农学的发展有深远的影响。材料一

《齐民要术》语句摘录	
①	顺天时，量地利，则用力少而成功多。任情返道，劳而无获。
②	人生在勤，勤则不匮。
③	立政之本则存乎农
④	要在安民，富而教之。

(1) 依据材料一，指出《齐民要术》体现的重要思想。(2分)

材料二《齐民要术》是我国现存最早的一部完整的农书。某同学为了说明这一观点，查阅资料并制作了以下的卡片。

卡片 1	先秦的《神农》等农书早已散佚，仅存书目
卡片 2	战国时期的杂书《吕氏春秋》中的《上农》《任地》《辨土》《审时》四篇涉及农业生产，是保存到现在的最早的有关农业生产的文献资料
卡片 3	西汉农书《汜胜之书》是我国早期的完整农书，但原书已失传
卡片 4	北朝的《齐民要术》保存至今，援引《汜胜之书》等资料200多种，总结农、林、牧、副、渔等方面的生产技术

(2) 运用卡片中的内容对材料二划线处的观点进行说明。(3分)

材料三

《齐民要术》记载的部分作物

名称	记述内容	出处
胡麻	《汉书》，张骞外国得胡麻	胡麻第十三
胡荽	《博物志》曰：“张骞使西域，得大蒜、胡荽”	种蒜第十九
安石榴	西晋文学家陆机曰：“张骞为汉使外国十八年，得涂林，涂林，安石榴也。”	安石榴第四十一
葡萄	汉武帝使张骞至大宛，取葡萄实，于离宫别馆旁尽种之	种桃奈第三十四

——李根蟠《从〈齐民要术〉看少数民族对中国科技文化的贡献》

(3) 结合所学，指出与材料三直接相关的历史事件及其作用。(2分)

材料四南北朝时期，水旱、蝗螟、地震、霜雹、疫病诸灾总共350次。北魏末年，灾害迭起，据不完全统计，475—533年，自然灾害就达158次。灾害、疾疫交加于战乱，农业生产受到严重破坏，民不聊生、农艺失传、田地荒芜，恢复农业生产的任务艰巨，对农业生产的总结就更加迫切。担任太守的贾思勰关切民生，亲自参与耕作，还广泛搜集前人文献，引用其中200多种，但不盲从经典，亲自实践验证，非常注重记录能提高生产效率的新工具和备灾之物的种植技术。

——摘编自王玲《〈齐民要术〉成书背景再论》

(4) 依据材料四和所学，从个人和社会的角度分析贾思勰写成《齐民要术》的主要原因。(2分)



参考答案

第一部分

(每小题1.5分, 共30分)

题号	1	2	3	4	5	6	7	8	9	10
答案	A	A	D	A	C	B	D	B	D	A
题号	11	12	13	14	15	16	17	18	19	20
答案	C	C	B	D	C	C	A	B	D	B

第二部分

(共40分)

21. (10分)

(1) (3分)

两则资料: ①②

①: 会制造工具; 会打制石器。(答出以上任意一点即可得分, 1分)

②: 会使用火; 会长期保存火种。(答出以上任意一点即可得分, 1分)

(2) (5分)

①: B②: A (2分)

共同点: 会种植农作物; 会使用磨制工具; 会制造陶器; 过定居生活; 会建造房屋等。(答出以上任意三点即可得分, 每点1分, 总计3分。)

(3) (2分)

①: 墓葬的分类。(1分)

②: 内外城拱卫的台地; 石砌的墙垣。(答出以上任意一点即可。1分)

22. (10分)

(1) (3分)

时期: 战国时期。(1分)

理由: 战国七雄; 儒、墨、道、法等诸子百家。(答出以上任意一点即可。1分)

社会变化: 制度变革; 兼并战争; 思想学术繁荣等。(答出以上任意一点即可。1分)

(2) (3分)

A:②B:① (2分)

作用: 打击了当时的封建统治; 促使统治者调整政策。

(答出以上任意一点即可。1分)

(3) (4分)

卡片1: 北民南迁。(1分) 卡片2: 江南地区的开发。(1分)

联系: 北民南迁给江南地区输送了大量的劳动力, 也带来了中原先进的生产工具和生产技术, 使江南地区得到开发, 经济迅速发展。(2分)



23.(11分)

(1) (2分)

①: 黄帝。(1分)

特点: 以炎黄联盟为主体; 吸收其他多个民族的部落; 融入了多个民族。(答出以上任意一点即可。1分)

(2) (1分)

条件: 华夏族与夷狄各部的杂居。(1分)

(3) (4分)

A: ③B: ②④C: ① (3分)

作用: 促进了统一多民族国家的巩固。(1分)

(4) (4分)

内容: 使用汉语; 与汉人通婚; 以汉服代替鲜卑服; 改鲜卑姓为汉姓。(答出以上任意三点即可。3分)

作用: 促进了民族交融; 增强了北魏的实力。(答出以上任意一点即可。1分)

24. (9分)

(1) (2分)

尊重自然规律; 鼓励辛勤劳动; 以农为本; 以民为本等。(答出以上任意两点即可。2分)

(2) (3分)

《吕氏春秋》是现存最早的有关农业生产的文献资料, 但它是杂书, 不是农书。(1分) 《汜胜之书》是早期完整的农书, 但原书已失传。还有更早的农书, 如先秦的《神农》等, 也已失传。(1分) 《齐民要术》总结农、林、牧、副、渔等方面的生产技术, 内容丰富全面, 是一本农业专著, 并且保存至今天。

(1分)

(3) (2分)

事件: 张骞通西域。(1分)

作用: 把西域大量的物产带入中原, 丰富了中原人的物质生活; 促进了汉朝与西域各国的相互了解与往来。(答出以上任意一点即可。1分)

(4) (2分)

个人: 善于实践和创新; 关切民生等。(答出以上任意一点即可。1分)

社会: 北魏末年, 灾害频繁和社会动荡, 农业生产遭到破坏, 时代需要总结农业生产技术; 北方农业的长期发展; 北方地区的民族大交融; 南北方经济的交流等。

(答出以上任意一点即可。1分)