

# 2019 北京市西城区初一（下）期末

## 地 理

试卷满分：100 分，考试时间：60 分钟



### 一、你能选对吗？（50 分）

下列各小题均有四个选项，其中只有一项符合题意要求；每小题 2 分。

近年，垃圾智能回收箱（如图 1）逐步出现在我们生活的周围。它运用互联网、大数据和人工智能等技术，以有偿回收方式接收市民投放的旧衣物、塑料、金属、废纸等垃圾，提高再生资源利用率。据此，完成 1~3 题。

1. 通过利用智能回收箱回收的“垃圾”，可以减少开采的非可再生资源是

- ①土地资源②金属矿产
- ③森林资源④煤、石油

- A. ①②B. ①④
- C. ②③D. ②④

2. 利用与互联网、大数据、人工智能等科技进行垃圾分类有偿回收，可以

- ①吸引市民积极参与，养成垃圾分类习惯
- ②获取垃圾回收信息，出口周边落后国家
- ③分析站点垃圾特点，提前做好填埋准备
- ④智能识别垃圾类型，提高垃圾分类效率

- A. ①②B. ①④C. ②③D. ②④

3. 若在校园安装垃圾智能回收箱，需要设置大回收箱的类型应包括

- ①纺织物②废纸③塑料制品④金属⑤有害垃圾
- A. ①②B. ②③C. ③④D. ④⑤

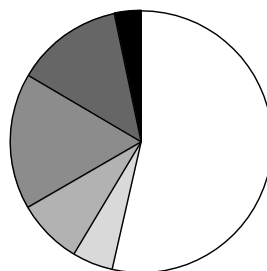


图 1

2019 年初，首部国产科幻电影《流浪地球》创造了 46 亿的票房。参与电影特效制作的四家特效公司位于北京中关村国家自主创新示范区。图 2 为《流浪地球》中特效场景，图 3 为“中关村示范区规模以上企业收入占比”，图 4 为“京津唐工业区”。读图，完成 4~8 题。



图 3



- 电子与信息
- 生物工程和医药
- 新材料及应用技术
- 先进制造技术
- 新能源与高效节能技术
- 环境保护技术

4. 利用电子和信息技术为科幻类电影制作特效属于
- A. 传统重工业    B. 轻工业    C. 高新技术产业    D. 文化娱乐业



5. 中关村国家自主创新示范区的企业收入主要依靠
- ①电子与信息技术②现代制造与物流③新材料及应用技术
- ④先进制造技术⑤新能源与高效节能技术⑥民俗旅游与观光农业
- A. ①②③④B. ①③④⑤C. ②③⑤⑥D. ②④⑤⑥

6. 近年，高新技术企业对北京市财政增收贡献率保持在 30%，说明北京的高新技术产业
- A. 处于停滞发展阶段    B. 是唯一财政收入来源
- C. 并非经济发展重心    D. 是重要经济支柱之一

7. 中关村国家自主创新示范区的发展体现北京市是全国的
- A. 政治中心    B. 科技创新中心
- C. 文化中心    D. 国际交往中心

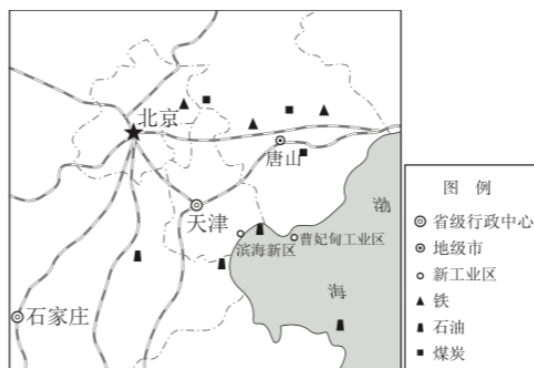


图 4

8. 在京津冀一体化的带动下，京津唐工业基地发展正转向
- A. 以重工业为主的综合性工业区
- B. 全国经济规模最大的综合性工业区
- C. 以轻工业为主的综合性工业区
- D. 资源型与高新技术相结合的工业区

陆洋同学一家五人计划利用“五一”假期去山东省烟台市度假。出行前陆洋查阅相关信息做好行前准备。图 5 为“陆洋查阅的交通信息截图”。读图，完成 9~11 题。

9. 资料中未显示乘坐飞机的费用，据估计，其费用
- A. 可能最高    B. 仅低于高铁票价
- C. 低于自驾出行费用    D. 低于普通火车费用

10. 通过比较分析陆洋得出以下结论。其中正确的是
- A. 费用的高低排序：自驾、高铁、火车、飞机
- B. 速度的快慢排序：飞机、高铁、自驾、火车
- C. 舒适度优劣排序：自驾、火车、高铁、飞机
- D. 灵活性强弱排序：高铁、火车、飞机、自驾



图 5

11. 爸爸在选择高铁和自驾问题上犹豫不决，陆洋建议选择高铁，其理由是
- ①高铁可选车次多②高铁路费花销少



③自驾容易遇堵车④自驾路途用时长

A. ①②③ B. ①②④

C. ①③④ D. ②③④

在我国，龙舟竞渡是深受各族人民喜爱的民间传统体育活动。《淮南子》中有“胡人便于马，越人便于舟”之述。古时木舟、竹排、板船的出现为竞渡创造了条件。据此，完成12~14题。

12. 综合推测，古时越人生活所在的地域及其擅长的农事活动为

- A. 水网密布的南方地区——渔猎水产
- B. 森林茂密的横断山区——采集果实
- C. 草原广布的西北地区——畜养牲畜
- D. 平原广阔的北方地区——种植作物

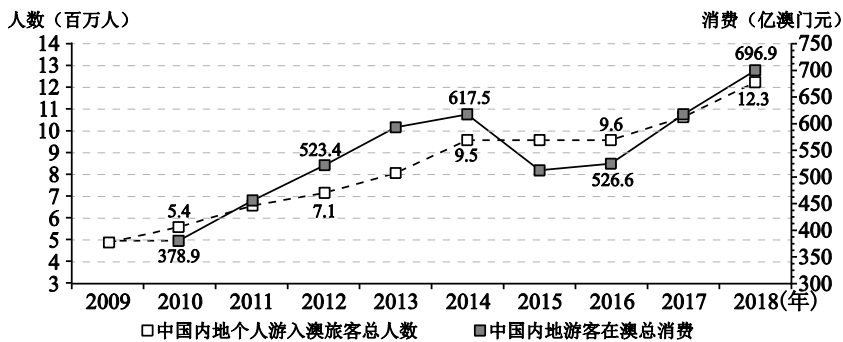
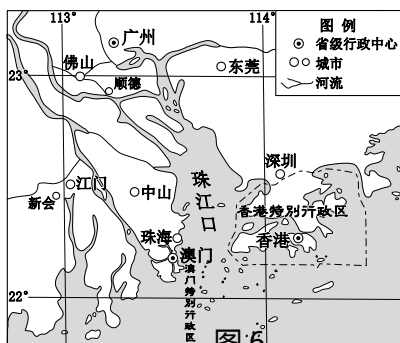
13. 农闲时以竞渡为乐，逐渐形成风俗。我国各地竞渡风俗时间不一致，因为

- A. 气候差异，农闲时间不同
- B. 地形差异，洪涝时间不同
- C. 雨季不同，收获时间不同
- D. 信仰不同，祭祀时间不同

14. 2019年中国龙舟总决赛将于12月举行。为选定适宜的举办地，主办方需要考虑的主

- ①有水流湍急的河段
  - ②当月气温状况
  - ③有宽阔平静水域
  - ④恰逢旅游淡季
- A. ①② B. ①④ C. ②③ D. ③④

2019年澳门回归二十周年。二十年来，其经济与内地联系更加紧密。图6为“珠江三角洲城市分布图”、图7为“2009~2018年内地游客赴澳旅游人数及消费统计图”。读图，完成15~17题。



15. 澳门特别行政区位于

图7

- A. 珠江口东岸，毗邻深圳
- B. 珠江口南端，毗邻香港
- C. 珠江口西岸，毗邻珠海
- D. 珠江口北端，毗邻广州

16. 据图7可知，在过去的十年中

- A. 中国内地个人赴澳旅游人数稳定增长
- B. 中国内地去澳门旅游的人数逐渐减少
- C. 澳门的旅游业收入呈现持续增长态势
- D. 旅游业已经成为澳门的唯一支柱产业

17. 回归后，澳门与内地经济联系中，主要为内地提供

- ①矿产资源
- ②旅游服务
- ③廉价劳动力
- ④资金和管理经验



- A. ①② B. ①③ C. ②④ D. ③④

图8为“台湾省略图”。读图，完成18、19题。

18. 台湾岛

- A. 被北回归线穿过，全部为热带  
 B. 河流短小，自西向东流  
 C. 东部沿海平原面积广大  
 D. 西隔台湾海峡与大陆相望

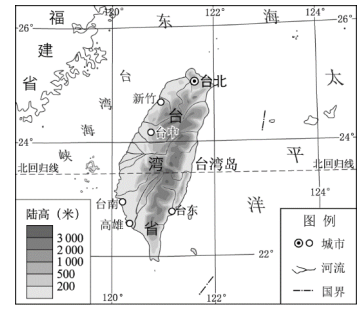


图8

19. 1993年以来，大陆成为台商投资的首选地区，是因为祖国大陆

- ①热带水果完全需要进口 ②距离台湾近，运输成本低  
 ③人口众多，消费市场广 ④与台湾文化相通  
 A. ①②③ B. ①②④ C. ①③④ D. ②③④

往烤得滋滋冒油的肉串上均匀洒一小把孜然，一股特殊的香味立刻扑面而来，难怪人们迷恋这“新疆味道”。除了作为调料，孜然还有祛风散寒、助消化和防腐等药效。自唐代传入我国后便深深的扎根在了我们的生活中。据此，完成20~22题。

20. 在新疆人们食用孜然利于健康，因为这里

- ①冬季寒冷 ②多大风天 ③潮湿闷热 ④喜食肉类  
 A. ①②③ B. ①②④ C. ①③④ D. ②③④

21. 孜然耐旱、怕涝，喜欢炎热的环境。除新疆外，适宜种植孜然的地区还有

- A. 大兴安岭 B. 太湖平原 C. 河西走廊 D. 可可西里

22. 除了孜然散发的“新疆味道”，新疆吸引游客的还有

- ①崇尚歌舞的民族风情 ②香甜可口的各式瓜果  
 ③古丝绸之路上的神秘楼兰 ④热闹欢快的泼水节庆  
 A. ①②③ B. ①②④ C. ①③④ D. ②③④

“引汉济渭”工程是我国“十三五”规划的重大水利工程之一。工程地跨黄河、长江两大流域，纵穿秦岭。图9为“引汉济渭工程示意图”。读图，完成23~25题。

23. 修建“引汉济渭”工程是调节我国水资源

- A. 空间分布不均，南多北少  
 B. 空间分布不均，东多西少  
 C. 时间分配不均，夏秋季多

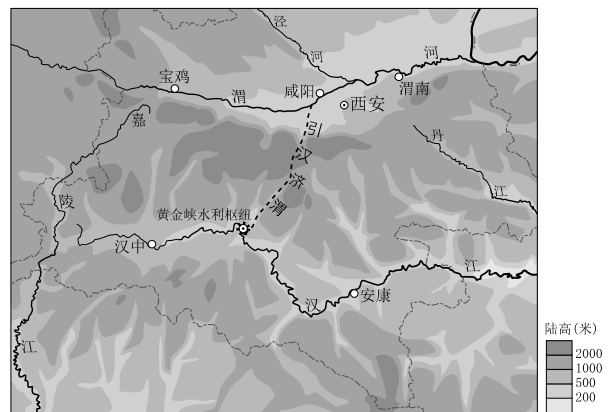


图9



D. 时间分配不均，冬春季多

24. 该工程主要解决

- A. 黄土高原水土流失问题
- B. 京津地区用水紧张问题
- C. 汉中、安康等地及沿线用水问题
- D. 西安、咸阳等地及沿线用水问题

25. 为了合理利用水资源，我们还应当

- ①生产生活中厉行节约用水 ②限制居民生活用水供应量
- ③尽量避免污染现有水资源④大规模开发青藏地区冰川

A. ①② B. ①③C. ②③ D. ②④

二、你能答对吗？（50分）

26. 大米是人间最质朴的美味。一碗晶莹的白米饭，一锅腊味满满的煲仔饭……千变万化的大米也有着颇多的讲究！图 10 为“三种大米著名产地分布及两地气温曲线和降水量柱状图”。读图文资料，回答下列问题。（20分）

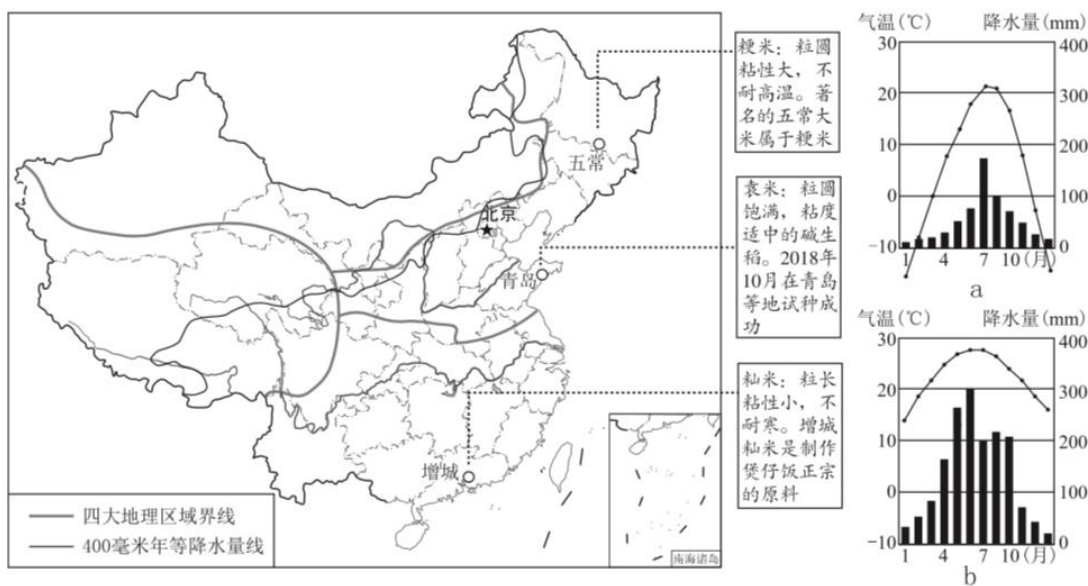


图 10

(1) 在我国，以上三种大米产地均位于 400 毫米等年降水量线以\_\_\_\_（方位）地区，该区域的农业生产部门以\_\_\_\_业为主，主要生产\_\_\_\_和\_\_\_\_

等粮食作物。

(2) 图 10 中\_\_\_\_（a/b）类气候适宜粳稻的生长。因此粳稻主要集中在\_\_\_\_（中国地理区域）种植。我国粳稻种植区春季降水少，因此需采用\_\_\_\_的方式解决这里降水不足对农业生产的影响。

图 10 中\_\_\_\_（a/b）类气候适宜籼稻的生长，该类气候的特是\_\_\_\_、\_\_\_\_。

我国粮食需求量大，但人均耕地资源 \_\_\_\_\_（丰富/有限）。近年，科学家们借助\_\_\_\_\_力量培养出能在盐碱地中生长的水稻新品种——海水稻。海水稻可以在\_\_\_\_\_（两项选择）等地推广种植，进一步保障了我国的\_\_\_\_\_安全。

- A. 黄河入海口附近的湿地
- B. 雅鲁藏布江河谷地区
- C. 我国内流区域咸水湖畔
- D. 洞庭湖周边丘陵山地

(3) 在南、北方地区种植不同的水稻品种，充分考虑了各自的 \_\_\_\_\_、\_\_\_\_\_等自然条件，符合\_\_\_\_\_的农业生产理念。

(4) 今后在超市购买大米，你能区分粳米和籼米吗？请你用图示的方式表达如何区分两种大米。（2分）

27. 我国幅员辽阔，各地地理环境差异很大。我们就生活在北方地区。图 11 为“北方地区图”，图 12 为“中国气候类型分布与地势阶梯界线图”，图 13 为“中国主要粮食作物和畜牧业分布图”。读图文资料，回答下列问题。（20 分）

综合了位置、自然、人文等方面的不同特点的基础上，将我国划分为四大地理区域，即北方地区、南方地区、西北地区和青藏地区。

(1.) 图 11 中，a、b 段是北方地区和 \_\_\_\_\_ 地区的界线。结合图 12、图 13 可知，其中 a 段边界与我国 \_\_\_\_\_（单项选择）最吻合；b 段是主要是沿 \_\_\_\_\_ 一线；c 段是北方地区和 \_\_\_\_\_ 地区的边界，该段边界的划定主要受 \_\_\_\_\_ 因素影响；d 段边界是北方地区和 \_\_\_\_\_ 地区的边界，它大致位于 \_\_\_\_\_ - \_\_\_\_\_ 一线。

- A. 地形第一、二阶梯界限
- B. 温带季风气候边界
- C. 400 毫米年等降水量线
- D. 小麦种植区域界线



图 11

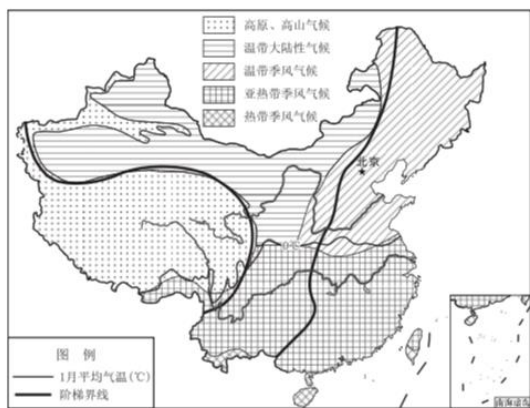


图 12

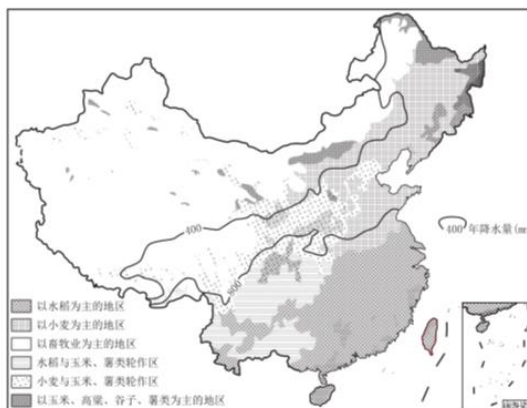


图 13

不同区域自然环境不同，生产和生活方式也不同。

(2) b 段边界虽然大致依托人文建筑，但其两侧的自然环境差异显著，自古以来就是\_\_\_\_\_



和\_\_\_\_\_两种农业生产部门的界线。d 段界线地理意义包括\_\_\_\_\_（双项选择）

- A. 1月 0° C 等温线
- B. 800 毫米年等降水量线
- C. 温带季风与温带大陆性气候界线
- D. 水田与旱地集中分布界线



中国历史上的六大古都有四大古都位于北方地区。（如图 11 所示）

(3) 位于北方地区的四大古都都处于\_\_\_\_\_气候区，千百年来这里的人们在细腻肥沃的黄土地上辛勤耕作，依\_\_\_\_\_建城，创造了辉煌的文明。然而，也因建都和战乱等因素的影响，大量的植被被破坏，使得黄土高原\_\_\_\_\_现象严重。

永定河出西山，碧水环绕北京湾。卢沟渡摆渡船，渡走春秋渡秦汉……

(4) 北京地区的地形类型包括\_\_\_\_\_和\_\_\_\_\_，几千年前在永定河渡口附近，北京城孕育而生。八百多年的建都史赋予了这座城市丰富的文化色彩，留下了\_\_\_\_\_、\_\_\_\_\_等举世闻名的文化遗产。然而都城建设和经济发展也破坏了大量的植被，导致了河流的干涸等生态问题。近年来，政府在河流上游地区进行了植树造林等\_\_\_\_\_工程建设，使北京的母亲河重新焕发生机，生动的践行了“绿水青山就是金山银山”的发展理念。




图 14

28. 近日，首都博物馆向广大市民及游客奉献了题为“山宗。水源。路之冲——一带一路中的青海”主题展览。图 15 为“青海道路路线示意图”。读图，回答下列问题。（10 分）

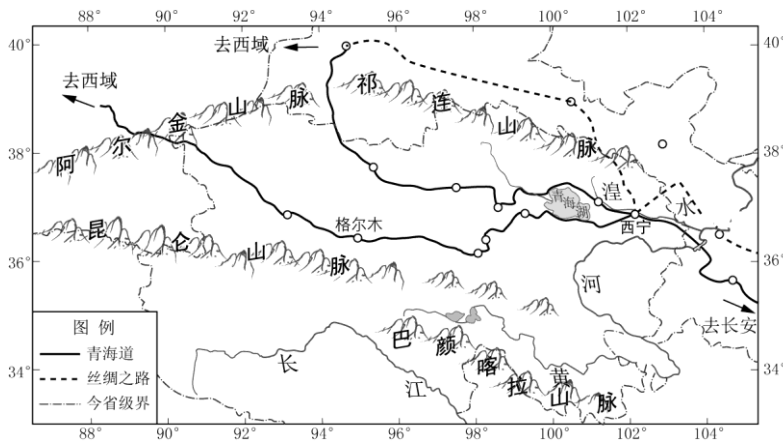


图 15



给谷物脱壳的研磨石器



鱼纹陶罐

图 16

(1) 山宗：青藏地区平均海拔 4000 米以上，这里汇集了众多高大山脉。展览所涉及的青海省及周边，有\_\_\_\_\_、\_\_\_\_\_、\_\_\_\_\_等高大山脉。也正是这些高耸的山脉阻挡了历史上西方古罗马等强大帝国对中原的入侵。

(2) 水源：自古人类逐水草而居。4000 多年前，人们在黄河的支流\_\_\_\_\_（河流）沿岸、美丽的\_\_\_\_\_湖畔繁衍生息。考古学家们据出土的石器、陶器及其上的纹饰（如图 16）判断，当时的人们在这里发展的农业生产部门有\_\_\_\_\_业和\_\_\_\_\_业。

(3) 路之冲：历史上，当途径河西走廊的“丝绸之路”因战乱等因素不能通行时，\_\_\_\_\_就成为了沟通\_\_\_\_\_（东西/南北）的交通要冲。“丝绸西去，良马东来”，贸易的发展，也使不同地域的\_\_\_\_\_在这里交融。





# 2019 北京市西城区初一（下）期末地理参考答案



## 一、你能选对吗？（50 分）

下列各小题均有四个选项，其中只有一项符合题意要求；每小题 2 分；请你将答案填写在下面的答题框中（使用机读卡的学校请填写在机读卡上）。

题号	1	2	3	4	5	6	7	8	9	10	11	12	13
答案	D	B	B	C	B	D	B	D	A	B	C	A	A
题号	14	15	16	17	18	19	20	21	22	23	24	25	
答案	C	C	A	C	D	D	B	C	A	A	D	B	

## 二、你能答对吗？（50 分）

26. (20 分)

(1) 东（或东南）种植水稻小麦

(2) a 北方地区灌溉

b 夏季高温多雨冬季温和少雨

有限科技 AC 粮食

(3) 气候土壤因地制宜

(4) 表达出粳稻粒圆，籼稻粒长即可

27. (20 分)

(1) 西北 C 长城青藏地形南方

秦岭淮河

(2) 种植业畜牧业 AB

(3) 温带季风河流（或水）水土流失

(4) 山地平原故宫颐和园（天坛、八达岭长城等属于著名文化遗产即可）生态

28. (10 分)

(1) 祁连山脉昆仑山脉 巴颜喀拉山脉（阿尔金山，顺序可不同）

(2) 湟水青海种植渔业

(3) 青海道（或青海省）东西 文化