



2022 北京延庆初三一模

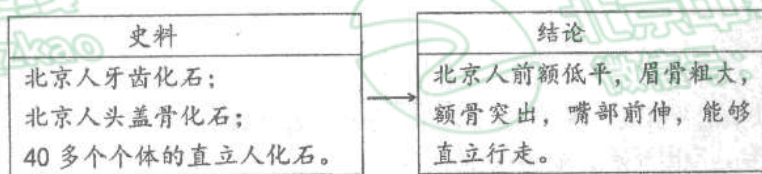
历史

考 生 须 知	1. 本试卷共 12 页，两道大题，30 道小题。满分 80 分。考试时间 90 分钟。 2. 在试卷和答题卡上准确填写学校名称、姓名和学号。 3. 试题答案一律填涂或书写在答题卡上，在试卷上作答无效。 4. 在答题卡上，选择题用 2B 铅笔作答，其它试题用黑色字迹签字笔作答。
------------------	--

第一部分 选择题

本部分共 26 小题，每小题 1.5 分，共 39 分。在每小题列出的四个选项中，选出最符合题目要求的一项。

1 以下示意图说明



- A. 北京人生活在距今约 70 万到 20 万年
- B. 狩猎是北京人主要的生活方式
- C. 北京人脑容量比现代人略小
- D. 化石是了解北京人特征的主要证据

2. 《左传》记载“封建亲戚（亲戚族人），以藩屏周（保护周朝）”。这能够表明西周实行的是

- A. 禅让制
- B. 分封制
- C. 郡县制
- D. 推恩令

3. 下表是某位七年级同学所总结的学习笔记，这位同学笔记内容反映的是

方面	措施
政治	下诏规定诸侯王除以嫡长子继承王位外，可将封地再次分封给其子弟作为侯国，由皇帝制定封号
经济	把铸币权收归中央，统一铸造五铢钱；把煮盐、冶铁等经营权收归国有，实行盐铁官营专卖
思想	把儒家学说立为正统思想
军事	卫青、霍去病率兵与匈奴进行了三次大战，匈奴受到重创，被迫迁徙漠北

- A. 秦朝中央集权制度建立
 - B. 汉朝大一统的巩固
 - C. 隋朝科举制度的创立
 - D. 清朝君主专制的强化
4. 下列四幅图反映了魏晋时期的社会特征是



北京中考



采桑图 (魏晋壁画)



胡食图 (魏晋壁画)



北魏帝王出御图



北魏奏乐陶俑



- A. 民族交融趋势加强
- B. 农业技术进步
- C. 等级观念越发严重
- D. 社会经济繁荣发展

5. 唐太宗时期，大臣张玄素劝阻皇帝不要修建洛阳宫殿，得到赏绢 200 匹；魏征等人指出皇帝用人和赏罚中的问题，也得到太宗的奖赏。这说明唐太宗

- A. 完善科举
- B. 开创盛世
- C. 勤于政事
- D. 虚心纳谏

6. 下图是泉州出土的南宋远洋货船（复原模型）。海船出土时，船内遗物非常丰富，有香料、药材、木牌、铜钱、陶瓷器、竹木器等。据此可知



- A. 指南针已广泛使用
- B. 经济重心逐渐南移
- C. 海外贸易物品丰富
- D. 海上交通路线发达

7. 在中国历史上，民族英雄都备受人民 尊重。下表反映了民族英雄受到人民尊重的原因是

朝代	人物	事件	结果
明朝	戚继光	戚继光抗倭	东南沿海的倭患基本解除
清朝	郑成功	郑成功收复台湾	荷兰殖民者被迫投降，台湾重回祖国怀抱

- A. 维护了国家的统一和社会稳定
- B. 镇压边疆地区叛乱的行为
- C. 加强君主专制中央集权
- D. 积极主动开展对外交流活动

8. 下侧是某位同学整理的中国古代皇帝主要施政措施，其空白处应该为

秦始皇：“废分封，设郡县”
 汉武帝：“罢黜百家，独尊儒术”
 孝文帝：推行汉化措施
 隋文帝：通过考试选拔人才
 宋太祖：实行重文轻武 政策
 明太祖：“废丞相，设三司”
 清雍正帝：

- A. 休养生息
- B. 完善三省六部制
- C. 实行行省制度
- D. 设立军机处

9. 某同学收集了下面一组人物纪念币，该纪念币的主题是（ ）



祖冲之



毕昇



李时珍



宋应星

- A. 文学体裁丰富 B. 科学技术发达 C. 书法独放异彩 D. 绘画成就卓著

10. 文物是历史的“活化石”。下列文物按所属朝代先后顺序排列正确的是（ ）



①半两钱



②殷墟甲骨



③京剧早期戏服



④三彩骆驼俑

- A. ①②③④ B. ②③④① C. ②①④③ D. ①②④③

11. 历史史实和历史结论是历史学科常见的构成要素。下列各项中，属于历史结论的是

- A. 1839年6月林则徐主持将英美等国商贩缴出的鸦片在虎门海滩销毁
 B. 《天朝田亩制度》反映了农民要求得到土地 强烈愿望
 C. 1858年，英法联军北上，攻陷大沽炮台，逼近天津
 D. 第二次鸦片战争前后，沙俄共割占了我国 150 多万平方千米的领土

12. 历史兴趣小组要为下列图片拟一历史主题，最贴切的是（ ）



- A. 抗争——中国人民摆脱外来的侵略 B. 探索——寻求强国御侮之道
 C. 屈辱——步步走向殖民地的深渊 D. 复兴——中华民族崛起之路

13. 《北京学界全体宣言》里有段话最能反映五四运动的性质，它是：“务望全国工商各界，一律起来设法开国民大会，外争国权，内除国贼，中国存亡，就在此一举了！今与全国同胞立两个信条道：中国的土地可以征服而不可以断送！中国的人民可以杀戮而不可以低头！国亡了！同胞起来呀！”可见，五四运动的性质是

- A. 资产阶级政治改良运动 B. 资产阶级的革命运动
 C. 资产阶级思想解放运动 D. 反帝反封建的爱国运动

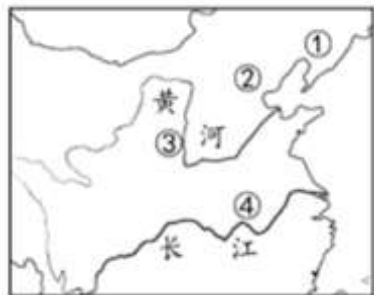
14. 1933年10月，《勤奋体育月报》创刊词疾声呐喊：“强邻压境，国难当头，积极地注重国民体育训练，准备疆场强劲的战斗，养成耻雪保国的健儿。这是今后全国体育界的动向，也是全国体育界的责任。”这表明当时

- A. 中国传统体育有向科学化发展的趋势
 B. 七七事变后国人尚武意识被激发

14. 体育界自觉担当起抗日救亡的责任

15. 中国体育运动获得奥运优异成绩

15. 1947年8月，刘伯承、邓小平率领晋冀鲁豫解放军千里跃进，揭开了人民解放军战略进攻的序幕，被称作解放战争的转折点。材料描述的史事发生在



A. ①

B. ②

C. ③

D. ④

16. 1950年11月，中国政府特别代表伍修权在联合国安理会上发言指出：“自从美国政府发动侵略朝鲜战争以来，从8月27日至11月25日侵略朝鲜的美国武装力量侵犯我国领空，据初步统计已达200次，共出动飞机1000架次以上，毁坏中国财产，杀害中国人民……自从6月27日以来，美国第七舰队即侵入我国台湾领海……”材料表明中国人民志愿军在1950年入朝作战的原因是

A. 维护朝鲜民主主义共和国的安全

B. 反抗侵略，维护世界和平

C. 捍卫我国的安全，领土完整

D. 通过对抗美国提高中国的国际威望

17. 北京冬奥会奥运圣火的点燃仪式前所未有，奥运火炬置于大雪花中央，由火炬手点燃“微火”火炬，再将巨大雪花的火炬台悬挂于天空中。开幕式上奥运火炬从原来的“大火”变“微火”，这体现出北京冬奥会彰显了以下哪一发展理念

A. 协调

B. 开放

C. 绿色

D. 共享

18. 下表反映出租地农场和手工工场的共同点是

租地农场	手工工场
农场主提供土地和生产工具；农场主雇佣农民；农产品面向市场	工场主提供原料和生产工具；工场主雇佣工人；手工业品面向市场

A. 劳动者掌握着生产资料

B. 存在雇佣关系

C. 产品只是满足自我消费

D. 存在人身依附关系

19. 马克思在《资本论》中说道“随着美洲金银产地的发现，土著居民要么被剿灭、奴役，要么被埋葬于矿井，而对东印度和非洲开始进行的征服和掠夺，也都标志着资本主义生产时代的曙光。”这段话体现出殖民掠夺的影响是

A. 资本主义得到发展

B. 世界各地联系得以加强

C. 落后地区旧制度瓦解

D. 掠夺原料与市场

20. 若想研究“欧洲资本主义制度的初步确立”这一单元主题，有价值的文献史料是

A. 《权利法案》文本

B. 《拍卖黑人奴隶》广告

C. 《神曲》文本

D. 《凡尔赛条约》文本

21. 西方“步入近代”的社会巨变：首先是精神层面的变革，然后是制度方面的变革，最后是器物（技术）的变革。

以下符合这一变革顺序的是（ ）

- A. 文艺复兴→工业革命→早期资产阶级革命
- B. 文艺复兴→早期资产阶级革命→工业革命
- C. 早期资产阶级革命→工业革命→文艺复兴
- D. 工业革命→文艺复兴→早期资产阶级革命

22. 下图为拉丁美洲独立运动示意图。这场运动的特点是（ ）



- A. 南北联合协同作战
- B. 封建王公组织作战
- C. 范围局限于南北美洲
- D. 运动领导者是圣马丁

23. 如下图是英国约·莱齐的漫画。画面描述的是科学家法拉第正在一边捏着鼻子，一边递给“泰晤士河老爹”一张白纸，用来检测河水的不透明度。这幅漫画讽刺的是



- A. 城市化带来出行拥堵
- B. 现代化加剧温室效应
- C. 全球化导致贫富分化
- D. 工业化造成环境污染

24. 表是“1928~1937年苏联工业总产值及钢产量在欧洲和世界所占的地位”，其地位前后发生变化的主要原因是

	1928年		1932年		1937年	
	世界	世界	欧洲	世界	欧洲	欧洲
工业总产值	5	3	2	2	1	
钢产量	5	5	4	3	2	

- A. 十月革命的影响
B. 新经济政策的实施
C. 第一，第二个五年计划完成
D. 赫鲁晓夫改革

25. 威廉·本内特在《美国通史》中写道：“数千年轻的男人临时居住在窝棚里，从事诸如修建……长途铁路这样的工程……虽然挣得不多，但他们的健康能够得到保证，重要的是，有一种成就感。”罗斯福新政中与之相关的举措是

- A. 调整工业
B. 以工代赈
C. 缩减农业
D. 整顿金融业

26. 1942年，26国签署的《联合国宣言》规定：“每一（签字国）政府各自保证对与各该政府作战的三国同盟成员国及其附从者使用其全部资源，不论军事的或经济的。”其根本目的是（ ）

- A. 加强各国经济、军事的交流
B. 孤立苏联社会主义国家
C. 团结一切力量战胜法西斯国家
D. 以牺牲弱小国家利益取得胜利

第二部分 材料分析题（共41分）

27. 建筑是凝固的史诗。

材料一

		
①良渚古城遗址 发现于浙江余杭，距今约5300-4300年，是长江下游地区最高级别的城址。	②陶寺遗址 发现于山西襄汾县陶寺乡，距今约4300-4000年，宫城是遗址核心区。	③洛阳白马寺 位于河南洛阳市东，是东汉时佛教传入中原后营建的第一座寺院。
		
④布达拉宫 位于西藏首府拉萨市区，是吐蕃赞普松赞干布为迎娶文成公主而兴建。	⑤广州怀圣寺 位于广州越秀区，唐宋时期阿拉伯富商在当地政府支持下修建的清真寺，寺内的光塔具有浓郁的阿拉伯风格。	⑥辽大明塔 位于内蒙古赤峰市辽中京遗址公园，修建于辽渊之盟后，借鉴了中原建筑风格。



【材料一】从材料一中找出与以下历史主题相符的建筑或建筑遗存，将其序号填写在下划线处。（填写要求：只填写建筑或建筑遗存的序号，多选、少选、错选不得分。）

中华文明起源：_____；

中外文明交流：_____；

民族交融发展：_____。

材料二 平遥古城是中国境内保存最为完整的一座古代县城，是明清时期中国古代城市的杰出范例。平遥古城突出中心……凸显以“礼”为本的文化思想，建筑布局处处体现出传统的天人合一思想；自唐宋以来，平遥城道教昌盛，佛寺和道观在平遥城的分布独具特色；平遥是晋商的发祥地之一，在清代中晚期城里就有数不胜数的票号、钱庄、布庄、绸缎店、典当铺、杂货店……其布局特点、建筑设计、功能分配等都闪现着山西商业文化的影子。

——摘编自程林盛《平遥古城的民族文化内涵》

(2) 依据材料二，概括平遥古城建筑特点。分析平遥古城成为明清时期建筑杰出范例的经济原因。

材料三 在英国，最初厂房规模小，多以 1771 年阿克莱特在德文特河边建立的水力纺纱厂为样板，通常是一幢 3-4 层的楼房。在蒸汽机使用以后，由于蒸汽机的占地面积更大，同时它的动力也大，能够带动机器工作，到 18 世纪最后十年，工厂已经是新式的多层楼房的大厦，而且一般都建在大城市或者是城镇附近。如菲尔登公司的一家机器织布厂，有一个大得惊人的车间，里面有五百部织机，由五百人看管。

——摘编自吕异颖《英国工业革命时期模范工厂研究》

(3) 依据材料三，说明 18 世纪英国厂房建筑的变化。结合所学，分析这些变化产生的影响。

	
<p>①巴黎公社社员纪念墙 简介：位于法国巴黎拉雪兹公墓东北角，砖墙上面嵌着一块大理石板，上面的文字为：“纪念公社死难者1871年5月21日—28日”</p>	<p>②马克思故居 简介：位于德国特里尔市，这里陈列着德文原版的《共产党宣言》和《资本论》、马克思的亲笔文稿、书信及其与恩格斯共同工作和生活时的图片等。</p>

(4) 纪念性历史建筑蕴含着丰富历史信息，具有深远的历史意义和现实意义。仿照示例说明图②建筑。

示例：通过了解巴黎公社社员纪念墙，我们能更深刻地认识世界第一个无产阶级政权的发展历程，坚定我们的理想信念。

28. 思想文化是人类历史的重要组成部分，在人类历史发展进程中发挥巨大的作用。

材料一 孔子开创了民间自由讲学的先河，一个中国学术思想史的黄金时代便开始出现，它光芒四射，灿烂夺目，成为人类文化发展史上最富丽的时代。

——李定一《中国史纲要》

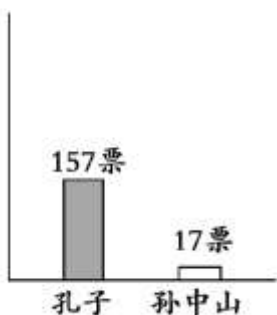
(1) 说出材料一中孔子“自由讲学”的内涵。“黄金时代”是指在春秋战国时期思想文化领域出现的什么局面。

材料二 19 世纪 60 年代开始的自强运动含有两层意思。一就阶级意义而言，它所寻求的是在太平天国运动打击下，王朝的自我振兴。二就民族意义而言，它所寻求的是在“船坚炮利”的外国侵略者面前，中国的自我图强。

(2) 依据材料二，并结合所学，说出这场“自强运动”的名称。分析“自强意识”觉醒的背景。

材料三 民国时期青年学生“最崇拜的人物”调查

1913年江苏第一师范
调查结果（部分）



1924年北京大学
调查结果（部分）



(3) 依据材料三并结合所学，说出从 1913 年到 1924 年青年学生“最崇拜的人物”发生了什么变化。并分析出现这种变化的主要原因。

材料四 在马克思主义的工农联盟思想中，工人阶级既是领导者，又是主力军，而农民只能作为工人阶级的同盟军和后备军，配合无产阶级开展斗争。毛泽东运用马克思主义阶级分析的方法，从中国实际出发，对农民作了深入、具体的分析，得出结论认为，中国农民是革命的动力和无产阶级同盟军，贫农“是中国革命的最广大的动力，是中国革命队伍的主力军。”

——摘编自毛军吉、杨彧《论农民的主力军作用与无产阶级领导权的关系》

(4) 依据材料四，指出毛泽东对马克思主义的创新和发展之处。并结合所学知识，说明毛泽东在新民主主义革命中是如何实践这一“创新和发展”的。

29. 纸是人类文明的载体。

材料一

	中国古代	欧洲中世纪
造纸工艺	中国人很早就懂得造纸的基本方法，蔡伦总结前人经验，改进造纸工艺，用树皮、麻头、破布、旧渔网等为原料，基本流程是“剉、煮、打、抄”。	先把羊皮用复杂工艺鞣制成革，再擦上白色粉末，用卵石面磨光，所得到的书写材料洁白平滑，这就是人们所说的羊皮纸。
评价	①	羊皮纸不易损坏，但其原料来源有限，制作过程复杂。因此，羊皮纸售价极为昂贵，使用范围有限。

材料二 中世纪后期，造纸术在西欧逐渐普及，原来神职人员和贵族才拥有的知识获取权开始下移，一些平民也有条件获得知识，这打破了中世纪神权对知识的垄断。威尼斯是著名的书城，在书店常能听到知识分子充满智慧的交谈。后来，以意大利为中心的欧洲社会，读书、识字群体大大扩展，形成了一个文化艺术名流辈出的时代。

——摘编自亚历山德罗·马尼奥《纸上威尼斯》

材料三 纸见证了历史的发展

①	②	③	④
			
书籍插图	哥伦布书信	麦哲伦航海日记	《地理发现史》
1887年英国出版的一本书中的绘画作品，描绘迪亚士到达好望角的场景。	哥伦布历经两个多月航行，返回途中写的一封信，描述了航行中的新发现。	与麦哲伦同行的一位航海助手所撰写，记录了航行途中的见闻。	19世纪法国小说家凡尔纳的作品，讲述人类历史上著名航海家的故事。

(1) 写出材料一中我国古代造纸工艺出现的朝代。并将①处补充完整。

(2) 依据材料二，写出“文化艺术名流辈出”的思想文化运动。说明造纸术的普及为这一思想文化运动出现提供的条件。

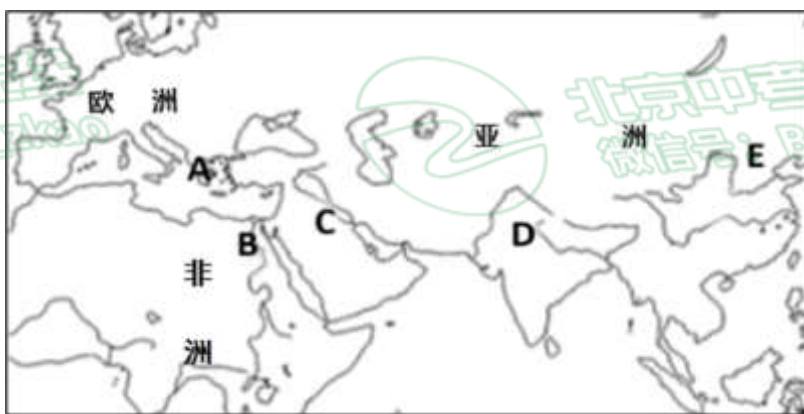
(3) 从材料三中选出研究新航路开辟最可信的两则材料。(写序号)从这两则材料中任选其一，(写序号)写出其所反映的具体史实及影响。

30. 第24届冬季奥林匹克运动会在北京、延庆、张家口三地联合举办，某历史社团举办了“中国与奥林匹克运动”主题活动。

【现代奥林匹克】


奥林匹克运动会起源于古希腊。首届现代奥运会于1896年4月在希腊雅典举办。

(1) 在下图中指出首届奥运会召开地。(填写字母)



【中国传统冰雪运动】清代主要民间冰雪活动

名称	区域	活动形式	用途
法喇	东北地区各族居住地	似车但无轮无足，因其底平似犁，故又名爬犁	交通工具



	东北地区各族居住地、京津地区	冰上滑擦者，所著之履皆有铁齿，滑行冰上，如星驰电掣，又名溜冰	出行、娱乐
拖冰床	京津地区	在什刹海、积水潭等处，人们将数张拖床并在一起，驰于冰上，赏景、欢饮、高歌以为乐	观光、休闲
冰上蹴鞠	京津地区	使用铁球，不设球门，人们在冰上争抢，得球为胜	竞赛、娱乐

(2) 依据材料，概括清代民间主要冰雪活动的特点。

【“伟大的奥林匹克人”】

何振梁（曾任中国奥委会名誉主席）将一生奉献给了奥林匹克事业。……何振梁坚信体育在教育中的作用，一直倡导奥林匹克价值观的教育及学校体育课程的开设。正是出于这个原因，在北京奥运会举办的若干年前，中国数亿学生学习了奥林匹克价值观。为北京申办奥运会，何振梁曾在两年多的时间内飞遍五大洲，遍访拥有投票权的国际奥委会委员，飞行总里程超过 60 万公里，可以绕行地球十多圈。

——摘编自托马斯·巴赫《何振梁：伟大的奥林匹克人》

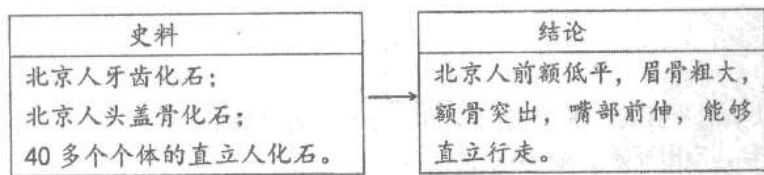
(3) 依据材料，概括何振梁对奥林匹克事业做出的贡献。

(4) 延庆是冬奥会的主要赛场之一，传承和保护冬奥文化遗产是首都公民的职责。作为一名延庆学生，请你为冬奥文化遗产的传承和保护提出合理的建议。

参考答案



以下示意图说明



- A. 北京人生活在距今约 70 万到 20 万年
- B. 狩猎是北京人主要的生活方式
- C. 北京人脑容量比现代人略小
- D. 化石是了解北京人特征的主要证据

【答案】D

【解析】

【详解】根据对北京人化石的发掘和北京人外貌特征的总结可以看出，化石是了解北京人特征的主要证据，D 项正确；材料中没有对化石的年代进行测定，无法得出北京人生活的时间阶段，排除 A 项；材料内容无法体现北京人主要的生活方式和脑容量的大小，排除 BC 项。故选 D 项。

2. 《左传》记载“封建亲戚（亲戚族人），以藩屏周（保护周朝）”。这能够表明西周实行 是

- A. 禅让制
- B. 分封制
- C. 郡县制
- D. 推恩令

【答案】B

【解析】

【详解】根据材料内容“封建亲戚，以藩屏周”结合所学知识可知，这一内容体现的是西周实行的分封制。为稳定周初的政治形势，巩固疆土，西周实行分封制。B 项正确；禅让制是尧舜禹时期实行的制度，排除 A 项；郡县制是秦朝时期实行的制度，排除 C 项；推恩令是西汉时期实行的制度，排除 D 项。故选 B 项。

3. 下表是某位七年级同学所总结的学习笔记，这位同学笔记内容反映的是

方面	措施
政治	下诏规定诸侯王除以嫡长子继承王位外，可将封地再次分封给其子弟作为侯国，由皇帝制定封号
经济	把铸币权收归中央，统一铸造五铢钱；把煮盐、冶铁等经营权收归国有，实行盐铁官营专卖
思想	把儒家学说立为正统思想
军事	卫青、霍去病率兵与匈奴进行了三次大战，匈奴受到重创，被迫迁徙漠北

- A. 秦朝中央集权制度建立
- B. 汉朝大一统的巩固
- C. 隋朝科举制度的创立
- D. 清朝君主专制的强化

【答案】B



【解析】

【详解】根据材料内容结合所学知识可知，材料中的措施都是汉武帝时期采取的措施，B项正确；秦朝中央集权制度建立在秦始皇时期，与题意不符，排除A项；材料内容没有涉及科举制度，排除C项；清朝君主专制的强化与材料内容不符，排除D项。故选B项。

4. 下列四幅图反映了魏晋时期的社会特征是



采桑图 (魏晋壁画)



胡食图 (魏晋壁画)



北魏帝王出御图



北魏奏乐陶俑

- A. 民族交融趋势加强
- B. 农业技术进步
- C. 等级观念越发严重
- D. 社会经济繁荣发展

【答案】A

【解析】

【详解】根据图示内容可以看出，这些内容反映的是汉族和少数民族之间交流，少数民族采用了汉族的生产方式，汉族出现了少数民族的饮食习惯，所以魏晋时期的社会特征是民族交融趋势加强，A项正确；图示内容反映民族交融趋势的加强，不能体现农业技术进步、等级观念严重和社会经济繁荣发展，排除BCD项。故选A项。

5. 唐太宗时期，大臣张玄素劝阻皇帝不要修建洛阳宫殿，得到赏绢 200 匹；魏征等人指出皇帝用人和赏罚中的问题，也得到太宗的奖赏。这说明唐太宗

- A. 完善科举
- B. 开创盛世
- C. 勤于政事
- D. 虚心纳谏

【答案】D

【解析】

【详解】根据材料“唐太宗时期，大臣张玄素劝阻皇帝不要修建洛阳宫殿，得到赏绢 200 匹；魏征等人指出皇帝用人 and 赏罚中的问题，也得到太宗的奖赏。”，分析可知：材料叙述了大臣张玄素、魏征等人因为“劝阻”唐太宗或“指出”唐太宗的问题而得到奖赏，说明了唐太宗虚心纳谏。故D符合题意；材料未体现唐太宗“完善科举、开创盛世、勤于政事”，故排除ABC。故答案为D。

6. 下图是泉州出土的南宋远洋货船（复原模型）。海船出土时，船内遗物非常丰富，有香料、药材、木牌、铜钱、陶瓷器、竹木器等。据此可知



- A. 指南针已广泛使用
- B. 经济重心逐渐南移
- C. 海外贸易物品丰富
- D. 海上交通路线发达

【答案】C

【解析】

【详解】根据“船内遗物非常丰富，有香料、药材、木牌、铜钱、陶瓷器、竹木器等”可知南宋的远洋货船中携带有种类丰富的物品，说明当时海外贸易中物品丰富，C项正确；根据这些种类丰富的物品只能说明贸易物品丰富，不能说明指南针广泛使用、经济重心南移和海上交通路线发达，排除ABD项。故选C项。

7. 在中国历史上，民族英雄都备受人民的尊重。下表反映了民族英雄受到人民尊重的原因是

朝代	人物	事件	结果
明朝	戚继光	戚继光抗倭	东南沿海的倭患基本解除
清朝	郑成功	郑成功收复台湾	荷兰殖民者被迫投降，台湾重回祖国怀抱

- A. 维护了国家的统一和社会稳定
 B. 镇压边疆地区叛乱的行为
 C. 加强君主专制中央集权
 D. 积极主动开展对外交流活动

【答案】A

【解析】

【详解】结合所学内容可知，戚继光解除了东南沿海的倭患，郑成功从荷兰殖民者手中收复了台湾，他们都维护了国家的统一和社会稳定，所以受到人民的尊重，A项正确；他们都不是镇压边疆地区的叛乱行为和加强君主专制中央集权，排除BC项；他们的这些活动不属于对外交流活动，排除D项。故选A项。

8. 下侧是某位同学整理的中国古代皇帝主要施政措施，其空白处应该为

秦始皇：“废分封，设郡县”
汉武帝：“罢黜百家，独尊儒术”
孝文帝：推行汉化措施
隋文帝：通过考试选拔人才
宋太祖：实行重文轻武的政策
明太祖：“废丞相，设三司”
清雍正帝：

- A. 休养生息
 B. 完善三省六部制
 C. 实行行省制度
 D. 设立军机处

【答案】D

【解析】

【详解】结合所学内容可知，图中皇帝的这些措施都与加强君主专制有关，其中清朝雍正帝加强君主专制的措施是设置军机处，D项正确；清雍正帝没有实行休养生息政策和行省制度，排除AC项；清朝不再实行三省六部制，排除B项。故选D项。

9. 某同学收集了下面一组人物纪念币，该纪念币的主题是（ ）



祖冲之



毕昇



李时珍



宋应星

- A. 文学体裁丰富 B. 科学技术发达 C. 书法独放异彩 D. 绘画成就卓著

【答案】B

【解析】

【详解】南朝时期的祖冲之在数学、天文历法和机械制造方面都有重大成就。北宋时，毕昇发明了活字印刷术，推动世界文化事业的发展。明朝医药学家李时珍的《本草纲目》总结了我国古代药物学成就，丰富了我国医药学宝库，在世界医药史上占有重要的地位。明末宋应星著《天工开物》，总结了明代农业和手工业生产技术，反映了我国手工业的生产面貌。由此可见，上述人物纪念币体现了我国古代科学技术的发达，故B符合题意；材料无关文学体裁、书法艺术和绘画成就，排除ACD。故选B。


10. 文物是历史的“活化石”。下列文物按所属朝代先后顺序排列正确的是（ ）



①半两钱



②殷墟甲骨



③京剧早期戏服



④三彩骆驼俑

- A. ①②③④ B. ②③④① C. ②①④③ D. ①②④③

【答案】C

【解析】

【详解】根据所学知识可知，半两钱出现在秦朝；甲骨文出现在商朝；京剧形成于清朝；三彩出现在唐朝。所以按照时间先后顺序排列应是②①④③，C符合题意，ABD排除。故选择C。

11. 历史史实和历史结论是历史学科常见的构成要素。下列各项中，属于历史结论的是

- A. 1839年6月林则徐主持将英美等国商贩缴出的鸦片在虎门海滩销毁
 B. 《天朝田亩制度》反映了农民要求得到土地的强烈愿望
 C. 1858年，英法联军北上，攻陷大沽炮台，逼近天津
 D. 第二次鸦片战争前后，沙俄共割占了中国150多万平方千米的领土

【答案】B

【解析】

【详解】依据所学可知，史实即历史事实，史论即对历史事件和历史人物的评论。《天朝田亩制度》反映了农民要求得到土地的强烈愿望属于历史结论，故B符合题意；1839年6月林则徐主持将英美等国商贩缴出的鸦片在虎门海滩

11. 1858年，英法联军北上，攻陷大沽炮台，逼近天津、第二次鸦片战争前后，沙俄共割占了中国150多万平方公里的领土属于历史事实，故ACD不合题意。故此题选B。

12. 历史兴趣小组要为下列图片拟一历史主题，最贴切的是（ ）



- A. 抗争——中国人民摆脱外来的侵略
- B. 探索——寻求强国御侮之道
- C. 屈辱——步步走向殖民地的深渊
- D. 复兴——中华民族崛起之路

【答案】B

【解析】

【详解】根据材料结合所学知识可知，资产阶级维新派创办《万国公报》宣传维新变法，资产阶级革命派创办《民报》宣传民主革命，资产阶级激进派创办《新青年》宣传民主科学，这些体现了先进的中国人在寻求强国御侮之道，B项正确；材料中反映的主张是向外国学习，并非侧重于抗争，排除A项；材料中主题并不是屈辱而是探索，排除C项；这些探索最终都失败了，没有使中华民族崛起，排除D项。故选B项。

13. 《北京学界全体宣言》里有段话最能反映五四运动的性质，它是：“务望全国工商各界，一律起来设法开国民大会，外争国权，内除国贼，中国存亡，就在此一举了！今与全国同胞立两个信条道：中国的土地可以征服而不可以断送！中国的人民可以杀戮而不可以低头！国亡了！同胞起来呀！”可见，五四运动的性质是

- A. 资产阶级政治改良运动
- B. 资产阶级的革命运动
- C. 资产阶级思想解放运动
- D. 反帝反封建的爱国运动

【答案】D

【解析】

【详解】根据材料“务望全国工商各界，一律起来设法开国民大会，外争国权，内除国贼，中国存亡，就在此一举了！今与全国同胞立两个信条道：中国的土地可以征服而不可以断送！中国的人民可以杀戮而不可以低头！国亡了！同胞起来呀！”，结合所学知识可知：材料反映了五四运动“外争国权，内除国贼”即反帝反封建的性质。五四运动是中国人民彻底的反对帝国主义、封建主义的爱国运动。D项正确；资产阶级政治改良运动是戊戌变法，排除A项；资产阶级的革命运动是辛亥革命，排除B项；资产阶级思想解放运动是新文化运动，排除C项。故选D项。

14. 1933年10月，《勤奋体育月报》创刊词疾声呐喊：“强邻压境，国难当头，积极地注重国民体育训练，准备疆场强劲的战斗，养成耻雪保国的健儿。这是今后全国体育界的动向，也是全国体育界的责任。”这表明当时

- A. 中国传统体育有向科学化发展 趋势
- B. 七七事变后国人尚武意识被激发
- C. 体育界自觉担当起抗日救亡的责任
- D. 中国体育运动获得奥运优异成绩

【答案】C

【解析】



B. 开放

C. 绿色

D. 共享

【详解】结合所学知识可知，北京冬奥会主火炬以“不点火”代替“点燃”，以“微火”代替“大火”，清晰地传达了低碳环保绿色的理念，生动地表达了“一起向未来”的主题。C项正确；A项与题意不符，排除A项；B项与题意不符，排除B项；D项与题意不符，排除D项。故选C项。

18. 下表反映出租地农场和手工工场的共同点是

租地农场	手工工场
农场主提供土地和生产工具；农场主雇佣农民；农产品面向市场	工场主提供原料和生产工具；工场主雇佣工人；手工业品面向市场

A. 劳动者掌握着生产资料

B. 存在雇佣关系

C. 产品只是满足自我消费

D. 存在人身依附关系

【答案】B

【解析】

【分析】

【详解】根据材料“租地农场：农场主提供土地和生产工具；农场主雇佣农民，农产品面向市场”、“手工工场：工场主提供原料和生产工具；工场主雇佣工人；手工业品面向市场”可知租地农场和手工工场的共同点为都提供生产工具；农场主和农民存在雇佣关系，工场主和工人存在雇佣关系；生产的产品都面向市场，故选B；掌握生产资料的是租地农场主和手工工场主，A错误；租地农场和手工工场的产品都面向市场，C错误；D在材料中没有体现，排除。

19. 马克思在《资本论》中说道“随着美洲金银产地的发现，土著居民要么被剿灭、奴役，要么被埋葬于矿井，而对东印度和非洲开始进行的征服和掠夺，也都标志着资本主义生产时代的曙光。”这段话体现出殖民掠夺的影响是

A. 资本主义得到发展

B. 世界各地联系得以加强

C. 落后地区旧制度的瓦解

D. 掠夺原料与市场

【答案】A

【解析】

【详解】根据“随着美洲金银产地的发现，土著居民要么被剿灭、奴役，要么被埋葬于矿井，而对东印度和非洲开始进行的征服和掠夺，也都标志着资本主义生产时代的曙光。”，说明欧洲通过对亚非拉血腥掠夺，促进了资本主义的发展。A项正确；世界各地联系得以加强是新航路开辟的作用，排除B项；落后地区旧制度的瓦解材料中没有涉及，排除C项；掠夺原料与市场不是殖民掠夺的影响，排除D项。故选A项。

20. 若想研究“欧洲资本主义制度的初步确立”这一单元主题，有价值的文献史料是

A. 《权利法案》文本

B. 《拍卖黑人奴隶》广告

C. 《神曲》文本

D. 《凡尔赛条约》文本

【答案】A

【解析】



【详解】结合所学可知，《权利法案》是英国资产阶级革命中的重要法律性文件，但并非是宪法。奠定了英国君主立宪政体的理论和法律基础，确立了议会所拥有的权力高于王权的原则，标志着君主立宪制开始在英国建立，与《王位继承法》共同标志着英国资产阶级革命的结束，为英国资本主义的迅速发展扫清了道路。英国资产阶级革命属于欧洲资本主义制度的初步确立时期，故 A 符合题意；《拍卖黑人奴隶》广告出现在美国南北战争时期，当时处于资本主义制度的发展完善时期，故 B 不符合题意；《神曲》是文艺复兴时期但丁的代表作，当时资本主义制度尚未确立，故 C 不符合题意；《凡尔赛条约》是第一次世界大战后，战胜国(协约国)对战败国(同盟国)的和约，其主要目的是削弱德国的势力。第一次世界大战后处于 20 世纪，处于资本主义制度的发展完善时期，故 D 不符合题意；故选 A。

21. 西方“步入近代”的社会巨变：首先是精神层面的变革，然后是制度方面的变革，最后是器物（技术）的变革。以下符合这一变革顺序的是（ ）

- A. 文艺复兴→工业革命→早期资产阶级革命
- B. 文艺复兴→早期资产阶级革命→工业革命
- C. 早期资产阶级革命→工业革命→文艺复兴
- D. 工业革命→文艺复兴→早期资产阶级革命

【答案】B

【解析】

【详解】结合所学内容可知，文艺复兴是精神层面的变革，早期资产阶级革命是制度方面的变革，工业革命属于器物的变革，所以 B 符合这一变革顺序，故选 B，排除 ACD。

22. 下图为拉丁美洲独立运动示意图。这场运动的特点是（ ）



- A. 南北联合协同作战
- B. 封建王公组织作战
- C. 范围局限于南北美洲
- D. 运动领导者是圣马丁

【答案】A

【解析】

【分析】



【详解】根据图片拉丁美洲独立运动可知，拉丁美洲独立运动烽火燃遍了北起墨西哥、南到阿根廷的广大地区。在南美洲北部地区，玻利瓦尔先后解放了哥伦比亚、委内瑞拉和厄瓜多尔等地。在南美洲南部地区，圣马丁先后领导了阿根廷、智利、秘鲁的独立战争。故拉丁美洲独立运动南北联合，协同作战，A项正确；封建王公组织作战是印度民族大起义的特点，排除B项；拉丁美洲独立运动范围局限于南美洲，排除C项；圣马丁是独立战争的领导者之一，排除D项。故选A项。

【点睛】

23. 如下图是英国约·莱齐的漫画。画面描述的是科学家法拉第正在一边捏着鼻子，一边递给“泰晤士河老爹”一张白纸，用来检测河水的不透明度。这幅漫画讽刺的是



- A. 城市化带来出行拥堵
- B. 现代化加剧温室效应
- C. 全球化导致贫富分化
- D. 工业化造成环境污染

【答案】D

【解析】

【详解】结合所学内容可知，法拉第是著名化学家，他捏着鼻子检测泰晤士河水的不透明度说明泰晤士河水遭到了严重的污染，所以这幅漫画讽刺的是工业化造成的环境污染，D项正确；这幅漫画讽刺的是严重的环境污染，和出行拥堵、温室效应以及贫富分化无关，排除ABC项。故选D项。

24. 下表是“1928~1937年苏联工业总产值及钢产量在欧洲和世界所占的地位”，其地位前后发生变化的主要原因是（ ）

	1928年	1932年		1937年	
	世界	世界	欧洲	世界	欧洲
工业总产值	5	3	2	2	1

北京 中考	5	5	4	3	2
----------	---	---	---	---	---

- A. 十月革命的影响
B. 新经济政策的实施
C. 第一，第二个五年计划完成
D. 赫鲁晓夫改革

【答案】C

【解析】

【详解】根据材料内容结合所学知识可知，1928-1937年苏联在斯大林领导时期实施了两个五年计划，使苏联的工业总产值居欧洲第一，世界第二，苏联由落后的农业国转变为先进的工业国。A项时间是1917年，十月革命后俄国建立了世界上第一个社会主义国家；B项列宁实施新经济政策的时间是1921年；D项赫鲁晓夫改革是在20世纪50年代。C项符合题意，故选C。

25. 威廉·本内特在《美国通史》中写道：“数千年轻的男人临时居住在窝棚里，从事诸如修建……长途铁路这样的工程……虽然挣得不多，但他们的健康能够得到保证，重要的是，有一种成就感。”罗斯福新政中与之相关的举措是
- A. 调整工业
B. 以工代赈
C. 缩减农业
D. 整顿金融业

【答案】B

【解析】

【详解】根据材料“修建……长途铁路这样的工程”并结合所学知识可知，罗斯福新政中与之相关的举措是以工代赈，兴办公共工程。1929年-1933年的经济危机冲击了美国的资本主义制度。罗斯福就任美国总统后实行了新政，为了解决就业问题，使大量失业者和穷人有工作可做，兴办公共工程，以工代赈，兴办公共工程吸引大量失业者，增加了就业机会，这些工程包括许多巨型堤坝和水库如田纳西水利工程，公共工程兴建，在客观上刺激了消费需求，扩大了内需，刺激了工人就业，起到了一举多得的作用。B项正确；材料内容与调整工业不符，排除A项；材料内容没有涉及农业，排除C项；材料内容没有涉及金融业，排除D项。故选B项。

26. 1942年，26国签署的《联合国宣言》规定：“每一（签字国）政府各自保证对与各该政府作战的三国同盟成员国及其附从者使用其全部资源，不论军事的或经济的。”其根本目的是（ ）
- A. 加强各国经济、军事的交流
B. 孤立苏联社会主义国家
C. 团结一切力量战胜法西斯国家
D. 以牺牲弱小国家利益取得胜利

【答案】C

【解析】

【详解】依据所学知识，“二战”期间，不同意识形态和社会制度的国家，为战胜法西斯势力联合起来，在政治上，召开了华盛顿会议，26个国家签署了《联合国宣言》，标志着国际反法西斯联盟的建立。由此可知，1942年，26国签署《联合国宣言》的根本目的是团结一切力量战胜法西斯国家，故选C。

第二部分 材料分析题（共41分）

27. 建筑是凝固的史诗。

材料一



<p>①良渚古城遗址 发现于浙江余杭，距今约5300-4300年，是长江下游地区最高级别的城址。</p>	<p>②陶寺遗址 发现于山西襄汾县陶寺乡，距今约4300-4000年，宫城是遗址核心区。</p>	<p>③洛阳白马寺 位于河南洛阳市东，是东汉时佛教传入中原后营建的第一座寺院。</p>
<p>④布达拉宫 位于西藏首府拉萨市区，是吐蕃赞普松赞干布为迎娶文成公主而兴建。</p>	<p>⑤广州怀圣寺 位于广州越秀区，唐宋时期阿拉伯富商在当地政府支持下修建的清真寺，寺内的光塔具有浓郁的阿拉伯风格。</p>	<p>⑥辽大明塔 位于内蒙古赤峰市辽中京遗址公园，修建于辽渊之盟后，借鉴了中原建筑风格。</p>

(1) 从材料一中找出与以下历史主题相符的建筑或建筑遗存，将其序号填写在下划线处。(填写要求：只填写建筑或建筑遗存的序号，多选、少选、错选不得分。)

中华文明起源：_____；

中外文明交流：_____；

民族交融发展：_____。

材料二 平遥古城是中国境内保存最为完整的一座古代县城，是明清时期中国古代城市的杰出范例。平遥古城突出中心……凸显以“礼”为本的文化思想，建筑布局处处体现出传统的天人合一思想；自唐宋以来，平遥城道教昌盛，佛寺和道观在平遥城的分布独具特色；平遥是晋商的发祥地之一，在清代中晚期城里就有数不胜数的票号、钱庄、布庄、绸缎店、典当铺、杂货店……其布局特点、建筑设计、功能分配等都闪现着山西商业文化的影子。

——摘编自程林盛《平遥古城的民族文化内涵》

(2) 依据材料二，概括平遥古城建筑特点。分析平遥古城成为明清时期建筑杰出范例的经济原因。

材料三 在英国，最初厂房规模小，多以 1771 年阿克莱特在德文特河边建立的水力纺纱厂为样板，通常是一幢 3-4 层的楼房。在蒸汽机使用以后，由于蒸汽机的占地面积更大，同时它的动力也大，能够带动机器工作，到 18 世纪最后十年，工厂已经是新式的多层楼房的大厦，而且一般都建在大城市或者是城镇附近。如菲尔登公司的一家机器织布厂，有一个大得惊人的车间，里面有五百部织机，由五百人看管。

——摘编自吕异颖《英国工业革命时期模范工厂研究》

北63 依据材料三，说明 18 世纪英国厂房建筑的变化。结合所学，分析这些变化产生的影响。

	
<p>①巴黎公社社员纪念墙 简介:位于法国巴黎拉雪兹公墓东北角,砖墙上面嵌着一块大理石板,上面的文字为:“纪念公社死难者1871年5月21日—28日”</p>	<p>②马克思故居 简介:位于德国特里尔市,这里陈列着德文原版的《共产党宣言》和《资本论》、马克思的亲笔文稿、书信及其与恩格斯共同工作和生活时的图片等。</p>

(4) 纪念性历史建筑蕴含着丰富历史信息，具有深远的历史意义和现实意义。仿照示例说明图②建筑。

示例：通过了解巴黎公社社员纪念墙，我们能更深刻地认识世界第一个无产阶级政权的发展历程，坚定我们的理想信念。

【答案】(1) ①. ①② ②. ③⑤ ③. ④⑥

(2) 特点：凸显以“礼”为本的文化思想；体现传统宗教文化；能够反映出商业发展繁荣。原因：商业繁荣为城市建筑提供充足的资金支持。

(3) 变化：从河边转移到城镇；厂房规模由小变大。影响：推动了城市化的进程；扩大了生产规模，提高了生产效率；促进了经济发展。

(4) 全世界无产阶级和劳动人民的革命导师，无产阶级的精神领袖马克思在简陋的环境中坚定的对马克思主义书写、阐述，通过了解马克思故居，能够丰富我们对革命导师马克思和恩格斯的光辉革命历程的认识，加深我们对马克思主义的理解

【解析】

【小问 1 详解】

结合所学知识可知，良渚古城与陶寺遗址和中华文明起源有关，因此 A 填①②。洛阳白马寺位于河南洛阳市东，是东汉时佛教传入中原后营建的第一座寺院，体现中外文明交流；广州怀圣寺位于广州越秀区，是唐宋时期阿拉伯富商在当地政府支持下修建的清真寺，寺内的光塔具有浓郁的阿拉伯风格，体现中外文明交流，因此 B 填③⑤。布达拉宫位于西藏首府拉萨市区，是吐蕃赞普松赞干布为迎娶文成公主而兴建，属于民族交融发展；辽大明塔位于内蒙古赤峰市辽中京遗址公园，修建于澶渊之盟后，借鉴了中原建筑风格，属于民族交融发展，因此 C 填④⑥。

【小问 2 详解】

根据材料二“平遥古城突出中心……凸显以“礼”为本的文化思想，建筑布局处处体现出传统的天人合一思想；自唐宋以来，平遥城道教昌盛，佛寺和道观在平遥城的分布独具特色；平遥是晋商的发祥地之一，在清代中晚期城里就有数不胜数的票号、钱庄、布庄、绸缎店、典当铺、杂货店……其布局特点、建筑设计、功能分配等都闪现着山西商业文化的影子。”可知，平遥古城凸显以“礼”为本的文化思想；建筑注重体现传统文化、宗教文化以及商业文化浓厚。商业繁荣为城市建筑提供充足的资金支持，因此平遥古城成为明清时期建筑杰出范例。

【小问 3 详解】

根据材料三“在英国，最初厂房规模小，多以 1771 年阿克莱特在德文特河边建立的水力纺纱厂为样板，通常是一幢 3—4 层的楼房。在蒸汽机使用以后，由于蒸汽机的占地面积更大，同时它的动力也大，能够带动机器工作，到 18 世纪最后十年，工厂已经是新式的多层楼房的大厦，而且一般都建在大城市或者是城镇附近。如菲尔登公司的一家机器织布厂，有一个大得惊人的车间，里面有五百部织机，由五百人看管。”可知，18 世纪英国厂房从河边转移到城镇；厂房规模由小变大。结合所学知识可知，18 世纪英国厂房从河边转移到城镇，推动了城市化的进程；厂房规模由小变大，扩大了生产规模，提高了生产效率，促进了经济发展。

【小问 4 详解】

根据材料四“马克思故居简介：位于德国特里尔市，这里陈列着德文原版的《共产党宣言》和《资本论》、马克思的亲笔文稿、书信及其与恩格斯共同工作和生活时的图片等。”可知，全世界无产阶级和劳动人民的革命导师，无产阶级的精神领袖马克思在简陋的环境中坚定的对马克思主义书写、阐述，通过了解马克思故居，能够丰富我们对革命导师马克思和恩格斯的光辉革命历程的认识，加深我们对马克思主义的理解。

28. 思想文化是人类历史的重要组成部分，在人类历史发展进程中发挥巨大的作用。

材料一 孔子开创了民间自由讲学的先河，一个中国学术思想史的黄金时代便开始出现，它光芒四射，灿烂夺目，成为人类文化发展史上最富丽的时代。

——李定一《中国史纲要》

(1) 说出材料一中孔子“自由讲学”的内涵。“黄金时代”是指在春秋战国时期思想文化领域出现的什么局面。

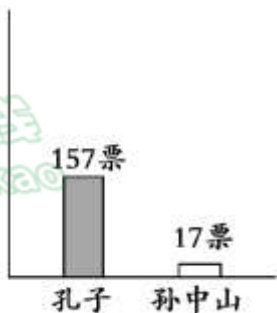
材料二 19 世纪 60 年代开始的自强运动含有两层意思。一就阶级意义而言，它所寻求的是在太平天国运动打击下，王朝的自我振兴。二就民族意义而言，它所寻求的是在“船坚炮利”的外国侵略者面前，中国的自我图强。

——摘编自罗荣渠《现代化新论》

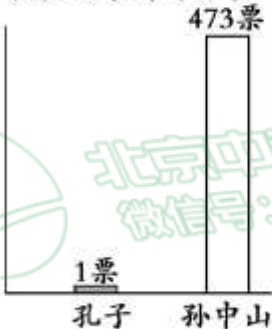
(2) 依据材料二，并结合所学，说出这场“自强运动”的名称。分析“自强意识”觉醒的背景。

材料三 民国时期青年学生“最崇拜的人物”调查

1913 年江苏第一师范
调查结果（部分）



1924 年北京大学
调查结果（部分）



(3) 依据材料三并结合所学，说出从 1913 年到 1924 年青年学生“最崇拜的人物”发生了什么变化。并分析出现这种变化的主要原因。

材料四 在马克思主义的工农联盟思想中，工人阶级既是领导者，又是主力军，而农民只能作为工人阶级的同盟军和后备军，配合无产阶级开展斗争。毛泽东运用马克思主义阶级分析的方法，从中国实际出发，对农民作了深入、具体的分析，得出结论认为，中国农民是革命的动力和无产阶级同盟军，贫农“是中国革命的最广大的动力，是中国革命队伍的主力军。”

——摘编自毛军吉、杨彧《论农民的主力军作用与无产阶级领导权的关系》

【答案】(1) 创办私学。百家争鸣。
 (2) 洋务运动。太平天国运动发展，威胁清政府的统治；列强的侵略不断加剧。
 (3) 1913年崇拜孔子的人多于孙中山，1924年崇拜孙中山的人远远多于孔子。新文化运动的影响。
 (4) 创新与发展：农民是革命的动力，贫民是革命的主力军。说明：毛泽东向农村进军，发动群众，建立井冈山革命根据地。

【解析】

【小问1详解】

根据材料一“孔子开创了民间自由讲学的先河，一个中国学术思想史的黄金时代便开始出现，它光芒四射，灿烂夺目，成为人类文化发展史上最富丽的时代”结合所学知识可知，材料中孔子“自由讲学”的途径是创办私学。“黄金时代”是指在春秋战国时期思想文化领域出现的百家争鸣的学术繁荣局面。

【小问2详解】

根据材料二“19世纪60年代开始的自强运动”结合所学知识可知，“自强运动”指的是洋务运动。洋务运动兴起的背景是在太平天国运动不断发展，威胁清政府的统治；列强的侵略不断加剧，第二次鸦片战争后，洋务派开始向西方学习。

【小问3详解】

根据材料三并结合所学知识可知，1913年崇拜孔子的人多于孙中山，1924年崇拜孙中山的人远远多于孔子。这是由于1915年兴起的新文化运动，倡导打倒袁世凯提出的尊孔复古逆流，主张民主科学产生的影响。

【小问4详解】

根据材料四“毛泽东运用马克思主义阶级分析的方法，从中国实际出发，对农民作了深入、具体的分析，得出结论认为，中国农民是革命的动力和无产阶级同盟军，贫农‘是中国革命的最广大的动力，是中国革命队伍的主力军。’”可得出，毛泽东对马克思主义的创新和发展之处是农民是革命的动力，贫民是革命的主力军。毛泽东向农村进军，发动群众，建立井冈山革命根据地，是毛泽东在新民主主义革命中是实践这一“创新和发展”的例子。

29. 纸是人类文明的载体。

材料一

	中国古代	欧洲中世纪
造纸工艺	中国人很早就懂得造纸的基本方法，蔡伦总结前人经验，改进造纸工艺，用树皮、麻头、破布、旧渔网等为原料，基本流程是“剉、煮、打、抄”。	先把羊皮用复杂工艺鞣制成革，再擦上白色粉末，用卵石面磨光，所得到的书写材料洁白平滑，这就是人们所说的羊皮纸。
评价	①	羊皮纸不易损坏，但其原料来源有限，制作过程复杂。因此，羊皮纸售价极为昂贵，使用范围有限。

材料二 中世纪后期，造纸术在西欧逐渐普及，原来神职人员和贵族才拥有的知识获取权开始下移，一些平民也有条件获得知识，这打破了中世纪神权对知识的垄断。威尼斯是著名的书城，在书店常能听到知识分子充满智慧的交谈。后来，以意大利为中心的欧洲社会，读书、识字群体大大扩展，形成了一个文化艺术名流辈出的时代。

——摘编自亚历山德罗·马尼奥《纸上威尼斯》

材料三 纸见证了历史的发展

①	②	③	④
			
书籍插图	哥伦布书信	麦哲伦航海日记	《地理发现史》
1887年英国出版的一部书中的绘画作品，描绘迪亚士到达好望角的场景。	哥伦布历经两个多月航行，返回途中写的一封信，描述了航行中的新发现。	与麦哲伦同行的一位航海助手所撰写，记录了航行途中的见闻。	19世纪法国小说家凡尔纳的作品，讲述人类历史上著名航海家的故事。

(1) 写出材料一中我国古代造纸工艺出现的朝代。并将①处补充完整。

(2) 依据材料二，写出“文化艺术名流辈出”的思想文化运动。说明造纸术的普及为这一思想文化运动出现提供的条件。

(3) 从材料三中选出研究新航路开辟最可信的两则材料。(写序号)从这两则材料中任选其一，(写序号)写出其所反映的具体史实及影响。

【答案】(1) 东汉(汉朝)。原料易找，价格便宜；易于推广，成为广泛使用的书写材料。

(2) 文艺复兴。造纸术的传播，拓宽了平民获取知识的途径；促进了欧洲知识分子的交流与文化的发展、传播等。

(3) ②③

示例：②，哥伦布发现美洲。扩展了人们对世界的认识；为欧洲资本主义经济的发展创造了条件；给美洲带来了沉重的灾难等。

【解析】

【分析】

【小问1详解】

根据材料一“蔡伦总结前人经验，改进造纸工艺，用树皮、麻头、破布、旧渔网等为原料”，结合所学知识可知：东汉时期，蔡伦改进造纸术，用树皮、麻头、破布、渔网等造成便于书写的纸，人称“蔡侯纸”；结合所学知识可知：“蔡侯纸”的原料易找，价格便宜；易于推广，成为广泛使用的书写材料。

【小问2详解】

根据材料可知以意大利为中心的欧洲社会，读书、识字群体大大扩展，形成了一个文化艺术名流辈出的时代”，结合所学知识可知：材料反映的是文艺复兴运动。文艺复兴是14世纪中叶到17世纪初在欧洲发生的思想文化解放运动。意大利是文艺复兴的发源地和中心，15世纪后期，文艺复兴逐步传到西欧其他国家；结合所学知识可知：造纸术的传播拓宽了平民获取知识的途径，促进了欧洲知识分子的交流与文化的发展、传播。

【小问3详解】

根据材料三纸见证了历史的发展，结合所学知识可知：“②哥伦布书信”、“③麦哲伦航海日记”都属于第一手资料，而①④是后人的著作，属于第二手资料，故②③是研究新航路开辟最可信的两则材料；根据材料“②”，结合所学知识可知：1492年，意大利探险家、航海家哥伦布在西班牙国王的资助下，从西班牙出发，横渡大西洋，到达美洲的巴哈马群岛，“发现”了美洲古巴、海地等地，发现了新大陆——美洲。哥伦布发现美洲，扩展了人们对世界的认识，为欧洲资本主义经济的发展创造了条件，也给美洲带来了沉重的灾难；根据材料“③”，结合所学知识可知：1519年，麦哲伦奉西班牙国王之命，从西班牙出发，船队穿越大西洋、太平洋和印度洋，船队于1522年返回欧洲。这次航行是世界航海史上的一次创举，麦哲伦成为第一位横渡太平洋的欧洲人，他的船队第一次完成了环球航行，证明了地圆说的正确。

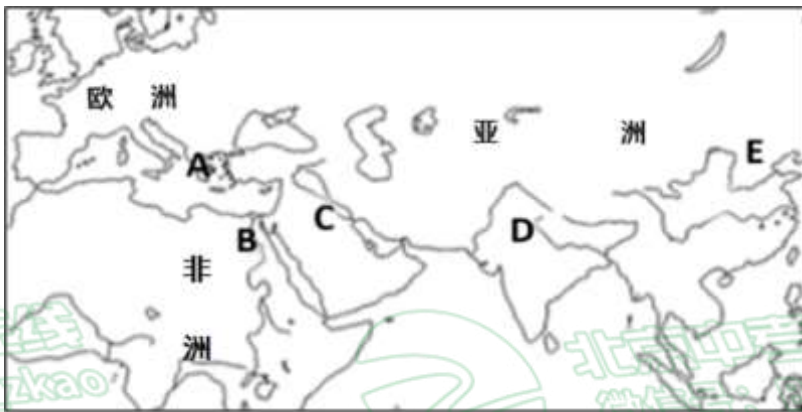
【点睛】

30. 第24届冬季奥林匹克运动会在北京、延庆、张家口三地联合举办，某历史社团举办了“中国与奥林匹克运动”主题活动。

【现代奥林匹克】

奥林匹克运动会起源于古希腊。首届现代奥运会于1896年4月在希腊雅典举办。

(1) 在下图中指出首届奥运会召开地。（填写字母）



【中国传统冰雪运动】清代主要民间冰雪活动

名称	区域	活动形式	用途
法喇	东北地区各族居住地	似车但无轮无足，因其底平似犁，故又名爬犁	交通工具
滑擦	东北地区各族居住地、京津地区	冰上滑擦者，所著之履皆有铁齿，滑行冰上，如星驰电掣，又名溜冰	出行、娱乐



冰床	京津地区	在什刹海、积水潭等处，人们将数张拖床并在一起，驰于冰上，赏景、欢饮、高歌以为乐	观光、休闲
冰上蹴鞠	京津地区	使用铁球，不设球门，人们在冰上争抢，得球为胜	竞赛、娱乐

(2) 依据材料，概括清代民间主要冰雪活动的特点。

【“伟大的奥林匹克人”】

何振梁（曾任中国奥委会名誉主席）将一生奉献给了奥林匹克事业。……何振梁坚信体育在教育中的作用，一直倡导奥林匹克价值观的教育及学校体育课程的开设。正是出于这个原因，在北京奥运会举办的若干年前，中国数亿学生学习了奥林匹克价值观。为北京申办奥运会，何振梁曾在两年多的时间内飞遍五大洲，遍访拥有投票权的国际奥委会委员，飞行总里程超过 60 万公里，可以绕行地球十多圈。

——摘编自托马斯·巴赫《何振梁：伟大的奥林匹克人》

(3) 依据材料，概括何振梁对奥林匹克事业做出的贡献。

(4) 延庆是冬奥会的主要赛场之一，传承和保护冬奥文化遗产是首都公民的职责。作为一名延庆学生，请你为冬奥文化遗产的传承和保护提出合理的建议。

【答案】(1) A (2) 特点：活动形式多样；主要分布在东北、北京等北方地区；与人们的日常生活有关；丰富人们的休闲娱乐与竞赛活动；是北方各民族共同智慧的结晶等。

(3) 推动了国际奥林匹克事业的发展；推广了奥林匹克价值观；助力北京申办奥运会。

(4) 言之成理即可。

【解析】

【小问 1 详解】

根据材料“奥林匹克运动会起源于古希腊。首届现代奥运会于 1896 年 4 月在希腊雅典举办。”可得出，首届奥运会召开地是雅典希腊，对应图中 A。

【小问 2 详解】

依据材料可知，清代民间主要冰雪活动的特点是活动形式多样；主要分布在东北、京津等北方地区；与人们日常的生产生活有关；丰富人们的休闲娱乐与竞赛活动；是北方寒冷地区各民族共同智慧的结晶等。

【小问 3 详解】

根据材料“何振梁将一生奉献给了奥林匹克事业。他于 1981 年当选为国际奥委会委员，在为奥林匹克运动服务的 30 年间，他曾任文化委员会主席、文化和奥林匹克教育委员会主席以及大众体育委员会副主席，做出了很多成绩。何振梁坚信体育在教育中的作用，一直倡导奥林匹克价值观的教育及学校体育课程的开设。正是出于这个原因，在北京奥运会举办的若干年前，中国数亿学生学习了奥林匹克价值观。为北京申办奥运会，何振梁曾在两年多的时间内飞遍五大洲，遍访拥有投票权的国际奥委会委员，飞行总里程超过 60 万公里，可以绕行地球十多圈。”可得出，何振梁对奥林匹克事业做出的贡献是推动了国际奥林匹克事业的发展；推广了奥林匹克价值观；助力北京申办奥运会。

【小问 4 详解】

本题属于开放性试题，言之有理即可。如：传承与创新相结合；任何事物要走向强大必须有创新的能力，符合社会发展规律。