



# 历史

一、选择题（共 45 分）本部分共 30 小题，每小题 1.5 分，共 45 分。在每小题列出的四个选项中最符合题意的一项，按要求用 2B 铅笔将其填涂在答题卡上的相应位置，错选或多选均不得分。

1. （1.5 分）图片与文字一样承载着历史。下列各项与如图反映的历史信息有关的是（ ）



- A. 群居生活      B. 原始农业      C. 贫富分化      D. 采集捕鱼

2. （1.5 分）在联合国大厅里，赫然写着“己所不欲，勿施于人”的中国格言，并被世界确认为人类社会应该确保的道德底线。这句格言应源自（ ）

- A. 老子      B. 庄子      C. 孔子      D. 孟子

3. （1.5 分）观察如图所示，联系秦朝的历史，我们可以得到的正确结论有（ ）



秦半两钱



秦权



南郡侯印



皇帝信玺

- ①秦朝创立皇帝制度
- ②秦朝颁行标准衡器
- ③秦朝在地方推行分封制
- ④秦朝统一文字

- A. ①②③      B. ②③④      C. ①②④      D. ①③④

4. （1.5 分）下表显示了东汉后期 10 个皇帝的即位年龄及寿命，这一现象导致（ ）

皇帝	和帝	殇帝	安帝	顺帝	冲帝	质帝	桓帝	灵帝	少帝	献帝
即位年龄	10	1	13	11	2	8	15	12	14	9

寿命(岁)	27	2	31	30	3	9	36	34	14	54
-------	----	---	----	----	---	---	----	----	----	----



- A. “七国之乱”的爆发  
B. “八王之乱”的兴起  
C. 外戚和宦官交替专权  
D. 五胡十六国局面出现
5. (1.5分) 观察如图“身穿汉族服装的鲜卑贵族形象”。出现这一现象的主要原因是( )



- A. 北方少数民族内迁  
B. 穿汉服显示贵族身份  
C. 北魏统一黄河流域  
D. 孝文帝推行汉化政策
6. (1.5分) “炀帝此举，为其国促数年之祚(国运)，而为后世开万世之利，可谓不仁而有功者矣。”“炀帝此举”是指( )
- A. 建立隋朝  
B. 统一全国  
C. 开通大运河  
D. 创立科举制
7. (1.5分) 高僧玄奘“西行”和鉴真“东渡”的共同作用( )
- A. 加强了边疆管理  
B. 开通了丝绸之路  
C. 传播了中国文化  
D. 扩大了唐朝疆域
8. (1.5分) 某同学在学习过程中，收集了如下图片资料。由此推断该同学的学习主题是( )



北宋“交子”



《清明上河图》局部



南宋海船



市舶司遗址

- A. 政权并立  
B. 商业繁荣  
C. 文化灿烂  
D. 民族融合
9. (1.5分) 著名史学家钱穆说：“元朝同宋一样，把地方分成路、府、州、县，而实际上元代的地方政权不交在地方，乃由中央派行中书省管理…所以行中书省正名定义不是地方政府，而只是流动的中央政府。”这主要说明( )
- A. 行省制度是错误的政治制度



- B. 行省制度不利于对地方的管理
- C. 行省制度更利于权力集中到中央
- D. 行省制度促进了民族交融
10. (1.5分) “郑和时代的中国，则是真正承担了一个文明大国的责任：强大却不称霸，播仁爱于友邦，宣诏颁赏，厚往薄来。”从材料中不能解读出的信息是 ( )
- A. 为明王朝带来了可观的经济利益
- B. 明朝国力强盛
- C. 加强了中国同海外各国的友好关系
- D. 郑和传播了和平和友谊
11. (1.5分) 下列图片反映了中国历史上台湾回归祖国的史实，这两次回归分别结束了哪国对台湾的殖民统治？ ( )



殖民者的投降书



庆祝台湾光复

- A. 西班牙、美国
- B. 荷兰、法国
- C. 荷兰、日本
- D. 葡萄牙、日本
12. (1.5分) 清朝前期，中国统一多民族国家进一步巩固和发展。如图所示清朝乾隆年间设立的机构，其职能是 ( )
- A. 管理南疆军政事务
- B. 管理北疆军政事务
- C. 总理南、北疆军政事务
- D. 总理西北地区军政事务
13. (1.5分) 对以下有关《天工开物》内容介绍，解读正确的是 ( )

从农作物的种植、收获、加工到制盐、糖、油的方法，从砖瓦、瓷器、纸张的生产到制衣、染色技术，从五金采冶、车船制造到珠玉、宝石工艺等，都做了详细记载，并配有插图。



①可用于指导农业生产

②有助于将农产品转化为商品

③可用于指导手业生产

④该书图文并茂

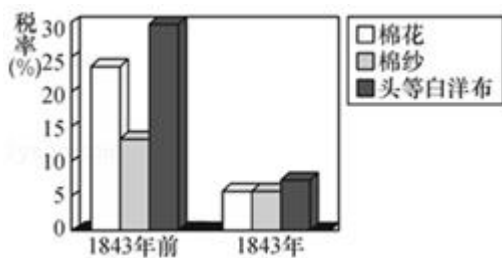
A. ①②

B. ③④

C. ①②③

D. ①②③④

14. (1.5分) 如图，导致清朝这一时期几种主要进口货物税率(关税)变化的相关事件是( )



A. 清朝实行闭关锁国政策

B. 中国手工业纺织技术较弱

C. 中英鸦片战争

D. 甲午中日战争

15. (1.5分) 如图反映的事件发生的时期是( )



A. 鸦片战争

B. 第二次鸦片战争





C. 甲午中日战争

D. 八国联军侵华战争

16. (1.5分) 第一手史料指接近或直接在历史事件发生时所产生和记录的原始资料。以下适用于研究太平天国运动的第一手史料是 ( )

- A. 《天朝田亩制度》
- B. 《洪秀全传》
- C. 《太平天国兴亡史》
- D. 《太平天国研究论文集》

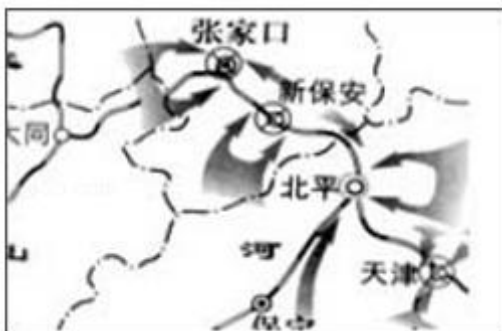
17. (1.5分) 2018年9月,“丹东一号”沉船被确认是北洋水师沉舰——“致远舰”。以下是在这次水下考古中发现的文物图片。其中不能作为确认“致远舰”直接证据的是 ( )

			
A、有“致远”文字标识的白瓷托盘	B、水下考古中发现的弹药	C、时任“致远”舰帮带陈金揆的望远镜。	D、“致远”舰特有的方形舷窗。
A. A	B. B	C. C	D. D

18. (1.5分) 以下是20世纪初刊登在报纸上的两则征婚启事：一则曰：“女子须不缠足者，须识字者，男子不娶妾，男死后，女可再嫁，夫妇如不相合，可离婚。”另一则曰：“以湖北籍女子为限，须文理清顺，大家闺秀，要不沾染学堂平等自由之思习，有从夫之美德”。透过这两则征婚启事可以看出 ( )

- A. 新旧思想并呈，多元发展
- B. 择偶标准是三从四德
- C. 男女平等的婚姻观念深入人心
- D. 女性获得了极大的解放

19. (1.5分) 如图是中国人民解放军按照毛泽东“先打两头，后取中间”指示展开的战役形势示意图，该战役是 ( )



- A. 辽沈战役
- B. 平津战役
- C. 淮海战役
- D. 渡江战役



20. (1.5分) 海峡两岸民主协商的共同政治基础是 ( )

- A. 和平统一
- B. 一国两制
- C. 九二共识
- D. 《告台湾同胞书》



21. (1.5分) 如图是文艺复兴时期意大利的艺术大师达·芬奇的名作《蒙娜丽莎》、《最后的晚餐》。画面内容直接反映的信息是 ( )



- A. 教会对人们实行精神控制
  - B. 资本主义在西欧萌芽并发展
  - C. 神学在西欧得到广泛宣传
  - D. 刻画人物为主，体现人的个性
22. (1.5分) 处死查理一世无疑是“革命”，但是经过“光荣革命”的“反革命”，英国用宪政框架吸纳革命原则，成就了代表资本主义发展方向的近代宪政体制。资产阶级与王权之间达成了王权接受限制的持续妥协，维护了英国持久稳定的法治与和平。与此相符的推论是 ( )
- A. “光荣革命”是历史的倒退
  - B. 宪政体制下国王与议会分权制衡
  - C. 内阁制是英国宪政的核心
  - D. 国王“统而不治”是相互妥协的结果，结果证明妥协是一种智慧
23. (1.5分) 历史陈述有时带有感情色彩，据此判断，北美人民关于独立战争带有强烈的感情色彩陈述的是 ( )
- A. 《独立宣言》发表
  - B. 来克星顿枪声
  - C. 华盛顿出任总司令
  - D. 萨拉托加大捷
24. (1.5分) 有学者认为，“在树立法国的国际威望方面，《人权宣言》所起的作用胜过了法国军队所打的一切胜仗”。这主要是因为它 ( )
- A. 超越了英国的《权利法案》
  - B. 克服了美国《独立宣言》的局限性

C. 是法国大革命的纲领性文件

D. 对民主思想传播起到了巨大的推动作用

25. (1.5分) “先后解放了哥伦比亚、委内瑞拉和厄瓜多尔等地，成立了大哥伦比亚共和国，当选总统后，他继续领导南美的独立战争。”他和圣马丁被誉为南美的“解放者”，他是( )

A. 章西女王

B. 华盛顿

C. 玻利瓦尔

D. 哥伦布

26. (1.5分) 1863年11月林肯在著名的葛底斯堡演说中誓言：“要使民有、民治、民享的政府永世长存”，为实现此目标，他当时的首要任务是( )

A. 制定宪法巩固独立战争成果

B. 积极进行第二次工业革命

C. 结束南北战争维护国家统一

D. 颁布《解放黑人奴隶宣言》

27. (1.5分) 如图这幅国际政治漫画的“?”处，应填写的文字是( )



A. 凡尔登绞肉机

B. 萨拉热窝事件

C. 慕尼黑之阴谋

D. 古巴导弹危机

28. (1.5分) 如图为甘地在不合作运动中手工纺线，这是为了倡导( )



A. 拒绝在殖民地政府和法院工作

B. 拒绝在英国学校读书

C. 用手工制品去抵制英国商品





D. 拒绝纳税

29. (1.5分) 统计图表能帮助我们分析历史。从下表中我们可以通过分析得出的结论有 ( )

项目	参战国 (个)	卷入人口 (亿)	参战人员 (亿)	伤亡人员 (亿)	直接经济损失 (亿美元)
第一次世界大战	90多	15	0.7	0.3	1805
第二次世界大战	60多	20	1.1	1.9	40000

- ①战争是人类的浩劫
- ②两次战争引起了世界的剧烈震荡
- ③两次战争都是正义与邪恶的较量
- ④和平事关各国人民的福祉。

A. ①②③      B. ③④      C. ①②④      D. ②③④

30. (1.5分) 有人这样评价“当今世界，巨人林立，美国是萎缩的巨人，日本是独脚巨人，俄罗斯是生病的巨人，欧洲是缺乏凝聚力的巨人，中国是潜在的巨人。”如果说这一评论具有一定的针对性和概括性，那么当今世界的政治格局的基本特点是 ( )

- A. 世界多极化格局最终形成
- B. 世界格局的多极化趋势正在发展之中
- C. 美、日、欧、俄、中共同主宰世界
- D. 世界格局呈现出和谐发展的良好局面

二、材料分析题 (共 45 分)

31. (14分) 变革·借鉴·发展

材料一：







图 1



图 2

材料二：

商鞅 变法	奖励军功，按军功授予爵位并赏赐土地
	奖励耕织，生产粮食、布帛多的人免除徭役
	设立县制，由国君任命官吏治理

(1) 依据材料一，说出从图 1 到图 2 发生的变化，材料二与这一变化有何关联？

材料三：自契丹取燕蓟以北，拓跋（党项）自得灵夏以西，其间所生英豪，皆为其用。得中国土地，役中国人力，称中国位号，仿中国官属，任中国贤才，读中国书刊，用中国车服，行中国法令。是二敌（辽、西夏）所为，皆与中国等。

- - 李焘：《续资治通鉴长编》

(2) 概括材料三的观点。

材料四：14 世纪中叶后，（西欧地区）领主出租直领地，靠租金生活，一些富裕的农民靠承租和购买领主的土地，或者转租和购买佃户的土地，将土地集中起来，雇佣少地或者无地的农民耕种，将产品推向市场，将剩余的产品销往更远的地方。在手工业中，商人提供原料和生产工具，工人成为完全出卖劳动力的雇佣劳动者，形成了彻底的雇佣关系，雇工分工合作，进一步提高了生产效率。工场所有产品都销往市场。

- - 摘编自百度百科

(3) 根据材料四及所学知识，当时西欧经济出现了什么新变化？这种变化产生了什么积极影响？

材料五：19 世纪中期俄国和日本改革的部分内容

俄国	日本
俄国仍在农奴制的束缚下，克里米亚战争中俄国被英法联军打败。1861 年，沙皇亚历山大	日本仍处在小农经济的封建社会，并且陷入半殖民地的危机中。明治天皇执政后，废除传统

二世签署了废除农奴制的法令，规定农奴在法律上有人身自由，可以改变身份，有权选择职业和拥有财产。地主不得买卖农奴，干预农奴生活。为俄国资本主义的发展提供了有利的条件。	时代的“士、农、工、商”身份制度，将从事农工商职业和贱民一律称为“平民”，实现了形式上的“四民”平等，允许居住、迁徙、择业、婚姻等自由，推动了日本社会的进步。
--	---

(4) 依据材料五，概括俄国和日本这项改革内容的相同点。

材料六：

①	1980年	中央决定兴办深圳、珠海、汕头、厦门4个经济特区
②	1985年	把长江三角洲、珠江三角洲和闽南三角地区开辟为沿海经济开放区
③	1990年	上海浦东开发区建立
④	1999年	开放重庆、武汉等沿江城市，满洲里等陆地边境城市和昆明、乌鲁木齐等内地省会和自治区首府
⑤	2001年	中国加入世界贸易组织
⑥	2013年	提出建设“新丝绸之路经济带”和“21世纪海上丝绸之路”的合作倡议； 倡议筹建亚洲基础设施投资银行
⑦	2018年	首届中国国际进口博览会举行

(5) 依据材料六回答以下问题：

A. 材料六的主题是：\_\_\_\_\_

B. 重在通过放权、让利、减税来培育市场经济因素的有：\_\_\_\_\_（填序号即可）

C. 体现引进外资和对外投资并举、鼓励出口和增加进口并重的有：\_\_\_\_\_（填序号即可）

32. （10分）发展经济是事关国计民生的重要问题。阅读材料，回答有关问题。

材料一：

皇帝	措施	内容	作用
汉武帝	经济	把铸币权①，统一铸造五铢钱； 实行②，国家控制生产和销售。	增加了财政税收，加强了中央集权，巩固了统一。



(1) 依据所学知识将材料一的表格补充完整。

材料二：唐太宗在位 20 多年，开创了唐朝的盛世局面。他广纳贤才，知人善任，当时朝中人才济济。他减轻人民的劳役负担，鼓励发展农业生产。在政治上，他推行了一系列革新措施。唐玄宗即位后励精图治，重用贤能，实行了一系列改革。他发展经济，改革税制，使经济繁荣，国库充盈，民众生活安定。他在位的前期，唐朝的国力达到前所未有的强大，进入了鼎盛时期。

- - 摘编自齐世荣总主编《中国历史》

(2) 依据材料二，归纳“盛世”和“鼎盛”出现的共同原因。

材料三：工业革命的发展使社会具备了提倡个人的自由发展和独立生存权利的经济基础，人口增长出现了明显变化。在工业革命时期后的 50 年人口更是加速增长，几乎增长了一倍。威廉姆斯用“人口爆炸”来形容 19 世纪英国人口的增长。英国工业革命时期引起死亡的疾病、瘟疫、饥荒、地方性战争有所减少，人口增长至少是出生率和死亡率共同作用的结果。

- - 摘编自舒小昀著《欧洲的历史与文明》

(3) 工业革命为什么会促进人口增长？根据材料三谈谈你的理解。

材料四：社会保障制度起源于 19 世纪八十年代俾斯麦执政时期的德国。当时的德国，随着工业化的发展，由于种种原因，资本家和工人的矛盾已经激化到一触即发的状态。在这种情况下，俾斯麦被迫转向了软化工人与调和阶级对立的政策。在德皇威廉一世的支持下，帝国议会通过了法令，先后于 1880 年、1884 年和 1889 年颁布了《疾病保险法》、《工伤保险法》和《老年保险法》三项法案。其后，各资本主义国家陆续予以仿效。而社会保障制度真正全面建立和发展是在美国罗斯福总统实行新政时期。这与本世纪二十、三十年代经济大萧条，以及凯恩斯福利国家理论的诞生是分不开的。

- - 王梅《发达国家社会保障制度的历史经验、教训和启示》

(4) 依据材料四并结合所学，对以下观点做出判断：正确的在括号内划“√”，错误的划“×”。

- ① 社会保障制度起源于德国。\_\_\_\_\_
- ② 社会保障制度全面建立是在美国罗斯福新政时期。\_\_\_\_\_
- ③ 社会保障制度本质上是慈善，无须立法。\_\_\_\_\_
- ④ 社会保障制度有助于缓解社会矛盾，保障大多数人的最低生活需要。\_\_\_\_\_

33. (13 分) 实现中华民族伟大复兴是近代以来中华民族最伟大的梦想。

材料一：

主题	运动	学习西方内容





救亡图存	①	器物
	戊戌变法	②
	辛亥革命	
	新文化运动	思想文化

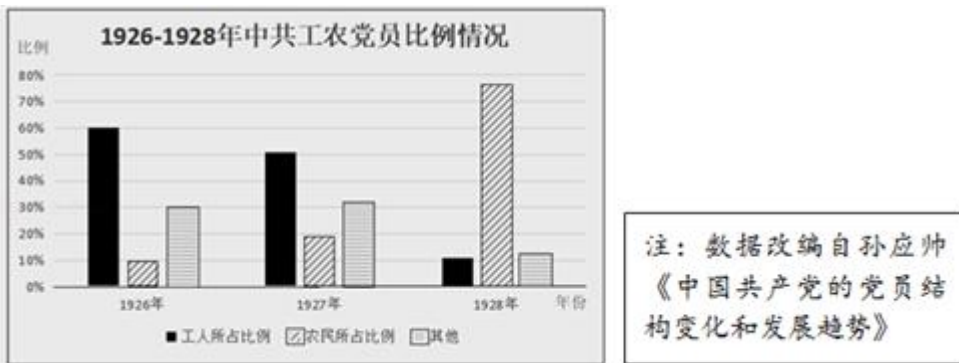
(1) 依据所学知识将材料一的表格补充完整。

材料二：在山河破碎、国家危亡、是非颠倒、民族蒙耻之际，中华民族淤积已久的爱国激情猛烈地迸发出来。以学生为先锋的民众运动在北京、上海、天津等大城市展开，并迅速蔓延到全国各大中城市。据统计，运动波及全国 20 多个省的 100 多个城市，处于抗争中心的山东、长期遭受日本侵略的东北和上海郊区等地的农民也参加了斗争。除少数亲日派当权者外，青年学生、知识分子、工人阶级、工商业者等几乎所有的城市居民都不同程度地卷入了五四运动的浪潮。

- - 李东朗《五四运动与民族意识的空前觉醒》

(2) 依据材料二归纳五四运动的特点。结合所学概括指出五四精神的核心内容。

材料三：



(3) 依据材料三概括中共工农党员比例的变化。结合所学分析其变化原因。

材料四：

史实①	史实②	史实③	史实④
1931年9月18	1936年12月12	1937年7月7日夜，日	1938年春，日军南北对

日，日本关东军炮轰东北军北大营，占领沈阳城。	日，张学良和杨虎城实行“兵谏”，扣押了蒋介石。	军悍然炮轰宛平县城和卢沟桥。中国守军第29军奋起抵抗。	进，夹击徐州。李宗仁指挥中国军队，血战临沂、滕县、台儿庄等地。
------------------------	-------------------------	-----------------------------	---------------------------------

(4) 从材料四记述的史实中任选其一（史实①除外），说出与之相关的历史事件及这一事件对于中国抗日战争的影响。（2分）

示例：史实①

相关事件：九一八事变

影响：是中国抗日战争的开始。

材料五：

	<p>1949年10月1日，北京30万军民聚集在天安门广场。下午3时，军乐队奏响国歌《义勇军进行曲》。在雄壮的国歌声中，毛泽东主席宣布：“中华人民共和国中央人民政府在今天成立了！”毛泽东按动电钮，第一面五星红旗在广场上冉冉升起。接着，毛主席在群众一阵又一阵的掌声中宣读中央人民政府的公告。随后举行了规模浩大的阅兵式和群众游行。</p>
--	---

(5) 指出材料五反映的历史事件。这一事件对中华民族而言有何意义？

34. (8分) 为进一步了解长城，某班同学准备开展长城主题活动，请你和他们一起参与。

材料一：

长城是中国古代用于防御的军事工程。长城的修建最早可追溯到西周时期，一直持续到明代。下表是他们整理的秦、汉、明三个时期的长城示意图及其修筑方法。

		
<p>秦长城：西起临洮，东到辽东，在秦、赵、燕三国长城的基础之上补筑、延伸，以夯土或石砌形成墙体。</p>	<p>汉长城：河西汉塞西段深入沙漠，墙体先以红柳、芦苇编成框架，中间实以砾石，层层叠压而成。</p>	<p>明长城：东起鸭绿江，西至嘉峪关，其中北京段长城，很多是沿着山脊修筑，有的甚至建在悬崖峭壁上，城墙里面夯土，外面用砖砌筑。</p>



(1) 请你根据上表，任选其一，分析指出这一时期长城的作用，说说长城的修建怎样体现了古人的智慧。

材料二：

		
1933 年，日军进攻长城一线，中国军队奋起抵抗，坚守长城。	1937 年秋，八路军战斗在古长城。	中国人民抗日战争暨世界反法西斯战争胜利 70 周年纪念活动标识

(2) 依据材料二并结合所学知识，谈谈长城的象征意义。

材料三：长城保护、利用的现状借用一句歌词形容，就是“让人欢喜让人忧”——近年来，在崇山峻岭之间、人迹罕至之处，一些坍塌或受损的长城正得到逐步修缮。然而，尽管政府采取种种措施加强对长城的保护和修缮，但是现状仍然不尽人意：一些长城缺少保护和修缮、险情不断；人们对长城的丰富性还欠缺认识，对长城的保护、开发和利用还存在一定的误区。

——国际在线：北京长城保护调查

(3) 长城保护和利用需要同学们的参与，请你提出一项助力长城保护和利用的行动建议。要求：紧扣长城保护和利用主题，切实可行；说出具体做法。

