



海淀区七年级练习

历史

2022.12

学校 _____ 班级 _____ 姓名 _____

考生须知	1. 本试卷共 8 页，共二部分，28 道题，满分 100 分，考试时间 60 分钟。 2. 在试卷和答题纸上准确填写学校名称、班级名称、姓名。 3. 答案一律填涂或书写在答题纸上，在试卷上作答无效。 4. 在答题纸上，选择题用 2B 铅笔作答，其余题用黑色字迹签字笔作答。 5. 考试结束，请将本试卷和答题纸一并交回。
-------------	--

第一部分

本部分共 24 题，每题 2 分，共 48 分。在每题列出的四个选项中，选出最符合题目要求的一项。

1. 考古发现是了解史前社会历史的重要依据。右图为山顶洞人遗址发现的项链，由兽骨和贝壳穿孔制成。此发现可以说明山顶洞人

- ①掌握钻孔技术 ②已经有了爱美意识
 - ③开始农耕生活 ④外貌与现代人接近
- A. ①② B. ①④
C. ②③ D. ③④



2. 某历史老师在介绍我国一处早期文化遗址时，提到“黄河流域”“粟”“半地穴式房屋”“彩陶”。请你判断此文化遗址是

- A. 元谋人遗址 B. 北京人遗址 C. 河姆渡遗址 D. 半坡遗址

3. 距今 4000 多年的陶寺遗址位于山西襄汾，该遗址的高级墓葬内发现了大量礼器，与绝大多数基本没有随葬品的小型墓葬形成鲜明对比。对以上考古发现认识正确的是

- A. 中国历史上第一个王朝诞生 B. 长江流域最早进入文明社会
C. 陶寺先民使用铁制生产工具 D. 私有制出现与阶级分化明显

4. 《礼记·礼运》载：“大道之行也，天下为公。选贤与能……是谓大同。今大道既隐，天下为家……是为小康。”在夏朝，体现“天下为家”的政治制度是

- A. 禅让制 B. 世袭制 C. 分封制 D. 郡县制

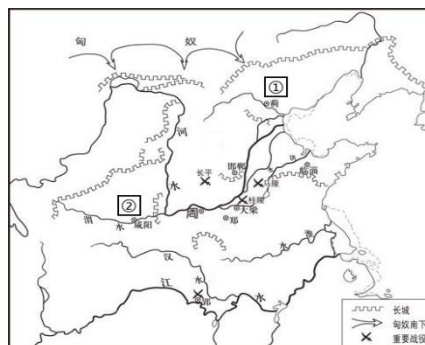
5. 某班级举办主题为“中国古代文明成就”图片展。下列图片应入选“商朝篇”的是



- ①龟甲卜辞 ②四羊方尊 ③司母戊鼎 ④曾侯乙编钟
- A. ①②③ B. ①②④ C. ①③④ D. ②③④



6. 右图中，①②分别是
- A. 燕国和齐国
 - B. 齐国和魏国
 - C. 燕国和秦国
 - D. 楚国和秦国



战国形势图

7. 考古工作者先后在山西、河南、河北等地发现了某一历史时期的铁质生产工具 185 件，其中农具 131 件。这一历史时期应是
- A. 炎黄时期
 - B. 夏商时期
 - C. 西周时期
 - D. 春秋战国

8. 右图是某书的部分目录。这部书是

- A. 《都江堰》
- B. 《秦长城》
- C. 《灵渠》
- D. 《翻车》

一、水利史上的奇迹
二、恼人的水患
三、郡守李冰
四、开凿宝瓶口

9. 《史记·商君列传》中记载，商鞅的新法“行之十年，秦民大悦，道不拾遗，山无盗贼，家给人足。民勇于公战，怯于私斗，乡邑大治”。这段叙述表明

- A. 商鞅变法的历史背景
- B. 商鞅变法的思想主张
- C. 商鞅变法的主要内容
- D. 变法后秦国的治理效果

10. 右图为某同学整理的“百家争鸣”的课堂笔记，其中①是

- A. “无为而治”
- B. “仁者爱人”
- C. “兼爱”“非攻”
- D. “民贵君轻”

学派	代表人物	主张
墨家	墨子	①
兵家	孙武	知彼知己，百战不殆
法家	韩非	以法治国

11. 《容斋随笔》曾谈到，与山东六国用人专用宗族不同，秦国任用的商鞅为卫国人，张仪、范雎是魏国人，吕不韦是韩国人、李斯是楚国人。以上材料反映出秦国

- A. 人心思定
- B. 骁勇善战
- C. 广纳贤才
- D. 墨守成规

12. 以下措施中与秦朝灭亡直接相关的有

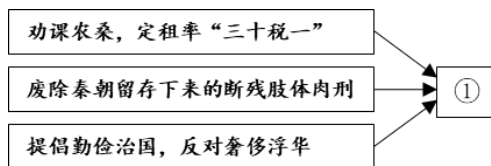
- ①法律严苛
 - ②滥用民力
 - ③“八王之乱”
 - ④赋役繁重
- A. ①②③
 - B. ①②④
 - C. ①③④
 - D. ②③④

13. “高祖兴、汉业建，至孝平、王莽篡。”高祖建的政权称西汉，文中被称作“高祖”的是

- A. 陈胜
- B. 吴广
- C. 刘邦
- D. 项羽

14. 示意图能够勾勒出史事之间的关系。以下对西汉初年史事梳理的示意图中，①处应为

- A. 文景之治
- B. 轻徭薄赋
- C. 盐铁官营
- D. 光武中兴



15. 西汉初年，诸侯王势力强大，有的公然对抗中央。汉武帝为解决该问题采取的措施是

- A. 创立皇帝制度 B. 焚书坑儒 C. 颁布“推恩令” D. 平抑物价

16. 145年，东汉梁太后与其兄长梁冀立刘缵为质帝。梁冀毒死质帝后，又扶持桓帝登基，并将自己另一个妹妹立为桓帝皇后。此后，梁冀大权独揽，百官升迁任免都要先到他家里谢恩。以上现象可以证明东汉时期

- A. 君主昏聩 B. 宦官干政 C. 外戚专权 D. 地方割据

17. 中国传统医学有着悠久的历史，在两汉时期已经发展到较高水平。以下史实能支持这一观点的是

- ①张仲景写成《伤寒杂病论》 ②华佗发明了“麻沸散”
③华佗创编“五禽戏” ④祖冲之创制《大明历》

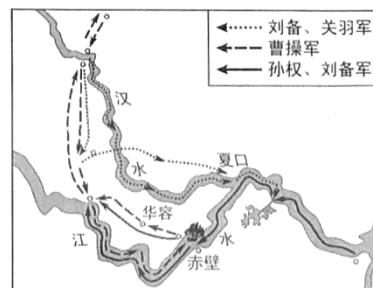
- A. ①②③ B. ①②④ C. ①③④ D. ②③④

18. 《后汉书·蔡伦传》载：“(蔡伦)用树肤(树皮)、麻头及蔽布、渔网以为纸……自是莫不从用焉，故天下咸称‘蔡侯纸’。”这一改进

- A. 发明了造纸方法 B. 损害了纸张质量
C. 简化了造纸流程 D. 降低了造纸成本

19. 如图所示，地图反映的历史事件的影响是

- A. 为曹操统一北方奠定基础
B. 为三国鼎立形成奠定基础
C. 三国鼎立的局面正式形成
D. 最终结束三国鼎立的局面



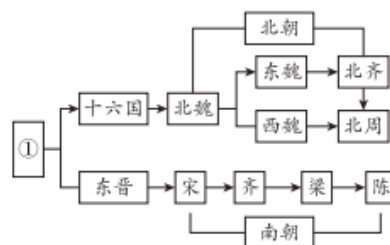
20. 以下史料可研究的主题是



- A. 土地所有制度的变迁 B. 国内商业贸易的往来
C. 农业生产工具的进步 D. 水利灌溉工程的修建

21. 右图是某同学制作的“中国古代朝代更迭示意图(局部)”，图中①对应的朝代是

- A. 西汉
B. 东汉
C. 曹魏
D. 西晋



22. 《魏书·高祖孝文帝纪》载：“(北魏孝文帝)雅好读书，手不释卷。五经之义，览之便讲……史传百家，无不该涉(涉猎)。”此记载反映了

- A. 百家争鸣局面出现 B. 鲜卑统治者崇尚汉族文化
C. 北方人口迁往江南 D. 西汉实行开明的民族政策

23. 东晋诗人谢灵运在《山居赋》中说，原来种植在北方的粟、豆等农作物和梨、枣等果树，这时也在南方种植了。出现此变化的原因是

- A. 原始农业在南方地区的兴起和发展
- B. 北民南迁，带去了新的农作物品种
- C. 魏晋以来，北方内迁民族学习农业技艺
- D. 东晋时期，南方手工业获得较大的发展

24. 北朝贾思勰在《齐民要术·种谷》中写道，“顺天时，量地利，则用力少而成功多”，如果“任情返道”则会“劳而无获”。这段材料中，作者旨在强调农业生产需要

- A. 注重工具创新
- B. 改良作物品种
- C. 因时因地制宜
- D. 适应市场需求



第二部分

本部分共 4 题，共 52 分。

25. (16 分) 国家治理

材料一 西周灭商后，控制的地域西起今甘肃东部，东达海滨，北起今辽宁，南达长江。在平定了一次严重的叛乱后，西周王室进行了大规模的“封藩建卫”：西周的统治者把统治的权力、权威和责任委任给属国，属国反过来效忠中央政府并向中央政府纳贡，提供军事支持。

——摘编自张岂之主编《中国历史·先秦卷》等

(1) 依据材料一并结合所学，完成西周政治制度的相关表格。(4 分)

制度名称 (2 分)	制度内容	制度影响 (2 分)
	西周王室给予属国： 把某地的土地和臣民授予某个诸侯，由诸侯管理当地的事务。 属国对周王的义务： 纳贡，提供军事支持。	

材料二 湖北云梦出土的秦简中，《语书》是秦国南郡行政长官腾于公元前 227 年发布的一道行政命令，写道：“凡良吏明法律令……恶吏不明法律令，不知事，不廉洁，无以佐上，偷惰疾事（指推脱事务），易口舌（搬弄是非），不羞辱，轻恶言而易病人（侮辱别人），无公端之心……”

——睡虎地秦墓竹简整理小组编《睡虎地秦墓竹简》

(2) 依据材料二，概括秦评判官吏优劣的标准。(4 分)



材料三 秦始皇二十八年（公元前 219 年）琅琊刻石“颂秦德”：“皇帝之功，勤劳本事。上农除末，黔首是富……器械一量，同书文字。”

(3) 材料三中反映了秦始皇哪些功绩？（4 分）

材料四 建元六年（公元前 135），汉武帝启用好儒术的田蚡为丞相，“黜黄老、刑名百家之言，延文学儒者以百数”。儒家学者董仲舒、公孙弘等都很受汉武帝赏识，公孙弘曾担任丞相并封侯，“天下学士靡然向风矣”。

——摘编自张传玺主编《中华文明史》第二卷

(4) 材料四反映了汉武帝的什么政策？该政策产生了哪些影响？（4 分）



26. (22 分) 民族交往交流交融


材料一 春秋时期，各大国与邻近的少数族部落方国发生战争，与夷狄各部之间的通婚现象也很普遍，于是，进入中原的戎狄诸部与华夏族融合起来。此外，本来属于“四夷”的秦、楚等国，不断吸收中原华夏文明成果，融入华夏族并被中原各国所认同。战国时，不断扩大的华夏族形成了强烈的认同感，为秦汉“天下为一”的大一统格局奠定了基础。

——摘编自 田旭东、周苏平《春秋》等

(1) 依据材料一，指出春秋战国时期增强华夏认同的途径，（4 分）概括华夏认同产生的历史影响。（2 分）



材料二

①	<p>自敦煌西至盐泽, 往往起亭, 而轮台、渠犂皆有田卒数百人, 置使者校尉领护。 ——《汉书·西域传》</p> <p>【译文: 从敦煌到盐泽(今罗布泊)之间, 不仅设置亭堡, 还在轮台(今新疆轮台)和渠犂(今新疆库尔勒)等处屯田, 设置使者校尉, 保护汉与西域的交通要道。】</p>
②	 <p>【说明: 20世纪90年代出土于甘肃敦煌的汉代悬泉置遗址, 留下了该驿站与西域屯田官之间物资、文书传递的记载。】</p> <p>悬泉汉简</p>

(2) 依据材料二中的历史信息, 你可以得出什么历史结论? (4分)



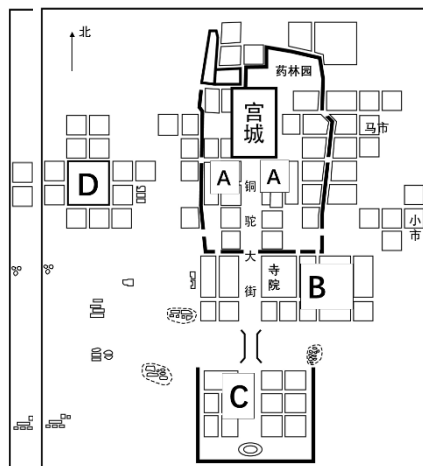
材料三 公元前119年, 西汉军队打败匈奴后, 在西北地区开沟渠, “置田官”, 利用军队进行屯田。之后, 又迁徙居民充实边疆, 屯田垦荒。屯田不仅解决了西域军队的粮饷, 而且使西域很多地方成为“田地肥广、草木饶衍”的垦区。公元前60年, 西汉政府在西域设置西域都护, “屯田校尉始属都护”, 屯田事务由西域都护管理。

——摘编自刘永强《两汉西域经济研究》等

(3) 依据材料三, 概括西汉屯田的措施, (4分) 分析其影响。(2分)

材料四 公元493年，北魏孝文帝迁都洛阳。重建的洛阳将宫城位于城市北部中央位置，南向全城。由宫城正南门往南延伸的是全城南北主轴铜驼大街，两旁分布太尉府、御史台等高级官署，明堂、太学（传授儒家经典的最高学府）位于城南。全城最南端是外商贸易和居住之所。

——摘编自薛凤旋《中国城市及其文明的演变》等



北魏时期洛阳城平面示意图

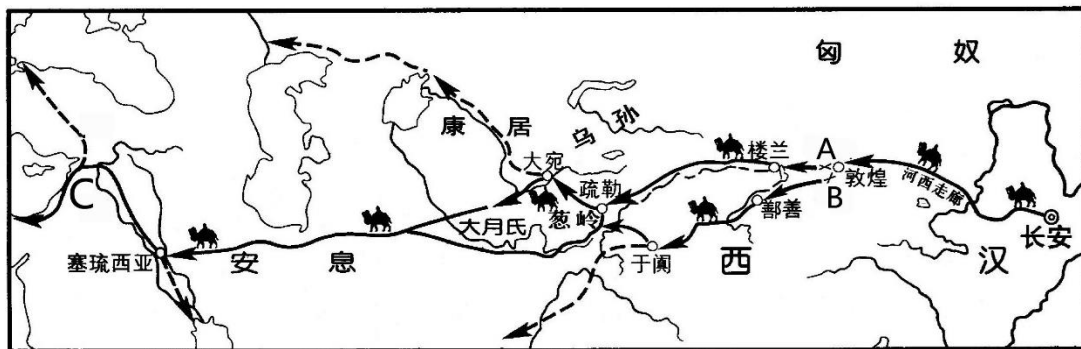
(4) 经过孝文帝时期的改革，洛阳重现繁华。观察“北魏时期洛阳城平面示意图”，其中中央监察官员办公的场所应位于图中_____区域。（填写选项即可，2分）

(5) 依据材料四，指出北魏统治者学习中原文化的领域及具体表现。（4分）

领域	表现
	设置太尉府、御史台等官僚机构
思想文化	

27. (4分) 中外文明的交流

丝绸之路是古代中国与世界其他地区进行经济文化交流交往的通道，最早开辟于秦汉时期。



丝绸之路示意图

(1) 公元前138年、公元前119年，____两次奉命出使西域，为丝绸之路的开通作出巨大贡献。

(2) 汉朝把A和B以西，包括今新疆和中亚以至更远的广大地区称为西域。

其中A是____；B是____。C是欧洲古国____，即古代罗马。



28. (10分)《史记》

材料一

	部分内容
十二本纪	①《夏本纪》②《秦始皇本纪》③《周本纪》④《殷本纪》
十表	《十二诸侯年表》《汉兴以来将相名臣年表》
八书	《礼书》《乐书》《律书》
三十世家	《齐太公世家》《孔子世家》《陈涉世家》
七十列传	《老子韩非列传》《廉颇蔺相如列传》《蒙恬列传》《卫(青)将军骠骑列传》

(1) 依据材料一，写出《史记》是_____体通史。(2分)将材料一中的四部本纪按时序排列。(写序号，2分)

(2) 从世家、列传中任选一位历史人物进行介绍。(仿照示例完成，陈涉除外，2分)

【示例】陈涉(胜)，陈涉和吴广领导了大泽乡起义，他是中国历史上第一次农民大起义的领导者。

材料二 司马迁用十多年的时间写出了历史巨著《史记》。西汉前期《春秋》《尚书》等文化书籍不断积累并发展。司马迁在主持文化典籍的整理工作中，得以阅读这类图书。到汉武帝时，中央集权的加强，使西汉进入了强盛时代。而自文景之世开明政治的流风余韵，到司马迁述史，汉武帝也未予干涉，这也成就了其敢于直言，实录史事，最终成一家之言。
——摘编自张大可《〈史记〉导读十讲》

(3) 依据材料二，概括《史记》成书的条件。(4分)

