



北京市平谷区 2021 年中考试统一练习 (一)

历史试卷

2021.4

注意事项

1. 本试卷共 10 页, 包括两部分, 24 道小题, 满分 70 分。考试时间 70 分钟。
2. 在答题卡上准确填写学校名称、班级、姓名和准考证号。
3. 试题答案一律填涂或书写在答题卡上, 在试卷上作答无效。
4. 在答题卡上, 选择题用 2B 铅笔作答, 其他试题用黑色字迹签字笔作答。
5. 考试结束, 请将答题卡交回。

第一部分 选择题 (共 30 分)

单项选择题 (共 30 分, 每小题 1.5 分, 请将正确选项填涂在答题卡上)

1. 相传, 神农氏遍尝百草, 还“制耒耜, 教民农作”。这一传说反映了
 - A. 农业的起源
 - B. 手工业兴起
 - C. 商业的发展
 - D. 畜牧业繁荣
2. 《史记》记载: “武王……封功臣谋士, 而师尚父为首封。封尚父于营丘, 曰齐。封弟周公旦于曲阜, 曰鲁。封召公奭于燕。”这反映的是
 - A. 武王伐纣
 - B. 西周分封制
 - C. 春秋争霸
 - D. 战国七雄
3. 下列哪一幅图的水利工程, 使成都平原成为沃野, 被称为“天府之国”。




A. 灵渠



B. 大运河



C. 都江堰



D. 三峡大坝

4. 以下图片反映的主题是



采桑图



穿丝绸衣服的少数民族贵族



汉人牧马图



汉人胡食图 (吃羊肉串)

- A. 生产方式
 - B. 生活习俗
 - C. 文化交流
 - D. 民族交融
5. 唐朝时, 新科进士们在长安大雁塔上题写自己的姓名以作长久的纪念, 此举被称为“雁塔题名”。产生这些“新科进士”的选官制度是
 - A. 世袭制
 - B. 九品中正制
 - C. 三省六部制
 - D. 科举制

6. 农村稳则社会安, 农民富则国家盛, 农业丰则基础强, 而农业的根本出路则在科技创新。唐朝时创制的农业生产工具有




①



②



③



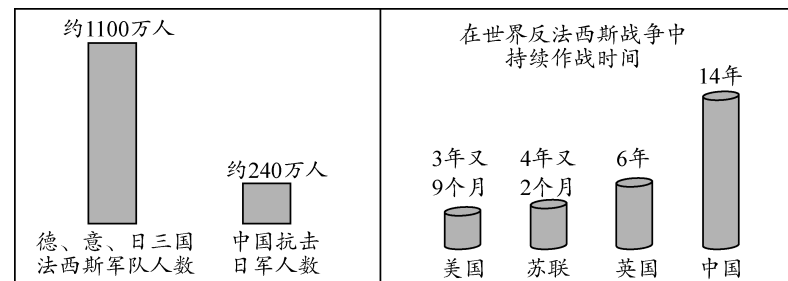
④

- A. ①②
 - B. ③④
 - C. ①④
 - D. ②③
7. 我国是统一的多民族国家, 始终在不断巩固和发展。下面表格内容能充分说明自古以来就是我国领土不可分割的一部分的是

时期	机构
西汉	西域都护
唐朝	安西都护府、北庭都护府
清朝	伊犁将军、行省

- A. 西藏
 - B. 库页岛
 - C. 新疆
 - D. 南海
8. 右图是新编《中国历史》第一单元的目录, 根据内容判断其单元主题应是
 - A. 近代化的探索
 - B. 资产阶级革命的开始
 - C. 中国开始沦为半殖民地半封建社会
 - D. 新民主主义革命的开始
 9. 这场运动是“中国旧民主主义革命走向新民主主义革命的转折点, 在近代以来中华民族追求民族独立和发展进步的历史进程中具有里程碑意义”。“这场运动”指的是
 - A. 太平天国运动
 - B. 义和团运动
 - C. 新文化运动
 - D. 五四运动
 10. 以下数据反映了中国在世界反法西斯战争中的情况, 这说明

第一单元	_____ ?
第1课	鸦片战争
第2课	第二次鸦片战争
第3课	太平天国运动



- A. 中国为世界反法西斯战争的胜利作出巨大贡献
- B. 抗日战争的胜利使得中国的国际地位极大提高
- C. 中国的抗日战争获得了世界上其他国家的支持
- D. 抗日战争扭转了中国近代反抗侵略的屡败局面



11. 1948 年底，我国著名的建筑学大师梁思成先生曾写信给中共中央，提出要尽可能地保护故宫、颐和园等北京古代建筑，避免战争对文物的损坏。这与当时正在进行的哪一战役有直接关系

- A. 辽沈战役 B. 淮海战役 C. 平津战役 D. 渡江战役

12. 下面图片为 1956 年 1 月拍摄的照片。它反映了当时我国进行的



天津盛锡福帽厂
挂牌仪式



工商界代表向党中央
和毛主席报喜

- A. 土地改革运动 B. 农业合作化运动
C. 全行业公私合营 D. “大跃进”运动

13. 下面一组图片反映的共同主题是



1954 年，周恩来访问
印度，受到印度总理
尼赫鲁的欢迎




出席第 26 届联合国
大会的中国代表
开怀大笑




中国代表签署中国
加入世界贸易组织
决定书

- A. 新中国的国防建设 B. 民族团结和祖国统一
C. 共和国的外交成就 D. 现代科技文化成就

14. 下图中文字所评价的历史人物是

 印第安人说：他把欧洲强盗带到了美洲，掠夺我们的财富，他是一个恶魔。

 欧洲人说：他把欧洲文明传到美洲，使落后的美洲走向文明，他是一个功臣。

- A. 迪亚士 B. 达·伽马 C. 哥伦布 D. 麦哲伦

15. 下表为李一涵同学在复习中总结的重大历史事件。据此判断，他复习的主题是

- 英国议会颁布《权利法案》
- 北美大陆会议发表《独立宣言》
- 法国颁布《人权宣言》



- A. 资本主义时代的曙光 B. 整体世界的形成
C. “蒸汽时代”的到来 D. 资本主义制度初步确立

16. 右图是某校历史兴趣小组围绕某一主题开展研究性学习所制作的卡片，下列选项中最合适的主题是

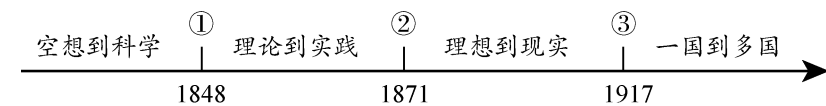
南美的解放者
印度民族大起义
非洲独立年
巴拿马收回运河主权

- A. 经济全球化趋势
B. 非洲殖民体系崩溃
C. 世界政治多极化趋势
D. 亚非拉国家民族独立运动

17. 2018 年 5 月 4 日，习近平总书记在马克思诞辰 200 周年纪念大会上讲话：“马克思是全世界无产阶级和劳动人民的革命导师，是马克思主义的主要创始人，是马克思主义政党的缔造者和国际共产主义的开创者，是近代以来最伟大的思想家……”那么，马克思主义诞生的标志是

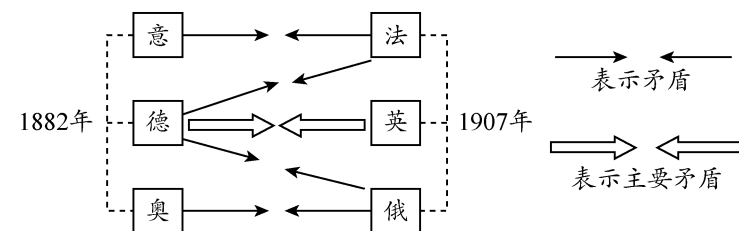
- A. 巴黎公社的建立 B. 俄国十月革命的胜利
C. 《共产党宣言》的发表 D. 中国共产党的诞生

18. 马克思主义诞生后，国际社会主义运动蓬勃发展，下面示意图中③处对应的历史事件是



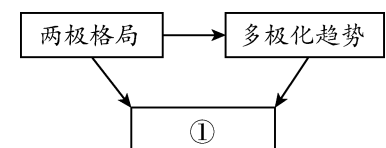
- A. 英国宪章运动 B. 《共产党宣言》发表
C. 法国巴黎公社 D. 俄国十月革命

19. 绘制历史示意图有助于从整体上理解历史。下面的示意图可以帮助我们学习



- A. 第一次世界大战的背景
B. 凡尔赛体系下蕴含的矛盾
C. 第二次世界大战的经过
D. 两极格局下的对抗和冲突

20. 示意图能够勾勒出史实之间的关系。右侧示意图中①处应为



- A. 国际关系格局演变
B. 经济全球化
C. 殖民体系的崩溃
D. 区域集团化





第二部分 综合题 (共 40 分)

21. (12 分) 制度构建和政策实行都反映时代特色

材料一 中国作为一个多民族的统一的大国……在世界历史中，特别是与其他古国相比，是一个十分罕见的现象。这其中有地理的、经济的、思想文化的等多方面原因。除此之外，中国秦至清几千年来政治制度，也是这个多民族的千年古国得以始终维持统一的重要原因。

——张岂之《中国历史十五讲》

(1) 材料一中“中国秦至清几千年来政治制度”主要是指什么？并结合所学知识，指出该制度在秦朝时的具体表现。(2 分)

材料二 中国社会主义民主政治的基本内容

制度	影响
A _____	是我国的根本政治制度，为社会主义民主政治建设奠定了基础，昭示着中华人民共和国的最高权力属于人民。
B _____	成为各民主党派、无党派爱国人士参政议政的舞台，调动了民主人士参政议政的热情，开创了群策群力、共同建设国家的新局面。
C _____	实现了少数民族自己当家做主的愿望，保证了祖国统一和民族团结，促进了民族地区经济发展和社会进步。

(2) 根据材料二，依次写出表格中 A、B、C 所代表的制度名称。综合以上材料，概括人类政治文明的发展趋势。(4 分)

材料三 1945 年，《新华日报》发表了题为《民主巨星的陨落……悼罗斯福总统之丧》的社论，称“他在 1932 年初步当选总统的时候，正在 1929 年美国空前的恐慌之后，他用大无畏的精神推行新政，他用提高人民生活水平、扩大人民购买力的政策来代替了帝国主义的对外经济掠夺，使美国度过了危机，安定了国民生活。”

——黄安年《关于罗斯福新政的评价》

(3) 罗斯福为“提高人民生活水平”采取的中心措施是什么？(1 分) 新政为资本主义发展提供的成功经验是什么？(1 分)

材料四 毛主席领导中国工农红军上井冈山，建立农村革命根据地，开创了农村包围城市，武装夺取政权的道路，领导中国站起来；十一届三中全会后，邓小平领导中国人民进行改革开放，从农村到城市，从沿海到内陆，中国发生了翻天覆地的变化，使中国富起来；十九大上提出“不忘初心，牢记使命，高举中国特色社会主义伟

大旗帜，决胜全面建成小康社会，夺取新时代中国特色社会主义伟大胜利，为实现中华民族伟大复兴的中国梦不懈努力”，在习总书记带领下，中国在国际事务上不断发挥着举足轻重的作用，使中国强起来。

(4) 依据材料四结合所学，列举中国发展历经站起来、富起来、强起来三个重要阶段的事例。并说说你认为中华民族伟大复兴之路将如何更好的继续？(4 分)

22. (10 分) 国家政策与国计民生

材料一



昔之东南，不能当宋一路，而今之东南，胜过昔之中原。

——[南宋]章如愚
《群书考索》

(1) 依据材料结合所学，说出上图所示历史时期农业、手工业和商业的分布特点及其原因。(3 分)

材料二

政治	“废藩置县”，加强中央集权
经济	允许土地买卖，引进西方技术，鼓励发展近代工业
社会生活	提倡“文明开化”，即向欧美学习，努力发展教育
军事	实行征兵制，建立近代化军队

明治维新成为日本历史上的重大转折点。通过明治维新，日本迅速走上了发展资本主义的道路，实现了富国强兵开始跻身于资本主义强国之列，但是日本的改革保留了大量旧制度的残余，军国主义色彩浓厚，他强大起来后，很快走上了对外侵略扩张的道路。

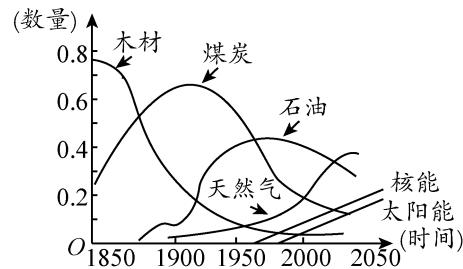
——九下《世界史》

(2) 依据材料，结合所学知识，从立足亚洲看日本，说明“明治维新的成功是亚洲之幸，也是亚洲之不幸”。(2 分)





材料三

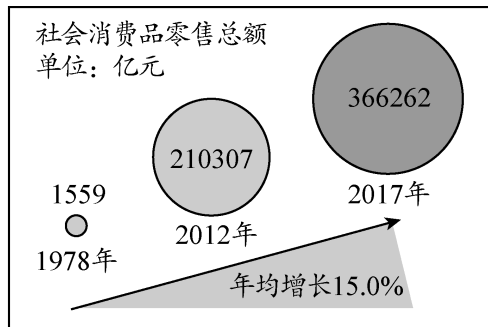
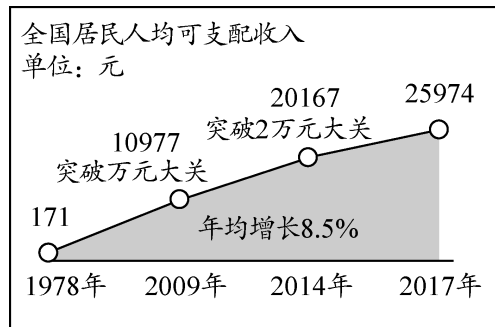


在第二次工业革命期间，几乎没有
有什么工业部门未曾受到科学新发现的影
响。在19世纪，自然科学特别是热力学、
电磁学、化学等方面的新发展，开始与
工业生产紧密地结合起来，在技术上取
得一系列重大的突破，并带动了相应
的许多新兴工业部门的兴起。
——吴于廑、齐世荣
《世界史·近代史编》

19世纪中期以来世界能源消费趋势

(3) 依据材料三，指出第二次工业革命期间出现的新能源。(2分) 归纳第二次工业革命的特点。(1分)

材料四



(4) 从上述材料中，你能获得哪些历史信息？(2分)

23. (8分) 在人类历史发展的长河中，东西方文化各放异彩，并相互交流，交相辉映。阅读材料，探究问题。

【探究一】中国古代的文化成果

材料一



图1 刻有文字的甲骨




图2 后世流传的一种《论语》版本(书影)




图3 造纸工艺流程想象图(局部)

(1) 就史料的来源来看，材料一中可信度最高的是哪一个？(写出图片编号即可) (1分)
在材料一中任选一幅图片，分别说明其对应的文化成果的价值。(1分)

【探究二】西方文艺复兴时期的文化成果

材料二 我不想变成上帝，或者居住在永恒之中……我自己是凡人，我只要求凡人的幸福。

——彼特拉克

(2) 材料二反映出的核心思想是什么？对当时社会有什么影响？(2分)

【探究三】东西方文明交流互鉴

材料三 西汉时，人们已经懂得了造纸的基本方法，东汉时，蔡伦改进造纸术。阿拉伯人将中国的造纸术传入欧洲，世界各国的造纸术也大都是从中国辗转流传过去的。

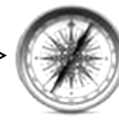
唐朝时，中国已发明了火药。中国的火药在13世纪传入阿拉伯地区，14世纪初又经阿拉伯人传到欧洲。

——摘编自统编教材《中国历史》

材料四



北宋缕悬法指南针



近代欧洲指南针



泥活字



德国谷登堡改进印刷术

(3) 依据材料三和材料四，说出这些发明传播的特点。(2分)

材料五 中国古代曾积极同世界各国交流：汉朝有这样一条路，沿着这条路，东方的丝织品及冶铁等技术相继传至欧洲，西方的汗血马、音乐等也纷纷东来；唐朝有这样一群人，他们历经艰难把域外文化带入唐土，又矢志不渝把盛唐文化传播四方……

(4) 材料中的“这条路”的名称是什么？(1分) 依据材料说出“这条路”有何作用？(1分)





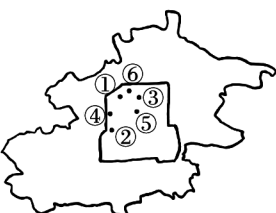
24. (10分) 爱我北京, 爱我中华

材料一 1920年春至1924年1月, 李大钊在石驸马大街后宅35号北院(今西城区文华胡同24号)居住将近四年。同学们在参观了其故居后, 整理出以下资料。

时间	主要事迹
1919年	在《新青年》上发表《我的马克思主义观》一文, 对马克思主义作了较为系统的介绍
1920年	3月, 在北京大学组织中国第一个马克思学说研究会。9月, 发起成立了北京共产主义小组
1921年	1月, 长辛店劳动补习学校正式开学, 多次到学校为工人讲课。中共一大后, 代表党中央负责指导、领导北方地区党的工作和工人运动
1922年 1923年	多次与孙中山见面, 开始从事国共合作的统战工作, 积极帮助孙中山改组国民党, 同时准备国民党第一次全国代表大会的工作
1924年	1月, 出席了国民党第一次全国代表大会, 当选为国民党中央执委会委员

(1) 阅读材料一, 结合所学说出李大钊对中国革命作出的贡献。(3分)

材料二



北京部分名人故居位置示意图

考察笔记

序号	故居	成就
①	恭王府	1862年, 奕訢组织开办清末最早的洋务学堂——京师同文馆。
②	李大钊故居	《我的马克思主义观》, 1919年发表于《新青年》杂志。
③	张之洞故居	1890年, 开办汉阳铁厂。
④	鲁迅故居	著有白话小说《狂人日记》, 无情批判吃人的封建礼教。
⑤	胡适故居	《文学改良刍议》, 1917年发表于《新青年》杂志。
⑥	蔡元培纪念馆	创作了《愚公移山》这一巨作。

(2) 依据材料二, 仿照示例, 从以下主题中任选一个, 并选取两个相关考察地点, 说明考察地点与主题的关系。(4分)

主题1: 近代文学艺术; 主题2: 新文化运动; 主题3: 洋务运动

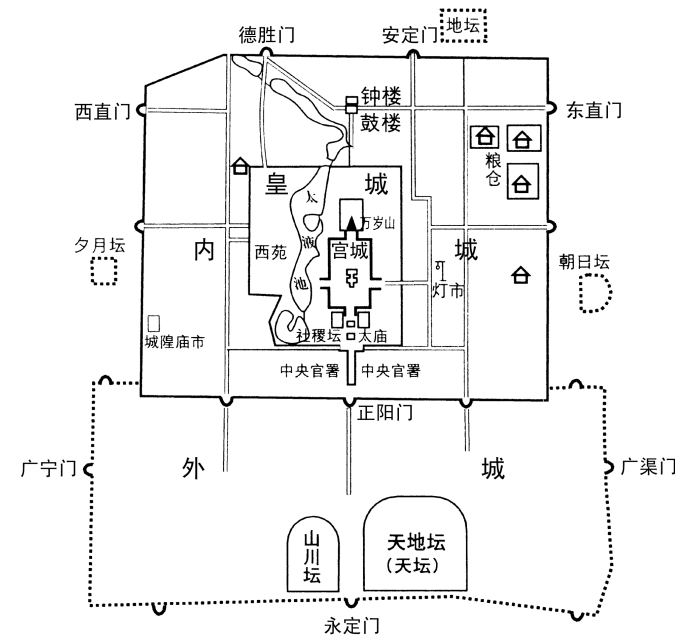
示例:

主题	考察地点	关系说明
近代文学艺术	④⑥	体现近代时代主题, 唤醒民族觉醒。

主题	考察地点	关系说明

材料三 明北京城是在元大都的基础上改建的。外城包着内城, 内城包着皇城, 皇城包着宫城。宫城又叫紫禁城。皇帝居住的紫禁城是全市的中心。整个规划出自于《周礼》“王者必据于中”, 从外城南门永定门直至钟鼓楼, 构成长达8公里的中轴线, 沿轴线布置了牌坊、华表、桥梁等, 辅以两边的殿堂, 更加强了宫殿庄严气氛, 显示了封建帝王至高无上的权势。

——摘编自《中西建筑艺术比较》



(3) 读图说出北京城的核心建筑是什么? 依据材料三, 说出明代北京城市布局特点及体现的政治理念?(3分)

