

学校\_\_\_\_\_ 班级\_\_\_\_\_ 姓名\_\_\_\_\_ 教育 ID 号\_\_\_\_\_

考  
生  
须  
知

1. 本试卷共 12 页，34 道小题，满分 90 分，考试时间为 90 分钟。
2. 在试卷和答题卡上准确填写学校、班级、姓名和教育 ID 号。
3. 试题答案一律填涂或书写在答题卡上，在试卷上作答无效。
4. 在答题卡上，选择题用 2B 铅笔作答，其他试题用黑色字迹签字笔作答。
5. 考试结束，将本试卷、答题卡一并交回。

一、选择题(共 30 小题，每小题 1.5 分，共 45 分。在下列各题的四个选项中，只有一项符合题意)

1. 下面所述关于北京人的考古发现，能够证明

在北京猿人遗址发现的厚达 6 米的灰烬堆积层中，有尚未充分燃烧的朴树籽、紫荆等木块，这一发现揭示了北京猿人在每次用火后，即将一些正在燃烧的朴树籽和树木枝干从火中取出，再埋入灰烬中，当需要再次用火时，就能重新燃起明火。

- A. 北京人最早学会了使用火                      B. 北京人可以用火烧制陶器
- C. 北京人已发展到定居生活                      D. 北京人会长时间保存火种

2. 殷墟甲骨卜辞中有记载：“王乍(作)三𠄎(师):左、中、右”“王其以众合右旅”。这些记述让我们得以了解

- A. 商朝军队作战以车战为主                      B. 商王朝军队具有相当规模
- C. 商王朝军队兵器种类多样                      D. 商朝对百姓征收繁重赋税

3. 到四川成都旅游的人多选择去右图所示景区游览，主要因为它

- ①历史悠久
- ②沟通了湘江和漓江
- ③是世界著名水利工程
- ④建成至今仍发挥巨大作用



- A. ①②③                      B. ①②④                      C. ①③④                      D. ②③④

4. 下列著作中以纪传体记述了从传说中的黄帝到汉武帝时期的史事，有后世学者评价其“辞约而事举，叙三千年事唯五十万言”。它是



A



B



C



D

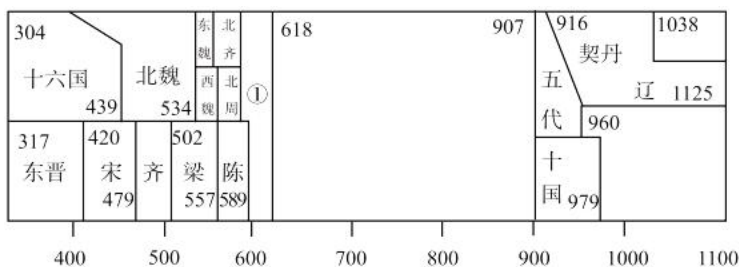
5. 右面《魏书·高祖孝文帝纪》所记载内容反映了北魏孝文帝即位后

- A. 统一北方
- B. 推行汉化政策
- C. 迁都洛阳
- D. 保持鲜卑习俗

\*太和十八年，革衣服之制  
 \*太和十九年，诏不得以北俗之语言于朝廷，若有违者，免所居官  
 \*太和二十年，诏改姓为元氏

6. 右面中国古代历史年表图(部分)中，关于①所代表朝代说法正确的是

- A. 结束了自西汉以来政权分立局面
- B. 隋文帝时开凿贯通南北的大运河
- C. 隋炀帝下令由中央统一铸五铢钱
- D. 为唐朝的繁荣盛世局面奠定基础



7. 唐诗是研究唐代历史的宝贵史料。下列诗句中直接描写了标志唐朝国势由盛转衰的重大历史事件的是

- A. 明年十月东都破，御路犹存禄山过
- B. 春风得意马蹄疾，一日看尽长安花
- C. 忆昔开元全盛日，小邑犹藏万家室
- D. 飞流直下三千尺，疑是银河落九天

8. 某班同学在学习北宋历史时提到了“文臣掌兵”“将不专兵”“兵无常帅”等问题。据此判断，他们讨论的主题是

- A. 赵匡胤陈桥驿发动兵变
- B. 北宋实行重文轻武政策
- C. 北宋地方财赋收归中央
- D. 北宋科学技术成就突出

9. 郑和先后七次奉命率船队出海远航，到达了东南亚、南亚、西亚直至东非地区的 30 多个国家。船队所到之处邀请各国前往朝贡，并就地进行交易。以上信息说明郑和下西洋

- ①增进中国与亚非国家和地区的友好往来
- ②发现了非洲大陆
- ③为人类航海事业作出伟大贡献
- ④抗击了中国东南沿海的倭寇

- A. ①②
- B. ③④
- C. ①③
- D. ②④

10. 明长城的修筑充分体现了中国古代劳动人民的聪明才智。右图中☆处是明长城最西端的关口，它是

- A. 嘉峪关
- B. 雁门关
- C. 居庸关



D. 山海关

11. 地名是历史文化的记录。在台湾彰化市有“国圣里”、南投县有“国姓乡”、台南市有“郡王里”。这些地名都是为了纪念 1662 年打败荷兰殖民者、收复台湾的民族英雄。他就是

- A. 戚继光                      B. 郑成功                      C. 陈化成                      D. 邓世昌

12. 这是鸦片战争中的重要战役之一，在战斗中广东水师提督关天培率清军顽强抵抗、身负重伤、壮烈殉国。这场战役是

- A. 虎门之战                      B. 定海之战  
C. 镇江之战                      D. 大沽口之战

13. 右面是历史老师为同学们推荐的一本中国近代历史参考书的目录(节选)，请为目录中的“第二节”选配一个恰当的标题，应该是

- A. 维新思想的出现                      B. 洋务运动的展开  
C. 民族危机的加深                      D. 共和革命的兴起

14 一百二十年前，一场波澜壮阔的反帝爱国运动使外国侵略者不禁感叹：“中国地土广阔民气坚劲……吾故谓瓜分之说，不啻梦呓也。”这场运动是

- A. 太平天国运动                      B. 义和团运动                      C. 戊戌变法                      D. 新文化运动

15. 下图是 1903 年《奏定学堂章程》颁布后。上海制定的《私塾改良应用书目表》，可见当时上海小学课程包括读经、国文、历史、地理、格致、算术等科目。以上信息反映了清政府

- A. 不断发展科举制度                      B. 推行近代新式教育  
C. 积极鼓励出国留学                      D. 强令革除社会陋俗

16. 毛泽东曾回忆说：“就是由于国民党搞白色恐怖……我们才拿起枪来，上山打游击。”下列事件标志着打响了武装反抗国民党反动统治第一枪的是

- A. 南昌起义                      B. 秋收起义                      C. 遵义会议                      D. 西安事变

17. 下面两幅图片信息所反映的历史事件是





“双十协定”签署地点

- A. 毛泽东转战陕北  
B. 粉碎国民党军全面进攻  
C. 千里挺进大别山  
D. 国共两党进行重庆谈判
18. 1951 年全国男女老少响应号召开展捐献飞机大炮运动。与此同时，全国许多工厂夜以继日地为志愿军生产军需物品、武器弹药，竭尽全力保障前线的物资供给。与这些史事紧密相关的历史事件
- A. 消灭了国民党军队的主力  
B. 开辟了中国历史的新纪元  
C. 巩固了新生的人民共和国  
D. 建立了社会主义基本制度
19. 以王进喜为代表的大庆石油工人。在油田开发最艰苦的时期，吃大苦、耐大劳，公而忘私、奋勇拼搏。创造了世界石油开发史上的奇迹。他们艰苦创业的年代处于
- A. 向社会主义过渡时期  
B. 全面建设社会主义时期  
C. “文化大革命”时期  
D. 改革开放新时期
20. 屠呦呦教授曾说：“中国中医有很多很好的东西，我们可以通过现代科研手段实现中西医结合，从而发现更多新药为人类健康服务。”秉承这一思想，她所取得的重大成就是
- A. 发现有效抵抗疟疾的青蒿素  
B. 成功培育出籼型杂交水稻  
C. 搜集整理少数民族古籍文献  
D. 人工合成了结晶牛胰岛素
21. 历史解释与陈述史实不同，它是对史实的分析或评判。下列选项中属于历史解释的是
- A. 12 世纪在法国巴黎出现了许多教会学校  
B. 12 世纪初法兰西琅城取得城市自治地位  
C. 14 世纪初佛罗伦萨有 200 多个手工工场  
D. 西欧中世纪以英国的租地农场最为典型
22. 关于拿破仑，下列各项因果关系搭配正确的是



- A. 发动政变组建新政府—得到欧洲君主的拥护
- B. 制定了《法国民法典》—维护法国大革命成果
- C. 改善财政和发展经济—导致政权垮台
- D. 远征俄国并取得胜利—完成加冕称帝

23. 19 世纪中期的英国充当了世界霸主。当时世界其他国家使用的纺织机械、铁路机械、蒸汽机和其他机器很多都是从英国进口的。这主要是因为英国

- A. 最早在美洲进行殖民掠夺
- B. 人口和国土面积占有优势
- C. 最先开始和完成工业革命
- D. 环境污染问题得到了重视

24. 右图是描绘日本明治维新时期社交场景的浮世绘。它反映了这一时期推行的的重要措施是

- A. 加强中央集权
- B. 实行“殖产兴业”
- C. 建立新式军队
- D. 提倡“文明开化”



25. 右面表格是 2020 年教育部发布的《中小学生阅读指导目录》的节选。第 73 本推荐书籍《自然哲学之数学原理》的作者是

- A. 爱因斯坦
- B. 居里夫人
- C. 牛顿
- D. 达尔文

序号	推荐学段	分类	图书名称
73	高中	自然科学	自然哲学之数学原理
74	高中	自然科学	狭义与广义相对论浅说
75	高中	自然科学	化学键的本质

26. 第一次世界大战沉重打击了西方殖民体系，推动了亚非拉民族民主运动的高涨。以下事件可作为史实依据的有

- ①印度非暴力不合作运动
- ②巴拿马收回运河区主权
- ③埃及的华夫脱运动
- ④墨西哥卡德纳斯改革

- A. ①②③
- B. ②③④
- C. ①②④
- D. ①③④

27. 海报作为大众宣传工具有助于我们了解重大历史事件。右面宣传画《1918 年 11 月 7 日，起来吧，劳动人民！》是为了纪念人类历史上第一次胜利的社会主义革命。由此判断纪念的是

- A. 巴黎公社
- B. 二月革命
- C. 十月革命
- D. 苏联成立



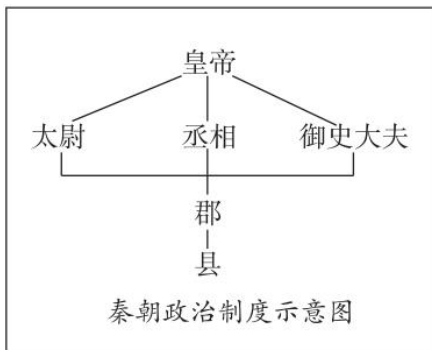


28. 《世界史·现代史编(下)》中写道：“……美国已决心彻底结束战时对苏合作政策。决定以武力为后盾，对苏采取强硬的方针，用武力以外的各种措施来‘遏制’苏联。”美国推行该政策开始于
- A. 丘吉尔“铁幕演说”  
 B. 杜鲁门主义出台  
 C. 马歇尔计划的提出  
 D. “北约”的成立
29. 1988年苏共第十九次代表大会首次提出“民主的和人道的社会主义”，这次会议标志苏联改革的重心由经济领域转向政治领域。这一时期担任苏联领导人的是
- A. 斯大林  
 B. 赫鲁晓夫  
 C. 勃列日涅夫  
 D. 戈尔巴乔夫
30. 1996年诺贝尔化学奖得主斯莫利在其晚年曾列出一份清单，内容包括：“能源、水、食品、环境、贫困、恐怖主义和战争、疾病、教育、民主、人口”等。据此判断这份清单所要表达的主题最为恰当的是
- A. 维护公平正义  
 B. 人类面临问题  
 C. 拓展生活空间  
 D. 经济的全球化

二、材料分析题(共4小题。31题12分，32题13分，33题10分，34题10分，共45分)

31. (12分)政治文明历程是历史学习的重要内容。

材料一



(1) 依据材料一，说出秦朝所创立的政治制度。结合秦朝地方行政制度说明秦朝政治制度对后世的影响。(2分)

材料二评价元朝行省制的历史作用，必须着眼于古代中央与地方权力结构的螺旋式发展过程，从形式上看行省制及其带来的中央集权模式来自蒙元统治者对帝国疆域军事控制的偶然行为，实际上，其背后又隐藏着古代中央与地方权力结构发展历程的必然抉择。

——《元代行省制度(下)》

(2) 依据材料二，归纳元朝实行行省制的历史背景。(2分)

(3) 依据所学，将下面近代英国、法国和美国推进民主政治进程部分成果表补充完整，并概括说明这三个国家资产阶级革命历史影响的共同点。(4分)

革命名称	领导人物	法律文献	政体形式
英国资产阶级革命	克伦威尔	《权利法案》	③
美国独立战争	①	《独立宣言》	共和制
法国大革命	罗伯斯庇尔	② (1791年宪法序言)	共和制

材料三 1919年5月18日,李大钊在《秘密外交和强盗世界》一文中指出.在这场斗争中,要把反对曹、陆、章这般卖国贼和反对整个卖国政府,推翻封建军阀统治结合起来;要把反对日本帝国主义侵略和反对所有侵略中国的帝国主义结合起来……他促使中国人民在这场革命运动中,进一步认清帝国主义的强盗面目和北洋军阀政府的卖国行径,推动了五四运动的深入发展。

—樊亚玲《李大钊北京十年》(思想篇)

(4)材料三反映了五四运动是怎样的一场运动?结合所学,指出这场运动在中国革命史中的标志性意义。(2分)

材料四刘少奇在对1954年《中华人民共和国宪法》基本内容的说明中指出:这个制度所以能够成为我国的适宜的政治制度,就是因为它能够便利人民行使自己的权力。能够便利人民群众经常经过这样的政治组织参加国家的管理,从而得以充分发挥人民群众的积极性和创造性。

—《中国共产党历史第二卷(1949-1978)上册》

(5)依据材料四,说出刘少奇所说“这个制度”指的是什么制度。结合所学,指出这一制度的确立有何重要作用。(2分)

### 32. (13分) 聚焦区域经济发展。

材料一经过自东吴以来至南朝刘宋时期二百余年南北人民的共同开发……三吴地区而言,当时生产的发展,已经赶上并局部地超过了北方,并在实际上形成了我国一个新的经济中心—江南经济区,这为隋唐以后我国经济重心的南移奠定了基础。

—赵常兴、安鲁《六朝移民与江南经济区的形成》

(1)依据材料一,概括自东吴至南朝江南地区的经济发展状况。(2分)

材料二

唐朝至南宋南北方户数变化表(单位:万户)

年代	唐朝天宝元年(742年)	北宋元丰三年(1080年)	南宋淳熙十四年(1187年)



地域			
北方	493	459	679
南方	257	830	1238

—摘自钱穆《国史大纲》

(2) 观察上表，唐朝中期至南宋南方户数发生了怎样的变化？结合所学，分析这一变化对南方经济的发展起到什么作用。(3分)

材料三德国的工业化进程落后于英国，但它以自己独特的方式走上了现代化道路。全民教育为德国培养了高素质的国民，大学给德国带来了创造和发明，智力成为这个国家最重要的资源。凭借这一资源，19世纪的德国引领了第二次工业革命，站在了世界科学技术发展的前沿。从1851年到1900年，在重大科技革新和发明创造方面，德国取得的成果达到202项，超过英法两国的总和，居世界第二位。直到今天，德国依然是世界上最重要的科技大国之一。

—摘自《大国崛起》解说词

(3) 依据材料三，简要说明德国走上现代化道路的“独特方式”。(2分)

材料四

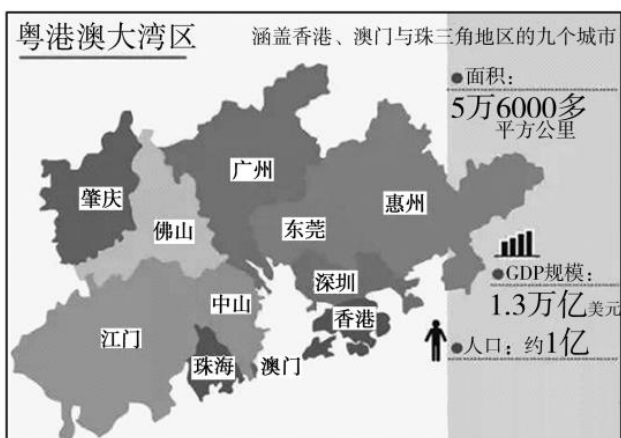


1899年张謇创办的大生纱厂在南通正式投产，之后得到迅猛发展，形成以其为母体拥有69个企事业单位的大生资本集团，对于南通地方工业的快速发展，乃至中国民族工业的发展起了推动作用。20余年间，张謇将南通这座闭塞的封建小县城建设成为蜚声国际的全国模范县。胡适先生称赞张謇是开路先锋，养活了几百万人，造福于一方，而影响及于全国。

(4) 依据材料四，指出张謇的救国主张。并说说看你对胡适先生称赞张謇“造福一方、影响及于全国”的理解。(3分)

材料五

1979年4月，习仲勋在中央工作会议上提出：“广东邻近港澳，华侨众多。应充分利用这个有利条件，积极开展对外经济技术交流。”





1980年8月，第五届全国人大会议批准在深圳设置经济特区，允许外国企业或个人以及华侨、港澳同胞进行投资活动。

2019年公布的《粤港澳大湾区发展规划纲要》中指出：粤港澳大湾区是我国开放程度最高、经济活力最强的区域之一，在国家发展大局中具有重要战略地位。

(5)依据材料五，归纳深圳作为我国最早的经济特区具有的地理人文优势。指出粤港澳大湾区在我国经济发展中的地位。(3分)

33. (10分) 文艺作品是社会生活的一面镜子，折射出社会的变迁。



### 材料一字里行间

小说集《人间喜剧》  
作者：A  
描绘了19世纪早期法国贵族衰亡、资本家发迹的社会面貌，批判了一切为了金钱的资本主义社会价值观。

小说《飘》  
作者：玛格丽特·米切尔  
描绘了林肯领导北方取得B的胜利，废除奴隶制后，美国南方地区奴隶主的安逸生活一去不复返。

油画《伏尔加河上的纤夫》  
作者：列宾  
描绘了俄国纤夫的苦难生活，揭示了1861年俄国C改革后，广大下层民众的生活没有根本改善的社会现实。

(1) 依据材料一并结合所学，将材料中的信息补充完整。从历史发展进程的角度说明这组文艺作品的创作背景有何共同之处。(4分)

### 材料二珍贵影像



雅尔塔会议三巨头合影

(1945年2月)

前排左：英国首相丘吉尔

前排中：美国总统罗斯福

前排右：苏联领导人斯大林

1945年1月底，希特勒的军队实际上已被压缩进他们的国境之内……我们的军事目的一旦达到后，为了将来的世界和平和有效的管理，三大同盟国能提供什么措施和组织？  
—丘吉尔《第二次世界大战回忆录》

(2) 依据材料二并结合所学，说出雅尔塔会议决定二战后成立的国际组织的名称。这一组织自成立以来，在国际事务中发挥着越来越重要的作用，其首要责任是什么？(2分)

### 材料三歌以咏志

序号	歌曲名称	创作背景
①	《义勇军进行曲》	诞生于1935年，当时中华民族正处于生死存亡的关头。对激励中国人民的

		爱国主义精神起了巨大作用，“一二·九”运动中，北平学生高唱此歌，掀起抗日救亡的热潮
②	《团结就是力量》	在1943年抗战最艰苦的时候，为配合敌后抗日根据地开展的减租减息运动而创作，号召各方团结起来、坚持抗战、争取胜利
③	《松花江上》	在日寇大举侵华的紧要关头，唱出了九一八事变后东北民众乃至全国人民的悲愤情怀，点燃了中华大地的抗日烽火
④	《保卫卢沟桥》	描述了七七事变中，中国军队奋起抵抗和全民族抗日救亡热情的高涨

(3) 依据材料三并结合所学，从②—④三首歌曲中任选一首。仿照示例说明与歌曲相关联事件的重要意义。(2分)

示例：①《义勇军进行曲》

事件意义：“一二·九”运动揭露了日本侵略者企图吞并华北的阴谋，打击了国民政府对日妥协的政策，促进了全国抗日救亡运动新高潮的到来。

材料四创意空间



2010年上海世界博览会开幕式文艺演出



2014年乌镇世界互联网大会会标



2022年北京冬奥会和冬残奥会吉祥物

(4) 结合所学，从国家发展的角度说出中国多次成功举办或成功申办国际盛会的主要原因。这些国际盛会的举办或即将举办，向世界展现了一个怎样的中国?(2分)



34. (10分)北京的名人故居、纪念馆是北京历史文化价值的缩影与见证。某社团以“探访北

京的名人故居”为主题，开展了综合社会实践活动。

**【走访参观】**



《红楼梦》最有价值的地方，一是它塑造了贾宝玉、林黛玉这两个封建叛逆者的形象，他们蔑视功名富贵、权势利禄，希望过自由的生活，得到情投意合的爱情，在他们身上体现着要求个性解放的新的思想萌芽。另一是它通过对封建家族荣、宁二府的腐朽没落的深刻描绘，预示了封建社会必然走向灭亡的命运。

——张仁忠《中国古代史》

(1)上述材料是同学们参观了曹雪芹纪念馆后整理的资料，请依据材料概括《红楼梦》的思想价值，并说出《红楼梦》在中外文学史上具有怎样的地位。(4分)

(2)请仿照示例，根据上面名录内容设计一组主题参观活动。(2分)

示例：	主题	参观的故居、纪念馆名称(至少填写两个)
	明清政治制度	于谦祠、纪晓岚故居

网上新闻报道:海淀区中关村科源社区“特楼”入选北京市公示的第一批历史建筑。“特楼”位于中科院宿舍区，许多新中国成立初期从海外归来的著名学者和在中国自然和人文各学科领域的知名科学家居住于此。

“特楼”科学家名录(部分)

人物	贡献
钱学森	世界著名科学家，空气动力学家，中国载人航天奠基人，被誉为“中国航天之父”“中国导弹之父”，为中国导弹、原子弹的发射向前推进了至少20年
贝时璋	我国细胞学、胚胎学的创始人之一中国生物物理学的奠基人。他开拓了我国放射生物学和宇宙生物学的研究，为我国载人航天事业奠定了基础
赵忠尧	我国核物理研究和加速器建造事业的开拓者，为在国内建立核物理实验基地作出了重要贡献
柳大纲	中国分子光谱研究先驱者、中国盐湖化学奠基人，为建设我国大西北、为青藏高原丰富资源的开发利用作出了重要贡献

(3)阅读上面名录，请你说一说“特楼”人选的理由。(2分)

**【反思展望】**

2020年5月，北京正式提出建设“博物馆之城”。同学们在研究中发现，作为我们身边的博物馆—北京名人故居众多，有作为全国重点文物保护单位的，如宋庆龄故居。设有宋庆龄生平展；也有经过修缮原址保护的，如与五

四运动密切相关的蔡元培故居，但目前能够开放的仍占少数。对北京名人故居的保护与利用，要将文化展示、思想教育、旅游观光和文化体验等相结合，充分发挥名人故居的作用。

(4) 名人故居是北京的一张文化“名片”。也是不可再生的宝贵人文资源。请结合你所知道的事例，谈一谈你对北京名人故居的保护和利用的想法。(2分)

各区初三高三一二模已拉开序幕，为保证及时发送试题资料，课外100订阅号最新开通！  
精品资料，每日发送！

立即扫码关注



课外100网订阅号，试题速递快车道！

