

2017 北京师大附中初二（下）期中 历史



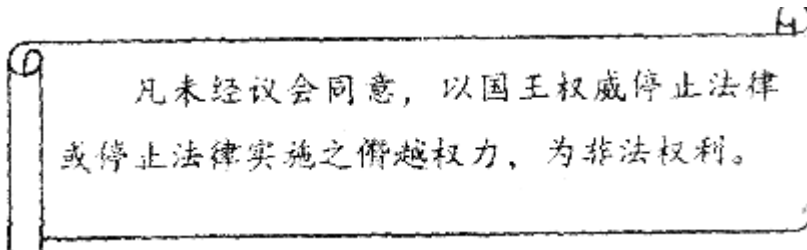
试卷说明：本试卷满分 100 分，考试时间 60 分钟。

第 I 卷

一、选择题（本大题共 40 道小题，每小题 1.5 分，共 60 分。在每小题列出的四个选项中，只有一项符合题目要求）

- 14 世纪前后，西欧新兴资产阶级高举复兴希腊、罗马古典文化的旗帜，掀起了文艺复兴运动。这场运动
A. 冲击了教会的陈腐说教 B. 废除了君主专制制度
C. 确立了资产阶级的统治 D. 引发了殖民扩张的狂潮
- 意大利米兰世博会于 2015 年 5 月 1 日开幕，这个拥有悠久历史和辉煌文明的国家。在欧洲进入近代社会的转型时期展现了无尽的魅力。这一时期该国涌现的文化“巨人”有
①但丁 ②伏尔泰 ③达·芬奇 ④牛顿
A. ①③ B. ①② C. ②③ D. ③④
- 文艺复兴时期文学家、艺术家、思想家创作了大量的经典作品，下列组合不正确的是
A. 但丁——《神曲》 B. 达·芬奇——《蒙娜丽莎》
C. 莎士比亚——《哈姆雷特》 D. 贝多芬——《最后的晚餐》
- 恩格斯称下列哪一历史人物“是中世纪的最后一位诗人，同时又是新时代的最初一位诗人”
A. 但丁 B. 达芬奇 C. 莎士比亚 D. 伏尔泰
- “文艺复兴”是一次资产阶级思想文化运动。对此运动描述正确的是
A. 开始时间：18 世纪 B. 代表人物：伏尔泰
C. 核心思想：人文主义 D. 实质：古代希腊、罗马文化的复兴
- 1492 年，意大利航海家哥伦布的船队横渡大西洋，到达美洲。这一历史事件采用世纪纪年，应是
A. 13 世纪末 B. 14 世纪 90 年代 C. 15 世纪初 D. 15 世纪 90 年代
- 新航路开辟后，许多美洲产物传播到欧洲大陆，如玉米、烟草等传到中国。这一史实客观上反映了
A. 欧洲贸易中心发生了变化 B. 加速了欧洲封建制度的解体
C. 世界各地经济联系加强 D. 烟草毒害人类，新航路开辟给中国带来灾难
- 斯塔夫里阿诺斯的《全球通史》以公元 1500 年作为重要的历史分期点，你认为以 1500 年为分期点的主要依据是
A. 1500 年是一个整数时间，容易记忆 B. 1500 年前后世界开始连成一个整体
C. 1500 年是欧洲文艺复兴开始的标志 D. 1500 年前后开始了资产阶级的统治
- 在研究历史过程中，由于立场不同，对历史事件的解释往往也会产生差异。如果站在美洲土著人立场上对哥伦布和发现美洲新大陆进行评价，其观点最有可能是

- A. 英雄，传播欧洲文明 B. 强盗，带来深重灾难
 C. 强盗，促进了资本主义发展 D. 英雄，促进了文明的融合
10. 使资产阶级和新贵族统治在英国确立的事件是
 A. 1688 年“光荣革命” B. 处死国王
 C. 《权利法案》公布 D. 克伦威尔掌权
11. 下图是某部法律文献内容的摘录。



据此判断，该部法律文献是

- A. 《拿破仑法典》 B. 《独立宣言》
 C. 《人权宣言》 D. 《权利法案》
12. 汤恩比说：“顺利地在新瓶子里装进新酒，还不致于引起旧瓶子爆炸。”“可以说是一种宪法方面的胜利，这种胜利应该当做一种惊人的技艺。”他评价的是
 A. 英国资产阶级革命后确立了君主立宪制
 B. 美国独立战争后建立了联邦制国家
 C. 拿破仑建立法兰西第一帝国
 D. 辛亥革命后成立中华民国
13. 17 世纪发生的英国资产阶级革命反映了世界近代史发展的趋势。这里的“趋势”是
 A. 资本主义取代封建主义 B. 封建主义取代资本主义
 C. 无产阶级取代资产阶级 D. 社会主义取代资本主义
14. 殖民地联合起来挑战宗主国是破天荒的大事。200 多年前，领导北美 13 个殖民地做了这件“破天荒”大事的英雄人物是
 A. 罗斯福 B. 林肯 C. 华盛顿 D. 杜鲁门
15. 每年的 7 月 4 日，美国人民都会载歌载舞，欢度国庆。下列文件中与美国国庆日有直接关系的是
 A. 《人权宣言》 B. 《独立宣言》
 C. 《权利法案》 D. 《1787 年宪法》
16. 美国 1787 年宪法规定总统享有行政权，国会和最高法院分别掌握国家的立法和司法大权，三权相互制约与平衡。这表明美国
 A. 决心废除黑人奴隶制度 B. 建立了较民主的政治体制
 C. 正式确立了君主立宪制 D. 综合国力已跃居世界第一

17. 法国人民把每年的7月14日作为国庆节，是为了纪念
- A. 巴黎人民攻占巴士底狱 B. 《人权宣言》的发表
- C. 法兰西第一共和国的成立 D. 法兰西第一帝国的成立
18. 《人权宣言》指出：“人生来是自由的，在权利上是平等的，自由是指有权从事一切无害于他人的行为；法律是公共意志的表现，法律面前人人平等。”此宣言的核心内容应是
- A. 人权与法治 B. 实行君主立宪制
- C. 主张无条件的自由 D. 反对殖民统治
19. 法国革命期间，被推上断头台的国王是
- A. 罗伯斯庇尔 B. 查理一世
- C. 詹姆士一世 D. 路易十六
20. 在百度搜索引擎中输入“雾月政变、《民法典》、滑铁卢战役”三个关键词，最有可能出现的历史人物是
- A. 卢梭 B. 克伦威尔 C. 罗伯斯庇尔 D. 拿破仑
21. 拿破仑在逝世前说了一段话：“我是一位新普罗米修斯……我曾从天上窃取了火种，作为一份礼物，奉献给法兰西。”拿破仑献给法兰西的“火种”是
- A. 处死国王路易十六 B. 建立法兰西第一帝国
- C. 颁布了系列法典 D. 扩大了法兰西的疆域
22. 伴随着新航路的开辟，最早的殖民国家是
- A. 葡萄牙、西班牙 B. 英国、美国
- C. 法国、美国 D. 荷兰、法国
23. “论从史出”是学习历史的重要方法之一。“英国从奴隶贸易中所得到的资金甚至超过了国内的积累。英国重要的商业和船运业中心利物浦，本是一个荒僻的小村落，在奴隶贸易中发展成英国的第二大港口。”从这段史料中得出的结论是
- A. 奴隶贸易促进了英国的资本主义发展
- B. 奴隶贸易给英国带来大量黑人劳动力
- C. 奴隶贸易促成了新航路的开辟
- D. 奴隶贸易是英国资本原始积累的唯一途径
24. 热爱足球的同学都知道“南美解放者杯”，它是南美足球俱乐部间的重要赛事。这项赛事如此冠名是为了纪念下列哪位历史人物
- A. 章西女王 B. 圣马丁 C. 玻利瓦尔 D. 伊达尔哥
25. 18世纪后半期，在轰轰烈烈的法国大革命的同时，在英国正进行着一场其意义毫不逊色甚至更大的革命。“意义更大的革命”指的是
- A. 英国资产阶级革命 B. 英国君主立宪制确立

C. 英国工业革命 D. 英属北美殖民地独立

26. 据统计在 2013 年 1 至 10 月，我国各地平均雾霾天数为 30 天，较往常偏多 10 天。这说明雾霾给人们的健康带来的危害越来越大。其原因是由于近百年来全球以二氧化碳形式存在的碳排放量节节攀升，产生的温室效应使全球气候逐渐变暖。这种现象的出现开始于

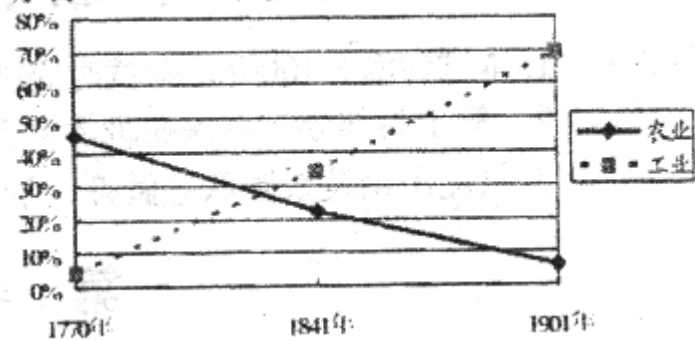
- A. 蒸汽机的大量使用
- B. 内燃机的广泛使用
- C. 电力的广泛使用
- D. 人类对原子能的利用

27. 1879 年，纽约一家报纸赞叹某一发明时说：“这是一个阳光球，是真正的阿拉丁神灯。”这一发明是指

- A. 珍妮机
- B. 改良蒸汽机
- C. 汽车
- D. 耐用碳丝灯泡

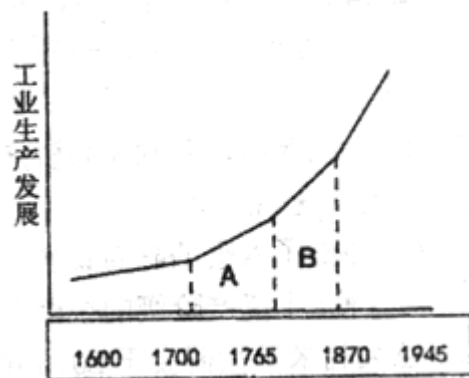
28. 下图所示现象的出现，主要是由于

英国农业、工业在国民生产总值所占比重的变化图



- A. 文艺复兴的推动
- B. 英国的殖民扩张
- C. 英国确立君主立宪制
- D. 英国开展了工业革命

29. 下列关于下图 B 段对应历史时期的叙述中正确的是



- ① 轮船、火车等新型交通工具促进世界市场的形成
- ② 19 世纪 70 年代，电力作为新能源进入生产领域
- ③ 电话、电报等新通讯手段加强了世界各地的联系
- ④ 内燃机的发明促进了石油开采、交通运输的发展

A. ①②③ B. ①③④

C. ①②④ D. ②③④

30. 马克思主义诞生的标志是

A. 《人民宪章》的发表 B. 《共产党宣言》的发表

C. 《解放黑人奴隶宣言》的颁布 D. 《联合国宣言》的签署

31. 欧仁·鲍狄埃创作的《国际歌》是全世界无产阶级的革命战歌，它鼓舞全世界无产阶级为自己的解放继续战斗。这首歌创作的背景是

A. 马克思主义诞生 B. 法国大革命

C. 英国宪章运动 D. 巴黎公社失败

32. 马克思说：“南北之间的矛盾不是别的，而是两种社会制度之间的斗争。”仔细观察下图，美国南北矛盾的焦点



A. 国内市场问题 B. 关税问题

C. 奴隶制存废问题 D. 生产原料问题

33. 列宁评述“农民获得自由的时候，已经被剥夺得一千二净。”反映的是

A. 英国圈地运动出现“羊吃人”的悲剧

B. 俄国废除农奴制后农民一贫如洗

C. 日本明治维新后农民纷纷破产

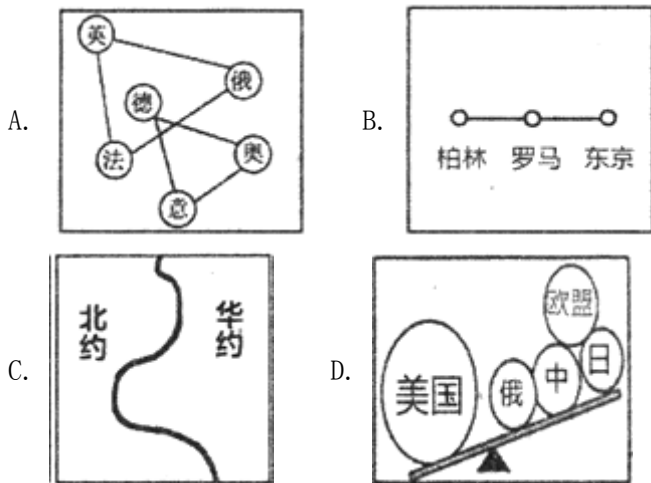
D. 美国内战后解放的黑奴的处境

34. 你认为可填入以下表格空白处的正确选项是

姓名	国籍	成就
史蒂芬孙	英国	蒸汽机车
莱特兄弟	美国	

- A. 珍妮机 B. 内燃机 C. 飞机 D. 汽车

35. 下列简笔画能够形象反映一战爆发前世界形势的是



36. 2014年，塞尔维亚国家旅游局推出“一战百年纪念游”活动，以铭记历史，反思教训。回望百年前的欧洲，虽已变成一只“火药桶”，但当时引爆这个“火药桶”只是一点“火星”。它就是

- A. 涂油子弹事件 B. 国会纵火事件
C. 波士顿倾茶事件 D. 萨拉热窝事件

37. 假如穿越时空隧道来到第一次世界大战的战场，你能看到的状况是

- A. 萨拉托加大捷 B. 凡尔登战役
C. 同盟国与轴心国交战 D. 原子弹的使用

38. 第一次世界大战前形成的帝国主义两大军事侵略集团的核心是

- A. 德国和英国 B. 奥匈帝国和美国
C. 意大利和法国 D. 德国和俄国

39. 第一次世界大战爆发的根本原因是

- A. 慕尼黑阴谋 B. 帝国主义政治经济发展不平衡
C. 萨拉热窝事件 D. 绥靖政策

40. 第一次世界大战爆发前，意大利加入同盟国集团；而第一次世界大战爆发后，意大利加入到协约国集团一方作战。这反映的实质问题是

- A. 意大利反复无常，不讲信誉 B. 协约国方面进行的是正义的战争
C. 协约国集团一开始就稳操胜券 D. 帝国主义国家之间的关系一切以利益为前提

第 II 卷

二、阅读材料，回答问题：（本题共 3 小题，共计 40 分。第 41 题 13 分，第 42 题 15 分，第 43 题 12 分）

41. 美国是世界强国，回顾美国的发展历史回答下列问题：

材料一



图 A

图 B

图 C

(1) 请根据材料一画面中的情景给图 A 写上名称。他们签署的这个文件对美国历史产生了什么影响？

(2) 哪一幅肖像是华盛顿总统？他为美国人民做出的最大贡献是什么？

材料二：“一幢裂开的房子是站立不住的。我相信这个政府不能永远维持半奴隶和半自由的状态。我不期望联邦解散，我不期望房子崩塌，但我的确希望它停止分裂。”

——林肯 1858 年 6 月的一次演说


(3) 根据材料二回答“半奴隶，半自由”的含义是什么？结合所学知识，说明最终结束“半奴隶和半自由的状态”的历史事件是什么？

(4) 依据材料二结合所学回答：林肯总统为实现自己的政治理想颁布了哪两项重要的法令？这一政治理想的达成有何重大历史意义？

42. 读以下两幅图，回答有关问题：



图一



图二

(1) 图一和图二是哪两种交通工具？它们分别是哪次工业革命的发明成果？

(2) 请分别说出这两种交通工具的发明者。

(3) 这两种交通工具分别以什么为动力？它们的发明有什么重要意义？

(4) 当今世界，现代化的交通工具越来越多的带来了一些负面影响，请你说出有哪些负面影响？怎样来解决？

43. 在 19 世纪下半叶的世界舞台上，有两个国家为摆脱危机，适应工业革命发展的需要，掀起了一场国家体制的改革，资本主义制度迅速建立起来。据此回答下列问题：

材料一：一个农奴的反应：3 月 5 日，一个伟大的日子。解放宣言！我在中午前后拿到了一份。阅读这份珍贵法案时，我无法表达自己的喜悦。在俄罗斯几千年的历史中，很少有文件能和它相媲美。我怀着尊敬和感激注视亚历山大二世的画像，向我十岁的儿子尽可能简单地解释这个宣言的本质，祝愿在他的心灵中能够永远刻上 3 月 5 日

这个日子，以及解放者亚历山大二世的名字。我无法呆在家里，我要到街上走走。人们在这里或那里大声读着声明。我不断听到诸如“自由法令”和“自由”等词汇。

——摘编自《全球视野下的西方文明史》

(1)材料一中的“珍贵法案”指什么？“一个农奴的反应”说明这个农奴对此次改革怀有怎样的心情？

材料二：俄国 19 世纪 60 年代初和 90 年代初的统计数据表

年份	棉花加工（吨）	冶铁（吨）
1861 年	30951	327610
1891 年	171994	992210

(2)依据材料二概括俄国 1861 年改革的成果

材料三：在短短的几十年里，日本就按自己的节奏改变了自身。以前它是个前工业时代的封建社会，到 19 世纪末期，新日本——西方影响和日本传统的混合物——成为一个正在上升的帝国。它很快将成为西方一个可怕的竞争对手。

——《全球视野下的西方文明史》

(3)材料三中日本的变化与哪一历史事件有关？这一事件对日本历史发展产生了怎样的影响？

(4)以史为鉴，参考日本这场改革的主要内容思考对今天中国的改革开放有哪些启示？

历史试题答案

第 I 卷



一、选择题（本大题共 40 道小题，每小题 1.5 分，共 60 分。在每小题列出的四个选项中，只有一项符合题目要求）

1. 【答案】A

【解析】试题分析：本题考查文艺复兴运动。文艺复兴冲破了教会一千多年来对欧洲社会生活和人们精神世界的统治。这场广泛持久的思想文化运动，在意识形态领域，冲破了封建专制和宗教神学思想对人的束缚，解放了人的思想，推动了欧洲文化思想领域的繁荣，为欧洲资本主义社会的产生奠定了思想文化基础。B、C 是资产阶级革命的成果；D 是新航路开辟带来影响。故选 A。

2. 【答案】A

【解析】试题分析：本题主要考查学生对文艺复兴有关知识的认识。我们通过学过的知识知道：14 世纪开始于意大利的文艺复兴以人文主义为其核心。意大利诗人但丁是文艺复兴的先驱，他的长诗《神曲》，提倡人性，率先对天主教会进行批判。意大利画家达·芬奇的名画《蒙娜丽莎》作品表现了人物美丽的外形和丰富的内心情感。伏尔泰是 18 世纪法国启蒙运动的核心人物，牛顿是英国的自然科学家，所以此题选 A。

考点：人教版新课标九年级历史上册·步入近代·资本主义的曙光·文艺复兴。

3. 【答案】D

【解析】试题分析：本题主要考查学生运用所学知识解决问题的能力，D. 贝多芬 ——《最后的晚餐》，这个是不正确的，《最后的晚餐》的作者应该是达芬奇。所以答案选 D

考点：人教版新课标九年级历史上册·步入近代·资本主义时代的曙光。

4. 【答案】A

【解析】试题分析：本题主要考查学生运用所学知识解决问题的能力，但丁是 13 世纪末，意大利诗人，现代意大利语的奠基者，欧洲文艺复兴时代的开拓人物之一，以长诗《神曲》留名后世。他被认为是意大利最伟大的诗人，也是西方最杰出的诗人之一，最伟大的作家之一。恩格斯评价说：“封建的中世纪的终结和现代资本主义纪元的开端，是以一位大人物为标志的，这位人物就是意大利人但丁，他是中世纪的最后一位诗人，同时又是新时代的最初一位诗人”。所以答案选 A

考点：人教版新课标九年级历史上册·步入近代·资本主义时代的曙光。

5. 【答案】C

【解析】试题分析：本题主要考查学生对文艺复兴有关知识的认识。我们通过学过的知识知道：14 世纪开始于意大利的文艺复兴以人文主义为其核心。意大利诗人但丁是文艺复兴的先驱，他的长诗《神曲》，提倡人性，率先对天主教会进行批判。伏尔泰是启蒙运动的代表人。文艺复兴的实质是资产阶级文化的兴起，不是古代希腊、罗马文化的复兴，故选 C。

【考点定位】人教新课标九年级上册·资本主义时代的曙光·文艺复兴

6. 【答案】D

【解析】试题分析：本题主要考查学生运用所学知识解决问题的能力，本题主要考查纪年问题。判断某年是哪一世纪什么年代，世纪看百位数，即百位跟其以上的数字组成一组数加1，年代看十位，十位是几就是几十年代，1492年就是15世纪90年代，而13世纪末是指1290-1299年，14世纪90年代是指1390-1399年，15世纪初是指1400-1429年。所以答案选D

考点：人教版新课标九年级历史上册·步入近代·资本主义时代的曙光。

7. 【答案】C

【解析】结合所学知识可知，新航路开辟后，使世界连成了一个整体，加强了各国之间的经济联系，客观上促进了各国之间的贸易往来，通过新航路，许多美洲产物传播到欧洲大陆，玉米、烟草等也传到中国，所以答案选C。

8. 【答案】B

【解析】试题分析：本题主要考查学生运用所学知识解决问题的能力，本题考查调用所学知识解读历史问题的能力，结合所学知识，1500年前后，随着新航路的开辟，人类社会由相对孤立走向了密切联系的整体，故B项正确；A项明显错误，排除；文艺复兴从14世纪就已经开始。故C项错误；D项不符合史实。所以答案选B

考点：人教版新课标九年级历史上册·步入近代·资本主义时代的曙光。

9. 【答案】B

【解析】试题分析：本题主要考查学生运用所学知识解决问题的能力，新航路的开辟也为欧洲开辟了殖民掠夺的道路，葡萄牙、西班牙、英国、荷兰、法国等相继走上了殖民扩张的道路，他们大量掠夺殖民地的财富，在美洲他们强占土著人的土地，大量屠杀土著人。所以站在美洲土著人立场上对哥伦布和发现美洲新大陆进行评价，土著人认为哥伦布是强盗，给美洲带来深重灾难。所以答案选B

考点：人教版新课标九年级历史上册·步入近代·资本主义时代的曙光。

10. 【答案】A

【解析】结合所学知识可知，1688年，资产阶级和新贵族联合其他不满国王专制统治的人发动了宫廷政变，被称为“光荣革命”，推翻了专制统治，使资产阶级和新贵族统治在英国确立，BCD不符合题意，所以答案选A。

11. 【答案】D

【解析】试题分析：本题主要考查学生运用所学知识解决问题的能力，《权利法案》是英国资产阶级革命中的重要法律性文件，但非宪法。奠定了英国君主立宪政体的理论和法律基础，确立了议会所拥有的权力高于王权的原则，标志着君主立宪制开始在英国建立，为英国资本主义的迅速发展扫清了道路。所以答案选D

考点：人教版新课标九年级历史上册·步入近代·英国资产阶级革命。

12. 【答案】A

【解析】试题分析：本题主要考查学生对《权利法案》的认识。英国资产阶级革命结束后，1689年，英国议会颁布《权利法案》。《权利法案》的颁布标志着君主立宪制的资产阶级政体的确立，英国由封建社会转变为资本主义社会，

实现了社会的转型。美国独立战争是建立了新国家，拿破仑建立法兰西第一帝国后被推翻，辛亥革命后成立了中华民国，但果实被北洋军阀窃取，因此BCD不符合题意，所以此题选A。

考点：人教新课标九年级上册·步入近代·英国资产阶级革命。

13. 【答案】A

【解析】试题分析：本题主要考查学生运用所学知识解决问题的能力，资产阶级开始向封建势力发出挑战，争取政治地位，将掀起资本主义的狂潮。从英开始革命后，美、法、俄、日等主要国都纷纷建立了资本主义社会的国家。这个趋势也是历史潮流的趋势，较于封建社会先进的资本主义社会符合历史发展趋势。所以答案选A

考点：人教版新课标九年级历史上册·步入近代·英国资产阶级革命。

14. 【答案】C

【解析】根据题干“领导北美13块殖民地”的信息，结合所学知识可知，1775年，莱克星顿枪声打响了北美13块殖民地推翻英国殖民统治的战争的序幕，华盛顿被任命为大陆军的总司令，领导了美国独立战争，并取得了胜利，是美国历史上的伟大人物，BCD的人物不符合题意的内容，所以答案选C。

15. 【答案】B

【解析】根据题干的时间是7月4日，结合所学知识可知，1776年7月4日，美国大陆会议颁布了《独立宣言》，宣言痛斥英国女王对殖民地的暴政，宣布一切人生而平等，人们有生存、自由和追求幸福等不可转让的权利，宣言同时宣告美利坚合众国—美国诞生，这是美国建国的标志，7月4日被定为美国的国庆日，所以答案选择B。

16. 【答案】B

【解析】试题分析：本题主要考查学生运用所学知识解决问题的能力，国会和最高法院分别掌握国家的司法和立法大权。表明美国建立了较民主的政治体制。所以答案选B

考点：人教版新课标九年级历史上册·步入近代·美国的诞生。

17. 【答案】A

【解析】试题分析：本题主要考查学生运用所学知识解决问题的能力，本题考查的是法国资产阶级革命的相关内容。由题干的时间7月14日，可以联想到法国资产阶级革命开始。1789年7月14日，巴黎人民攻占了关押政治犯的巴士底监狱，掀开了资产阶级革命的序幕。法国为纪念这一事件定每年7月14日为国庆节。所以答案选A

考点：人教版新课标九年级历史上册·步入近代·法国大革命和拿破仑帝国。

18. 【答案】A

【解析】试题分析：本题主要考查学生运用所学知识解决问题的能力，《人权宣言》是法国大革命的纲领性文件；核心内容是人权与法治；它否定了封建专制和封建等级制度，具有重大的意义。所以答案选A

考点：人教版新课标九年级历史上册·步入近代·法国大革命和拿破仑帝国。

【结束】

19. 【答案】D

【解析】结合所学知识可知，1789年7月14日，巴黎人民攻占巴士底监狱，法国大革命开始，随后资产阶级掌握

政权，1792年，法国废除了君主制度，建立了法兰西第一共和国，不久，国王路易十六被送上了断头台，所以答案选D。

20. 【答案】D

【解析】试题分析：本题主要考查学生运用所学知识解决问题的能力，本题主要考查学生对拿破仑贡献的准确识记。依据所学知识可知，法国大革命结束后，拿破仑发动“雾月政变”，建立法兰西第一帝国。拿破仑为巩固资产阶级统治，颁布了《法典》。1815年6月，在比利时境内的一个叫滑铁卢的地方，拿破仑最后被反法同盟的军队打败，并被流放到大西洋的一个荒岛上，从此退出了法国的政治舞台。所以答案选D

考点：人教版新课标九年级历史上册·步入近代·法国大革命和拿破仑帝国。

21. 【答案】C

【解析】试题分析：拿破仑当下时期对内发展工商业，并颁布《法典》，对外发动战争，这些措施中《法典》成为资本主义社会的立法规范，对后世影响最大，因此“火种”指的是《拿破仑法典》。

考点：人教新课标九年级上册·步入近代·法国大革命和拿破仑帝国

22. 【答案】A

【解析】结合所学知识可知，新航路开辟以后，首先是葡萄牙和西班牙，接着是英国和法国等国都走上了殖民扩张和殖民掠夺的道路，所以答案选A。

23. 【答案】A

【解析】试题分析：本题考查奴隶贸易的影响。

A项，根据材料中“英国从奴隶贸易中所得到的资金甚至超过了国内的积累”的信息可知，奴隶贸易为英国资本主义发展做了充足的原始资本积累，极大地促进了英国资本主义的发展。故A项正确。

B项，奴隶贸易是将非洲黑人以奴隶的身份贩卖到美洲，因而为美洲带去了大量黑人劳动力。故B项错误。

C项，新航路开辟后，欧洲一些人看到从非洲运黑人到美洲出卖有利可图，纷纷加入罪恶的黑奴贸易行列，因而是新航路的开辟促成了奴隶贸易。故C项错误。

D项，奴隶贸易是英国资本原始积累的方法之一，除此之外还有圈地运动、垄断贸易等，奴隶贸易并非唯一的途径。故D项错误。综上所述，本题正确答案为A。

考点：人教新课标九年级上册·殖民扩张和殖民地人民的抗争·血腥的资本积累

24. 【答案】C

【解析】根据题干“南美解放者杯”的信息，结合所学知识可知，受美国独立战争和法国大革命的影响，拉丁美洲开始了反抗西班牙殖民统治的战争，玻利瓦尔领导拉丁美洲人民积极反抗，横扫南美大陆上的西班牙军队，解放了西班牙在南美的殖民地，玻利瓦尔后来被称为“南美解放者”，所以答案选C。

25. 【答案】C

【解析】试题分析：本题考查的是英国工业革命的相关内容。法国大革命开始于1789年，英国工业革命开始于1765年，所以当法国大革命爆发的时候，英国已经开始了工业革命20多年，所以这段话肯定了英国工业革命的历史作

用，答案选 C。

考点：人教新课标九年级上册·步入近代·蒸汽时代的到来。

26. 【答案】A

【解析】依据所学知识，第一次工业革命中，瓦特改良蒸汽机被广泛使用后，促进了煤炭的开采与使用，而煤炭燃烧产生的“二氧化碳”等迅速造成了空气污染，后经过了第二次科技革命、第三次科技革命许多新能源被开发利用，因此出现了题文中的现象。由此可知，题文中的现象“开始于”蒸汽机的大量使用，故 A 符合题意；B 项内燃机的广泛使用、C 项电力的广泛使用都开始于第二次科技革命；D 项人类对原子能的利用则开始于第三次科技革命；由此分析 BCD 不合题意，故此题选 A。

点睛：本题的关键信息是“开始”。科技发展的同时，造成了环境、空气的污染。而开始出现环境、空气污染现象，是在第一次工业革命蒸汽机的大量使用后，由此得出答案。

27. 【答案】D

【解析】试题分析：本题主要考查学生运用所学知识解决问题的能力，本题考查的是第二次科技革命的内容。根据题干材料“这是一个阳光球，是真正的阿拉丁神灯。”可知是对电灯的赞誉，结合所学电灯的发明是在第二次科技革命中，由爱迪生发明的，是第二次科技革命的杰出成就。所以答案选 D

考点：人教版新课标九年级历史上册·垄断资本主义时代的世界·人类迈入“电气时代”。

【结束】

28. 【答案】D

【解析】试题分析：本题考查的是英国的工业革命。从图上我们可以看出，从 1770 年开始，英国农业在国民生产总值所占比重不断下降，而工业在国民生产总值所占比重不断上升。工业革命开始后，尤其是瓦特改良蒸汽机，极大地促进了大工厂生产的发展。1840 年前后，英国完成了工业革命，工业持续发展。故选 D。

考点：人教新课标九年级上册·步入近代·“蒸汽时代”的到来。

29. 【答案】B

【解析】根据题干的图片信息，结合所学知识可知，通过表格内容，我们可以看出 1765——1870 年，这一时期工业生产得到显著发展，主要是因为工业革命改良了蒸汽机，②所述是第二次工业革命的内容，排除②；所以答案是 B。

点睛：解题的关键是正确分析题干的图片的内容，注意 B 段的时间是 1765-1870 年，此时期是工业革命正在进行和完成以后的时间，促进生产发展的是蒸汽机，新能源应该是煤炭；而电力是 1870 以后逐渐成为主要能源的，利用排除法来解答。

30. 【答案】B

【解析】试题分析：本题考查的是马克思主义的相关知识，1848 年《共产党宣言》的发表，标志着马克思主义的诞生，从此国际工人运动进入一个新的历史时期，所以答案是 B。

考点：人教新课标九年级上册·无产阶级的斗争与资产阶级统治的加强·国际工人运动与马克思主义的诞生

31. 【答案】D

【解析】根据题干“《国际歌》”的信息，结合所学知识可知，巴黎公社失败后不久，公社的领导人之一欧仁·鲍狄埃创作了《国际歌》的歌词，后来经狄盖特谱曲后，广泛传唱开来，它鼓舞全世界无产阶级为自己的解放继续战斗，所以答案选 D。

32. 【答案】C

【解析】根据图片依据所学知识可知，奴隶制废存问题是美国南北战争的焦点问题，使北方和南方之间的矛盾不可调和，最后引发战争。故选 C。

33. 【答案】B

【解析】试题分析：本题考查的是俄国 1861 年改革的相关知识，我们首先需要判断列宁的评述是对俄国 1861 年改革的评述，之所以说“农民获得自由的时候，已经被剥夺得一千二净。”，是因为农奴在获得解放的时候，获得的土地必须出钱赎买，所以答案是 B。

考点：人教新课标九年级上册·无产阶级的斗争与资产阶级统治的加强·俄国、日本的历史转折

34. 【答案】C

【解析】试题分析：本题主要考查学生运用所学知识解决问题的能力，莱特兄弟，是两位美国发明家，飞机的制造者。他们于 1903 年 12 月 17 日首次完成完全受控制，附机载外部动力，机体比空气重，持续滞空不落地的飞行，因此“发明了世界上第一架飞机”的成就就归功于他们。所以答案选 C

考点：人教版新课标九年级历史上册·垄断资本主义时代的世界·人类迈入“电气时代”。

35. 【答案】A

【解析】A 项“北约”“华约”反映的是二战后美苏两极格局；B 项反映的是两极格局结束后，世界向多极化趋势发展；C 项反映了一战前形成的两大敌对的帝国主义侵略集团——德国、奥匈帝国、意大利组成的三国同盟和英国、法国、俄国组成的三国协约。故 C 符合题意。D 项反映的是二战前的法西斯轴心集团；由此分析 ABD 不合题意，故此题选 C。

36. 【答案】D

【解析】根据题干“一战百年纪念游”、“火药桶”、“火星”的信息，结合所学知识可知，1914 年 6 月 28 日，奥匈帝国皇位继承人斐迪南大公夫妇被塞尔维亚民族主义者普林西普枪杀，这次事件导致 7 月 28 日奥匈帝国向塞尔维亚宣战，成为了第一次世界大战的导火线，是引爆欧洲这个“火药桶”的一点“火星”，所以答案选 D。

37. 【答案】B

【解析】试题分析：本题主要考查学生运用所学知识解决问题的能力，凡尔登战役是第一次世界大战中破坏性最大，时间最长的战役。战事从 1916 年 2 月 21 日延续到 12 月 19 日，德、法两国投入 100 多个师兵力，军队死亡超过 25 万人，50 多万人受伤。伤亡人数仅次于索姆河战役，被称为“凡尔登绞肉机”。所以答案选 B

考点：人教版新课标九年级历史上册·垄断资本主义时代的世界·第一次世界大战。

38. 【答案】A

【解析】试题分析：本题主要考查学生对一战有关知识的认识。由于帝国主义政治经济发展不平衡的加剧，后期的帝国主义国家要求重新分割世界。他们之间的斗争愈演愈烈，第一次世界大战前，形成了两大军事集团三国同盟和三国协约。三国同盟由德国、意大利和奥匈帝国组成，核心是德国。三国协约由俄国、英国和法国组成，核心是英国。故答案选 A。

考点：人教新课标九年级上册·垄断资本主义时代的世界·第一次世界大战

39. **【答案】**B

【解析】试题分析：

本题主要考查的是第一次世界大战知识点。结合课本所学分析，新兴的资本主义国家经济实力迅速提高，并导致这些国家综合国力和军事实力增强，一举超越老牌资本主义国家，原有的“均势”遭到破坏，于是他们便要求重新瓜分世界，这势必危及老牌资本主义国家的即得利益，导致帝国主义国家之间的矛盾形成和激化，最终酿成战争。故答案为 B。

考点：新人教版九年级历史上册·垄断资本主义时代的世界·第一次世界大战

40. **【答案】**D

【解析】试题分析：本题考查第一次世界大战。

A 项，题干要求选择反映的实质问题，“意大利反复无常，不讲信誉”不是实质问题。故 A 项错误。

B 项，第一次世界大战是帝国主义矛盾激化的结果，一战实质上是一场帝国主义争夺世界霸权的非正义战争，因此协约国并非正义的一方。故 B 项错误。

C 项，题干无法体现“协约国集团一开始就稳操胜券”。故 C 项错误。

D 项，意大利为了自身利益，望风使舵，与协约国达成秘密协定，参加到协约国一方作战，意大利的行为符合国家利益至上的原则，反映出帝国主义国家之间的关系一切以利益为前提这一实质问题。故 D 项正确。

综上所述，本题正确答案为 D。

考点：人教新课标九年级上册·垄断资本主义时代的世界·第一次世界大战

第 II 卷

二、阅读材料，回答问题：（本题共 3 小题，共计 40 分。第 41 题 13 分，第 42 题 15 分，第 43 题 12 分）

41. **【答案】** (1) 签署《独立宣言》，宣告美国独立

(2) 图 A 领导了美国独立战争，赢得了美国的独立；开创了民主政治的先河。

(3) 含义：是指美国的两种经济形式——即北方的资本主义工商业经济和南方的奴隶主种植园经济。南北战争或美国内战。

(4) 《宅地法》、《解放黑人奴隶宣言》粉碎了南方叛乱，维护了国家统一，废除了黑人奴隶制，为美国资本主义发展进一步扫清了障碍。

【解析】 (1) 根据材料一画面中的情景，结合所学知识可知，1776 年 7 月 4 日，大陆会议召开第二次会议，签署了《独立宣言》，标志着美利坚合众国的诞生。

(2) 结合所学知识可知，图 A 肖像是华盛顿总统，他在美国独立战争期间担任总司令，领导美国人民英勇反抗英国殖民者，推翻了英国的殖民统治，赢得了美国的独立，是美国历史上著名的总统，开创了民主政治的先河。

(3) 根据材料二的内容，结合所学知识可知，美国独立战争胜利后，形成了两种经济制度，北方资本主义经济和南方的种植园经济，所以“半奴隶，半自由”的含义指的就是美国的两种经济形式——即北方的资本主义工商业经济和南方的奴隶主种植园经济；美国南北战争最终结束“半奴隶和半自由的状态”，使国家获得了统一。

(4) 依据材料二的内容，结合所学知识可知，南北战争前期，北方失利，为了扭转战局，林肯总统颁布了《宅地法》、《解放黑人奴隶宣言》，解放了黑人奴隶，使北方获得了充足的兵源，保证了南北战争的胜利，粉碎了南方叛乱，维护了国家统一，废除了黑人奴隶制，为美国资本主义发展进一步扫清了障碍。

42. 【答案】(1) 图一：火车机车，第一次工业革命；图二：汽车，第二次工业革命。

(2) 火车机车：史蒂芬孙；汽车：卡尔·本茨。

(3) 火车机车是以蒸汽机为动力，汽车是以内燃机为动力。

意义：火车和汽车的发明应用提高了社会生产力，扩大了人们的活动范围。

(4) 存在着空气和噪音等环境污染问题。

解决：研究探索高效环保的新能源应用，低碳出行，减少尾气排放等。

【解析】试题分析：(1) 本题考查的是两次工业革命的交通工具方面的成果，是对课本基础知识的识记和考查。从图一中看出这是英国的史蒂芬孙制造的以蒸汽为动力的火车机车。这是第一次工业革命的成果。图二是三轮汽车，这是第二次工业革命的成果。是德国人卡尔·本茨以内燃机为动力发明的。

(2) 本题考查的是两次工业革命的交通工具方面的成果的发明者，是对课本基础知识的识记和考查。从图一中看出这是英国的史蒂芬孙制造的以蒸汽为动力的火车机车。这是第一次工业革命的成果。图二是三轮汽车，这是第二次工业革命的成果。是德国人卡尔·本茨以内燃机为动力发明的。

(3) 本题考查的是两次工业革命的这两种交通工具所使用的动力。第一次工业革命主要是蒸汽为动力带动机器转动，故图一的火车机车的动力是改良的蒸汽机；图二是第二次工业革命的成果，第二次科技革命的动力是内燃机。德国人卡尔·本茨以内燃机为动力发明的图二的汽车。

(4) 此考查的是交通工具的出现带来的负面影响。可以以我们最熟悉的交通工具为例。可以以汽车为例。大量汽车的使用，带来严重的环境污染问题、交通问题等。汽车、飞机等也有有噪音污染环境等。关于如何解决，可以自由发挥：规范交通规则，研究探索高效环保的新能源应用，低碳出行，减少尾气排放等。

考点：人教新课标九年级历史上册·步入近代·“蒸汽时代”的到来；人教新课标九年级历史上册·垄断资本主义时代的世界·人类迈入“电气时代”

43. 【答案】(1) 亚历山大二世废除农奴制、解放农奴、给农奴人身自由、农奴获得自由；喜悦

(2) 1861 年改革促进俄国经济（工业、资本主义）发展。

(3) 明治维新。走上资本主义发展道路，增强国力，成为近代亚洲唯一独立国家。

(4) 从国情出发，积极改革，与时俱进，引进先进技术和管理经验

【解析】(1)根据材料一“农奴的反应：3月5日，一个伟大的日子。解放宣言！我在中午前后拿到了一份。阅读这份珍贵法案时，我无法表达自己的喜悦”的信息，结合所学知识可知，1861年，沙皇亚历山大二世签署了废除农奴制法令，法律上规定农奴是自由人，任何人不得随意买卖农奴；“一个农奴的反应”说明这个农奴对此次改革怀有喜悦的心情。

(2)依据材料二的表格的数字的变化，结合所学知识可知，1861年改革为俄国资本主义的发展提供了自由劳动力和资本，促进俄国经济资本主义的发展。

(3)根据材料三“到19世纪末期，新日本——西方影响和日本传统的混合物——成为一个正在上升的帝国。它很快将成为西方一个可怕的竞争对手”的信息，结合所学知识可知，1868年，日本效仿西方，进行了明治维新的改革，使日本摆脱了沦为半殖民地的命运，走上资本主义发展道路，增强国力，成为近代亚洲唯一独立国家。

(4)根据日本这场改革的主要内容，结合所学知识可知，今天中国的改革开放应该从中学习经验，我们也应该从国情出发，积极改革，与时俱进，引进先进技术和管理经验，加强对外开放，善于学习外国的长处，更好的促进经济的发展。

点睛：解题的关键是抓住材料的有效信息，排除无效信息，结合课本关于俄国1861年改革和日本明治维新的内容来解答问题，俄国和日本都是通过改革的方式摆脱了本国的困境，走上了资本主义道路的，由此可知，改革是社会发展的动力，我国的经济建设也需要不断的进行改革，同时要注意改革要符合国情。

