

考生须知

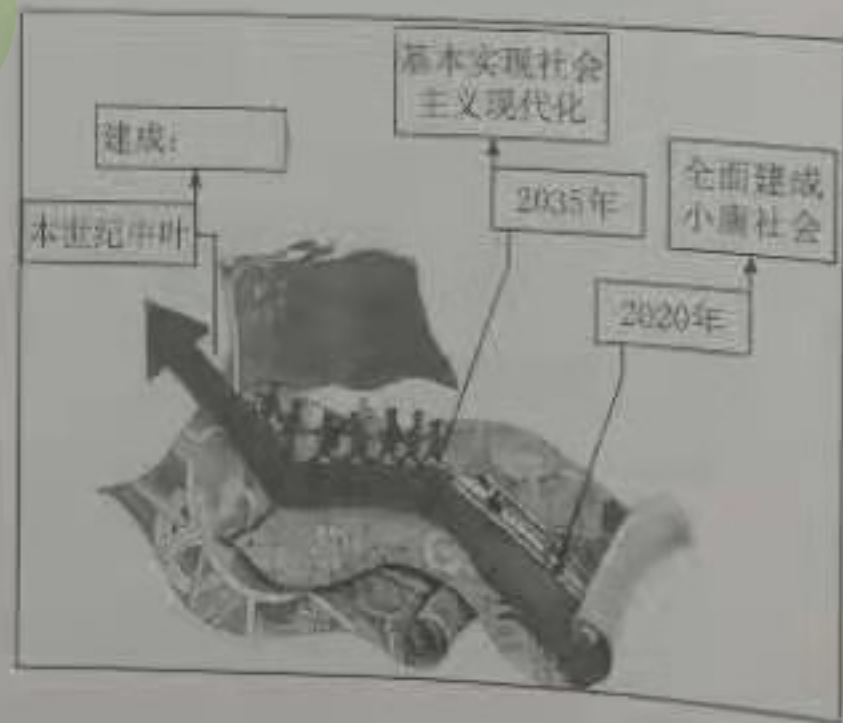
1. 本试卷共 8 页，共两部分，26 道小题，满分 100 分。考试时间 90 分钟。
2. 在试卷和答题卡上准确填写学校、班级、姓名和学号。
3. 试题答案一律填写在答题卡上，在试卷上作答无效。
4. 在答题卡上，选择题须用 2B 铅笔将选中项涂黑涂满，其他试题用黑色字迹签字笔作答。
5. 考试结束时，将本试卷、答题卡一并交回。

### 第一部分 选择题（共 40 分）

本部分共 20 小题，每小题 2 分，共 40 分。在每小题列出的四个选项中，选出最符合题目要求的一项。

1. 2020 年是决胜全面建成小康社会、决战脱贫攻坚之年，是“十三五”规划收官之年。2020 年也是
  - ①改革开放 40 周年
  - ②五四运动 100 周年
  - ③中国人民志愿军抗美援朝出国作战 70 周年
  - ④紫禁城建成 600 周年

A. ①②      B. ①③      C. ②④      D. ③④
2. 2020 年 11 月 24 日，我国用长征五号遥五运载火箭成功发射探月工程“嫦娥五号”探测器。下列关于“嫦娥五号”任务的表述正确的是
  - A. 实现首次月球无人采样返回任务
  - B. 建设独立运行的全球卫星导航系统
  - C. 构建覆盖全球的量子保密通信网络
  - D. 保障航天员在轨短期驻留期间的生活和工作
3. 右图是某位同学绘制的我国在新世纪新时代经济和社会发展的战略目标。本世纪中叶的战略目标是建成
  - A. 富强民主文明和谐的社会主义国家
  - B. 富强民主文明和谐的社会主义现代化强国
  - C. 富强民主文明和谐美丽的社会主义现代化国家
  - D. 富强民主文明和谐美丽的社会主义现代化强国
4. 截至 2020 年，我国已同 138 个国家、31 个国际组织签署了共建“一带一路”合作文件。通过共建“一带一路”，马尔代夫共和国有了第一座跨海大桥，黑山共和国有了第一条高速公路……“一带一路”从倡议转化为全球广受欢迎的公共产品表明
  - A. 我国是世界制造业第一大国
  - B. 我国已经成为影响世界的重要力量
  - C. 我国的综合国力进入世界前列
  - D. 我国已经成为世界第二大经济体





5. “我会用新方法解这道数学题啦，好开心！”“我给家人做了一道新菜，他们可高兴了！”

“跟乐队的伙伴一起给老歌配新曲，挑战可真大呀！”这些表达告诉我们

~~①~~生活中的方方面面都可以创新

~~②~~创新带给我们惊喜，让我们获得成就感

③从无到有的创造发明，才是创新

④创新是为了满足个人兴趣，与他人无关

A. ①②

B. ①④

C. ②③

D. ③④

6. 这些年，故宫文创产品“爆款”频现，陕西剪纸等非遗伴手礼受到顾客青睐，北京稻香村推出的二十四节气时令食品备受消费者喜爱……国潮兴起启示我们

①只有继承中华优秀传统文化，才能增强文化自信

~~②~~不忘本来才能开辟未来，善于继承才能更好创新

③传承中华文化要古为今用，推陈出新，排除外来

~~④~~要推动中华优秀传统文化创造性转化、创新性发展

A. ①②

B. ①③

~~C. ②④~~

D. ③④

7. 中华优秀传统文化潜移默化地影响着中国人的行为方式。以下体现这种影响的是



①



②



③



④

A. ①②③

B. ①②④

~~C. ①③④~~

D. ②③④

8. 推动专利法、商标法、著作权法等一系列法律法规修改完善，成立专门的知识产权法院和知识产权法庭……国家采取措施保护知识产权

~~①~~是尊重创造、保护创新的体现

②表明侵犯知识产权必将受到刑罚处罚

③目的在于减少交流，保护创新成果

~~④~~有利于鼓励全社会开展创造性工作

A. ①②

~~B. ①④~~

C. ②③

D. ③④

9. 《交警系统执法记录仪使用管理规定》要求，交通警察在道路上执勤、查处交通违法行为、处理交通事故时，应当佩戴、使用执法记录仪进行全程录音录像，客观、真实地记录执勤执法工作情况及相关证据。交警佩戴、使用执法记录仪

A. 目的就是维护交警的合法权利

B. 能够让每位公民成为法治的自觉遵守者

C. 能够确保交警公正裁判，维护正义

~~D. 能够规范交警执法行为，防范权力滥用~~

10. 民主选举是人民实现民主权利的一种重要形式。下列体现民主选举的是

A. 政协委员深入基层开展调研工作

~~B. 小区居民投票选出业主委员会成员~~

C. 市民参加公共交通价格调整听证会

D. 群众拨打市长热线反映道路交通拥堵问题



11. “家庭应当树立优良家风，弘扬家庭美德，重视家庭文明建设。家庭成员应当敬老爱幼，互相帮助，维护平等、和睦、文明的婚姻家庭关系。”民法典的这条规定
- A. 强化了法律对道德建设的促进作用
  - B. 表明法治是解决家庭矛盾的最佳方式
  - C. 体现了法治注重教化，德治注重规范
  - D. 强调德治比法治更具有权威性和强制性
12. 以下是某同学收集的我国民法典编纂过程的信息。

- 2014年，党的十八届四中全会明确提出编纂民法典的立法任务。
- 2015年，全国人大常委会法制工作委员会启动民法典编纂工作。明确“两步走”的编纂计划：第一步出台民法总则；第二步编纂民法典各分编，并将各分编草案同民法总则合并为民法典草案，由全国人大常委会提请全国人民代表大会审议。
- 2020年，第十三届全国人民代表大会审议通过《中华人民共和国民法典》。

民法典的编纂过程

- A. 表明人民代表大会是我国的最高国家权力机关
  - B. 说明有了完备的法律制度，就能实现全面依法治国
  - C. 说明追求并奉行法治已经成为现代世界各国的共识
  - D. 体现了党的领导、人民当家作主、依法治国有机统一
13. 进入新时代，我国社会主要矛盾已经转化为人民日益增长的美好生活需要和不平衡不充分的发展之间的矛盾。下列举措有利于缓解社会主要矛盾的是
- ①推进城乡义务教育一体化发展
  - ②推进养老、托育服务体系建设
  - ③坚持平均主义，整体提高人民收入水平
  - ④实施京津冀协同发展、长江经济带等重大区域发展战略
- A. ①②③      B. ①②④      C. ①③④      D. ②③④
14. 在十三届全国人大代表中，全国55个少数民族都有本民族的代表。这表明
- A. 各民族文化获得前所未有的发展
  - B. 国家促进各民族之间的文化交流
  - C. 国家加大对民族地区的扶贫支持力度
  - D. 各民族参与国家事务管理的权利得到有效保障
15. 2019年测绘法宣传日暨国家版图意识宣传周确立的主题是“规范使用地图，一点都不能错”。树立正确的国家版图意识
- ①是维护国家主权和领土完整的要求
  - ②是反对分裂，维护国家统一的要求
  - ③是面对严峻挑战，共筑绿色家园的要求
  - ④是树立总体国家安全观，维护国家安全的要求
- A. ①②③      B. ①②④      C. ①③④      D. ②③④

国家版图是一个国家行使主权和管辖权的疆域，也指反映国家疆域的地图。国家版图体现了国家主权意志和在国际社会中的政治、外交立场，同国旗、国徽、国歌一样，是国家的象征。



10. 我国宪法规定，台湾是中华人民共和国神圣领土的一部分。这条规定表明

- A. 一个中国原则是两岸关系的政治基础
- B. 两岸融合发展，是夯实和平统一的基础
- C. 中华文化是两岸同胞血脉相连的精神纽带
- D. 两岸同胞是同根同源、同文同种的一家人

17. 从1953年到2020年，从第一次到第七次，人口普查记录着社会发展的铿锵脚步。通过普查获取的人口数据，可为国家宏观决策提供科学依据，对准确把握人口变化规律，贯彻新发展理念具有深远的意义……持续开展人口普查

- A. 说明我国人口状况呈现出总人口增速趋缓的新特点
- B. 能够从根本上解决我国面临的日趋严峻的人口问题
- C. 能够控制人口数量，消除人口对经济社会发展的压力
- D. 表明人口问题是我国面临的全局性、长期性、战略性问题

18. 针对老年人因为不熟悉网络技术而遇到生活烦恼的问题，北京倡议在车站、医院等公共场所，为老年人提供必要的信息引导和人工帮扶；建立“无码绿色通道”；保留现金支付及线下办理渠道……社会积极回应老年人的需求

- ①有利于营造孝老爱亲的社会氛围
- ②表明不同的人的价值观念存在差异
- ③体现了“老吾老以及人之老”的价值追求
- ④表明老龄化加剧是我国人口现状的基本特点

- A. ①②       B. ①③      C. ②④      D. ③④

截至2018年，香港本地生产总值从1997年的1.37万亿港元增加至2.66万亿港元。香港是全球竞争力最强的地区之一，连续25年被评为全球最自由的经济体。

截至2018年，澳门本地生产总值从1999年的518.7亿澳门元增加至4446.7亿澳门元，人均地区生产总值排在亚洲第一、世界第二。

19. 以上两组数据表明

- A. “一国两制”是党领导人民促进民族团结的重要制度
- B. “一国两制”强调“一国”是实行“两制”的前提和基础
- C. “一国两制”在香港、澳门的实践取得了举世公认的成功
- D. 保持香港、澳门繁荣稳定，必须遏制外部势力干预港澳事务

20. 一位养蜂人梦想成为科学家。他没有经过专业学习，没有专业仪器，依靠自学和勤奋钻研，培育出优质油菜种并获得国家发明专利。这位养蜂人的经历启示我们

- ①奋斗者是精神富足的人
- ②梦想的实现需要辛勤实干
- ③有梦想就能开创幸福生活
- ④唯有创新才能实现人生价值

- A. ①②      B. ①③      C. ②④      D. ③④



## 第二部分 非选择题（共 60 分）

21. (8分) 总有一些人、一些事、一些物, 会让我们由衷自豪地说一句“这很中国”。某班计划围绕“守望精神家园”这个主题, 设计一期题目为“这很中国”的板报。

- ▶ 小巧玲珑的小笼汤包, 味道醇厚的烤鸭, 这样的美食很中国!
- ▶ 兵马俑惟妙惟肖, 司母戊鼎形制雄伟, 这样的艺术很中国!
- ▶ 抗日战争、抗美援朝中的英雄人物, 抗击新冠肺炎疫情的医务工作者, 这样的人物很中国!

.....

(1) 结合你的切身感受, 仿照示例, 为板报增补一句“这很中国”的表达。(2分)

(2) 结合材料, 运用所学知识, 谈谈开展“这很中国”板报设计活动的意义。(6分)

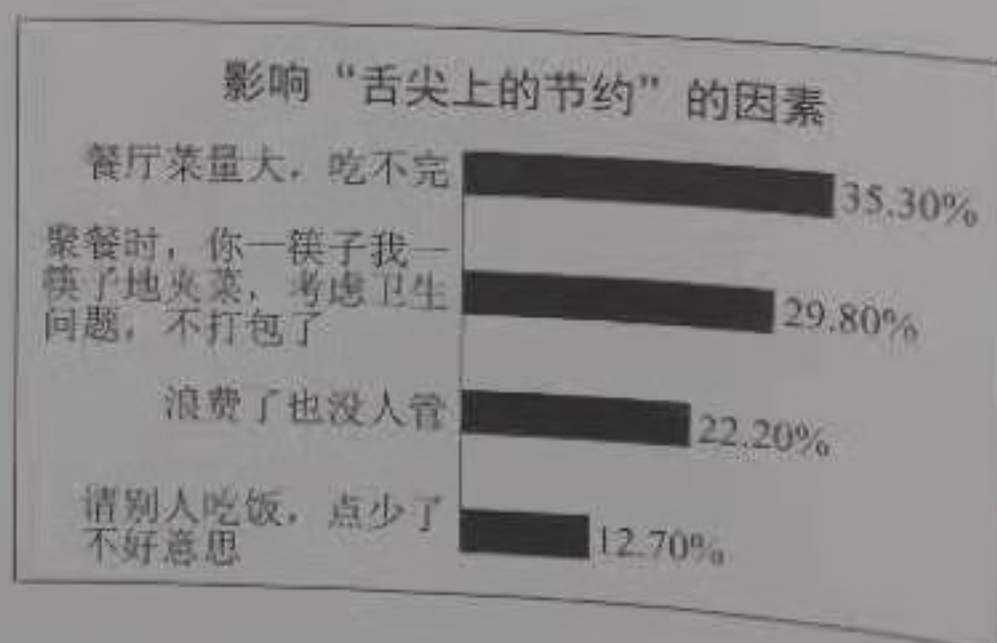
22. (6分) 让“舌尖上的节约”成为习惯。

材料一 粮食是水、化肥、能源等资源的凝结。食物浪费问题给农业生产带来的额外压力, 导致耕地面积和捕捞规模不断扩大, 对生物多样性构成严重威胁。我国自古就有“克勤于邦, 克俭于家”的传统思想, 然而伴随着物质生活水平的提高, 这样的传统思想被有些人认为过时了。据统计, 我国每年浪费的粮食总量约 3500 万吨, 这个数字接近我国粮食总产量的 6%, 其中城市餐饮业仅餐桌上的食物浪费量就高达 1700 万至 1800 万吨, 相当于 3000 万至 5000 万人一年的食物量。

(1) 结合材料, 运用所学知识, 说明为什么要提倡“舌尖上的节约”。(4分)

材料二 右图是某班同学在开展“影响‘舌尖上的节约’的因素”社会调查时, 汇总的统计数据。

(2) 针对统计数据, 为促进“舌尖上的节约”提出两条具体有效的建议。(2分)



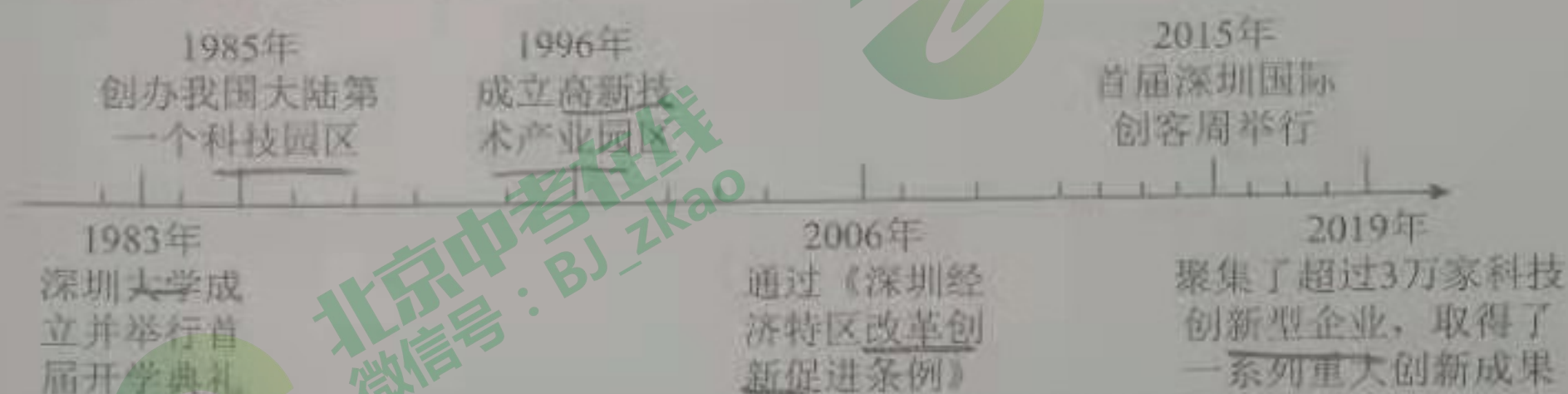


23. (12分) 创新是灯, 照亮前进之路。

材料一 “十三五”期间, 国产航母等一批国之重器相继诞生, 5G通信等产业技术创新取得重大突破。但在日趋激烈的国际竞争下, 我国仍存在核心技术受制于人、关键领域被“卡脖子”的风险。实践反复告诉我们, 关键核心技术是要不来、买不来、讨不来的。我们必须走出适合中国国情的创新路子, 努力实现更多“从0到1”的突破。

(1) 运用所学知识, 说明为什么要实现更多“从0到1”的突破。(6分)

材料二 2020年是深圳经济特区成立40周年, 几乎从零起步的深圳已成为国际知名的创新之都。创新是深圳的基因, 也是新的历史节点下这座城市发展的生命线和灵魂。以下是深圳科技创新的部分“简史”。



(2) 结合材料, 运用所学知识, 说明深圳的经验为我们走创新之路带来了哪些启示。(6分)

24. (10分) 北京市西城区在扶贫支援内蒙古自治区等地的过程中开展了一系列工作, 促进了当地的发展。当地老百姓在接受调研的时候说: “收入高了十几倍, 日子也越来越好过了。处处都是看得见的幸福。”

工作1	工作2	工作3
2019年, 西城区政府和企业共投入帮扶资金近30亿元。帮扶资金向产业和民生领域倾斜、向深度贫困村镇倾斜。农业种植园等项目在助力受帮扶地区产业发展、稳定贫困人口增收方面发挥重要作用。	2018~2019年间, 西城区46所中小学共选派百余名干部教师累计开展10余个教育扶贫项目, 培训课程2000课时, 培训了当地干部教师数千人次, 为提升帮扶地区教育质量起到了重要作用。	西城区与贫困地区医疗卫生机构结对帮扶率100%。医疗队还通过“手拉手”“结对子”“传帮带培”的方式, 为对口地区培养了一大批专业技术人才, 一支“带不走的医疗队”逐渐成长起来。

(1) 运用所学知识, 说明西城区如何助力贫困地区实现“处处都是看得见的幸福”。(6分)

(2) 运用所学知识, 说明开展扶贫支援工作的意义。(4分)



25. (8分) 每年的12月2日是全国交通安全日, 2020年的宣传主题是“知危险会避险 安全文明出行”。记者在街头采访时, 记录了以下信息。

行人: “路口绿灯时长过短, 无法以正常的速度通过, 不得已闯红灯。”

自行车车主: “机动车占用非机动车道停车, 总是担心司机突然打开车门。”

司机: “由于工作繁忙, 难免在开车时接打电话, 这样会节省时间, 一般也不会被发现。”

相关链接:

《中华人民共和国道路交通安全法》规定, 机动车应当在规定的地点停放。在道路上临时停车的, 不得妨碍其他车辆和行人通行。

《中华人民共和国道路交通安全法实施条例》规定, 驾驶机动车不得有拨打接听手持电话、观看电视等妨碍安全驾驶的行为。

北京市政府相关部门发布的《步行和自行车交通环境规划设计标准》(2021年4月1日起实施)中提出, 行人过街信号灯的绿灯时长应满足等候过街行人安全一次过街。过街行人的等候时长不宜大于90秒。

结合材料, 从全面依法治国的角度, 为保障道路交通安全提出合理建议。(8分)

26. (16分) “十四五”(2021~2025年)时期是中国全面建成小康社会、实现第一个百年奋斗目标之后, 开启全面建设社会主义现代化国家新征程、向第二个百年奋斗目标进军的第一个五年。五年规划编制涉及经济和社会发展方方面面, 同人民群众生产生活息息相关, 每个五年规划都是在分阶段落实国家总体发展战略。

材料一 2020年8月, “十四五”规划编制工作开展网上意见征求活动, 通过听取全社会意见建议, 把社会期盼、群众智慧、专家意见、基层经验充分吸收到“十四五”规划编制中。“十四五”规划建议起草组对数万件网民的建议内容进行逐条分析, 做到能吸收的尽量吸收, 对建议稿增写、改写、精简文字共计366处, 覆盖各方面意见和建议546条。像网友所提的“互助性养老”模式就被采纳写入了“十四五”规划建议。“十四五”规划意见征集是中国民主的生动实践。

(1) 结合材料, 运用所学知识, 谈谈你对我国社会主义民主的认识。(6分)



(2) 运用所学知识，说明我国社会主义民主的实现有哪些制度加以保障。(4分)

材料二 2020年11月，《中共中央关于制定国民经济和社会发展第十四个五年规划和二〇三五年远景目标的建议》正式发布。某报社在其宣传平台中对“2035年普通人的一天”做了如下畅想。

- 7:00 在清新的空气中迎接朝阳，准备开始新的一天。
- 8:00 乘坐新能源汽车前往公司，开启自动驾驶功能，通过语音与人工智能秘书确定一天的安排。
- 11:30 爸爸妈妈在社区老年人食堂就餐，食物可口又健康。
- 12:00 在全自动食堂用餐，选餐、制作、付款、清洁全部由智能化设备自动完成。
- 14:00 和“一带一路”沿线国家的合作伙伴举行线上会议，戴上VR设备身临其境地参观对方的工厂。
- 19:30 和孩子各自利用线上学习平台，完成今天的学习任务。

(3) 运用所学知识，说明如何让2035年美好生活的畅想变为现实。(6分)

密封线内不要答题