

历史



第一部分 选择题(共 45 分)

本部分共 30 小题,每小题 1.5 分,共 45 分。在每小题列出的四个选项中,选出最符合题目要求的一项。

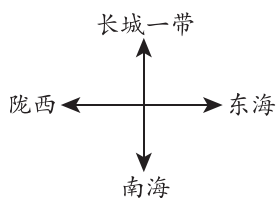
1. 北京人头盖骨及大量石器和用火遗迹的发现,使学界真正确认了直立人的存在,从而基本上明确了人类进化的序列,为“从猿到人”的学说提供了有力证据。这说明北京人

- A. 是我国已确认的最早古人类
- B. 是人类演进的重要阶段代表
- C. 已经会人工取火和保存火种
- D. 体貌特征已经与现代人相同

2. 以下内容属于商鞅变法措施的是

- A. 有军功者,各以率受上爵
- B. 秦民大悦,道不拾遗
- C. 商鞅虽死,但秦法未败
- D. 诸侯卑秦,丑莫大焉

3. 右图是我国古代某个时期的疆域示意图。属于这一时期的史实是



- A. 实行分封制
- B. 制定小篆颁行全国
- C. 设西域都护
- D. 以汉服代替鲜卑服

4. 到了汉武帝时代华夏民族大一统的国家伟业,完成了从地理空间到精神空间的整合与凝聚。以下促成“精神空间”凝聚的措施是

- A. 百家争鸣
- B. 焚书坑儒
- C. 独尊儒术
- D. 科举取士

5. 中医学在两汉时期已发展到较高水平。开创中医临床理论体系的是

- A. 李冰
- B. 张仲景
- C. 李时珍
- D. 宋应星

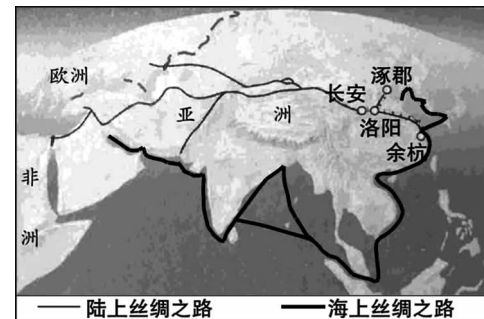
6. 右图刻画了北朝时人们使用杆秤的场景。该图可用于研究



北朝持杆秤的商人

- A. 内迁民族分布
- B. 南方文化发展
- C. 北方商业活动
- D. 海外贸易繁荣

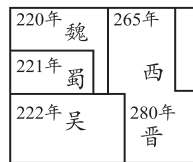
7. 时空观念是对事物与特定时间及空间的联系进行观察、分析的观念。对右图时空分析正确的是



- ①涿郡到余杭的水路是隋朝开凿的大运河
- ②涿郡、余杭分别是今天的北京和杭州
- ③大运河通航后联系了陆上、海上丝路
- ④都城长安是当时大运河的中心点

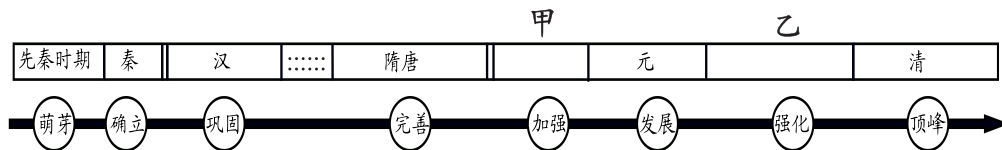
- A. ①③④
- B. ①②③
- C. ①②④
- D. ②③④

8. 比较下面两幅示意图,可以反映出的共同点是



- A. 并立的政权都是由汉民族建立
- B. 都蕴含着统一的历史发展趋势
- C. 都是对外文化交往的繁荣时期
- D. 都是北方经济发展领先于南方

9. 某同学以“君主专制的建立与强化”为主题整理了下面示意图。与甲、乙两处相关的史实是



- ①中央机构是由丞相、太尉、御史大夫统领
- ②枢密院管军事,三司管财政,分解了相权
- ③中央设中书省,下设六部,分管各项政务
- ④废丞相和中书省,提升六部职权,设内阁

- A. ①②
- B. ②③
- C. ②④
- D. ③④

10. 一位同学在学习某课知识后写下一副对联(见右图)。这一课的课题应是

东洋抗倭传威名
西洋远航成壮举

- A. 沟通中外文明的“丝绸之路”
- B. 唐朝的中外文化交流
- C. 宋元时期的科技与中外交通
- D. 明朝的对外关系

11. 以下是一位同学分类整理的中国古代人物,其中_____处应填

第一类 秦始皇 汉武帝 唐太宗 宋太祖
 第二类 李 白 _____ 关汉卿 曹雪芹
 第三类 陈 胜 张 角 黄 巢 李自成

- A. 吴广
- B. 贾思勰
- C. 苏轼
- D. 郑成功



12. 以下文物按时间先后排序正确的是



①契丹货币



②司(后)母戊鼎



③纸本地图



④金奔巴瓶

- A. ①②③④ B. ②③①④ C. ②①④③ D. ②①③④

13. 下列图片反映的研究主题是



林则徐销烟遗址



三元里平英团旧址



《南京条约》签订(绘画)

- A. 鸦片战争 B. 第二次鸦片战争 C. 甲午中日战争 D. 八国联军侵华

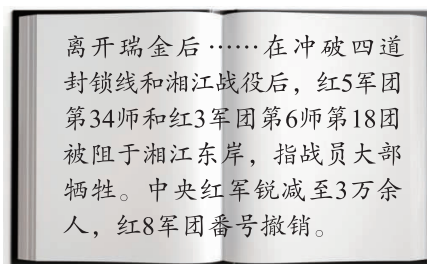
14. “英雄的城市”武汉有“首义之城”的美誉,是中国民主革命的重镇。使武汉在中国近代史上占有如此重要地位的历史事件是

- A. 黄花岗起义 B. 武昌起义 C. 南昌起义 D. 秋收起义

15. 周恩来曾说:“中国的新民主主义革命史,就是从天安门到天安门。”材料中“天安门”所指代的历史事件分别是

- A. 五四运动 新中国成立 B. 中国共产党成立 抗战胜利
C. 辛亥革命 新中国成立 D. 中国共产党成立 新中国成立

16. 右侧是一位同学阅读某回忆录时读到的内容,接下来他最有可能阅读的章节是

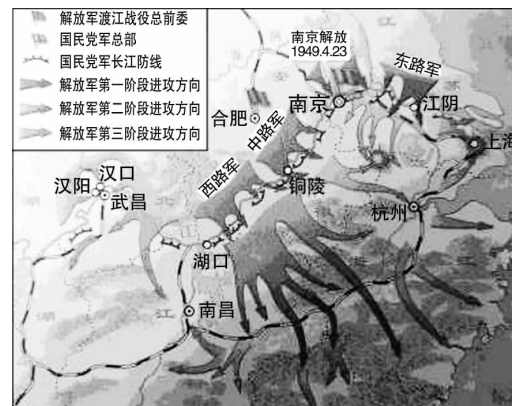


- A. 生死攸关在遵义
B. 革命军队初创建
C. 陕甘军民传喜讯
D. 百万雄师过大江

17. 对于亿万普通的中国人,尤其是占90%以上的农村人口来说,从1931年日本大举入侵中国开始,他们的家国观念由传统式向现代意识转变。这说明抗日战争

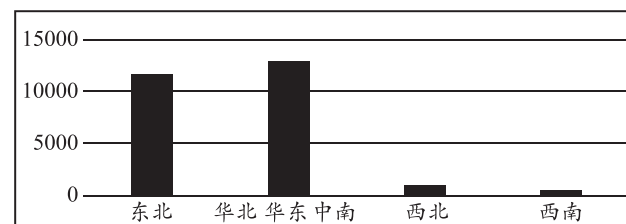
- A. 为维护世界和平作出贡献 B. 促进了中华民族的觉醒
C. 使中国国际地位得到提高 D. 奠定了民族独立的基础

18. 与下图反映的历史事件相关的口号是



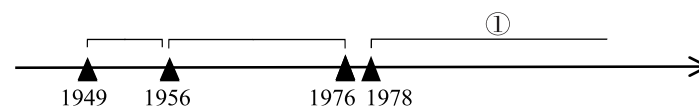
- A. “驱除鞑虏,恢复中华” B. “国民革命成功万岁”
C. “以必胜的信念抗战到底” D. “推翻蒋家王朝,建立新中国”

19. 以下是1876~1949年我国铁路里程及分布图(单位:公里)。该图可用于研究



- A. 近代公共设施分布不平衡 B. 多元发展的近代思想文化
C. 新旧并存的近代社会习俗 D. 近代新式军队的曲折发展

20. 以下示意图反映了新中国成立后的三个发展阶段,其中属于①阶段的史实是



- A. 抗美援朝,保家卫国 B. 一五计划,工业基础
C. 万隆会议,求同存异 D. 一国两制,成功实践

21. 1500年至1800年之间,可能有1亿以上的土著人口死于传播到美洲和太平洋岛屿上的天花等疾病。与这一现象相关的历史事件是

- A. 亚历山大东征 B. 十字军东征 C. 新航路开辟 D. 工业革命

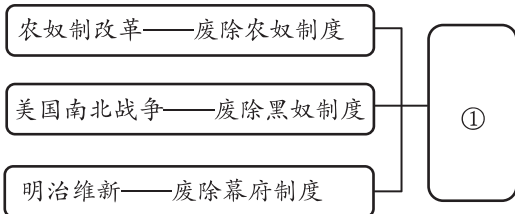
22. 比较下表两个文件内容,可以得出的共同点是

《大宪章》	《权利法案》
任何自由人,如未经其同级贵族之依法裁判	向国王请愿,乃臣民之权利,一切对此项请愿之判罪或控告,皆为非法。

- A. 提高了议会的地位 B. 推动了英国近代工业化
C. 限制了国王的军权 D. 利用法律保护臣民权利

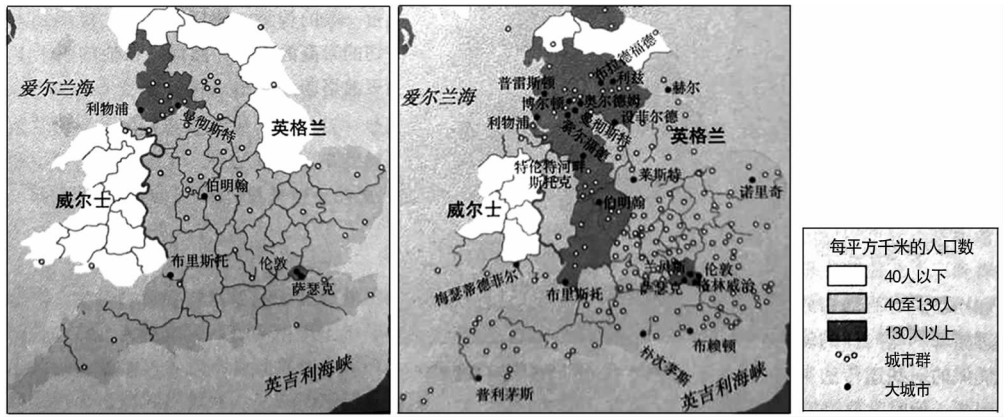


23. 右侧示意图①处应填写的内容是
- A. 资本主义力量进一步增强
 - B. 亚洲的民族解放运动高涨
 - C. 工业革命的浪潮席卷全球
 - D. 世界经济全球化速度加快



24. 1848年,马克思与恩格斯为共产主义者同盟起草的纲领标志着马克思主义诞生。该纲领是
- A. 《独立宣言》
 - B. 《人权宣言》
 - C. 《共产党宣言》
 - D. 《联合国宣言》

25. 以下两幅示意图反映的变化是



- A. 文艺复兴外传 B. 资本主义扩展 C. 城市化的发展 D. 工人运动兴起
26. 下列史实与结论对应正确的是

	史实	结论
A.	一战以同盟国的失败而结束	一战中协约国是正义的一方
B.	苏俄实行新经济政策征收粮食税	苏联放弃社会主义道路
C.	经济大危机对美国影响严重	经济大危机是一场全球性危机
D.	美国实施《国家工业复兴法》	新政加强了政府对经济的干预

27. 比较两次世界大战的共同点,其中正确的一项是
- A. 两次大战都是由突发事件引起
 - B. 两次大战都是帝国主义性质的战争
 - C. 两次大战都是从东方战场开始
 - D. 两次大战后都确立了新的国际秩序

28. “在赢得第二次世界大战胜利的同盟中,主要成员之间的关系已经破裂,它们尽管还没有发生军事冲突,但在意识形态和地缘政治方面,却已经处于对抗状态。”属于这种“对抗状态”的事件有
- ①杜鲁门主义出台
 - ②马歇尔计划实施
 - ③“北约”“华约”建立
 - ④欧洲联盟成立
- A. ①②④
 - B. ②③④
 - C. ①③④
 - D. ①②③

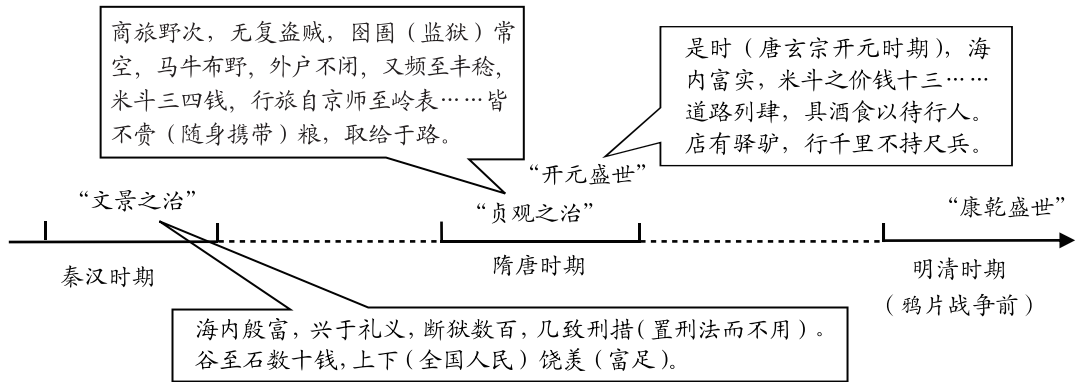
29. 历史解释是对史实的分析或评判。下列选项中属于历史解释的是
- A. 社会保障制度大体上包括社会保险和福利补助两大类
 - B. 1935年美国颁布《社会保障法》,向无依无靠者提供救济
 - C. 20世纪50年代美国几次修订《社会保障法》,扩大受益群体
 - D. 社会保障制度可以创造一个有利于经济发展的稳定的社会环境

30. 2020年3月2日起,中国成为联合国安理会轮值主席国。中方表示将把工作重点放在:加强多边主义,促进非洲和平与发展,发挥联合国维和行动关键作用等方面。这说明
- A. 中国在联合国事务中发挥重要作用
 - B. 联合国大会是联合国主要机构
 - C. 中国恢复在联合国的一切合法权利
 - D. 当今世界的地区冲突有所缓和

第二部分 材料分析题(共45分)

31. (11分)盛世·发展·小康·复兴

材料一 中国古代出现了“文景之治”“贞观之治”“开元盛世”“康乾盛世”等盛世局面。



(1) 依据材料一,比较我国古代盛世的共同点。(2分)

材料二 20世纪二三十年代,南京国民政府在振兴农业运动方面提出:增加农业生产,以达到粮食自给自足的初步目标。凡制肥、选种、改良农作方法、活泼农业金融、流畅农产运销,悉以合作社为指导并改进。一方面增加农业原料之生产量,同时提倡农业之就地加工制造。

——摘编自陆仰渊等《国民社会经济史》

(2) 依据材料二,说出南京国民政府推行农业政策的目的是与措施。(3分)



材料三 70年来,近8亿中国人脱贫。这个数字比整个欧洲的人口总和还要多。全面建成小康社会,一个也不能少。眼下中国正全力以赴实现一个看似“不可能完成的任务”。

被采访者	采访记录	被采访者	采访记录
 福建宁德市赤溪村村民 吴经国	35年前,我们村的人均收入在160多元。随着政府的扶贫力度不断增大,我们村现在的人均收入大概每个人都能达到18000多元。	 宁夏银川市闽宁镇村民 谢兴昌	1998年福建省给我们派来了种蘑菇的专家教授。当时我们搭蘑菇棚都不会搭,他们给我们手把手的教。
 山西省水池村“第一书记”夏成方	扶贫干部制度把党员派到农村,我们要做的就是用我们所有的资源和力量带领群众致富,改变农村面貌。	 民建贵州省委主委 李瑶	中国民主建国会确立了以黔西作为重点帮扶贫困县。应该说用这个实际行动践行和宣传了中国在中国共产党领导下的政治制度的优越性。

——摘编自《70年脱贫8亿人!美国小哥发现了中国奇迹的关键》

(3)依据材料三,说出“一个看似‘不可能完成的任务’”的具体内容,并分析中国可能实现这个任务的原因。(3分)

材料四 我国从经济上一穷二白发展为世界第二大经济体,主要工农业产品产量先后跃居世界前列,建立了世界上最完整的现代工业体系。1949~2017年,城镇人口数量从5763万上升到81347万,城市数量由132个发展到近700个。我国的政治体制改革不断深化,人民当家作主的制度保障和法治保障更加有力。2018年,我国国家创新能力排名升至全球第17位。

作为最大的发展中国家,各个方面的经验给那些既希望加快发展又希望保持自身独立性的国家和民族提供了一个有别于西方的发展模式。截至目前,中国参加了100多个政府间国际组织,签署了300多项国际公约,提出了“一带一路”倡议和构建人类命运共同体的设想。

——摘编自季正聚《新中国70年:辉煌成就、基本经验与内在逻辑》

(4)依据材料四,概括新中国成立70年以来取得的成就及对世界的贡献。(3分)


32.(11分)机器的演化呈现了文明历程,推动着文明发展。

材料一 对欧洲来说,印刷机就是现代文明的播种机。大规模印刷的廉价书籍刺激了大众教育,识字人口大量增加。许多出身卑微的人通过阅读与教育改变了自己的社会地位,正是这些草根大众推动了后来发生的一系列社会变革。印刷机强化了语言群体之间的壁垒,使墙内的语言标准化、同质化,形成集体意识和民族主义。因为有了印刷机,人文主义思想以前所未有的速度传播到前所未有的众多人群中去,潜移默化地改变了人们的思想观念,权利、平等和自由受到人们普遍的关注。

——摘编自杜君立《文艺复兴与印刷术》

(1)依据材料一,说明印刷机被称为欧洲“现代文明的播种机”的原因。(3分)

材料二

	
14~19世纪中国普遍使用的单锭手摇纺车	18世纪英国可支持8-80锭的“珍妮机”
英国公众已愈来愈喜爱最初是从印度进口的棉织品。因此,强大的旧毛纺行业设法通过了禁止进口棉布或棉织品的法律,这就为当地工业创造了一个独特的机会。1754年,为鼓励那些促进了生产的发明,“技艺、制造业及商业奖励会”成立。该会为已被确定的成就提供金钱、奖章和其他报酬。这些有利条件导致了一系列发明的产生。	
——摘编自斯塔夫里阿诺斯《全球通史》	

(2)依据材料二,分析中英纺纱机之间的差异所产生的影响。(1分)概括英国在这一领域取得突破的有利条件。(2分)

材料三 在一定意义上,人类文明史就是机器进化史。内燃机和电力的出现,大大推动了工厂的组织变革,亨利·福特的“流水线生产”就是其中代表。在流水线生产过程中,工人不需要来回走动,传送带将车辆运到他面前,这大大节省了汽车装配的时间。每个工人只需熟悉掌握一个装配任务,而且这一技术往往只需要两天就可以轻松上手,解决了传统汽车制造业技术工人不足的困境。

——摘编自杜君立《现代的历程》

(3)依据材料三,概括“流水线生产”的优势。(2分)





材料四 钟表、印刷机、纺织机、蒸汽机、计算机如同一座座里程碑。这些机器带给我们丰裕(角度一),也带给我们焦虑(角度二)……

(4)从材料四中任选一个角度用史实加以说明。(3分)

33. (12分)报刊是了解世界的一个窗口。

材料一

报刊名称		
报刊简介	<p>《京报》是我国古代报纸的代表,为朝廷官办,清政府被推翻后停刊。以刊载官方文件、官场动态和宫廷消息为主。读者主要是官吏、士绅和商人。</p>	<p>《申报》是1872年由美国人创刊,以赢利为主要目的的中国第一份商业报纸。十分注重新闻的真实性,内容涉及政治、经济、民俗等诸多方面。</p>

(1)依据材料一,比较《京报》和《申报》的不同点。(2分)

材料二 1915年创刊后,《新青年》以“科学”“民主”为口号,在政治上反对君主专制,思想上反对封建礼教,并展开了文学革命活动,大力倡导白话文。1917年至1922年间,马克思主义在中国的传播盛极一时。《新青年》在主要宣传马克思主义的同时,适当兼顾不同思想倾向人的来稿。1923年到1926年,作为正式的党内刊物,以宣传马克思主义、介绍国际共产主义运动经验、结合马克思主义解决中国革命实际问题为主。

——摘编自何毅等《从目录看〈新青年〉的转变》

(2)依据材料二,概括《新青年》杂志在宣传内容方面的变化。(2分)结合所学,分析变化产生的原因。(2分)

材料三 美国《时代周刊》每年都要评选“年度风云人物”。在第二次世界大战期间,以下三位国家领导人都曾获选。



①1940年·丘吉尔 ②1941年·罗斯福 ③1942年·斯大林

(3)“年度风云人物”的评选宗旨是:“选出对新闻和人们生活影响最为重大的人,不管是好是坏。”仿照示例,从②或③中任选其一介绍入选理由。(2分)

示例:①1940年·丘吉尔:1940年丘吉尔出任英国首相,在法国投降后,下令组织了著名的“敦刻尔克大撤退”。后又领导不列颠空战,最终取得胜利,使希特勒的英伦登陆作战计划无限期推迟。

材料四 为深入了解改革开放,某同学搜集了以下文章:

- ①《北京晚报》纪念恢复高考40年特别报道《回顾高考如何改变中国》
- ②《诗刊》王兴伟的《高铁时代》
- ③《中国作家·纪实版》曾平标的《中国桥——港珠澳大桥兴建始末》
- ④《人民日报》文章《向海图强,守卫万里海疆》
- ⑤《人民日报》文章《只有深化教育教学改革,才能更好地全面提高义务教育质量》
- ⑥《光明日报》文章《中国军事五项队闪耀军运会赛场》

(4)依据材料四并结合所学,概括以上文章所体现的主题,并说明确定该主题的理由。(3分)

要求:仿照示例,完成表格。

示例:

主题	科技成就	
材料	②	③

主题		
材料		

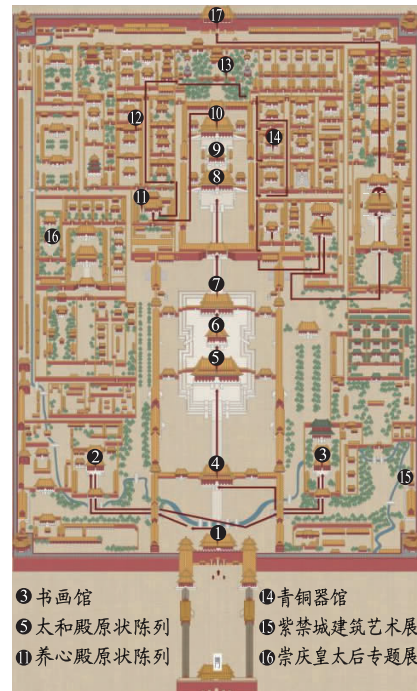
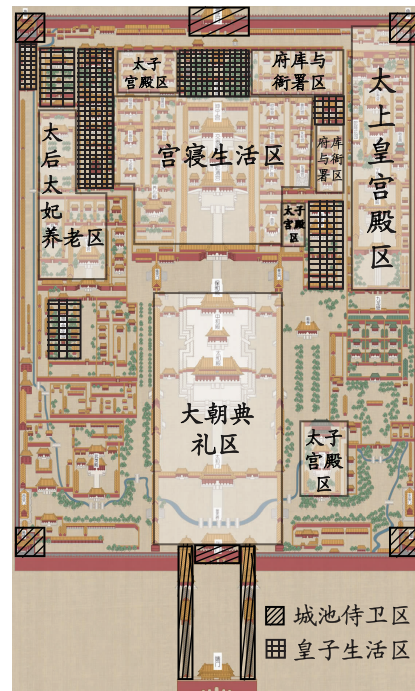
(5)依据以上材料,说出报刊在人们了解世界中的作用。(1分)



34. (11分)2020年是紫禁城建成600周年,故宫博物院建院95周年。某校历史教师组织“云游故宫”实践活动。

【游览故宫】

材料一



紫禁城功能分区示意图

故宫博物院展览(部分)示意图

(1)依据材料一,说出故宫功能定位的变化及其意义。(2分)

【观展故宫】《天下龙泉——龙泉青瓷与全球化》网络全景展厅

材料二 从南宋到明代早期,龙泉青瓷在当时全世界范围内的流程度和时尚效应,在新航线开辟以前的东西方文化交流史上无出其右者。从国内外考古资料所见,南宋时期的龙泉青瓷已经成为当时中国最主要的外贸商品,在旧世界的传统贸易区域内到处都可以看到龙泉青瓷的身影。尤其是越南、泰国、伊朗、埃及和日本、英国等地,都曾仿烧过龙泉青瓷,这种仿烧表现为对釉色、造型或装饰的模仿,这种模仿是对来自中国的龙泉青瓷及龙泉青瓷所代表的瓷器文化的认同。也正是这种广泛认同,使中国输出的龙泉青瓷也开始从单纯的商品输出转向更深层的文化与技术层面的输出。

——摘编自王光尧等《天下龙泉——龙泉青瓷与全球化》

(2)结合所学,说出南宋管理海外贸易的机构。(1分)依据材料二,分析展览名称使用“天下龙泉”的理由。(2分)

【探索故宫】

材料三 上书房是清代皇子们读书的地方。“四书五经”是皇子蒙学的主要内容,康熙朝以后的历代皇帝都挑选饱学大儒充任上书房的师傅教皇子读儒家经典。到了清代晚期,


上书房读书的内容也由于一些开明师傅的努力而有所变化,比如在帝师翁同龢的苦心下,光绪皇帝的读书单里增加了《海国图志》《校邠庐抗议》(注:改革政论文章合集)《关税出入表》等新内容,翁同龢还让光绪皇帝阅读出访列国使臣所写笔记、日记,这些变化对于促进光绪皇帝形成革新思想不无干系。

——摘编自曾诚《皇子的课程表——清代皇子的蒙学与教养》

(3)依据材料三,说出清代皇子上书房读书内容的变化及其原因。(2分)说出“光绪皇帝形成革新思想”后促成的历史事件。(1分)

【传承故宫】

材料四 有学者说:要把壮美的紫禁城完整地交给下一个600年。文创产品正是吸引大众加入下一个600年传承的亲民形式。

序号	文物	产品名称	推广词
①	 殷王武丁贞问妇媯疾刻辞卜甲		
②	 “汉并天下”瓦当		
③	 《王羲之行书兰亭序卷》(摹本)		
④	 《清明上河图》(局部)	示例: 清明上河图书签	示例: 这个书签上的内容是《清明上河图》的局部。画面描绘的是北宋汴京城汴河桥上的场景,反映了北宋商品贸易的繁荣。

(4)在材料四中,任选一件文物,设计一件文创产品,并写一段推广词。(3分。仿照示例完成,示例除外)



北京市大兴区 2020 年初三检测试题

历史参考答案及评分标准

第一部分 选择题（共 45 分）

1	2	3	4	5	6	7	8	9	10	11	12	13	14	15
B	A	B	C	B	C	B	B	C	D	C	B	A	B	A
16	17	18	19	20	21	22	23	24	25	26	27	28	29	30
A	B	D	A	D	C	D	A	C	C	D	D	D	D	A

第二部分 材料分析题（共 45 分）

31. (11 分)

- (1) 经济发展；人民生活有所提升；社会稳定。（2 分。答出两点即给分）
- (2) 增加农业生产，达到粮食自给自足。（1 分）以合作社指导农业生产；增加农业原料生产；就地加工。（2 分。答出两点即给分）
- (3) 全面脱贫。（1 分）政策扶持、制度优势、党员奉献、个人努力。（2 分。答出两点即给分）
- (4) 成就：经济发展迅速；工农业生产位列世界前茅；城市化发展快；政治体制改革深化；创新能力提升。（2 分。答出两点即给分）
贡献：为世界提供了不同的发展模式；在国际事务中发挥积极作用。（1 分。答出一点即给分）

32. (11 分)

- (1) 推动教育发展；加强民族认同感；促进思想解放；推动欧洲近代社会变革。（3 分。答出三点即给分）
- (2) 影响：“珍妮机”生产效率更高，推动了英国纺织业的发展。（1 分）
条件：纺织品需求旺盛的刺激；社会对技术发明的鼓励。（2 分）
- (3) 缩减生产时间；降低技术要求。（2 分。答出两点即给分）
- (4) 选择角度一：蒸汽机的改良与推广为生产提供了更有效便捷的动力，大大提高了生产力水平，产品产量提升，人类进入“蒸汽”时代，所以说机器带给我们丰裕。
选择角度二：蒸汽机以煤作为主要燃料，导致环境污染，不利于人们的身体健康，也不利于人类的可持续发展，所以说机器带给我们焦虑。（角度明确 1 分；史实表述准确 1 分；史实与角度之间的逻辑表述清晰 1 分）

33. (12 分)

- (1) 不同点：报刊版面不同：《京报》是传统竖排版，《申报》版面形式多样。创办时间不同：《京报》是我国古代报纸；《申报》创办于近代。创办者不同：《京报》是封建朝廷官办；《申报》由个人创办。刊登内容不同：《京报》都是官方消息；《申报》内容广泛。（2 分。答出两点即给分）
- (2) 变化：由创办之初宣传“民主”“科学”到 1917 年后宣传马克思主义且兼顾其他思想，再到 1923 年后以宣传马克思主义并结合马克思主义解决中国革命实际问题为主。（2 分）
原因：受到俄国十月革命胜利的影响，先进的知识分子开始宣传马克思主义。五四运动之后更是与中国工人运动相结合。（1 分）中国共产党成立后成为党内的正式刊物，主要宣传马克思主义。（1 分）

(3) ②1941年·罗斯福：1941年底，珍珠港事件爆发，罗斯福总统宣布美国参战并促成世界反法西斯联盟的建立。

③1942年·斯大林：1942年，斯大林格勒战役爆发，斯大林领导苏联军民顽强作战，年底战争趋于胜利，成为二战的转折点。

(2分。说出所选人物与获选时间对应的史实1分，影响1分)

(4) 主题：教育成就 材料：①⑤

材料①⑤是从恢复高考对中国的影响和提高当今义务教育质量的角度来说改革开放的成就，因此确定主题为教育成就。

主题：大国强军 材料：④⑥

材料④⑥分别从我国海军和军运会的角度介绍了军队建设取得的成就，因此确定主题为大国强军(主题1分，材料1分，说明理由1分)

(5) 报刊保留了大量的史料，报刊取材公开、广泛，可以帮助人们取得历史史实的第一手资料。报刊内容丰富，涵盖范围广，是人们认识、了解世界的一个窗口。(1分。言之有理即可得分)

34. (11分)

(1) 从维护皇帝统治及皇家日常生活，到用于展览参观及文物保护。(1分) 彻底扭转了故宫封建统治的功能地位；有助于各类文物的保护与研究；有助于历史文化的传承与发展。(1分。答出一点即给分)

(2) 市舶司。(1分) 销售范围广；影响力大；得到文化认同。(2分。答出两点即给分)

(3) 变化：从学习儒家经典到涉猎西方文化。(1分) 原因：西方列强的入侵；开明官员的努力。(1分) 戊戌变法或百日维新。(1分)

(4) 答题示例：

①甲骨冰箱贴。(1分) 这个冰箱贴是以《殷王武丁贞问妇姪患疾刻辞卜甲》为原形制作，展现了商朝时用于占卜的甲骨，上面的甲骨文有助于了解商时期的历史。(2分)

②瓦当钥匙扣。(1分) 这个钥匙扣是以“汉并天下”瓦当为原形制作，是当时房屋建筑的构件，展现了大汉王朝一统天下的局面。(2分)

③王羲之行书兰亭序卷鼠标垫。(1分) 这个鼠标垫上的内容是《王羲之行书兰亭序卷》。鼠标垫展现了东晋王羲之所写的天下第一行书《兰亭集序》，展现了王羲之的书法成就，他被称为“书圣”。(2分)

