



# 历史

2022. 05

学校 \_\_\_\_\_ 姓名 \_\_\_\_\_ 准考证号 \_\_\_\_\_

考 生 须 知	1. 本试卷共 8 页，共两部分，共 24 题，满分 70 分。考试时间 70 分钟。 2. 在试卷和答题卡上准确填写学校名称、姓名和准考证号。 3. 试题答案一律填涂或书写在答题卡上，在试卷上作答无效。 4. 在答题卡上，选择题用 2B 铅笔作答，其他试题用黑色字迹签字笔作答。 5. 考试结束，请将本试卷、答案卡和草稿纸一并交回。
------------------	---

## 第一部分

本部分共 20 题，每题 1.5 分，共 30 分。在每题列出的四个选项中，选出最符合题目要求的一项。

1. 著名考古学家夏鼐曾评价说“商代文化实在是一个灿烂的文明……一个高度发达的文明”。下列文物中属于商代创造的文明成果的是



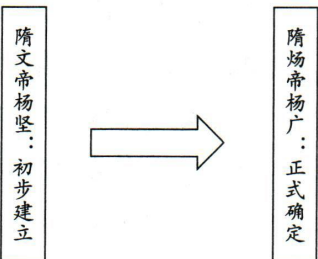
- ①良渚玉琮      ②半坡人面鱼纹彩陶盆      ③殷墟甲骨文      ④司母戊鼎
- A. ①②      B. ③④      C. ①③      D. ②④

2. 秦朝建立后，推行“书同文”、“车同轨”、统一度量衡等措施。这些措施的推行

- A. 加强了对各地诸侯的控制      B. 确立了三公九卿的政治体制  
C. 巩固了统一的多民族国家      D. 加重了劳动人民的赋役负担

3. 右图为某学生阅读教科书所做的读书笔记。依据其内容判断，他正在学习

- A. 分封制      B. 郡县制  
C. 科举制      D. 行省制



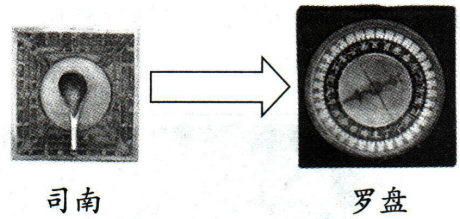
4. 元朝时，腹里地区（今河北、山东、山西及内蒙古的一部分）每年向朝廷交纳粮食 227 万石，而江浙地区每年交纳粮食达 449 万石，江浙地区纳粮占全国“岁入粮数”的 37%。以上现象可以说明元朝时

- A. 北方商业繁盛      B. 疆域面积广大  
C. 南北发展均衡      D. 南方已成为经济重心

作用：促进了社会阶层的流动，同时也推动了教育的发展。

5. 右图所示为中国古代某项科技成就的发展。该科技成就

- A. 改变了中国政治制度
- B. 发展了中医治疗理论
- C. 促进了远洋航海发展
- D. 丰富了文学艺术宝库




6. 明朝小说《初刻拍案惊奇》中描写安徽商人程德瑜专走川、陕等地贩货，大得其利。在《二刻拍案惊奇》中也描写另一安徽商人程宰，到东北辽阳为商，贩卖人参、貂皮等，往来数年。以上故事情节折射出明朝

- A. 外贸得到政府的支持
- B. 外来高产作物得到推广
- C. 工场手工业快速发展
- D. 商人积极从事长途贸易

7. 从文物中获取信息是我们学习历史的方法。下列直观地反映中央政府加强对少数民族地区管理的文物是




A. 蹴鞠铜镜



B. 泥活字版



C. 青花扁壶



D. 达赖金印

8. 某学生搜集到右图所列历史人物的相关资料，他学习的主题应是

- A. 金属冶炼工艺新
- B. 天文算学铸辉煌
- C. 治病救人传医术
- D. 文学艺术源流长



张仲景



华佗



李时珍

9. 19世纪60年代起洋务派掀起了旨在“自强”“求富”的洋务运动；19世纪末，中国北方兴起了义和团运动。这两件历史事件发生的共同背景是

- A. 维新思想的传播
- B. 民族危机的加深
- C. 民族企业的发展
- D. 民主观念的传播

10. 下表中呈现的是1919年5月北京政府警察厅对被捕学生的供词笔录（节选）。透过这份供词笔录，我们可以了解五四运动的

姓名	学校	年龄	参加游行原因	事发现场
许德珩	北京大学	26	昨晚在法科大礼堂参加集会得知中国外交失败。今日中午在北大操场集合，然后去天安门。	在队伍后面，未进曹宅，不知因何起火，走至石大人胡同处被抓捕。
熊天祉	北京大学	21	因阅报载青岛归日本，关系中国存亡。今早同学约我前往天安门开会。	在队伍后面，在曹宅门外“意图辱骂是实”。





- ①爆发背景
- ②具体细节
- ③运动结果
- ④历史影响

- A. ①②
- B. ③④
- C. ②③
- D. ①④





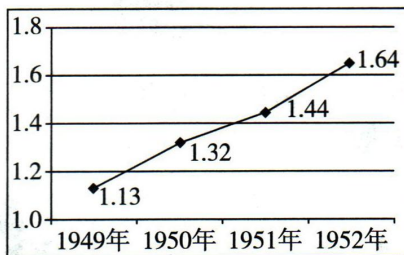
11. 雕塑作品能够形象地反映历史场景。下列四幅雕塑作品所表现的历史事件按其发生的顺序排列正确的是

	
①南昌起义	②共商国是——中国人民政治协商会议第一次全体会议
	
③敌后抗日游击战	④人民解放军胜利渡长江

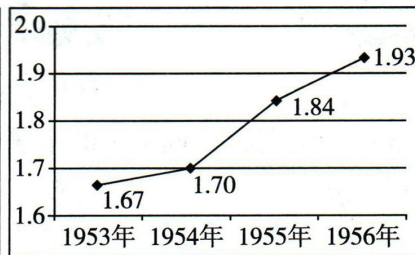
- A. ①③④②      B. ②①③④      C. ③①②④      D. ④①②③

12. 对下列数据变化原因解释正确的是

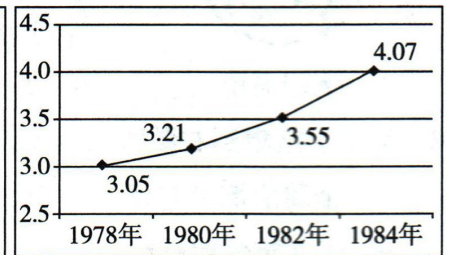
中华人民共和国不同时期粮食产量变化（单位：亿吨）



图一



图二



图三

- ①图一：与实施《中华人民共和国土地改革法》有关  
 ②图二：与广泛开展农业合作化运动有关  
 ③图三：与推行家庭联产承包责任制有关  
 ④综合因素：农业投资在经济投资总额中占据首位



- A. ①②③      B. ①②④      C. ①③④      D. ②③④

13. 不同时期的奋斗具有独特的时代精神风貌。从下列成就取得的过程中可凝练出

- A. 两弹一星精神  
 B. 改革开放精神  
 C. 载人航天精神  
 D. 抗击非典精神

- 1964年，我国第一颗原子弹爆炸成功
- 1966年，我国第一次成功进行了发射导弹核武器的试验
- 1967年，我国第一颗氢弹爆炸成功
- 1970年，我国成功发射了第一颗人造地球卫星——东方红一号

14. 在一幅反映15世纪末新航路开辟的木刻画中，西班牙国王位于画面左侧，中间是三艘登陆美洲加勒比海岛的船只，画面右侧显示一位航海家登上岛屿，正替国王宣示对此地的所有权。画中的这位航海家应是

- A. 迪亚士      B. 达·伽马      C. 哥伦布      D. 麦哲伦



15. 民歌蕴含着丰富的历史信息。右图所列为十七世纪末英国民歌《呢绒商的快乐》内容节选，材料反映出当时英国

我们聚集金银千千万，都是榨自穷光蛋。  
多亏广大穷人早晚忙，我们才能发家致富住高房。  
梳匠、纺织工、漂匠排成行，为了极少工资把活扛。  
他们劳动我发财，受到咒骂又何妨。

- ①手工工场中存在劳动分工
- ②机器生产提高了生产效率
- ③资本主义生产的雇佣关系
- ④殖民扩张造成东西方差距加大

A. ①②                      B. ①③                      C. ②④                      D. ③④

16. 某历史公众号准备推送一期专题——十九世纪资本主义制度的扩展。下列各项可以放进专题资源包的是

- ①文献：莎士比亚手稿
- ②图片：俄国贵族宣读“解放”农奴的法令
- ③地图：美国内战形势图
- ④视频：权威重构与明治维新

A. ①②③                      B. ①②④                      C. ①③④                      D. ②③④

17. “二战的一个重要根源，即在于第一次世界大战后战胜国对世界做出的和平安排之中。”能够为此观点提供证据的是

- A. 同盟国和协约国形成
- B. 美国加入协约国对德作战
- C. 俄国爆发了十月革命
- D. 凡尔赛 - 华盛顿体系形成


18. 若概括下列历史人物的共同特征，他们都是



玻利瓦尔  
(1783-1830年)



章西女王  
(约 1835-1858年)



甘地  
(1869-1948年)




扎格鲁尔  
(1857-1927年)

- A. 反对封建专制的革命者
- B. 反抗殖民压迫的民族英雄
- C. 推动改革内政的政治家
- D. 主张非暴力抵抗的爱国者

19. 漫画《来自西边的风》创作于1948年7月，漫画中立于云端之上的西风神（ERP，实际是马歇尔计划的缩写）正鼓起双腮，向寓意欧洲（Europe）的大风车吹来劲风，大风车转动起来，吹走了欧洲的严寒。这幅漫画说明了美国企图

- A. 通过新政缓解资本主义世界经济危机
- B. 通过经济援助稳定欧洲资本主义秩序
- C. 建立军事同盟与社会主义阵营相抗衡
- D. 革新技术谋求资本主义世界霸主地位



20. 某国际组织的首要宗旨是：“维持国际和平及安全；并为此目的：采取有效集体办法，以防止且消除对于和平之威胁，制止侵略行为或其他和平之破坏；并以和平方法且依正义及国际法之原则，调整或解决足以破坏和平之国际争端或情势。”该国际组织是

- A. 联合国
- B. 北大西洋公约组织
- C. 亚太经合组织
- D. 世界贸易组织

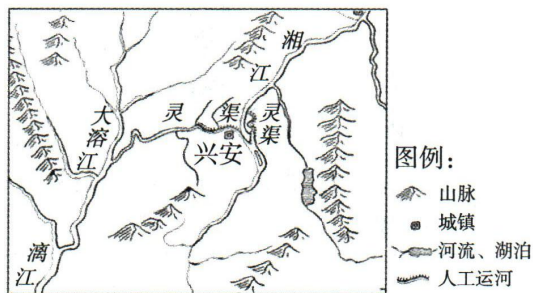


## 第二部分

21. (10分) 水利工程的兴修影响非凡。

### 材料一 灵渠开通泽后世

为解决军粮运输问题，秦朝在广西兴安境内开凿沟通长江水系和珠江水系的灵渠（见右图）。公元前214年，灵渠凿成通航，大批粮草经水路运往岭南。依靠充足的物资供应，秦兵攻克岭南，随即设桂林、象、南海三郡，岭南纳入秦朝版图。




2000多年来，岭南以北的物资多通过灵渠运往岭南，而两广地区的商品也经灵渠运到长江流域及以北的中原地区。当今灵渠仍然灌溉着20000亩土地。

(1) 依据材料一，概括灵渠的作用。(2分) 再列举一项著名的中国古代水利工程。(1分)

### 材料二 红旗渠水绕太行

为解决林县人民长期缺水的困难，1960年3月中共林县县委决定引漳河水入林县并把引漳入林工程正式命名为“红旗渠”。中共林县县委带领30万林县人民，科学设计，精心施工，靠一锤、一钎、一双手，苦战10年，削平1250座山头，架设152个渡槽，打通211条隧道，在太行山悬崖绝壁上，凿出了一条长1500公里的“生命之河”。1965年4月红旗渠总干渠通水。自此，林县彻底改变了靠天吃饭的现状，实现了“引得清水天上来”的美好梦想。



(2) 依据材料分析红旗渠成功修筑的原因。(2分)

### 材料三 苏伊士运河多磨难

1858年，法国驻埃及领事与埃及政府签约，法国获得了开凿、控制、经营苏伊士运河等权益。经过埃及人民的挖掘，运河于1869年11月通航。

苏伊士运河通航后国际航运里程变化一览表

起止点	沿非洲绕行好望角	从地中海经苏伊士运河
伦敦——孟买	17400km	10100km
马赛——孟买	16000km	7400km
伦敦——新加坡	18990km	13350km

1882年，英国骑兵进驻运河区。1888年后，苏伊士运河长期被英国控制。为收回苏伊士运河，埃及人民不断斗争。

1952年埃及共和国成立后，埃及政府坚决要求收回苏伊士运河，经过长期斗争，最终迫使英国撤走了占领军并将运河主权交还埃及。1956年，埃及总统纳赛尔宣布苏伊士运河收归国有。

(3) 依据材料三中的表格资料，指出苏伊士运河通航的意义。(1分)

(4) 依据材料三，概括苏伊士运河管辖权的变化。(2分) 你如何评价埃及人将苏伊士运河收归国有的行为?(2分)





22. (10分) 服饰折射出历史的发展。

材料一

		
<p>①彩陶靴，发现于青海省，属于新石器时代辛店文化类型。</p>	<p>②北魏洛阳贵族墓出土女俑的服饰线描图。其窄袖衣服具有鲜卑特点，宽袖则具有汉族风尚；高腰表现北魏崇尚骑马的风俗，腰线上提展现出女性优美。</p>	<p>③《礼宾图》(局部)，陕西乾县唐代章怀太子墓壁画。其中既有唐朝官员，还有拜占庭帝国、日本等国的使节。</p>

(1) 选择一个研究主题和相应的一则材料，并说明选择材料的理由。(3分，仿照示例完成，抄写答题示例不得分)

研究主题 A：对外交往	研究主题 B：民族交融	研究主题 C：史前文化
-------------	-------------	-------------

【答题示例】

研究主题：C

选择材料：①

理由：出土文物彩陶靴，属于史前时期。据此，可以了解青海地区新石器时代的服饰和制陶的具体状况。

材料二 工业革命中的机器生产对服装的影响最为明显：缝纫机的发明为服装制造业发展开辟了道路；机器在服装业的普遍使用需要服装的规格化、标准化支持，才能保证批量生产，于是出现了裁衣的样板；量体裁衣逐渐让位于标准化服装裁剪，成衣的概念应运而生，并逐渐成为大众消费模式的主流；化学纤维工业发展使原料供给更加丰富。

——摘编自冯泽民 刘海清《中西服装发展史》

(2) 依据材料二，概括工业革命对服装生产的影响。(3分)

材料三 20世纪70年代末80年代初，国内外文化碰撞激烈，青年人追求时尚，喇叭裤成为时尚青年的首选，也遭到很多人的反对和抵制。随着人们思想解放，喇叭裤最终风靡大街小巷。20世纪80年代，随着国外新潮服饰的流入，耐穿耐脏、款式多变的牛仔裤和凸显个性的健美裤开始流行；随着中国女排在世界竞技场上实现了“五连冠”，带动体育事业迅速发展，运动装也成为日常生活中的时髦便服，很多学校也把运动服作为学生的校服。

(3) 依据材料三，概括20世纪70年代末到80年代服饰的特点，(2分)并分析特点成因。(2分)





23. (8分) 信息传播方式随社会发展不断变化。

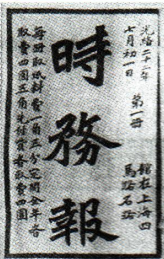


**材料一** 晚清时期容闳在上海创办《汇报》，其中介绍工商业状况的商情和刊登的各类广告就占据4个版面。上海的《昭文新报》《汇报》《述报》《循环日报》等很多报刊开设“航船日期”“银行市面”“各货行情”“各行告白”等栏目，刊登各类商业广告。

武昌起义前革命团体日知会创办报刊阅览室，“始则渐增革命书报，继而吸引同志，进行组织”“吾鄂各学堂，对于《湖北学生界》及革命刊物，人人秘手一册，递相传播，皆欲奋起”。

——摘编自马晓军《近代报刊对辛亥革命前后中国社会的影响》

(1) 依据材料一概括近代报刊产生的影响。(2分)

**材料二** 为研究近代报刊，某校历史学习小组收集到如下资料并开展研究：




 <p>①梁启超在《时务报》上发表《变法通议》，强调“法者，天下之公器也，变者，天下之公理也”。《时务报》_____。</p>	 <p>②1915年9月陈独秀在《青年杂志》发表《敬告青年》，反对封建礼教，提倡民主与科学。《青年杂志》_____。</p>	 <p>③《红星》报是中国工农红军军事委员会最早的机关报，1931年12月创刊于江西瑞金，对农村革命根据地和长征多有报道，深受军民欢迎。《红星》报_____。</p>
--	---	--

(2) 从②③中任选一则报刊，参照示例，将材料中画横线处的内容补充完整。(2分，抄写答题示例不得分)

【答题示例】《时务报》宣传变法主张，推动了维新变法运动的开展。



**材料三** 信息传播方式的变化

		
<p>图1 魏晋墓中出土的《驿使图》</p>	<p>图2 1876年美国人贝尔发明了电话</p>	<p>图3 2011年开发的手机即时通讯服务程序——微信</p>

(3) 依据材料三，分别指出图2、图3中的科技发明的背景。(2分) 分析从图1到图3信息传播方式变化及影响。(2分)



24. (12分) 民众推动着历史的发展。

材料一 民众与古代著作

<p>A. 作者贾思勰，此书系统总结了6世纪及以前黄河流域传统农业生产经验和技術。</p>	<p>B. 作者宋应星，此书共18卷，农业生产技术约占了全书三分之一，对手工业的介绍几乎涉及了明代所有手工业部门。</p>
---	---

(1) 请将下列评价与上述著作正确对应。(2分, 答题要求: 只填写字母即可)

① “十七世纪的中国工艺百科全书”——( )

② “中国古代农业百科全书”——( )

(2) 依据材料一, 概括两部著作的共同特点。(2分)



材料二 民众与群众路线

<p>八路军129师开赴太行地区后, 在多地与日军展开血战, 痛击日军, 而且不拿群众一针一线, 帮助农民生产劳动。许多农村青年怀着崇拜八路军的思想参了军。</p>	<p>八路军抗日动员大会</p>	<p>1939年2月, 中共中央号召抗日根据地全体党政军民开展大生产运动。毛泽东、朱德等中央领导人亲自动手, 种菜纺纱。第120师第359旅屯田垦荒, 将荒无人烟的南泥湾变成“到处是庄稼, 遍地是牛羊”的“陕北的好江南”。</p>
--	------------------	---

(3) 依据材料二, 概括中国共产党领导的抗日根据地建设的成功经验。(3分) 结合所学, 指出中国共产党为全民族抗战胜利所作的贡献。(1分)

材料三 中华人民共和国成立后, 涌现出许多英雄模范人物。部分英模人物如下:



① 黄继光



② 王进喜



③ 焦裕禄



④ 雷锋



⑤ 袁隆平



⑥ 屠呦呦

(4) 任选一位英模人物, 写一段解说词, 向同学们介绍他(她)的杰出贡献。(2分)

材料四

<p>“人民, 只有人民, 才是创造历史的真正动力” “为人民服务”</p>	<p>——毛泽东</p>
<p>“中国人民将通过自己的创造性劳动, 根本改变自己国家的落后面貌, 以崭新的面貌, 自立于世界的先进之列, 并且同各国人民一道, 共同推进人类的正义事业” “我深情地爱着我的祖国和人民”</p>	<p>——邓小平</p>
<p>“人民就是江山, 共产党打江山、守江山, 守的是人民的心, 为的是让人民过上好日子。我们党的百年奋斗史就是为人民谋幸福的历史”</p>	<p>——习近平</p>

(5) 综合材料二、三、四, 说明中国共产党与人民的关系。(2分)