



顺义区 2023 年初中学业水平考试第二次统一练习

历史试卷

学校 _____ 班级 _____ 姓名 _____ 准考证号 _____

考生须知

1. 本试卷共 8 页,共两部分,共 24 题,满分 70 分。考试时间 70 分钟。
2. 在答题卡上准确填写学校、班级、姓名和准考证号。
3. 试题答案一律填涂或书写在答题卡上,在试卷上作答无效。
4. 在答题卡上,选择题用 2B 铅笔作答,其他试题用黑色字迹签字笔作答。
5. 考试结束,将答题卡交回。

第一部分 选择题(共 30 分)

本部分共 20 小题,每小题 1.5 分,共 30 分。在每小题列出的四个选项中,选出最符合题意的一项。

1. 下表整理了我国境内早期人类部分考古成果,据此可以研究

时间	距今约 70 万-20 万年
地点	周口店龙骨山
体貌特征	头部保留猿的某些特征,能直立行走
生产生活	使用打制石器,采集狩猎;会使用火并保存火种;过群居生活

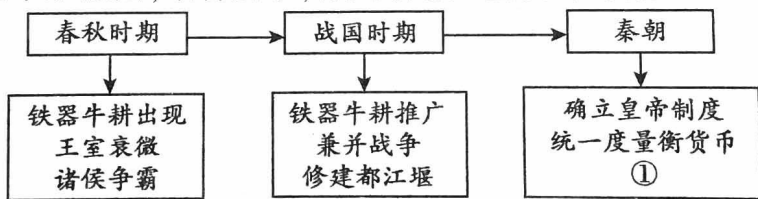
- A. 元谋人 B. 北京人 C. 河姆渡人 D. 半坡人

2. 文物是佐证历史的重要史料。以下所示文物图片与商朝历史有关的一项是



- A. 刻有文字的甲骨 B. 金缕玉衣 C. 骑驼乐舞俑 D. 青花扁壶

3. 王艺同学绘制了如下示意图,结合所学,你判断①处应填的内容是



- A. 分封制 B. 商鞅变法 C. 百家争鸣 D. 郡县制

4. 某校历史社团要开展“汉武帝巩固大一统王朝”的项目式学习,涉及的学习内容应该有

- ① 实施“推恩令” ② 推行“罢黜百家,独尊儒术” ③ 铸造五铢钱 ④ 开通大运河

- A. ①②③ B. ①②④ C. ①③④ D. ②③④

5. 结合所学,判断下面史料可以佐证的观点是

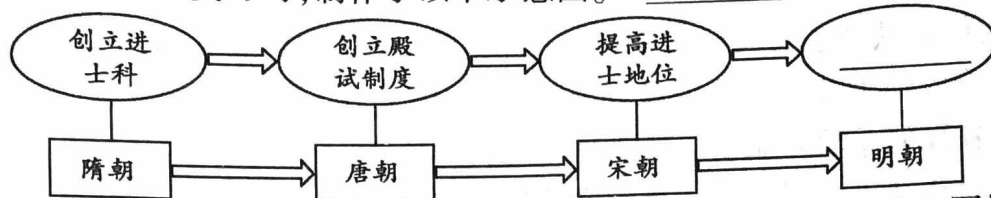
江南之为国盛矣……地广野丰,民勤本业,一岁或稔,则数郡忘饥。……鱼盐杞梓之利,充仞八方;丝绵布帛之饶,覆衣天下。 ——《宋书》

(东晋后期)天下无事,时和年丰,百姓乐业,谷帛殷阜,几乎家给人足矣。 ——《晋书》

- A. 北方地区战乱频繁发生 B. 江南地区得到开发
C. 北方地区民族交融加强 D. 经济重心南移完成



6. 唐朝实行开明的民族政策。下列史实中,可以作为依据的是
 A. 遣唐使来华 B. 文成公主入藏 C. 玄奘西游天竺 D. 鉴真东渡日本
7. 元朝疆域辽阔,民族众多,下列属于元朝统治者治国措施的是
 ① 实行重文轻武政策 ② 设通判和转运使 ③ 确立行省制度 ④ 设宣政院
 A. ①② B. ①③ C. ②③ D. ③④
8. 某同学在进行历史专题复习时,制作了以下示意图。“_____”处应为



- A. 废除丞相制度 B. 设立锦衣卫 C. 实行八股取士 D. 设立军机处
9. 清朝前期统治者对边疆实行了有效管辖,为统一多民族国家的巩固和发展作出了贡献。下表①处应填

时期	康熙时期	雍正时期	乾隆时期
方位	东南	西南	西北
措施	设台湾府	设驻藏大臣	①

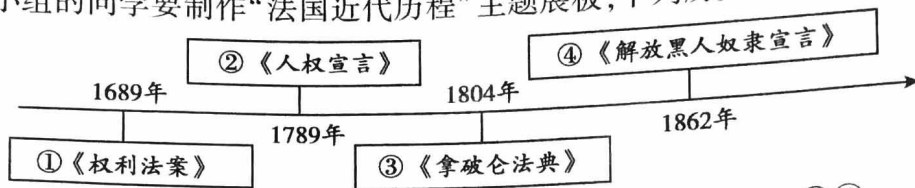
- A. 设西域都护府 B. 设北庭都护府 C. 设澎湖巡检司 D. 设伊犁将军
10. 19 世纪上半期,中国出现了“千古未有之变局”,政治上独立自主、经济上自给自足的现状被打破。此“变局”始于
 A. 鸦片战争与《南京条约》 B. 第二次鸦片战争与《北京条约》
 C. 甲午中日战争与《马关条约》 D. 八国联军侵华战争与《辛丑条约》
11. 19 世纪末,抱着“实业救国”思想,历经艰辛创办大生纱厂、垦牧公司、冶铁厂等产业,并创立学校、图书馆、博物苑等公益事业的状元实业家是
 A. 林则徐 B. 洪秀全 C. 张謇 D. 侯德榜
12. 下面列举了九(2)班暑期研学路线,如果以“新民主主义革命”为主题展开研学活动,应选择的路线是
 A. 虎门销烟遗址——黄花岗烈士墓 B. 天津义和团纪念馆——大沽炮台遗址
 C. 圆明园遗址——东交民巷使馆区 D. 遵义会议会址——延安中共七大会址
13. 阅读下表,结合所学指出北京大学校名及办学地点变化的原因是

时间	学校名称	地点
1912 年	北京大学	北平
1937 年	临时大学(北京大学与清华大学、南开大学共同组成)	长沙
1938 年	国立西南联合大学	昆明
1946 年	北京大学	北平

- A. 清帝退位 B. 军阀割据 C. 国共对立 D. 日本侵略
14. 1982 年 9 月,邓小平在北京与英国首相撒切尔夫人就香港问题进行谈判。你认为此次谈判中,邓小平的话语应该是
 A. 解放思想,实事求是,团结一致向前看
 B. 教育要面向现代化,面向世界,面向未来
 C. 主权问题不是一个可以讨论的问题
 D. 科学技术是第一生产力



15. 历史兴趣小组的同学要制作“法国近代历程”主题展板,下列历史文献可以入选的有



- A. ①② B. ①③ C. ②③ D. ③④

16. 1848年,作为共产主义者同盟纲领的《共产党宣言》发表,标志着

- A. 工人阶级作为独立政治力量登上历史舞台
B. 无产阶级的斗争开始有了科学理论的指导
C. 在法国建立了世界上第一个无产阶级政权
D. 在俄国建立了世界上第一个社会主义国家

17. 世界反法西斯战争的胜利对维护世界和平、促进共同发展产生了重大而深远的影响。下列各项对应正确的是

事件	影响
①九一八事变	中国抗日战争的起点,揭开世界反法西斯战争的序幕
②德国闪击波兰	第二次世界大战达到最大规模
③《联合国宣言》签署	世界反法西斯同盟正式形成
④诺曼底登陆	开辟了欧洲第二战场

- A. ①②③ B. ①②④ C. ①③④ D. ②③④

18. 下面组图反映了二战后西欧谋求联合自强以提高国际地位的道路。结合所学,指出图2所示标识代表的组织名称是




图1 战后西欧



图2 _____




图3 欧元

- A. 三国同盟 B. 北大西洋公约组织
C. 欧洲联盟 D. 世界贸易组织

19. 某历史学习公众号推送了学习资源包(如下),请判断该学习主题是

- ① 人物传记:《玻利瓦尔——流芳百世的南美解放者》 ② 电影:《甘地》
③ 论文:《非洲民族独立国家的涌现》 ④ 纪念品:巴拿马运河纪念币
A. 亚非拉国家的斗争 B. 工业化国家的变化
C. 社会主义力量壮大 D. 不断发展的现代社会

20. 近代科学和文化推动社会发展进步。下列著作中,推动人类对客观世界的探索向前迈进一大步;打破“上帝创造万物”神创论的有

- ①《自然哲学的数学原理》 ②《物种起源》 ③《欧也妮·葛朗台》 ④《战争与和平》
A. ①② B. ①③ C. ②③ D. ③④



第二部分 非选择题(共 40 分)

21. (10 分) 社会保障是国家实现有效治理的重要内容

材料一

中国自古重视社会救济,孟子谈仁政时,强调要优先救济鳏寡孤独。历代社会救济的主体是掌握大量资源的政府,民间组织处于辅助地位。汉朝建立常平仓制度,积谷备仓,调节粮价。隋唐重视官方储备,提倡民间积储。宋朝以后宗族内部的救助活动逐渐兴起。明清时期,出现了善堂、善会等慈善机构。

——摘编自普通高中教科书选择性必修《国家制度与社会治理》

(1) 依据材料一并结合所学,指出中国古代实施救济与优抚弱势群体的思想渊源。(1 分) 说说古代实施社会救济的主体及其措施。(2 分)

材料二

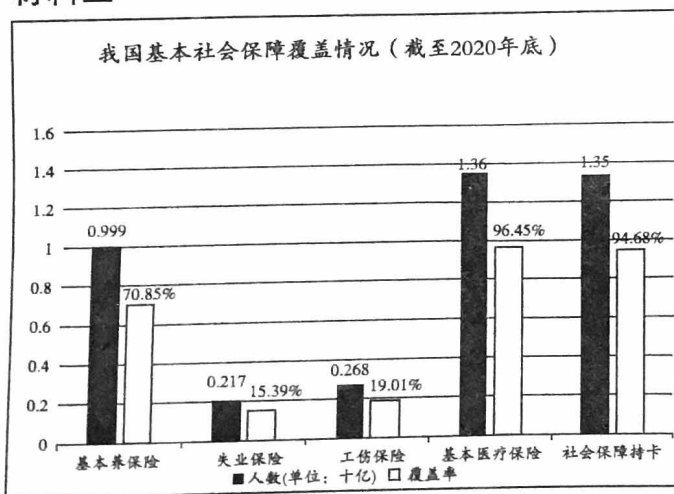
西方国家建立现代社会保障制度情况简表

国家	社会保障内容
英国	大规模工业化、市场化后,工人阶级时刻面临失业、伤残等情况的威胁,城镇贫民日益增多,工人运动频繁发生。1834 年政府颁布救助贫民的《济贫法修正案》。1908 年议会正式批准了养老金法案,1911 年开始,《国民保险法》《健康保险法》《失业保险法》先后被批准实行。
德国	19 世纪后期,德国工人为求得生存不断发起工人运动,社会矛盾突出。1883 年开始,政府相继颁布《疾病保险法》《工伤事故保险法》《老年和残障保险法》。
美国	1929 年开始的经济大萧条,造成大量工厂倒闭、工人失业,继而引发了工人运动。1935 年,罗斯福签署《社会保障法》,授权各州就老人、盲人、依靠他人生活者和残疾儿童、母亲和儿童福利、公共健康、失业补偿作出充分的法律保障。

——摘编自《社会保障概论》等

(2) 依据材料二,概括西方国家建立现代社会保障制度的时代背景和共同途径。(3 分)

材料三



——据《中国共产党简史》绘制

21 世纪以来,党中央在社会保障制度方面作出系列重大部署……建立农村医疗救济制度,实行农村低保制度,全面实施城乡居民大病保险,推进全民参保,降低保险费率。国有资本充实社保基金。发展养老、托幼、助残等福利事业。组建国家医疗保障局,形成各级社会保障管理服务组织体系和服务网络。这些重大制度和政策的建立与出台,为保障社会长远发展和促进社会公平正义奠定了基础。

——摘编自《改革开放简史》

(3) 依据材料三并结合自身体会,从国家和个人的角度,说说中国现代社会保障制度的作用。(4 分)



22. (10分)人类社会与生活的不断进步,得益于各个时代的科技发明

材料一

中世纪欧洲价格昂贵的羊皮纸和落后的抄书形式限制了文化的传播与普及,随着造纸术、印刷术的传入,反映人文主义思想的著作风行欧洲大陆;火药和火器的传入不仅对作战方法本身,而且对统治和奴役的政治关系起了变革的作用,要获得火药和火器,就要有工业和金钱,而这两者都为市民所占有,因此火器一开始就是反对封建贵族的武器;由于指南针的应用,地图的准确性加强,哥伦布正是凭借根据“地圆说”所绘制的海图去扬帆探险的。

——摘编自沈定平《中国四大发明对西欧文明的影响》

(1)依据材料一结合所学,对“中国古代四大发明具有世界意义”的观点进行具体说明。(3分)

材料二

表1 主要资本主义国家技术成果占世界比例(%)

国别 时代	英国	美国	法国	德国
蒸汽时代	39.4	24.3	16.8	9.2
电气时代	15.8	40.4	9.1	17.7

表2 主要资本主义国家的工业生产占世界比重(%)

国别 时间	英国	美国	德国	法国
1870年	31.8	23	13.2	10
1913年	14	38	16	6

(2)依据材料二并结合所学,写出蒸汽时代的一位发明家及其成果。(2分)以英国或德国为例,说说科技发明成果对国家的影响力。(2分)

材料三

中国居民互联网生活数据统计(部分)

购物

2022年中国网上零售额13.79万亿元。其中农产品网络零售额5313.8亿元,跨境电商进出口额2.11万亿元。

重点监测电商平台累计直播场次超1.2亿场,累计观看超1.1万亿人次,直播商品超9500万个,活跃主播近110万人。

出行

2022年网约车、互联网租赁(电动)自行车等共享出行新业态服务超过300亿人次。

截至2022年11月,某导航APP调用北斗卫星日定位量已超过2100亿次。

学习

2022年国家高等教育智慧教育平台注册用户4.24亿,学习人数达10.88亿人次。

国家中小学智慧教育平台注册人数达7251万,可在线学习资源4.4万条。其中“课程教学”版块资源2.59万课时,覆盖30个版本、446册教材。

(3)结合所学,说出推动人类进入信息时代的重要科技发明。(1分)任选材料三所示内容的一个方面,说说数字背后反映的社会现象。(2分)



23. (10分)友好交流 和平发展 合作共赢

材料一

- ① 龙门石窟和云冈石窟的佛像,既有我国雕塑艺术传统,也有外来造型艺术特点。
- ② 日本和新罗仿效唐制进行了制度改革,并从中国引入医学、天文等科技成就。
- ③ 宋元时期的纸币和驿站制度输往西方,农业、手工业生产技术传入亚洲。
- ④ 宋应星编写的《天工开物》被译成日文、英文、法文、德文等多种文字。
- ⑤ 明朝中后期,徐光启与意大利人利玛窦共同翻译了古希腊数学著作《几何原本》,确定了“几何”“三角形”“四边形”等术语。

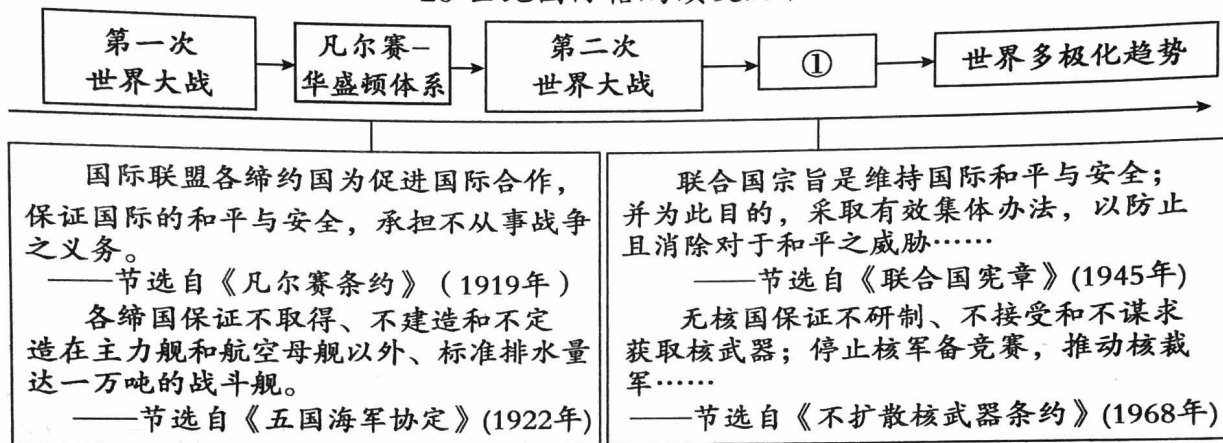
(1)运用材料一的史实说明以下结论。(填序号,每空多选、少选、错选均不得分,2分)

A. 外来文化传入中国丰富了中华文化:_____

B. 中华文化的传播推动世界文化发展:_____

材料二

20世纪国际格局演变历程



(2)阅读材料二并结合所学,写出①处对应的国际格局名称。(1分)概括两次世界大战后国际社会争取和平的共同方式。(2分)

材料三

- ① 2012年,联合国可持续发展会议召开,集中讨论绿色经济在持续发展和消除贫困方面发挥的作用。
- ② 2013年,中国提出“一带一路”合作倡议,得到许多国家、国际组织积极响应。
- ③ 2017年1月,习近平在联合国日内瓦总部发表演讲,系统阐述构建人类命运共同体的理论内涵和目标路径,倡导建设持久和平、普遍安全、共同繁荣、开放包容、清洁美丽的世界。
- ④ 2015年12月,联合国气候变化大会通过《巴黎协定》,为全球应对气候变化做出安排,绝大多数国家加入这一协定。

(3)依据材料三并结合所学,自拟主题并选择两则材料(填序号),说明材料与主题之间的关系。(5分)

主题	序号	说明



24. (10分) 人民群众是推动历史演进的决定力量

【创造优秀文化成果】

材料一

中国古代文明成果简表(部分)

类别	①思想	②书法	③史学	④文学	⑤医学
成果	儒家学说	《颜氏家庙碑》	《资治通鉴》	《窦娥冤》	《本草纲目》
人物	孔子	颜真卿	司马光	关汉卿	李时珍
成果					
人物					

(1) 中国古代劳动人民创造了辉煌的文化成果。结合所学, 任选材料中的一类, 再补充一项成果及其代表人物。(2分)

【创新生产实践】

材料二

1903年成立的福特汽车公司, “T型车”推出后, 为解决手工作坊无法进行大批量生产的难题, 亨利·福特的创新是用于生产的流水线。放上零件的人不去固定它, 放上螺栓的人不用装上螺帽, 装上螺帽的人不用去拧紧它。正因为流水线有如此的速度, 福特才得以在以后的十年中每年的生产量成倍地增长, 并使零售价降低了三分之二。到1914年, 路上行驶的每两辆汽车中就有一辆是福特汽车。

——摘编自哈罗德·埃文斯《美国创新史》

流水作业法的普遍采用推动了汽车时代的到来, 从而引起了居住方面的革命……汽车的普及推动了一场社会革命, 遏制了人口进一步向城市集中, 从而使人口得以从饱和的城市向郊区扩散。

——摘编自李庆余《美国现代化道路》

(2) 依据材料二并结合所学, 从工业发展的角度, 简析福特“创新”产生的原因及其影响。(2分) 分别说明汽车普及前后的人口移动趋势。(2分)



【推动民族复兴】

材料三

中国人民实现中华民族伟大复兴之路大事记(部分)

任务	事件
争取民族独立和人民解放	① 19世纪60-90年代中期,一些较开明的清朝官员掀起旨在“自强”“求富”的洋务运动
	② 19世纪末20世纪初,资产阶级维新派和革命派分别提出了君主立宪和民主共和的救国方案
	③ 1915年,一部分先进知识分子发起一场以“民主、科学”为旗帜的新文化运动
	④ 1919年,以先进青年知识分子为先锋,广大人民群众参加的五四运动爆发
	⑤ 1921年,毛泽东等13位共产党早期组织的代表,召开了中国共产党第一次全国代表大会
	⑥ 1927年,毛泽东创建井冈山革命根据地,此后农村革命根据地广泛建立,革命武装发展壮大
	⑦ 抗日战争期间,正面战场组织了淞沪会战等多次战役;敌后战场依靠人民群众展开游击战
实现国家富强、民族振兴和人民幸福	⑧ 1953-1957年完成第一个五年计划
	⑨ 1956年底,实现了对农业、手工业和资本主义工商业的社会主义改造
	⑩ 1978年,安徽凤阳小岗村农民大胆尝试分田包干到户
	⑪ 经过8年持续奋斗,2020年底,全国832个贫困县、12.8万个贫困村、近1亿贫困人口实现脱贫

(3) 依据材料三并结合所学,选择材料中相互关联的两个事件,自拟观点并进行说明。

(要求:观点正确,史论结合,条理清楚,4分)

示例:

选择的事件:⑧⑨

观点:在人民群众拥护下,社会主义经济制度在我国确立起来。

说明:实现工业化是中国人民的最高利益,在中国共产党领导下,全国人同心同德、积极努力,1953-1957年超额完成一五计划绝大部分指标,我国工业落后面貌开始改变;1956年底三大改造完成,实现了生产资料私有制向社会主义公有制的转变,社会主义经济制度确立起来,国民经济有了很大发展。