

初一地理

2023.06

考生须知

1. 本试卷共 10 页,共两部分,29 道题,满分 100 分。
2. 在试卷和答题卡上准确填写学校、班级、姓名和考号。
3. 试题答案一律填涂或书写在答题卡上,在试卷上作答无效。
4. 在答题卡上,选择题用 2B 铅笔作答,其他试题用黑色字迹签字笔作答。

第一部分 选择题(共 50 分)

本部分共 25 道小题,每小题 2 分,共 50 分,下列各小题均有四个选项,其中只有一个选项是最符合题意要求的,请将所选答案前的字母涂在答题卡相应位置中。

川藏铁路被称为“一辆巨大的过山车”。图 1 为正在建设中的川藏铁路位置示意图。读图,完成第 1~3 题。

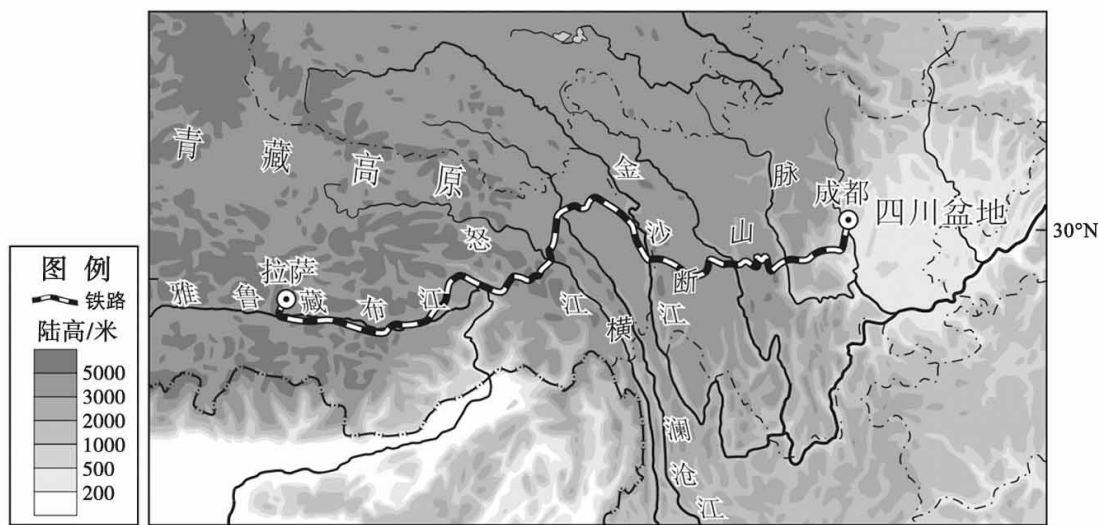


图 1

1. 川藏铁路经过

- ①四川盆地 ②横断山脉 ③青藏高原 ④黄土高原 ⑤东南丘陵
- A. ①②③ B. ①③④ C. ②④⑤ D. ③④⑤

2. 图 1 所示区域

- A. 河水量丰富航运价值高 B. 河流自西向东注入印度洋
- C. 跨越地势第一、二级阶梯 D. 自然景观以沙漠戈壁为主

3. 川藏铁路沿线修建很多高桥和隧道,目的是

- A. 增强“过山车”刺激性 B. 减缓线路的起伏程度
- C. 尽量避免惊扰野生动物 D. 便于欣赏沿途的风光



河南省是我国第一个建成“米”字形高铁网的省份。图2为河南省高铁线路分布图。

读图,完成第4~6题。

4. 河南省的高铁

- A. 呈放射状分布
- B. 均跨越黄河
- C. 可以到达河南全境
- D. 1小时可达所有城市

5. 河南省率先建成“米”字形高铁网得益于

- ①生态环境日益改善
- ②地处我国中部
- ③平原面积比重较大
- ④政策大力支持

- A. ①②③
- B. ①②④
- C. ①③④
- D. ②③④

6. 河南省“米”字形高铁网的建成

- A. 带动沿线地区旅游业发展
- B. 缓解郑州市交通拥堵状况
- C. 缩短省内城市之间的距离
- D. 促进河南省农矿产品外运

安徽省与其东部的江苏省、上海市、浙江省共同构成长江三角洲城市群。图3为安徽省地形图。读图,完成第7~9题。

7. 安徽省

- A. 行政中心为南京
- B. 地形以高原为主
- C. 地处中低纬度和热带地区
- D. 地跨北方地区和南方地区

8. 安徽省承接了沪宁杭工业基地的加工制造业、农产品加工业等产业,其

- 优势条件主要有
- ①邻近长江三角洲
 - ②土地价格较便宜
 - ③海上运输便利
 - ④劳动力资源充足

- A. ①②③
- B. ①②④
- C. ①③④
- D. ②③④

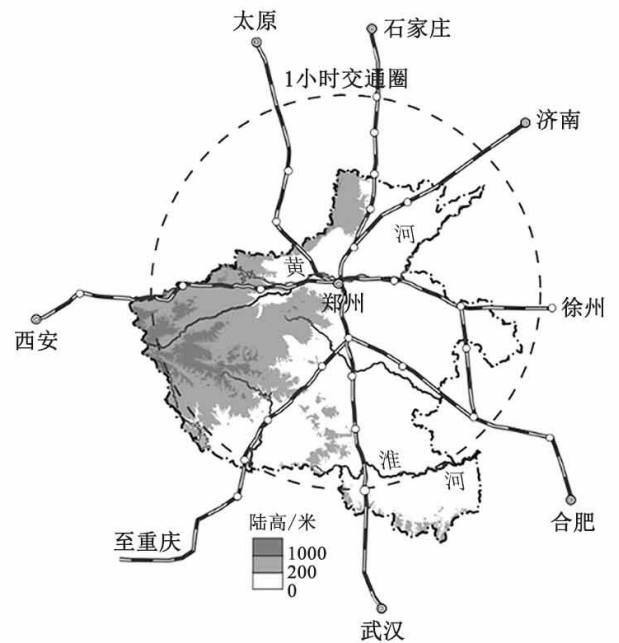


图2

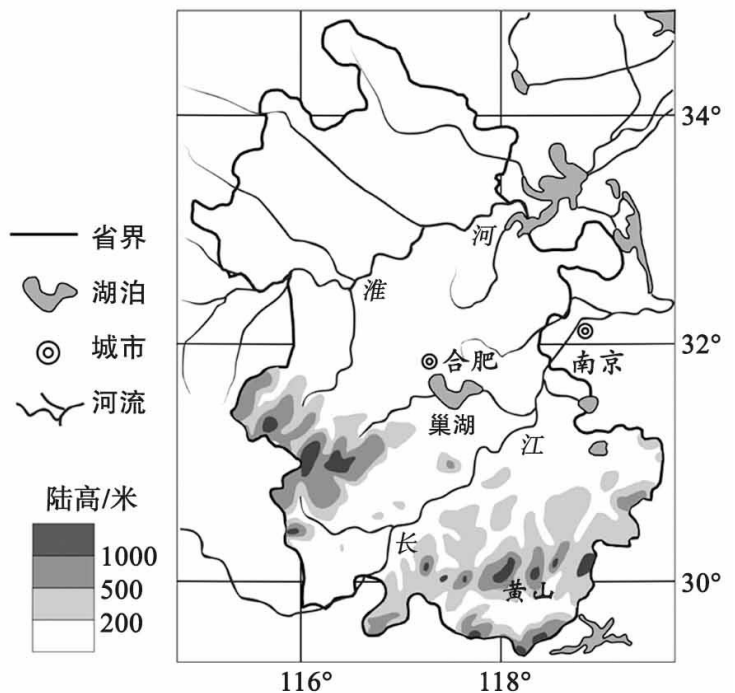


图3



9. 黄山市黟县的宏村古民居群是徽派建筑的典型代表。古村落背倚秀美青山,清流抱村穿户,被誉为“画中的村庄”。下面能反映徽派建筑的是



A



B

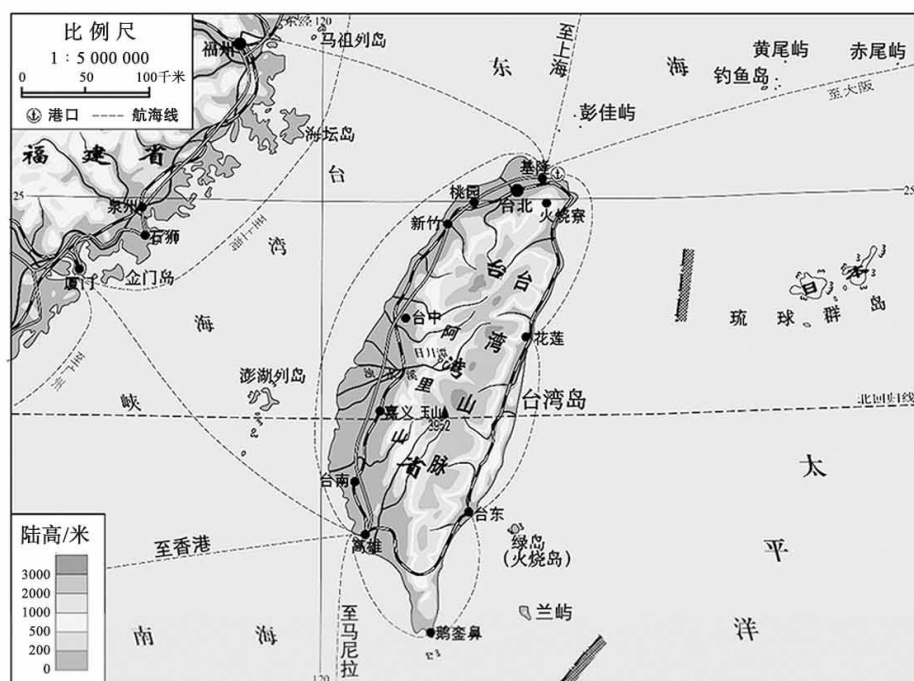


C



D

郑成功是我国明末清初收复台湾的民族英雄,为了缅怀这位英雄,在台湾省台南市和福建省厦门市都矗立着高大的郑成功雕像。图4为台湾省地图以及台南郑成功雕像景观图。读图,完成第10~12题。



台南郑成功雕像

图4

10. 台湾省

- A. 西隔台湾海峡与福建省相望
- B. 城市多分布在东部沿海地区
- C. 中部为东西走向的台湾山脉
- D. 河流多自西向东注入太平洋

11. 台湾省被称为“宝岛台湾”,因为其

- A. 是我国西南地区的屏障
- B. 盛产甜菜等糖料作物
- C. 自然环境优越物产丰富
- D. 是长江等大河发源地

12. 海峡两岸共同缅怀民族英雄郑成功,体现了

- ①陆地相连
 - ②环境相似
 - ③民族同根
 - ④文化同脉
- A. ①② B. ①③ C. ②③ D. ③④

作为民族品牌的旗帜,长春“一汽”见证了中国工业发展历程。求新求变是长春汽车产业目前发展的主旋律,正阔步驶向新能源汽车、智能网联汽车的“蓝海”。图5是中国主要工业基地分布图及长春市2017年产业结构和主要产业产值比重图。读图,完成第13~15题。

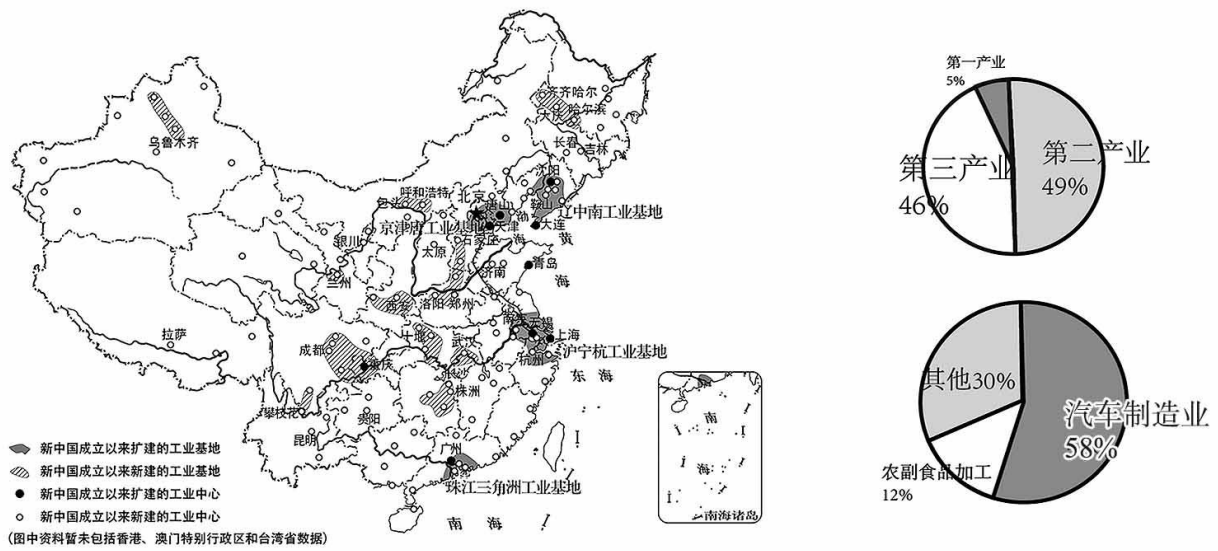


图 5

13. 中国工业基地

- ①新中国成立前主要分布在沿海地区 ②新中国成立后主要向西北地区发展
 ③都包含有工业中心 ④在每个省份都有分布
- A. ①② B. ①③ C. ②④ D. ③④

14. 下列关于长春市产业结构和主要产业产值特点描述正确的是

- A. 第一产业比重最大 B. 以农副食品加工为主
 C. 三大产业比重相当 D. 汽车制造业产值高

15. 长春“一汽”从传统汽车生产转向新能源汽车,主要得益于

- A. 科学技术的发展 B. 劳动力数量的增多
 C. 传统工业的发展 D. 新工业基地的产生

“一山一水决定了陕西的格局……早春时节,自北向南,黄土高原大雪飘飞,关中平原小麦滴翠,陕南山地鲜花怒放。”图 6 为陕西省地图。读图,完成第 16~18 题。

16. “山北黄牛下地,山南水牛犁田”,下列描述与“山”相符合的是

- A. 400 毫米年等降水量线穿过的地区
 B. 青藏高原与塔里木盆地分界线
 C. 1 月 0℃ 等温线大致穿过的地区
 D. 我国第二、三级阶梯的分界线

17. 陕西省

- A. 均位于我国的北方地区
 B. 地形以高原、山地为主
 C. 境内河流均易发生凌汛
 D. 位于亚热带季风气候区

18. 早春时节陕西省景观南北差异的主要影响因素是

- A. 气温 B. 降水
 C. 光照 D. 水源

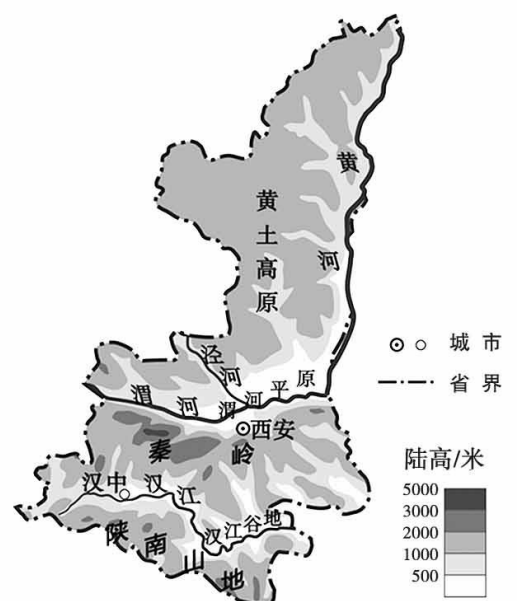


图 6



青藏高原号称“世界屋脊”，拥有独特的自然环境特征；三江源地区是我国重要的水源涵养地，也是我国最大的自然保护区。图7为青藏地区图。读图，完成第19~21题。

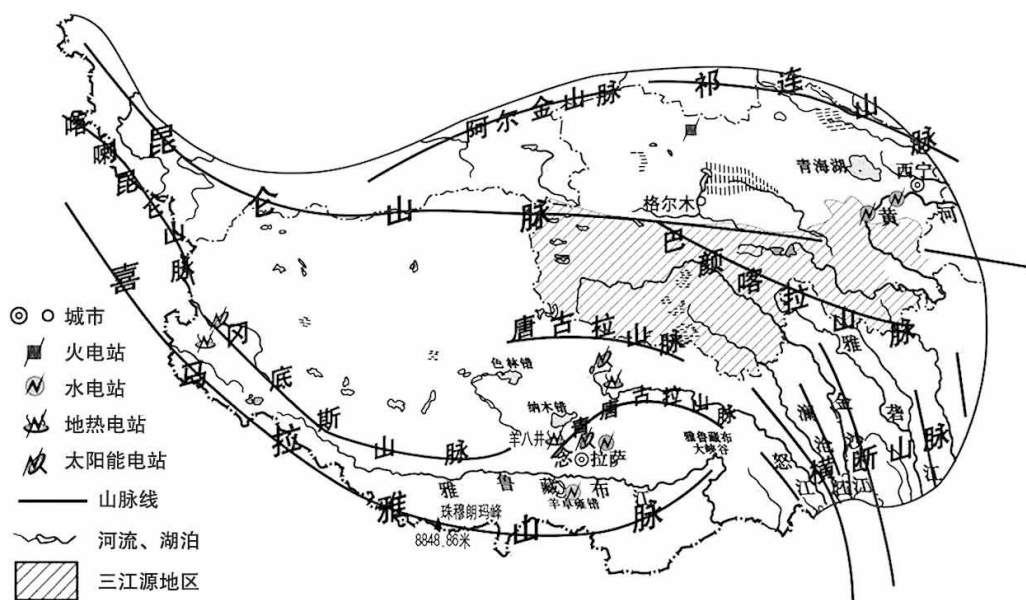


图7

19. 青藏地区内部差异体现在

- A. 地势东北高,西南低
- B. 种植业集中在河谷地区
- C. 降水东南少,西北多
- D. 海拔越高人口密度越大

20. 青藏地区的清洁能源主要是

- ①煤炭 ②太阳能 ③地热能 ④石油 ⑤水能
- A. ①②③ B. ①③④ C. ②③⑤ D. ②④⑤

21. 建立三江源自然保护区的主要目的有

- ①增加木材蓄积量 ②保护雅鲁藏布江源头
- ③保护湖泊和沼泽 ④保护高海拔生物多样性
- A. ①② B. ①④ C. ②③ D. ③④

2019年2月18日,中共中央、国务院印发了《粤港澳大湾区发展规划纲要》,标志着粤港澳合作发展进入了新时代。据此,完成第22~25题。

22. 粤港澳大湾区位于我国的

- A. 北方地区 B. 辽中南工业基地 C. 珠江三角洲 D. 长江中下游平原

23. “粤”的行政中心为

- A. 深圳市 B. 珠海市 C. 中山市 D. 广州市

24. 粤港澳大湾区发展经济的优势条件有

- ①地理位置优越 ②矿产资源丰富 ③海陆交通便利 ④人才资源丰富
- A. ①②③ B. ①②④ C. ①③④ D. ②③④

25. 粤港澳大湾区的建设

- A. 加强香港和澳门之间矿产资源的调配 B. 便于香港向祖国内地输送淡水和食品
- C. 便于祖国内地利用香港的廉价劳动力 D. 促进祖国内地与香港、澳门的共同发展

第二部分 非选择题(本部分共4道题,共50分)

26. 山脉是地形的骨架、通行的阻碍、河流的源头、风沙的屏障。图8为大兴安岭位置示意图,图9为中国主要粮食作物和畜牧业分布示意图,图10为传统民居“撮罗子”景观图。读图,回答下列问题。(13分)



图8

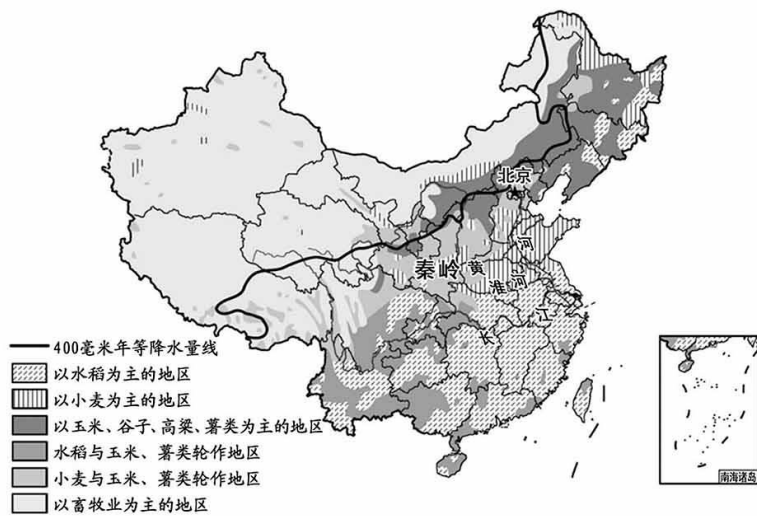


图9

(1) 大兴安岭是我国重要的地理界线之一,请比较大兴安岭东、西两侧的地理环境特征。

西

东

地形区: _____	①
地势阶梯: _____	③
年降水量: _____	⑤
农业部门: _____	⑦



地形区: _____	②
地势阶梯: _____	④
年降水量: _____	⑥
农业部门: _____	⑧

绥满高速,全长1527千米,它穿越大兴安岭,横贯黑龙江省、内蒙古自治区和东北地区北部,是一条重要的公路通道。

(2) 绥满高速公路在东北地区发展中的作用有_____。

(3) 大兴安岭是我国重要林区,有“林海”之称,其主要的树种落叶松和白桦等属于_____资源;该资源可以不断更新,为人类持续利用,因此也叫做_____资源。

我国鄂温克族主要分布在大兴安岭北部,其传统生活方式以游牧和狩猎为主,传统民居“撮罗子”是由木杆、桦树皮或兽皮搭建而成的尖顶简易房屋。

(4) 请描述传统民居“撮罗子”的特点,并说明其与当地自然环境的关系。



图10

27. 暑期某旅行社推出了从锡林郭勒经河西走廊到吐鲁番的旅游路线, 见图 11, 图 12 为吐鲁番位置及气温曲线和降水量柱状图。读图, 回答下列问题。(12 分)

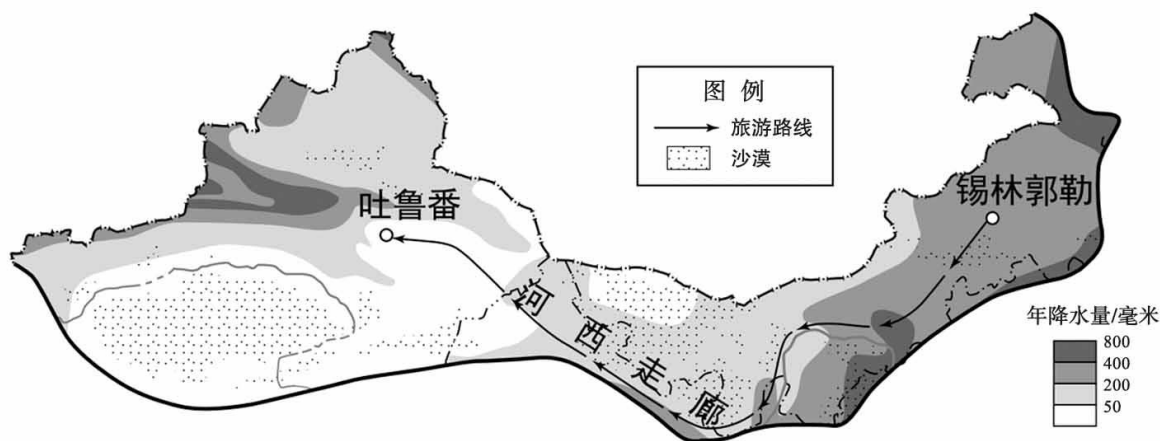


图 11

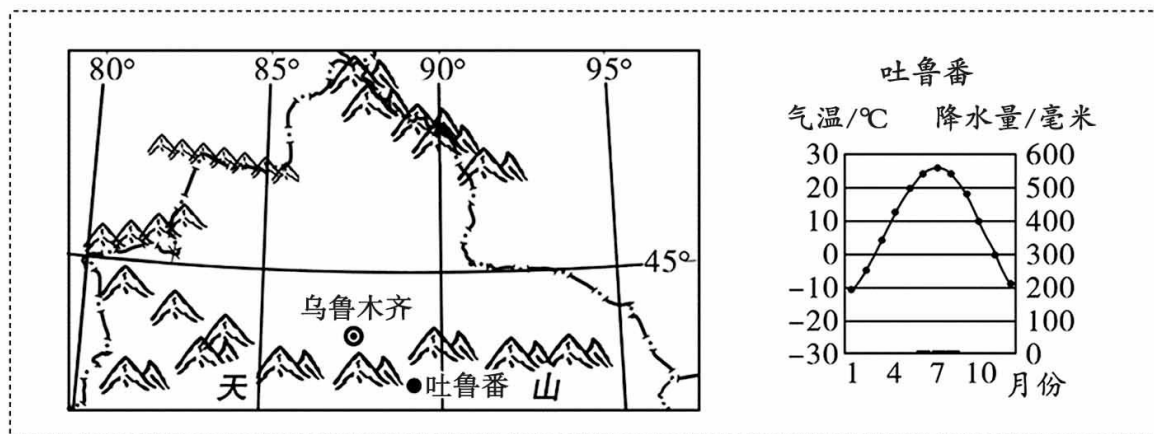


图 12

地理位置

(1) 这条旅游路线主要穿行在我国四大地理区域中的_____。





自然环境

(2) 旅游路线途经之地年降水量从东向西越来越_____, 主要影响因素是_____, 气候类型主要是_____。

旅行见闻

(3) 位于_____ (省级行政区) 的锡林郭勒被誉为“黄金奶源基地”, 这里农业部门以_____为主, 游客能看到许多散养的奶牛。

(4) 旅行途中最可能见到的景观是___ (多项选择)。

A B C D

(5) 吐鲁番被称为“葡萄之乡”, 在这里品尝到的葡萄特别甜, 请将下列序号填入相应位置。

① 湿润气流难以到达

② 高山冰雪融水丰富

③ 晴天多, 光照充足

④ 深居内陆, 距海较远

A

地形阻挡

B

气候干旱

C

昼夜温差大

山地海拔高

D

利用坎儿井引水灌溉

吐鲁番被称为“葡萄之乡”

28. 三山五园地区是北京历史文化名城保护的重点区域。图 13 为北京文化带分布图, 图 14 为北京市气温曲线和降水量柱状图。阅读图文资料, 回答下列问题。(12 分)

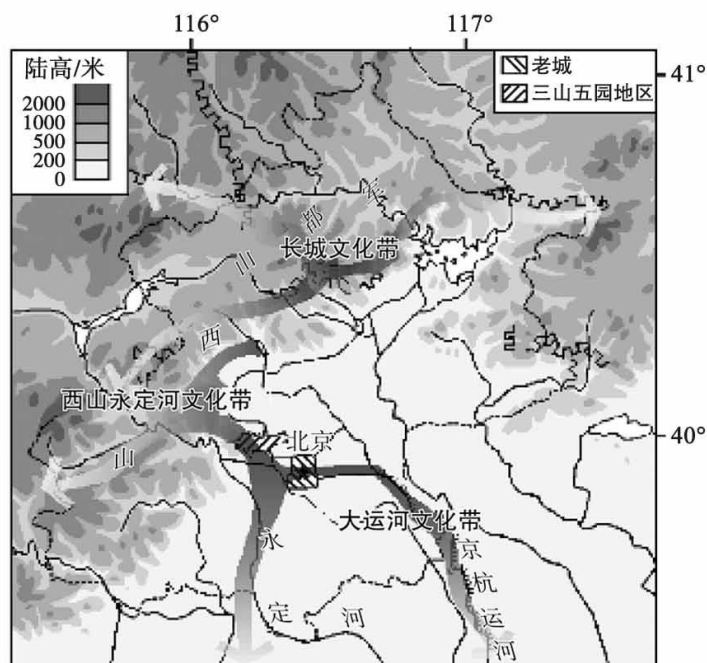


图 13

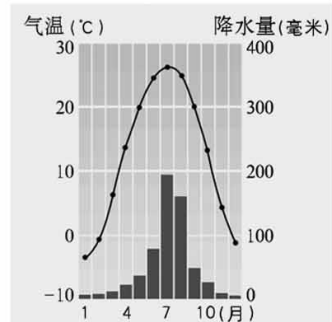


图 14

(1) 北京市地形类型以山地和 _____ 为主, 地势特征为 _____, 河流流向多为 _____, 属于温带季风气候, 主要气候特征是 _____。

历史上, 自然环境优美的三山五园是皇家园林。

(2) 三山五园地区位于北京老城的 _____ 方向, 背靠西山、军都山等山地, 夏季降水丰富, 河湖众多, 水源 _____, 具备山水、动植物等修筑园林的基本要素。

现在的三山五园地区云集了众多大学和科研机构, 是中关村自主创新园区的核心区。三山五园数字体验馆借助 VR 技术, 通过剧场式空间和体感互动装置, 刻画出皇家生活赏诗、赏画、赏景的情景, 使体验者穿越时空, 身临其境, 感受科技与文化的完美结合。

(3) 三山五园地区作为文化教育区、中关村自主创新园区核心区, 体现出北京的首都职能有 _____ 中心、_____ 中心。

《北京城市总体规划(2016 年-2035 年)》将三条文化带列为北京历史文化名城保护体系的重要内容。如今, 三条文化带建设正不断取得实效(表 1), 成为首都文化建设的生动实践, 为打造北京文化金名片增色添彩。

表 1

文化带	建设成就(部分)
西山永定河文化带	2021 年永定河实现 26 年来首次全线通水。
大运河文化带	2022 年京杭大运河实现了百年来首次全线通水, 京冀段 62 千米正式通航。
长城文化带	2021 年长城国家文化公园(北京段)建设全面推进, 举办长城文化节等活动。

(4) 三山五园地区是 _____ 文化带与大运河文化带交汇的重要文化资源富集地。结合材料, 说出文化带建设成就的积极影响。(至少答出两点)



29. 贵州省曾经被形容为“天无三日晴,地无三尺平,人无三两银”。近年来,在国家精准扶贫政策的支持下,贵州省因地制宜发展经济,逐步走上脱贫致富的道路。图 15 为贵州省地形图,图 16 为贵州省北盘江大桥景观图。读图,回答下列问题。(13 分)

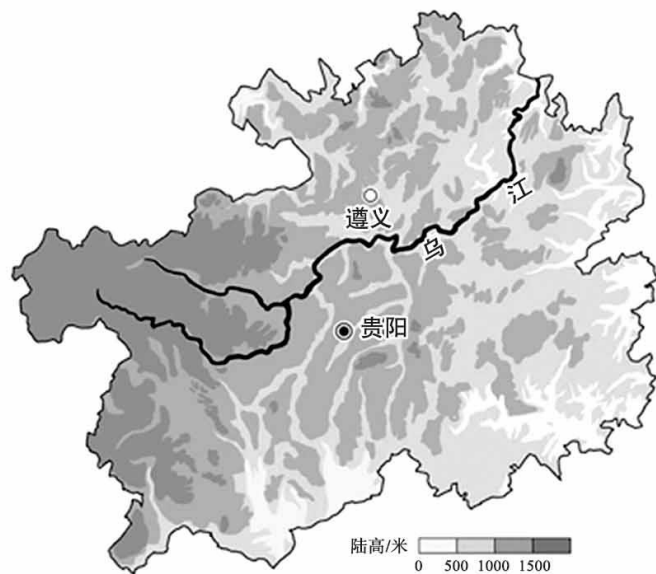


图 15



图 16

(1) 区域经济发展与其自然环境有着紧密的联系。从方框中选择合适语句,将序号填在空格处,完成对贵州省经济发展制约条件的分析。

- | | | | | | | |
|-----------|----------|-----------------|-----------------|-------|----------------|--------------|
| ①西高东低,起伏大 | ②以高原山地为主 | ③耕地面积小,城市发展空间不足 | ④耕地广阔连片,利于大规模耕作 | ⑤水土流失 | ⑥台风、寒潮、干旱等气象灾害 | ⑦滑坡、泥石流等地质灾害 |
|-----------|----------|-----------------|-----------------|-------|----------------|--------------|

贵州省位于我国西南部内陆地区,地表崎岖,平原狭小导致_____ ;为获得更多土地资源,人们在土壤贫瘠的山地砍伐植被、开垦坡地,造成_____,降水多,极易诱发山区的_____,使这里生态环境脆弱;山地崎岖致使交通不便,也阻碍了这里的经济发展。

(2) 贵州省堪称“桥梁博物馆”,其桥梁众多的主要自然原因是_____,桥梁的建设_____ (单项选择)。

- | | |
|---------------|-------------|
| ①体现出国家经济和技术实力 | ②带动少数民族地区发展 |
| ③促进东西部地区交流与沟通 | ④实现水资源跨区域调配 |
| A. ①②③ | B. ①②④ |
| C. ①③④ | D. ②③④ |

大数据中心是支撑云计算服务的基础设施,80%以上的花费都用在设备的供电和制冷上,运行时需恒温条件,且对空气质量要求高。

贵阳市平均海拔 1000 米以上,年平均气温约为 15℃,气候凉爽。森林覆盖率 55% 以上,空气质量优良率多年保持在 98% 以上。



(3) 贵阳市充分利用_____、_____等自然优势条件,重点发展_____ (高新技术产业/传统工业),有“中国数谷”的美誉。

遵义市立足辣椒优势,制定辣椒产业发展规划,培育优良品种,将辣椒加工成辣椒酱等商品,利用先进杀菌、包装和保鲜技术,通过线上展播、直播带货,将辣椒酱出口到 30 多个国家和地区。品质优良的“小辣椒”成为富民增收的“大产业”。

(4) 遵义市发展辣椒产业的主要措施有_____、_____等。

(5) 关于遵义市辣椒产业的发展,有人建议“开垦林地,扩大辣椒种植面积。”请你判断是否合理并说明理由。



大兴区 2022~2023 学年度第二学期期末检测

初一地理参考答案及评分标准

第一部分 选择题（共 50 分）

1	2	3	4	5	6	7	8	9	10
A	C	B	A	D	A	D	B	B	A
11	12	13	14	15	16	17	18	19	20
C	D	B	D	A	C	B	A	B	C
21	22	23	24	25					
D	C	D	C	D					

第二部分 非选择题（本部分 4 道题，共 50 分）

26. (13 分)

(1) ①内蒙古高原 ②东北平原 ③第二级阶梯 ④第三级阶梯 ⑤400 毫米以下 ⑥400 毫米以上 ⑦以畜牧业为主 ⑧以种植业为主

(2) 促进贸易往来；沟通东西，加强文化交流等

(3) 生物（森林） 可再生

(4) 以木杆、树皮等为材料，当地生物资源丰富，就地取材；屋顶尖，雨季降水多，有利于排水；门小，夜晚气温低，利于保暖

27. (12 分)

(1) 西北地区 (2) 少 海陆分布（海陆位置） 温带大陆性气候

(3) 内蒙古自治区 畜牧业 (4) BD (5) A-④ B-① C-③ D-②

28. (12 分)

(1) 平原 西北高东南低 自西北向东南 夏季高温多雨，冬季寒冷干燥（2 分）

(2) 西北 充足

(3) 文化 科技创新

(4) 西山永定河 从丰富旅游资源，改善生态环境，带动京津冀协同发展等角度回答（任选其二，合理即可）

29. (13 分)

(1) ③ ⑤ ⑦

(2) 地势起伏大（河流众多） A

(3) 全年凉爽 空气质量好 高新技术产业

(4) 政策扶持、改良品种、产品深加工、拓宽销售市场等



(5) 等级赋分 (合理即可得分)

等级赋分	标准
0分	未判断是否合理; 或有明确判断, 但理由与判断结果矛盾。
1分	有明确判断, 理由与判断结果对应, 但只根据题中“建议”文字说明理由, 不能结合区域特征进行分析。
2分	有明确判断, 理由与判断结果对应, 能选择、提取贵州省的区域特征, 结合题目判断并简要分析理由。
3分	有明确判断, 理由与判断结果对应, 能选择、提取贵州省的区域特征, 从系统、动态的角度, 秉承区域协调发展的观点结合题目判断并简要分析理由。

满分示例:

示例: 建议合理, 遵义市地处山区, 经济发展较为落后, 为促进经济发展, 应立足辣椒优势, 扩大辣椒种植面积, 在保护生态环境的前提下, 适合转为耕地的部分林地可以适当开垦。

示例: 建议不合理, 遵义市地处山区, 生态环境脆弱, 将林地大面积开垦成耕地种植易破坏当地生态环境, 也没有遵循因地制宜发展农业的原则。