




# 2020 北京大兴初三（上）期末

## 历史

### 第一部分选择题(共 45 分)

本部分共 30 小题，每小题 1.5 分，共 45 分。在每小题列出的四个选项中选出最符合题目要求的一项。

1. 考古发现是研究历史的重要证据。浙江余姚河姆渡遗址出土的以下文物说明河姆渡原始居民



稻谷



猪纹陶钵



骨耜

- A. 已从事农业生产    B. 以捕鱼狩猎为生    C. 有古朴的艺术追求    D. 居住干栏式房屋
2. 右图是北京建城之始的纪念性标志物——蓟城纪念柱。《礼记》记载：“武王克殷反商，未及下车而封黄帝之后于蓟。”这说明西周实行了
- A. 禅让制            B. 分封制
- C. 郡县制            D. 皇帝制
3. 目前所知，我国有文字可考的历史从商朝开始。能够佐证这一结论的是



A. 澄湖陶罐符号



B. 甲骨文



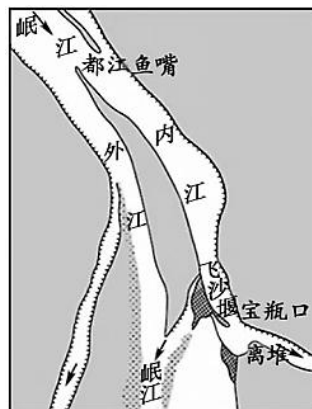
C. 居延汉简文字



D. 秦琅琊刻石文字

4. 2018年8月，右图所示水利工程成功人选世界灌溉工程遗产名录。这一水利工程是

- A. 都江堰
- B. 大运河
- C. 郑国渠
- D. 灵渠



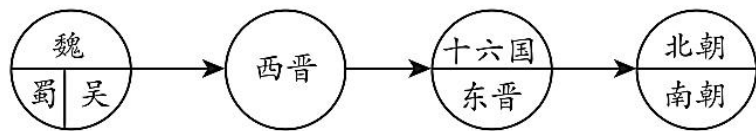
5. 右图秦朝铁权上有铭文：“廿六年，皇帝尽并兼天下诸侯，黔首(百姓)大安，立号为皇帝，乃诏丞相状、绾，法度量则不壹，歉疑者皆明壹之。”这反映出

- ①秦实现统一六国
  - ②秦统一监制度量衡
  - ③铭文用楷书书写
  - ④皇帝称号确立
- A. ①②③      B. ①②④  
C. ②③④      D. ①③④

6. “臣愚以为诸不在六艺之科、孔子之术者，皆绝其道，勿使并进。”汉武帝接受此建议，采取的措施是

- A. 罢黜百家，独尊儒术
- B. 减轻赋税，发展生产
- C. 以德化民，稳定民心
- D. 分封诸侯，加强皇权

7. 某同学设计了如下单元示意图，据此判断该单元的主题是



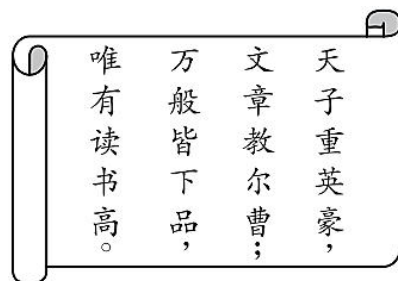
- A. 中华文明的起源
- B. 国家的产生和社会变革
- C. 政权分立与民族交融
- D. 繁荣与开放的社会

8. “天下诸津(码头)，舟航所聚……弘舸(大船)巨舰，千舳万艘，交贸往还，昧旦永日。”材料反映出唐朝当时

- A. 民族和睦
- B. 商贸繁华
- C. 政治清明
- D. 艺术多彩

9. 右侧诗句反映出宋朝

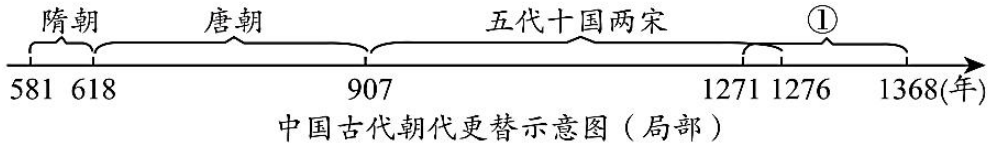
- A. 等级森严





- B. 商业繁荣
- C. 重农抑商
- D. 重文轻武

10. 与下面示意图中①相关的史实是



- A. 统一南北，创立科举
- B. 贞观之治，安史之乱
- C. 黄袍加身，政权并立
- D. 管理西藏，行省制度

11. 下列关于中国古代经济发展的表述，正确的是

- ①春秋战国时期铁制工具应用于农业生产
- ②东晋南朝时期江南地区得到开发
- ③北宋四川地区出现了世界上最早的纸币“交子”
- ④清朝采取闭关政策禁止对外贸易

- A. ①②③
- B. ②③④
- C. ①②④
- D. ①③④

12. 某同学收集了下面一组历史人物纪念币，其主题应该是



祖冲之



毕昇



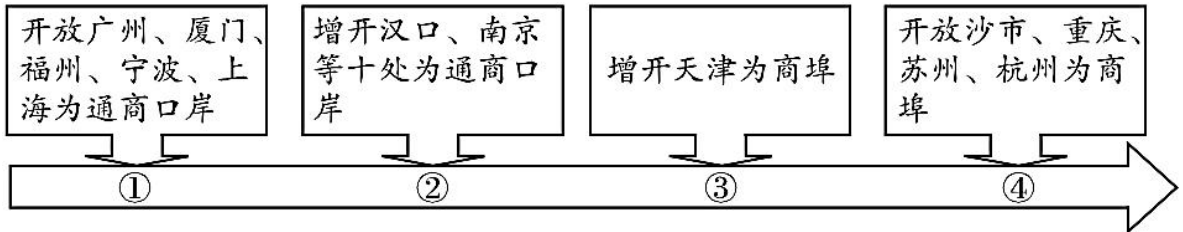
李时珍



宋应星

- A. 科学技术发达
- B. 文学体裁丰富
- C. 书法独放异彩
- D. 绘画成就卓越

13. 下面示意图从某个角度反映了中国近代民族危机的不断加深，其中④应填写的不平等条约是



- A. 《南京条约》
- B. 《北京条约》
- C. 《马关条约》
- D. 《辛丑条约》

14. 1877-1889年，英国太古和怡和、美国旗昌等轮船公司与轮船招商局展开了激烈的竞争。最终旗昌公司破产，而太古、怡和公司不得不与招商局达成协议：中外公司在各条航线上共同议定统一的价格。这说明轮船招商局的发展壮大



- A. 完全无力与外国的企业抗衡
- B. 达到了“自强”“求富”的目标
- C. 完成了中国近代社会工业化
- D. 部分抵制了外国经济的侵略

15. 有学者认为，戊戌变法时期所传播的西方政治学说和自然科学知识，将统治了中国几千年的封建思想打开了一个缺口。这主要说明戊戌变法

- A. 维护了封建统治
- B. 得不到群众支持
- C. 进行了思想启蒙
- D. 传播了革命思想

16. 陈独秀曾说：我十年以前……哪知道国家是什么东西，和我有什么关系呢？到了甲午年，才听见人说有个什么日本国，把我们中国打败了。到了庚子年……我才晓得，世界上的人，原来是分做一国一国的……我生长到二十多岁，才知道有个国家，才知道国家乃是全国人的大家。这表明

- A. 国人学习日本始于甲午战后
- B. 闭关锁国政策造成国民意识的落后
- C. 晚清时期的中国落后于日本
- D. 近代民族国家意识觉醒于外来侵略

17. 右图是《新申报》民国八年五月五日的号外，它报道了当时发生的一个重大历史事件。该事件是

- A. 辛亥革命
- B. 五四运动
- C. 一二·九运动
- D. 华北事变



18. 下列内容节选自中国近代某部重要文件，它是

第一章 中华民国之主权，属于国民全体。  
 第三章 中华民国之立法权，以参议院行之。  
 第四章 临时大总统、副总统由参议院选举之。临时大总统代表临时政府，总揽政务，公布法律。

- A. 维新派上书光绪帝请求拒和、迁都、变法的请愿文件
- B. 中国历史上第一部具有资产阶级共和国宪法性质的文件
- C. 标志国共合作为主体的抗日民族统一战线正式建立的文件
- D. 国共双方以和平、民主、团结、统一为基础建设新中国的文件

19. 下表是中国 1902-1904 年翻译西方书籍统计简表。由该表可知，这一阶段的翻译著作

类型	数量	比重
哲学社会科学	327 种	61%
自然科学	112 种	21%
应用科学	56 种	11%
杂录	38 种	7%

- A. 深刻反思鸦片战争失败原因
- B. 侧重学习西方自然科学技术
- C. 全面宣传实业救国经济思想
- D. 重点关注中国未来社会发展



20. “这是一声砸向旧世界的锤头撞击，和着十月革命的惊天霹雳。从上海望志路到南湖的红船发力，锻造出一个民族驶向复兴彼岸的航迹。”与材料描述有关的会议是

- A. 中共一大      B. 中共二大      C. 遵义会议      D. 中共七大

21. 为使长征沿线的文物和文化资源得以保护传承，我国规划建设长征国家文化公园。下列地点可以列入该建设方案的是

- A. 黄埔 武汉 上海      B. 南昌 三湾 井冈山  
C. 沈阳 卢沟桥 南京      D. 瑞金 遵义 会宁

22. 下列歌曲所反映的历史事件按先后排序正确的是

- ①《八路军进行曲》      ②《国民革命歌》  
③《解放区的天》      ④《飞越大渡河》

- A. ①②③④      B. ③①②④      C. ④③①②      D. ②④①③

23. 右图漫画反映了近代中国民族工业的发展状况，从漫画中可以得出的历史信息是

- A. 甲午中日战争后民族工业的初步发展  
B. 辛亥革命以后掀起了发展实业的热潮  
C. 近代以来民族工业发展受到严重阻碍  
D. 一战期间民族工业出现了短暂的春天



24. 某历史公众号准备推送一期专题——凡尔赛—华盛顿体系。下列各项可以放进专题资源包的是

- ①论文：《德国为什么被排除在巴黎和会之外》      ②视频：《联合国的成立》  
③图片：《丘吉尔、罗斯福、斯大林参加雅尔塔会议》      ④文件：《九国公约》  
A. ①②      B. ③④      C. ①④      D. ②④

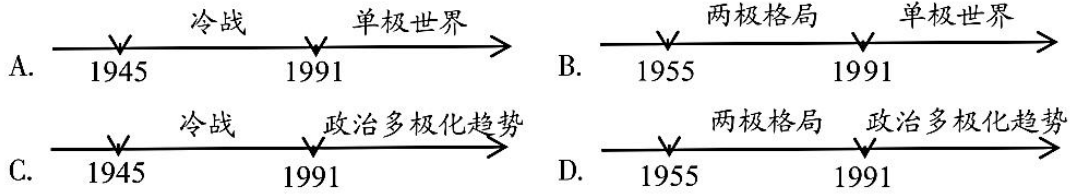
25. 列宁实施的“新经济政策”与罗斯福“新政”的相同点是

- A. 都巩固了新生的革命政权  
B. 都有利于本国经济恢复和发展  
C. 都使国家的社会性质发生了改变  
D. 都使资本主义制度得到调整和巩固

26. 斯大林曾经说过：“谁解放领土，谁就把自己的社会制度推行到他们的军队所到之处。”下列史实能印证斯大林这句话的是

- A. 马歇尔计划      B. 西欧联合  
C. 民主德国成立      D. 东欧剧变

27. 在中考复习中，某同学用图示法将第二次世界大战后的世界历史分为两个阶段，并总结提炼了相应的时代特征。其中正确的是



28. 下列大事年表记录的史实反映出

1950年	舒曼计划出台
1967年	欧共体成立
1991年	《欧盟条约》签订
1993年	欧盟成立
1999年	欧元发行

- A. 西欧走向联合的历程      B. 西欧各国经济水平一致  
C. 西欧国家间矛盾消失      D. 西欧的一体化水平最高

29. “它是由亚非国家自己处理自己事务的国际会议，会议的成就表明亚非国家已作为一支新兴的政治力量登上了国际舞台。”引文中的会议是指

- A. 华盛顿会议      B. 日内瓦会议  
C. 万隆会议      D. 雅尔塔会议

30. 下面是当今世界一些国际组织的标识图案，其中致力维护国际和平及安全并为此目的采取有效方法的国际组织是



第二部分材料分析题(共 45 分)

31. (12 分) 在漫长历史进程中，我国各族人民密切交往，休戚与共，形成中华民族多元一体的格局。

材料一



图释①：月儿河龙虎尊，出土于安徽月儿河商文化遗址，青铜材质，喇叭口，束颈，肩部饰三龙，龙身半浮雕状，虎身圆润，兽面纹清晰。



图释②：三星堆龙虎尊，出土于四川省三星堆古蜀文化遗址，青铜材质，喇叭口，束颈，肩部饰三龙，龙身浅浮雕，虎身干瘦，兽面纹较散乱。

### 学者观点

中华民族是多区系文化交汇、撞击、相互影响作用的结果……

——摘编自苏秉琦《迎接中国考古学的新世纪》

(1) 材料一中①②的史料类型是： (1分。填写序号) 运用材料一中的史料，说明学者的观点。(1分)

- A. 文献史料      B. 实物史料      C. 口述史料

材料二 (太和十八年)壬寅，革衣服之制……(十九年)六月己亥，诏不得以北俗语言于朝廷……丙辰，诏迁都之民，死葬河南，不得还北……九月庚午，六宫及文武尽迁洛阳。

——摘自《魏书》

(2) 依据材料二，概括此次改革的内容。(3分) 结合所学，分析此次改革的作用。(2分)

材料三 对于宋朝来说，榷场贸易更重要的考量是减少边境的威胁。天圣四年七月，就有中书上书称，榷场的设立不是独利的贸易，而是要南北往来。宋朝向金输出香药、茶叶、棉花、犀角、象牙、书籍、外洋舶货。金朝出口北珠、毛皮、人参、银等。作为两国的贸易窗口，即便是在交战时期，双方的主要榷场仍没有关闭。两国之间的交流脉络得到了延续。

——摘编自《宋代边境线上的“榷场”贸易》

(3) 依据材料三，分析宋代榷场的作用。(2分)

材料四某同学依据历史学者刘宗绪教授的观点，将中原王朝和边疆民族关系的发展模式制成下表。

序号	发展模式	典型阶段
----	------	------



一种	中原政权覆灭，各边疆地区少数民族进入中原，基本上会出现混乱局面。但在混乱中，各民族却相互融合。	南北朝时期
第二种	边疆民族的强大导致与中原王朝势均力敌，于是各民族政权之间呈现相互并立之势，形成割据分裂局面。但在割据中，有统一的愿望、因素和趋势。	两宋时期
第三种	统一的中原王朝非常强大，各边疆民族以中原民族和地区为中心相互交往，直至融入中原民族，呈现统一局面下的民族大融合状况。	①时期

(4) 依据材料四并结合所学，填写①处内容并说明理由。(3分)

32. (10分) 旗帜是号令，是象征和标志，也是精神和信仰。


材料一 1405年至1433年，郑和率领远洋船队先后七下西洋。郑和的船队是一支种类齐全的结构专业化的特混船队，有宝船、马船、粮船、坐船和战船等。郑和船队海上通信以旗帜为号传递信息，高悬桅杆之上的号旗和令旗传信、传令，各船见旗帜信令行事；还以灯光为明指引航行，或以钟鼓锣号炮声指挥联络，或以狼烟火把鞭炮火信报警。船队对途中山峰、岛屿、浅滩、礁岩等，均有明确定位，通过三向交叉形成的视线三角形精度高，与现代航海中的三标定位技术如出一辙。

——摘编自金永兴《郑和航海与新世纪航海技术展望——兼论郑和下西洋对世界航海技术发展的贡献》

(1) 依据材料一，概括郑和下西洋航海技术的特点。(3分)

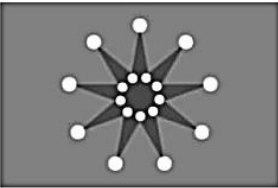
材料二

北洋水师军旗。洋务派在《北洋海军章程》议定海军旗为长方形、正黄色、龙形图案用蓝色羽纱镶嵌。




①

五色旗。五色象征着汉、满、蒙、回、藏五族共和。这是中华民国第一面法定国旗。



②



③

十八星旗。旗面红色，象征铁血精神，十八颗圆星代表十八行省。亦称首义之旗，是武昌起义胜利的标志。

(2) 将材料二中与旗帜有关的三则史事按先后排序。(1分。填写序号) 指出三面旗帜所反映出的共同主题。(1分)

\_\_\_\_\_ → \_\_\_\_\_ → \_\_\_\_\_





材料三



十月革命后的苏维埃政权国旗

- ❖ 底色:左边为垂直的蓝条,右边是代表革命的红色
- ❖ 铁锤:象征工人阶级
- ❖ 镰刀:象征农民阶级
- ❖ 镰刀铁锤组合:工农联盟的标志
- ❖ 金边红星:代表苏联共产党的领导



中华苏维埃共和国国旗

- ❖ 底色:红色,革命的颜色
- ❖ 地球形:白色底子,轮廓经纬线为蓝色
- ❖ 铁锤、镰刀:分别象征工人、农民阶级
- ❖ 镰刀铁锤组合:工农联盟的标志
- ❖ 五角星:在麦穗、稻穗共同组成的圆环上方,象征中国共产党

(3) 依据材料三, 概括苏俄和中国革命道路的相同点。(3分)

材料四



2019年10月1日天安门广场举行隆重的中华人民共和国成立70周年盛大阅兵式。阅兵时,中国共产党党旗、中华人民共和国国旗、中国人民解放军军旗,三面鲜红的旗帜交相辉映,在213名仪仗官兵护卫下迎风招展。敬礼号角响起。习主席停车肃立,以注目礼向党旗、国旗、军旗庄严致敬。这是对党的崇高礼赞!对祖国的崇高礼赞!对人民军队的崇高礼赞!

—摘编自新华网

(4) 依据材料四并结合所学, 分析国家主席向三面鲜红旗帜表达“崇高礼赞”的原因。(2分)

33. (12分) 我们回首战争, 因为珍爱和平。

【教科书中看战争】

材料一



### 材料研读

此次两军作战，双方伤亡惨重，但十周之英勇抵抗，已造成中国堪称军事国家之荣誉，此前所未闻者。须知若干华军器械，犹未充分，但一般所认为不能保持一日之地，彼等竟守至十周之久。此种奇迹，自属难能可贵。上海一隅之抵抗，对于整个中国均有极大之影响。

——伦敦《泰晤士报》（1937年11月28日）

### 抗日战争大事年表

时间	事件
1931年	① _____（抗日战争的起点）
1936年	西安事变
1937年	② _____（全民族抗战的开始）
	淞沪会战
	③ 第二次国共合作实现
	平型关大捷
1938年	南京大屠杀
	台儿庄战役
1940年	武汉会战
	汪精卫伪国民政府在南京成立
.....	.....
1945年	中国共产党第七次全国代表大会召开
	日本宣布投降

.....1945年8月6日和9日，美国先后向日本广岛和长崎各投下一枚原子弹。8月8日，苏联政府对日本宣战。次日，苏联红军出兵中国东北，对日本关东军发起进攻。

——摘自统编教材《中国历史》八年级上册

(1) 写出材料一中抗日战争大事年表①②处的事件。(2分) 说出抗日战争大事年表中②③事件间的联系。(1分) 依据以上材料，概括抗日战争胜利的原因。(3分)

#### 【纪录片中看战争】

材料二

①南京审判战犯军事法庭经调查判定，在1937年12月13日开始的南京大屠杀中，总计死亡人数达30多万，日军制造了惨绝人寰的特大惨案。

②从1941年开始，日本用于华北、华中的军队，共有55万余人，约占同年关内日军兵力的70%，超过侵入东南亚各国太平洋各地陆军兵力的总和。

③1941年6月苏德战争爆发后，德国外长曾三次向日本提出，德日两国应迅速从东西向两面夹击苏联。但是日本为了应对中国战场，始终没能如德国所愿。

④1943年11月，美、英、中三国首脑在埃及首都开罗召开会议，发表《开罗宣言》，确认中国的东北地区、台湾、澎湖列岛等归还中国。

⑤1945年10月，联合国成立，中国作为五大创始国之一积极参与联合国事务。

(2) 将材料二中相应内容填入下面表格。(3分。填写序号)

观点	史实
日本侵略者犯下了滔天罪行	
中国是世界反法西斯战争的东方主战场	
中国国际地位提高	



### 【邮票之中看战争】

材料三



①百团大战纪念邮票·中国②诺曼底登陆纪念邮票·法国

③斯大林格勒战役纪念邮票·马绍尔群岛④雅尔塔会议纪念邮票·马耳他

(3)一枚小小的邮票，承载深远历史记忆。请仿照示例，从材料三①③④三枚纪念邮票中任选其一进行介绍。(2分)

示例:②

诺曼底登陆纪念邮票:1944年盟军在法国诺曼底登陆作战成功，开辟了欧洲第二战场，使德国陷入两线作战，加速了德国法西斯的灭亡。

### 【你我视角看战争】

(4)2020年是中国人民抗日战争暨世界反法西斯战争胜利75周年。依据以上材料，结合所学，谈谈你对战争的认识。(1分)

34. (11分)北京有许多名人故居，这些名人成就斐然，贡献突出。北京某中学开展了名人故居考察活动。

### 【诗文感知】

材料一 历史人物所写诗文摘录

人生自古谁无死?留取丹心照汗青。——文天祥

使国家富强不受外辱，足以自立于地球之上。——詹天佑

顶天立地奇男子，要把乾坤扭转来。——孙中山

爱国不忘读书，读书不忘爱国。——蔡元培

挥刀杀贼男儿事，指日观兵白帝城。——蔡鳄

(1)依据材料一，概括以上历史人物的共同品质。(1分)从材料一中，任选一位历史人物，结合所学说出其主要事迹。(1分)

### 【文献研究】

材料二 历史名人言论摘选



“国人而欲脱蒙昧时代，羞为浅化之民也，则急起直追，当以科学与人权并重。”  
——北大文科学长 陈独秀

“由今以后，到处所见的，都是布尔什维主义战胜的旗。到处所闻的，都是布尔什维主义的凯歌的声……试看将来的环球，必是赤旗的世界。”  
——北大图书馆主任 李大钊

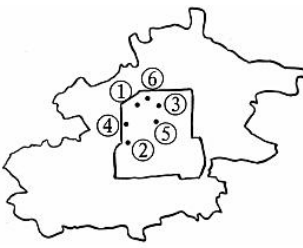
(2) 从材料二中，任选一位历史名人的言论，结合所学说明其发表的目的。(2分)

【实地考察】

材料三北京地区名人故居及各自主要成就摘编

### 考察笔记

序号	故居	成就
①	恭王府	1862年，奕訢组织开办清末最早的洋务学堂——京师同文馆。
②	李劫人故居	《我的马克思主义观》，1919年发表于《新青年》杂志。
③	张之洞故居	1890年，开办汉阳铁厂。
④	鲁迅故居	著有白话小说《狂人日记》，无情批判吃人的封建礼教。
⑤	胡适故居	《文学改良刍议》，1917年发表于《新青年》杂志。
⑥	徐悲鸿纪念馆	创作了《愚公移山》这一宏篇巨作。



北京部分名人故居位置示意图

(3) 依据材料三，概括以上成就可以开展的考察主题。(3分。仿照示例，完成表格)运用材料三并结合所学，设计一道与该考察主题有关的思考题并给出答案。(2分)

示例：

内容	考查主题
②	新文化运动
⑤	

内容	考查主题

【故居保护】

材料四 历史巨人的故居被推土机一个个夷平，城市失去了自己这种灵魂性确凿的存在，泯灭掉一份份珍贵的遗存，城市因之一点点减少它历史积淀的厚重。

——摘自冯骥才《名人故居的进退两难》

(4) 依据材料四，说出名人故居的价值。(1分)北京名人故居的保护需要同学们的参与，请你为此提出一项行动建议。(1分)

要求：紧扣名人故居保护，切实可行；说出具体做法。