

北京汇文中学朝阳垂杨柳分校 2020—2021 学年度第一学期

九年级道德与法治学科期中质量检测试题 2020.10

出题人：常静 审核人：庞雅丽

(考试时间 60 分钟 满分 100 分)

第一部分 选择题 (共 50 分)

本部分共25小题，每小题2分，共50分。在每小题列出的四个选项中，选出最符合题目要求的一项。

1. 2020年10月14日上午，在广东省深圳市隆重举行深圳经济特区建立_____周年庆祝大会，总结经济特区建设经验，在更高起点上推进改革开放。中共中央总书记、国家主席、中央军委主席习近平出席大会并发表重要讲话。

- A. 35 B. 40 C. 45 D. 50

2. 10月19日，在中国人民志愿军抗美援朝出国作战70周年之际，习近平总书记前往中国人民革命军事博物馆，参观“铭记伟大胜利 捍卫和平正义——纪念中国人民志愿军抗美援朝出国作战70周年主题展览”。开展这样的纪念活动是为了

- ①以史为鉴 开创未来 ②缅怀先烈 传承民族精神
③铭记历史 牢记仇恨 ④致敬英雄 聚前进力量

- A. ①②③ B. ②③④ C. ①③④ D. ①②④

3. 40年来，在全体中华儿女的共同努力下，汇聚强大合力，促成历史巨变。现在，中国每一分钟都有崭新的奇迹在演绎。让我们从中国的每一分钟里，触摸祖国跳动的脉搏，感受时代蓬勃的活力。右图说明

- A. 我国已成为世界上最发达的国家
B. 我国经济建设取得巨大成就
C. 我国已成为社会主义强国
D. 我国历史悠久

一分钟，能新建改建 596 多米公路
一分钟，“复兴号”高铁前进 5833 米
一分钟，有 46800 多 G 移动互联网接入流量
一分钟，8 万件快递被分发
一分钟，创造 1.57 亿的 GDP
一分钟，移动支付金额达 4 亿多元

4. 年满 18 周岁的小华参加人大代表选举，行使公民权利，他说“谁能代表人民利益，为人民说话和办事，就选谁。”这体现了()

- A. 我国社会主义选举制度在不断完善
B. 我国要继续推进社会主义法治建设
C. 公民积极、主动、理性地参与民主选举
D. 我们要建立健全中国特色社会主义理论体系

5. 获得 2018 年“时代楷模”之称的卓嘎、央宗两姐妹，在父亲的带领下，加入了中国共产党，半个多世纪以来，父女三人以放牧为生，守护着祖国数千平方公里的国土。父亲桑杰曲巴常对两个女儿说：“如果我们走了，这块国土上就没有人了！”这句话，两个女儿记了一辈子。他们知道，守护土地，就是守护国家。卓嘎、央宗两姐妹的行为()

- ①践行了以爱国主义为核心的中华民族精神
②自觉履行维护国家安全、领土完整的义务
③勇于承担国家责任并期待获得社会的尊重
④确保了少数民族地区经济社会发展与稳定

- A. ①② B. ①③ C. ②④ D. ③④



6. 下图是中国邮政在 2018 年 10 月 30 日发行的《港珠澳大桥》纪念邮票。



以下观点正确的是

- ①建设超级工程，是解决我国发展不平衡不充分问题的主要途径
 - ②港珠澳大桥有利于两岸三地的沟通与交流，促进共同繁荣与发展
 - ③在施工过程中，关注生态保护，体现人与自然和谐共生的理念
 - ④中国桥梁建设的巨大成就，标志着我国已经进入了世界强国的行列
- A. ①② B. ②④ C. ①③ D. ②③

7. 在平昌冬奥会闭幕式的“北京 8 分钟”时段，两名闪闪发光的“熊猫队长”与智能机器人共舞，向全世界发出了来自中国的邀请。“熊猫队长”的形象是节目创作团队。从我国非物质文化遗产“川北大木偶戏”中汲取灵感，经过工艺改良和科技创新打造而成的。这说明

- ①不同国家的文化要相互融合、相互促进
 - ②对于传统文化必须全面继承、发扬光大
 - ③中华传统文化借助科技创新焕发了生机与活力
 - ④富有民族特色的文艺作品展现了中华文化魅力
- A. ①② B. ①③ C. ②④ D. ③④

8. 下列诗句、名言寓意与中华传统美德相一致的是

	名言、诗句	中华传统美德
①	谁言寸草心，报得三春晖	孝亲敬长
②	君子一言，驷马难追	诚实守信
③	书读百遍，其义自见	宽宏大量
④	交友投分，切磨箴规	乐于助人

- A①② B①④ C②③ D③④

9. 2015 年民法典编纂正式启动，民法典编撰过程历时五年，先后 10 次通过中国人大网公开征求意见，累计收到 42.5 万人提出的 102 万条意见和建议。2021 年 1 月 1 日正式实施。以上材料体现了

- A. 民主选举 B. 民主管理 C. 民主决策 D. 民主监督

10. 下面这组图片共同反映的主题是



- A. 履行公民义务 B. 全面建成小康社会 C. 文明交往礼为先 D. 依法治国



11. 由下图可以看出



- A. 我国已经实现全面建成小康社会的目标
 B. 改革开放使人民生活水平逐步提高
 C. 我国经济快速发展，已成为发达国家
 D. 我国已经摆脱贫困，实现了共同富裕
12. 嫦娥、北斗、天宫、蛟龙、墨子、悟空、天眼、航母……一个个中国科技名片闪耀在世人面前。2019年，C919大飞机进入审定试飞阶段，“嫦娥”实现了月背探索，“北斗”系统服务全球，5G通信不在遥远。中国制造、中国创造共同发力，再创辉煌。中国科技的发展启示我们
- A. 要加强技术引进，推动科技的发展
 B. 我国科技发展已进入世界先进行列
 C. 建设科技强国，走创新驱动发展之路
 D. 科技创新是增强综合国力的唯一途径
13. 近日，某中学开展了“戏曲进校园 经典永流传”活动。在经典戏曲欣赏、名家指导学唱等丰富多彩的活动中接受传统文化的熏陶。当问及同学们参加此项活动的意义和收获时，以下回答恰当的是
- ①弘扬传统文化，培养家国情怀
 ②提升艺术素养，坚定文化自信
 ③培养实践能力，建设美丽家园
 ④提高审美能力，成为戏曲名家
- A. ①②
 B. ①③
 C. ②④
 D. ③④
14. 近年，央视“中国成语大会”“中国诗词大会”的文化类节目受到观众热捧。这主要是因为
- A. 中华文化是世界上最优秀的文化
 B. 中华文化博大精深，富有魅力
 C. 中华传统美德需要传承和弘扬
 D. 只有电视节目才能传播中华文化
15. 中华优秀传统文化是中华民族丰厚的精神滋养。“己所不欲勿施于人”，启发我们要与人为善、平等待人；“群己合一”，启示我们要有团队精神、善于合作；“和而不同”，启迪我们要尊重不同文化并与之和平共处……由此可见，中华优秀传统文化
- ①影响我们的道德情操
 ②影响我们的思想观念
 ③凝聚中华民族的智慧
 ④决定我们的行为方式
- A. ①②③
 B. ①③④
 C. ①②④
 D. ②③④
16. 下面图表信息突出反映了

移动终端					
移动通信技术	1G	2G	3G	4G	5G
功能用途	移动电话	收发短信	收发图文	移动视频	万物互联
我国技术水平	空白	跟随	突破	并行	部分领先

- A. 中国各领域科技创新水平都领跑世界
 B. 要提升售后服务水平，优化企业形象
 C. 人民的文化生活日益丰富多彩
 D. 我国科技创新方面不断取得突破



17. “哪有什么洪荒之力，不过是在咬牙坚持”，中国女排正是凭着这样的执着一路努力拼搏。习近平总书记对此提出赞扬，“中国女排不畏强手、英勇顽强，打出了风格、打出了水平，时隔 12 年再夺奥运金牌，充分展现了女排精神，全国人民都很振奋”。对女排精神的理解，正确的是

- ①是对中国优秀传统文化的继承和发展
- ②诠释了以爱国主义为核心的民族精神
- ③保证了女排在所有的比赛中都能所向披靡
- ④为民族复兴提供凝心聚气的强大精神动力

A. ①②③ B. ①②④ C. ②③④ D. ①③④



18. 2018 年，我国全面实施“一对夫妇可生育两个孩子”的政策已满三年。“全面二孩”政策持续推进，多地出台鼓励措施。围绕“全面二孩”政策，同学们有不同的观点（见下图）。该政策

观点一：一对夫妇能生育两个孩子，说明以前的计划生育政策过时了。	观点二：计划生育政策也需要与时俱进
---------------------------------	-------------------

- A. 是对我国计划生育基本国策的调整和完善
- B. 制约我国经济的发展和人民生活水平的提高
- C. 能从根本上解决我国人口老龄化问题
- D. 说明国家将取消生育限制，提高人口数量

19. 井冈山精神、长征精神、载人航天精神、抗美援朝精神、抗疫精神……中华民族精神在空间上不是封闭的，在时间上也不是停滞的，是一个鲜活有机、不断吸纳的生命系统。这说明

- A. 中华民族精神是中华民族“魂魄”
- B. 爱国主义是中华民族精神的核心
- C. 中华民族精神具有与时俱进的品格
- D. 传承和弘扬民族精神是每一个中华儿女的责任和义务

20. 王承书，被誉为中国的居里夫人，参与了我国第一颗原子弹研制项目。在美留学时，她的学术理论轰动世界，却在祖国需要时毅然回归，隐姓埋名 30 年，投身于原子弹的研制中。她一生清贫，临终前将毕生积蓄捐给“希望工程”。她的事迹向我们表达了

- A. 海内存知己，天涯若比邻
- B. 苟利国家生死以，岂因祸福避趋之
- C. 自古英雄多磨难，从来纨绔少伟男
- D. 春蚕到死丝方尽，蜡炬成灰泪始干

21. 下表中目标任务体现的发展理念依次为

序号	目标任务	发展理念
①	突出技术创新，以高新技术支撑产业的未来。到 2020 年，高新技术产业产值占比达到 43%，全社会研究投入占比达到 3% 以上。	
②	到 2020 年，城镇和农村居民人均可支配收入分别达到 5 万元、3 万元以上，城镇登记失业率控制在 3.5% 以内，使发展成果更多转化为群众获得感和满意度。	
③	统筹推进区域开发建设、着力打造北部经济隆起带、南部经济崛起带、中部生态涵养带，构筑现代城市与富美乡村和谐相融的城乡空间布局。	
④	深入实施“五个国际化”，促进“引进来”与“走出去”双向突破，实现外贸“大进大出”向“优进优出”转变。	
⑤	守护好“山水林田湖草”生命共同体，创建国家森林城市、水生态文明城市，打造生态美丽典范城市。	



- A. ①开放 ②绿色 ③创新 ④共享 ⑤协调
- B. ①创新 ②协调 ③共享 ④开放 ⑤绿色
- C. ①创新 ②共享 ③协调 ④开放 ⑤绿色
- D. ①共享 ②创新 ③协调 ④绿色 ⑤开放

22. 2018 年是宁夏回族自治区和广西壮族自治区成立 60 周年。60 年来特别是改革开放以来，两地区在党的领导下，经济发展实现巨大跨越，人民生活得到极大改善，生态环境发生显著变化，社会和谐稳定。这些巨变说明我国实行民族区域自治制度（ ）

- ①消除了民族之间的差异
- ②有力促进民族地区经济社会发展
- ③有利于实现民族平等团结和共同繁荣
- ④体现了统一的多民族国家大杂居小聚居的分布特点

- A. ①② B. ②③ C. ①③ D. ②④

23. 人无精神不立，国无精神不强。中国精神是新时代中国共产党人和中国人民最鲜明的精神标识，中国精神（ ）

- ①生生不息，薪火相传
- ②是以爱国主义为核心的民族精神
- ③是以改革创新为核心的时代精神
- ④是中华民族伟大复兴的强大物质力量

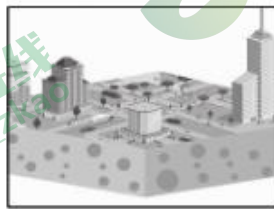

- A. ①②③ B. ①②④ C. ①③④ D. ②③④

24. 1982 年以来，我国 65 岁及以上人口数量逐年增加（除 1995 年外），占总人口的比例由 1982 年的 4.9% 升至 2016 年的 10.8%；0—14 岁人口数量总体呈下降趋势；15—64 岁的人口（劳动力人口）数量在持续上升后，2014 年首次下降。据此，下列推断合理的是

- ①我国人口老龄化问题日益严重
- ②“全面二孩”政策有利于促进人口长期均衡发展
- ③我国目前依然面临着人口素质偏低的问题
- ④人口问题对我国经济社会发展影响不大

- A. ①② B. ①③ C. ②④ D. ③④

25. 生态文明建设是关系中华民族永续发展的根本大计，必须树立和践行“绿水青山就是金山银山”的发展理念。下列选项不符合这一发展理念的是



- A. 开展“光盘行动” B. 快递过度包装 C. 建设“宜居城市” D. 发展乡村生态旅游

第二部分 非选择题（共 50 分）

26. （10 分）判断题

- (1) 改革开放是决定当代中国命运的关键一招，我国已经基本实现了全面建成小康社会的目标。（ ）
- (2) 创新是引领发展的第一动力。（ ）
- (3) 我国社会主要矛盾是人民日益增长的美好生活需要和不平衡不充分的发展之间的矛盾。（ ）
- (4) 共享发展成果就是同步富裕。（ ）
- (5) 创新精神就是敢为人先，不能和别人说的一样。（ ）
- (6) 建设法治中国的时代要求就是推进法制国家、法制政府、法制社会一体建设。（ ）



- (7) 人民代表大会制度是我国的基本政治制度。()
- (8) 依法行政的核心是规范政府的行政权。()
- (9) 我国实行计划生育基本国策就是为了控制人口数量。()
- (10) 出生人口男女性别比偏高，老龄化加剧是我国人口现状的基本特点。()

27. (12分) 千年梦想，百年目标

【走向复兴路】



(1) 图中建党100年的奋斗目标是什么？(2分)

【打赢脱贫攻坚战】

十八洞村地处大山深处，由于耕作条件差、收入来源单一，贫困曾是这里的生活常态。

2013年，国家主席习近平考察这里，首次提出了精准扶贫的脱贫之策。在国家精准扶贫政策扶持下，十八洞村开始尝试创造性地、因地制宜地发最特色产业。除此之外，十八洞村还组织系列文化活动，消除了少数贫困群众懒贫、赖贫等行为。如今十八洞村面貌焕然一新，136户、533名贫困人口全部脱贫。



图8


(2) 结合以上材料和所学知识，说一说国家为什么要帮助贫困人口脱贫。(4分)

【展望未来】远景展望新中国成立100年。到2050年，北京将全面建成更高水平的国际一流的和谐宜居之都，成为富强民主文明和谐美丽的社会主义现代化强国首都、更加具有全球影响力的大国首都、超大城市可持续发展的典范，建成以首都为核心、生态环境良好、经济文化发达、社会和谐稳定的世界级城市群。

(3) 有人认为，加大生态环境建设会影响北京经济发展。你是否同意这一观点？请说明理由。(6分)

28. (8分) 北京市于9月16日启动“十四五”规划公众建言活动，一个月以来，全市热心市民、专家学者、专业人士建言献策，已经累计征集建言近2000条。从10月20日开始，建言增加全新渠道，市民可以拍抖音视频为“十四五”规划献计。

结合材料，综合运用所学知识，说一说北京市启动“十四五”规划公众建言活动的意义。



29. (12分) 阅读材料, 综合运用所学知识进行探究问题。

材料一: 下列是某同学搜集的四则新闻材料。

序号	新闻材料	体现的法治新方针
①	2020年2月24日, 十三届全国人大常委会第十六次会议通过《关于全面禁止非法野生动物交易、革除滥食野生动物陋习、切实保障人民群众生命健康安全的决定》。	
②	疫情防控期间, 北京市交通执法总队严厉打击影响市民出行安全、违反北京市疫情防控措施的各类非法运营行为, 发现一起, 查扣一起, 发现一家, 查处一家, 绝不手软。	
③	疫情防控期间, 北京市检察机关积极主动履行检察职能, 依法从严办理了一批妨害新冠肺炎疫情防控犯罪案件, 有力维护了社会秩序、保障了人民群众的生命安全和身体健康。	
④	疫情防控期间, 广大党员、社区志愿者们主动担负起摸排返京人员、公共区域消毒、自我防护宣传等工作, 为抗击疫情作出自己的贡献。一位社区志愿者说: “只要每个社区、每个人都守好自己的小区和自己的家, 疫情也没那么可怕。”	

(1) 上表中的新闻材料体现了法治新方针的哪一方面? 请将相应内容填入表格内。(4分)

(2) 结合材料, 运用所学知识, 说说新冠肺炎疫情防控期间我国是如何落实依法治国的。(8分)

30. (8分)

材料一: 在中国广袤的土地上, 有这样一条铁路线, 百年来见证着中国铁路从弱到强的发展历程。它就是京张铁路。110年前, 京张铁路打破了中国人不能自建铁路的断言。110年后, 京张高铁开启了全球智能化高铁的先河。依托京张高铁建设, 我国将进一步形成智能高铁应用示范方案, 构建智能高铁技术标准体系, 成为引领世界的智能高铁应用国家。

材料二: 党的十八大以来, 我国基础设施建设重大工程不断取得新进展。仅用4年多时间, 气势宏伟的北京大兴国际机场就拔地而起; 港珠澳大桥建成后, 世界上已经没有什么中国人不能造的桥; 随着洋山港四期的开港, 上海港集装箱年吞吐量突破4000万箱, 和美国全部港口的集装箱年吞吐总量相差无几……这些大国工程, 既为社会主义现代化建设夯实基础, 也向世界展示了一个充满活力和创造力的中国。

(1) 结合材料, 说一说我国取得这些举世瞩目的成就说明了什么?(4分)

(2) 面对实现中华民族伟大复兴路上的新机遇与挑战, 说一说作为中学生的你该怎么做?(4分)

