

# 2023 北京东城初三一模

## 历史



2023. 5

一、选择题（共 20 小题，每小题 1.5 分，共 30 分。在下列各题的四个选项中，只有一项符合题意）



1. 下列 2022 年中国考古新发现中，与北京人遗址有同类发现的是

出土了大量打制石器及直立人头骨化石	发现了多座聚集而居的半地穴式房址	发掘了“益州太守章”等官员封泥和大量简牍	揭露了包括两座窑炉在内的完整作坊遗迹
湖北十堰市学堂梁子遗址 A	河北尚义县四台遗址 B	云南昆明市河泊所遗址 C	宁夏贺兰县苏峪口瓷窑址 D

2. 国宝级青铜器宜侯矢（cè）簋内的铭文，记述了周康王册封矢为宜侯，并赏赐给矢土地、城邑、人口、香酒、美玉和弓箭等。上述铭文可用来研究

- A. 世袭制的开创
- B. 分封制的实行
- C. 井田制的废除
- D. 郡县制的建立

3. 秦始皇和汉武帝所采取的以下措施，其相近之处有

	措施：秦始皇下令以秦国的圆形方孔半两钱作为统一货币，在全国流通。
	措施：汉武帝把铸币权收归中央，统一铸造五铢钱。

- ①都为后朝货币形制提供了范式
- ②都吸取了暴政导致速亡的教训
- ③都体现了国家加强经济的管理
- ④都有利于巩固统一多民族国家

- A. ①②③
- B. ①②④
- C. ①③④
- D. ②③④

4. 有学者指出：丝绸之路的形成，其意义的重要不在于丝绸的转运，而在于有了这条通达的道路之后，人类物质文明和精神文明的创造可以随着时代的演进而络绎不绝。可见，该学者认为丝绸之路

- A. 加强了对官吏监督
- B. 稳定了社会局势
- C. 将世界连为了整体
- D. 沟通了中外文明

5. 右面是《北齐校书图》（局部），此图描绘了北齐皇帝命文士刊定《五经》等儒家典籍的情景。图中一名文士坐在胡床（原是北方少数民族的坐具）上，正在审读。这一图景反映了





- A. 北齐实现了全国统一                      B. 北方地区的民族交融  
C. 江南地区的经济发展                      D. 五代十国的更迭分立

6. 唐朝诗人袁皓曾作诗：“金榜高悬姓字真，分明折得一枝春。蓬瀛乍接神仙侣，江海回思耕钓人。转（tuán）扶排羽翼，十年辛苦涉风尘。升平时节逢公道，不觉龙门是嶮津。”描写的是

- A. 山川景致的概貌    B. 井然有序的城市    C. 科举及第的喜悦    D. 妇女的精神风貌

7. 唐朝是当时世界上具有影响力的强大国家，中外交流活跃。右表中①所对应的史事应该是

序号	史事
①	
②	长安是一座国际性的大都会
③	新罗派遣使节和留学生到唐朝学习中国文化
④	大食派遣使臣与唐朝通好，先后有 40 多次

- A. 文成公主入藏    B. 唐玄宗重用贤能

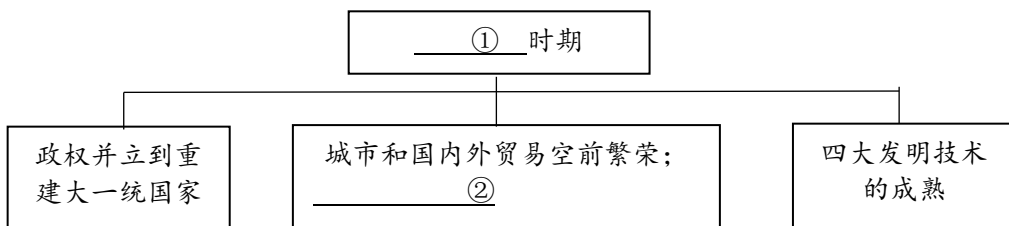
C. 鉴真东渡日本    D. 安史之乱被平定

8. 宋朝统治具有比其他朝代尤其明显的重文轻武色彩，以下史实能够说明这一观点的有

①唐朝登科（科举考试被录取）总数为 6603 人，两宋则达到 45640 人    ②完善三省六部制    ③文官主持军务，地位和待遇高于武将    ④建立行省制度

- A. ①②                      B. ①③                      C. ②④                      D. ③④

9. 下面图示中①和②处填写内容最为恰当的是



- A. 三国两晋南北朝时期；实行休养生息政策    B. 隋唐时期；郑和下西洋  
C. 辽宋夏金元时期；经济重心南移完成        D. 明清时期；文学艺术硕果累累

10. 一位同学在课后复习时，将清代《平定准噶尔图卷》（局部）和“清军平定大、小和卓叛乱图”放在同一板块中。据此判断他梳理的知识点应是清朝

- A. 设置了台湾府                      B. 册封班禅封号  
C. 设置驻藏大臣                      D. 巩固西北边疆

11. 近代中国人民为反抗列强侵略，争取民族独立，进行了英勇斗争和救亡图存的探索。下列材料与所关联的人物对应正确的是

<p>①就（虎门）海滩高处，周围树栅，开池慢卤，投以石灰，顷刻汤沸…… ②倭舰专恃吉野，苟沉是船，则我军可以集事 ③法者，天下之公器也；变者，天下之公理也 ④务祈推翻恶劣之政府，驱除暴戾，而建立共和国</p>
--

- A. ①——梁启超                      B. ②——林则徐  
C. ③——邓世昌                      D. ④——孙中山

12. “巴黎和会的消息最后传到这里时，我们都感到非常震惊，我们立刻对事实的真相觉醒了……看看我们的同胞，看看那些可怜无知的大众，不能不觉得我们必须奋斗。”以上是来自一名北大毕业生的追述，



由此判断与其叙述内容紧密相关的重要事件是

- A. 义和团运动
- B. 武昌起义
- C. 二次革命
- D. 五四运动

13. 右面一组数据反映了我国第一个五年计划的完成使我国

- A. 进入了社会主义初级阶段
- B. 开始改变工业落后的面貌
- C. 初步形成比较完整工业体系
- D. 建立社会主义市场经济体制


1957年，主要工业产品产量与旧中国最高年度的产量相比，钢产量相当于5倍多，原煤产量相当于2倍多，机床产量相当于4倍多。1957年与1949年相比，原油产量相当于12倍，发电量相当于4.5倍。

14. 学者们重新发现了古希腊和古罗马的文献。这个时代的艺术家和学者们歌颂自然之美，人类之尊严，帮助塑造了现代世界的思想史和文化史。文中“这个时代”的代表人物是

- A. 但丁、莎士比亚
- B. 哥伦布、法拉第
- C. 达·芬奇、诺贝尔
- D. 贝多芬、巴尔扎克

15. 下面漫画创作于1779年，题目为《美国烈马正在掀翻它的主人》。此漫画所反映的历史事件

- ①是一次民族解放战争
- ②对法国大革命产生深远影响
- ③确立了君主立宪政体
- ④废除了黑人奴隶



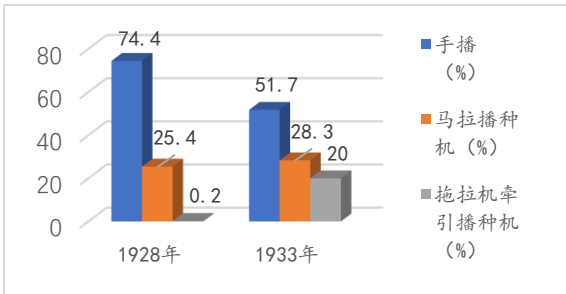
制

- A. ①②
- B. ③④
- C. ①④
- D. ②③

16. 一部著作中提到：“20世纪初，世界已被瓜分完毕，英国占有了最大份额的殖民地，德国则要求按照新的实力对比重新瓜分世界。帝国主义列强在激烈的竞争中不断寻找同盟者。”上述内容解释了

- A. 马克思主义诞生的社会背景
- B. 印度民族大起义的影响
- C. 三国同盟和三国协约形成的原因
- D. 十月革命的历史意义

17. 右图是1928年到1933年苏联在农业生产中采用不同播种方式所占比例情况。据此判断，这一时期发生上述变化的有利条件是



- A. 苏维埃政府巩固了新生的政权
- B. 战时共产主义政策的实施
- C. 新经济政策的实施
- D. 苏联进行社会主义工业化建设

18. 下面一组照片所反映的历史事件按其发生的先后顺序排列正确的是



① 斯大林格勒保卫战中坚守阵地的苏军战士



② 遭到轰炸的珍珠港美军机场



③ 何应钦（左）代表中国接受日军投降书



④ 雅尔塔会议三巨头

- A. ①②③④      B. ②①④③      C. ①②④③      D. ②①③④

19. 第二次世界大战后，世界形势发生了重大变化。下表中史实与主题关联正确的一项是

选项	主题	史实
A	冷战	杜鲁门主义的出台，“北约”和“华约”的建立
B	二战后资本主义的新变化	“经互会”的建立，欧洲的联合
C	社会主义的发展与挫折	东欧剧变，巴拿马收回运河主权
D	亚非拉国家的新发展	社会保障制度的建立，苏联解体

20. 2001 年中国加入了一个重要的国际组织，标志着中国将逐渐融入全球经济体系，参与全球范围内的竞争，从而打开了对外开放的新天地。这一国际组织的重要作用是

- A. 派出维和部队维持冲突地区和平      B. 彻底解决了全球粮食短缺的问题  
C. 促进全球贸易和世界经济的发展      D. 消除不同国家人们生活质量差距

二、材料分析题（共 4 小题，21 题 9 分，22 题 10 分，23 题 11 分，24 题 10 分，共 40 分）

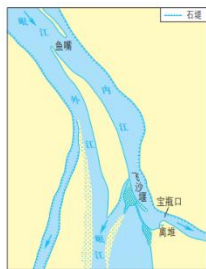
21. （9 分）人与自然。

材料一

人物	学派/身份	言论
①	道家	人法地，地法天，天法道，道法自然。
孟子	②	不违农时，谷不可胜食也；数罟（cù gǔ 细密的渔网）不入洿（wū）池，鱼鳖不可胜食也；斧斤以时入山林，材木不可胜用也。
德谟克利特	古希腊哲学家	从蜘蛛那里我们学会了织布和缝补；从燕子那里学会了造房子；从天鹅和黄莺等歌唱的鸟那里学会了唱歌。

（1）请写出上表中①和②处所应填写的内容。依据材料一，概括以上中外古代思想家、哲学家的言论所反映的共同主张。（3 分）

材料二



都江堰示意图

都江堰水利工程充分利用当地地理条件，乘势利导，无坝引水，自流灌溉，使堤防、分水、泄洪、排沙、控流相互依存，共为体系，保证了防洪、灌溉、水运和社会用水综合效益的充分发挥。其最伟大之处是建堰两千多年来经久不衰，而且发挥着愈来愈大的效益。都江堰的创建，使人、地、水三者高度协调统一。

——摘编自《中国古代水利工程——都江堰》



美国田纳西水利工程

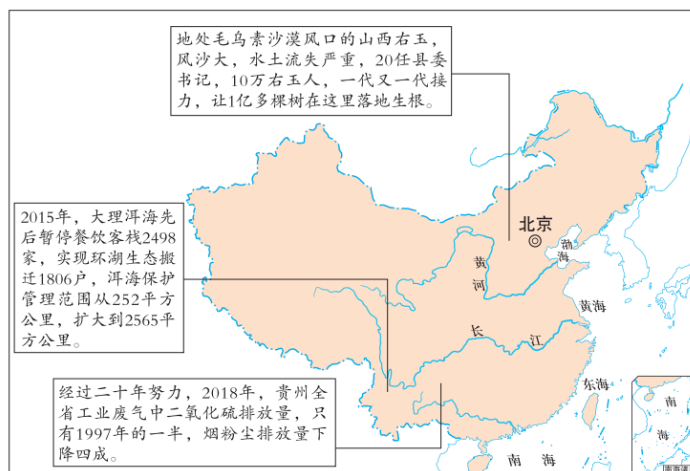
1933年，美国对田纳西河流域内的自然资源进行全面的综合开发和管理。在田纳西河流域实施以水力发电项目为龙头的水利综合开发。在田纳西河修筑高坝水库，既能提供防洪蓄水库容，又能改善内河通航条件，还能利用水库蓄水发电，将防洪、航道整治与水力发电三项开发任务有机地融为一体，发挥水利枢纽工程的综合效益。

——摘编自黄贤全《论美国政府开发落后地区的投资模式》

(2) 依据材料二并结合所学，说出都江堰的修建和美国田纳西水利工程建设各始于什么时期。

指出都江堰和田纳西水利工程有何相似之处。(4分)

### 材料三



——文字资料整理自纪录片





片《美丽中国》(2019年摄制)

(3) 依据材料三，说说我国在加强生态文明建设方面采取了哪些措施。(2分)

22. (10分) 汲取精神之源，凝聚奋进力量。



材料一

			
①中国共产党第一次全国代表大会上海会址	②毛泽东中共七大代表证	③中共十一届三中全会会场	④《人民日报》(2022年10月17日)关于“中共二十大开幕”的报道

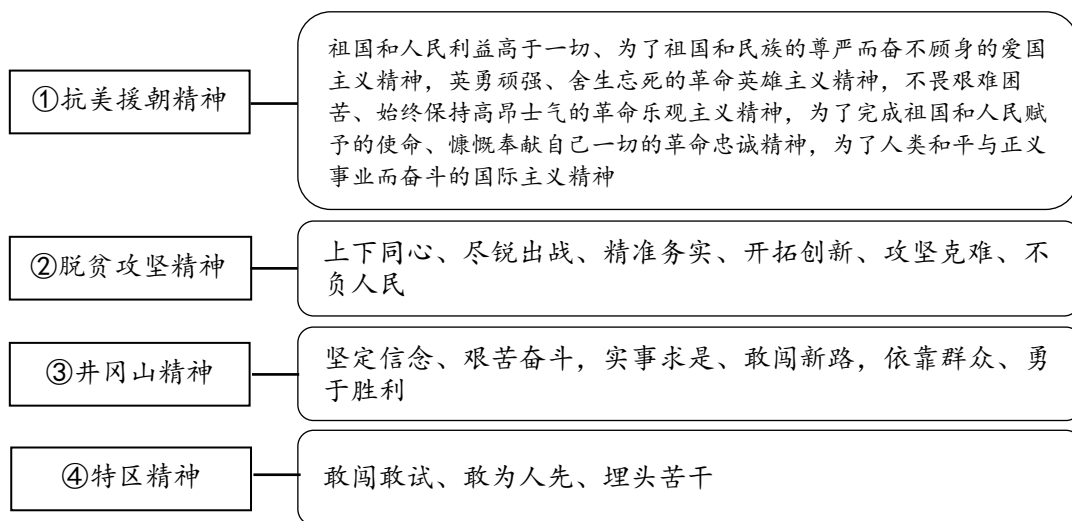
(1) 材料一呈现了中国共产党历史上四次重要会议的相关史料，按照史料类型从①—④中挑选恰当的史料，填在下面横线上。(每空只填一则史料的序号即可) 结合所学，分别说出中共七大的历史性贡献，以及中共十一届三中全会的重要意义。(4分)

属于文献史料的是：\_\_\_\_\_ 属于实物史料的是：\_\_\_\_\_

材料二 一百年前，中国共产党的先驱们创建了中国共产党，形成了坚持真理、坚守理想，践行初心、担当使命，不怕牺牲、英勇斗争，对党忠诚、不负人民的伟大建党精神，这是中国共产党的精神之源。一百年来，中国共产党弘扬伟大建党精神，在长期奋斗中构建起中国共产党人的精神谱系……

——习近平在庆祝中国共产党成立100周年大会上的讲话(2021年7月1日)

中国共产党人精神及主要内涵



——整理自《中国共产党简史》和共产党员网

(2) 请将①—④的中国共产党人精神，按照它们出现的时期进行排序。(只填序号即可) 从①—④中任选其一并结合所学，参照示例，说说中国共产党百年历程中，是如何弘扬伟大建党精神的。(3分)

示例：红军长征中强渡大渡河、飞夺泸定桥、爬雪山、过草地，体现了不怕任何艰难险阻，不惜付出一切牺牲的精神，这也是对伟大建党精神中不怕牺牲、英勇斗争精神的弘扬。

材料三 方向决定道路，道路决定命运。党在百年奋斗中始终坚持从我国国情出发，探索并形成符合



中国实际的正确道路。……只要我们既不走封闭僵化的老路，也不走改旗易帜的邪路，坚定不移走中国特色社会主义道路，就一定能够把我国建设成为富强民主文明和谐美丽的社会主义现代化强国。

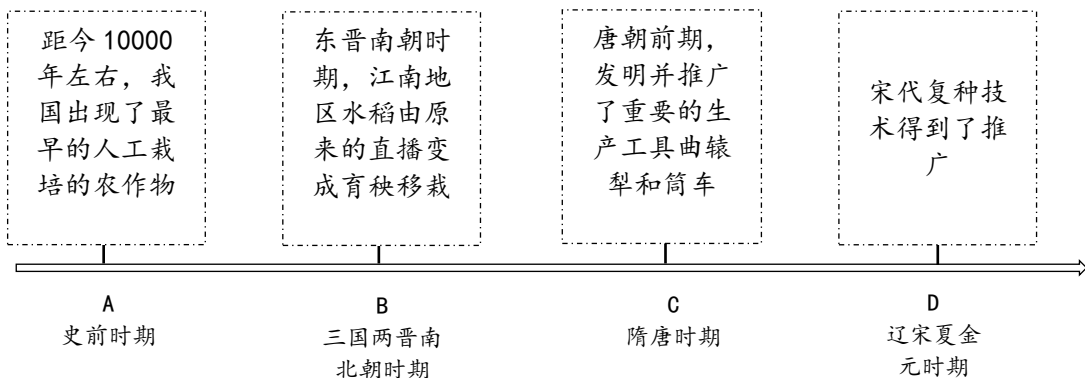
——《中共中央关于党的百年奋斗重大成就和历史经验的决议》

(3) 依据材料三，概括指出中国共产党百年奋斗中获得了哪一历史经验。恰当结合改革开放以来我国社会主义现代化建设的史实加以说明。(3分)

23. (11分) 科学技术推动社会发展。

材料一

中国古代农业技术的发展(部分成就)



(1) 依据材料一，归纳我国古代农业技术的进步体现在哪些方面。结合所学，从时间轴上 A-D 四个时期中任选其一，并阐述这一时期的农业技术进步对社会经济发展的作用。(3分)

材料二

序号	时间	事件
①	1687 年	牛顿的科学巨著《自然哲学的数学原理》出版
②	1785 年	瓦特改进的蒸汽机投入使用
③	1825 年	斯蒂芬森设计的蒸汽机车正式试车
④	1859 年	达尔文的著作《物种起源》出版
⑤	1868 年	江南机器制造总局翻译馆成立，负责翻译和引进西方科技类书籍
⑥	1877 年	美国发明家爱迪生发明了留声机
⑦	1883 年	德国工程师戴姆勒研制出汽油内燃机
⑧	1903 年	美国莱特兄弟首次试飞了世界上第一架飞机
⑨	1909 年	詹天佑主持修建的京张铁路建成通车
⑩	1913 年	美国的福特汽车公司使用流水线生产汽车
⑪	1946 年	世界上第一台电子计算机在美国问世
⑫	1964 年	中国第一颗原子弹爆炸成功
⑬	1970 年	我国成功发射了第一颗人造地球卫星
⑭	2003 年	航天员杨利伟乘坐神舟五号飞船升入太空
⑮	20 世纪 90 年代以来	互联网在全球迅速普及
⑯	2013 年	中国网民规模达 6.18 亿
⑰	2022 年 11 月	神舟十五号航天员乘组顺利进驻中国空间站，与神舟十四号航天员乘组首次完成“太空会师”

(2) 从材料二中找出正确答案，并填写在下面的横线上。(只填序号即可，2分)



人类社会开始进入“铁路时代”的标志是：

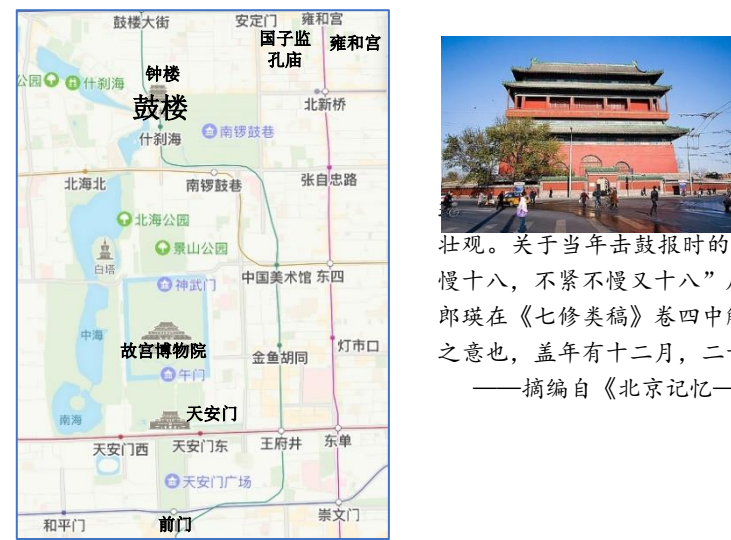
人类社会开始进入“信息时代”的标志是：

(3) 选择材料二中相互关联的事件（两个或以上），结合所学自定一个你想论述的观点，加以阐述或说明。（要求：观点正确，史论结合，条理清楚）（6分）

24. (10分) 文旅东城。

### 【打卡文物古迹】

材料一



鼓楼是北京古都的标志性建筑之一，为元、明、清三代都城的报时场所。鼓楼是一座以木结构为主的古建筑，三重檐，歇山顶，上覆灰筒瓦，绿髹檐柱支撑，更显示出它的雄伟壮观。关于当年击鼓报时的方法，老北京流传有“紧十八、慢十八，不紧不慢又十八”反复两次，共 108 响之说。明朝郎瑛在《七修类稿》卷四中解释说：“扣一百零八声者，一岁之意也，盖年有十二月，二十四气，七十二候，正是此数。”  
——摘编自《北京记忆——钟鼓楼历史沿革暨修缮纪实》

(1) 依据材料一，指出在北京古城建设布局中钟楼、鼓楼的地位。简析鼓楼作为文物古迹的研究价值。（3分）

### 【感受非遗精粹】

材料二 景泰蓝制作技艺拥有 600 余年传承历史，制作过程极其繁复艰深，既运用了青铜工艺，又吸收了瓷器工艺，还大量引进传统绘画和雕刻技艺，一件成品要经过 100 多道工序，包括上百次的打磨、一次次烧结镀金等，而且是纯手工制作。景泰蓝制作技艺 2006 年入选首批国家级非物质文化遗产。

——摘编自《景泰蓝技艺闪耀世界舞台》

北京珐琅厂总工艺师钟连盛，是景泰蓝制作技艺国家级代表性传承人，他觉得非遗融入了我们中华民族优秀的文化和历史，非遗的内涵与精神才是薪火永传的根基。他的创作融入时代特色与时代精神。他认为要从工艺和设计理念上，不断去创新去提升。

——摘编自《东城非遗这十年（人物篇）》

(2) 依据材料二，归纳景泰蓝制作技艺的特点。简述钟连盛总工艺师认为怎样传承和发展景泰蓝的





制作技艺。(4分)

【考察文化产业】

材料三

文化旅游场所	文化产业发展
故宫	截至2018年12月，故宫及其授权合作伙伴，累计开发文创产品27个系列，1.2万个品种，同时文创产品销售额快速增长，从2013年6亿元，增至2017年15亿元，4年时间增长1.5倍。
北京大学红楼	2002年4月，依托原北大红楼建立的北京新文化运动纪念馆正式对外开放。2021年6月，北大红楼举办了“光辉伟业 红色序章——北大红楼与中国共产党早期北京革命活动主题展”。
南锣鼓巷	北京最古老的街区之一，也是最富有老北京风情的街巷。胡同格局完整，胡同里各种形制的府邸、宅院多姿多彩，分布着众多名人故居，吸引着来自世界各地的游客。
吴裕泰内府菜	吴裕泰内府菜是“吴裕泰”第一家茶文化主题餐厅。为推广茶文化，吴裕泰将中国传统饮食文化与现代消费追求健康饮食的诉求相结合，打造了集餐、茶于一体的文化型餐饮中心。

(3) 依据材料三，分析现今人们的文化生活发生的变化及其原因。(3分)



# 参考答案

## 一、选择题（每小题 1.5 分，共 30 分）

1	2	3	4	5	6	7	8	9	10
A	B	C	D	B	C	C	B	C	D
11	12	13	14	15	16	17	18	19	20
D	D	B	A	A	C	D	B	A	C

## 二、材料分析题（共 40 分）

21. (9 分)

(1) ①：老子；②：儒家。（每空 1 分，共 2 分）

主张：人类应该顺应自然、学习自然、与自然和谐相处等。（1 分）

(2) 都江堰始建于战国时期；田纳西水利工程建设始于罗斯福新政时期。（2 分）

相似之处：都江堰和田纳西水利工程都充分利用了自然资源；它们都具有综合开发的特点，发挥出多方面的巨大作用。（2 分）

(3) 扩大生态保护范围、防沙造林、减少工业污染物排放等。（答出其中 2 点即可，2 分）

22. (10 分)

(1) 文献史料：④；实物史料：①或②。（每空 1 分，共 2 分）

中共七大历史性贡献：确立毛泽东思想为中国共产党的指导思想并写入党章。（1 分）

中共十一届三中全会重要意义：是新中国成立以来党的历史上具有深远意义的伟大转折，开启了改革开放和社会主义现代化建设新时期。（1 分）

(2) ③①④②。（1 分）

说明：价值观正确，史论结合，表述清晰即可。（2 分）

(3) 坚持中国道路。（1 分）

说明：价值观正确，史论结合，表述清晰即可。（2 分）

23. (11 分)

(1) 技术进步：栽培技术的进步；育种技术的进步；农业生产工具的发明和使用；耕作技术的提高。（答出其中 2 点即可，2 分）

作用：选择 A：距今 10000 年左右，我国出现了最早的人工栽培的农作物，这是我们祖先为人类文明作出的重要贡献。（1 分）选择 B：东晋南朝时期，江南地区水稻的育秧移栽，是生产技术的重大进步，促进了江南地区的开发。（1 分）选择 C：唐朝发明并推广了重要的生产工具曲辕犁和筒车，大大提高了耕作和灌溉效率。（1 分）选择 D：宋代复种技术的推广，使耕地的利用率提高，大大增加了粮食产量。（1 分）

(2) ③、⑮（每空 1 分，共 2 分）

(3) 评分标准

赋分	拟定的观点	材料运用与论述
5-6 分	明确，有思考的广度或深度	紧扣自己的观点加以论述，运用材料中两个以上的史实，能够做到史论结合，逻辑清晰
3-4 分	明确	能够围绕观点论述，运用了材料中的史实，但不够充分或不够典型，条理基本清楚
1-2 分	不够明确	有论述或说明，但材料不充分，或史论结合



		不充分
0分	没有凝练出观点	观点、论述与材料无关，或仅仅重复材料中的史实

24. (10分)

(1) 地位：钟楼、鼓楼位于北京中轴线的北端，是北京中轴线上的标志性建筑。(1分)

研究价值：有助于对北京中轴线布局的研究，对古代报时方法的研究，对古代建筑形制、构造以及丰富文化内涵的研究等。(答出其中2点即可，2分)

(2) 特点：制作技艺历史悠久；制作过程繁复艰深；博采众家之长；纯手工制作完成等。(答出其中2点即可，2分)

传承和发展：创作要融入中华民族优秀的文化和历史；展现非遗的内涵与精神，要融入时代特色与时代精神；从工艺和设计理念上，不断去创新、去提升等。(答出其中2点即可，2分)

(3) 变化：重视传统文化、红色文化；享受旅游、娱乐休闲生活；绿色食品、健康饮食的概念日益深入人心等。(答出其中2点即可，2分)

原因：改革开放以来人民生活水平不断提高，人民的生活方式发生了很大变化。(1分)