

2023 北京海淀初一（下）期末

地 理

2023.07

学校_____ 班级_____ 姓名_____

- | | |
|------------------|---|
| 考
生
须
知 | 1.本试卷共 8 页，共两部分，28 道题。满分 100 分。考试时间 60 分钟。
2.在试卷和答题纸上准确填写学校名称、班级名称、姓名。
3.试题答案一律填涂或书写在答题纸上，在试卷上作答无效。
4.在答题纸上，选择题用 2B 铅笔作答，其他题用黑色字迹签字笔作答。
5.考试结束，请将本试卷和答题纸一并交回。 |
|------------------|---|

第一部分

本部分共 25 题，每题 2 分，共 50 分。在每题列出的四个选项中，选出最符合题目要求的一项。

图 1 为地球公转示意图。读图，完成 1~3 题。

1.手持地球仪演示地球公转运动时

- ①地球仪与光源始终保持在同一水平面上
- ②地球仪按照①→④→③→②的顺序移动
- ③保持地球仪地轴的空间指向不变
- ④公转同时地球仪自西向东自转

- A.①②③
- B.①②④
- C.①③④
- D.②③④

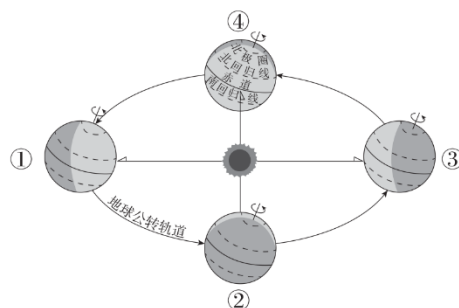


图 1

2.地球运行至①位置时，北半球的节气是

- A.春分
- B.夏至
- C.秋分
- D.冬至

3.当地球运行至③位置时

- A.赤道地区昼长夜短
- B.南极圈以南有极昼现象
- C.北京正值夏季
- D.北京旗杆正午影长达到一年中最短

百望山森林公园被称为北京的“天然大氧吧”。图 2 为百望山森林公园等高线地形图（单位：米）。读图，完成 4~6 题。

4.观景平台的海拔约为

- A.180 米
- B.190 米
- C.200 米
- D.210 米

5.曲径烟深栈道所处的地形部位是

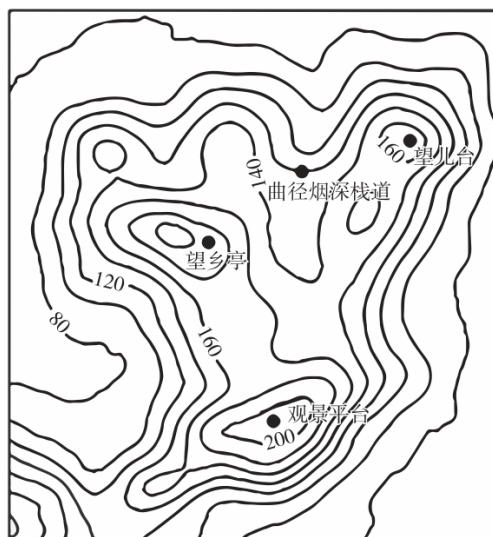


图 2

- A.山顶 B.山脊
 - C.山谷 D.陡崖
- 6.最适合攀登百望山的天气是



2023年2月6日土耳其南部发生7.8级地震。图3为全球六大板块示意图。读图，完成7、8题。

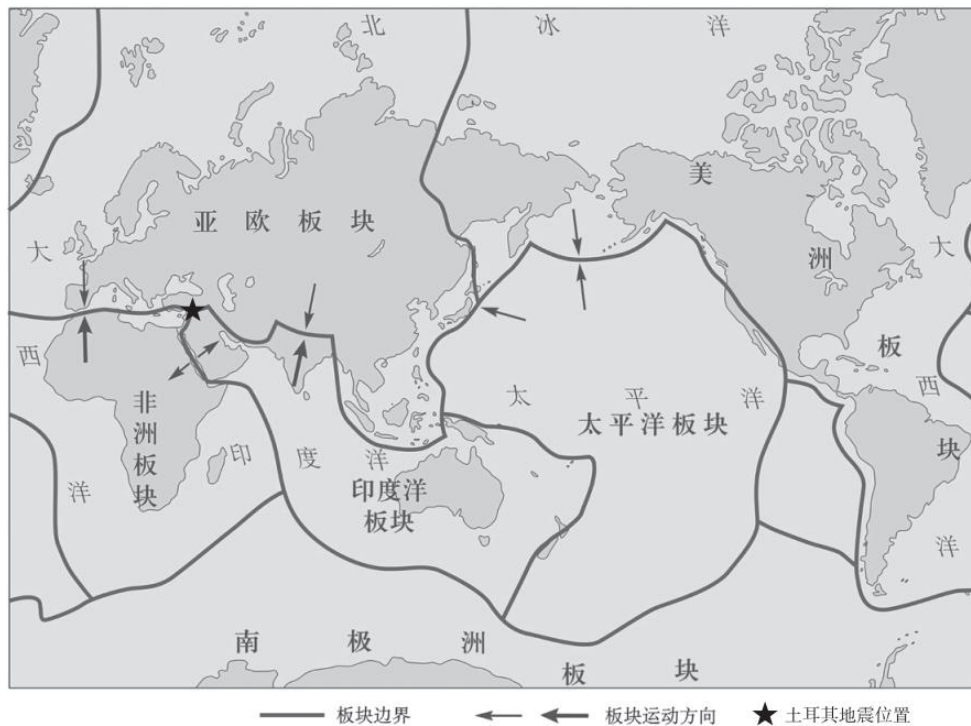


图3

- 7.土耳其地处
- A.亚欧板块的内部 B.亚欧板块与非洲板块、印度洋板块交界处
 - C.太平洋板块边缘 D.美洲板块与非洲板块、南极洲板块交界处
- 8.当地震发生时，人们
- A.在家里应去阳台上躲藏 B.在教室护住头部躲避在课桌下
 - C.在室外躲在高大建筑下 D.住在楼房内要迅速乘电梯下楼

人口老龄化率指65岁及以上人口占总人口的比例。人口老龄化率超过7%标志着该区域进入老龄化社会。联合国《世界人口展望2022》报告统计并预测了世界及部分区域人口老龄化率(表1)。读表，完成9~11题。

表1

地区	时间	2022年(%)	2030年(%)
	世界		9.7
撒哈拉以南非洲		3.0	3.3

东亚和东南亚	12.7	16.3
欧洲和北美	18.7	22.0

9.表中

- A.2022 年，东亚和东南亚人口老龄化率最高
- B.2030 年，世界各国已全部进入老龄化社会
- C.2022 年到 2030 年，世界人口老龄化率增加了 2%
- D.2022 年到 2030 年，欧洲和北美人口老龄化率增幅最大

10.人口老龄化带来的主要问题是

- A.就业困难
- B.社会养老负担重
- C.儿童入学难
- D.住房紧张

11.应对人口老龄化问题的合理措施有

- ①制定鼓励生育的人口政策
- ②扩大学校办学规模
- ③完善社会养老保障体系
- ④加强生态环境保护

- A. ①②
- B. ①③
- C. ②④
- D. ③④

日本工业高度发达，很多工业产品出口国外。图 4 为日本工业区分布图。读图，完成 12~14 题。

12.日本工业区

- A.集中于北部
- B.均位于本州岛
- C.面积最大的是北九州工业区
- D.集中于太平洋及濑户内海沿岸

13.日本工业集中分区

- ①港口条件优越，巨型船舶可以停靠
- ②山地丘陵为主，填海造陆价格较低
- ③工厂靠近码头，交通运输非常便利
- ④城市和人口集中，是国内最大消费地

- A.①②③
- B.①②④
- C.①③④
- D.②③④

14.20 世纪 80 年代以来,日本工业发展面临诸多问题,其对策合理的是

- A.劳动力严重短缺——实行控制人口数量的政策
- B.劳动力价格提高——大力开采矿产，发展重工业
- C.土地紧张状况加剧——发挥技术优势扩大海外投资
- D.发展速度放缓——减少与其他国家之间的经济合作

中俄两国人民世代友好具有坚实根基，两国全方位合作具有广阔前景。图 5 为俄罗斯资源、工业、交通分布示意图。读图，完成 15~17 题。



图 4

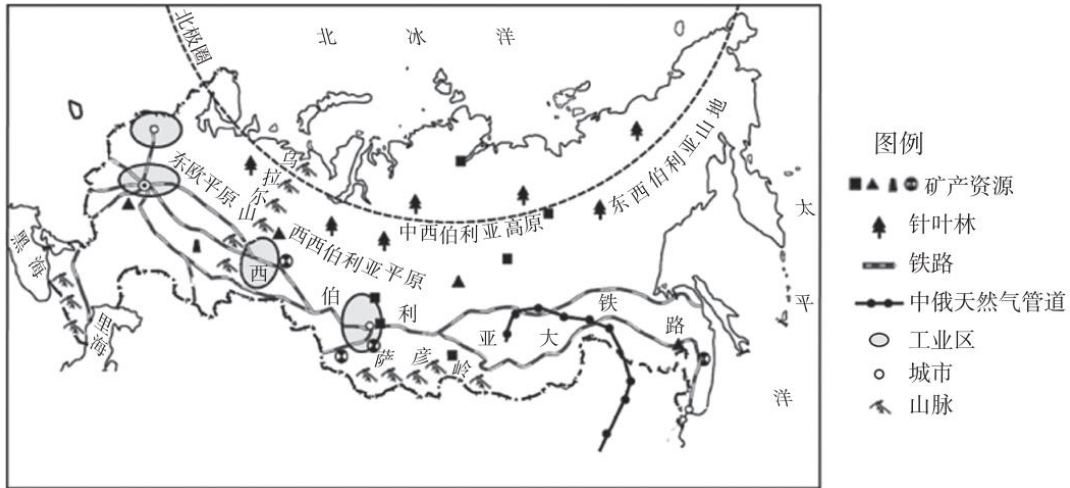


图5

15.中俄两国

- A.均为发展中国家
- B.均属亚洲国家
- C.均以黄色人种为主
- D.均地广人稀

16.西伯利亚大铁路

- A.在俄罗斯北部
- B.沿线纬度较高、气候温暖
- C.沿线地势低平
- D.沿线资源丰富、工业集中

17.中俄合作有助于

- ①加强基础设施建设
- ②将天然气通过管道输往中国
- ③促进资源共同开发
- ④将中国的木材出口至俄罗斯

- A.①②③
- B.①②④
- C.①③④
- D.②③④

吉姆的家乡在撒哈拉以南非洲。图6为撒哈拉以南非洲沿南纬3°地形剖面图。读图，完成18~20题。

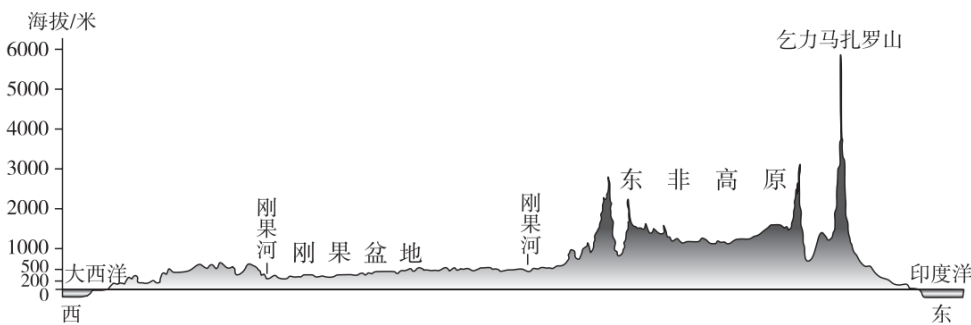


图6

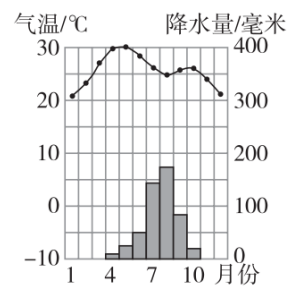



图7

18.据图6可知,撒哈拉以南非洲

- A.西临大西洋,东临印度洋
- B.乞力马扎罗山海拔超过7000米
- C.地势西高东低
- D.山河相间,纵列分布

19.图7为吉姆家乡的气温曲线和降水量柱状图,下列图片能反映其家乡气候特征的是



20. 吉姆查阅了 2020 年撒哈拉以南非洲部分国家主要产品出口额占该国出口总额比重（表 2），表中

表 2

国家	尼日利亚	几内亚	赞比亚	安哥拉
主要出口产品	石油、天然气	黄金、铝土矿	铜矿、精炼铜	石油、天然气
所占比重	76%	93%	62%	91%

- A. 尼日利亚石油、天然气出口占比大于安哥拉
- B. 几内亚的黄金、铝土矿出口占比小于 90%
- C. 赞比亚以出口石油、天然气为主
- D. 各国均以出口初级矿产品为主

澳大利亚矿产资源丰富，品质优，埋藏浅，易开采。图 8 为澳大利亚矿产资源和冶金工业中心分布图。读图，完成 21~23 题。



图 8

21. 澳大利亚

- A. 铝土主要分布在南回归线以北
- B. 煤矿全部分布在东南沿海地区
- C. 悉尼是印度洋沿岸的有色冶金工业中心

D.达尔文是南温带重要的钢铁工业中心

22.澳大利亚在开采矿产过程中，符合可持续发展的做法有

- ①毁林开矿，增加收入
- ②采矿后及时进行生态修复
- ③尽可能保留原生植被
- ④清理运走开采过程产生的废料

- A.①②③ B.①②④ C.①③④ D.②③④

23.我国与澳大利亚的经济贸易合作属于

- A.南南合作 B.南北合作 C.南南对话 D.南北对话

新伊丽莎白公主站是比利时建造的全球首座零碳排放的南极科考站。图9为南极地区简图。读图，完成24、25题。

24.该科考站

- ①位于高纬度地区
- ②有极昼极夜现象
- ③位于西半球
- ④位于北半球

- A.①② B.①③
C.②③ D.③④

25.比利时建造零碳排放的科考站主要目的是

- A.降低站点运营成本
- B.开发南极自然资源
- C.保护南极生态环境
- D.改变南极气候特点

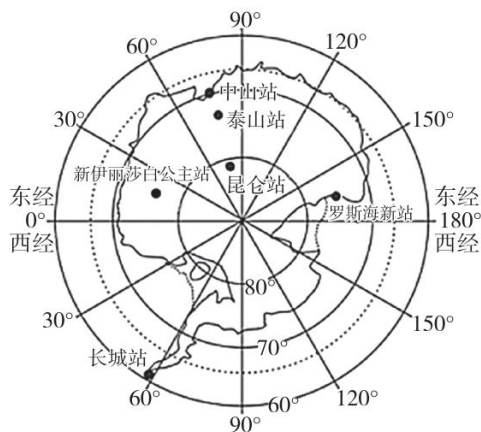


图9

第二部分

本部分共3题，共50分。

26. (16分) 多样的自然环境孕育了多彩的文明。图10为四大文明古国分布图，图11为亚洲大陆沿30°N的地形剖面示意图。阅读图文资料，回答下列问题。

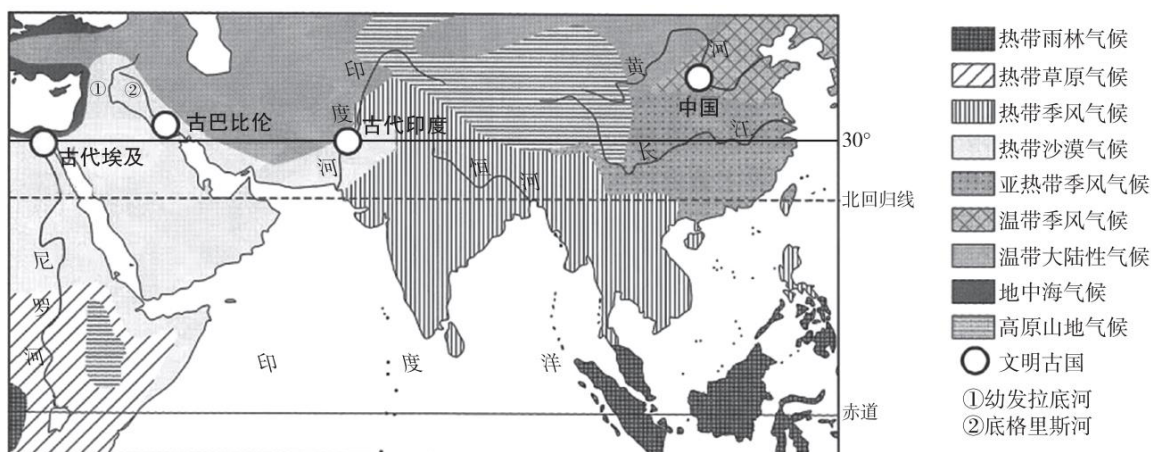


图10

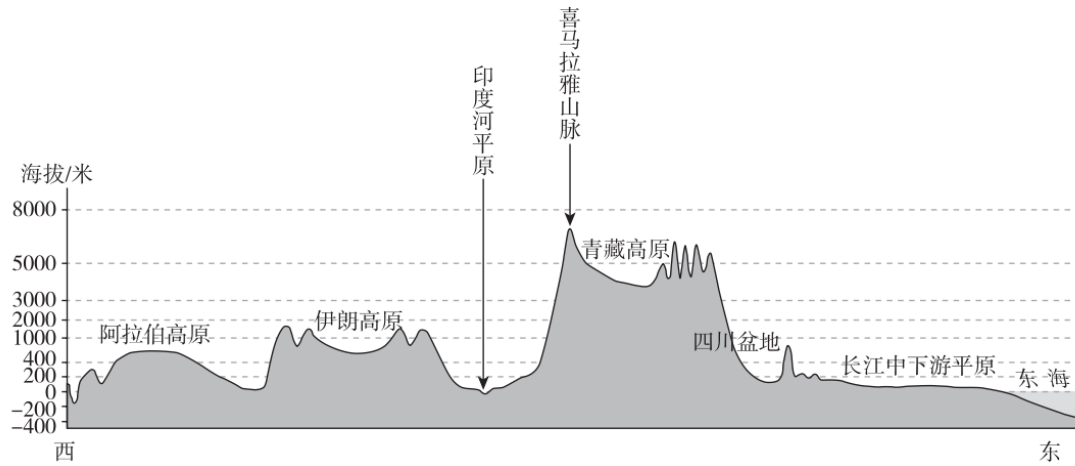


图 11

(1) 图 10 中的文明古国均位于大江大河沿岸，古代埃及位于_____河沿岸，古巴比伦所在的美索不达米亚平原由_____、底格里斯河流经。

(2) 图示区域气候类型_____ (复杂/单一)，以_____带、亚热带、温带气候为主;中国的黄河下游地区以_____ (气候类型) 为主，该气候有利于农业生产的条件是_____。

(3) 读图 11 可知，图示区域自西向东依次分布着阿拉伯高原、_____、印度河平原、喜马拉雅山脉、_____、_____、长江中下游平原，地形类型复杂多样，以_____、平原、山地为主，地势起伏_____ (大/小)。古代印度位于_____ (地形区)，地形平坦，有利于农耕文明的形成与发展。

(4) 从四大文明古国中任选其一，说明其形成与发展的有利自然条件。(至少答出两点)

27. (18分) 作为世界上旅游业最发达的地区之一，欧洲西部一直以它独特的魅力吸引着世界各地的游客。图 12 为欧洲西部地形、气候类型分布及部分气候的气温曲线和降水量柱状图。阅读图文资料，回答下列问题。

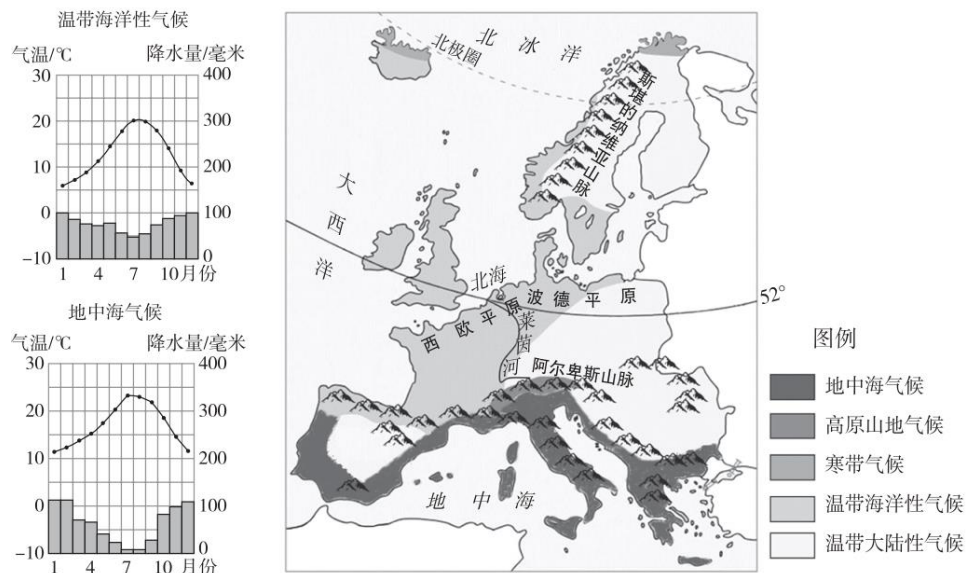


图 12

绚丽极光

(1) 欧洲西部的北部地区，因纬度较_____ (高/低)，可在此欣赏绚丽的极光; _____ (纬线名称)

以北的地区，属寸選带，7、8月份还可在此观察到_____（极昼/极夜）现象。

莱茵泛舟

(2) 莱茵河发源于_____,受地势影响,_____（流向）注入_____海;主要流经地区]月平均气温在_____以上,_____（有/无）结冰现象，通航时间长；下游主要流经_____（地形区），水流平稳，利于航运。

(3) 乘游船在莱茵河谷畅游，感受世界文化遗产“莱茵河谷”的魅力。依据示例，为游览者保护该世界文化遗产提出合理建议。

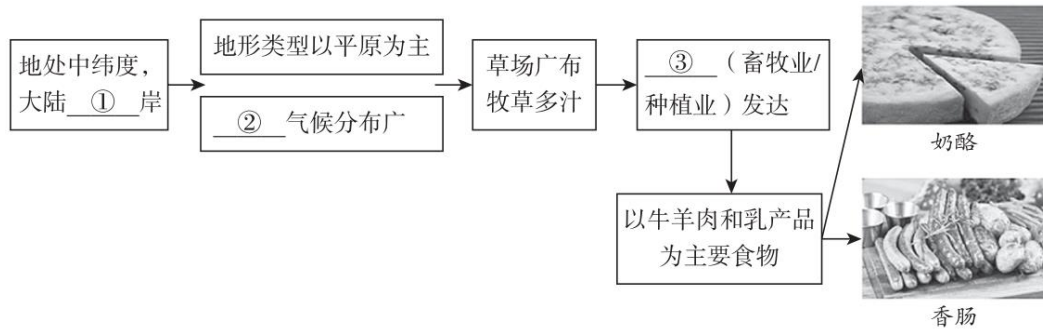
示例：靠岸后在河谷露营，注意安全使用火种，避免人为造成的山火发生。

阳光沙滩

(4) 欧洲西部南临_____海，沙滩广阔；欧洲西部的南部沿海地区气候特征是_____,_____,因此,_____（冬季/夏季）晴天多，阳光充足，形成海滨度假胜地。

尽享美食

(5) 美食是旅游中不可或缺的重要组成部分，欧洲西部的饮食习惯与当地自然环境有着密切关系，据此完成知识框架。



28. (16分) 某校地理学习小组，欲制作“巴西国家名片学习卡”。图13为巴西简图，图14为巴西种族构成图，图15为咖啡分布区气温曲线和降水量柱状图。阅读图文资料，完成学习卡的制作。

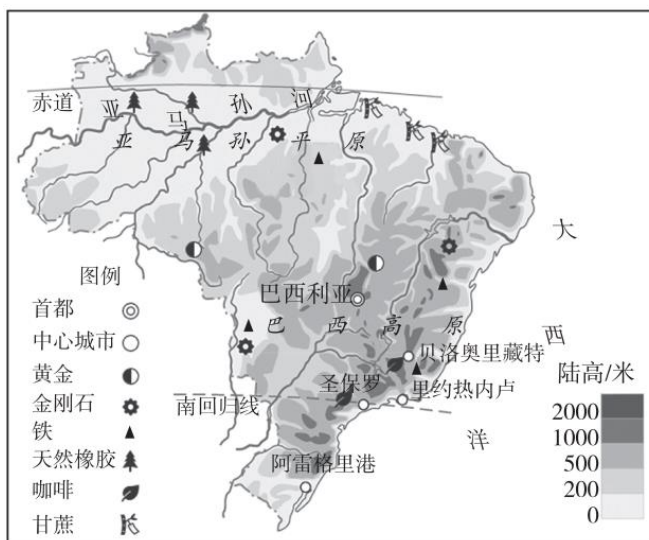


图13

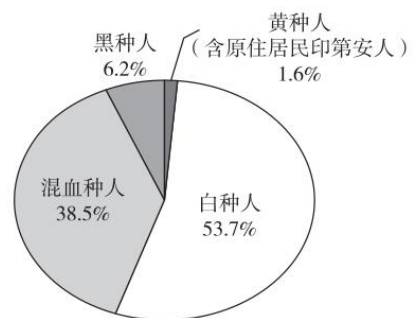


图14

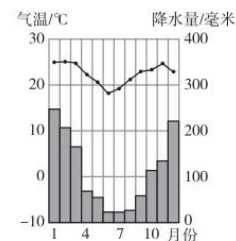


图15

多元文化	农业大国
<p>巴西主要位于__①__（南/北）半球，__②__临大西洋，首都为__③__。历史上人种的不断融合形成了混血种人数量多的显著特征，其比例为__④__。</p>	<p>巴西因主要位于__⑤__带,盛产咖啡、天然橡胶、甘蔗等农产品。天然橡胶主要分布在__⑥__（地形区）。咖啡主要分布在__⑦__（地形区）南部，其主要分布区气候特征为__⑧__、__⑨__，利于咖啡种植；巴西东南部人口稠密，可为咖啡种植业发展提供__⑩__。</p>
地球之肺	金砖互惠
<p>__⑪__河流域分布着世界面积最大的热带雨林，该地区人口密度小于巴西高原，其主要自然原因是__⑫__。</p> <p>热带雨林具有巨大的环境效益，被称为地球之肺，其主要的的环境效益有__⑬__、__⑭__。</p>	<p>近年来，中巴不断加强经济贸易往来。因巴西农产品丰富，且拥有黄金、金刚石、__⑮__等矿产资源,对中国大量出口农矿产品。中国主要对巴西出口机械设备、计算机与通讯技术设备，对巴西投资主要涉及能源、矿产、基础设施、制造业等。说出中巴合作对巴西的影响__⑯__。</p>

参考答案

第一部分（共 50 分）

题号	1	2	3	4	5	6	7	8	9	10
答案	C	B	B	D	C	A	B	B	C	B
题号	11	12	13	14	15	16	17	18	19	20
答案	B	D	C	C	A	D	A	A	B	D
题号	21	22	23	24	25					
答案	A	D	D	A	C					

第二部分（共 50 分）

26. (16 分)

- (1) (2 分) 尼罗； 幼发拉底河
- (2) (4 分) 复杂； 热； 温带季风气候； 雨热同期/夏季高温多雨
- (3) (6 分) 伊朗高原； 青藏高原； 四川盆地； 高原； 大； 印度河平原
- (4) (4 分) 写出所选古国的名称，有利自然条件要求因果关系，说出两点，每点 2 分。

如：古巴比伦：位于平原，地形平坦；位于河流沿岸，灌溉水源充足，土壤肥沃。

27. (18 分)

- (1) (3 分) 高； 北极圈； 极昼
- (2) (6 分) 阿尔卑斯山脉； 自东南向西北/自南向北； 北； 0-5℃之间的数字均可；
无； 西欧平原
- (3) (2 分) 仿照示例提出建议，合理即可。

例：在乘船游览中，不要向莱茵河乱扔垃圾，避免造成河水污染

- (4) (4 分) 地中海； 夏季炎热干燥，冬季温和多雨； 夏季
- (5) (3 分) ①西； ②温带海洋性； ③畜牧业；

28. (16 分) 每空一分

- ①南； ②东； ③巴西利亚； ④38.5%； ⑤热； ⑥亚马孙平原；
⑦巴西高原； ⑧⑨全年高温，降水干湿两季； ⑩劳动力/市场
⑪亚马孙； ⑫气候过于湿热；
⑬⑭保持水土，涵养水源，提供氧气，净化空气，调节气候，维持生物多样性等（任选两个）
⑮铁
⑯加强基础设施建设/提高工业技术/促进产业结构调整/促进资源开发等，合理即可

