



历史试卷

- 考生须知**
1. 本试卷共 14 页，共 34 道小题，满分 90 分。考试时间 90 分钟。
  2. 请在答题卡上准确填写学校名称、姓名和准考证号。
  3. 试题答案一律填涂或书写在答题卡上，选择题用 2B 铅笔作答，其他试题用黑色字迹签字笔作答，在试卷上作答无效。
  4. 考试结束，请将答题卡交回。

第 I 卷 选择题 (共 45 分)

本大题共 30 小题，每小题 1.5 分，共计 45 分。每题只有一个正确选项。

1. 考古发现是了解古人类活动的重要依据。下列发现可以用来推测北京人体貌特征的是
- ①龙骨山发现的肿骨鹿化石 ②北京人头盖骨化石 ③在周口店地区发现的北京人用火的痕迹 ④龙骨山地区发现的 40 多个直立人个体化石
- A. ①②③      B. ②③④      C. ②③      D. ②④

2. 朝代歌是记忆历史时序的重要方法。右图空白处应该填写的内容分别是

夏	商	周	秦	汉
魏	晋	南北朝	隋	唐
宋	辽	金	元	明
清				

- A. 商 两汉 辽  
B. 金 两晋 元  
C. 商 两晋 金  
D. 商 两汉 元

3. 秦实现统一后，创立了一整套中央集权制度。御史大夫是当时中央的一个重要官职，主要负责
- A. 选拔官吏      B. 行政事务      C. 监察事务      D. 军事事务

4. 南北朝时期，贾思勰著成了我国第一部完整的农书。该书总结了农、林、牧、副、渔等方面的生产技术，内容十分丰富。这本书是

- A. 《齐民要术》      B. 《本草纲目》  
C. 《伤寒杂病论》      D. 《史记》

5. 隋朝时开凿的大运河促进了南北经济、文化的交流。若当时一位商人从江都经运河贩运商品到涿郡，他首先经过的应是
- A. 永济渠      B. 通济渠      C. 邗沟      D. 江南河



6. 隋唐时期是我国历史发展的一个重要阶段，此时期的时代特征是
- A. 早期国家的建立      B. 大一统局面的形成  
C. 政权分立与民族交融      D. 繁荣与开放
7. 《旧唐书》中描述唐朝某一时期出现了“文武将吏，擅自署置，贡赋不入于朝廷。虽称藩臣，实非王臣也”的局面。这一局面形成于
- A. 唐玄宗统治前期      B. 武则天统治时期  
C. 安史之乱后      D. 黄巢起义时

8. 下面是某位同学准备的历史专刊资料，这些资料能够反映出宋代

学习卡片

从越南引进的占城稻在南方普遍种植；北方的粟、麦、黍、豆等在南方种植日渐增多；棉布成为长江下游地区的著名特产；广州、泉州、明州的造船业十分发达。



浙江哥窑鱼耳炉      南宋纸币“会子”

A. 南方经济的繁荣      B. 农业生产的发达  
C. 手工技艺的高超      D. 海外贸易的兴盛

9. 以下关于郑和远航的说法，正确的是
- A. 远航的目的是为了殖民扩张      B. 加强了与亚非各国的友好往来  
C. 连通了中国到欧洲的航路      D. 增加了明朝的财政收入

10. 右图材料是对我国哪一时期经济发展水平的描述?

- A. 唐朝前期
- B. 宋朝前期
- C. 明朝前期
- D. 清朝前期

中国在 18 世纪进入一个繁荣昌盛的时代。这归功于其农业、手工业和贸易的史无前例的发展高潮。它以其生产以及内部交易的数额之巨而身居世界诸民族的首位。

——[法]谢和耐《中国社会史》

11. 长城是我国的一项伟大建筑工程。明长城的东西端点分别是

- A. 嘉峪关 鸭绿江
- B. 鸭绿江 嘉峪关
- C. 辽东 临洮
- D. 临洮 辽东

12. 1757 年, 乾隆帝下令只许广州一处通商, 这是因为他认为

- A. 大清富庶无比, 无需与外国贸易
- B. 倭寇会大肆侵扰沿海地区
- C. 东南沿海的抗清力量会危及统治
- D. 可防范英国猖獗的鸦片走私

13. 1895 年的美国《纽约时报》评论说: “是日本人打开了世界的眼界, 让人们看到了大清帝国真正的无能”。这里所说的“无能”造成的直接影响是

- A. 中国开始沦为半殖民地半封建社会
- B. 列强组成八国联军, 大规模侵华
- C. 清政府成为帝国主义统治中国的工具
- D. 引发了帝国主义瓜分中国的狂潮

14. 下列关于五四运动的叙述, 正确的是

- ①五四运动是中国新民主主义革命的开端
- ②五四运动是一场彻底的反帝反封建运动
- ③青年学生始终是五四运动的主力
- ④五四运动中蕴含了深厚的爱国主义精神

- A. ①②③
- B. ①③④
- C. ②③④
- D. ①②④

15. 习近平说“井冈山道路是马克思主义中国化的经典之作, 从这里革命才走向成功。”这句话中的“井冈山道路”是指

- A. 城市中心道路
- B. 农村包围城市的道路
- C. 国共合作道路
- D. 资本主义道路

16. 下列报纸所报道的历史事件都发生在



- A. 抗日战争时期
- B. 解放战争时期
- C. 抗美援朝时期
- D. 文革时期

17. 右图创作于 1938 年, 题目是“日本的泥脚”, 导致这种状况的主要原因是

- A. 德意日结成了军事政治同盟
- B. 抗日民族统一战线的建立
- C. 美国向日本投掷原子弹
- D. 苏联对日本宣战



18. 右侧资料反映出民族区域自治制度

- A. 不能保障各民族一律平等
- B. 允许少数民族实现完全自治
- C. 实现了少数民族当家作主的愿望
- D. 是在有少数民族居住的地方实施

中华人民共和国各民族一律平等……各少数民族聚居的地方实行区域自治, 设立自治机关, 行使自治权。各民族自治地方都是中华人民共和国不可分割的一部分。  
——《中华人民共和国宪法》

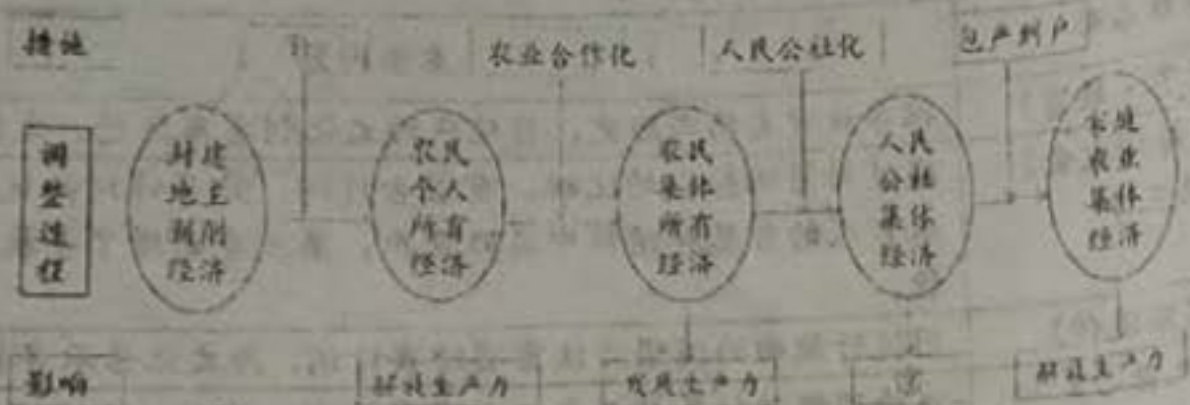
19. 下表是某同学所作的专题知识整理。该知识专题是

时间	1949 年	1956 年	1966 年	2012 年
事件	中国人民解放军海军部队建立	中国成功仿制歼—5 型歼击机	中国组建第二炮兵部队	我国第一艘航空母舰“辽宁舰”交接入列

- A. 国防成就
- B. 民族团结
- C. 外交成就
- D. 祖国统一



20. 下图梳理了新中国以来围绕农民土地问题进行的四次调整，①和②应填写的是




- A. 大跃进运动 解放生产力  
 B. 土地改革 解放生产力  
 C. 土地改革 束缚生产力  
 D. 大跃进运动 束缚生产力

21. 右图反映的历史事件是

- A. 香港回归  
 B. 九二共识  
 C. 海峡两岸实现三通  
 D. 澳门回归



22. 右图反映了新中国成立以来与我国建交的国家数量变化情况(累计)。可以直接从图中获得的信息是



- A. 新中国奉行独立自主的和平外交政策  
 B. 增长最快的阶段是20世纪80年代  
 C. 新中国的外交呈现明显的阶段性特征  
 D. 1950年与中国建交的都是社会主义国家

23. 手工作坊和手工工场的相同点是

- A. 都是手工操作  
 B. 生产的过程都是多人协同生产  
 C. 生产规模相同  
 D. 作坊主与工人的关系都是雇佣关系

24. 下图是某位美国总统的传记目录，他是

第一章 1809—1830年：青年时代  
 .....  
 第十一章 1860年大选：盖世英才(二)  
 第十二章 1861—1863年：战争与解放

- A. 华盛顿  
 B. 杰斐逊  
 C. 林肯  
 D. 罗斯福

25. 下列史实与结论对应不正确的是

	史实	结论
A	1689年英国议会通过《权利法案》	英国从此确立了君主立宪的政治体制
B	1787年美国制宪会议通过宪法	美国1787年宪法中确立的三权分立原则对很多国家的政治变革产生了影响
C	1804年法国《拿破仑法典》颁布	《拿破仑法典》成为法国大革命的纲领性文件，激励法国人民推翻王权，获得革命胜利
D	1898年清光绪帝颁布《明定国是诏》，戊戌变法开始	变法虽然失败，但激发了中国人民的变革精神

26. 与右图所反映的事件直接相关的历史人物是

- A. 彼得一世  
 B. 亚历山大二世  
 C. 列宁  
 D. 斯大林

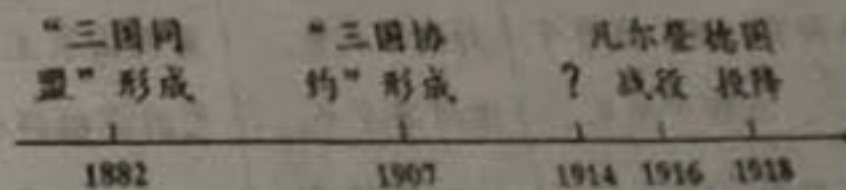


宣布“解放”农奴(油画)

27. 下列历史人物与其成就搭配正确的是

- A. 达尔文——万有引力定律  
 B. 牛顿——进化论  
 C. 贝多芬——《神曲》  
 D. 巴尔扎克——《人间喜剧》

28. 下图“?”处应该填写的历史事件是



- A. 德国突袭波兰  
 B. 萨拉热窝事件  
 C. 日本占领青岛  
 D. 斯大林格勒保卫战

29. 一战后，在印度领导非暴力不合作运动的历史人物是

- A. 甘地  
 B. 尼赫鲁  
 C. 凯末尔  
 D. 章宗祥

30. 与“1941年12月”“太平洋战争爆发”直接相关的历史事件是

- A. 《联合国宣言》发表  
 B. 日本偷袭珍珠港  
 C. 雅尔塔会议召开  
 D. 《波茨坦公告》发表



第II卷 非选择题 (共45分)

31. (10分) 中华优秀传统文化以其深厚的底蕴和丰富的内涵, 滋养着一代代中国人。

材料一:

			
①关汉卿的元曲 代表作《窦娥冤》	②清明节踏青扫墓, 缅怀祖先	③清朝的《随园食单》 中记录了14-18世纪的 菜肴和烹饪技术	④除夕守岁, 燃放爆竹, 贴春联
			
⑤《同光十三绝》			

(1) 中华传统文化涉及到社会生活的方方面面。上表所示内容中, 属于节日习俗的是\_\_\_\_\_, 属于饮食文化的是\_\_\_\_\_, 属于传统曲艺的是\_\_\_\_\_。(只填写序号)(5分)

材料二:

为政以德, 譬如北辰, 居其所, 而众星拱之。 ——孔子	人固有一死, 或重于泰山, 或轻于鸿毛。 ——司马迁	封侯非我意, 但愿海波平。 ——戚继光	苟利国家生死以, 岂因祸福避趋之。 ——林则徐
---------------------------------	-------------------------------	------------------------	----------------------------

(2) 任选以上两位人物的言论, 说明其思想内涵。(2分)

材料三: 2018年主要传统文化类电视节目

节目名称	主要内容
《上新了·故宫》	探寻故宫文物与历史, 将现代的文化创意与历史、文物相结合。
《中国诗词大会》第三季	通过对诗词知识的比拼, 重温古诗词, 分享诗词的优美与趣味。从古人的智慧和情怀中汲取营养。第三季新增了手机端的互动功能。
《经典咏流传》	用流行歌曲的演唱方法重唱经典诗词, 为文化传承寻找新落脚点。
《非凡匠心》第二季	体验顶级传统民族工艺, 如龙泉宝剑、宣纸、马头琴、扎染、皮影戏、木雕、泥塑等的制作流程与背后的工匠精神。
《诗意中国》	采用剧场和推理的创新形式, 展现礼乐文化、宴饮文化、园艺文化、节庆文化等。
《平“语”近人——习近平总书记用典》	从习近平总书记一系列重要讲话、文章、谈话中所引用的古代典籍和经典名句为切入点, 旨在推动习近平新时代中国特色社会主义思想的生动阐释与广泛传播。

(3) 依据材料三, 概括目前文化类节目的主要特点。(2分)

(4) 弘扬中华优秀传统文化是每一个人的责任, 请你提出一项行动建议。(1分)

32. (13分) 报刊·传播·融合

材料一:

中国近代的报刊, 最早是由在中国的西方传教士创办的。这些报刊在客观上起到传播西学的积极作用, 对我国近代报纸的产生和发展有一定的示范意义。中国人自办的第一份近代报纸, 是1858年在香港出版的《中外新报》。之后, 中国人自办报刊盛行, 国人自办报刊的第一次高潮是在甲午战后, 先进的中国人用近代报刊作为一种抵御外辱、振兴中华的舆论工具。据统计, 1895年到1898年, 国人新办报刊达94种, 分布于20多个城镇。到20世纪初全国报刊已增至500多种, 盛极一时。

——刘力《西人东来与中国近代报刊的兴起》

(1) 依据材料一, 对以下表述做出判断: 直接从材料得出的, 在括号内划“√”; 违背材料所表达意思的, 在括号内划“×”; 材料中没有提及的, 在括号内划“○”。(4分)

- ①中国近代报刊的出现, 得益于外来的西方人。 ( )
- ②从18世纪50年代起, 开始出现国人自办的报刊。 ( )
- ③民族危机的加剧激发了中国人创办报刊的热情。 ( )
- ④中国人自办的报刊比西方人创办的报刊种类多。 ( )

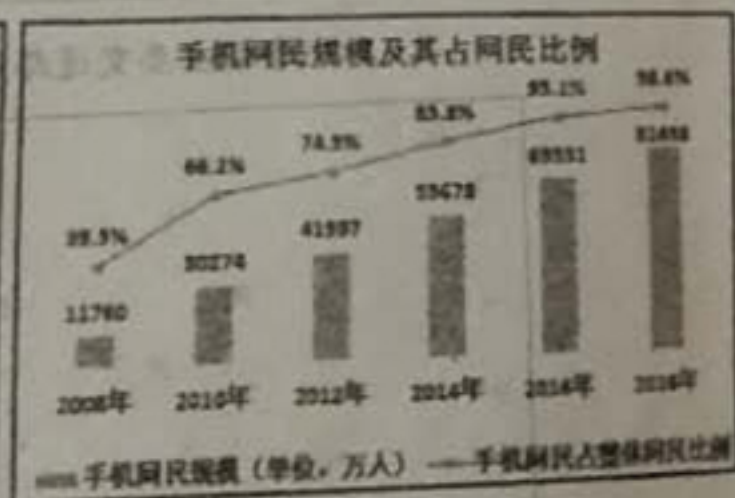
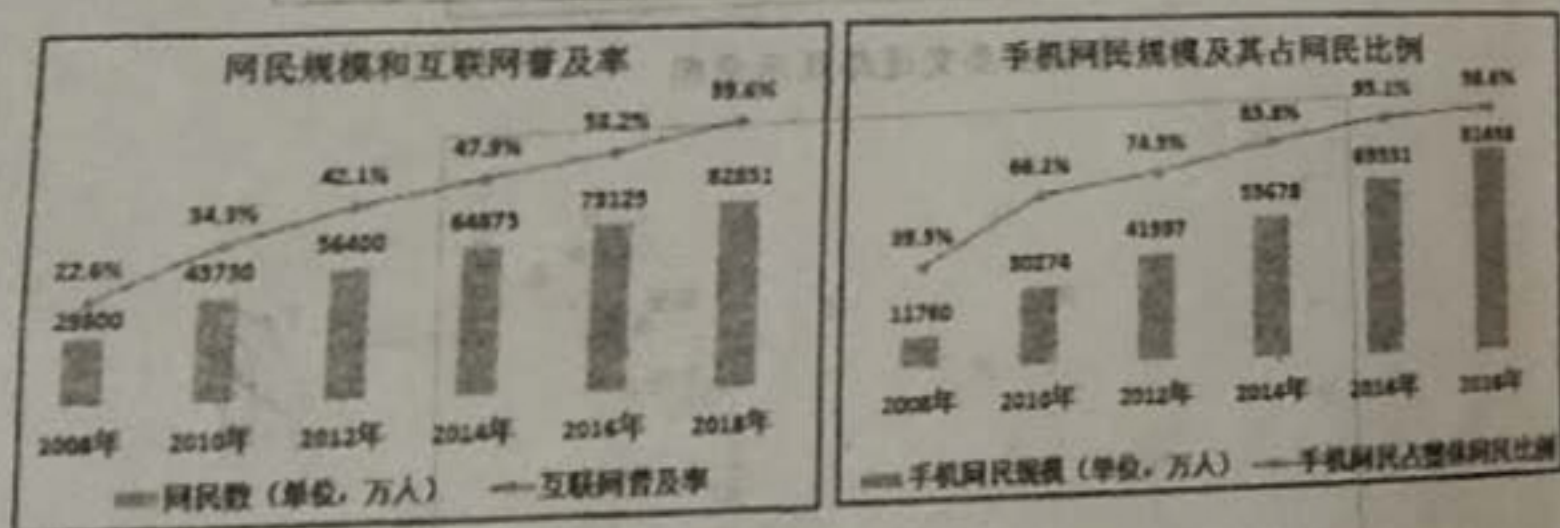


材料二:

1896年由梁启超等人在上海创办。是维新派影响最大的机关报。	1905年由孙中山在东京创立。是同盟会的机关报。	1915年，陈独秀在上海创立。1916年，改名为《新青年》。
宣传重点： <u>变法图强</u>	宣传重点：①	宣传重点：②

(2) 补全材料二。(2分) 依据上述报刊的宣传重点，分析它们在当时起到的共同作用。(1分)

材料三:



(3) 依据材料三，说出1978—2018年我国报纸种类发生的变化。(2分) 结合所学，分别分析变化的主要原因。(2分)

材料四:

互联网时代，《人民日报》不断更新观念，与时俱进，推出了一系列高质量融媒体作品。其中，微视频《中国24小时》获得网友的一致好评，认为该视频画面丰富、视角多元、细节丰满，为网友带来极致的感官感受，更重要的是传递了价值共识。

2019年两会期间，人民网人民视频策划推出的AR扫描功能，让《人民日报》“动”起来。用户通过人民视频APP，点击右上角的AR图标，扫描《人民日报》两会报道相关配图，就可在手机上看到现场实况。这样信息、数据可视化等更具深度的内容，相当于在报纸上打开了获取更多资讯的新窗口，帮助读者全面、深入了解两会动态……《人民日报》推动媒体融合发展结出的累累硕果，从此可见一斑。

——《融媒“爆款”人民日报这样炼成》

注：人民网是《人民日报》建设的以新闻为主的大型网上信息发布平台。

(4) 依据材料四，《人民日报》的做法对传统报刊业在互联网时代的生存和发展提供了哪些启示？(2分)

33. (11分) 创新·改变

材料一:

隋朝统一全国后，对门第世家独霸政府的现象进行改革，改用考试的方法，向平民阶层选拔新进官员。凡考试及格的知识分子，不问什么门第，一律委任官职。

——摘编自《中国人史纲》

材料二:

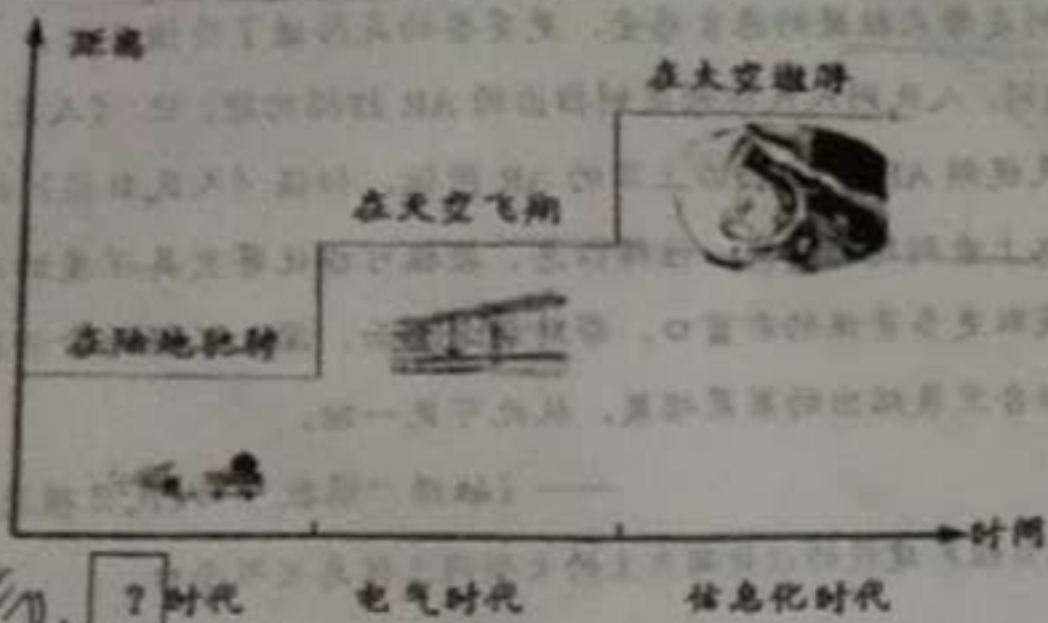
在当时的条件下，这是一大发明。这种制度提供了布衣(平民)可以做宰相，可为公卿，可以参政的机会……我国的这一制度对西方近代文官考试制度的形成产生了大影响，有人称它为中国古代的“第五大发明”。

——徐中约《中国近代史》

(1) 依据材料一、二，并结合所学，隋朝为选拔人才开创了什么制度？(1分) 这一制度使选官方式发生了怎样的变化？(1分) 并产生了什么影响？(2分)




### 向“距离”挑战



(2) 补全图中内容。(1分)

### 材料四：



(3) 如果从上述三张图片中选择一张放入材料三的“信息化时代”中，应该选择哪一张？(1分) 并围绕材料三的主题说明理由。(2分)

### 材料五：

我国与发达国家科技实力的差距，主要体现在创新能力上。实践反复告诉我们，关键核心技术是要不来、买不来、讨不来的。

我们要矢志不移自主创新，着力增强自主创新能力……只有把关键核心技术掌握在自己手中，才能从根本上保障国家经济安全、国防安全和其他安全。

基础研究是整个科学体系的源头，是所有技术问题的总机关，是武器装备发展的原

动力。只有重视基础研究，才能永远保持自主创新能力。  
在经济全球化深入发展的大背景下，任何一个国家都不可能孤立依靠自己力量解决所有创新难题。要深化国际交流合作，充分利用全球创新资源，在更高起点上推进自主创新，并同国际科技界携手努力，为应对全球共同挑战作出应有贡献。

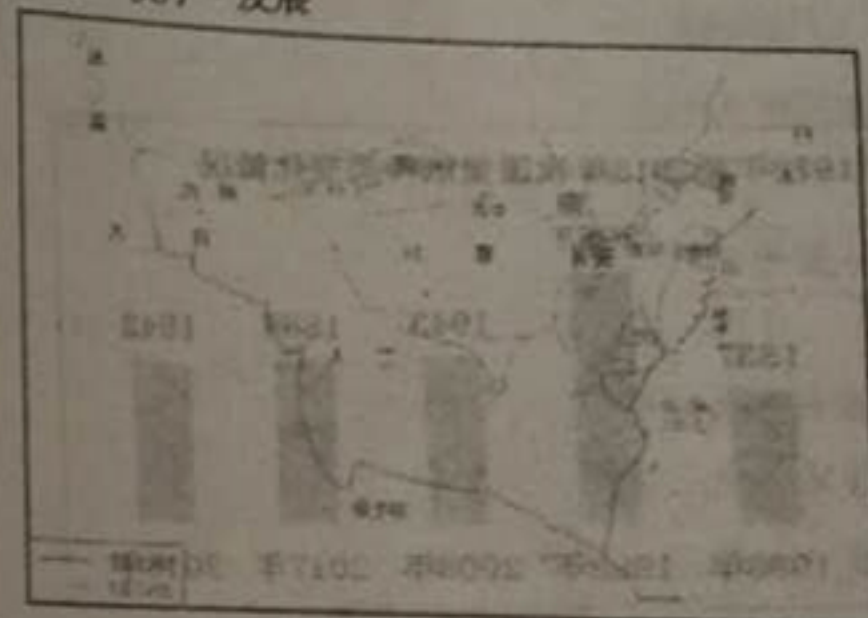
我们要全面研判世界科技创新和产业变革大势，既要重视不掉队问题，也要从国情出发确定跟进和突破策略，按照主动跟进、精心选择、有所为有所不为的方针，明确我国科技创新主攻方向和突破口。  
面向未来，增强自主创新能力，最重要的就是要坚定不移走中国特色自主创新道路，坚持社会主义道路。社会主义制度能够集中力量办大事，这是我们成就事业的重要法宝。

——习近平

(4) 当今形势下，中国要想实现自主创新应当采取哪些举措？(3分)

### 34. (11分) 交流·秩序·发展

#### 材料一：



陆海

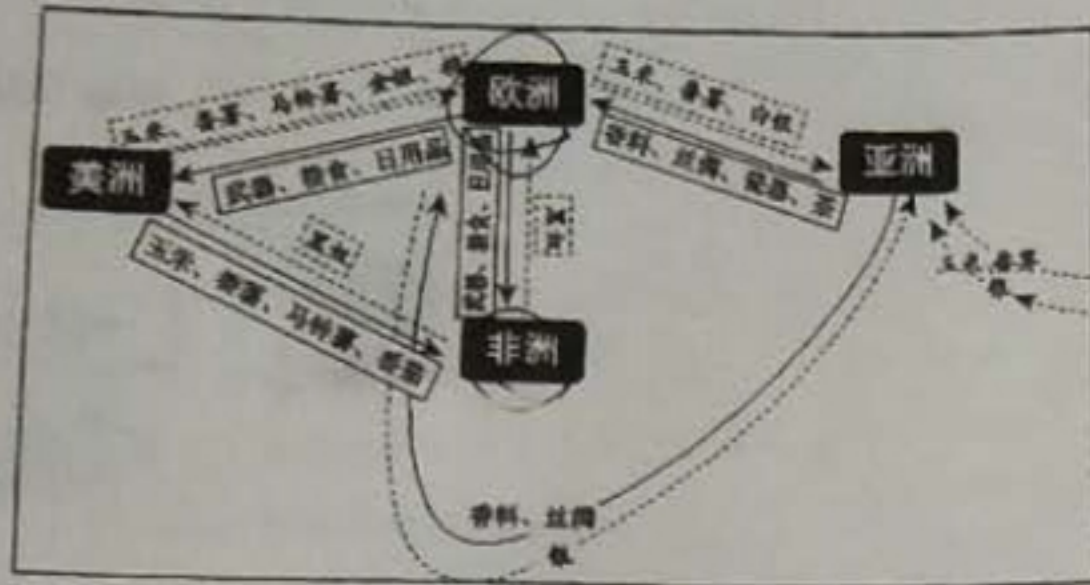


海

### 南宋海外贸易路线示意图

(1) 依据材料一，指出唐与南宋对外交流路线的不同。(2分) 并说明原因。(2分)

材料二:



18 世纪初国际贸易状况示意图

(2) 根据材料二, 说明 18 世纪初国际贸易对欧洲和非洲的影响。(2 分)

材料三:

20 世纪以来部分国际条约

条约名称	主要内容或影响
《凡尔赛条约》	建立国际联盟; 阿尔萨斯-洛林归还法国; 限制德国军事力量; 德国全部海外殖民地被瓜分等。
《九国公约》	名义上尊重中国的领土完整, 实际使中国回复到一战前多国共同支配的局面。
《慕尼黑协定》	英、法、德、意四国首脑在没有捷克斯洛伐克代表与会的情况下强行将该国的苏台德区割给德国。
《联合国宣言》	签署《宣言》的 26 国保证用自己的全部资源进行反法西斯战争, 团结合作。
《雅尔塔协定》	苏联对日作战, 前提是中国承认外蒙古独立; 大连商港国际化; 苏联租用旅顺港为海军基地等。

(3) 依据材料三, 参照示例, 围绕“国际条约”的某一方面, 提炼主题, 选用至少两个条约加以说明。(2 分)

示例 主题: 某些国际条约有大国霸权的痕迹

说明: 《慕尼黑协定》《雅尔塔协定》分别以牺牲捷克斯洛伐克和中国的利益, 促成条约签订, 这体现了大国霸权。

材料四:

当今世界正面临百年未有之大变局, 不确定性不确定性更加突出, 人类面临许多共同挑战。当今全球热点问题此起彼伏、持续不断, 气候变化、网络安全、难民危机等非传统安全威胁持续蔓延, 保护主义、单边主义抬头, 全球治理体系和多边机制受到冲击。当前, 国际竞争摩擦呈上升之势, 地缘博弈色彩明显加重, 国际社会信任和合作受到侵蚀。当前, 人类所处的安全环境仍然堪忧, 地区冲突和局部战争持续不断, 恐怖主义仍然猖獗, 不少国家民众特别是儿童饱受战火摧残。当前, 逆全球化思潮正在发酵, 保护主义的负面效应日益显现, 收入分配不平等、发展空间不平衡已成为全球经济治理面临的最突出问题。

——摘编自习近平《为建设更加美好的地球家园贡献智慧和力量》

(4) 面对诸多全球问题, 提出你的解决方案。(3 分)

