



考生须知

1. 本试卷共 8 页，共两部分，共 24 道小题。满分 70 分。考试时间 70 分钟。
2. 在试卷和答题卡上准确填写学校、班级、姓名和准考证号。
3. 试题答案一律填涂或书写在答题卡上，在试卷上作答无效。
4. 在答题卡上，选择题用 2B 铅笔作答，其他试题用黑色字迹签字笔作答。
5. 考试结束，将答题卡交回。

## 第一部分

本部分共 20 题，每题 1.5 分，共 30 分。在每题列出的四个选项中，选出最符合题目要求的一项。

1. 北京人遗址为人类起源的研究提供了可靠的证据。依据北京人遗址中发现的灰烬、烧石和烧骨，还有尖状器、刮削器、石锤和石砧等，考古学家推断北京人的基本特征有（ ）

- ①打制石器 ②学会用火 ③种植粮食 ④饲养家畜

A. ①②                      B. ①③                      C. ②③                      D. ③④

2. 夏、商、西周时期是中国王朝产生发展的重要阶段，青铜器反映了高度发达的物质文明成就。识读下列文物，能够反映商朝精神文明表征的是（ ）



A. 猪纹陶钵                      B. 刻有文字的甲骨                      C. 商鞅铜方量                      D. 半两钱

3. 下面是某位同学从历史教材中摘录的学习内容，反映战国时期百家争鸣的局面，其中②所示主张属于的思想学派是（ ）

- ①墨子主张“兼爱”“非攻”，反对攻伐兼并、残害生命。
- ②孟子主张实行“仁政”，反对一切非正义的战争。
- ③庄子强调治国要顺应自然和民心，认为人生应保持独立人格。
- ④韩非子强调以法治国，树立君主的权威，建立中央集权专制统治。

A. 儒家                      B. 道家                      C. 墨家                      D. 法家

4. 古代陆上丝绸之路是沟通欧亚大陆的交通道路，推动东西方商贸往来和文化交流，能证明这一结论的史实有（ ）

- ①北击匈奴 ②张骞出使西域 ③班超经营西域 ④北方游牧民族南迁

A. ①②                      B. ①③                      C. ②③                      D. ③④

5. 归纳关键词、联想记忆是学习历史的方法之一。下列事件与隋朝有关的有（ ）

- ①开通大运河 ②确立科举制 ③陈桥兵变 ④重文轻武

A. ①②                      B. ①③                      C. ②③                      D. ③④



6. 元朝的版图是我国历史上最大的，为对辽阔的疆域进行有效治理，创立的对历史影响深远的地方管理制度是（ ）

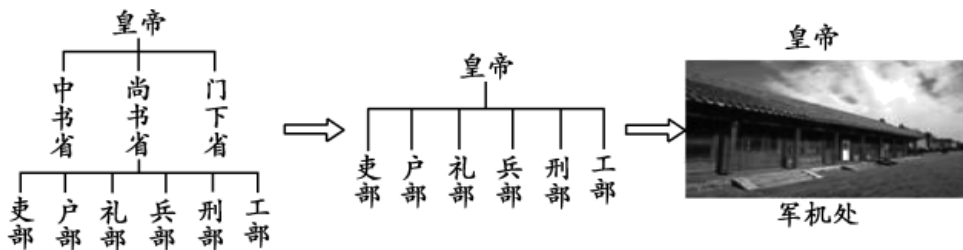
- A. 刺史制度                      B. 三省六部制                      C. 行省制度                      D. 八旗制度

7. 运用年代尺进行史实梳理是形成时空观念的有效方法。下述史实说明\_\_\_\_\_地区是我国领土不可分割的一部分。横线处应填的地区是（ ）



- A. 台湾                      B. 新疆                      C. 西藏                      D. 香港

8. 中国古代国家中央机构随着王朝更替在发生变化。下面图示反映的变化趋势是不断强化（ ）



- A. 皇帝专权                      B. 地方权力                      C. 丞相权力                      D. 监察权力

9. 120年前，清政府签订了中国近代史上赔款数额最大、主权丧失最严重、精神屈辱最深重、给中国人民带来了空前灾难的《辛丑条约》。此条约的签订标志着

- A. 中国开始沦为半殖民地半封建社会                      B. 中国半殖民地化进一步加深  
C. 中国半殖民地化程度大大加深                      D. 中国完全陷入半殖民地半封建社会的深渊

10. 下表是中国近代某一刊物上部分作者发表过的文章，该刊物应该是（ ）

作者	文章
胡适	《文学改良刍议》
陈独秀	《文学革命论》
鲁迅	《狂人日记》
李大钊	《庶民的胜利》

- A. 《申报》                      B. 《民报》                      C. 《新青年》                      D. 《解放日报》

11. 在抵抗日本发动的侵华战争中，中国无数英烈用生命镌刻了不怕牺牲、视死如归的民族精神。下列属于近代抗日民族英雄的有（ ）

- ①林则徐    ②邓世昌    ③谢晋元    ④杨靖宇  
A. ①②③                      B. ①②④                      C. ①③④                      D. ②③④

12. 下图所示歌曲创作于建国初期，回忆的是1950年中国人民志愿军浴血奋战，拼来了山河无恙、家国安宁的一场战争，这场战争是（ ）



我的祖国  
电影《上甘岭》插曲  
.....这是美丽的祖国，是我生长的地方.....  
朋友来了有好酒，若是那豺狼来了，迎接它的有猎枪.....

- A. 黄海海战                      B. 淞沪会战                      C. 百团大战                      D. 抗美援朝战争

13. 为开展研究性学习，某合作学习小组围绕主题收集了以下资料，请判断该研究性学习的主题是（ ）

资料类型	名称
传记	《邓小平时代》
图片	《凤阳农民打花鼓庆丰收》
领导人讲话	邓小平：《关于农村政策问题》（1980年5月31日）
歌谣	“大包干、大包干，直来直去不拐弯，保证国家的，留足集体，剩下都是自己的。”

- A. 家庭联产承包责任制                      B. 市场经济体制的建立  
C. 真理标准问题大讨论                      D. 对外开放格局 形成

14. 1980年，深圳实行特殊的经济政策和经济管理体制，\_\_\_\_\_和对外开放的“窗口”，仅用几年时间就发展成为一个现代化的大城市。结合所学，横线处补充的内容是（ ）

- A. 成为自治区                      B. 成为经济特区                      C. 成为特别行政区                      D. 成为自由贸易区

15. 1860年林肯当选总统，他曾有一次讲演中说：“一幢裂开的房子是站立不住的.....我不期望房子崩塌，但我的确希望它停止分裂”。表明南北战争的作用是（ ）

- A. 实现美国独立                      B. 维护国家统一                      C. 促进西部开发                      D. 摆脱经济危机

16. 下图所示成就使人类对客观世界的探索向前迈进了一大步。创造这些成就的科学家是（ ）



- A. 瓦特                      B. 牛顿                      C. 诺贝尔                      D. 爱迪生

17. 下列对下表所示第一次世界大战爆发原因的解读，最准确的是

第一次世界大战爆发的历史渊源（部分）	
观点 1	资本主义政治经济发展的不平衡
观点 2	欧洲两大军事对抗组织的出现



观点 3	德国的崛起与欧洲各国的军备竞赛
观点 4	巴尔干危机埋下战争祸根

- A. 三国同盟和三国协约的军事对抗  
B. 英国与德国矛盾的激化  
C. 政治经济军事等因素的共同作用  
D. 欧洲各国开展军备竞赛

18. 在第二次世界大战达到最大规模后，法西斯国家的侵略激起了世界各国人民的愤怒，为维护国家独立和人类正义，结成最广泛的战时同盟。该同盟正式建立的标志是签署了（ ）

- A. 《九国公约》      B. 《慕尼黑协定》      C. 《联合国宣言》      D. 《开罗宣言》

19. 下图是当今某一国际组织大多数成员国使用的统一货币，该组织是（ ）



100 欧元纸币

- A. 欧洲经济共同体      B. 欧洲原子能共同体  
C. 欧洲共同体      D. 欧洲联盟

20. 关注章节标题把握内容主旨是历史学习必备能力。根据“联合国、冷战后的世界格局、不断发展的现代社会”三个章节标题，适合的单元标题是（ ）

- A. 工业化国家的社会变化      B. 二战后资本主义的新变化  
C. 社会主义的发展与挫折      D. 走向和平发展的世界

第二部分

本部分共 4 题，共 40 分。

21. 中国共产党重要会议的决策关系着党和国家命运。

材料一

会议	背景	决策	影响
八七会议	1927 年，蒋介石、汪精卫先后叛变革命，大批共产党员被杀害，时局危急。	会议批评了中央在处理农民土地问题、武装斗争等方面的错误。确定土地革命和武装反抗国民党反动派的总方针。毛泽东提出“须知政权是枪杆子中取得的”。	会议给正处在思想混乱和组织涣散中的中国共产党指明了新出路，为挽救党和革命作出巨大贡献。是由大革命失败到土地革命兴起的历史性转变。
遵义会议	红军第五次反围剿失败，被迫开始长征。1935 年，长征途	会议纠正博古等人在军事、组织上的错误，取消其最高军事指挥权。肯定毛泽东的正确军事主	会议后红军经过整编，提高了战斗力，最终取得长征的胜利，保存了党和红军的基干力



中，红军损失惨重，形势危急。	张，增选其为中央政治局常委，成为长征军事指挥负责人之一。	量，挽救了党，挽救了红军，挽救了中国革命。
----------------	------------------------------	-----------------------

(1) 依据材料一，从会议背景、决策、影响的角度，概括两次会议的共同点。

材料二

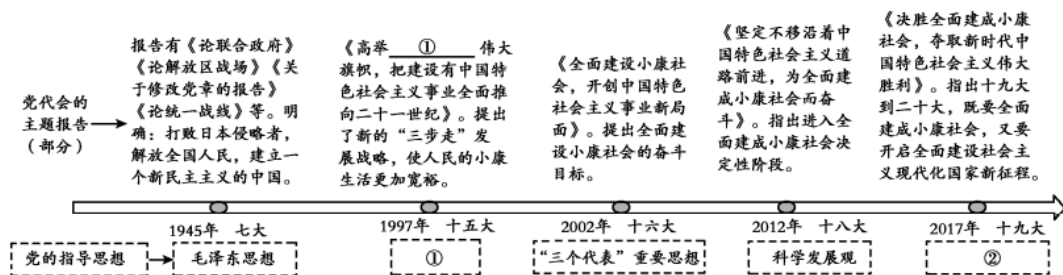
\_\_\_\_\_的决策：①彻底否定“两个凡是”的错误方针，高度评价关于真理标准问题的讨论，停止使用以阶级斗争为纲的口号，重新确立党的实事求是的思想路线。②决定从1979年1月起，把全党的工作重点和全国人民的注意力转移到社会主义现代化建设上来，提出改革开放的任务。③邓小平实际上已经成为党的中央领导集体的核心。

自改革开放之初提出小康社会的战略构想以来，中国共产党始终把人民对美好生活的向往作为奋斗目标，几代人一以贯之、接续奋斗。2020年，国内生产总值达101.6万亿元，稳居世界第二位。人均国民总收入（GNI）突破1万美元，按世界银行标准，达到中高收入国家水平。基础设施日益完善。成为世界货物第一贸易大国和外汇储备大国。

——摘自《中国共产党简史》

(2) 依据材料二并结合所学，说出会议名称。此会议“是新中国成立以来党的历史上具有深远意义的伟大转折”，谈谈你对这句话的理解。

材料三



(3) 结合所学，填写材料三中①②所对应的理论名称。结合十五大以来党代会的主题报告和自身理解，说说中国全面建成小康社会的成功经验。

22. 法律 治国重器。

材料一

①《左传》记载：“夏有乱政，而作禹刑。”表明夏朝已有刑法。

②湖北云梦县睡虎地秦简，有《田律》、《仓律》、《关市律》、《徭律》、《置吏律》、《军爵律》等秦律十八种，内容涉及农业、仓库、货币、贸易、徭役、置吏、军爵等方面。

③西汉初颁布《九章律》，废除秦之苛法，汉文帝和汉景帝，重视以德化民，废除严刑峻法，为文景之治的出现奠定基础。

④春秋时期郑国“铸刑书”，把刑法浇铸在金属器皿上，制定了中国历史上最早的成文法。

⑤唐太宗时期颁布《贞观律》，唐高宗时期摆成《唐律疏议》，注重礼法结合，为贞观之治、开元盛世的出现奠定基础。



⑥明朝总结历代法律制定《大明律》，含《名例律》、《吏律》、《户律》、《礼律》、《兵律》、《刑律》、《工律》等，在内容上，经济、军事、行政、诉讼等立法更为充实。

(1) 将材料一的史实与以下观点相对应。(填写序号，多选、错选均不得分)

中国古代早期国家制定刑法的历史悠久\_\_\_\_\_

中国古代礼法并用推动治世局面 出现\_\_\_\_\_

中国古代的法律内容丰富，领域广泛\_\_\_\_\_

材料二

近代 西方 法律 文献  (部 分)	英国	①	国王不经议会许可，不能随意废除法律，也不能停止法律的执行，不得征收捐税。
	美国	1787年宪法	行政、立法、司法三权分立，总统、国会与最高法院及其相关机构各司其职、相互制衡；联邦政府与地方政府分享权力；总统和议员由选举产生。
	法国	②	宣告人权、法治、自由、分权、平等和保护私有财产等原则。
		《拿破仑法典》	有关民事权利，各类财产所有权和其他物权及获取各类所有权方法的规定，体现自由平等和私有财产神圣不可侵犯原则。

(2) 依据材料并结合所学，补充①②两处法律文献的名称。从上述法律文献中任选一部，说明其对国家发展的历史作用，仿照示例完成。

示例《拿破仑法典》：是拿破仑帝国时期由拿破仑主持制定的民法典，体现了自由平等和私有财产神圣不可侵犯的原则，巩固了法国大革命的成果，成为很多国家民法的蓝本。

材料三 中华人民共和国颁布的法律文件（部分）

1950年颁布《中华人民共和国土地改革法》 1954年制定《中华人民共和国宪法》	
1986年通过《中华人民共和国义务教育法》	保障适龄儿童、少年接受义务教育的权利，提高全民素质。
1990年通过《香港特别行政区基本法》 1993年通过《澳门特别行政区基本法》	确保国家对香港、澳门的基本方针政策得以实施，是香港、澳门各项制度的基础。
(1994年通过《中华人民共和国劳动法》)	保护劳动者的合法权益，建立和维护适应社会主义市场经济的劳动制度。
2020年通过《中华人民共和国民法典》	是新中国第一部以法典命名的法律，体现对生命健康、财产安全、生活幸福、人格尊严等各方面权利的保护。



(3) 结合所学，指出 1954 年《中华人民共和国宪法》的地位或作用。依据材料三，分别从国家和公民的角度，谈法律的重要性。

23. 船舶在历史进程中扮演着重要的角色。


材料一

①北宋东京郊外，建有世界上现存最早的船坞。
②宋代所造的海船载重量最大可达万石。宋代海船设置了水密隔舱，增加了抗沉性和横向强度。在当时世界造船领域中居于领先地位。
③宋代的船上使用指南针，能准确辨别航向。在当时世界航海领域中居于领先地位。
④宋代商业繁荣，黄河、长江及运河沿岸兴起了很多商业城市。
⑤宋代广州、泉州是闻名世界的大商港，中国商船的踪迹，近至朝鲜、日本，远达阿拉伯半岛和非洲东海岸。
⑥朝廷鼓励海外贸易，在主要港口设立市舶司加以管理。南宋的外贸所得，在财政收入中占有重要地位。

——整理自部编《中国历史》七年级下册

(1) 根据材料一，概括宋代海外贸易发展的条件。

材料二

 <p>①遣唐使船模型 唐朝时，日本、新罗等国指派使节，与中国经济、文化往来频繁。</p>	 <p>②郑和宝船 1405-1433 年，郑和率船队七下西洋，到达亚洲、非洲的 30 个国家和地区。</p>	 <p>③黄鹄号蒸汽轮船 1865 年，由安庆内军械所研制，徐寿等自主设计建造的第一艘蒸汽机轮船，试航成功。</p>
 <p>④阿芙乐尔号巡洋舰 1917 年 11 月 7 日，俄国阿芙乐尔号开炮，发出进攻冬宫的信号。</p>	 <p>⑤平远号近海防御舰 1888 年，福建船政局设计制造的中国第一艘钢甲舰，代表当时中国造船工业最高水平。</p>	 <p>⑥浙江嘉兴南湖的红船 1921 年 7 月底，以游客泛舟为掩护，秘密在船上继续召开党代会。</p>

(2) 依据材料二，仿照示例，确定一个研究主题，选取适当材料（示例除外）并说明其与主题的关系。

示例：



研究主题	序号	说明
自强的船	③	黄鹄号蒸汽船是洋务运动时期中国人自己设计制造的机械化船舶，试航成功。
	⑤	平远号近海防御舰是洋务运动时期，中国人自主设计建造的钢甲舰，体现造船业的水平。
研究主题	序号	说明

材料三 西方海洋强国简表

分期	时间	主要国家
扩张时代	1415-1648年	葡萄牙、西班牙、荷兰
殖民时代	1648-1845年	英国、法国、俄国
争霸时代	1845-1945年	英国、美国、日本、德国
威慑—合作时代	1945-2015年	美国、苏联、俄罗斯

<p>横跨六百年的海洋强国历史几乎绘满了西方国家的航程。既是大历史背景下的时代产物，也存在着阶段性的发展趋势。其中，科学技术的变迁是构筑西方国家海洋强国的客观因素，主要影响一个国家的海洋硬实力；而人文思想则是构筑海洋强国的观念因素，主要影响一个国家的海洋软实力。</p>	
---	--

——摘编自刘笑阳《海洋强国战略研究——理论探索、历史逻辑和中国路径》

(3) 依据材料三并结合所学，指出 17 世纪中期到 20 世纪初一直是海洋强国的国家。运用史实，说说此国成为海洋强国的因素。或概括西方海洋强国发展的因素。

24. 时代变迁影响社会生活的变化。

材料一 有唐一代，吐纳东西文化，兼容华风异俗，在社会生活的各个方面，少数民族风俗习惯的影响都很明显。在京都长安，各族人民共同生活，互相影响，使得居民的衣饰、饮食、娱乐、婚姻等社会生活的各个方面都具有“胡化”的特色。……充分体现了这座国际大都会开放包容的气象，展示了丰富多彩的社会生活风貌。

——摘编自张兴胜《唐代长安的“胡化”风气》

(1) 依据材料一，说出唐代社会生活风貌所体现的时代特征。结合所学，说明此时代特征出现的原因。





材料二 明治初年，日本人的生活方式和风俗习惯发生了很大的变化，有些是政府明令改易的。1871年政府下“散发废刀令”，允许剪洋式发型，当时的但俗歌谣中有所谓“敲敲剪发头，发出文明开化声”，可见剪发被视为文明开化的象征。在衣饰上，西装被定为官服。日常生活中人们争穿洋服、食牛肉，以为时髦。不少陋习也遭到禁止，如政府明令禁止华族妇女沿袭旧的染齿剃眉婚俗。


——摘编自武安隆《日外文化交流史论》

材料三 1912年，南京临时政府以行政的命令推行剪辮，此后剪辮渐成一种新风尚，在近代中国带有观念变革的意义。除此之外还颁布了一些革除“旧染污俗”的政令：禁缠足、改称谓、废跪拜、易服饰等。帝制取消后，那些象征着等级尊卑的服饰被弃若敝履，而“西式装束则随机大畅”。

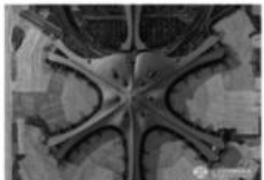
——摘编自陈旭麓《近代中国的新陈代谢》

(2) 依据材料二、三并结合所学，分别说出推动中日两国近代社会生活发生变化的事件名称。概括中日两国近代社会生活变化的相同点。


材料四

	<p>20世纪初，福特汽车公司使用环形传送带流水线生产汽车，使得为装配每个汽车底盘的工作时间从12小时28分缩短到1小时38分钟，带来了汽车制造业的革命。</p>
---	---

福特汽车公司的生产流水线

	<p>商朝的驿使48天可走600千米，清朝的快马递送公文一昼夜可行400千米，火车的速度一开始只有24千米每小时。如今，高铁、飞机的速度已分别超过350千米每小时和900千米每小时。</p>
---	---

北京大兴国际机场

	<p>21世纪以来，电子金融与电子商务日益普及，人们利用电脑、手机等网络中端，无需亲自到现场，就能办理转账汇款、购买商品。</p>
---	---

(3) 依据材料四，说出推动人类社会生活变化因素。结合自身体会，任意选择一个角度，说明其对人们生活产生的影响。

## 参考答案



1. 北京人遗址为人类起源的研究提供了可靠的证据。依据北京人遗址中发现的灰烬、烧石和烧骨，还有尖状器、刮削器、石锤和石砧等，考古学家推断北京人的基本特征有（ ）

①打制石器 ②学会用火 ③种植粮食 ④饲养家畜

A. ①②                      B. ①③                      C. ②③                      D. ③④

【答案】A

【解析】

【详解】依据灰烬、烧石和烧骨，可得出北京人学会用火，依据尖状器、刮削器、石锤和石砧等，可得出北京人使用打制石器，①②正确；北京人处于旧石器时代，以打猎、采集为生，还没有过上原始农耕生活，也不会饲养家畜，题干中也没有体现，③④错误。A项正确，排除BCD项。故选A项。

2. 夏、商、西周时期是中国王朝产生发展的重要阶段，青铜器反映了高度发达的物质文明成就。识读下列文物，能够反映商朝精神文明表征的是（ ）



A. 猪纹陶钵                      B. 刻有文字的甲骨                      C. 商鞅铜方量                      D. 半两钱

【答案】B

【解析】

【详解】结合所学知识，商朝时期刻写在龟甲或兽骨上的文字被称为甲骨文，证明我国有文字可考的历史从商朝开始，因此能够反映商朝精神文明表征，B项正确；猪纹陶钵是远古时代河姆渡居民所制造的陶器，排除A项；战国时期商鞅在秦国变法，统一度量衡，排除C项；秦统一中国后统一货币，以圆形方孔半两钱作为通行全国的货币，排除D项。故选B项。

3. 下面是某位同学从历史教材中摘录的学习内容，反映战国时期百家争鸣的局面，其中②所示主张属于的思想学派是（ ）

- ①墨子主张“兼爱”“非攻”，反对攻伐兼并、残害生命。
- ②孟子主张实行“仁政”，反对一切非正义的战争。
- ③庄子强调治国要顺应自然和民心，认为人生应保持独立人格。
- ④韩非子强调以法治国，树立君主的权威，建立中央集权专制统治。

A. 儒家                      B. 道家                      C. 墨家                      D. 法家

【答案】A

【解析】

【详解】孟子是战国时期儒家思想发展者，主张“仁政”“民贵君轻”等思想，A项正确；道家学派是庄子，排除B项；墨家学派代表是墨子，排除C项；法家学派代表是韩非子，排除D项。故选A项。



4. 古代陆上丝绸之路是沟通欧亚大陆的交通道路，推动东西方商贸往来和文化交流，能证明这一结论的事实有（ ）

- ①北击匈奴 ②张骞出使西域 ③班超经营西域 ④北方游牧民族南迁

- A. ①② B. ①③ C. ②③ D. ③④

【答案】C

【解析】

【详解】依据所学知识，西汉汉武帝时期张骞出使西域为开通陆上丝绸之路奠定基础，东汉时班超经营西域有利于陆上丝绸之路的重新畅通，②③正确；北击匈奴是为了反击匈奴的骚扰，与丝绸之路并没有直接关系，①错误；东汉末年以来，北方游牧民族大量南迁至内地中原地区，属于民族迁移，与丝绸之路并没有直接关系，④错误。C项正确，排除ABD项。故选C项。

5. 归纳关键词、联想记忆是学习历史的方法之一。下列事件与隋朝有关的有（ ）

- ①开通大运河 ②确立科举制 ③陈桥兵变 ④重文轻武

- A. ①② B. ①③ C. ②③ D. ③④

【答案】A

【解析】

【详解】依据所学知识，隋朝建立后，隋文帝结束南北朝的分裂局面，实现全国统一，隋炀帝下令开通大运河加强南北交流，并确立科举制，这是中国古代选官制度的进步，①②正确；陈桥兵变是宋太祖赵匡胤夺取后周政权建立北宋的重要事件，北宋建立后为防范唐末以来藩镇割据的弊端重演，采取重文轻武的国策，③④都与宋朝有关，排除。A项正确，排除BCD项。故选A项。

6. 元朝的版图是我国历史上最大的，为对辽阔的疆域进行有效治理，创立的对历史影响深远的地方管理制度是（ ）

- A. 刺史制度 B. 三省六部制 C. 行省制度 D. 八旗制度

【答案】C

【解析】

【详解】为对辽阔的疆域进行有效治理，元朝在地方上推行行省制度，C项正确；刺史制度是汉武帝时期实行的监察制度，排除A项；三省六部制是隋唐时期实行政治制度，排除B项；八旗制度是清朝时期实行制度，排除D项。故选C项。

7. 运用年代尺进行史实梳理是形成时空观念的有效方法。下述史实说明\_\_\_\_\_地区是我国领土不可分割的一部分。横线处应填的地区是（ ）



- A. 台湾 B. 新疆 C. 西藏 D. 香港

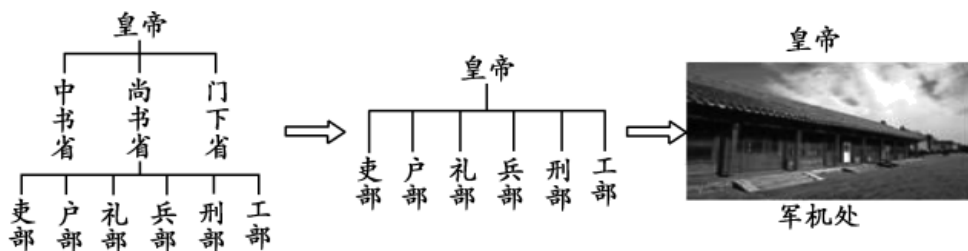
【答案】A

【解析】



【详解】根据所学可知，三国时期，孙权派卫温到达夷洲（今台湾）；隋朝时台湾称流求；元朝设立澎湖巡检司管理台湾，这是中央政府首次在台湾设立行政机构；1684年，清政府在台湾设台湾府，隶属福建省；1945年抗战胜利后，台湾回归；1991年，九二共识的核心是海峡两岸均坚持一个中国的原则，因此示意图说明台湾是我国领土不可分割的一部分，A项正确，排除BCD项。故选A项。

8. 中国古代国家中央机构随着王朝更替在发生变化。下面图示反映的变化趋势是不断强化（ ）



- A. 皇帝专权                      B. 地方权力                      C. 丞相权力                      D. 监察权力

【答案】A

【解析】

【详解】依据题干古代中央机构示意图和所学知识可知，从隋唐时期的三省六部制分散相权，到明朝废除丞相制度、六部直接向皇帝负责，再到清朝设立军机处，军国大事全凭皇帝裁决，可见反映了中国古代政治制度的变化趋势之一是不断强化皇帝专权，A项正确；题干反映的是古代中央机构的变化，没有体现地方权力，排除B项；随着皇帝专权的强化，丞相权力逐渐被废除，排除C项；题干反映的是中央机构的变化折射出皇帝专权的强化，没有凸显监察权力，排除D项。故选A项。

9. 120年前，清政府签订了近代史上赔款数额最大、主权丧失最严重、精神屈辱最严重、给中国人民带来了空前灾难 《辛丑条约》。此条约的签订标志着

- A. 中国开始沦为半殖民地半封建社会                      B. 中国半殖民地化进一步加深  
C. 中国半殖民地化程度大大加深                      D. 中国完全陷入半殖民地半封建社会的深渊

【答案】D

【解析】

【详解】依据题干和所学知识，1901年，清政府在八国联军侵华战争后签订的《辛丑条约》规定清政府保证严禁中国人民的反帝斗争等内容，这标志清政府完全成为帝国主义统治中国的工具，中国完全陷入半殖民地半封建社会的深渊，D正确；鸦片战争及1842年签订的《南京条约》标志中国开始沦为半殖民地半封建社会，A排除；第二次鸦片战争以及相关的《天津条约》《北京条约》等条约标志中国半殖民地化进一步加深，B排除；甲午中日战争以及1895年签订的《马关条约》标志中国半殖民地化程度大大加深，C排除。故选D。

10. 下表是中国近代某一刊物上部分作者发表过的文章，该刊物应该是（ ）

作者	文章
胡适	《文学改良刍议》
陈独秀	《文学革命论》
鲁迅	《狂人日记》



李大钊	《庶民的胜利》
-----	---------

- A. 《申报》                      B. 《民报》                      C. 《新青年》                      D. 《解放日报》

【答案】C

【解析】

【详解】依据题干表格中“胡适”“陈独秀”“鲁迅”“李大钊”等可知与新文化运动有关，他们都是新文化运动代表人物，而《新青年》是新文化运动中的重要刊物，C项正确；1915年新文化运动兴起，而《申报》于1872年在上海创刊，排除A项；1905年，孙中山在日本东京成立资产阶级革命政党同盟会，《民报》是同盟会的机关报，排除B项；《解放日报》是中国共产党于1941年在延安创办的报刊，排除D项。故选C项。

11. 在抵抗日本发动的侵华战争中，中国无数英烈用生命镌刻了不怕牺牲、视死如归的民族精神。下列属于近代抗日民族英雄的有（ ）

- ①林则徐    ②邓世昌    ③谢晋元    ④杨靖宇

- A. ①②③                      B. ①②④                      C. ①③④                      D. ②③④

【答案】D

【解析】

【详解】依据所学知识，1894年日本发动甲午中日战争，北洋水师将领邓世昌在黄海海战中壮烈殉国，1931年日本发动九一八事变，杨靖宇组织东北抗日联军抵抗日本侵略并壮烈殉国，1937年日本发动七七事变，开始全面侵华战争，在淞沪会战中国国民党将领谢晋元坚守四行仓库，②③④都属于近代抗日民族英雄；林则徐在鸦片战争前夕主持虎门销烟，打击了英国的鸦片走私，不属于近代抗日民族英雄，①错误。D项正确，排除ABC项。故选D项。

12. 下图所示歌曲创作于建国初期，回忆的是1950年中国人民志愿军浴血奋战，拼来了山河无恙、家国安宁的一场战争，这场战争是（ ）

<p>我的祖国</p> <p>电影《上甘岭》插曲</p> <p>……这是美丽的祖国，是我生长的地方……</p> <p>朋友来了有好酒，若是那豺狼来了，迎接它的有猎枪……</p>
--

- A. 黄海海战                      B. 淞沪会战                      C. 百团大战                      D. 抗美援朝战争

【答案】D

【解析】

【详解】依据题干和所学知识，1950年，新中国派遣彭德怀为司令员 中国人民志愿军奔赴朝鲜抗美援朝，捍卫了新中国的安全，提高了新中国的国际地位，D项正确；黄海海战发生在1894年，属于甲午中日战争中的重要战役，排除A项；淞沪会战发生在1937年，百团大战发生在1940年，属于抗日战争中的重要战役，排除BC项。故选D项。

13. 为开展研究性学习，某合作学习小组围绕主题收集了以下资料，请判断该研究性学习的主题是（ ）



资料类型	名称
传记	《邓小平时代》
图片	《凤阳农民打花鼓庆丰收》
领导人讲话	邓小平：《关于农村政策问题》（1980年5月31日）
歌谣	“大包干、大包干，直来直去不拐弯，保证国家的，留足集体的，剩下都是自己的。”

- A. 家庭联产承包责任制  
B. 市场经济体制的建立  
C. 真理标准问题大讨论  
D. 对外开放格局的形成

【答案】A

【解析】

【分析】

【详解】由材料信息“《邓小平时代》”“《凤阳农民打花鼓庆丰收》”“邓小平：《关于农村政策问题》（1980年5月31日）”“大包干、大包干，直来直去不拐弯，保证国家的，留足集体的，剩下都是自己的”可知，其研究主题是关于农村改革，即家庭联产承包责任制，故A正确；21世纪初，社会主义市场经济体制的建立，故B错误；真理标准问题大讨论是在1978年，故C错误；材料和对外开放无关，故D错误。

14. 1980年，深圳实行特殊的经济政策和经济管理体制，\_\_\_\_\_和对外开放的“窗口”，仅用几年时间就发展成为一个现代化的大城市。结合所学，横线处补充的内容是（ ）

- A. 成为自治区  
B. 成为经济特区  
C. 成为特别行政区  
D. 成为自由贸易区

【答案】B

【解析】

【详解】依据题干和所学，1980年，我国设立了深圳、珠海、汕头、厦门四个经济特区，迈出了对外开放的步伐，其中深圳更更被誉为对外开放的“窗口”，B项正确；自治区一般是指我国在少数民族聚居地区实行民族区域自治，排除A项；特别行政区一般是指香港、澳门、台湾回归后设立特别行政区，排除C项；2013年，国务院正式批准设立中国自由贸易区，排除D项。故选B项。

15. 1860年林肯当选总统，他曾在一次讲演中说：“一幢裂开的房子是站立不住的……我不期望房子崩塌，但我的确希望它停止分裂”。表明南北战争的作用是（ ）

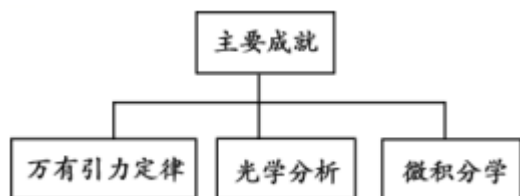
- A. 实现美国独立  
B. 维护国家统一  
C. 促进西部开发  
D. 摆脱经济危机

【答案】B

【解析】

【详解】依据“一幢裂开的房子是站立不住的……我不期望房子崩塌，但我的确希望它停止分裂”可见林肯明确表明反对南方分裂国家、维护国家统一，由此可见南北战争的作用是维护国家统一，B项正确；1775-1783年美国独立战争推翻了英国在北美的殖民统治，实现美国独立，排除A项；题干没有体现西部开发，排除C项；1933年美国总统一罗斯福实行新政，意图摆脱经济危机、维护美国资本主义秩序，排除D项。故选B项。

16. 下图所示成就使人类对客观世界的探索向前迈进了一大步。创造这些成就的科学家是（ ）



- A. 瓦特                      B. 牛顿                      C. 诺贝尔                      D. 爱迪生

【答案】B

【解析】

【详解】依据图片所示成就可知该科学家是牛顿，英国科学家牛顿是近代自然科学的奠基人之一，他在天文学、数学、力学等领域都有杰出贡献，万有引力定律、光学分析和微积分学是他的三大成就，1687年，牛顿出版了具有划时代意义的科学巨著《自然哲学的数学原理》，使物理学成为一门独立的科学，B项正确；瓦特在英国工业革命时期制成改良型蒸汽机，排除A项；诺贝尔发明现代炸药，排除C项；爱迪生在第二次工业革命时期发明白炽灯泡等电气发明，排除D项。故选B项。

17. 下列对下表所示第一次世界大战爆发原因的解读，最准确的是

第一次世界大战爆发的历史渊源（部分）	
观点 1	资本主义政治经济发展 不平衡
观点 2	欧洲两大军事对抗组织的出现
观点 3	德国 崛起与欧洲各国的军备竞赛
观点 4	巴尔干危机埋下战争祸根

- A. 三国同盟和三国协约的军事对抗                      B. 英国与德国矛盾的激化  
C. 政治经济军事等因素的共同作用                      D. 欧洲各国开展军备竞赛

【答案】C

【解析】

【分析】

【详解】根据所学可知，经过第二次工业革命，主要帝国主义国家的综合国力发生了很大变化，在政治经济军事等因素的共同作用下，资本主义政治经济发展很不平衡，欧洲两大军事对抗组织出现了，德国崛起并与欧洲各国开展剧烈的军备竞赛，巴尔干危机埋下战争祸根使它成为欧洲的火药桶，于是，世界大战爆发了，C项正确；三国同盟和三国协约发生军事对抗、英国与德国矛盾激化、欧洲各国开展军备竞赛，均只是原因的某一个方面，排除ABD三项。故选C项。

18. 在第二次世界大战达到最大规模后，法西斯国家的侵略激起了世界各国人民的愤怒，为维护国家独立和人类正义，结成最广泛的战时同盟。该同盟正式建立的标志是签署了（ ）

- A. 《九国公约》                      B. 《慕尼黑协定》                      C. 《联合国宣言》                      D. 《开罗宣言》

【答案】C

【解析】



【详解】依据题干可知该同盟是指世界反法西斯同盟，结合所学知识，1942年初，中美英苏等 26 个国家在华盛顿签署《联合国家宣言》，标志世界反法西斯同盟正式建立，C 项正确；《九国公约》是一战后的华盛顿会议上关于中国问题的条约，排除 A 项；1938 年，英法德意四国签署《慕尼黑协定》，标志绥靖政策达到顶峰，排除 B 项；1943 年底，中美英三国首脑召开开罗会议，发表《开罗宣言》，排除 D 项。故选 C 项。

19. 下图是当今某一国际组织大多数成员国使用的统一货币，该组织是（ ）



100 欧元纸币

- A. 欧洲经济共同体
- B. 欧洲原子能共同体
- C. 欧洲共同体
- D. 欧洲联盟

【答案】D

【解析】

【详解】根据所学可知，欧盟成立后，使用自己的共同货币——欧元，促进了欧盟经济的大发展，故 D 符合题意；欧洲经济共同体、欧洲原子能共同体、欧洲共同体均是欧盟产生以前的不同阶段中的一体化组织形式，没有共同货币，故 ABC 均不符合题意。故选 D。

20. 关注章节标题把握内容主旨是历史学习必备能力。根据“联合国、冷战后的世界格局、不断发展的现代社会”三个章节标题，适合的单元标题是（ ）

- A. 工业化国家的社会变化
- B. 二战后资本主义的新变化
- C. 社会主义的发展与挫折
- D. 走向和平发展的世界

【答案】D

【解析】

【详解】联合国宗旨是维护世界和平与安全。两极格局结束后，世界格局呈现多极化趋势和不断发展的现代社会适合的标题是走向和平发展的世界，D 项正确；工业化是指两次工业革命时期，排除 A 项；二战后资本主义新变化与联合国等信息不符合，排除 B 项；社会主义发展与挫折与“冷战后的世界格局”信息不符，排除 C 项。故选 D 项。

### 第二部分

本部分共 4 题，共 40 分。

21. 中国共产党重要会议的决策关系着党和国家命运。

材料一

会议	背景	决策	影响
八七会议	1927 年，蒋介石、汪精卫先后叛变革命，大批共产党员被杀害，时局危急。	会议批评了中央在处理农民土地问题、武装斗争等方面的错误。确定土地革命和武装反抗国民党	会议给正处在思想混乱和组织涣散中的中国共产党指明了新出路，为挽救党和革命作出巨





		反动派的总方针。毛泽东提出“须知政权是枪杆子中取得的”。	大贡献。是由大革命失败到土地革命兴起的历史性转变。
遵义会议	红军第五次反围剿失败，被迫开始长征。1935年，长征途中，红军损失惨重，形势危急。	会议纠正博古等人在军事、组织上的错误，取消其最高军事指挥权。肯定毛泽东的正确军事主张，增选其为中央政治局常委，成为长征军事指挥负责人之一。	会议后红军经过整编，提高了战斗力，最终取得长征的胜利，保存了党和红军的基干力量，挽救了党，挽救了红军，挽救了中国革命。

(1) 依据材料一，从会议背景、决策、影响的角度，概括两次会议的共同点。

材料二

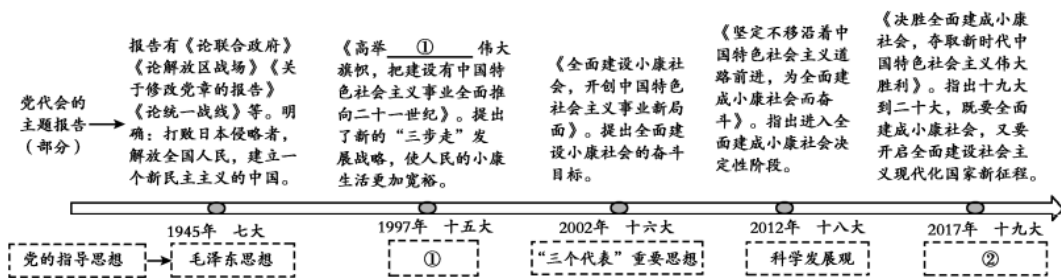
\_\_\_\_\_的决策：①彻底否定“两个凡是”的错误方针，高度评价关于真理标准问题的讨论，停止使用以阶级斗争为纲的口号，重新确立党的实事求是的思想路线。②决定从1979年1月起，把全党的工作重点和全国人民的注意力转移到社会主义现代化建设上来，提出改革开放的任务。③邓小平实际上已经成为党的中央领导集体的核心。

自改革开放之初提出小康社会的战略构想以来，中国共产党始终把人民对美好生活的向往作为奋斗目标，几代人一以贯之、接续奋斗。2020年，国内生产总值达101.6万亿元，稳居世界第二位。人均国民总收入（GNI）突破1万美元，按世界银行标准，达到中高收入国家水平。基础设施日益完善。成为世界货物第一贸易大国和外汇储备大国。

——摘自《中国共产党简史》

(2) 依据材料二并结合所学，说出会议名称。此会议“是新中国成立以来党的历史上具有深远意义的伟大转折”，谈谈你对这句话的理解。

材料三



(3) 结合所学，填写材料三中①②所对应的理论名称。结合十五大以来党代会的主题报告和自身理解，说说中国全面建成小康社会的成功经验。

**【答案】** (1) 背景：都是在形势危急，党面临生死存亡的时候召开的。(意思合理)  
 决策：都对领导组织上的错误进行了批评和纠正；都明确了新的路线和方针；毛泽东提出正确主张等。(任意一点)  
 作用：都发挥了扭转危机的作用，使革命转危为安，挽救了党和中国革命等。



(2) 十一届三中全会；理解：十一届三中全会使中国共产党在思想、政治、组织等方面进行全面拨乱反正，国家开启了改革开放和社会主义现代化的伟大征程。也可以从材料二的成就部分提取信息说明国家富强，人民生活水平提高，国际地位提升；或改革开放后，中国实现富起来到强起来等（意思合理即可）

(3) ①邓小平理论或中国特色社会主义理论②新时代中国特色社会主义思想

经验：坚持中国共产党的领导，坚持改革开放、坚持以人民为中心、坚持中国特色社会主义理论、科技强国战略等（任意两点）

**【解析】**

**小问 1 详解】**

背景依据材料一“1927年，蒋介石、汪精卫先后叛变革命，大批共产党员被杀害，时局危急。”“1935年，长征途中，红军损失惨重，形势危急。”可知两次会议都是在形势危急，党面临生死存亡的时候召开的；依据材料中两次会议的决策内容可得出都对领导组织上的错误进行了批评和纠正、都明确了新的路线和方针以及毛泽东提出正确主张等；作用，依据材料“会议给正处在思想混乱和组织涣散中的中国共产党指明了新出路，为挽救党和革命作出巨大贡献。”“保存了党和红军的基干力量，挽救了党，挽救了红军，挽救了中国革命。”可得出两次会议都发挥了扭转危机的作用，使革命转危为安，挽救了党和中国革命等。

**【小问 2 详解】**

依据材料二“重新确立党的实事求是的思想路线。”“提出改革开放的任务”可知是十一届三中全会；依据材料的信息和所学可知，十一届三中全会使中国共产党在思想、政治、组织等方面进行全面拨乱反正以及国家开启了改革开放和社会主义现代化的伟大征程。

**【小问 3 详解】**

1997年，中共十五大会议上把邓小平理论确立为党的指导思想，并写进党章。对建设中国特色社会主义具有重要意义；2017年10月，中国共产党第十九次全国代表大会在北京召开。习近平新时代中国特色社会主义思想被确立为中国共产党必须长期坚持的指导思想，它是马克思主义中国化最新成果，是中国特色社会主义理论体系的重要组成部分；依据材料的信息和所学可得出中国全面建成小康社会的成功经验是坚持中国共产党的领导，坚持改革开放、坚持以人民为中心、坚持中国特色社会主义理论、科技强国战略等。

**22. 法律是治国重器。**

**材料一**

- ①《左传》记载：“夏有乱政，而作禹刑。”表明夏朝已有刑法。
- ②湖北云梦县睡虎地秦简，有《田律》、《仓律》、《关市律》、《徭律》、《置吏律》、《军爵律》等秦律十八种，内容涉及农业、仓库、货币、贸易、徭役、置吏、军爵等方面。
- ③西汉初颁布《九章律》，废除秦之苛法，汉文帝和汉景帝，重视以德化民，废除严刑峻法，为文景之治的出现奠定基础。
- ④春秋时期郑国“铸刑书”，把刑法浇铸在金属器皿上，制定了中国历史上最早的成文法。
- ⑤唐太宗时期颁布《贞观律》，唐高宗时期摆成《唐律疏议》，注重礼法结合，为贞观之治、开元盛世的出现奠定基础。
- ⑥明朝总结历代法律制定《大明律》，含《名例律》、《吏律》、《户律》、《礼律》、《兵律》、《刑律》、《工律》等，在内容上，经济、军事、行政、诉讼等立法更为充实。



(1) 将材料一的史实与以下观点相对应。(填写序号, 多选、错选均不得分)

中国古代早期国家制定刑法的历史悠久\_\_\_\_\_

中国古代礼法并用推动治世局面的出现\_\_\_\_\_

中国古代的法律内容丰富, 领域广泛\_\_\_\_\_

材料二

近代 西方 法律 文献 (部 分)	英国	①	国王不经议会许可, 不能随意废除法律, 也不能停止法律的执行, 不得征收捐税。
	美国	1787年宪法	行政、立法、司法三权分立, 总统、国会与最高法院及其相关机构各司其职、相互制衡; 联邦政府与地方政府分享权力; 总统和议员由选举产生。
	法国	②	宣告人权、法治、自由、分权、平等和保护私有财产等原则。
		《拿破仑法典》	有关民事权利, 各类财产所有权和其他物权及获取各类所有权方法的规定, 体现自由平等和私有财产神圣不可侵犯原则。

(2) 依据材料并结合所学, 补充①②两处法律文献的名称。从上述法律文献中任选一部, 说明其对国家发展的历史作用, 仿照示例完成。

示例《拿破仑法典》: 是拿破仑帝国时期由拿破仑主持制定的民法典, 体现了自由平等和私有财产神圣不可侵犯的原则, 巩固了法国大革命的成果, 成为很多国家民法的蓝本。

材料三 中华人民共和国颁布的法律文件(部分)

1950年颁布《中华人民共和国土地改革法》 1954年制定《中华人民共和国宪法》	
1986年通过《中华人民共和国义务教育法》	保障适龄儿童、少年接受义务教育的权利, 提高全民素质。
1990年通过《香港特别行政区基本法》 1993年通过《澳门特别行政区基本法》	确保国家对香港、澳门的基本方针政策得以实施, 是香港、澳门各项制度的基础。
(1994年通过《中华人民共和国劳动法》)	保护劳动者的合法权益, 建立和维护适应社会主义市场经济的劳动制度。
2020年通过《中华人民共和国民法典》	是新中国第一部以法典命名的法律, 体现对生命健康、财产安全、生活幸福、人格尊严等各方面权利的保护。

(3) 结合所学, 指出1954年《中华人民共和国宪法》的地位或作用。依据材料三, 分别从国家和公民的角度, 谈谈法律的重要性。



【答案】(1) ①. 中国古代早期国家制定刑法的历史悠久①④ ②. 中国古代礼法并用推动治世局面的出现③⑤  
③. 中国古代的法律内容丰富，领域广泛②⑥

(2) ①《权利法案》②《人权宣言》

选择的法律文献及作用：法律文件名称和作用应对应，不对应不得分。如果写①②，作用对应也可以给分。《权利法案》是英国资产阶级革命时期颁布的，为议会限制王权提供了法律保障，君主立宪制逐渐形成。

《1787年宪法》是美国独立战争胜利后颁布的，依据分权制衡原则确立了联邦制共和国，是世界上第一部资产阶级成文宪法，对后来许多国家政治变革产生重要影响。但也有一定局限性。

《人权宣言》是法国大革命开始后颁布的，成为法国 1791 年宪法的组成部分，废除旧制度，确立了新制度的基本框架。

(3) 地位：1954 年宪法是我国第一部社会主义类型的宪法，是我国有史以来真正反映人民利益的宪法，以根本大法的形式确定了人民代表大会制度。（任意一个方面即可）法律是国家实现以法治国的保障，是保护公民合法权益依据。（意思合理即可）

### 【解析】

#### 【小问 1 详解】

依据材料一的列举信息可知，中国古代早期国家制定刑法的历史悠久可以从①④说明；依据材料“重视以德化民，废除严刑峻法”“注重礼法结合”可得出③⑤符合中国古代礼法并用推动治世局面的出现观点；依据材料“内容涉及农业、仓库、货币、贸易、徭役、置吏、军爵等方面。”“在内容上，经济、军事、行政、诉讼等立法更为充实。”可知②⑥符合中国古代的法律内容丰富，领域广泛的主体。

#### 【小问 2 详解】

依据材料二“英国”“国王不经议会许可，不能随意废除法律，也不能停止法律的执行，不得征收捐税。”可知该内容出自《权利法案》；依据“宣告人权、法治、自由、分权、平等和保护私有财产等原则。”可知出自《人权宣言》；依据所学可知，《权利法案》是英国资产阶级革命时期颁布的，为议会限制王权提供了法律保障，君主立宪制逐渐形成；《1787 年宪法》是美国独立战争胜利后颁布的，依据分权制衡原则确立了联邦制共和国，是世界上第一部资产阶级成文宪法，对后来许多国家政治变革产生重要影响。但也有一定局限性；《人权宣言》是法国大革命开始后颁布的，成为法国 1791 年宪法的组成部分，废除旧制度，确立了新制度的基本框架。

#### 【小问 3 详解】

1984 年一届人大颁布第一部社会主义类型宪法，结合所学可知，1954 年宪法是我国第一部社会主义类型的宪法，是我国有史以来真正反映人民利益的宪法，以根本大法的形式确定了人民代表大会制度；依据材料三“确保国家对香港、澳门的基本方针政策得以实施，是香港、澳门各项制度的基础。”可得出法律是国家实现以法治国的保障；依据材料“体现对生命健康、财产安全、生活幸福、人格尊严等各方面权利的保护。”可得出法律是保护公民合法权益依据。

23. 船舶在历史进程中扮演着重要的角色。

材料一

①北宋东京郊外，建有世界上现存最早的船坞。
②宋代所造的海船载重量最大可达万石。宋代海船设置了水密隔舱，增加了抗沉性和横向强度。在当时世界造船领域中居于领先地位。



③宋代的船上使用指南针，能准确辨别航向。在当时世界航海领域中居于领先地位。
④宋代商业繁荣，黄河、长江及运河沿岸兴起了很多商业城市。
⑤宋代广州、泉州是闻名世界的大商港，中国商船的踪迹，近至朝鲜、日本，远达阿拉伯半岛和非洲东海岸。
⑥朝廷鼓励海外贸易，在主要港口设立市舶司加以管理。南宋的外贸所得，在财政收入中占有重要地位。

——整理自部编《中国历史》七年级下册

(1) 根据材料一，概括宋代海外贸易发展的条件。

材料二

 <p>①遣唐使船模型 唐朝时，日本、新罗等国指派使节，与中国经济、文化往来频繁。</p>	 <p>②郑和宝船 1405-1433年，郑和率船队七下西洋，到达亚洲、非洲的30个国家和地区。</p>	 <p>③黄鹄号蒸汽轮船 1865年，由安庆内军械所研制，徐寿等自主设计建造的第一艘蒸汽机轮船，试航成功。</p>
 <p>④阿芙乐尔号巡洋舰 1917年11月7日，俄国阿芙乐尔号开炮，发出进攻冬宫的信号。</p>	 <p>⑤平远号近海防御舰 1888年，福建船政局设计制造的中国第一艘钢甲舰，代表当时中国造船工业最高水平。</p>	 <p>⑥浙江嘉兴南湖的红船 1921年7月底，以游客泛舟为掩护，秘密在船上继续召开党代会。</p>

(2) 依据材料二，仿照示例，确定一个研究主题，选取适当材料（示例除外）并说明其与主题的关系。

示例：

研究主题	序号	说明
自强的船	③	黄鹄号蒸汽船是洋务运动时期中国人自己设计制造的机械化船舶，试航成功。
	⑤	平远号近海防御舰是洋务运动时期，中国人自主设计建造的钢甲舰，体现造船业的水平。
研究主题	序号	说明



--	--	--

材料三 西方海洋强国简表

分期	时间	主要国家
扩张时代	1415-1648 年	葡萄牙、西班牙、荷兰
殖民时代	1648-1845 年	英国、法国、俄国
争霸时代	1845-1945 年	英国、美国、日本、德国
威慑—合作时代	1945-2015 年	美国、苏联、俄罗斯

<p>横跨六百年的海洋强国历史几乎绘满了西方国家的航程。既是大历史背景下的时代产物，也存在着阶段性的发展趋势。其中，科学技术的变迁是构筑西方国家海洋强国的客观因素，主要影响一个国家的海洋硬实力；而人文思想则是构筑海洋强国的观念因素，主要影响一个国家的海洋软实力。</p>	
---	--

——摘编自刘笑阳《海洋强国战略研究——理论探索、历史逻辑和中国路径》

(3) 依据材料三并结合所学，指出 17 世纪中期到 20 世纪初一直是海洋强国的国家。运用史实，说说此国成为海洋强国的因素。或概括西方海洋强国发展的因素。

**【答案】** (1) 宋代造船业的发达；航海技术的发达；商业的繁荣；贸易的发达；交通的发达；统治者的重视等。

(2)

研究主题	序号	说明
友好交往（和平）的船	①	遣唐使船是隋唐时期中国与日、朝友好往来的见证。
	②	郑和宝船是郑和下西洋使用的船，见证了明朝中国与亚非各国友好往来。
研究主题	序号	说明
革命的船	④	阿芙乐尔号巡洋舰是俄国十月革命的见证。
	⑥	浙江嘉兴南湖的红船，标志着中国共产党诞生，领导中国革命的胜利。

(3) 英国工业革命是英国成为海洋强国的客观因素（或资本主义制度最早确立，资本主义发展、工厂制度、殖民帝国等）；人文思想（思想变革或文艺复兴）则是英国成为海洋强国的观念因素。或是写出有关的事件：工业革命（科技革命等），文艺复兴、新航路开辟、殖民扩张等。因素：科学技术的革命（工业革命）是构筑西方国家海



洋强国的客观因素；人文思想（思想变革）则是构筑海洋强国的观念因素。或是写出有关的事件：工业革命（科技革命等），文艺复兴、新航路开辟、殖民扩张，殖民争霸、一战、二战等。（两个事件即可）

**【解析】**

**【小问 1 详解】**

依据材料一“在当时世界造船领域中居于领先地位。”可得出宋代造船业发达；依据材料“宋代的船上使用指南针，能准确辨别航向。在当时世界航海领域中居于领先地位。”可得出航海技术的发达；依据材料“宋代商业繁荣，黄河、长江及运河沿岸兴起了很多商业城市。”可得出商业的繁荣；依据材料“宋代广州、泉州是闻名世界的大商港，中国商船的踪迹，近至朝鲜、日本，远达阿拉伯半岛和非洲东海岸。”可得出贸易的发达和交通的发达；依据材料“朝廷鼓励海外贸易，在主要港口设立市舶司加以管理。”可得出统治者的重视等。

**【小问 2 详解】**

本题属于开放题，依据材料提取观点，然后阐释。本题可以从友好交往（和平）的船提出主题，说明从遣唐使船是隋唐时期中国与日、朝友好往来的见证和郑和宝船是郑和下西洋使用的船，见证了明朝中国与亚非各国友好往来回答。还可以从革命的船确定研究主题，说出从阿芙乐尔号巡洋舰是俄国十月革命的见证以及浙江嘉兴南湖的红船，标志着中国共产党诞生，领导中国革命的胜利说明。

**【小问 3 详解】**

依据材料三信息和所学可知，17 世纪中期到 20 世纪初一直是海洋强国的国家是英国；依据所学可知，英国最先完成工业革命、人文思想是英国成为海洋强国的观念因素。概括西方海洋强国发展的因素可以从科学技术的革命、人文思想回答即可。

**24. 时代变迁影响社会生活的变化。**

材料一 有唐一代，吐纳东西文化，兼容华风异俗，在社会生活的各个方面，少数民族风俗习惯的影响都很明显。在京都长安，各族人民共同生活，互相影响，使得居民的衣饰、饮食、娱乐、婚姻等社会生活的各个方面都具有“胡化”的特色。……充分体现了这座国际大都会开放包容的气象，展示了丰富多彩的社会生活风貌。

——摘编自张兴胜《唐代长安的“胡化”风气》

(1) 依据材料一，说出唐代社会生活风貌所体现的时代特征。结合所学，说明此时代特征出现的原因。

材料二 明治初年，日本人的生活方式和风俗习惯发生了很大的变化，有些是政府明令改易的。1871 年政府下“散发废刀令”，允许剪洋式发型，当时的但俗歌谣中有所谓“敲敲剪发头，发出文明开化声”，可见剪发被视为文明开化的象征。在衣饰上，西装被定为官服。日常生活中人们争穿洋服、食牛肉，以为时髦。不少陋习也遭到禁止，如政府明令禁止华族妇女沿袭旧的染齿剃眉婚俗。

——摘编自武安隆《日外文化交流史论》

材料三 1912 年，南京临时政府以行政的命令推行剪辫，此后剪辫渐成一种新风尚，在近代中国带有观念变革的意义。除此之外还颁布了一些革除“旧染污俗”的政令：禁缠足、改称谓、废跪拜、易服饰等。帝制取消后，那些象征着等级尊卑的服饰被弃若敝履，而“西式装束则随机大畅”。

——摘编自陈旭麓《近代中国的新陈代谢》

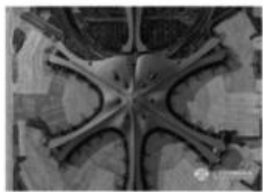
(2) 依据材料二、三并结合所学，分别说出推动中日两国近代社会生活发生变化的事件名称。概括中日两国近代社会生活变化的相同点。

材料四



20 世纪初，福特汽车公司使用环形传送带流水线生产汽车，使得为装配每一个汽车底盘的工作时间从 12 小时 28 分缩短到 1 小时 38 分钟，带来了汽车制造业的革命。

福特汽车公司的生产流水线



商朝的驿使 48 天可走 600 千米，清朝的快马递送公文一昼夜可行 400 千米，火车的速度一开始只有 24 千米每小时。如今，高铁、飞机的速度已分别超过 350 千米每小时和 900 千米每小时。

北京大兴国际机场



现代支付方式

21 世纪以来，电子金融与电子商务日益普及，人们利用电脑、手机等网络中端，无需亲自到现场，就能办理转账汇款、购买商品。

(3) 依据材料四，说出推动人类社会生活变化的因素。结合自身体会，任意选择一个角度，说明其对人们生活产生的影响。

【答案】(1) 时代特征：繁荣与开放（或开放包容等）；

原因：国家统一，民族交融，或统一多民族国家的巩固和发展（贞观之治、开元盛世、科举制度、民族政策等）；交通发达；对外交往；文化繁盛；人民的创造力等（任意两点）

(2) 事件：辛亥革命推动中国近代移风易俗；明治维新推动日本文明开化。

相同点：都通过自上而下的政令推动改变；都受到西方观念的影响，都有学习西方的生活方式；剪发辫成为社会变革的象征等（任意两个角度）

(3) 因素：工业革命、科学技术革命（工业化、工厂制度等）。

角度一，工厂制度、汽车生产流水线带来汽车制造业的革命，提高生产效率，降低生产成本，汽车价格降低，推动汽车的家庭化步伐。

角度二，交通方式变革，促进人们生活方式和观念的不断变化。高速铁路、飞机等交通工具，缩短人流和物流时间；促进城市化进程的加快，扩大人的生活空间、范围等。

角度三，计算机和通信技术的发展使电子金融与电子商务日益普及，便利了人们的生活。

【解析】

【详解】(1) 依据材料一“有唐一代，吐纳东西文化，兼容华风异俗……充分体现了这座国际大都会开放包容的气象，展示了丰富多彩的社会生活风貌”，得出唐代社会生活风貌所体现的时代特征是繁荣与开放（或开放包容等）。结合所学知识，从政治、经济、文化、民族关系、中外关系等角度说明此时代特征出现的原因：国家统一，民族交融，或统一多民族国家的巩固和发展（贞观之治、开元盛世、科举制度、民族政策等）；交通发达；对外交往；文化繁盛；人民的创造力等。

(2) 第一问依据材料二“明治初年，日本人的生活方式和风俗习惯发生了很大的变化”、材料三“1912 年，南京临时政府以行政的命令推行剪辫……帝制取消后，那些象征着等级尊卑的服饰被弃若敝履……”可知材料二反映了明





治维新时期推行文明开化使社会生活发生变化，材料三反映了辛亥革命不仅推翻清王朝统治和封建帝制，也起到了移风易俗的作用。第二问概括中日两国近代社会生活变化的相同点，据材料二“有些是政府明令改易的”、材料三“1912年，南京临时政府以行政的命令推行剪辫”得出都通过自上而下的政令推动改变；据材料二“可见剪发被视为文明开化的象征”、材料三“此后剪辫渐成一种新风尚，在近代中国带有观念变革的意义”得出剪发辫成为社会变革的象征等；据材料二“在衣饰上，西装被定为官服。日常生活中人们争穿洋服、食牛肉，以为时髦。不少陋习也遭到禁止”、材料三“禁缠足、改称谓、废跪拜、易服饰等”得出都受到西方观念的影响，都有学习西方的生活方式等。

(3) 依据材料四“福特汽车公司的生产流水线”“北京大兴国际机场”“现代电子支付方式”，说出推动人类社会生活变化的因素是工业革命、科学技术革命（工业化、工厂制度等）。结合自身体会，选择一个角度，再从背景、概况、意义等方面予以说明，如选择交通方式变革，可结合近现代科技革命中交通工具的变革予以说明，如第一次工业革命出现了火车等交通工具，第二次工业革命出现了汽车、飞机等新式交通工具；交通工具的进步缩短人流和物流时间；促进城市化进程的加快，扩大人的生活空间、范围等。