



# 2022 北京海淀初二（下）期末 历史





## 一、选择题

1. 1949年9月27日。某会议做出决议：“中华人民共和国的国旗为红色五星旗，象征中国人民大团结。”

这次会议是

- A. 中国人民政治协商会议第一届全体会议
- B. 中央人民政府委员会第一次全体会议
- C. 第一届全国人民代表大会
- D. 中国共产党第八次全国代表大会

2. 以下是某同学在参观军事博物馆主题展时所拍摄的照片。这次参观有助于他深入理解（ ）

			
志愿军 39 军签名书	邱少云烈士的棉衣片	上甘岭战役中志愿军使用的工具	中国人民志愿军彭德怀在停战协定签字

- A. 抗美援朝精神
- B. 焦裕禄精神
- C. 雷锋精神
- D. “两弹一星”精神

3. 如图为一位老党员 1952 年时获得的晋江县颁发的纪念章，上方有“土改纪念章”的红字，下方有“晋江县”三个字。该纪念章可以说明晋江地区（ ）



- A. 农民成为土地主人
- B. 土地公有制的确立
- C. 工业化的推进过程
- D. 实行分田包干到户

4. 如表呈现的是某一时期我国社会主义建设所取得的主要成就。这一时期具体是（ ）

领域	主要成就





D. 社会主义现代化建设的全面展开

8. 对以下表述理解正确的是 ( )

①1978年12月,中共十一届三中全会在北京召开

②中共十一届三中全会是新中国成立以来党的历史上具有深远意义的伟大转折

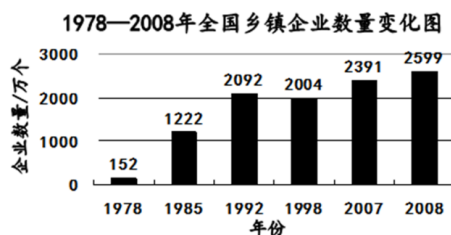
A. ①属于历史结论

B. ①阐释了十一届三中全会的召开背景

C. ②属于历史史实

D. ②评价了十一届三中全会的历史地位

9. 阅读1978—2008年全国乡镇企业数量变化图,乡镇企业数量变化的主要原因是 ( )



A. “一五”计划的实行

B. 农业合作化运动

C. 人民公社化运动

D. 实行经济体制改革

10. 1984年,福建国有骨干企业55位厂长发表《请给我们松绑》的呼吁书:“我们认为放权不能只限于上层部门之间的权力转移,更重要的是要把权力落实到基层企业。”由此可知,这55位厂长要求 ( )

A. 为农民致富开辟新道路

B. 扩大企业的生产经营自主权

C. 积极发展农村乡镇企业

D. 建立社会主义市场经济体制

11. 1984年北京天桥百货股份有限公司成立,并发行首批股票300万元(见如图)。该股票可以用来研究 ( )



A. 社会主义改造开展

B. 包干到户的实行

C. 现代企业制度的建立

D. 乡镇企业的发展

12. 1978年5月11日,《光明日报》发表《实践是检验真理的唯一标准》,1992年3月26日,《深圳特区报》发表邓小平在深圳等地视察的长篇通讯《东方风来满眼春》,这两篇文章都 ( )



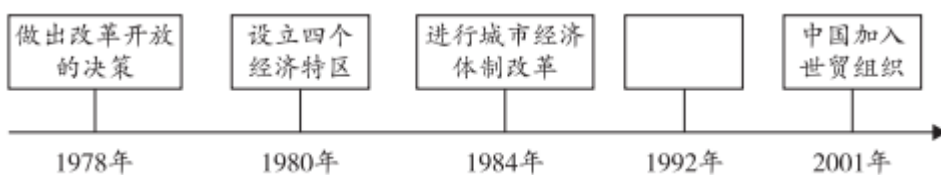
- A. 体现党和国家工作中心的转移
- B. 提出建设中国特色的社会主义
- C. 促进了新时期人们的思想解放
- D. 提出计划和市场都是经济手段

13. 如图所示的城市见证了新中国的发展。其中成为经济特区的代表和对外开放的“窗口”的城市位于 ( )



- A. ①
- B. ②
- C. ③
- D. ④

14. 制作时间轴是学习历史的重要方法。下列时间轴的空白处应该填写的是 ( )



- A. 农村经济体制改革开始
- B. 提出要建立社会主义市场经济体制
- C. 开辟沿海经济开放区
- D. 筹建和成立亚洲基础设施投资银行

15. 以下是某学生所绘制的知识结构图，空白处应该填写的是 ( )



- A. 社会主义初级阶段理论
- B. “三步走”战略部署
- C. “四个全面”战略布局
- D. 中国特色社会主义理论体系





16. 以下四幅图是新中国不同时期的宣传画。按画中主题的时间先后顺序，排列正确的是（ ）



①庆祝第一部宪法颁布 ②欢庆香港回归 ③中国梦我的梦 ④向雷锋叔叔学习

- A. ①②③④      B. ①④②③      C. ②①④③      D. ④②①③

17. 2005年，第十届全国人大三次会议通过《反分裂国家法》：“国家绝不允许‘台独’分裂势力以任何名义、任何方式把台湾从中国分裂出去。”《反分裂国家法》的颁布（ ）

- A. 首次提出和平统一祖国的方针  
B. 标志着海峡两岸实现了“三通”  
C. 促进了“九二共识”的达成  
D. 有利于反对和遏制“台独”势力

18. 以下是某班制作的“云展板”的主要内容，其主题是（ ）

- ◆ 1956年，我国仿制成功歼-5型歼击机
- ◆ 1971年，我国自行研制的导弹驱逐舰完成了多次科学实验与对外出访任务
- ◆ 2012年9月，我国第一艘航空母舰“辽宁舰”交接入列

- A. 民族团结      B. 国防建设      C. 生活变迁      D. 文化繁荣

19. 邓小平在论述外交问题时指出：“中国不打美国牌，也不打苏联牌，中国也不允许别人打中国牌。”这表明我国外交坚持的原则是（ ）

- A. 睦邻友好      B. 独立自主      C. 和平共处      D. 改革开放

20. “中国代表团是来求同而不是来立异的。在我们中间有无求同的基础呢？有的。那就是亚非绝大多数国家和人民自近代以来都曾经受过、并且现在仍在受着殖民主义所造成的灾难和痛苦。”以上是周恩来在某次国际会议上的讲话内容，这次会议是（ ）

- A. 亚非会议      B. 日内瓦会议  
C. 第26届联合国大会      D. 亚信峰会

21. 某公众号准备推送一期专题——70年代中国外交发展。下列可以放进资源包的是（ ）

- ①论文：《新中国恢复联合国合法席位的外交斗争》  
②文件：《中美〈联合公报〉》  
③照片：《毛泽东会见日本首相田中角荣》  
④地图：《亚太经合组织成员国分布》

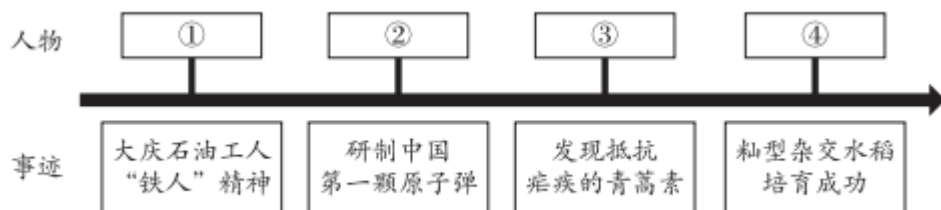
- A. ①②③      B. ①③④      C. ①②④      D. ②③④



22. 2022年6月5日，神舟十四号载人飞船发射成功。我国航空航天所取得的成就离不开几代航天人的奋斗。我国在探索太空的征程上迈出的第一步是（ ）

- A. 1964年第一颗原子弹爆炸成功
- B. 1970年东方红一号成功发射
- C. 1999年神舟一号无人飞船成功发射
- D. 2005年神舟五号飞船升入太空

23. 建国以来各行各业涌现出许多英雄模范人物，下列选项中④处的模范人物是（ ）



- A. 王进喜
- B. 邓稼先
- C. 屠呦呦
- D. 袁隆平

24. 对联是中华优秀传统文化的瑰宝。下列对联中，体现十八大以来重大成就的是（ ）

- A. 万里江山归人民，五亿群众庆新生
- B. 九二共识促交往，两岸关系谱新篇
- C. 两次回归洗国耻，一国两制裁史册
- D. 精准扶贫奔小康，绿色发展新画卷

## 二、非选择题

25. 西藏和平解放与发展

材料一 1944年出生的旦增群培是农奴拉旺的儿子，他回忆道：“从记事起，就在挨饿中度过每一天，农奴主扎西群培很吝啬，每天早上干活前和晚上睡觉前，父母才能各分到一小勺糌巴，拿水拌成糊糊吃，根本填不饱肚子。”在旧西藏农奴主眼中，农奴只是会干活的牲畜，可以随意买卖、赠送，殴打、折磨也是“家常便饭”。

“共产党的军队来了！”民主改革前几年，这个消息传遍了雪域高原，也传到了拉旺家。1959年，农奴主彻底被打倒，村里成立了农会。农会给他们家分了地，分了房子，还分了粮食、牲畜，全家人穿上了真正的衣服、鞋子。全村人每人一颗豌豆当选票，选举拉旺当上了农会的委员。

——摘编自全国妇联联络部编《小家与大党》

材料二



高中  
入学

线  
kao

<p>①《格萨尔王传》为藏族史诗，由国家整理出版，被列入第一批国家级非物质文化遗产名录</p>	<p>② 2006年7月1日青藏铁路通车</p>	<p>③ 2011年北京市政府援建的拉萨市堆龙德庆县羊达设施农业示范园</p>
<p>④截止2022年01月，西藏累计建成5G基站6660个</p>	<p>⑤援藏干部孔繁森在西藏。截止2021年8月，国家共派出9682名援藏干部。</p>	<p>⑥ 2021年西藏拉萨市城关区第二届非物质文化遗产展示</p>

(1) 依据材料一，说明农奴拉旺一家的变化。结合所学，分析变化发生的原因。

(2) 以上是某同学在了解有关国家帮助西藏地区发展时查找的资料，请将以上资料按照下面的类别进行分类。(请将序号填写在答题纸相应位置)

政策支持：\_\_\_\_\_ 基础设施建设：\_\_\_\_\_ 保护少数民族文化：\_\_\_\_\_

## 26. 广交会与进博会

材料一 新中国成立后，美国操纵联合国对中国实行贸易禁运，但国家大规模经济建设急需进口多种物资，为了打破封锁，换取国家建设急需的外汇，1957年4月25日，首届中国出口商品交易会在广州开幕。展会设工业品、纺织品、食品、手工艺品、土特产品5个展馆，包括自行研制的解放牌载重汽车、日用轻工业品、农副土特产品等。

——摘编自王际娣《首届广交会拉近与世界的距离》

材料二 1978年前，广交会的参展企业只是清一色的专业外贸企业。1978年后，工贸企业、外商投资企业和民营企业不断加入到参展企业中来。商品结构不断改善，工业制成品、机电产品、高科技等产品不断增加。1978年到会人数1.7万多人，到了1991年达4.57万人。2004年第95届广交会展馆面积增加了3.9倍，展位增加了7.4倍，成为世界第二位展会。

——李敏《百届华诞广交会迈入新里程》

材料三 2018年11月5日，全球第一个以进口为主题的国家级展会——首届中国国际进口博览会在上海开幕。参展的3000多家企业来自151个国家和地区，其中，G20成员、金砖国家和上海合作组织成员国全部参展，还有来自58个“一带一路”沿线国家和35个最不发达国家的企业。习近平在会上发表讲话：“各国都应该积极推动开放合作，实现共同发展，开创人类更加美好的未来。”

——王卓《从广交会到进博会》

(1) 依据材料一并结合所学，分析首届广交会举办的背景。



(2) 依据材料二，指出 1978 年后广交会的发展变化。结合所学，分析变化的原因。

(3) 依据材料三，分析首届中国国际进口博览会举办的历史意义。

## 27. 乡村发展与振兴

材料一 一个普通农民的日记侯永禄是陕西省合阳县路井镇路一村五组一位普通农民。他从 1940 年开始写日记，一直坚持到 2004 年。他的日记从一个侧面见证了农村面貌的变化和时代的变迁。

日记一：1954 年 9 月 17 日路井乡第一初级农业生产合作社成立大会胜利召开。社员们家家户户都打扫得干干净净，人人穿着新衣裳，挂着红布条，作为社员的标志。早饭后，全体社员都聚集在一起先照了全体相。各乡、各村、各互助组、各机关单位，送来了 30 多面锦旗，并派代表来参加大会。

日记二：1982 年 7 月 19 日上午，巷东头的饲养室门口，人来人往，吵吵嚷嚷，生产队开始评价分牲口、农具等。经大家一致同意，采用抓阄的办法：这对每个人、每一户都是公平的，分得多少好坏，就看你的运气了…同一天，队里又将全部耕地按人口分给了社员各户，作为责任田。我共分到四亩七分二的责任田。

材料二 党的十八大以来，以习近平同志为核心的党中央坚持把解决好“三农”问题作为全党工作的重中之重，组织实施了人类历史上规模空前、力度最大、惠及人口最多的脱贫攻坚战，并取得全面胜利，同时，党的十九大启动实施乡村振兴战略，2022 年全国农作物耕种收综合机械化率超过 72%，农业科技贡献率超过 61%，农村互联网普及率较 10 年前提升了 33.9 个百分点。目前全国具备条件的建制村 100% 通硬化路，农村自来水普及率达 84%。全国农村居民人均可支配收入由 2012 年的 7917 元增加到 2021 年的 18931 元。各地区各部门把农村人居环境整治作为提升农民生活品质的重大工程，全国 95% 的村庄开展了清洁行动，村容村貌明显提升，目前全国共建成村级综合性文化服务中心 57.5 万个，所有行政村都有了农家书屋、电子阅览室和文化活动室，乡村文明不断焕发新气象。

——摘自《人民日报》2022 年 4 月 25 日

(1) 依据材料一，结合所学，任选一则日记，说明其所反映的历史事件，并分析其历史意义。

(2) 依据材料二，概括当前农村发展的新特点。

(3) 综合以上材料，你如何认识建国以来农村建设所取得的成就？

## 28. 海淀区某中学围绕“社会生活的巨变”开展了社会实践活动。

(一) 设计调查问卷





### 通讯工具的变迁调查问卷

您好！我们是海淀某中学的学生，想调查新中国成立以来通讯工具的变迁，希望您能根据自身实际情况填写问卷。感谢您的支持与配合！


1. 您的性别：\_\_\_\_\_
2. 您的职业：\_\_\_\_\_
3. 您使用过何种通讯工具？\_\_\_\_\_

(1) 小组同学设计了如上调查问卷，在讨论过程中觉得调查问卷还不完善，请你调查问卷补充两个调查问题。示例：您现在最喜欢哪种通讯工具？

问题 1：\_\_\_\_ 问题 2：\_\_\_\_

### (二) 分析访谈记录

访谈记录 1			
时间	2022 年 1 月 28 日	地点	小兰家
方式	面对面访谈	对象	小兰的爷爷（生于 1942 年）
提问及记录	问：爷爷，请问您年轻时主要使用什么通讯？ 答：我像你们这么大的时候，“通讯基本靠吼”，跟远房亲戚联系就是写信、发电报。问：听起来发电报还是很方便的，您经常使用电报吗？ 答：不常使用，发电报要到邮电局，而且比较贵，一个字就要 3 分半钱，一封电报 22 个字，就要 8 角钱，而发一封信只用 8 分钱。 问：您现在最喜欢的通讯工具是什么？ 答：最喜欢的是手机，上面有微信，可以和亲友随时视频，也不用花钱。		
访谈记录 2			
时间	2022 年 2 月 2 日	地点	小天家
方式	面对面访谈	对象	小天的大伯（生于 1970 年）
提问及记录	问：大伯，请问您年轻时主要使用什么通讯工具？ 答：我记得十多岁的时候，主要还是写信，但那时候小区有几户人家家里安装了电话，所以有急事的时候会给邻居打电话。刚工作那会 BP 机（寻呼机）特别时尚，我攒了几个月的工资买了一		



个BP机，别在腰带上可气派了，但因为BP机只能接收无线信号，很快就被手机取代了。

问：那您的第一部手机是什么样的？

答：我的第一部手机是黑色翻盖式的，有点像现在的老年机，当时电话号码只有10位。2000年就出现彩屏手机，可以拍照、听音乐，2010年以后智能手机开始流行，功能越来越多了。

问：您最喜欢的通讯工具是什么？

答：最喜欢手机，可以随时联系。但有时候也挺烦它的，各种信息泛滥。

(2) 依据访谈，梳理不同年代通讯工具的新变化。结合所学，分析变化的原因。

(3) 结合访谈和自己的学习生活，谈谈手机对你学习和生活的影响。

(三) 其他探究主题及方式

(4) 除了通讯工具，社会生活的巨变还包括方方面面。如果你去探究建国以来社会生活的巨变，你会选择主题：\_\_\_\_\_（请在横线填写你的探究主题）你会用什么样的方式去探究？请说明理由。



## 参考答案

### 一、选择题

1. 【答案】A

【解析】

【详解】结合所学知识可知，1949年9月中国人民政治协商会议在北平召开，会议决定成立中华人民共和国，通过了具有临时宪法作用的《中国人民政治协商会议共同纲领》。会议决定改北平为北京，作为新中国的首都；以《义勇军进行曲》为代国歌；以五星红旗为国旗；采用公元纪年；决定建立人民英雄纪念碑。选项A符合题意，中央人民政府委员会第一次全体会议是1949年10月1日；第一届全国人民代表大会是1954年；中国共产党第八次全国代表大会是1956年；选项BCD不符合题意，故选A。

2. 【答案】A

【解析】

【详解】根据材料军事博物馆的展示的图片，“志愿者39军签名书”“邱少云烈士的棉衣片”“上甘岭战役志愿军使用的工具”“中国人民志愿军彭德怀在停战协定签字”并结合所学知识可知，军事博物馆展示是抗美援朝时期，有助于了解中国人民志愿军发扬的抗美援朝精神，A项正确；焦裕禄精神、雷锋精神、“两弹一星”精神都是社会主义探索时期发扬的精神，排除BCD项。故选A项。

3. 【答案】A

【解析】

【详解】根据材料“1952年时获得的晋江县颁发的纪念章”“土改纪念章”结合所学可知1950—1952年中国实行土地改革，彻底摧毁了我国存在2000多年的封建土地制度，农民成为土地的主人，A项正确；到1956年三大改造的完成才实现土地公有制的确立，排除B项；材料没有涉及工业化，排除C项；1978年以后才实行分田包干到户，排除D项。故选A项。

4. 【答案】B

【解析】

【详解】根据材料内容结合所学知识可知，材料反映的是一五计划时期取得的成就，1953-1957年我国实施第一个五年计划，B项正确；综合上述分析可排除ACD项。故选B项。

5. 【答案】C

【解析】

【详解】根据“为参加1953年的普选，70岁的她让家人给自己起了个名字叫‘刘文明’，郑重地写在了选民证上”结合所学知识可知，材料反映妇女积极参加基层的普选，C项正确；土地改革是在1950-1952年进行，排除A项；材料没有涉及三大改造，排除B项；社会主义宪法的颁布是在1954年，排除D项。故选



C 项。

6. 【答案】B

【解析】

【详解】根据“合作、改造”结合所学知识可知，表格内容反映的是三大改造，1953-1956 年我国对农业、手工业、资本主义工商业进行社会主义改造，1956 年社会主义改造完成，把生产资料私有制转变为社会主义公有制，社会主义制度在我国确立起来，B 项正确；1949 年新中国成立实现了国家独立，排除 A 项；表格内容没有体现文化繁荣发展，排除 C 项；表格内容没有体现对外政策转变，排除 D 项。故选 B 项。

7. 【答案】B

【解析】

【详解】根据题干《中国共产党简史》目录，并结合所学知识，第六章的题目是 1956-1966 年社会主义建设的艰辛探索和曲折发展，B 项正确；1949 年新中国成立标志新民主主义全面胜利，属于第五章内容排除 A 项；1978 年十一届三中全会以来，我国进行改革开放，“坚持“一国两制”和推进祖国统一”应该属于第七章内容，排除 C 项；2012 年中国进入中国特色社会主义新时代，2020 年我国在实现全面小康社会基础上，我国全面展开社会主义现代化建设，属于第八章内容，排除 D 项。故选 B 项。

8. 【答案】D

【解析】

【详解】根据材料“②中共十一届三中全会是新中国成立以来党的历史上具有深远意义的伟大转折”结合所学可知是对十一届三中全会的评述，确定了十一届三中全会的历史地位，D 项正确；①1978 年 12 月，中共十一届三中全会在北京召开”可知①是对十一届三中全会的历史史实的叙述，会议召开的时间、地点和会议名称，排除 AB 项；②是历史评价，不是属于历史史实，排除 C 项。故选 D 项。

9. 【答案】D

【解析】

【详解】1978 年十一届三中全会吹响了改革开放的号角，经济体制改革首先在农村取得突破性进展，在农村实行包产到户、包干到户的家庭联产承包责任制。家庭联产承包责任制的实行，激发了农民的劳动热情，带来农村生产力的大解放，农业生产和农民收入均有很大提高。随着农业生产向专业化、商品化、社会化发展，农村乡镇企业也迅速发展起来，为农民致富和实现现代化开辟了一条新路。据“1978-2008 年全国乡镇企业数量变化图”可知，乡镇企业数量自 1978 年以来迅速增加。此时期乡镇企业数量变化的主要原因是经济体制改革。C 项正确；“一五”计划的实行是在 1953-1957 年，排除 A 项；农业合作化运动出现在 1953--1956 年，排除 B 项；人民公社化运动是在 1958 年开始，排除 C 项。故选 D 项。

10. 【答案】B





**【解析】**

**【详解】**根据所学和材料“更重要的是要把权力落实到基层企业”可知，这是要企业的自主权，这揭开了城市经济体制改革的序幕，B项正确；材料说的是国有企业改革，不是是农村，排除AC二项；材料说的是1984年，而确定要建立社会主义市场经济体制是在1992年，排D项。故选B项。

11. **【答案】**C

**【解析】**

**【详解】**根据题干关键词，“1984年”“北京天桥百货股份有限公司成立”“首批股票300万元”并结合所学知识，是城市经济体制改革的表现。1984年10月中共十二届三中全会通过《决定》，要求加快以城市为重点的经济体制改革的步伐。城市经济体制改革的中心环节是增强企业活力，企业有了经营自主权，建立现代企业制度，C项正确；1953年开始社会主义改造，排除A项；1978年在农村实行包干到户，随着农业生产向专业化、商品化、社会化发展，农村乡镇企业也迅速发展起来，为农民致富和实现现代化开辟一条新路，排除BD项。故选C项。

12. **【答案】**C

**【解析】**

**【详解】**《实践是检验真理的唯一标准》解放了人们的思想，“1992年3月26日，《深圳特区报》发表邓小平在深圳等地视察的长篇通讯《东方风来满眼春》”反映的是邓小平南方谈话，邓小平南方谈话进一步解放了人们的思想，C项正确；材料内容没有涉及党和国家工作中心的转移，排除A项；中共十二大提出建设中国特色的社会主义，排除B项；《实践是检验真理的唯一标准》没有提出计划和市场都是经济手段，排除D项。故选C项。

13. **【答案】**A

**【解析】**

**【详解】**1980年，中央决定在广东、福建两省兴办经济特区，其中，成为经济特区的代表和对外开放窗口的城市是深圳。1980年，我国在广东深圳、珠海、汕头和福建的厦门建立四个经济特区。这些经济特区，国家给予优惠的经济政策，吸收侨资外资，引进先进科学技术和管理经验，进行现代化建设。深圳在短短几年内，从一个小渔村建成一座繁华的现代化城市，成为经济特区的代表，对外开放的“窗口”。在改革开放中被誉为“一夜崛起之城”，①处是深圳，A项正确；综合上述分析可排除BCD项。故选A项。

14. **【答案】**B

**【解析】**

**【详解】**根据所学可知，在开放的过程中，1992年，提出要建立社会主义市场经济体制，推动我国现代化建设进入新阶段，B项正确；1978年12月小岗材料农民揭开了农村经济体制改革的序幕，1988年开辟沿海经济开放区，2013年10月2日筹建和成立亚洲基础设施投资银行，排除ACD三项。故选B项。



15. 【答案】D

【解析】

【详解】根据“邓小平理论、‘三个代表’重要思想、科学发展观、习近平新时代中国特色社会主义思想”结合所学知识可知，题干反映的是中国特色社会主义理论体系，D项正确；中共十三大系统论述社会主义初级阶段的理论，排除A项；“三步走”战略部署是中共十三大的内容，排除B项；“四个全面”战略布局与“邓小平理论”不符，排除C项。故选D项。

16. 【答案】B

【解析】

【详解】根据所学可知，1954年我国制定了第一部社会主义宪法，1997年香港回归，2012年提出中国梦，1963年毛泽东题词向雷锋同志学习，B项正确，排除ACD三项。故选B项。

17. 【答案】D

【解析】

【详解】根据“‘国家绝不允许台独’分裂势力以任何名义、任何方式把台湾从中国分裂出去。”结合所学知识可知，《反分裂国家法》的颁布有利于反对和遏制“台独”势力，D项正确；1979年全国人大常委会发表《告台湾同胞书》提出和平统一祖国的方针，排除A项；2008年海峡两岸实现了“三通”，排除B项；1992年促进了“九二共识”的达成，排除C项。故选D项。

18. 【答案】B

【解析】

【详解】根据“歼-5型歼击机”“导弹”“航空母舰”结合所学知识可知，材料反映的是国防建设方面的成就，B项正确；ACD项材料没有涉及，排除ACD项。故选B项。

19. 【答案】B

【解析】

【详解】根据所学知识，新中国成立后，我国坚持独立自主和平外交政策。“中国不打美国牌，也不打苏联牌，中国也不允许别人打中国牌。”这表明我国外交坚持的原则是独立自主，B项正确；睦邻友好，和平共处，改革开放与题意不符，排除ACD项。故选B项。

20. 【答案】A

【解析】

【详解】根据材料信息并结合所学知识，周恩来讲话的内容可知是亚非会议。1955年周恩来率中国代表团参加在印度尼西亚万隆召开的亚非会议，在会议上周恩来提出“求同存异”方针，促进会议圆满成功，加强了中国同亚非各国的团结与合作，A项正确；1954年4月-7月召开日内瓦会议，解决朝鲜问题和印度支那问题的国际会议，排除B项；1971年第26届联合国大会通过决议，决定了恢复中华人民共和国在联合国



的一切合法权利，排除 C 项；亚信峰会是一个有关安全问题的多边论坛，其宗旨是在亚洲国家之间讨论加强合作、增加信任的措施，排除 D 项。故选 A 项。

21. 【答案】A

【解析】

【详解】根据所学知识可知，1971 年中国恢复在联合国的合法席位，①符合题意；中美《联合公报》是在 1972 年颁布，②符合题意；毛泽东会见日本首相田中角荣是在 1972 年，③符合题意；亚太经合组织是在 1989 年成立，④不符合题意。所以 A 项正确，排除 BCD 项。故选 A 项。

22. 【答案】B

【解析】

【详解】1970 年我国成功发射东方红一号，成为世界上第五个能独立发射人造地球卫星的国家。是我国在探索太空的征程上迈出的第一步，B 项正确；第一颗原子弹爆炸成功不是太空方面的，排除 A 项；CD 项是在东方红一号成功发射之后发射成功，排除 CD 项。故选 B 项。

23. 【答案】D

【解析】

【详解】根据“籼型杂交水稻培育成功”结合所学知识可知，1973 年，袁隆平在世界上首次育成籼型杂交水稻，这种杂交水稻亩产可达 650 千克以上，比普通水稻增产 20%以上，被称为“东方魔稻”，袁隆平被国际农学界誉为“杂交水稻之父”，D 项正确；王进喜是大庆石油工人，排除 A 项；邓稼先是“两弹元勋”，排除 B 项；屠呦呦发现治疗疟疾的青蒿素，排除 C 项。故选 D 项。

24. 【答案】D

【解析】

【详解】根据所学可知，2012 年十八大以来，党主张精准扶贫奔，全面建成小康社会，提出以绿色为内容之一的新发展新理念，推动了我国社会的高质量发展，D 项正确；万里江山归人民、五亿群众庆新生体现的是新中国成立，九二共识促交往、两岸关系谱新篇海峡两岸关系的发展，两次回归洗国耻、一国两制载史册体现了祖国统一大业向前推进，排除 ABC 三项。故选 D 项。

## 二、非选择题

25. 【答案】(1) 变化：废除了剥削和压迫，过上了幸福生活。

原因：西藏获得了和平解放，进行了民主改革。

(2) 政策支持：③⑤；基础设施建设：②④；保护少数民族文化：①⑥；

【解析】

【小问 1 详解】

变化：根据材料一“1959 年，农奴主彻底被打倒，村里成立了农会。农会给他们家分了地，分了房子，还



分了粮食、牲畜，全家人穿上了真正的衣服、鞋子。全村人每人一颗豌豆当选票，选举拉旺当上了农会的委员”可归纳出废除了剥削和压迫，过上了幸福生活。原因：结合所学知识可知，西藏获得了和平解放，进行了民主改革。

**【小问 2 详解】**

根据材料结合所学知识可知，①“格萨尔王传……被列入第一批国家级非物质文化遗产名录”反映的是保护少数民族文化；②“2006 年……青藏铁路通车”反映的是基础设施建设；③“北京政府……拉萨市堆龙德……农业示范园”反映的是政策支持；④“西藏累计建成 5G 基站 6660 个”反映的是基础设施建设；⑤“……国家共派出 9682 名援藏干部”可归纳出政府支持；⑥“……第二届非物质文化遗产展示”可归纳出保护少数民族文化。

26. **【答案】**(1) 背景：打破美国对中国的外交封锁；一五计划的完成。

(2) 变化：企业类型增多；商品结构完善；参会人数增多；展馆面积增加。

原因：改革开放后，经济体制改革增强了企业活力；国家重视发展科技；中国加入世界贸易组织。

(3) 加快我国对外开放的步伐；促进我国国际经济合作的开展；促进一带一路沿线国家的发展与建设；促进经济全球化和人类命运共同体的实现。

**【解析】**

**【小问 1 详解】**

背景：根据材料一“新中国成立后，美国操纵联合国对中国实行贸易禁运，但国家大规模经济建设急需进口多种物资，为了打破封锁，换取国家建设急需的外汇”可归纳出打破美国对中国的外交封锁；根据“1957 年 4 月 25 日，首届中国出口商品交易会在广州开幕。展会设工业品、纺织品、食品、手工艺品、土特产品 5 个展馆，包括自行研制的解放牌载重汽车、日用轻工业品、农副土特产品等”可归纳出一五计划的完成。

**【小问 2 详解】**

变化：根据材料二“1978 年前，广交会 参展企业只是清一色的专业外贸企业。1978 年后，工贸企业、外商投资企业和民营企业不断加入到参展企业中”可归纳出企业类型增多；根据“商品结构不断改善，工业制成品、机电产品、高科技等产品不断增加”可归纳出商品结构完善；根据“1978 年到会人数 1.7 万多人，到了 1991 年达 4.57 万人”可归纳出参会人数增多；根据“2004 年第 95 届广交会展馆面积增加了 3.9 倍，展位增加了 7.4 倍，成为世界第二位展会”可归纳出展馆面积增加。原因：结合所学知识可归纳出改革开放后，经济体制改革增强了企业活力；国家重视发展科技；中国加入世界贸易组织。

**【小问 3 详解】**

根据材料三“参展 3000 多家企业来自 151 个国家和地区，其中，G20 成员、金砖国家和上海合作组织成员国全部参展，还有来自 58 个‘一带一路’沿线国家和 35 个最不发达国家的企业”结合所学知识可归纳





出加快我国对外开放的步伐；促进我国国际经济合作的开展；促进一带一路沿线国家的发展与建设；促进经济全球化和人类命运共同体的实现。

### 27. 【答案】(1) 日记一

历史事件：农业合作化；历史意义：在农村建立了社会主义公有制。

#### 日记二

历史事件：推行家庭联产承包责任制；历史意义：激发了农民的劳动热情，带来农村生产力的大解放，农业生产和农民收入均有很大提高。

(2) 新特点：脱贫攻坚战取得胜利；农业机械化率、科技贡献率和农村互联网普及率提升；农村基础设施不断完善；人均收入大幅度提升；乡村环境不断改善；精神文明建设得到重视。

(3) 建国以来农村建设所取得的成就都是在中国共产党的领导之下，要坚持中国共产党的领导；与时俱进，不断改革创新。

#### 【解析】

##### 【小问 1 详解】

根据日记一“1954年9月17日路井乡第一初级农业生产合作社成立大会胜利召开。社员们家家户户都打扫得干干净净，人人穿着新衣裳，挂着红布条，作为社员的标志”结合所学知识可知，材料反映的是对农业的社会主义改造，1953-1956年对农业进行社会主义改造，建立农业生产合作社，在农村建立了社会主义公有制。根据日记二“同一天，队里又将全部耕地按人口分给了社员各户，作为责任田。我共分到四亩七分二的责任田”结合所学知识可知，材料反映的是推行家庭联产承包责任制。1978年十一届三中全会上作出了改革开放的历史性决策，改革先从农村开始，推行家庭联产承包责任制，激发了农民的劳动热情，带来农村生产力的大解放，农业生产和农民收入均有很大提高。

##### 【小问 2 详解】

新特点：根据材料二“组织实施了人类历史上规模空前、力度最大、惠及人口最多的脱贫攻坚战，并取得全面胜利”可归纳出脱贫攻坚战取得胜利；根据“2022年全国农作物耕种收综合机械化率超过72%，农业科技贡献率超过61%，农村互联网普及率较10年前提升了33.9个百分点”可归纳出农业机械化率、科技贡献率和农村互联网普及率提升；农村基础设施不断完善；根据“全国农村居民人均可支配收入由2012年的7917元增加到2021年的18931元”可归纳出人均收入大幅度提升；根据“各地区各部门把农村人居环境整治作为提升农民生活品质的重大工程，全国95%的村庄开展了清洁行动，村容村貌明显提升，目前全国共建成村级综合性文化服务中心57.5万个，所有行政村都有了农家书屋、电子阅览室和文化活动室，乡村文明不断焕发新气象”可归纳出乡村环境不断改善；精神文明建设得到重视。

##### 【小问 3 详解】

综合上述分析结合所学知识可知，建国以来农村建设所取得的成就都是在中国共产党的领导之下，要坚持



中国共产党的领导；与时俱进，不断改革创新。

28. 【答案】(1) 问题 1：您觉得通讯工具变化发展的原因是什么？问题 2：哪种通讯工具给您的生活带来的影响最大？

(2) 变化：50 年代：写信、发电报

80 年代：电话、寻呼机

90 年代：手机

21 世纪：彩屏手机、智能手机

(能清晰表述出变化即可)。

原因：改革开放后，电信产业的发展；国家重视电信事业的发展；人们生活水平的提升，需求不断增加。

(3) 参考示例：手机方便了人们的沟通交流，能够随时查阅资料，了解新闻，拍照功能丰富了人们的学习和生活方式。但是手机上面经常出现广告，各种信息比较泛滥，也容易对学习和生活造成一定的干扰。

(其他答案言之有理即可)。

(4) 其他主题：饮食、服饰、住房、交通等。探究方式：调研访谈长辈、博物馆参观、实地考察等。理由言之有理即可。

### 【解析】

#### 【小问 1 详解】

本题是开放性题目，只要围绕着通讯工具变化和给你生活带来的影响都可以。如：问题 1：您觉得通讯工具变化发展的原因是什么？问题 2：哪种通讯工具给您的生活带来的影响最大？

#### 【小问 2 详解】

根据材料“小兰的爷爷（生于 1942 年）”“我像你们这么大的时候，‘通讯基本靠吼’，跟远房亲戚联系就是写信、发电报。”可知 50 年代通讯工具的变化为写信、发电报。根据材料“小天的大伯（生于 1970 年）”“我记得十多岁的时候，主要还是写信，但那时候小区有几户人家安装了电话，所以有急事的时候会给邻居打电话。刚工作那会 BP 机（寻呼机）特别时尚，我攒了几个月的工资买了一个 BP 机”可知 80 年代：电话、寻呼机；90 年代：根据材料“我的第一部手机是黑色翻盖式的，有点像现在的老年机，当时电话号码只有 10 位。”可知当时有手机；根据“2000 年就出现彩屏手机，可以拍照、听音乐，2010 年以后智能手机开始流行，功能越来越多了。”可知 21 世纪有了彩屏手机、智能手机。原因：一系列通讯工具变化的原因可从改革开放后，电信产业的发展；国家重视电信事业的发展；人们生活水平的提升，需求不断增加来回答。

#### 【小问 3 详解】

本题是开放性，可从目前手机功能方面何弊端来回答即可。如手机方便了人们的沟通交流，能够随时查阅资料，了解新闻，拍照功能丰富了人们的学习和生活方式。但是手机上面经常出现广告，各种信息比较泛



滥，也容易对学习和生活造成一定的干扰。

**【小问 4 详解】**

本题是开放性题目，言之有理即可。如可以选择饮食为专题。探究方式可以参照题目调研访谈长辈、博物馆参观、实地考察等。理由：理由可从建国后计划经济吃不饱，到十一届三中全会以后的吃饱、今天的吃好等方面来认识社会主义制度的优越性等。

