

2019 北京昌平初三（上）期末

地 理



第一部分 选择题（共 40 分）

本部分共 40 小题，每小题 1 分，共 40 分。在每小题列出的四个选项中，选出最符合 题目要求的一项。
子涵利用自制地球仪演示地球公转，图 1 为地球公转演示图。读图，完成 1~3 题。

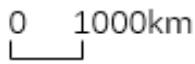


图 1

1. 制作地球仪时，子涵先与同学进行了讨论，其中错误的观点是

- A. 穿过球体的铁丝代表地轴，与桌面保持一定的倾角
- B. 经线和纬线的形状都为圆形
- C. 连接南北极点的经线与赤道垂直
- D. 纬线圈的长度从赤道向两极对称递减

2. 子涵测得地球仪上赤道周长为 40cm，则该地球仪的比例尺为

- A. 1: 1000
- B. 1/10000
- C. 图上 1 厘米代表实地距离 4 万厘米
- D. 

3. 子涵按春分-夏至-秋分-冬至的顺序演示地球公转，正确的是

- A. 从甲位置开始沿桌面上的弧线逆时针方向移动
- B. 从乙位置开始沿桌面上的弧线顺时针方向移动
- C. 从丙位置开始沿桌面上的弧线顺时针方向移动
- D. 从丁位置开始沿桌面上的弧线逆时针方向移动

图 2 为联合国徽章，图案是在橄榄枝包围下的世界，象征着世界和平。读图，完成 4~7 题。

4. 联合国徽章图案

- A. 是从南极上空俯视的世界
- B. 显示了 8 条经线
- C. 所示区域为北半球
- D. 纬度范围为 60°N~60°S

5. 联合国徽章所示

- A. 地球上陆地面积与海洋面积相当
- B. 北半球陆地面积大于海洋面积
- C. 热带地区海洋面积大于陆地面积
- D. 四大洋之间没有相互连通

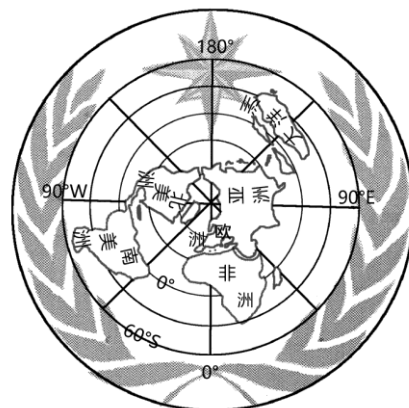
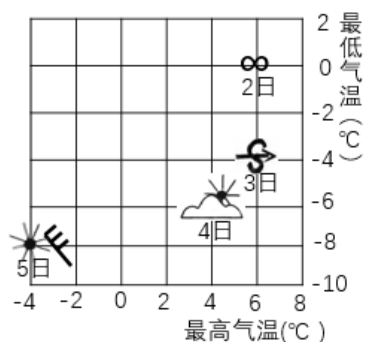


图 2



6. 联合国徽章所示
- A. 北冰洋被亚欧非三个大洲包围
 - B. 北美洲完全位于中纬度地区
 - C. 欧洲主要位于西半球
 - D. 完全位于南半球的是澳大利亚大陆
7. 联合国工作语言中使用人数最多的汉语，主要分布在
- A. 亚洲 B. 欧洲 C. 大洋洲 D. 南极洲

北京某校地理小组开展了气象观察和记录活动。图3为某月2日~5日的观察记录、图4为受沙尘影响的省份。读图，完成8~13题。



8. 该月可能是
- A. 6月 B. 7月 C. 9月 D. 12月
9. 气温日较差是指一天中气温最高值与最低值之差。2日~5日气温日较差最小的是
- A. 2日 B. 3日 C. 4日 D. 5日
10. 5日这一天气温明显下降可能是
- A. 受来自较低纬度的东南风影响
 - B. 出现了降雪天气
 - C. 受来自较高纬度的西北风影响
 - D. 云层太厚，阻挡了太阳辐射
11. 2日这一天
- A. 适宜洗车 B. 不宜户外锻炼 C. 适宜开窗通风 D. 适宜野外烧烤
12. 图4中的天气现象出现在
- A. 2日 B. 3日 C. 4日 D. 5日
13. 图4中受沙尘影响的省区，其简称正确的是
- A. 晋、冀、京 B. 豫、皖、冀 C. 甘、秦、晋 D. 藏、津、鲁

地图是人们生活中常用的工具，图5为三幅地图。读图，完成14~16题。



图5



14. 三幅地图中

- A. ①图的比例尺最大
- B. ②图的图幅最大
- C. ③图的内容最详细
- D. ③图所示范围最大

15. ③图中

- A. 从西门去图书馆，先向东走再向北走
- B. 从南门去食堂，先向南走再向西走
- C. 从西门去南门，先向东走再向南走
- D. 从操场去教学楼，直行向东走

16. 与纸质地图相比，电子地图的优点是

- A. 信息量大，内容更新慢
- B. 能随意改变图幅大小
- C. 保存时间短，易损坏和变形
- D. 可随意改变比例尺大小

菲律宾薄荷岛中部为丘陵，丘陵上的草在雨季时为绿色，旱季时则被炎热的太阳晒干变成咖啡色，酷似巧克力，因此得名“巧克力山”。图6为菲律宾气候类型分布图、图7为薄荷岛气温曲线和降水量柱状图。读图，完成17~19题。

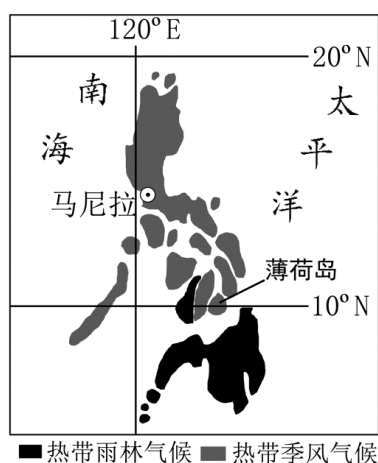


图6

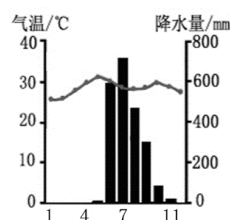


图7

17. 薄荷岛

- A. 为热带草原气候
- B. 为热带季风气候
- C. 气温年较差大
- D. 降水季节变化不明显

18. 能够欣赏到咖啡色“巧克力山”的最佳时间是

- A. 2-4月份
- B. 6-7月份
- C. 7-8月份
- D. 9-10月份

19. 菲律宾

- A. 盛产温带水果
- B. 是群岛国家，海岛旅游资源丰富
- C. 东临南海
- D. 居民主要为黑色人种

江湖相通，互为补给，互为调节可以形象的说明长江与洞庭湖的关系。洞庭湖位于长江中游，与长江之间有众多水道相通。图8为洞庭湖出湖入江水量与江水入湖水量变化图。读图，完成20~22题。

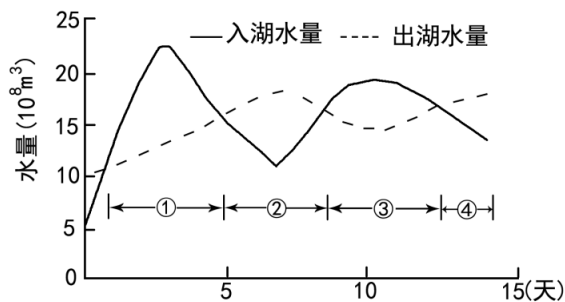


图 8

20. 图中①时段

- A. 长江水未流入湖泊
- B. 湖水未流入长江
- C. 江湖水互流, 但总体表现为江水入湖
- D. 江湖水互流, 但总体表现为湖水入江

21. 湖水补给长江水的是

- A. ①②
- B. ①③
- C. ②③
- D. ②④

22. 围湖造田将导致

- A. 湖泊面积减少, 江水入湖量增加
- B. 湖泊面积减少, 长江下游水旱灾害加剧
- C. 湖泊面积增加, 湖水入江量增加
- D. 湖泊面积增加, 长江下游水旱灾害减轻

图 9 为 1960 以后我国劳动人口 (15-60 岁) 增长率和未来人口变化趋势。读图, 完成 23、24 题。

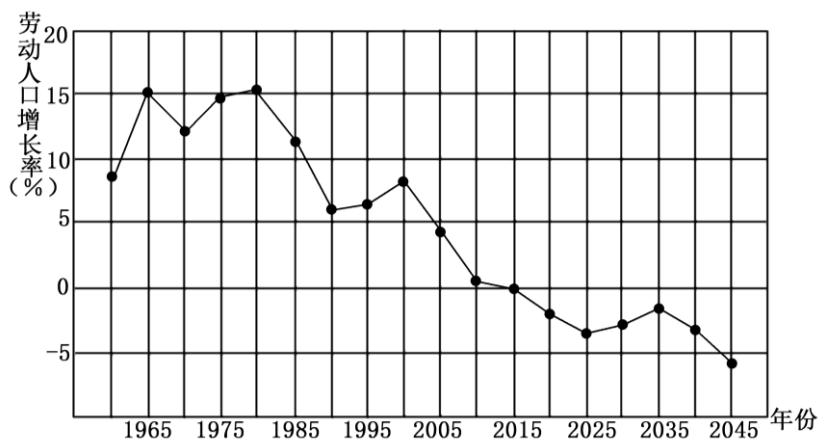


图 9

23. 我国劳动人口数量最多的年份大约是

- A. 1980 年
- B. 2005 年
- C. 2015 年
- D. 2045 年

24. 近年来我国全面放开二孩政策是为了缓解

- A. 劳动力不足问题
- B. 教育、医疗设施紧张问题
- C. 男女性别比例失衡问题
- D. 家庭经济负担过重问题

2018 年 1 月, 我国在南极的罗斯海海域的恩克斯堡岛 (164° E, 75° S) 上正式开建第五个科考站——罗斯海新站。罗斯海生物种类多达 16 000 余种。图 10 为南极地区图。读图,

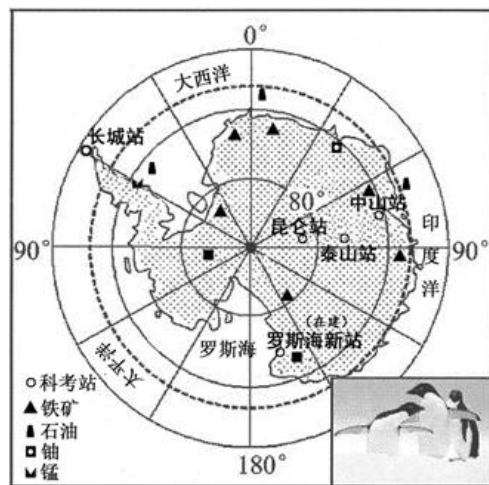
完成 25~27 题。

25. 南极地区

- A. 以陆地为中心, 淡水资源丰富
- B. 位于高纬度地区, 气候温暖湿润
- C. 被太平洋、印度洋、北冰洋包围
- D. 动植物种类多样, 特有动物是北极熊

26. 与昆仑站相比, 罗斯海新站

- A. 气候更寒冷



南极地区

图 10



- B. 靠近罗斯海海域，面向大西洋
- C. 海洋生物多，利于海洋研究
- D. 极昼、极夜时间更长

27. 南极地区

- A. 可大规模地开发矿产资源
- B. 应大力发展观光旅游业
- C. 应就地处理垃圾
- D. 应加强生物资源的保护

8月，小猪佩奇一家从英国前往意大利度假5天。图11为欧洲西部图、图12为意大利地形图、图13为罗马气温曲线和降水量柱状图。读图，完成28~31题。

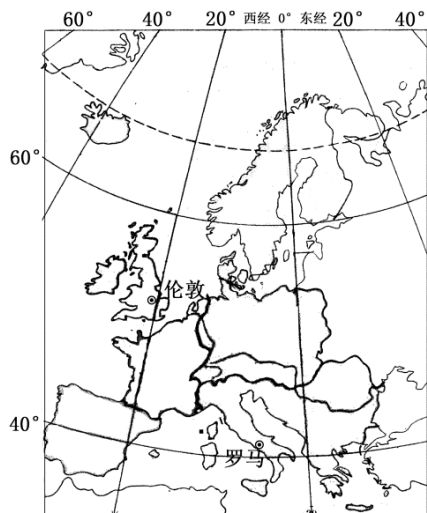


图 11

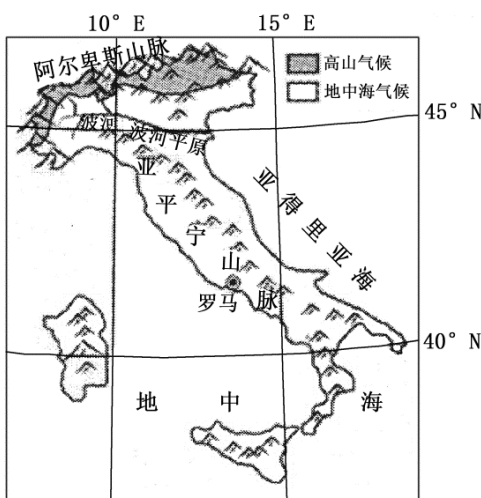


图 12

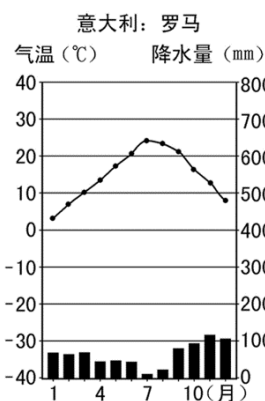


图 13

28. 为了减少路途时间，更好地体验意大利风情，佩奇一家选择

- A. 航空运输
- B. 铁路运输
- C. 海上运输
- D. 公路运输

29. 佩奇爸爸在罗马品尝当地的葡萄酒，该葡萄酒品质极佳主要因为当地是

- A. 地中海气候，雨热同期，利于葡萄生长
- B. 温带海洋性气候，全年湿润，利于葡萄生长
- C. 地中海气候，夏季光照强，利于葡萄糖分积累
- D. 热带气候，终年高温，利于葡萄生长

30. 佩奇一家从罗马前往阿尔卑斯山游玩，途中可能欣赏到

- A. 注入亚得里亚海的波河
- B. 东北-西南走向的亚平宁山脉
- C. 地形陡峻的波河平原
- D. 南部巍峨耸立的阿尔卑斯山

31. 佩奇妈妈准备的物品中，在阿尔卑斯山上要用到的是

- A. 防暑药品
- B. 羽绒服
- C. 沙滩鞋
- D. 泳衣

干热岩是一种可循环利用，不排放废水、废物、废气的地热能源，其利用潜力巨大的地方一般分布在板块边缘，但目前开发条件和技术还不成熟。青藏高原南部占我国大陆地区干热岩储量的1/5，开发前景广阔。图14为世界局部板块图。读图，完成32、33题。

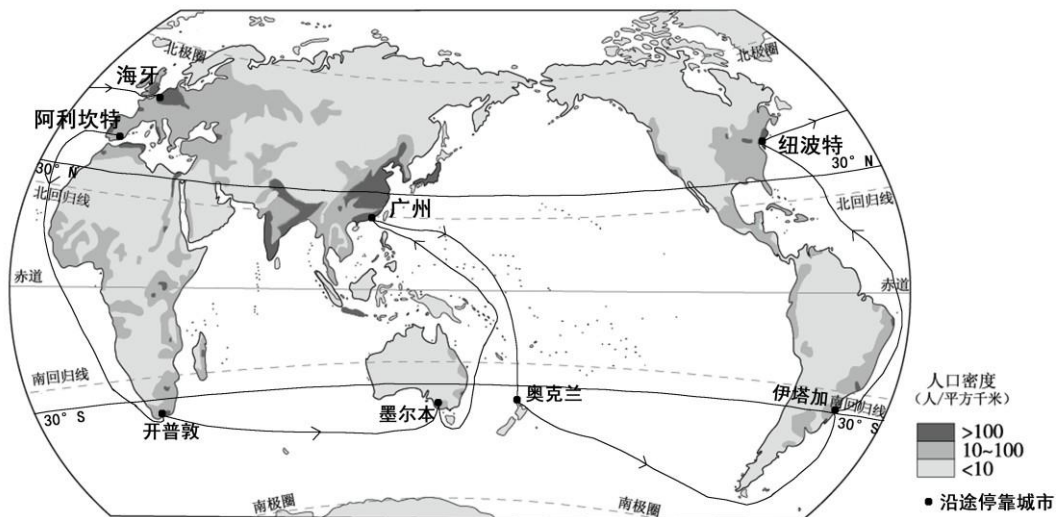
32. 干热岩

- A. 是清洁能源
- B. 属于气候资源
- C. 是不可再生资源
- D. 已大规模开发利用

33. 我国干热岩储量最大的地区位于

- A. ①
- B. ②
- C. ③
- D. ④

沃尔沃环球帆船赛2017-2018赛季在西班牙阿利坎特港拉开序幕，于荷兰海牙收官。图15为环球帆船赛路线图。读图，完成34~36题。



34. 帆船

- A. 在低纬度地区停靠 3 次
- B. 在热带地区停靠 3 次
- C. 跨越北回归线 2 次
- D. 跨越南极圈 1 次

35. 帆船停靠城市所在区域人口密度最大的是

- A. 伊塔加
- B. 奥克兰
- C. 广州
- D. 墨尔本

36. 关于世界人口分布的描述正确的是

- A. 分布不均衡，各大洲人口主要集中分布在内陆地区
- B. 人口密度大于 100 人/平方千米的地区主要分布在北半球
- C. 人口密度大于 100 人/平方千米的地区只位于低纬度地区
- D. 人口密度小于 10 人/平方千米的地区只分布在高原、高山地区

图 16 为我国农业分布图、图 17 为宁夏民居简图。读图，完成 37~40 题。



图 16



图 17

37. 关于祁连山脉描述正确的是

- A. 呈东北-西南走向
- B. 是我国地势二、三级阶梯的分界线
- C. 是青海省与新疆维吾尔自治区的分界线
- D. 200 毫米等降水量线大致在此经过

38. 关于农业分布的描述正确的是

- A. 400mm 毫米等降水量线大致为种植业与畜牧业的分界线
- B. 小麦产区比水稻产区降水量多
- C. 水稻只分布在年降水量 800 毫米以上的地区
- D. 种植小麦的地区一定不能种植水稻

39. 图 17 中民居特点与当地自然环境相对应的是

- A. 院落规模大——人均土地资源不足
- B. 北墙比房屋主体高——防风沙
- C. 主屋门窗向南开——全年高温
- D. 屋顶为平顶——降水多

40. “绿荫处处麦粼粼（粼：sān，毛发、枝条细长的样子），竟见芦花水一湾。不望祁连山顶雪，错将张掖认江南。”河西走廊被誉为“塞外江南”，是因为河西走廊

- A. 位于长江以南，河湖密布
- B. 位于湿润地区，种植业发达
- C. 临近黄河，引黄河水灌溉
- D. 位于祁连山北麓，引祁连山冰雪融水灌溉

第二部分 综合题（共 50 分）

41. 中法关系具有独特历史和丰富内涵。为了更好地了解法国，中学生小奥设计了学习任务单和框图。图 18 为法国地形分布示意图，图 19 为法国主要气候类型和农产品分布图。请结合任务单，依次填写空项，完成框图。（12 分）

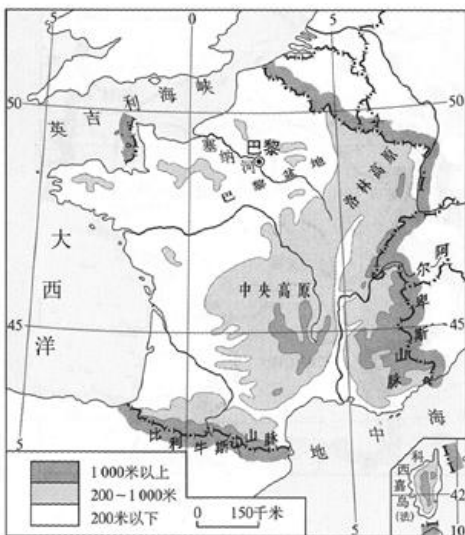


图 18

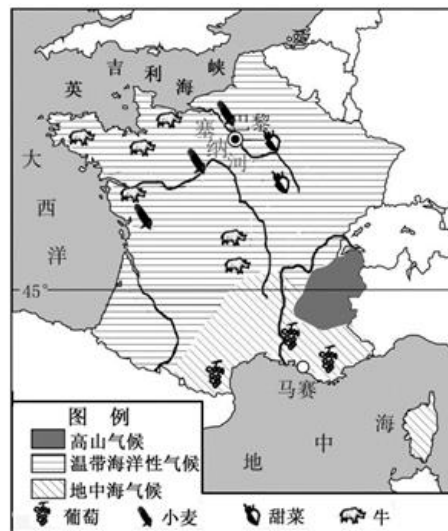


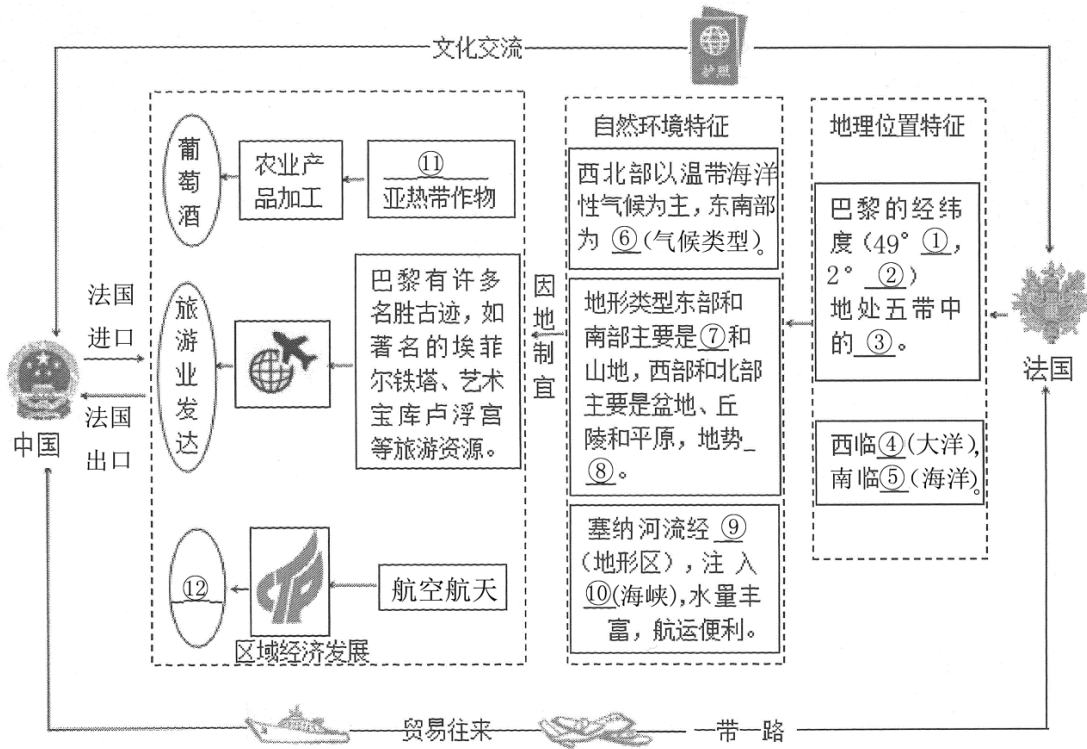
图 19

学习任务单

- (1) 在①②③④⑤处填上恰当的内容确定法国的位置。
 - (2) 读图，判读法国的气候，在⑥处填写气候类型名称。
 - (3) 读图，判断法国的地形，在⑦处填写地形类型名称，并归纳法国地势特点⑧。
 - (4) 在⑨⑩处填写相应地形区和海峡，了解河流的流向。
 - (5) 在标签中选择相应的物产，将其名称填在⑪处，感悟法国因地制宜发展经济的智慧。
 - (6) 依据法国的主要物产，在⑫处填写（农产品/高科技产品），由此了解其经济发展状况。
- 完成后回顾整个框图，重温初中区域地理学习方法。

标签

- 葡萄
- 橄榄
- 甜菜
- 小麦
- 矿产品
- 高科技产品



42. 2018年11月12日~18日APEC会议在巴布亚新几内亚举行，国家主席习近平出席会议并对该国进行国事访问。图20为新几内亚岛地形图。读图，回答下列问题。(13分)

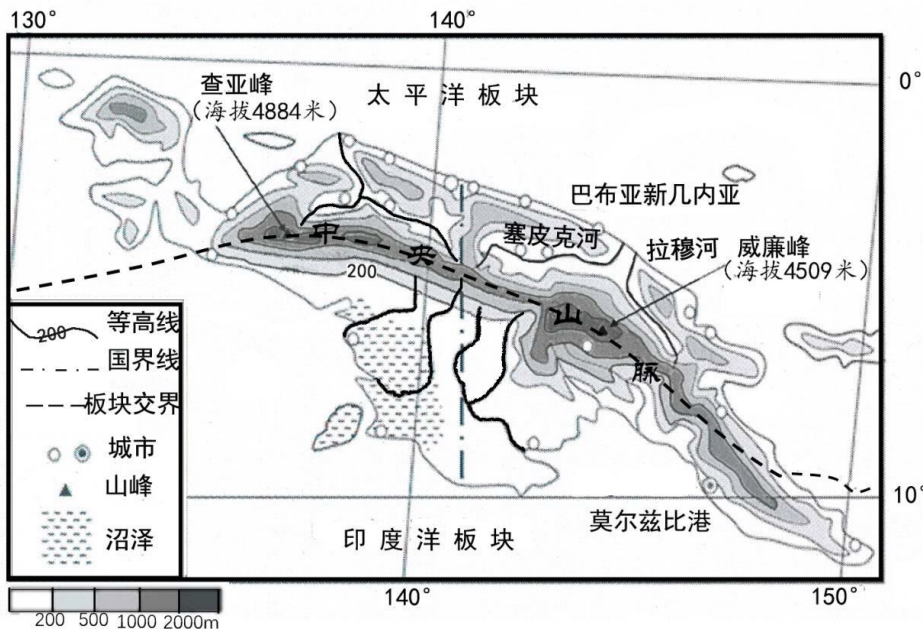


图20

- 新几内亚岛是世界第二大岛，该岛的地形主要为山地、高原和_____；中央山脉的走向为_____，查亚峰与威廉峰之间的相对高度是_____；岛上河流众多，较大的河流都发源于中部山区，向_____（方向）注入海洋。(4分)
- 新几内亚岛及其附近海域多火山、地震现象，请简要解释其原因。(1分)
- 巴布亚新几内亚是_____（大洋）西部的一个群岛国家，包括新几内亚岛_____（东/南/西/北）半部及附近约600余个大小岛屿。首都是_____；该国城市分布特点是_____，影响城市分布的主要因素是_____。(5分)

材料一：“相知无远近，万里尚为邻。”巴新（巴布亚新几内亚简称）自然资源丰富。中国成为巴新第一大外资来源地和第一大工程承包方。中国援建了独立大道；中国医疗队为巴新民众提供人道主义医疗服务；使用中国政府优惠贷款建设的水电站、医院、校舍成为新地标；福建省援助的巴新东高地省菌草、旱稻种植技术示范项目，发挥了很好的经济社会效益。中国赴岛国游客年均超过10万人次；巴新的液化天然气已经成功进入中国市场；巴新青年学生、政府官员、技术人员到中国学习深造、考察研修；双方文艺团组交流互访频繁。

——节选自《习近平在巴布亚新几内亚媒体发表署名文章》

(4) 巴布亚新几内亚属于__（发展中国家/发达国家），请举例说明中国和巴新之间可以从哪些方面进行合作，及其带来的影响？（3分）

43. 图21为中国局部地图，图22为青海湖流域图，图23为青海湖流域各土地利用类型占比。读图和资料，回答下列问题。（15分）

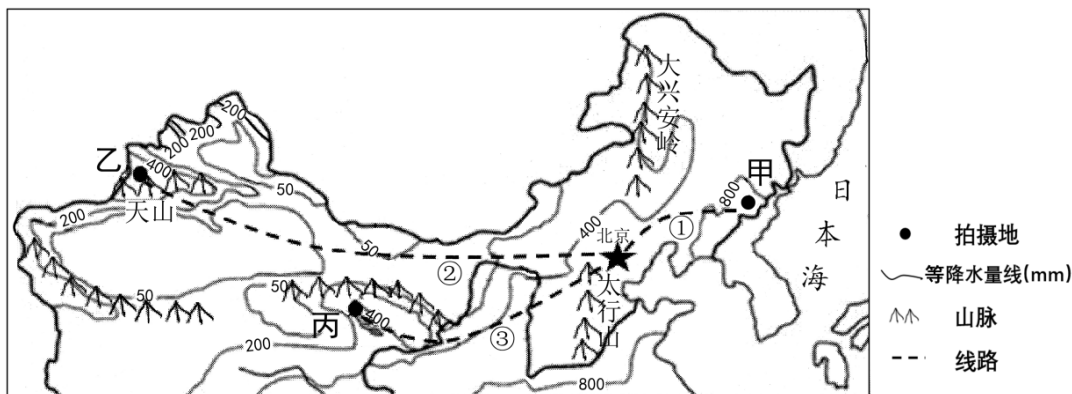


图 21

材料一：“最美雪花”是树枝状雪花。根据研究，树枝状雪花多在 $-10^{\circ}\text{C}\sim-20^{\circ}\text{C}$ 的环境中形成，同时需要充裕的水汽补给。图中甲地位于吉林省东南部、乙地为伊犁河谷地、丙地为青海湖，三地冬季平均气温都适合雪花发育。



材料二：新疆地区由于特殊的地形且靠近冬季风源地，每年11月~次年5月风多、风急，落下的雪花都是残缺的——它们在空中就被风撕扯碎了。

(1) 1月份，为寻找最美雪花，三位北京的摄影爱好者分别沿①、②、③三条线路奔赴甲、乙、丙三地进行拍摄，三条线路中，跨越了我国地势第一、二、三级阶梯的是__（填序号）。甲、乙、丙三个地点每逢冬季降雪较多，这是__（天气/气候）特征。不同气象条件影响下，雪花形态各异。参照示例从甲、乙中任选一地，从地理位置，气象条件两方面说明影响雪花形态的原因。（4分）

示例：丙地位于青藏高原，没有充裕的水汽补给，影响了雪花形态。

材料三：青海湖是中国最大的咸水湖，也是国际重要湿地，其周边遍布沼泽、草地和不冻泉，是水鸟的天堂和候鸟迁徙的重要越冬地。由于人类活动的加剧，流域出现湖区水位下降且水质恶化，周边沙化面积扩大，湿地面积逐渐减少等生态环境问题。近十几年来，当地采取了退耕还草等措施，加之全球气候变暖，高山冰雪融水增加，生态环境不断改善，到青海湖栖息的水鸟数量不断增多。

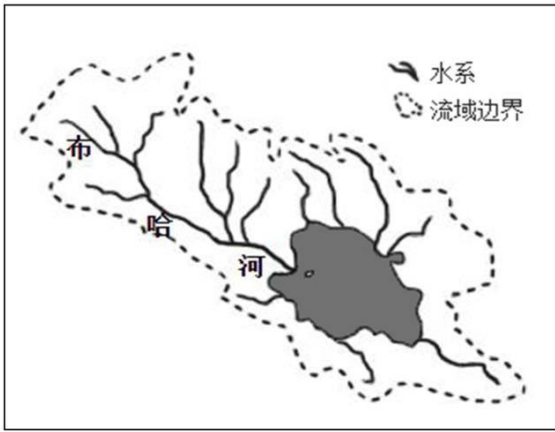


图 22

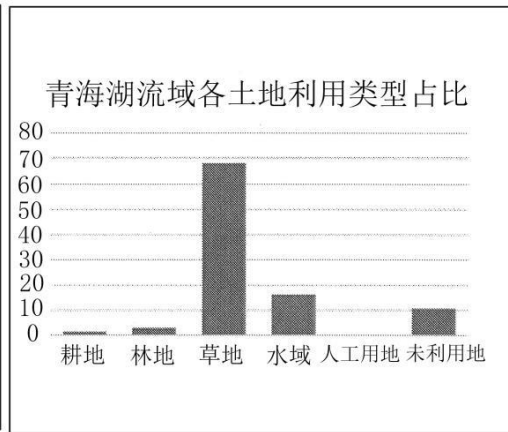
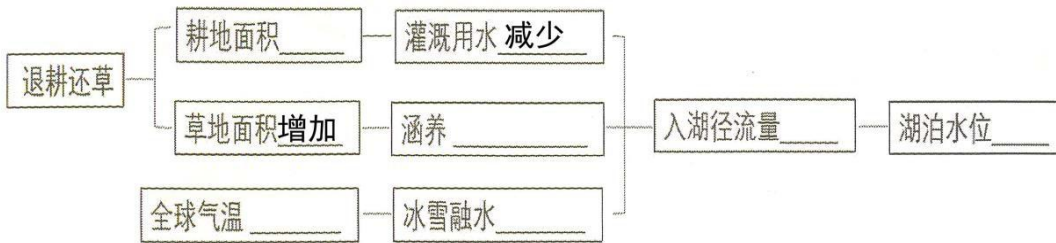


图 23

(2) 青海湖流域内最大河流是布哈河，该河_____（汇入青海湖/自青海湖流出），由此可知该河流属于_____（内流河/外流河）。（2分）

(3) 青海湖流域内的主要土地利用类型是_____，农业生产以_____（农业部门）为主。（2分）

(4) 结合材料，在下面框图的横线上填写反映青海湖水位变化过程的词语。（6分）



(5) 近年来，前往三地的旅游者越来越多，当地经济收入增加的同时，生态环境的压力也越来越大，请从环境保护的角度提出一些倡议。（1分）

44. 图 24 为明太鱼进出口路线图、表 1 为和龙市各月日均最高气温和日均最低气温、表 2 为普罗维杰尼亚各月日均最高气温和日均最低气温。阅读图文资料，回答下列问题。（10分）

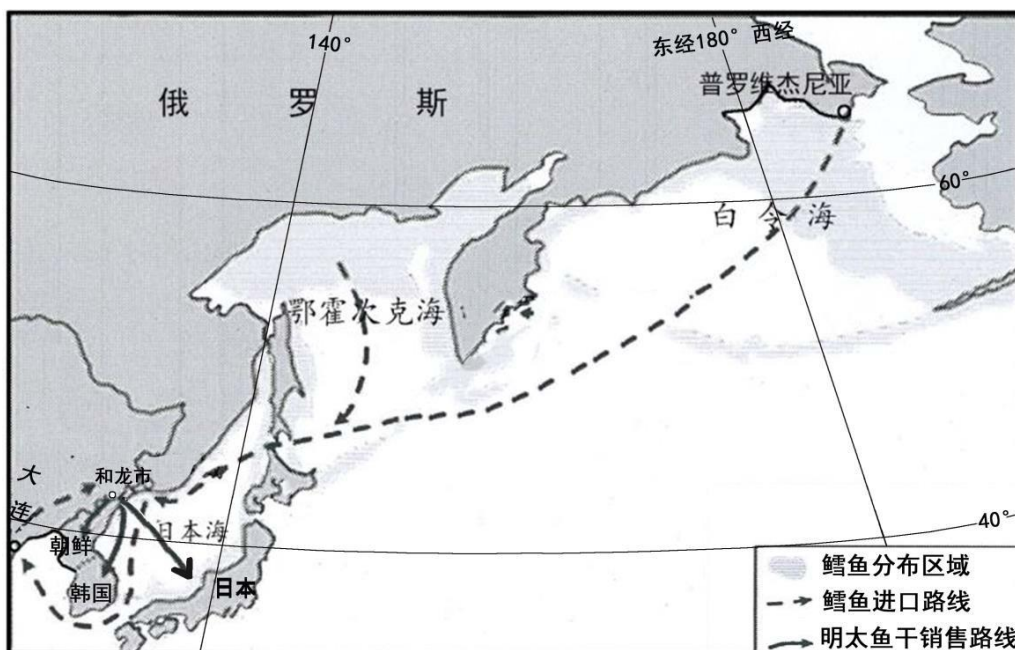


图 24

材料：明太鱼学名黄线狭鳕，为冷水性海鱼。我国延边朝鲜族自治州的和龙市是规模最大的明太鱼加工地。晾晒明太鱼干需要天然冷冻，鱼被冻结又融化次数越多越好，最好超过30次，只有经过反复的“冻-融”，鱼干的肉质才会有弹力，价钱才会高。

(1) 和龙市进口的明太鱼以前主要来自日本海，后来由于_____，日本海的明太鱼资源急剧减少，现在明太鱼主要生活在_____（海洋）和白令海。明太鱼被捕捞上来后，经过简单分拣、冷冻和包装，通过水路运输方式运送到我国_____港，选择这种运输方式的理由是_____，再经过陆上运输至和龙市进行加工，晾晒好的鱼干再销往朝鲜、韩国和日本。（4分）

表1 和龙市各月日均最高气温和日均最低气温

月 份	1	2	3	4	5	6	7	8	9	10	11	12
日均最高气温 (°C)	-9	-5	8	16	22	24	28	26	21	14	5	-4
日均最低气温 (°C)	-18	-16	-7	3	11	15	19	18	10	2	-5	-13

表2 普罗维杰尼亚各月日均最高气温和日均最低气温

月 份	1	2	3	4	5	6	7	8	9	10	11	12
日均最高气温 (°C)	-15	-19	-17	-10	0	10	14	13	7	-4	-12	-16
日均最低气温 (°C)	-23	-26	-24	-18	-6	2	8	7	1	-9	-19	-24

(2) 和龙市位于_____（高/中/低）纬度地区，南与_____（国家）相邻。和龙市晾晒明太鱼时间多选择在_____月至_____月。（4分）

(3) 明太鱼干是朝鲜族喜爱的传统美食，而俄罗斯人却更喜欢将明太鱼做成鱼糜食用，请在和龙市或普罗维杰尼亚两地中，任选一地简要评价其加工晾晒明太鱼干的条件。（2分）



地理试题答案



第一部分 选择题（每题1分，共40分）

序号	1	2	3	4	5	6	7	8	9	10
答案	B	D	A	B	C	D	A	D	D	C
序号	11	12	13	14	15	16	17	18	19	20
答案	B	B	A	C	C	D	B	A	B	C
序号	21	22	23	24	25	26	27	28	29	30
答案	D	B	C	A	A	C	D	A	C	A
序号	31	32	33	34	35	36	37	38	39	40
答案	B	A	D	C	C	B	D	A	B	D

第二部分 综合题（共50分）

41. (12分)

- ① N ② E ③ 北温带 ④ 大西洋 ⑤ 地中海 ⑥ 地中海气候
⑦ 高原 ⑧ 东南高西北低 ⑨ 巴黎盆地 ⑩ 英吉利海峡 ⑪ 葡萄 ⑫ 高科技产品

42. (13分)

(1) (共4分) 平原 (1分) 西北-东南/东南-西北/西北东南/东南西北 (1分)

375米 (没有米不给分) (1分) 向南向北 (1分)

(2) (1分) 新几内亚岛位于板块交界地带，地壳活动比较活跃，多火山、地震。

/新几内亚岛位于环太平洋火山地震带，多火山、地震。

(3) (共4分) 南太平洋/太平洋 (必须有洋字) (1分) 东 (1分) 莫尔兹比港 (不能有错别字) (1分)
沿海呈半环状/沿太平洋/沿海沿河/沿平原 (沿太平洋板块/印度洋板块错误) (1分)
地形 (1分)

(4) (共3分)

发展中国家 (1分) 举例 (1分)，影响 (1分) (运用资料，注意前后对应的逻辑联系)

43. (15分)

(1) (共4分) ③ (1分) 气候 (1分) 位置 (1分) 解释 (1分)

如下：位置：甲位于吉林省东南部，距海近/山地迎风坡 (1分)

解释：来自海洋的水汽充足 (1分)

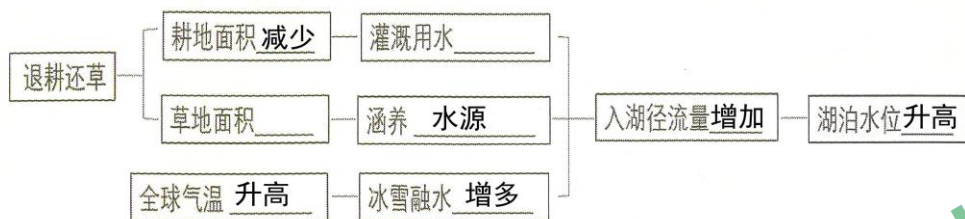
位置：乙位于西北内陆/新疆西部/亚欧大陆内部/天山北麓/风口 (1分)

解释：水汽不充足/风大/风多/风急 (1分)

(2) (共 2 分) 汇入青海湖 (1 分) 内流河 (1 分)

(3) (共 2 分) 草地 (1 分) 畜牧业 (1 分)

(4) (每空 1 分, 共 6 分)



(5) (1 分) 合情合理即可

44. (10 分)

(1) (共 4 分) 过度捕捞/捕捞过度/大量捕捞 (1 分) 鄂霍次克海 (错别字不给分) (1 分)

大连 (错别字不给分) (1 分) 运量大/运输费用低 (1 分)

(2) (共 4 分) 中 (1 分) 朝鲜 (1 分) 11 (1 分) 次年 3 (1 分)

(3) (共 2 分) 选择地点 (1 分) 评价 (1 分)

可从有利和不利任一方面进行评价, 可利用材料, 也可用知识储备, 合情合理即可

例如: 和龙市 有利条件: 11 月-次年 3 月, 日均最高气温高于 0°C 或接近 0°C , 夜晚气温低于 0°C , 昼夜温差较大, 利于反复“冻-融”, 鱼干品质好/位于中纬度, 冬季昼夜温差较大, 利于反复“冻-融”, 鱼干品质好/劳动力更加丰富 / 离消费市场近/当地人们喜爱的食品等

不利条件: 原料运输不便

普罗维杰尼 有利条件: 接近原料产地/对外交通便利

不利条件: 纬度高, 气温低, 不利于明太鱼的晾晒加工/离消费市场较远/食用习惯不同