

北京市中考改革 2017 年调研抽样测试

历史试卷

姓名 _____ 班级 _____ 学校 _____

考生须知	1. 本试卷共 12 页，共两部分，34 道小题，满分 90 分。考试时间 90 分钟。 2. 在试卷和答题纸上准确填写姓名、班级和学校。 3. 试题答案一律书写在答题纸上，在试卷上作答无效。 4. 在答题纸上，试题用黑色字迹签字笔作答。 5. 考试结束，将本试卷和答题纸一并交回。
------	---

第一部分 (选择题 共 45 分)

本部分共 30 小题，每小题 1.5 分，共 45 分。在每小题列出的四个选项中，选出最符合题目要求的一项。

1. 农耕时期的原始居民已经会建造房屋。依据以下图片判断，居住干栏式房屋的是



干栏式房屋



- A. 北京人
 - B. 河姆渡原始居民
 - C. 半坡原始居民
 - D. 人汶口原始居民
2. 战国时期，为秦国强大、统一六国奠定了基础的是
- A. 管仲改革
 - B. 吴起变法
 - C. 商鞅变法
 - D. 孝文帝改革
3. 东晋的王羲之将书法艺术提高到一个新阶段，他的行书摆脱了以往隶、篆的痕迹。以下书法作品中，属于王羲之的是



A



B

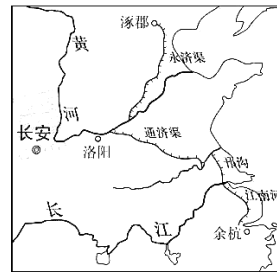


C



D

4. 下列唐朝史实反映的共同主题是
- ① 文成公主入藏，带去中原技术
 - ② 玄奘西游天竺，求取佛教经典
 - ③ 鉴真东渡日本，传播唐朝文化
- A. 中外交往
 - B. 民族团结
 - C. 国家统一
 - D. 文化交流
5. 识读右图，指出隋朝大运河的南、北起止点分别是
- A. 余杭、洛阳
 - B. 洛阳、长安
 - C. 洛阳、涿郡
 - D. 余杭、涿郡



6. 四大发明是中华民族对世界文明发展的重大贡献。

其中为世界航海事业进步提供了重要条件的是

- A. 指南针
- B. 印刷术
- C. 造纸术
- D. 火药

7. 以下是我国古代中央政府对某一边疆地区的管辖措施。这一地区是

①山官政院管理 ②确立册封达赖、班禅制度 ③制定“金瓶掣签”制度

- A. 新疆
- B. 西藏
- C. 台湾
- D. 南海诸岛

8. 识读下表，对中国古代人口变化解读正确的是

时间	西汉初年	西汉末年	东汉初年	东汉后期	南北朝后期	唐朝前期	五代十国	两宋时期	明朝中期	清朝初年	清乾隆年间
人口(万)	1500	6000	3000	6000	3000	8000	3000	10000	16000	9000	20000

- A. 人口增减受社会治乱影响
 - B. 人口数量持续增长
 - C. 北方人口一直多于南方
 - D. 人口数量长期保持稳定
9. 1860年，英国《泰晤士报》随军记者从北京发回通讯：“在场的每个军人都掠夺很多……谁也不知该拿什么东西。为了拿金子，而把银子丢了，为了拿镶有珠宝的饰品和宝石，又把金子丢了。无价的瓷器和珐琅器，因为太大不能运走，竟被打碎。”对这段通讯认识正确的是
- A. 记录了英法联军对圆明园的劫掠
 - B. 此通讯写于第一次鸦片战争期间
 - C. 指出了英法发动侵略战争的原因
 - D. 分析了八国联军侵华造成的影响
10. 第二次鸦片战争后中国出现了洋务热潮。下列言论中，属于洋务派的是
- A. 若鸦片一日未绝，本大臣一日不回，誓与此事相始终，断无终止之理
 - B. 治国之道，在于自强，而审时度势，则自强以练兵为要，练兵又以制器为先
 - C. 中国只有实行维新变法，才能自强保种
 - D. 我们必须倾覆满洲政府，建设民国
11. 2015年，“丹东一号”清代沉船水下考古调查项目入选年度中国十大考古新发现。水下考古发现大量遗物，证明这艘沉船是在黄海海战中沉没的北洋水师致远舰。与此舰沉没直接相关的战争是
- A. 鸦片战争
 - B. 第二次鸦片战争
 - C. 甲午中日战争
 - D. 八国联军侵华战争
12. 在近代化的艰难起步中，主张“变者，天下之公理也”的维新派代表人物是
- A. 林则徐
 - B. 李鸿章
 - C. 梁启超
 - D. 胡适
13. 有同学围绕陈独秀、蔡元培、鲁迅和李大钊等历史人物制作了一张手抄报。这张手抄报的主题应是
- A. 洋务运动
 - B. 戊戌变法
 - C. 辛亥革命
 - D. 新文化运动
14. 一位历史学家说，1895年中国有三个人各自做出自己一生中最重要的选择，终极目标都是为了救国。康有为选择了变法，孙中山选择了革命，还有一个人是张謇。张謇选择的道路是
- A. 师夷长技
 - B. 实业救国
 - C. 君主立宪
 - D. 民主科学

15. 右图是某校同学排练的历史剧戏日。据此判断，该剧所反映的历史事件是

- A. 太平天国运动
- B. 义和团运动
- C. 五四运动
- D. 国民革命

第一幕	巴黎和会
第二幕	街头演讲
第三幕	学生罢课
第四幕	工人罢工
第五幕	拒签和约

16. 有同学学习了中国共产党的建党历史，要写一篇感想。可以选择的题日是

- A. 南湖游船开天地
- B. 八一枪声建军队
- C. 井冈山会师创新路
- D. 遵义会议扭乾坤

17. 右图这首《国民革命歌》唱响于

- A. 辛亥革命时期
- B. 北伐战争时期
- C. 抗日战争时期
- D. 解放战争时期



18. 毛泽东的诗词蕴涵着丰富的历史信息。其中反映红军长征的是

- A. 秋收时节暮云愁，霹雳一声暴动
- B. 敌人围困万千重，我自岿然不动
- C. 更喜岷山千里雪，三军过后尽开颜
- D. 钟山风雨起苍黄，百万雄师过大江


19. 1948年9月至1949年1月的三大战役，奠定了人民解放战争胜利的基础，被称为战略大决战。三大战役是

- A. 转战陕北、辽沈战役、平津战役
- B. 挺进中原、平津战役、淮海战役
- C. 孟良崮战役、淮海战役、渡江战役
- D. 辽沈战役、淮海战役、平津战役

20. 右图取材于华君武的漫画《雪人融化》。

画中雪人代表的是

- A. 国民党政权
- B. 伪满洲国傀儡政权
- C. 南京汪伪政权
- D. 美帝国主义



21. 宣告“中国人民从此站起来了”的历史事件是

- A. 北平解放
- B. 中国共产党七届二中全会召开
- C. 人民解放军占领南京
- D. 开国大典

22. 1952年国庆，毛泽东说：“现在我们能造什么？能造桌子椅子，能造茶碗茶壶，能种粮食，还能磨成面粉，还能造纸，但是，一辆汽车、一架飞机、一辆坦克、一辆拖拉机都不能造。”为转变这一局面，我国“一五”计划的重点是

- A. 集中主要力量发展重工业
- B. 大力发展农业和轻工业
- C. 加速实现手工业的合作化
- D. 逐步改造资本主义工商业

23. 1953年全国人口普查统计，少数民族人口约占全国人口的6%，分布的地区约占全国总面积的60%。据此，我国在少数民族聚居地区实行的制度是

- A. 政治协商制度
- B. 人民代表大会制度

第二部分 (非选择题 共 45 分)

31. (14 分) 城市: 繁荣、开放与可持续发展

【唐都长安】

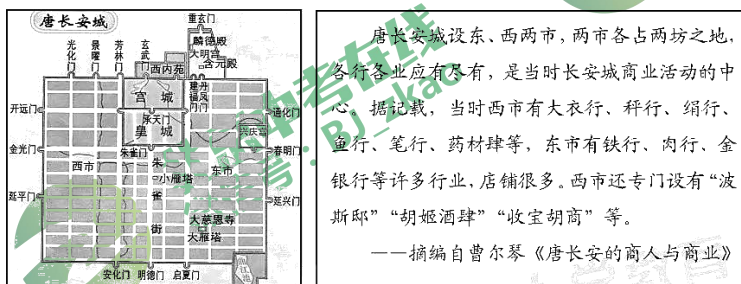
唐都长安气势恢弘, 是中国古代文化的名片。

材料一

- ①韩愈: “长安百万家, 出门无所之。”
- ②白居易: “百千家似围棋局, 十二街如种菜畦。”
- ③白居易: “胡麻饼样学京都, 面脆油香新出炉。”

(1) 以上诗句描述了唐都长安的风貌, 其中反映布局规整的是_____ ; 反映人口众多的是_____ ; 反映民族文化交融的是_____。(将以上诗句的序号分别填写在横线上, 3 分)

材料二



(2) 依据材料二, 说出长安城商业活动的特点。(2 分)

【近代上海】

近代上海历经沧桑, 发生了巨大变迁。

材料三

近代上海大事记 (节选)

- ①1842 年, 《南京条约》规定: 开放广州、厦门、福州、宁波、上海五处为通商口岸。
- ②1845 年, 上海出现了中国近代史上第一个租界 (租界: 近代历史上列强通过不平等条约强行在中国获取的租借地的简称)。
- ③1872 年, 中国近代第一份商业性报纸《申报》在上海创刊。
- ④1883 年, 上海第一座自来水公司开始运营。
- ⑤1903 年, 革命志士邹容在上海写成《革命军》, 呼吁民主革命。

(3) 近代上海既是列强侵略中国的桥头堡, 在某种程度上也是中国近代化的缩影。用大事记中的史实说明以上观点。(5 分)

体现“列强侵略”的是: _____ (填写序号)
体现“近代化”的是: _____ (填写序号)

【当代深圳】

20 世纪 80 年代以来, “深圳速度”令世界瞩目。

材料四

第十三条: 特区企业进口生产所必需的机器设备、零配件、原材料、运输工具和其他生产资料, 免征进口税。

——1980年第五届全国人大常委会第十五次会议公布的《广东省经济特区条例》

深圳毗邻港澳，国际交流便利。1979年以后，很多香港和海外华裔怀着报效乡梓，参与祖国建设的愿望，率先来大陆投资。

——摘编自肖日新《亚洲“四小龙”发展外向型经济的基本经验》

20世纪80年代，西欧各国希望加强同中国的经济合作。在政治上，西欧受苏联威胁，希望中国成为世界的稳定力量；在经济上，西欧各国正处于萧条时期，产品、资本过剩，急于找出路。

——摘编自房维中《在风浪中前进》

(4) 依据以上材料，概括20世纪80年代以来，深圳经济高速发展的原因。(2分)

材料五 2000年12月，国际“花园城市”评委会宣布，深圳经济特区荣获最大规模级城市“花园城市”称号。这是当时唯一涉及城市环境、人与自然、可持续发展、环境保护等重要议题的国际竞赛。这是中国城市首次获此殊荣，也是深圳经济特区生态环境建设和园林绿化的一个国际认证。

(5) 深圳既保持着高速发展的“深圳速度”，又被评为国际“花园城市”。对此谈谈你的看法。(2分)

32. (9分) 社会文明的发展，反映在人们日常生活的方方面面。

【宋代社会生活】

材料一 (南宋)在人民日常生活方面，艺术、娱乐、制度、工艺技术各方面，中国是当时世界上首屈一指的国家，其自豪感足以认为世界其他地区皆为“化外之邦”。

——(法)谢和耐《南宋社会生活史》

材料二

(瓦子)奇术异能，歌舞百戏，鳞鳞相切，乐声嘈杂十数里。
——(宋)吴自牧《梦粱录》

《纸鸢》(风筝)
弄假如真舞碧空，吹嘘全在一丝风。唯惭尺五天将近，犹在儿童掌握中。
——(宋)宋伯仁



(1) 依据材料一、材料二概括宋代社会生活的特点。(2分)

【近代社会生活】

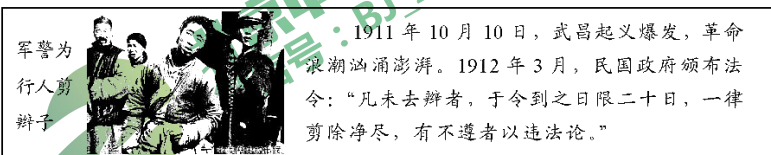
材料三



辫发长重，行动则摇，误缠机器，可以立死……且垂辫既污衣……衣污则观瞻不美。若在国外，为外人指笑，儿童牵弄，既缘国弱，尤遭戏侮，斥为豚(猪)尾，去之无损。
——康有为进呈《请断发易服改元折》

(2) 依据材料三，说出康有为主张剪发辫的理由。(2分)

材料四



1911年10月10日，武昌起义爆发，革命浪潮汹涌澎湃。1912年3月，民国政府颁布法令：“凡未去辫者，于令到之日限二十日，一律剪除净尽，有不遵者以违法论。”

(3) 依据材料四，说出晚清民国之际，出现剪发辮风潮的原因。(1分)

【现代流行服饰】

材料五 服装潮流的变化，反映着新中国方方面面的变革和进步。

新中国成立后，人们选择服装的标准一般是价廉和耐穿，灰、黑、蓝色成为街头流行色，服装样式也千篇一律。

20世纪80年代，随着中国不断对外开放，西方文化和港台时尚进入大陆，向年轻人传递着潮流信息，一个多样化、多色彩的服装时代到来了。喇叭裤、蝙蝠衫等各型各色的服装逐渐成为时尚。

20世纪90年代以来，人们的生活向小康过渡，中国已是世界上最大的服装生产和出口国。1978年(人口9.6亿)我国服装产量为6.7亿件，1991年(人口11.6亿)跃为55亿件，人均新衣5件以上。90年代，人们的思想观念更为开放，穿衣打扮讲求个性和多变，很难用一种款式或色彩来概括时尚潮流。

——摘编自袁仄、胡月《百年衣裳》

(4) 依据材料五，说出20世纪80年代前后，我国居民的服装潮流发生了怎样的变化?

试分析变化的原因。(4分)

33. (11分) 抗日战争是中国人民为争取生存和解放而进行的一场艰苦卓绝的战争，完成了近代中国从“沉沦”到“上升”的转变。

材料一 1937年7月14日，朱德对奔赴抗日前线的红军将士说：“日本强盗夺我东三省，复图占外蒙，又侵我华北，非灭亡我全国不止……我们誓率全体红军，联合友军，即日开赴前线，与日寇决一死战！”

——中共中央文献研究室第二编研部《朱德自述》

(1) 材料一中日本为“夺我东三省”发动了什么事变? 1937年7月日本“又侵我华北，非灭亡我全国不止”发动了什么事变? (2分)

材料二 (美国记者)斯诺问：你认为在什么条件下中国人民才能够消耗和打败日本的军队? 毛泽东回答说：“三个条件可以保证我们的成功：第一，中国结成抗日民族统一战线；第二，全世界结成反日统一战线；第三，目前在日本帝国主义势力下受苦的被压迫各国人民采取革命行动。在这三个条件中，主要条件是中国人民自己的团结。”

——摘编自埃德加·斯诺《西行漫记》

材料三

◎正面战场部分战役

战役名称	淞沪会战	太原会战	武汉会战	第一次长沙会战	第三次长沙会战
日军伤亡人数	4万	2万	3万余	2万余	5万余

◎中国共产党领导的敌后战场



彭德怀指挥百团大战



地雷战



地道战剖面示意图

◎国际援助和华侨抗战



来华作战的美国飞行员



苏联援助中国的飞机



华侨回国支援抗战

历史试卷 第7页(共9页)

(2) 依据材料二和材料三并结合所学，概括中国人民赢得抗日战争胜利的原因。(5分)

材料四 1942年，美、英、苏、中四大反法西斯同盟国依次领衔签署《联合国家宣言》。1943年，中、美、英三国首脑在开罗举行会议，发表《开罗宣言》，宣布日本侵占的台湾和澎湖列岛，战后必须归还中国。

(3) 依据材料四并结合所学，说出抗战使中国的国际地位发生了怎样的变化？(2分)

(4) 2017年教育部要求，春季教材全面落实14年抗战概念，8年抗战一律改为14年抗战。历史学者朱汉国指出，“14年抗战”概念的明确，有利于学生全面了解中国人民的抗日战争全过程；有助于学生理解日本侵华本质和危害；有助于学生认识中国抗日战争在世界反法西斯战争中的地位和意义。联系史实，谈谈你对学者观点的理解。(可以选取其中一个方面表述，2分)

34. (11分) 2017年3—5月，中国国家博物馆举办了“大英博物馆100件文物中的世界史”展览。

材料一 公元800年左右，亚洲和中东的大部分地区被两个超级大国控制，分别是中国的唐朝和伊拉克的伊斯兰阿拔斯王朝。他们支配着连接东西方的丝绸之路上的巨额贸易；依靠商人和骆驼组成的商队，香料和丝绸等奢侈品得以在丝路上流通。这类贸易活动并非刚刚出现，胡椒之类的香料贸易在东方与罗马之间已经存在了数百年。

同时，另一个复杂的贸易网络也兴盛起来，它依靠的不是陆地而是海洋。这一贸易网络以印度洋为中心，依靠季风和众多港口，将数千英里内的不同国家联系起来，并永久性地改变了非洲东海岸的宗教和语言。无论在陆路丝绸之路还是在印度洋，人口和货物的流通并无限制。宗教和思想也跨越了遥远的距离，公元700年左右，佛教传到亚洲新世界——日本、朝鲜和爪哇。

——《100件文物中的世界史》解说词(节选)

(1) 依据材料一，对以下表述做出判断：直接从材料得出的，在括号内划“√”；违背材料所表达意思的，在括号内划“×”；材料没有涉及的，在括号内划“○”。(5分)

- ①香料、丝绸是东西方商路上的重要货物。 ()
- ②公元800年以前，陆上丝绸之路已经存在。 ()
- ③非洲东海岸是当时海上贸易网络的中心。 ()
- ④丝路贸易的兴盛促进了文化的交流。 ()
- ⑤印刷术沿丝绸之路传播到欧洲。 ()

材料二 展览中的中国文物（部分）

(2) 任选一个主题，选择两件




编号：018 西周康侯簋
公元前1100—前1000年
簋内所铸铭文记载，周武王的兄弟康侯参加了一场平定商人叛乱的战争，得到卫国（在今河南省）的封地。



编号：044 唐三彩文官俑

约公元730年

部分官员通过科举考试获得官职。起初他们人数很少，但逐渐成了官僚系统的重要组成部分。这一制度保证了官员对朝廷的忠诚度。



编号：067 元青花瓷盘

公元1330—1350年

青花瓷始烧于元朝，作为外销瓷出口中东。用在青花瓷器上的蓝色钴料可能来自伊朗，中国人后来称之为“回回青”，意思是“穆斯林蓝”。


(2) 如果你和一位外国同学参观展览，请你借助文物向他介绍相关的中国历史文化。（4分）

要求：从018和044两件文物中任选一件，不能照抄文物介绍。

示例：067元青花瓷盘——元朝结束了政权并立局面，完成了统一，疆域辽阔。这件青花瓷盘反映出元朝制瓷工艺精湛，体现了当时中外交流的兴盛。

(3) 此次展览的主旨是“人类文明的互动、相互影响是世界

历史发展的动力”，为此中国国家博物馆选择了“2001年宣布中国加入世贸组织（WTO）时的木槌和签字笔”（见右图）作为第101件展品，参与大英博物馆的世界史叙述。



请你说明中国国家博物馆选择这件文物的理由。（可以从中国加入世界贸易组织的背景、影响等角度思考，2分）

北京市中考改革 2017 年调研抽样测试

历史试卷答案及评分参考

第一部分 选择题 (共 45 分)

(共 30 题, 每题 1.5 分)

题号	1	2	3	4	5	6	7	8	9	10	11	12	13	14	15
答案	B	C	D	D	D	A	B	A	A	B	C	C	D	B	C
题号	16	17	18	19	20	21	22	23	24	25	26	27	28	29	30
答案	A	B	C	D	A	D	A	D	A	C	B	B	B	C	C

第二部分 非选择题 (共 45 分)

31. (共 14 分)

(1) ②; ①; ⑤ (3 分)

(2) 有专门商业区; 商业繁荣; 行业多; 中外贸易繁荣。(2 分。答出两点即给分)

0 分: 未回答, 或回答错误。

1 分: 答出以上一点。

2 分: 答出以上两点或两点以上。

(3) ①②; ③④⑤ (5 分)

(4) 国家给予特殊政策和优惠措施; 地理环境优越; 有利于吸引外资; 有利的国际环境。(2 分。答出两点即给分)

0 分: 未回答, 或回答错误。

1 分: 答出以上一点。

2 分: 答出以上两点或两点以上。

(5) 可以从经济发展与环境保护、可持续发展等角度回答; 正面评价。言之成理即可得分。(2 分)

答案示例: 深圳兼顾经济发展与环境保护, 体现了可持续发展的理念。

32. (共 9 分)

(1) 市民生活丰富多彩, 文体娱乐形式多样, 生活品质较高。(2 分。回答 1 点即可得分)

(2) 发辫不适应工业生产; 不利于个人卫生; 日常生活不便; 受到外国人讥讽。(2 分)

0 分: 未回答, 或回答错误。

1 分: 答出以上一点。

2 分: 答出以上两点或两点以上。

(3) 辛亥革命的推动; 政府法令要求。(1 分。答出 1 点即给分)

(4) 变化: 服装从样式、颜色单一到多样化; 选择标准从注重实用到追求美观、个性。

原因: 改革开放, 经济发展; 人民生活水平提高; 人们思想观念的变化; 外来时尚的影响。

(4 分。回答 4 点即可得分)

0 分: 未回答, 或回答错误。

1 分: 答出以上一点。

2 分: 答出以上两点。

- 3分：答出以上三点。
4分：答出以上四点或四点上。
其他合理答案也可得分。

33. (共11分)

- (1) 九一八事变；(1分) 七七事变(卢沟桥事变)(1分)
(2) 抗日民族统一战线的建立；建立国际反法西斯同盟；中国共产党领导的人民武装坚持敌后抗战；正面战场爱国将士的英勇战斗；国际反法西斯力量对中国的援助；爱国华侨支援祖国抗战。(5分。答出5点即给分)
0分：未回答，或回答错误。
1分：答出以上一点。
2分：答出以上两点。
3分：答出以上三点。
4分：答出以上四点。
5分：答出以上五点或五人以上。
其他合理答案也可得分。
(3) 中国的领土主权得到尊重，国际地位显著提升。(2分)
0分：未回答，或回答错误。
1分：答出以上一点。
2分：答出以上两点或两倍以上。
(4) 言之成理即可得分。(2分)
0分：未回答，答案史实错误，或与问题无关。
1分：仅有史实，或仅写出观点。
2分：史论结合，表述清楚。

答案示例：九一八事变发生后，中国军民就开始了抗击日本侵略的斗争，把1931年开始的局部抗战与1937年开始的全国性抗战连接起来，可以完整的体现中国人民的抗日战争史。

34. (共11分)

- (1) ①√ ②√ ③× ④√ ⑤○ (5分)

(2) 答题角度：

写出文物所处的时代。(1分) 说明文物本身的工艺成就；说明文物反映的时代特征或文明成就。(2分，答出1点给1分；如就其中某一方面论述清楚亦可得2分) 有对工艺成就或文明成就的肯定。(1分)

答案示例：

018 西周康侯簋——西周实行分封制度，巩固了对周边的统治，加强了周王室与诸侯国的经济、文化联系。西周青铜器制作工艺高超，反映了国力的强盛。

044 唐三彩文官俑——唐朝经济繁荣，社会稳定，科举制度成为选拔官员的途径，增强了社会的活力。唐三彩代表了唐朝制陶业的突出成就。

(3) 言之成理即可得分。(2分)

答案示例一：中国为加入世界贸易组织进行的努力，充分展示了中国顺应经济全球化潮流，主动参与国际竞争与合作的积极姿态。

答案示例二：中国加入世界贸易组织将在更大范围内，更深程度上参与世界经济活动，以崭新的姿态迎接对外开放的新阶段。

