



历史试卷

班级 _____ 姓名 _____ 分数 _____

考生须知

1. 本试卷分第一部分（选择题）和第二部分（非选择题）两部分，共 6 页，28 道小题。满分 100 分。考试时间 60 分钟。
2. 在试卷密封线内认真填写学校、姓名、考号。
3. 必须用黑色或蓝色钢笔、签字笔在答题卡上按要求作答。

第一部分 选择题(每小题 2 分 共 50 分)

下列每小题所列的四个选项中，只有一项是最符合题目要求的，请把它的字母代号填涂在答题卡相应的位置。

1. 右图所示建筑物是世界著名历史遗迹之一，它反映的是



- A. 古巴比伦文明 B. 古埃及文明
 - C. 古印度文明 D. 中国文明
2. 西亚的两河流域是世界古文明的重要发源地之一。下列属于古代两河流域文明的是
- A. 种姓制度 B. 分封制 C. 基督教 D. 《汉谟拉比法典》[来
3. 马克思说：“希腊的内部极盛时期是伯利克里时代。希腊“极盛时期”对西方文明产生深远影响的是
- A. 民主政治 B. 海外贸易 C. 文化教育 D. 军事外交
4. 探寻文明足迹，感受历史辉煌。著名学者余秋雨曾进行过一次“千禧之旅”，寻访西方文明之源。“西方文明之源”应是
- A. 古代埃及 B. 古巴比伦 C. 古代希腊 D. 古代罗马
5. 武力征服给所征服地区的人民带来了深重的灾难，但客观上也促进了文明的传播。公元前 4 世纪前后，在远征中，把希腊文明向东方传播的帝国是
- A. 罗马帝国 B. 罗马共和国 C. 波斯帝国 D. 亚历山大帝国
6. 文艺复兴的一位作家亚尔伯蒂说：“人是能够从心所欲地改造自己的。”另一位作家彭塔诺说：“我创造了我自己。”以上两位作家的观点都体现了
- A. 民主科学精神 B. 人文主义精神 C. 自由平等思想 D. 生物进化理论
7. 公元 1 世纪后期，建立起“以地中海为中心，地跨欧、亚、非三洲的大帝国”。这里所指的帝国是
- A. 罗马帝国 B. 波斯帝国 C. 阿拉伯帝国 D. 亚历山大帝国
8. 巴黎大学和牛津大学是西欧中世纪的大学。下面对西欧中世纪大学认识不正确的是
- A. 大学的兴起是中世纪文化的重要成就之一
 - B. 西欧中世纪大学为中世纪西欧社会培养了人才
 - C. 西欧中世纪大学促进了科学和文化的进步
 - D. 西欧中世纪大学依然没有突破教会对思想和文化的垄断
9. 下列各项中，关于拜占庭帝国的表述正确的有
- ①定都君士坦丁堡
 - ②地跨欧亚非三大洲
 - ③沟通了欧亚经济文化交流
 - ④被阿拉伯帝国所灭
- A. ①②③ B. ②③④ C. ①②④ D. ①③④
10. 将中国的四大发明及印度的 0~9 数字等东方科学成就传播到欧洲，在不同文明之间



架起了文化交流桥梁的是

- A. 西班牙人
- B. 葡萄牙人
- C. 阿拉伯人
- D. 土耳其人

11. “新航路开辟后，使世界上原本互相隔绝的地区沟通起来，世界开始联成一个整体，为资本主义发展开辟了广阔的空间。”该材料体现的是新航路开辟的

- A. 历史背景
- B. 必备条件
- C. 主要过程
- D. 重要影响

12. 三角贸易是人类历史上悲惨的一页，下列对“三角贸易”理解不正确的是

- A. 奴隶贸易的利润变成资本，促进了资本主义经济的发展
- B. 三角贸易首先从美洲出发
- C. 充分暴露了资本原始积累的野蛮性
- D. 是造成近代以来非洲贫困与落后的重要原因之一

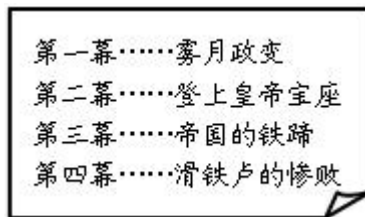
13. 下表中各项文献与影响对应错误的是

选项	文献	影响
①	《人权宣言》	标志着法国资产阶级革命开始
②	《独立宣言》	标志着美国诞生
③	《解放黑人奴隶宣言》	极大调动了广大黑人奴隶参战的积极性
④	《联合国宣言》	标志着世界反法西斯同盟形成

- A. ①
- B. ②
- C. ③
- D. ④

14. 右图是某学校九（1）班同学的课本剧演出单。据此可知，该剧的主人公是

- A. 克伦威尔
- B. 华盛顿
- C. 拿破仑
- D. 林肯



15. 促使俄国走上资本主义发展道路的事件是

- A. 大化改新
- B. 1861 年农奴制改革
- C. 明治维新
- D. 十月革命

16. 2018 年是日本明治政府开始走上维新道路 150 周年，明治维新的主要内容是

- A. 废藩置县、殖产兴业、文明开化、富国强兵
- B. 民主、科学
- C. 民族、民权、民生
- D. 自强、求富

17. 以下是 19 世纪中后期至 20 世纪初列强实力对比变化表，这些变化最终导致了

项 目	英	德	法	美
1870~1913 年工业增长速度 (%)	1.3	4.6	1.9	8.1
1913 年工业产量所占位置	3	2	4	1
1913 年殖民地面积所占位置	1	4	2	5

- A. 美德经济迅速崛起
- B. 资本主义经济政治发展不平衡
- C. 英法国际地位下降
- D. 第一次世界大战爆发

18. 推翻了西班牙在拉丁美洲的殖民统治，被拉美人民赋予“解放者”称号的是

- A. 华盛顿
- B. 章西女王
- C. 玻利瓦尔
- D. 拿破仑

19. 1921 年，美国青年阿曼德·哈默成为第一个获得苏俄石棉矿特许经营权的外国人，他获此经营权源于苏俄的

- A. 战时共产主义政策
- B. 新经济政策
- C. 1936 年新宪法
- D. 农业集体化

20. 美国农产品批发价格指数从 1929 年的 104.9 下降到 1932 年的 48.2，下降了 54%。在




世界市场上，小麦批发价格下跌了70%，大豆、棉花、黄麻、咖啡等跌价50%以上。导致上述现象出现的主要原因是

- A. 世界大战的破坏
- B. 罗斯福新政
- C. 经济危机
- D. 法西斯政权的建立

21. 罗斯福新政采取了国家整顿金融体系、调节工业生产、保证农业生产等一系列措施来摆脱经济危机。这些措施的突出特点是

- A. 国家干预经济运行
- B. 放任经济自由发展
- C. 调整资本主义制度
- D. 遏制法西斯势力

22. 图片在一定程度上记录了历史的瞬间。下列三幅图反映的共同主题是



日本“七三一”部队用人体实验 被囚禁在奥斯维辛集中营的儿童 被关押在集中营的犹太人

- A. 纳粹的暴政
- B. 法西斯暴行
- C. 战场的残酷
- D. 种族的灭绝

23. 下表是某同学对第二次世界大战部分重大事件的整理。其中，关于这些重大事件影响的表述，不正确的是

时间	1939年9月	1941年12月	1942年—1943年	1945年5月
事件	德国突袭波兰	日军偷袭珍珠港	斯大林格勒战役	攻克柏林
影响	二战全面爆发	战争发展到全球规模	二战的重要转折点	二战结束
选项	A	B	C	D

24. 2017年“一带一路”国际合作高峰论坛，倡导以和平合作、开放包容、互学互鉴、互利共赢为核心的丝路精神，这顺应了当今世界经济的发展趋势。当今世界经济的发展趋势是

- A. 信息化
- B. “一超多强”
- C. 经济全球化
- D. 和平与发展

25. 旅游拍照发朋友圈，逛街付款扫二维码。这种便捷的交流方式得益于

- A. 航天技术的进步
- B. 计算机网络技术的发展
- C. 生物技术的突破
- D. 新材料技术的应用



二维码



微信

第二部分 非选择题

26. 在人类社会发展的长河中，无数杰出人物以其思想和行动深刻影响着历史发展的进程。走近下列历史人物，回答相关问题。（本题共18分）




图1 马克思



图2 列宁



图3 华盛顿

(1) 2018年是马克思主义诞辰170周年，马克思以其开创性的理论宣告了一个新时代的来临。请完成下面两个小题。（6分）

①马克思主义诞生的时间是_____年；标志是_____。



②下面关于马克思主义诞生历史意义的认识正确的是_____。(填写字母)

- A. 成为资产阶级的思想武器 B. 为法国大革命提供了科学依据
C. 为国际共产主义运动指明了方向 D. 为如何改善资本主义提供了依据

(2) 列宁主要的历史贡献是什么？此贡献有什么历史意义？（4分）

(3) 美国国会议员亨利·李曾这样评价乔治·华盛顿：“战争中的第一人，和平中的第一人，他的同胞心中的第一人。”请你结合相关史实，评价华盛顿。（6分）

(4) 学会正确认识和评价历史人物是初中历史课程标准的要求之一，请你说说你是怎样认识和评价历史人物的。（2分）

27. 习近平总书记在十九大报告中指出，世界正处在大发展大变革大调整时期，和平发展仍然是时代的主题。20世纪至今世界政治格局出现了三次大的变化。阅读下列材料，回答问题。（本题共16分）

材料一 协约国同德国及其盟国签订的一系列和约，构成了重建欧洲、西亚和非洲的国际新秩序。华盛顿会议的核心是中国问题，……与会国签订了一个关于中国问题的公约。

——《世界通史》

(1) 材料一中的“和约”和“公约”分别指什么？最终确立了怎样的国际政治格局？（6分）

材料二 第二次世界大战结束后，以美国为首的西方国家，采取了遏制共产主义的冷战政策，并由此形成了新的世界格局。

——《现代国际关系史》

(2) 材料二中“冷战”开始的标志是什么？“新的世界格局”指的是什么？其结束的标志是什么？（6分）

材料三 冷战结束后，美国凭借其强大的经济、军事和科技力量，试图建立由它领导的“单极世界”。俄罗斯继承了苏联的主要遗产，在世界政治中的作用不可低估。欧共体向欧盟发展，使欧洲作为一个整体在国际上发挥着显著作用。日本继续谋求政治大国地位。中国的综合国力不断上升，日益以负责任大国的形象活跃于国际舞台。占有联合国多数席位的广大发展中国家在国际事务中的作用也非常重要。

——摘编自《义务教育教科书·历史·九年级下册》2018年版

(3) 材料三所述那些力量共同推动着世界向什么方向发展？（2分）

(4) 综上所述，你认为我国该如何应对当今世界政治格局发展的趋势？（2分）

28. 阅读下列材料，回答问题。（本题共16分）

材料一 斯塔夫里阿诺斯《全球通史：从史前史到21世纪（下）》（北京大学出版社）目录节选：

第七编 西方据优势地位时的世界，1763—1914年



第 26 章 欧洲的科学革命和工业革命 一、科学革命的根源 二、科学革命的进程 三、科学革命的意义 四、工业革命的根源 五、工业革命的进程 六、工业革命对欧洲的影响 七、工业革命对非欧洲世界的影响	第 27 章 政治革命 一、政治革命的格局 二、英国革命 三、启蒙运动 四、美国革命 五、法国革命
---	---

(1) 以上目录材料中，作者认为西方占据优势地位的三大要素是什么？（3分）

(2) 说到西方近代科学革命，作者不得不提及两位伟大的科学家，根据下面提示，把他们的名字写在横线上。（2分）

①发现万有引力定律和力学三大定律，被称为“现代科学之父”的近代物理学奠基人是_____。

②发表《物种起源》，发现生物界发展变化规律的进化论者是_____。

(3) 第一次工业革命的最主要标志是什么？（2分）

材料二 在 19 世纪期间，工业革命从英国逐渐传播到欧洲大陆。比利时是第一个开始工业化的国家，因此，到 1870 年时，大多数人都居住在城市，并直接依靠工业或贸易过活。继比利时之后是法国、德国、奥匈帝国、意大利和俄国。与此同时，非欧洲国家也正在工业化——起初是美国，随后是英国自治领和日本。工业革命对欧洲的另一影响是人口的进一步增长。1914 年时欧洲大陆的人口是 1750 年时的 3 倍以上。工业革命还引起世界社会前所未有的城市化。随着工业革命的发展的工厂体系的建立，大批的人涌入新的工业中心。到 1930 年，城市人口已达 4.15 亿，占人类总人口的五分之一。这是人类历史上一个巨大的社会变化，因为在城市居住意味着一种全新的生活方式。工业革命以世界性的规模有效地利用了人力资源和自然资源，使生产率得到了史无前例的提高。工业革命不仅引起了新消费主义，而且赋予了妇女新的角色。迫使妇女走出过去她们以此为生的家庭经济，进入新的、家庭以外的工薪经济。

1763 年以前的那一时期中，欧洲诸强国仅在亚洲和非洲拥有少数立足点，它们主要的占有地是在南北美洲。1763 年以后，它们从政治上控制了亚洲的大部分地区和几乎整个的非洲。不过，在南北美洲，它们所能做到的比这要多得多。它们利用美洲的人口比较稀少，真正地使北美洲和南美洲欧化了。工业革命在很大程度上是造成这一欧化的主要原因。我们已经看到，生产率的增长和医学的进步导致 19 世纪欧洲人口的急剧增加。铁路和汽船有效地把大批大批的人运过海洋和大陆，而种族迫害进一步促进了迁移；这种种因素相结合，导致了史无前例的大规模迁移。每过去 10 年，人口迁移的潮流便有巨大的增长。而在 1900 至 1910 年间，移民人数高达 900 万，也就是每年有近一百万移民。南北美洲和澳大利亚不但在种族上，而且在经济上被欧化，也自然地导致欧洲文化的移植。工业革命不仅是海外领地被欧化的主要原因，也是欧洲庞大的殖民地结构在亚洲和非洲得以建立的主要原因。

——摘编自《全球通史》斯塔夫里阿诺斯

(4) 阅读材料二，说出工业革命对“欧洲”和“非欧洲世界”分别产生了什么重大影响？（至少答出两点对“欧洲”的影响，至少答出一点对“非欧洲世界”的影响）（6分）

材料三 英国资产阶级革命埋葬了封建君主专制，创造并确立了君主立宪制，为资本主义的发展扫清了道路。美国独立战争推翻了英国殖民统治，诞生了美洲第一个独立国家，为美国资本主义发展和国家的富强开辟了道路。法国大革命推翻了封建秩序，为

资本主义的发展扫清了道路。法国革命的成果远播欧洲，成为近代欧洲一份重要的历史遗产。

——摘编自《义务教育教科书·历史·九年级上册》2018年版

(5) 结合材料三和所学知识，概括出英、美、法三国革命对西方占据优势地位所起的作用。(3分)



微信扫一扫，快速关注



怀柔区 2018—2019 学年度第一学期九年级期末质量检测

历史试题答案及评分标准

第一部分 选择题(共 25 小题 50 分)

题号	1	2	3	4	5	6	7	8	9	10	11	12	13	14	15	16	17	18	19	20
答案	B	D	A	C	D	B	A	D	A	C	D	B	A	C	B	A	D	C	B	C
	21	22	23	24	25															
	A	B	D	C	B															

第二部分 非选择题(共 3 小题 50 分)

26. (本题共 18 分)

(1) ①1848 年;(2 分)《共产党宣言》的发表。(2 分) ② C (2 分)

(2) 领导了俄国十月社会主义革命。创建了人类历史上第一个社会主义国家,社会主义的理想变成了现实;为各国人民展示了一条新的寻求解放的道路,鼓舞着被压迫民族和人民的解放斗争;对俄国历史和世界历史都产生了深远影响。或答实行新经济政策,迅速缓解国内经济危机,生产稳步恢复,苏维埃政权日益巩固。(事件和意义各 2 分,共 4 分)

(3) 华盛顿领导美国独立战争,赢得了国家独立。他是美国首任总统,并连任两届,为美国总统连任不得超过两届的制度创立了范例。他是美国宪法的支持者。华盛顿为美国的建立和国家的民主建设作出了卓越的贡献,赢得了美国人民的崇敬。因此,他是一位杰出的军事家、政治家,被尊为“国父”。被誉为“战争中的第一人,和平中的第一人,他的同胞心中的第一人。”(答出任意两点史实得 4 分,评价得 2 分,共 6 分)

(4) 客观的、公正的、一分为二、实事求是评价;或结合具体史实评价历史人物;或把历史人物放在其特定的历史环境下去评价等。(言之有理可得 2 分)

27. (本题共 16 分)

(1) 《凡尔赛和约》和《九国公约》;凡尔赛-华盛顿体系。(6 分)

(2) 杜鲁门主义的出台;两极格局;苏联解体。(6 分)

(3) 多极化趋势的变化。(2 分)

(4) 提高综合国力;奉行独立自主和平外交政策;发展与世界各国的友好关系;反对霸权主义和强权政治。(言之有理,答出任意一点得 2 分)

28. (本题共 16 分)

(1) 科学革命、工业革命和政治革命。(3 分)

(2) ①牛顿;②达尔文。(2 分)

(3) 蒸汽机的发明和使用。(2 分)

(4) 对欧洲影响:工业革命的传播(欧洲国家和非欧洲国家工业化);人口增长;城市化;生产率提高;引起了新消费主义;赋予了妇女新的角色等。(答出任意两点得 4 分)

对非欧洲世界影响:建立了庞大的殖民地结构(工业革命后,西方国家加紧了殖民扩张活动,逐步确立起对世界的统治);人口的大规模迁移;北美洲和南美洲欧化等。(任意一点得 2 分)

(5) 英、美、法三国革命都确立了先进的资本主义制度,促进了本国资本主义的发展。(答出两点得 3 分,答出任意一点得 2 分)