

# 历史 试 卷

2022. 12

本试卷共 8 页，共两部分，24 个小题，满分 70 分。考试时间 70 分钟。考生务必将答案填涂或书写在答题卡上，在试卷上作答无效。考试结束后，请交回答题卡。


## 一、单项选择题（每小题 1.5 分，共 30 分）

1. 林则徐在《逾各国夷人呈缴烟土稿》中说：“若鸦片一日未绝，本大臣一日不回，誓与此事相始终，断无中止之理。”该史料反映的是

- A. 抗击倭寇      B. 虎门销烟      C. 定海之战      D. 三元里抗英

2. 右图描绘了中国历史上规模最宏大的一次农民战争。对这次农民战争相关描述正确的是

- ①《资政新篇》未能付诸实践  
②沉重打击了清政府的统治  
③遭到中外反动势力的联合镇压  
④起义的目的是发展资本主义



- A. ①②③      B. ①②④      C. ①③④      D. ②③④

3. 1877 - 1882 年，左宗棠连续五次上书清政府指出：“重新疆者所以保蒙古，保蒙古者所以卫京师。西北臂指相连，形势完整，自无隙可乘”。由此，左宗棠采取的行动是

- A. 收缴鸦片      B. 编练新军      C. 收复新疆      D. 进行改革

4. 2015 年，国家文物局确认“丹东一号”为甲午战争中沉没的“致远舰”。导致该舰沉没的战役是

- A. 丰岛海战      B. 平壤战役      C. 黄海海战      D. 威海卫战役

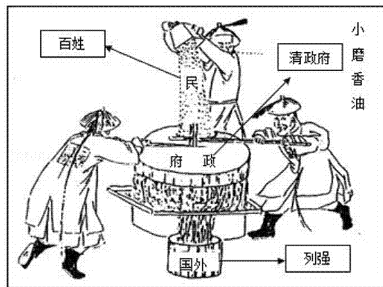
5. 维新变法失败后，一些人开始摆脱传统旧文化的束缚，从封建士人转化为近代知识分子。这说明戊戌变法

- A. 使中国走上了富强的道路  
B. 开启了近代化的潮流  
C. 动摇了传统的封建礼教  
D. 推动了思想观念转变



6. 右图是 20 世纪初的讽刺漫画《小磨香油》。其反映了清政府

- A. 闭关锁国限制了对外交往  
B. 成为列强统治中国的工具  
C. 积极谋求发展资本主义  
D. 顽强抵抗外国侵略势力



7. 下列资料中宣传资产阶级民主革命思想的是

《海国图志》	《天朝田亩制度》	《时务报》	《民报》
A	B	C	D

8. 有学者指出“到1914年底，袁世凯将民主制度的象征性成果悉数破坏，至此，所谓‘中华民国’只剩下了一块空招牌”。以下史实能够说明这一观点的是

- ①通电声明拥护共和
- ②废除《中华民国临时约法》
- ③宣统帝下诏退位
- ④武力镇压国民党反袁斗争



- A. ①②
- B. ①③
- C. ②④
- D. ③④

9. 他是在中国举起十月革命旗帜的第一人，是中国最早的马克思主义传播者。从1918年7月起，他先后发表《法俄革命之比较观》《庶民的胜利》《布尔什维主义的胜利》等文章。材料中的“他”是

- A. 董必武
- B. 蔡元培
- C. 陈独秀
- D. 李大钊

10. 20世纪20年代的中国，有一首广为流传的歌曲，其中的歌词“打倒列强，打倒列强，除军阀，除军阀。……齐奋斗！”。歌词描述的历史事件是

- A. 北伐战争
- B. 护国战争
- C. 二次革命
- D. 东北易帜

11. 美国记者埃德加·斯诺在《红星照耀中国》一书中指出：“这是当今时代无与伦比的一次史诗般的远征”“是历史上最盛大的武装巡回宣传”。这里的是“远征”指的是

- A. 广州起义
- B. 秋收起义
- C. 井冈山会师
- D. 红军长征

12. 1931年9月20日，中共中央发表了《中国共产党为日本帝国主义强暴占领东三省事件宣言》，明确提出“反对日本帝国主义强占东三省！”这一宣言的背景是

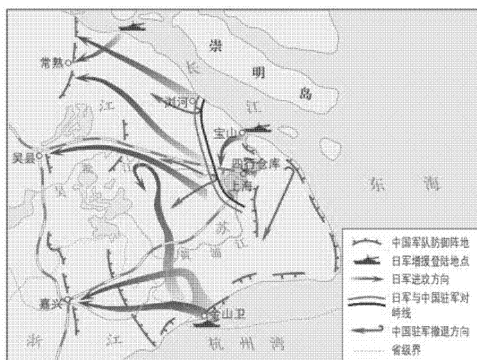
- A. 九一八事变
- B. 一·二八事变
- C. 华北事变
- D. 七七事变

13. 西安事变后，周恩来与张学良、杨虎城共同努力，经过谈判，迫使蒋介石做出“停止内战，联共抗日”的承诺。西安事变的和平解决标志着

- A. 红军三大主力会师
- B. 抗日民族统一战线初步形成
- C. 中国共产党建立敌后抗日根据地
- D. 南京国民政府名义上统一了全国

14. 右图所示战役“持续3个月，毙伤日军4万多人，打破了日本3个月灭亡中国的迷梦，激发了全国人民的斗志”。此战役是

- A. 台儿庄战役
- B. 武汉会战
- C. 淞沪会战
- D. 第三次长沙会战



15. 以下是某学习小组搜集到的历史人物照片。据此推断，学习的主题是



- A. 八路军将领      B. 抗战英烈      C. 革命先驱      D. 北伐名将

16. 以下材料反映出

中国共产党开辟的敌后战场抗击侵华日军的比例								
	1938年	1939年	1940年	1941年	1942年	1943年	1944年	1945年
日军	58.8%	62%	58%	75%	63%	58%	64%	69%
伪军	全部	全部	全部	全部	全部	90%	95%	95%

- A. 国民政府消极抗日积极反共  
 B. 敌后战场与正面战场的相互配合  
 C. 中国战场是世界反法西斯战争的东方主战场  
 D. 中国共产党在全民族抗战中发挥了中流砥柱的作用

17. 1945年4至6月，中国共产党在延安召开了第七次全国代表大会。这次会议召开的背景是

- A. 抗日战争进入相持阶段      B. 中国全民族抗战的开始  
 C. 抗日战争即将取得胜利      D. 国共两党合作正式开始

18. 1945年8月25日，党中央发表《对目前时局的宣言》，明确提出和平、民主、团结的口号，中央政治局决定由毛泽东等赴重庆同蒋介石进行和平谈判。毛泽东亲赴重庆的主要目的是

- A. 尽一切可能争取和平      B. 号召中国人民彻底打败日本侵略者  
 C. 开展土地革命和游击战争      D. 增强全国人民坚持抗战的决心和信心

19. 1947年夏，刘伯承、邓小平率领晋冀鲁豫野战军主力12万人一举突破黄河天险，千里跃进大别山。这一战略行动

- A. 结束了国民党在大陆的统治      B. 揭开了人民解放军战略进攻的序幕  
 C. 打乱了敌人的“追剿”计划      D. 打退了敌人对山东解放区的重点进攻

20. 1947年，中国共产党召开全国土地会议，颁布《中国土地法大纲》，进行土地改革。解放区的土地改革

- A. 粉碎了国民党军的全面进攻  
 B. 书写了工人运动史上光辉的一页  
 C. 保存了党和红军的基干力量，使中国革命转危为安  
 D. 为人民解放战争的胜利提供了重要的人力物力保障



## 二、非选择题（共 40 分）





### 21.（8 分）近代企业的发展

材料一

时间	创办企业	主营业务	招商局成立后，经过 70-80 年代的经营，取得显著效益。轮船招商局“试学西法”试办成功，“公司制度”备受推崇。为清政府“略分洋商之利”的活动跨出了第一步。
1861 年	安庆内军械所	制造子弹、火药、枪炮	
1865 年	江南制造总局	制造枪炮、弹药、轮船、机器	
1866 年	福州船政局	建造军舰、船政学堂	
1876 年	天津机器制造局	制造弹药、步枪及各类军用器具	
1872 年	轮船招商局	轮船运输	
1878 年	上海机器织布局	生产棉纺织品	
1888 年	湖北织布局	纺纱、缫丝、制麻，纺织品生产	

- (1) 依据材料一，说出 19 世纪 60 年代到 80 年代洋务运动创办企业类型的变化。（2 分）结合所学，概括以轮船招商局为代表的近代企业对经济发展所起的作用。（1 分）

材料二

			
图 A	图 B	图 C	图 D
江南制造总局火炮工厂车间照片	大生纱厂创办初期发行的股票	荣氏兄弟申新纺织公司注册证	英资太古轮船公司运输合同

- (2) 原始史料是指接近或直接发生在历史发生当时所产生，能反映历史真实材料。材料二中可用于研究近代民族资本主义发展的“原始史料”是\_\_\_\_\_。（2 分。填写字母，多选、错选、漏选均不得分）

材料三

	发展状况
1895 年	甲午战争的失败激发了张謇“实业救国”的思想，在张之洞等地方官员的支持下，张謇投身实业救国的道路。
1896-1898 年	日本及英美等国纷纷在中国开办工厂，获利丰厚，同时清政府放宽了对民间办厂的限制，张謇开始筹办纱厂。
1899 年	张謇克服困难多方融资成功，大生纱厂建成投产。
1901-1913 年	大生纱厂与后来新建的大生分厂，投资总额达到 340 万两（白银）。
1914-1921 年	第一次世界大战期间，洋纱进口锐减，国产纱销路大增，大生企业集团所控制的资本总额高达 2480 余万两（白银）。

- (3) 依据材料二，概括促使张謇创立大生纱厂的因素。（2 分）说出 1901-1921 年张謇创办企业的发展趋势。（1 分）


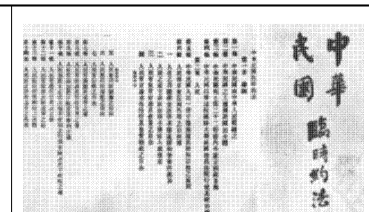

22. (9分) 重大历史事件推动历史发展

材料一 外国人通过条约驱使中国社会脱出常轨，改道变形。这个制度的起点正是鸦片战争后的条约。这样说不仅因为它在时间上最早，而且因为它为后来的种种延伸和续接准备了最初的前提。因此，随着第一组条约的产生，中国社会先后出现了可见的变化。

——摘编自陈旭麓《近代中国社会的新陈代谢》

(1) 依据材料一，写出该条约的名称。(1分) 结合所学，说说鸦片战争后中国社会性质发生的变化。(2分)

材料二

		
1911年10月湖北军政府成立	《中华民国临时约法》(部分)	清帝退位诏书(局部)

(2) 写出与材料二相关的历史事件。(1分) 结合所学，说说该历史事件的作用。(2分)

材料三 五四运动大事年表(部分)


时间	事件
5月4日	北京3000多学生游行示威，提出“外争国权，内惩国贼”“誓死力争，还我青岛”“取消二十一条”等口号，遭到北洋政府的镇压
5月5日	北京学生举行总罢课，声援被捕学生
5月7日起	全国200多个城市的学生一致罢课，支持北京学生的反帝爱国斗争
6月3日	北京学生再次开展大规模的爱国宣传活动，遭到军警镇压
6月5日	上海工人罢工，商人罢市，声援学生的爱国斗争
6月6日起	上海罢工、罢市规模扩大，随即席卷全国十几个商业中心城市
6月10日	北洋政府罢免曹汝霖、陆宗輿、章宗祥三人的职务
6月28日	中国代表拒绝在巴黎和会对德和约上签字

(3) 依据材料三，概括五四运动前后阶段运动主力的变化。(2分) 结合所学，谈谈你对五四精神的理解。(1分)



23. (11分) 探索中国革命的新道路

材料一



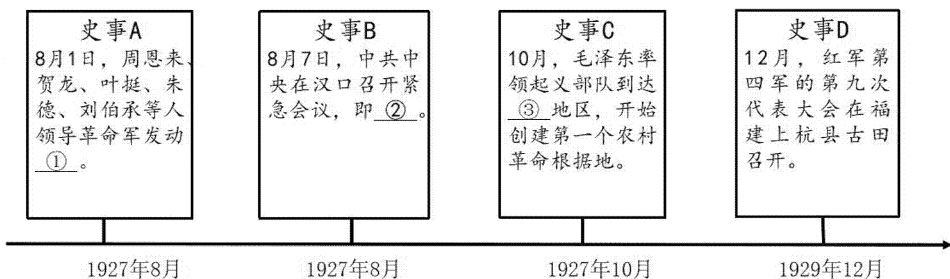
上海兴业路76号



浙江嘉兴南湖红船(复制品)

(1) 指出材料一中图片见证的历史事件。(1分) 结合所学, 分析其历史意义。(2分)

材料二 1927年到1929年中国共产党大事记(部分)

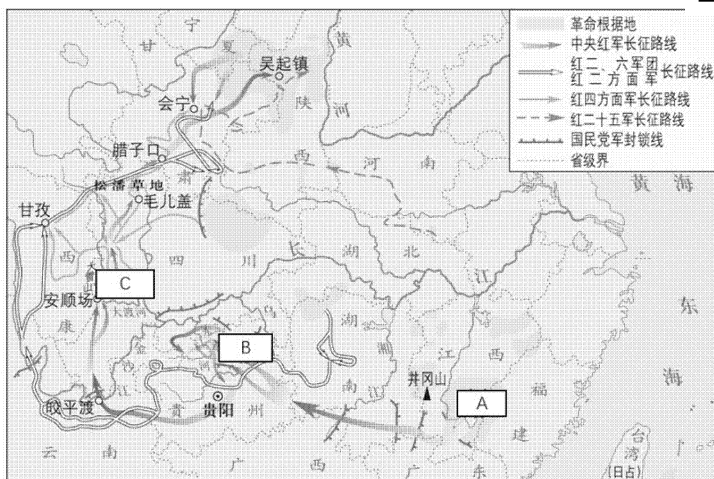


(2) 将图中①、②、③处补充完整。(3分) 从材料二中任**选一**历史事件, 仿照示例, 进行说明。(2分。示例除外)

示例: 史事D, 古田会议确立了思想建党、政治建军的原则。



材料三



中国工农红军长征路线示意图

(3) 依据材料三判断, 遵义会议召开的地点在\_\_\_\_\_。(1分。填写字母) 结合所学, 说说遵义会议对中国革命进程的影响。(2分)

24. (12分) 北京城市变迁

材料一 明清时期，长安街被天安门前的丁字形长廊阻隔，长廊两侧为各部与驻军各府，这个局面一直延续到1900年。《辛丑条约》签订后，1904年清政府被迫把东至崇文门大街、西至兵部街、南至城根、北至东长安街的大块土地划为使领馆用地，成为公使馆区，居民、衙署一律迁出，长安街至东单一条之间的民房竟一律被拆除，长安街南侧成为各帝国主义国家的练兵场。

——摘编自董光器《古都北京五十年演变录》

(1) 依据材料一结合所学，分析1904年长安街格局改变的原因。(1分)并说出《辛丑条约》对中国社会造成的危害。(2分)

材料二 1917年1月，《新青年》编辑部由上海迁到北京箭杆胡同20号，北京成为新文化运动的中心，见证了这段光荣的历史。

人物	内容简介	主张
 陈独秀	1915年，陈独秀在《青年杂志》创刊号上发表《敬告青年》一文，呼吁“国人而欲脱离蒙昧时代，羞为浅化之民也，则急起直追，当以科学与人权并重”。	①是新文化运动所标举的两大口号
 胡适	1917年1月，胡适在《新青年》发表《文学改良刍议》一文，强调写文章“须言之有物”“不慕仿古人”“不作无病之呻吟”。	主张以②作为新文学的语言
 鲁迅	1918年5月，鲁迅创作的第一篇短篇小说③在新青年发表，揭露了封建礼教的吃人本质，号召人民起来推翻“黑漆漆的”吃人社会。	强烈抨击封建的旧道德和旧文化

(2) 将材料二表格中①、②、③处补充完整。(3分)结合所学，从思想的角度谈谈新文化运动的影响。(1分)



材料三 近代北京城市生活的休闲形式既有传统的戏剧、莲花落、京韵大鼓、弦子书、相声、评书等艺术形式，也有西式舞蹈、音乐、话剧、电影等，但是传统的也不固守传统、新潮的也不会纯粹的孤芳自赏，他们各自在追求者自身的转变。这就造成了新旧杂陈、相互斗争，但是也相互融合、共同发展的局面。

——摘编自杨贺《民国北京的城市休闲文化》

(3) 依据材料三结合所学，指出近代北京城市生活的特征。(2分)

材料四 从今天来看，北平和平解放的意义是非常重大的。它使北平这个著名的文化古城，以及故宫、天坛、颐和园这样的文化古迹能完整地保存下来，没有受到破坏。北大、清华等大学都完整地保留下来，没有受到破坏，到现在它们仍然是世界一流的大学。工厂、企业迅速恢复生产、营业，社会秩序没有发生混乱现象，这些都是战争中很不容易做到的，这是北京历史上重要的一页。

——摘编自言清《多方努力，促成北平和平解放》

(4) 依据材料四结合所学，写出与北平和平解放直接相关的历史事件。(1分) 从北京城市发展的角度谈谈北平和平解放的作用。(2分)

