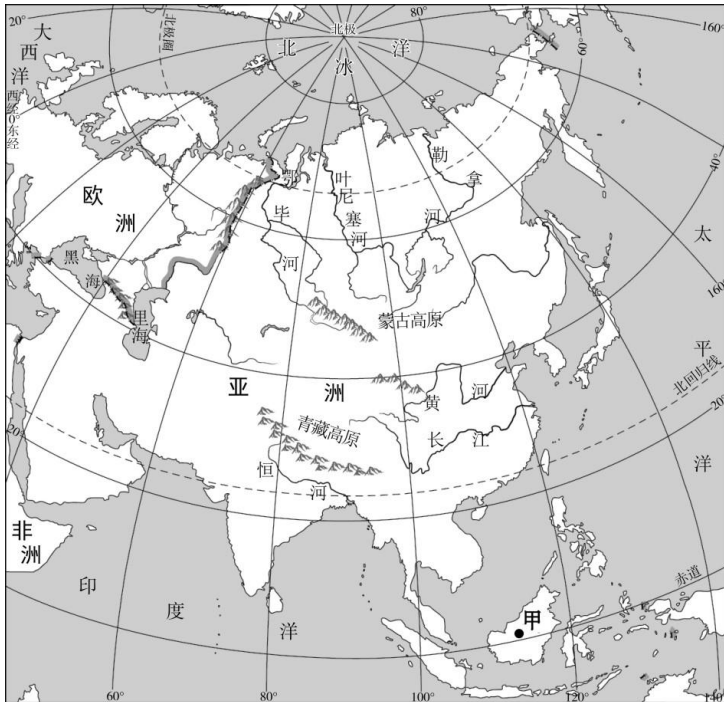




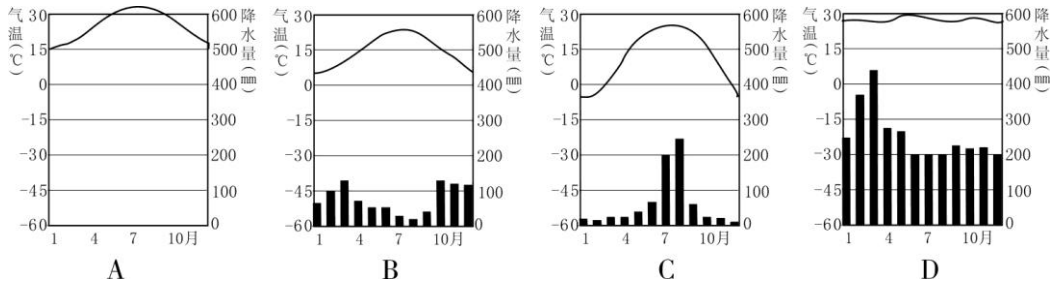
一、你会选择吗？

下列各小题均有四个选项，其中只有一项是符合题意要求的。请将正确选项前的字母填在答题卡内。（共 25 题，每题 2 分，共 50 分）

读图 1 “亚洲地图”，完成 1~4 题。



1. 亚洲的地理位置是
 - A. 位于东半球、北半球
 - B. 所跨经度最广、纬度最多
 - C. 地处低、中、高纬度
 - D. 西临太平洋、与欧洲接壤
2. 亚洲的地势特点是
 - A. 西部高、东部低
 - B. 中部高、四周低
 - C. 东部高、西部低
 - D. 中部低、四周高
3. 亚洲河流的流向是
 - A. 呈现辐射状流向四周
 - B. 自北向南流入北冰洋
 - C. 自南向北流入印度洋
 - D. 自东向西流入大西洋
4. 图 2 中，能正确反映图 1 甲地气候特征的是



2017年3月，撒哈拉以南非洲的苏丹、索马里、肯尼亚等国由于极度干旱，遭受了二战以来最严重的饥荒，2000万人受灾。据此完成5~6题。

5. 文中描述的“极度干旱”区域可能是
 A. 高原、高山气候 B. 热带草原气候 C. 温带大陆性气候 D. 热带雨林气候
6. 为改变撒哈拉以南非洲的困境，可采取的措施有
 ①实施国际救援 ②生育更多人口 ③改变单一经济结构 ④改善生态环境
 A. ①②③ B. ①②④ C. ①③④ D. ②③④

2017年4月11日，经过161天、超过3万海里的航行，“雪龙”号抵达上海，中国第33次南极科考圆满收官。本次南极考察开创了海陆空立体协同考察的新模式，完成了我国第五座南极科考站的选址考察工作。读图3，完成7~10题。

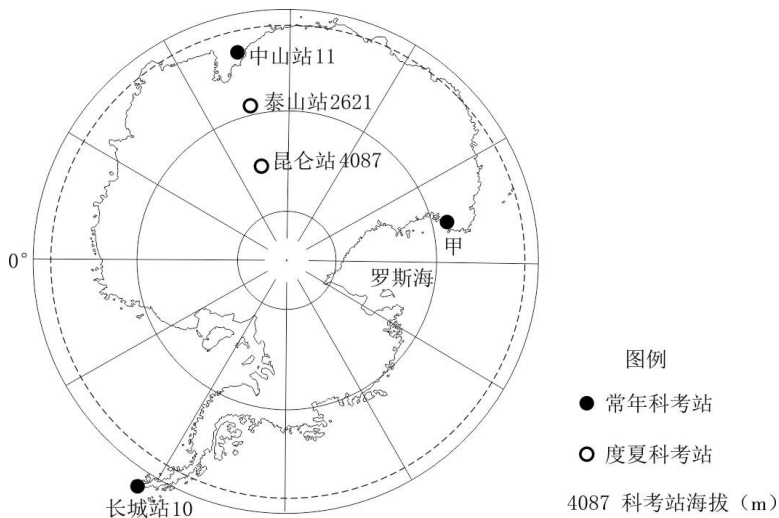


图3

7. 图3中没有极昼极夜现象的科考站、气候最寒冷的科考站分别是
 A. 长城站、昆仑站
 B. 中山站、泰山站
 C. 昆仑站、长城站
 D. 泰山站、中山站
8. 图3中甲地为我国第五座南极科考站选址地点，其位于中山站的
 A. 西南方 B. 东南方 C. 西北方 D. 东北方
9. 本次科考期间，南极地区
 A. 气温较高、白昼较长

- B. 冰层厚度较大
- C. 气温较低、白昼较短
- D. 太阳辐射较弱

10. 我国在南极建立科考站的主要目的是

- A. 开发南极地区丰富的淡水资源
- B. 作为游客旅游观光的休息区域
- C. 体验南极地区酷寒的气候特点
- D. 利用独特的环境进行科学实验

西亚被称为“世界石油宝库”，图4显示了西亚石油资源的分布和主要输出路线。读图，回答11~13题。

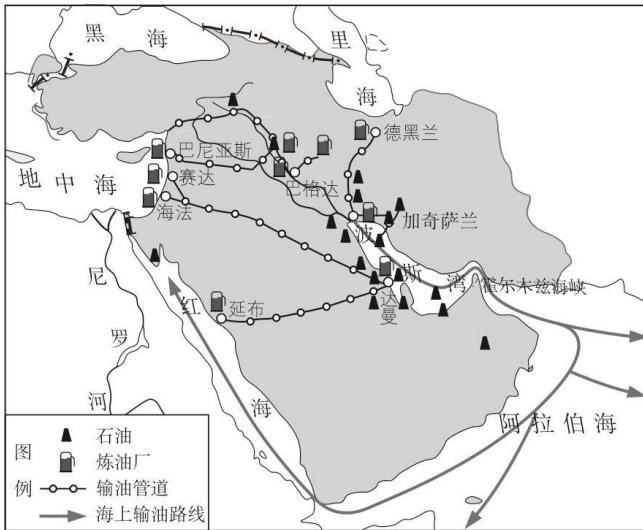


图4

11. 西亚的石油资源集中分布在

- A. 波斯湾及其沿岸
- B. 地中海及其沿岸
- C. 红海及其沿岸
- D. 黑海及其沿岸

12. 西亚石油输出的主要方式是

- ①铁路运输
- ②公路运输
- ③海洋运输
- ④内河运输
- ⑤管道运输

- A. ①②
- B. ②④
- C. ①⑤
- D. ③⑤

13. 石油是非可再生资源。西亚各产油国采取的可持续发展措施是

- A. 开采煤炭等其它矿产
- B. 开发其他国家石油资源
- C. 发展旅游等第三产业
- D. 发展种植业为主的农业

读“亚洲30°N地形剖面图”(图5)及相关图册，完成14~16题。

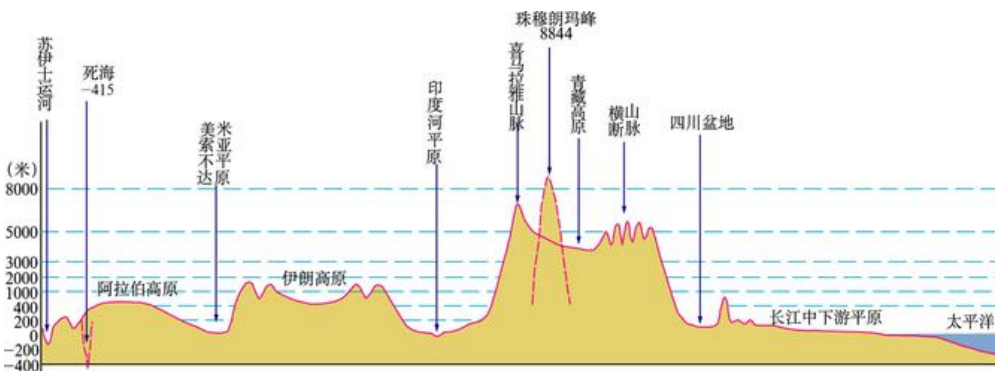


图5

14. 亚洲海拔最高、最低两地的相对高度约为

- A. -415 米 B. 8844 米 C. 9259 米 D. 8429 米

15. 图中苏伊士运河是

- A. 亚洲与欧洲分界线 B. 亚洲与非洲分界线 C. 亚洲与北美洲分界线 D. 亚洲与大洋洲分界线

16. 从图中可以获取亚洲的地形特征是

- ①地形类型复杂多样 ②地势起伏大 ③平均海拔比非洲低 ④平原面积大

- A. ①③ B. ③④ C. ①② D. ②④

读“中南半岛示意图”(图6), 完成17~19题。

17. 中南半岛山脉的大体走向是

- A. 南北走向 B. 东北-西南走向
C. 东西走向 D. 弧形走向

18. 中南半岛城市多沿

- A. 海岸线分布 B. 山脉分布
C. 国界线分布 D. 河流分布

19. 中南半岛是世界著名的稻米产区,

其优越的自然条件主要有

- ①雨热同期 ②地形平坦
③土壤肥沃 ④地广人稀

- A. ②③④ B. ①③④ C. ①②③ D. ①②④

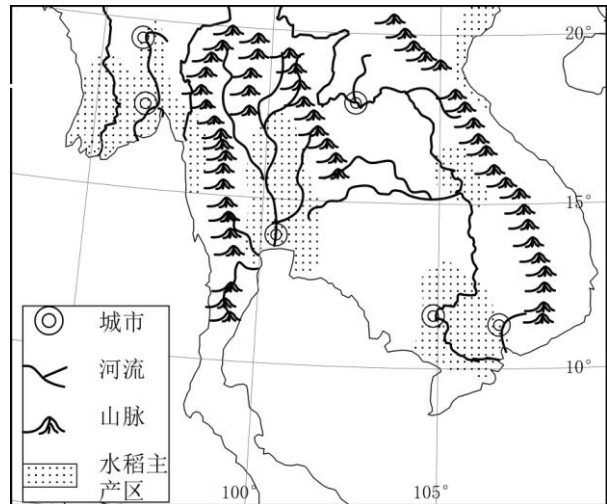


图6

20. 马六甲海峡被称为世界海上运输的咽喉, 主要因为它

- ①是欧洲通往东亚最短航线的必经之地
②所在海域风大浪急
③是连接太平洋与印度洋的海上通道 ④地处五海三洲之间

- A. ②④ B. ①③ C. ①② D. ③④

央视纪录片《北极, 北极!》在2016年4月22日震撼播出。第五集《航道破冰》中提到, 气候变暖使海冰迅速消融, 给北极地区海上通航带来了可能。片中回顾了我国在北极航道的探索: 中远集团“永盛”号货轮从中国大连出发, 于2013年09月10日停靠荷兰鹿特丹港, 成为第一艘经过北极东北航道完成亚欧航线的中国商船。读图7, 完成21~23题。



图7

21. 航道 B 的开通，可以缓解

- A. 霍尔木兹海峡的运输压力
- B. 巴拿马运河的运输压力
- C. 土耳其海峡的运输压力
- D. 马六甲海峡的运输压力

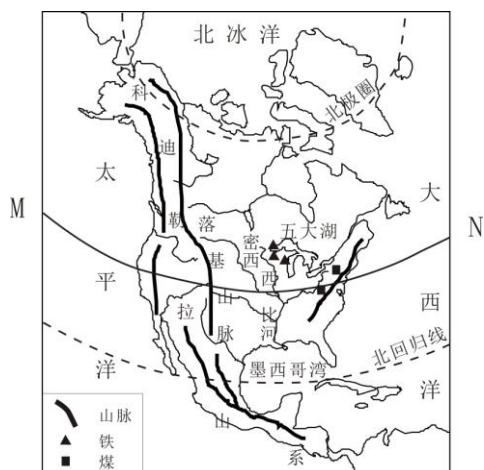
22. 和航线 A 相比，航线 B 最突出的优势是

- A. 可全年通航
- B. 运输量大
- C. 运输距离短
- D. 不需要破冰船领航

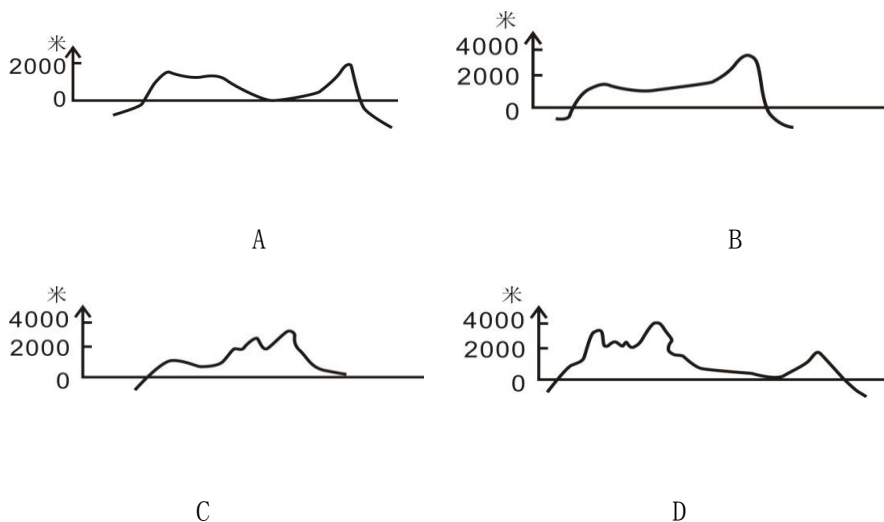
23. 下列国家因北极航道的开通，受益最大的是_____（选择填空）。

- A. 日本—澳大利亚
- B. 中国—英国
- C. 印度—巴西
- D. 美国—加拿大

读图 8，完成 24、25 题



24. 下列地形剖面图中，能够体现沿图 8 中 MN 一线的地势特点的是



25. 下列关于北美洲自然地理特征的叙述，正确的是

- A. 西部为山地，东部为平原
- B. 西部有高大的科迪勒拉山系
- C. 五大湖附近有丰富的镍矿
- D. 密西西比河向东注入墨西哥湾

二、你会阅读图文资料，提取相关信息，按要求解决问题吗？运用你所学的地理知识和技能，回答 26~28 题。（共 50 分）

26. 读图 9、10 和文字资料，完成下列各题。（22 分）

- (1) 非洲大陆东临_____洋，西临_____洋，东北部与_____洲相邻。
- (2) 非洲大陆上赤道附近的西部地区，分布的气候类型主要是_____气候，而赤道附近的东部地区，分布的气候

类型主要是_____气候。产生这一现象的主要影响因素是_____。

(3) 非洲大陆以_____地形为主，地势特点是_____高、_____低。北部有世界上最大的_____沙漠。尼罗河大致流向是_____。

(4) 非洲大陆主体位于_____（纬线）之间，以_____（热量带）气候为主。通过学习我们知道大多数河流的流量与流经地区降水量密切相关。据此推断，图 6 三条河流中，流量最大是_____河。

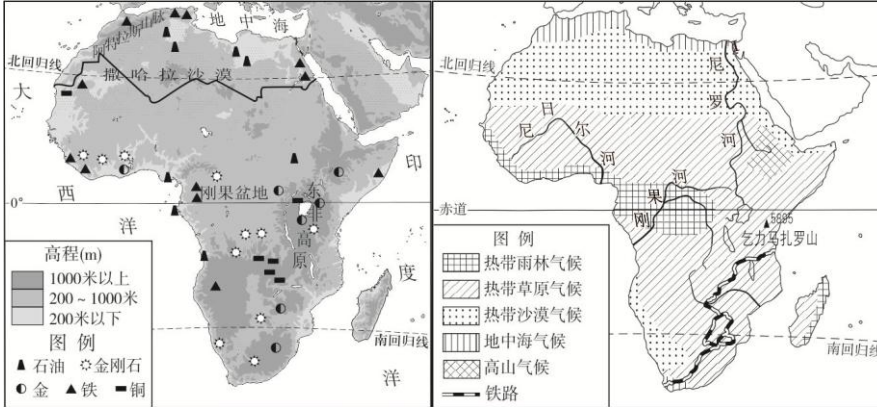


图 9

图 10

随着毕淑敏的游记《非洲三万里》畅销，越来越多的人知道“非洲之傲”列车，线路如图 6 所示。

(5) 铁路线穿过地区大多数居民属于_____人种。

(6) 铁路沿线有非洲最大的野生动物保护区，在其中我们看到的动物是_____（选择填空）。

- A. 狮子
- B. 大象
- C. 长颈鹿
- D. 牦牛

(7) “非洲之傲”线路北段行驶在我国援建的坦赞铁路上，修建该铁路最初是为了解决沿线_____矿石出口的问题。至今，_____（热量带）经济作物和矿产资源仍是非洲的主要出口产品。



图 11

(8) 茅草屋是非洲南部热带草原的典型民居，如图 11 所示，一般用树枝、木棍构架，房顶铺茅草。试着分析茅草屋与周围自然环境的关系。（合理即可）

27. 2017 年 5 月 14 日至 15 日，“一带一路”国际合作高峰论坛在北京举行。国家主席习近平出席并发表主旨演讲。

习主席在论坛中提出要在科学、教育、文化等各领域广泛开展合作。阅读图文资料，回答下列问题。（18 分）

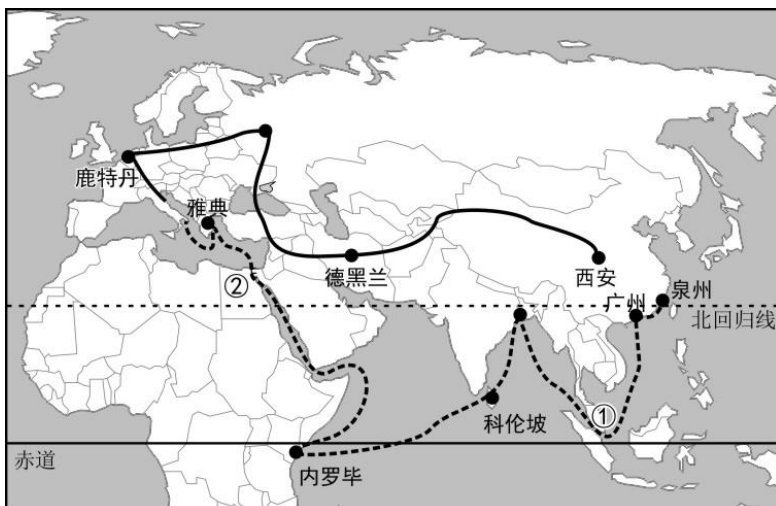
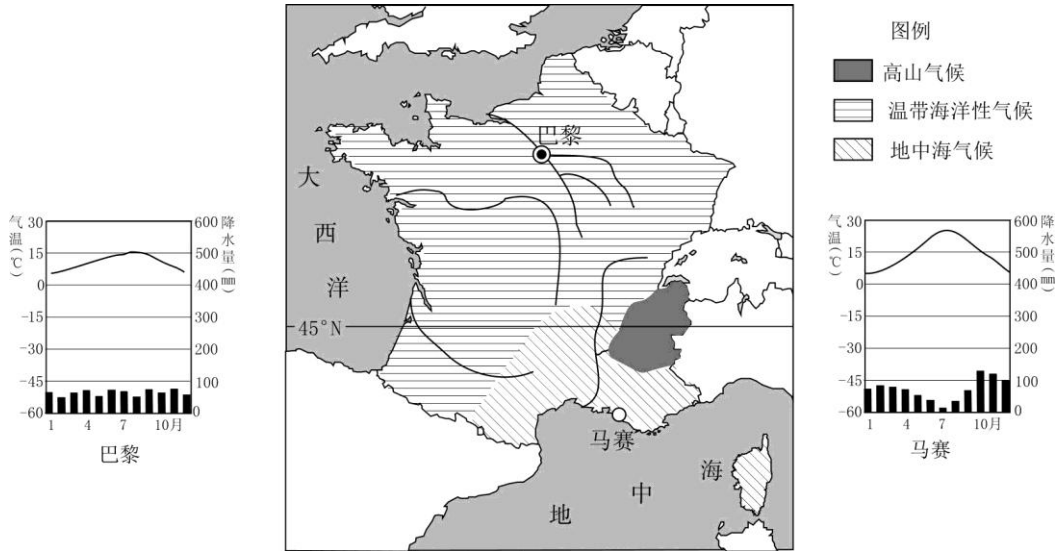


图 12

图例 ———— 丝绸之路经济带 - - - - - 海上丝绸之路

资料 1：2014 年至 2016 年，中国同“一带一路”沿线国家贸易总额超过 3 万亿美元。中国对“一带一路”沿线国家投资累计超过 500 亿美元。中国企业已经在 20 多个国家建设 56 个经贸区，为有关国家创造近 11 亿美元的税收和 18 万个就业岗位。

资料 2：2017 年 3 月 27 日，新西兰与中国签署“一带一路”合作协议，成为首个签署相关协议的西方发达国家。新西兰并不属于一带一路沿线国家，却积极签署了合作协议。



(1) 21 世纪海上丝绸之路经济带，连接了_____洲、_____洲和_____洲三个大洲，经过①_____海峡和②_____运河。

(2) 东南亚和西亚都是“一带一路”所经区域，比较区域差异，完成下列表格。

项目 \ 区域	东南亚	西亚
海陆位置	连接东亚和大洋洲，沟通_____洋和_____洋。	地处“_____海_____洲”之地。
降水特征	年降水量_____。	年降水量_____。
资源状况	盛产_____、油棕等_____（温度带）经济作物。	_____资源丰富，主要分布在_____及其沿岸地区。

(3) 陆上和海上丝绸之路均从中国延伸到_____（地理区域），从经济发展水平看，该地理区域的国家多为_____国家。

(4) 新西兰_____（属于、不属于）“一带一路”沿线国家，新西兰积极签署合作协议，有利于两国在科学、_____等各领域广泛开展合作。

28. 北京市初中生郝佳，寒假期间接待了法国交流学生巴尔。让我们一起进入巴尔的微信。阅读图文资料，回答下列问题。（12 分）

(1) 巴尔刚到北京就发了朋友圈，他的法国朋友立刻回复，并给他提出问题（如图 14）。


请你帮巴尔回复阿道夫：

虽然北京纬度位置比巴黎_____，但冬季气温比巴黎低。巴黎为_____气候，冬季（气温）_____。北京为_____气候，冬季（气温）_____。



图 14

(2) 读图 15，请你为巴尔挑选美食照片_____（选择填空），并帮忙分析：



法国地处西欧，大部分地区地形_____，气候全年温和，降水季节分配_____，有利于多汁牧草的生长，因而适宜发展_____业（农业类型）。

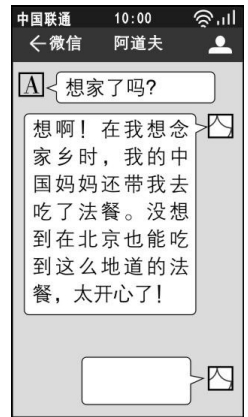


图 15

(3) 读图 16，请你帮忙解释：

法国南部濒临_____海，气候类型是_____，那里夏季_____（气候特点），适合葡萄生长，因而葡萄酒的产量居世界前列，这也是法餐中必不可少的饮品。

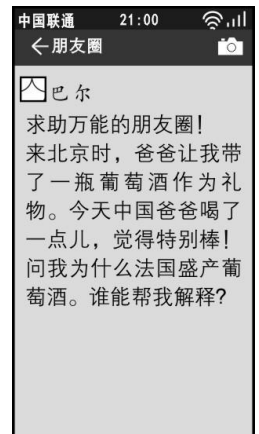


图 16

地理试题答案



1	2	3	4	5	6	7	8	9	10
C	B	A	D	B	C	A	B	A	D
11	12	13	14	15	16	17	18	19	20
A	D	C	C	B	C	A	D	C	B
21	22	23	24	25					
D	C	B	D	B					

26. 本题共 22 分。

(1) (3 分) 印度 大西 亚

(2) (3 分) 热带雨林 热带草原 地形

(3) (5 分) 高原 东南 西北 撒哈拉 自南向北

(4) (3 分) 南北回归线 (或 $30^{\circ} \text{N}-30^{\circ} \text{S}$) 热带 刚果

(5) (1 分) 黑色

(6) (3 分) A B C

(7) (2 分) 铜 热带

(8) (2 分) 茅草取材容易；热带气温高，遮阳、透气效果比较好；茅草在湿季时可以起到挡雨的效果。(合理即可，至少两点)

27. 本题共 18 分。

(1) (5 分) 亚 非 欧 马六甲 苏伊士

(2) (9 分)

太平 印度 五 三

多 少

天然橡胶 (或椰子、马尼拉麻) 热带 石油 波斯湾

(3) (2 分) 欧洲西部 发达

(4) (2 分) 不属于 教育 (文化、经贸、农业、电子商务、教育、知识产权保护、环保)

28. 本题共 12 分。

(1) (5 分) 低 温带海洋性 温和 温带季风 寒冷

(2) (4 分) A 平坦 均匀 乳畜 (畜牧)

(3) (3 分) 地中海 地中海气候 炎热干燥