



学校 \_\_\_\_\_ 班级 \_\_\_\_\_ 姓名 \_\_\_\_\_ 考号 \_\_\_\_\_

- 考生须知**
1. 本试卷共 11 页, 34 道小题。满分 90 分。考试时间 90 分钟。
  2. 在试卷和答题卡上准确填写学校名称、班级、姓名和考号。
  3. 试题答案一律填涂或书写在答题卡上, 在试卷上作答无效。
  4. 在答题卡上, 选择题用 2B 铅笔作答, 其他试题用黑色字迹签字笔作答。
  5. 考试结束, 将本试卷、答题卡和草稿纸一并交回。

第一部分 选择题(共 45 分)

本部分共 30 小题, 每小题 1.5 分, 共 45 分。在每小题列出的四个选项中, 选出最符合题目要求的一项。

1. 一座博物馆的常规展览中有骨耜、稻谷遗存、复原的干栏式房屋等展品。这座博物馆应是
  - A. 北京人遗址博物馆
  - B. 半坡博物馆
  - C. 河姆渡遗址博物馆
  - D. 殷墟博物馆
2. 商王盘庚迁都于殷, 在此传位十二王, 创造了辉煌的商代文明。以下考古发现能说明这一观点的是



①



②



③



④

- A. ①②
- B. ①③
- C. ①④
- D. ②③

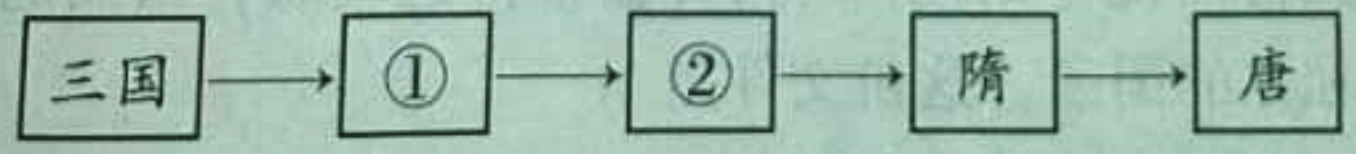
3. 《左传》记载:“天子建国, 诸侯立家, 卿置侧室, 大夫有二宗”。这一制度建立于
  - A. 夏朝
  - B. 商朝
  - C. 西周
  - D. 春秋

4. 一位同学在作文中引用了以下名言。这些名言出自

己所不欲, 勿施于人。  
君子所性, 仁义礼智根于心。  
富贵不能淫, 贫贱不能移, 威武不能屈。

- A. 儒家
- B. 墨家
- C. 道家
- D. 法家

5. 以下示意图中①②的时代特征是



- A. 社会动荡与变革
- B. 大一统局面的开创
- C. 政权分立与民族交融
- D. 繁荣与开放的社会



6. 唐太宗把太子成年礼这一重大礼仪,由农忙的二月改在十月举行。进攻突厥这样的重要战争,也放在十月到次年一月的冬闲时进行。以上材料说明唐太宗
- A. 以民为本,避免干扰生产  
B. 虚心纳谏,变革礼仪制度  
C. 善于谋略,选准作战时机  
D. 提倡节俭,减轻人民负担

7. 宋金对峙时期,约 500 万北方移民迁入江南地区;另一方面,南宋政府大力发展农业生产。材料反映出
- A. 江南地区得到初步开发  
B. 经济重心南移的基本过程  
C. 经济作物种植面积扩大  
D. 经济重心南移的主要原因

8. 近几十年,东南亚、印度、阿拉伯地区和非洲等地都发现了 15 世纪初期中国的青花瓷。这些发现可以用来研究
- A. 张骞通西域  
B. 玄奘西游  
C. 鉴真东渡  
D. 郑和下西洋

9. 顺治皇帝册封五世达赖与乾隆皇帝平定大小和卓叛乱的共同作用是
- A. 加强了对西藏地区管理  
B. 巩固了统一多民族国家  
C. 增进了与外国友好往来  
D. 安定了我国的西北边疆

10. 以下四幅疆域示意图排序正确的是



- A. ②①③④  
B. ②①④③  
C. ①②③④  
D. ①②④③

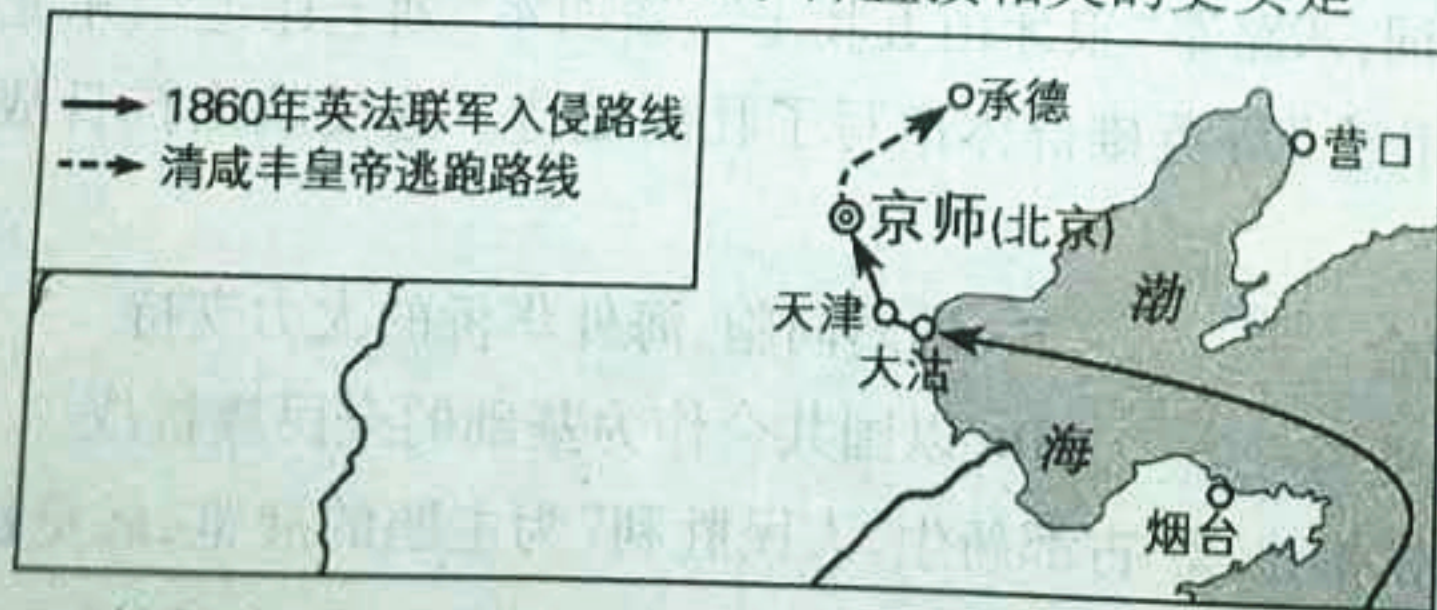
11. 历史事实是对历史的客观描述,历史观点是对史实的看法。下列选项中属于历史观点的是

- A. 闭关自守使中国落后于世界发展的潮流  
B. 乾隆时期只开放广州一处作为通商口岸  
C. 清政府严格限制出海贸易船只的载重量  
D. 清朝统治者认为中国物产丰富无所不有

12. 一位历史学家说:这一事件是中国人民反抗西方殖民主义侵略斗争的伟大起点。此事件是

- A. 虎门销烟  
B. 金田起义  
C. 义和团运动  
D. 武昌起义

13. 与以下地图所反映的历史事件直接相关的史实是



- A. 签订中英《南京条约》  
B. 英法联军火烧圆明园  
C. 甲午战争中清军战败  
D. 改总理衙门为外务部







14. 以下内容共同反映出洋务运动

- ★ 创办了第一批近代军事工业: 安庆内军械所、江南制造总局等
- ★ 兴办了第一批近代民用企业: 轮船招商局、开平矿务局等
- ★ 建立了第一批近代海军: 南洋、福建和北洋三支海军

- A. 推动了中国民族资本主义发展      B. 抵御了西方列强的经济侵略  
C. 使中国迈出了近代化的第一步      D. 使近代社会生活发生了变化

15. 一位同学分类梳理中国近代历史人物, 其中①处应填

- 类别一: 曾国藩 李鸿章 张之洞  
类别二: 康有为 谭嗣同 ①  
类别三: 聂耳 徐悲鸿 齐白石  
类别四: 佟麟阁 赵登禹 张自忠

- A. 邓世昌      B. 梁启超      C. 张謇      D. 孙中山

16. 右侧漫画反映的是

- A. 废除科举制  
B. 新文化运动  
C. 反对北洋军阀  
D. 剪发辫易服饰



17. 下图是一位同学保留的景区门票, 在此景区可以了解的历史是



- A. 中国共产党第一次全国代表大会的召开  
B. 国共两党合作, 国民革命军誓师北伐  
C. 中国共产党创建第一个农村革命根据地  
D. 红军三大主力会师, 胜利完成了长征

18. 《复兴之路》展览中有一段解说词: 八路军“狼牙山五壮士”、新四军“刘老庄连”、东北抗联八位女战士、国民党军“八百壮士”等英雄群体谱写了壮丽史诗。这反映出抗日战争胜利的原因是

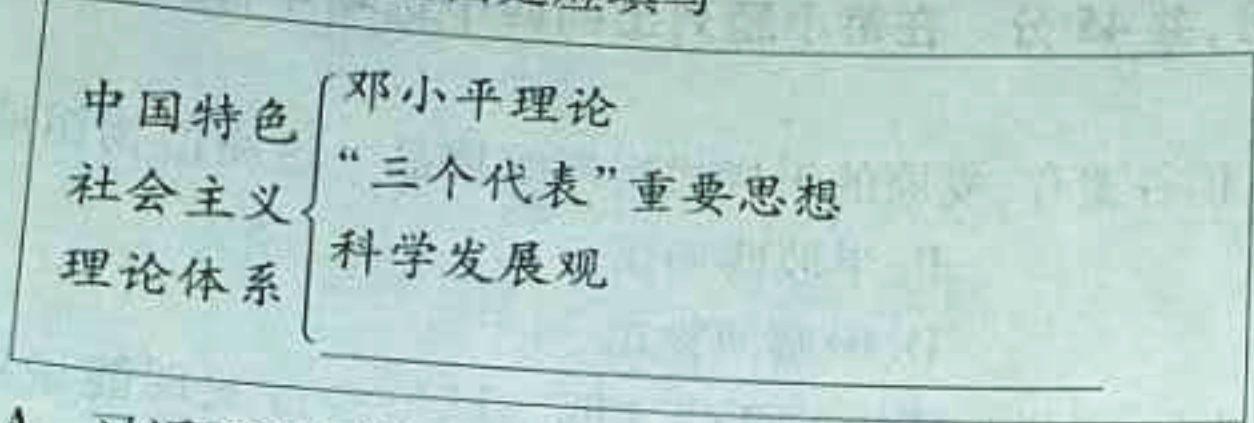
- A. 世界反法西斯同盟的密切配合      B. 港澳同胞、海外华侨的大力支持  
C. 中国人民的抗战是正义的事业      D. 以国共合作为基础的全民族抗战

19. 2019年1月31日, 北京市档案馆推出以“古都新生, 人民胜利”为主题的展览, 展览包括和谈成功、定都北京等部分。与展览主题直接相关的是

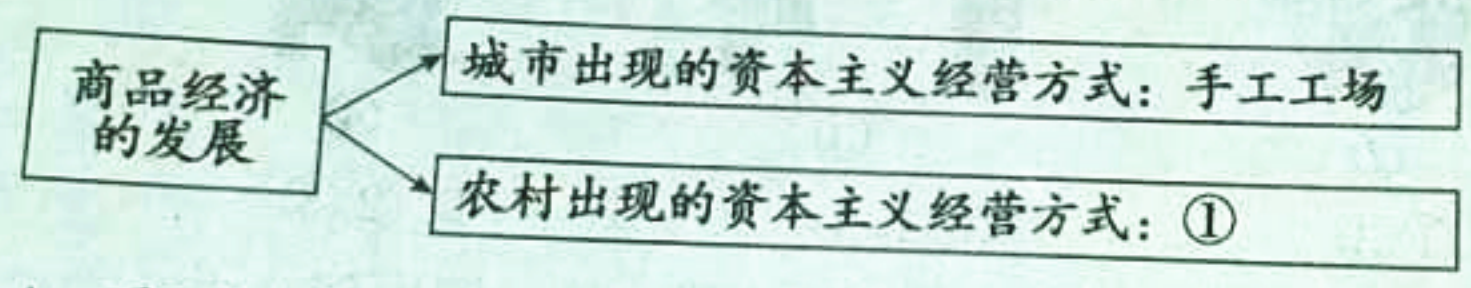
- A. 辽沈战役      B. 淮海战役      C. 平津战役      D. 渡江战役



20. 毛泽东在中国人民政治协商会议第一届全体会议上说：“占人类总数四分之一的中国人从此站立起来了。”对此理解正确的是
- ①中国结束百年屈辱，成为独立自主的国家
  - ②各阶层人民享有政治、经济等民主权利
  - ③废除了封建土地制度，农民获得了土地
  - ④我国已经建设成为社会主义工业化强国
- A. ①②                      B. ②③                      C. ③④                      D. ①④
21. “一五”计划期间，我国第一座电子管厂在北京市朝阳区建成。同一时期，我国取得的成就还包括
- A. 全国基本完成土地改革
  - B. 基本完成了“三大改造”
  - C. 研制成功原子弹和氢弹
  - D. 载人航天飞船发射成功
22. 以下示意图中空白处应填写



- A. 习近平新时代中国特色社会主义思想
  - B. 人民代表大会制度
  - C. 中国共产党领导的多党合作和政治协商制度
  - D. 民族区域自治制度
23. 14 世纪以后，西欧城市和农村都出现了新的变化。以下示意图中①处应填



- A. 手工行会                      B. 庄园经济                      C. 圈地运动                      D. 租地农场
24. 与欧洲大陆的君主专制相比，这才是真正意义的、具有永久性的英国革命。如果一位君主既不能控制财政，又不能控制军队，那么他根本就算不上真正的君主。对材料解读正确的是
- A. 专制王权引发了英国资产阶级的不满
  - B. “光荣革命”采用了不流血的和平方式
  - C. 英国资产阶级革命废除了国王
  - D. 英国创造并确立了君主立宪制
25. 一份文件列举了英国国王向殖民地强行征税等 27 条罪行，并宣布：“这些联合殖民地应成为而且名正言顺地应当成为自由独立的国家。”这份文件是
- A. 《权利法案》
  - B. 《独立宣言》
  - C. 《人权宣言》
  - D. 《解放黑人奴隶宣言》





26. 右图中英国农业人口占总人口百分比变化的主要原因是

- A. 英国的殖民扩张
- B. 英国资产阶级革命
- C. 两次工业革命
- D. 第一次世界大战



27. 以下《19世纪60~70年代俄国制造业统计表》说明

年份	企业数(个)	工人数(人)	产值(千卢布)
1860	99	11600	7954
1879	187	42000	51937

- A. 彼得一世改革开启了俄国近代化进程
  - B. 俄国加强了沙皇专制统治,强化农奴制
  - C. 克里米亚战争的失败是俄国改革的催化剂
  - D. 亚历山大二世改革推动了俄国资本主义发展
28. 他推断月亮越靠近地球,“吸引力”越大,从而把海水引向自己。随着地球的转动,大海的某一区域离月亮时近时远,引力也随之增强减弱,这样我们就看到了海洋的涨潮和退潮。材料中的“他”是
- A. 牛顿
  - B. 瓦特
  - C. 达尔文
  - D. 爱因斯坦
29. 第二次世界大战中,规定了“日本所窃取于中国之领土,例如满洲、台湾、澎湖群岛等”归还中国的文件是
- A. 《联合国宣言》
  - B. 《开罗宣言》
  - C. 《雅尔塔协定》
  - D. 《波茨坦公告》
30. 一位同学用教材梳理“殖民地人民反抗斗争”专题,在“第一次工业革命及其影响”单元找出了拉丁美洲独立运动的史实;在“第一次世界大战及战后世界秩序”单元找出了印度非暴力不合作运动的史实。在“二战后世界的变化”单元应找出的史实是
- A. 苏联的改革
  - B. 西方国家建立社会保障制度
  - C. 非洲独立年
  - D. 世界贸易组织建立

## 第二部分 材料分析题 (共 45 分)

31. (13分)近代以来,国际秩序不断朝着公正合理的方向发展。

材料一 哥伦布发现新大陆后不到10年,葡萄牙从非洲向美洲贩运了第一批黑奴。奴隶贸易给英国利物浦商人带来的直接利润是每年30万英镑,利物浦发展成为当时世界最大的港口。而在非洲腹地,一些欧洲探险家看到破败荒凉景象不禁哀叹:非洲“内地的劳动力枯竭了……非洲每个毛孔都在流血。”

——摘编自艾周昌等《非洲通史》

(1)依据材料一,说出奴隶贸易的背景。(1分)分析奴隶贸易对欧洲和非洲的不同影响。(2分)





## 材料二

战胜国的主要目的	
美国	攫取战后世界的领导权,建立一个普遍性的国际组织
英国	维护自身世界霸权,提出消灭德国海军
法国	争夺欧洲大陆霸权
日本	使战时占领的山东等地合法化,独占中国,称霸亚太地区

《凡尔赛条约》部分内容
① 重划德国疆界。德国在欧洲大陆丧失了13.5%的领土和10%的人口
② 瓜分德国海外殖民地。德国在山东的权益交给日本
③ 限制德国军备。规定陆军不得超过10万人,海军不得拥有主力舰和潜艇
④ 成立国际联盟

——整理自吴于廑 齐世荣《世界史》

(2) 依据材料二,完成表格。(2分)分析凡尔赛体系的实质。(1分)

战胜国	英国	美国	法国	日本
《凡尔赛条约》中体现战胜国目的的内容 (序号不能重复使用)	③			

**材料三** 二战后,美国以欧洲为战略重点推行扩张政策。1947年,杜鲁门在国会发表咨文,宣称世界已分裂为两个敌对阵营,美国负有领导“自由世界”的使命。同年,马歇尔提出“欧洲复兴计划”,指出美国要援助经济困难的欧洲。1949年,美国、加拿大和法国等欧洲10个国家签订了《北大西洋公约》。

——摘编自吴于廑 齐世荣《世界史》

(3) 依据材料三,指出美国在欧洲扩张的表现。(3分)

**材料四** 冷战结束后,美国宣称世界领导地位非它莫属。日本提出以日、美、欧为主导来形成世界新秩序。英国坚持传统的欧洲中心主义。德国强调平等伙伴关系。中国呼吁在和平共处五项原则基础上建立公正合理的国际政治新秩序,强调新秩序的核心是不干涉别国内政和大小国家一律平等。

——摘编自段炳麟等《世界当代史》

(4) 依据材料四,指出当今世界政治格局的发展趋势。(1分)中国提出建立国际新秩序的指导原则是什么。(1分)

**材料五** 全球治理不是由少数国家来治理其他国家。习近平指出:中国秉持共商共建共享的全球治理观,坚持国家不分大小、强弱、贫富一律平等。中国主张国际规则应该由各国共同书写,全球事务应该由各国共同治理,发展成果应该由各国共同分享。

——摘编自人民日报《全球治理中国方案的世界意义》







(5) 依据材料五,概括中国的全球治理观与旧的国际秩序的本质区别。(2分)





32. (12分) 船舶制造技术的发展推动社会进步。

材料一 与中国古代船舶相关的文物

	<p>①杭州萧山发掘出土的独木舟,距今约8000年</p>		<p>②半坡船形彩陶壶,壶身两侧均画有鱼网纹</p>
	<p>③甲骨上的“舟”字,字形像一只木船,有船舷、船头和船尾</p>		<p>④汉代陶船,船尾有长方形船舵,比欧洲的船舵早1000多年</p>
	<p>⑤东汉铜镜中的帆船纹饰,说明我国汉代已有帆船</p>		<p>⑥有水密隔舱的宋代沉船,直到18世纪英国才引进这种技术建造军舰</p>

(1)从材料一中,找出能证明以下结论的史料。(写序号,多选、错选不得分)

史前时期人们已掌握造船技术:\_\_\_\_\_、\_\_\_\_\_;(2分)

中国古代的造船技术领先世界:\_\_\_\_\_、\_\_\_\_\_。(2分)

材料二 有百万人口的北宋东京所需物资主要依靠水运,“汴京四渠”是其重要运输线;南宋时,江南运河以及长江成为新的运输通道。两宋时,海外贸易引起政府关注,为发展远航,港口都有规模很大的造船厂。宋代造船技术高超,打捞出水的南宋沉船“南海一号”长41.8米,载重近425吨。

——摘编自国家博物馆《文物宋元史》

(2)依据材料二,分析宋代造船业兴盛的原因。(2分)

材料三 16世纪,欧洲出现了圆体帆船;葡萄牙人改制了三角帆索具,使船能够更直接地逆风航行。18世纪,蒸汽机被用于水上运输,这极大的改变了世界。1763年以前,欧洲与美洲、澳大利亚的联系主要限制在沿海一带,但在后一世纪中,随着汽船往返于内河和沿海,大陆的内地被横越;欧洲与亚洲、非洲的经济联系得以加强。

——摘编自斯塔夫里阿诺斯《全球通史》

(3)依据材料三,指出18世纪欧洲造船技术的巨大进步,并分析其影响。(2分)





材料四 到1902年,福州船政局共建造兵船等船只39艘。船政局开始雇佣外国技匠,后来自己培养的学生走上了生产岗位。福州船政局派出的留学生归国后,监造的铁肋巡洋舰“开济”号(见右图)是我国历史上吨位最大、航速最高的铁肋巡洋舰,与外国造船技术的差距不断缩小。



——摘编自席龙飞《中国造船史》

(4) 依据材料四,概括福州船政局的成就。(2分)

材料五 我国造船行业近年来打造了不少大国重器。2017年,半潜式钻井平台“蓝鲸1号”成功开采可燃冰,我国成为领先掌握这一技术的国家。2018年,我国自行设计、自主研发的载人潜水器“蛟龙号”下潜到7062米,对我国开发利用深海资源有重要意义。2017年,我国首艘国产航母和055大型驱逐舰正式下水。

(5) 依据材料五,分析造船业中的大国重器对我国的作用。(2分)

33. (10分) 节日文化也是一种历史文化,有深刻的寓意。

材料一 秦汉时期,华夏族逐渐形成一个整体,周边的巴蜀、南越等先后融入其中,成为当时的主导民族“汉族”。汉族许多节日民俗大多出现于秦汉。先秦时因各地历法不一,许多节日均无准确日期,直到秦汉时期历法统一后,许多节日才有了固定日期。

——摘编自周耀明等《汉族风俗史》

(1) 依据材料一,说明秦汉时期我国传统节日定型的主要原因。(2分)

材料二

传统节日	简介
春节	夏朝已有春节,意在庆祝五谷丰登,企盼来年丰收。过节时全家团聚,有接福迎祥、贴春联、放爆竹、守岁、拜年等礼俗
清明节	大约开始于周朝,全家人扫墓祭祖。亲朋好友也一起到郊外放风筝,荡秋千,享受大自然
端午节	大约始于春秋战国时期,赛龙舟、吃粽子是流传最广的习俗,还会给儿童戴五彩丝,企盼驱恶免疾
中秋节	大体形成于唐朝,人们认为中秋满月象征团圆、美满,全家人一起赏月、吃月饼

(2) 依据材料二,概括我国传统节日的特点。(2分)







材料三 1877年,美国工人受巴黎公社启发,进行全国大罢工,迫使国会制定了八小时工作制的法律。1886年5月1日,美、加两国工人举行总罢工,要求实行八小时工作制。此后,五月一日定为国际劳动节。

李大钊等将“五一”劳动节介绍到中国,希望中国工人把它看成觉醒的日子。1920年5月1日,十几个城市的五六万工人集会游行,第一次喊出“劳工万岁”。当天发表的《五月一日北京劳工宣言》提出了中国工人阶级的目前要求和长远奋斗目标。

——摘编自李润波《老报刊见证——“五一”国际劳动节的由来》等

(3) 依据材料三,指出“五一”国际劳动节出现的时代背景。(1分)分析这一节日传入中国后所起的作用。(1分)

材料四 五四运动大事年表(部分)

时 间	大 事
5月4日	北京学生游行示威,北洋军阀逮捕爱国学生
5月5日~5月14日	北京各大专学校总罢课,声援被捕学生
5月14日~6月4日	政府镇压学生运动,1000多名学生被捕
6月5日	上海工人罢工,商人罢市,学生罢课,支持北京学生的爱国运动
6月6日	上海罢工、罢市规模扩大,随后扩展到其他城市
6月8日~6月10日	被捕学生出狱,曹汝霖、章宗祥、陆宗輿被罢免
6月28日	中国代表在巴黎和会上拒签和约

(4) 依据材料四,将五四运动划分为两个阶段,并说出划分依据。(2分)

材料五 1949年中华人民共和国政务院正式宣布5月4日为中国青年节。以下是五四运动主要领导人以及他们对五四运动的认识:

人物	当时年龄	在五四运动中的作用	对五四运动的认识
毛泽东	26	湖南五四运动的领导者	五四运动反对的是卖国政府、出卖民族利益的政府
瞿秋白	20	学生骨干	五四运动在开始时便接近民众,用革命手段为平民奋斗,这是以前运动所没有的
罗家伦	22	学生领袖	五四运动有奋空拳,扬白手,和黑暗势力相斗争的牺牲精神
许德珩	29	学生领袖	要建设科学的新中国,更要建设民主的新中国

(5) 依据材料五并结合所学,说出为什么把5月4日定为中国青年节。(1分)谈谈你对五四精神的理解。(1分)



34. (10分)长安街被称为“神州第一街”,是国家形象的象征。某历史社团开展了长安街考察活动。

**【图文研究】**

材料一 明清时,长安街东起东单,西至西单,全长3.7公里,中间被一个丁形宫廷广场阻断,不许百姓通行。广场东西两侧是中央官署(见右图),东侧为吏部、户部等文官机构,西侧为五军都督府、锦衣卫(明代)、刑部等(清代)。



明清长安街略图

- (1)指出右图中长安街的位置。(写序号,1分)依据材料一,说出明清时期长安街及两侧建筑布局所反映的特点。(1分)

材料二 1901年后,东长安街至南城墙的区域(《明清长安街略图》中④处)为外国人专用,中国人不能在界内居住。1912年,天安门广场和长安街的封闭格局被打破,东西长安街终于得以贯通,天安门广场也开始对外开放。

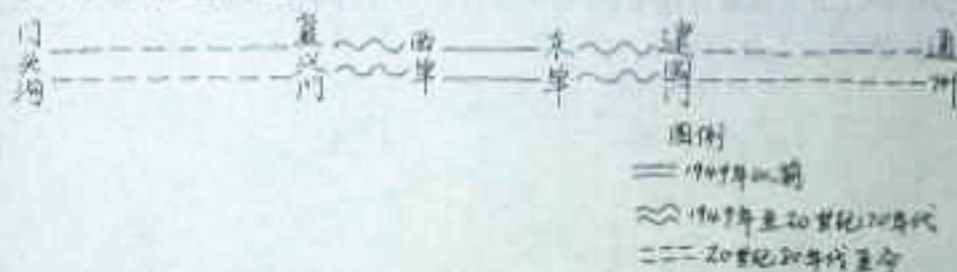
——摘编自程光中等《天安门广场——长安街规划思考》

- (2)依据以上材料并结合所学,说出《明清长安街略图》中④处不许中国人居住的原因。(1分)说出与打破长安街封闭格局相关的历史事件。(1分)

**【实地考察】**

材料三 考察笔记1

★ 长安街变迁示意图



★ 建国以来长安街(复兴门至建国门)修建的建筑物主要功能(单位:座)

时期	行政	文化	服务	商业	金融	科研
1950-1977年	5	4	6	0	0	0
1978-2017年	7	7	5	13	6	1

- (3)依据材料三,说出1978年前后长安街发生的变化。(2分)结合所学,分析发生变化的原因。(1分)





【成果运用】

材料四 考察笔记2——长安街沿线重要建筑(部分)

国家大剧院:举办歌剧、话剧、音乐会、舞蹈、戏曲等演出,其中包括国际戏剧季、国际钢琴系列等

人民大会堂:全国人民代表大会和中国人民政治协商会议在此召开

天安门广场:开国大典;纪念中国人民抗日战争暨世界反法西斯战争胜利70周年阅兵式

故宫博物院:保存最完整的皇家建筑群,收藏的文物数量达180余万件(套)

国家博物馆:收藏140余万件藏品,其中有近6000件国家一级文物

建国饭店:我国第一家中外合资饭店,1982年,在东长安街开业

中央商务区(CBD):区域内集中了跨国公司地区总部50家,国际金融机构252家。同时,通过展览馆、会展中心等举办大型国际会议和展览

(4)北京“四个中心”定位是全国政治中心、文化中心、国际交往中心、科技创新中心。依

据材料四,说出长安街与其中一个中心的关系。(史实恰当,逻辑清晰,2分)

示例:国家博物馆藏品数量多,质量精,承载了中国优秀传统文化和革命文化,为我们了解历史提供了宝贵资源,体现了北京作为文化中心的深厚底蕴。

材料五 《北京城市总体规划(2016年—2035年)》中提到北京城市空间结构中的“一轴”：“长安街及其延长线以天安门广场为中心东西向延伸……向西延伸至首钢地区、永定河水系、西山山脉，向东延伸至北京城市副中心和北运河、潮白河水系。”

(5)依据以上北京市总体规划,长安街在延伸过程中如何进一步体现国家形象,提出你的建议。(1分)

