



考生须知	1. 本试卷共 11 页，共两部分，34 道小题。满分 90 分。考试时间 90 分钟。 2. 在试卷和答题纸上准确填写姓名、学校、班级和座位号。 3. 试题答案一律填涂或书写在答题纸上，在试卷上作答无效。 4. 在答题纸上，试题用 2B 铅笔作答，其他试题用黑色字迹签字笔作答。 5. 考试结束，将本试卷和答题纸一并交回。
------	--

第一部分选择题(共 45 分)

本部分共 30 小题，每小题 1.5 分，共 45 分。在每小题列出的四个选项中，选出最符合题目要求的一项。

1. 一位同学在某处原始居民遗址博物馆里看到了下列展品。据此判断，当时生活在这里的原始居民



干栏式建筑复原图



猪纹陶钵




骨耜



栽培稻谷遗存

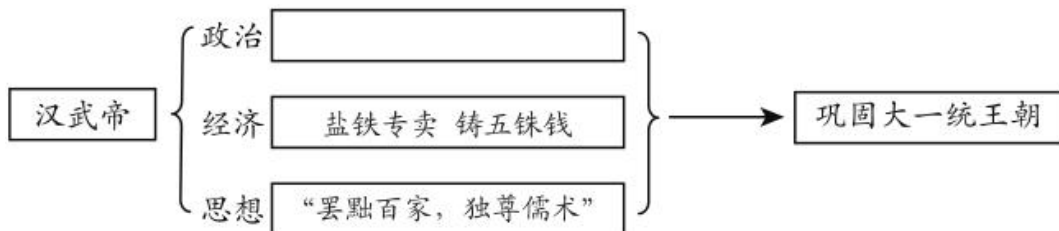
- A. 已经发明使用了文字
- B. 逐渐产生了阶级分化
- C. 过上定居生活从事农业生产
- D. 实行禅让推选部落联盟首领

2. 下面这组漫画反映的历史现象是



- A. 王室衰微
- B. 百家争鸣
- C. 政权对峙
- D. 民族交融

3. 绘制示意图是历史学习的重要方法。下图是一位同学的学习笔记，其中空格处应是



- A. 治理黄河
- B. 休养生息
- C. “推恩令”
- D. 北击匈奴

4. 与下列食物传人中原有关的历史事件是



胡豆(蚕豆)



胡麻(芝麻)



胡桃(核桃)



- A. 张赛通西域 B. 玄奘西行 C. 鉴真东渡 D. 郑和下西洋

5. 日本史学家宫崎市定认为:由于“他”的汉化政策,“以新都洛阳为中心出现了汉文化的复兴”,“他”也“由鲜卑国主化为中华皇帝”。“他”是

- A. 汉高祖 B. 北魏孝文帝 C. 唐太宗 D. 元世祖

6. 下列关于历史人物贡献表述正确的是

- A. 秦始皇:统一文字,把隶书作为通行全国的规范文字
 B. 曹操:兵败赤壁后退回北方,建立魏国形成三国鼎立局面
 C. 祖冲之:世界上第一次把圆周率推算到小数点以后第七位
 D. 毕异:改进造纸术,为世界文明发展做出伟大贡献

7. 对以下两幅地图解读正确的是

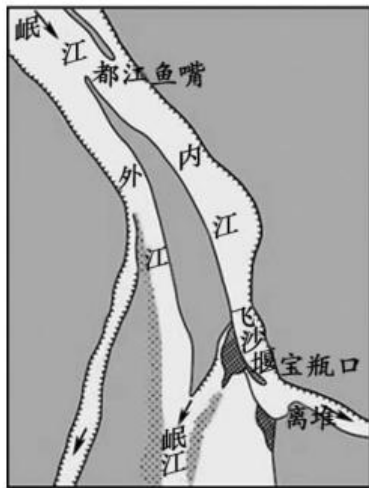


图 1

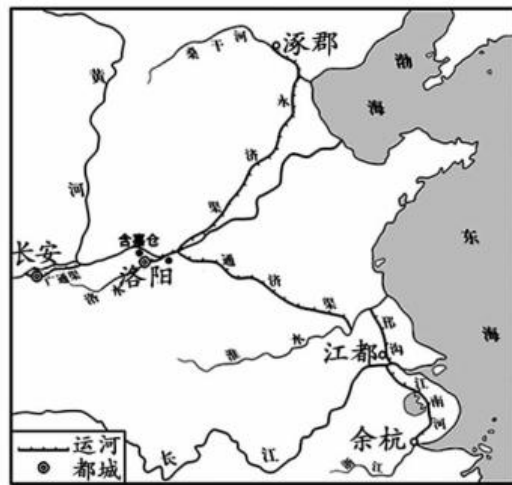
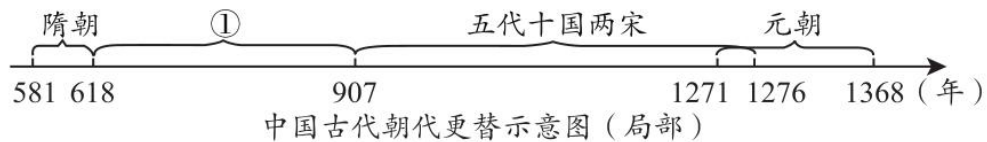


图 2

- A. 图 1 修凿后使成都地区成为“天府之国” B. 图 2 开通后完成了经济重心南移
 C. 图 1、图 2 都是沟通南北的重要水利工程 D. 图 1、图 2 都开凿于春秋战国时期

8. 与以下示意图中①相关的史实是



- A. 统一南北,创立科举 B. 贞观之治,安史之乱
 C. 黄袍加身,政权并立 D. 管理西藏,行省制度

9. 宋初文举每次录取进士至多 10 余人,后科举规模逐渐扩大,每次录取进士增至数十人,乃至 200 余人。相反,北宋武举开科取士 28 榜,共录取 868 人。这一历史现象反映出宋朝

- A. 等级森严 B. 商业繁荣 C. 重农抑商 D. 重文轻武

10. 阅读历史书籍需要关注章节标题，从而把握内容的主旨。与下面目录相关的主题应该是



第14课 明朝的统治
第15课 明朝的对外关系
... ..
第19课 清朝前期社会经济的发展
第20课 清朝君主专制的强化

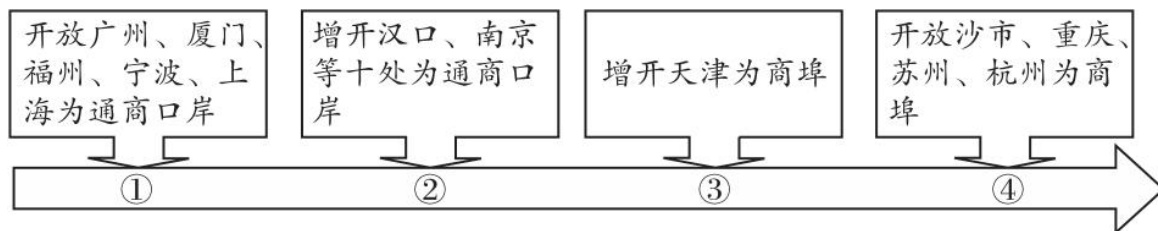
- A. 政权分立与民族交融 B. 繁荣与开放的时代
C. 民族关系发展和社会变化 D. 统一多民族国家的巩固与发展

11. 下面图示为石浩同学在介绍“中国古代文学作品主流形式变化”时所做。这一变化是为了适应



- A. 统治阶级文化需求 B. 市民阶层壮大后的文化需求
C. 中央集权不断加强 D. 儒家思想正统地位逐步提高

12. 以下图示从某个角度反映了中国近代民族危机的不断加深，其中①应填写的不平等条约是



- A. 《南京条约》 B. 《北京条约》 C. 《马关条约》 D. 《辛丑条约》

13. 与“自强”“求富”这一口号有关的历史事件是

- A. 洋务运动 B. 戊戌变法 C. 辛亥革命 D. 新文化运动

14. 著名历史学家章开沅说：“1895年中国有三个人各自作出自己一生最重要的选择：康有为选择了变法，孙中山选择了革命，张 V 选择了实业。”与“张 V 选择了实业”有关的是

- A. 创办湖北织布局 B. 创办轮船招商局 C. 创办大生纱厂 D. 创办汉阳铁厂

15. 下列选项中因果关系对应正确的是

- A. 戊戌变法—确立君主立宪制统治
B. 辛亥革命—终结中国两千多年君主专制制度
C. 国民大革命—推翻清王朝统治
D. 南昌起义—建立第一个农村革命根据地

16. “滚滚延河水，巍巍宝塔山，枣园油灯亮，红日照 _____”。这首歌歌颂了抗日战争时期敌后战场的战略总后方与指挥中枢。_____中可以填入的是

- A. 瑞金 B. 太原 C. 延安 D. 西柏坡

17. 九年级同学在撰写论文时提到:中国的抗日战争是世界反法西斯战争的重要组成部分，为世界反法西斯战争做出重要贡献。以下史实中可以印证这一观点是

- ①中国与日本侵略者艰苦战斗了 14 年
 ②二战中中国参战人数 4.5 亿，占世界总参战人数的 23%
 ③二战中中国牵制日军 240 万人
 ④美国向日本投掷两颗原子弹

- A. ①②③ B. ②③④ C. ①③④ D. ①②④

18. 右侧地图反映的历史事件是

- A. 辽沈战役
 B. 淮海战役
 C. 平津战役
 D. 渡江战役



19. 下表是 1957 年我国钢煤电生产的统计表，表中数据出现这样变化的原因是

项目	钢产量	煤产量	发电量
比 1952 年增长	296%	96%	166%
比 1949 年增长	33.9%	4 倍	4.5 倍
比旧中国最高年产量增长	5.8%	2.1 倍	5.2 倍

- A. 开国大典 B. 一五计划 C. 大跃进 D. 改革开放

20. 在庆祝改革开放 40 周年大会上，党中央、国务院授予 100 名同志改革先锋称号，袁隆平获得的称号是

- A. 海洋维权的模范 B. 中医药科技创新的优秀代表
 C. 激励青年勇攀科学高峰的典范 D. 杂交水稻研究的开创者

21. 同学们在进行自主学习时查阅了以下内容，他们学习的主题是

封君与封臣 领主与农奴
 城市的兴起 早期的大学

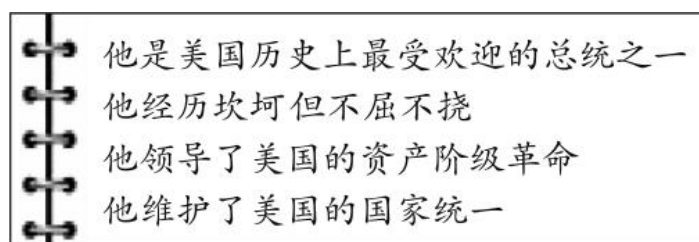
- A. 古希腊罗马文化 B. 拜占庭帝国的兴衰
 C. 中世纪的欧洲 D. 跨入近代社会

22. 1630 年，美洲加勒比海地区的巴巴多斯经济主要依靠烟草，多数种植者是来自欧洲的自由民和契约佣工。1680 年，甘蔗成为巴巴多斯最重要的经济作物，此时种植者中非洲奴隶已是欧洲人的三倍。与巴巴多斯劳动力构成发生上述变化直接相关的事件是

- A. 新航路开辟 B. 三角贸易
 C. 工业革命 D. 美国独立



23. 下图是一位同学的读书笔记，他正在了解的人物是



- A. 华盛顿 B. 林肯 C. 罗斯福 D. 尼克松

24. 下列关于俄国农奴制改革和日本明治维新的说法正确的是

- ①都是在面临外来侵略的情况下进行的②都是资产阶级性质的改革
③改革后都走上了对外扩张的道路④都保留了大量封建残余

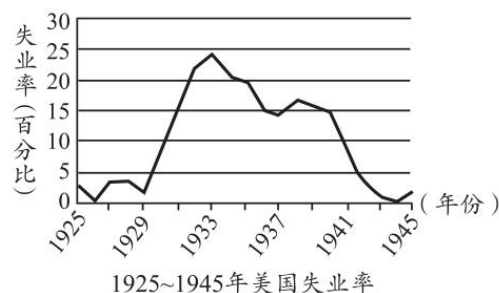
- A. ①② B. ①③ C. ③④ D. ②④

25. 一战后，列强间的斗争从战场转移到了谈判桌上，短短几年内建立了新的国际秩序。“转移到了谈判桌上”指的是

- A. 巴黎和会和慕尼黑会议 B. 华盛顿会议和开罗会议
C. 雅尔塔会议和开罗会议 D. 巴黎和会和华盛顿会议

26. 右图反映的是 1925 — 1945 年美国失业率的变化情况，导致美国失业率达到最高点的主要原因是

- A. 经济大危机
B. 美国内战
C. 第一次世界大战
D. 第二次世界大战



27. 宣传画是战争时期舆论宣传的重要形式，与右侧宣传画有关的历史事件是

- A. 德国投降
B. 诺曼底登陆
C. 雅尔塔会议
D. 《联合国家宣言》发表



二战时期盟军宣传画

28. 下列关于世界贸易组织的表述正确的是

- A. 它是为维护世界和平，促进国际社会解决经济等问题而成立
B. 它是目前世界上代表性最广泛、最有权威的综合性国际组织
C. 它的主要作用是促进了世界范围的贸易自由化和经济全球化
D. 它的总部设在比利时布鲁塞尔，由欧洲经济共同体发展而来

29. 某历史兴趣小组准备向同学们详细介绍有关“冷战”的专题知识，下列各项可以放进专题资源包的是

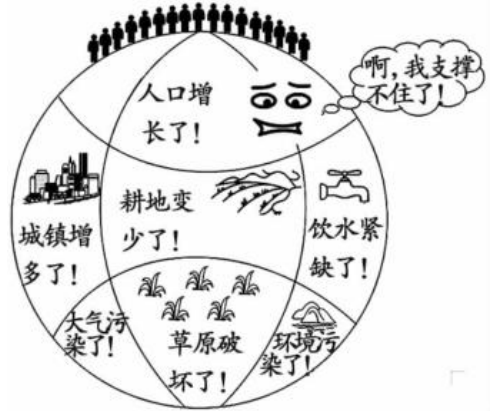
- ①书籍：《斯大林传》②视频：《推倒柏林墙》

③地图：《欧盟成员示意图》④图片：《华沙条约》签字仪式

- A. ①②③④ B. ①③④
C. ②③④ D. ①②④

30. 一位同学在学习“现代社会的发展”一课内容时画了右侧这张漫画，它集中反映了人类社会面临的主要问题是


- ①人口问题 ②资源问题
③生态问题 ④能源问题
A. ①②③ B. ①②④
C. ②③④ D. ①③④



第二部分材料分析题(共 45 分)


31. (15 分)一切创新最终都是制度创新。

材料一

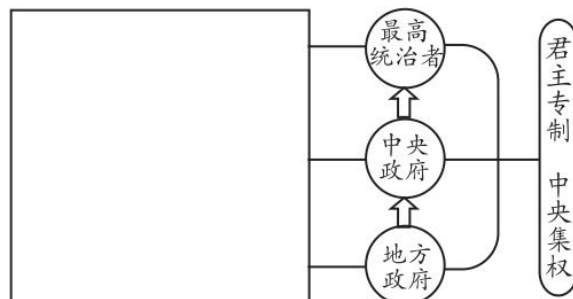
 <p style="text-align: center;">克盃</p>	<p>克盃, 1986 年出土于北京房山琉璃河商周遗址, 内有 43 字铭文。 铭文译文:(周成王)命克(召公长子)做匱(燕, 即北京)的诸侯, 管理从羌族……到狄族、微族的地方。 克进驻匱(燕)地, 接收了土地, 平息了动乱。</p>
--	--

(1) 材料一中文物“克盃”反映的是什么政治制度?(1 分) 依据材料一, 结合所学, 说出“克”与“周成王”之间的权利与义务关系。(2 分)

材料二

 <p style="text-align: center;">始皇诏文铜权</p>	<p>始皇诏文铜权, 被誉为最有政治历史意义的秤砣, 上有 40 字铭文。 铭文: 廿六年, 皇帝尽并兼天下诸侯, 黔首(百姓)大安, 立号为皇帝, 乃诏丞相状、绾, 灋(法)度量则不壹, 歉疑者皆明壹(统一)之。</p>
---	---

(2) 依据材料二, 结合所学, 补全秦朝开创的政治制度示意图。(3 分)



材料三从表面上看, 美国的政治制度借鉴了罗马共和国的经验, 使共和政体在制度上具有混合性。但它并不是罗马共和制的翻版, 而出现了许多重大的改进。第一, 它吸收了雅典民主的理念, 保障“人民”对政府的参与、信任和制约; 第二, 它消解了参议院的贵族性; 第三, 它用代表制改造了罗马的公民大会; 第四, 它借鉴了君主制的长处, 强化了行政权的功能和作用, 并将它赋予单独一个人(总统)行使, 但总统是选举的产物, 其权力受到立法权和司法权的制约; 第五, 它在英国立法机构内部分权以实现等级制衡的基础上, 设计出了多向复合的分权和制衡体制, 以防止政府某一支侵夺或垄断权力。

(3) 依据材料三, 对以下表述做出判断: 直接从材料得出的, 在括号内划“√”; 违背材料所表达意思的, 在括号内划“×”。(40分)

- ①美国的政体借鉴了罗马共和国的经验, 是罗马共和制的翻版。 ()
- ②美国的政治制度中实行单一行政首脑, 且行政权不受立法权和司法权的制约。 ()
- ③美国政治制度中的分权与制衡, 是为了防止某一等级侵夺或垄断权力。 ()
- ④美国的政治制度对历史上多种政体的要素进行了转化和吸收, 构建出一种新型共和政体。 ()

材料四



图 1



图 2

(4) 依据材料四, 说出图 1、图 2 所反映的政治制度名称。(2分) 任选其一说出其实施的意义。(1分)

材料五我认为政治乃文化体系中一要目。政治制度然得自根自生。纵使可以从国外移来, 也必然先与其本国传统, 有一番融合沟通, 才能真正产生相当的作用。就历史经验而论, 任何一种制度决不能有利而无弊。任何一制度, 亦决不能历久而不变。我们若不着重本身人事, 专求模仿别人制度, 结果别人制度势必追随他们的人事而变, 我们还得追随而变, 那是何等的愚蠢。

—摘编自钱穆《中国历代政治得失》

(5) 依据材料五, 说一说如何正确进行政治制度创新。(2分)

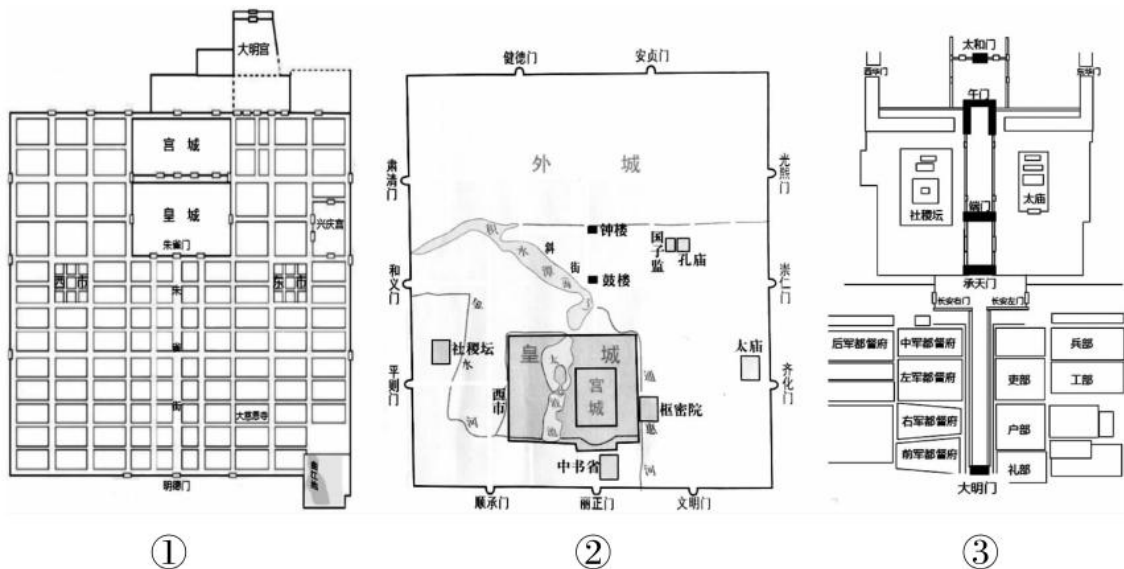
32. (11分) 长安街, 历经 600 余年, 蕴藏着一座城市和一个国家的成长记忆。

材料一 13 世纪中叶, 一座为元朝皇帝建造的都城竣工了, 这就是今天北京的雏形一元大都。一个世纪以后, 明朝取代了元朝, 曾经的元大都南城墙被拆除, 改作了城内的道路。从 1420 年起, 规模宏伟的紫禁城出现在了城市的中轴线上。它的正前方, 一座封闭的『I』字型广场, 用高墙把市井和宫廷截然分开, 这里是封建王朝的权力中心, 王权之下最重要的官僚机构大多分布在广场两侧。北边, 皇城正门承天门(清朝时改称为天安门)居于正中, 一东、一西的两座红门称作长安左门和长安右门; 它们之外, 两条不宽的街道从未相通, 却有着相似的名字—东边的叫做“东长安街”, 西边的叫做“西长安街”。

—摘编自纪录片《长安街》解说词

(1) 依据材料一, 判断下图中_____是明朝北京城。(1分。填写序号即可)





材料二

序号	时间	地点	有关介绍
A	1901年	东长安街路南东交民巷	《辛丑条约》签订以后，东郊民巷变成外国兵营、外国使馆、外国银行和外国商行的特殊领地。
B	1915年	西长安街路南石驸马大街后宅35号院	35号院住进了新主人，①____创办的《新青年》杂志迁到北京。
C	1919年	东西长安街、天安门广场	5月4日，3000多名爱国学生从东西两个方向沿长安街汇聚到天安门前示威游行。
D	1920年	西长安街闹市口文华胡同24号	这里是中国最早的马克思主义传播者和中国共产党的创始人②____的故居。
E	1949年	东西长安街、天安门广场	10月1日，久经战火洗礼的钢铁之师行进在长安街上，接受③____主席和人民的检阅。

(2) 将材料二填写完整。(3分)

(3) 在序号A、C、E中任选其一，写出长安街见证的历史事件及其影响。(3分)

材料三

建国以后长安街上的部分建筑简表

序号	名称	功能	序号	名称	功能
1	人民英雄纪念碑	纪念性建筑	5	北京图书大厦	文化
2	人民大会堂	办公	6	国际金融大厦	商业
3	国家博物馆	历史	7	东方广场	综合商务建筑
4	中央广播电视台	宣传	8	国家大剧院	文化

(4) 依据材料三，仿照示例，概括长安街建筑折射出的主题。(2分)

示例：

序号	主题1
2 4	见证改革发展

序号	主题2

材料四 古建文物保护专家郑孝燮曾表达过如下观点：





天安门及东西长安街通过建筑与环境所体现的爱国主义教育的价值是永恒的。

(5) 结合以上材料，举例说明材料四中的观点。(2分)

33. (9分) 革命·转折·复兴

材料一①“日出东方”②“星火燎原”③“力挽狂澜”④“灯塔指引”⑤“进京赶考”这五个关键词高度概括了中国共产党在新民主主义革命时期不朽的历史功绩。



图一 中共一大会址



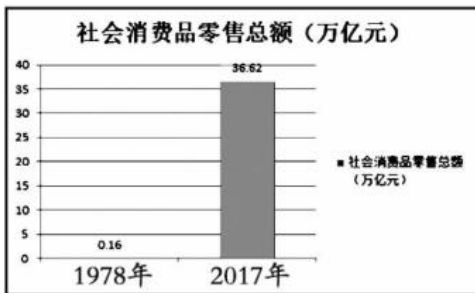
图二 遵义会议会址



图三 中共七大会场

(1) 写出材料一中图片反映的历史事件所对应的关键词。(3分。填写序号即可)

材料二



(2) 依据材料二，概括数据反映出的变化。(2分) 结合所学，分析变化的原因。(2分)

材料三站在世界地图前不难发现，这一年，中国与全球每一个角落都在发生深刻互动。100多位外国元首或政府首脑等领导人访华。博鳌亚洲论坛年会、上海合作组织青岛峰会、中非合作论坛北京峰会、首届中国国际进口博览会……”””2018年中国四大主场外交，习近平主席亲自出席或主持，与八方宾客真诚对话、共商大计。2018年，习近平主席4次出国访问，在五大洲13个国家出席活动200余场。地理上距离中国最遥远的国家阿根廷，欧洲西南角的西班牙、葡萄牙，首次访问的阿联酋、塞内加尔、卢旺达、毛里求斯、巴拿马……累计行程相当于绕地球3圈。中非合作论坛北京峰会期间，40位总统、10位总理、1位副总统以及非盟委员会主席与会，书写了中国主场外交的规格之最。

—摘编自新华网《乱云飞渡仍从容—2018中国外交的稳进与担当》

(3) 谈谈你对材料三的看法。(2分)

34. (10分)某校九年级学生召开历史学习方法研讨会。



【分会场一——读书明史】

材料一



(1)要研究古今中外某一时期的历史，必要读与之相关的书籍。如果你作为分会场的发言人，从材料一中任选其一推荐给大家，说明推荐理由。(2分)

示例：

选择内容：《人间喜剧》

推荐理由：本书是法国作家巴尔扎克的代表作，它再现了法国“王政复辟”到七月王朝期间的种种社会现象，塑造出许多令人印象深刻的人物形象。

[分会场二——求教史家]

材料二

不同时期史家对汉武帝的评价表

作者	出处	材料
班固	《汉书》	武帝之雄才大略
司马光	《资治通鉴》	孝武穷奢极欲，繁刑重敛，巡游无度，使百姓疲敝，起为盗贼，其所以异于秦始皇者无几矣。
翦伯赞	《秦汉史》	汉武帝是一位很活泼、很天真、重情感的人物。他除了喜欢穷兵黩武以外，还喜欢游历，喜欢音乐，喜欢文学，喜欢神仙。

(2)依据材料二，结合所学，写出评价历史人物的基本方法。(1分)从唐玄宗、亚历山大大帝、哥伦布这三位历史人物中任选其一进行评价。(2分)

【分会场三——辨析史料】

材料三①英国实现城市化仅用七、八十年的时间，始终保持高速发展，城市化率在世界上一一直名列前茅。②1851人口普查表明，英国城市人口已占全国人口的51%，而法国是25.2%，美国是13%，俄国是7%③到1861年，英国城市人口的比重已达62.3%，而法国是28.9%，美国1860年仅19.8%④这与英国的经济结构和社会背景密切相关，英国是最早开始工业革命的国家，工商业在国民经济中占压倒优势，而农业劳动生产率的提高，使大批农民脱离土地流入城市，有力地促进了城市化的进程。

——摘自陈爱君《第一次工业革命与英国城市化》

(3)材料三中的内容包括历史叙述与历史评价两部分，请区分两部分内容。(2分。写出序号即可)

历史叙述：_____历史评价：_____

【分会场四——以史为鉴】

材料四外媒称，日本文部科学省 26 日发布小学教材审定结果，声称与中韩两国存在争议的两个岛屿是“日本固有领土”。中方和韩方就此敦促日方正视历史。

据日本共同社 3 月 26 日报道，日本五年级和六年级学生使用的全部六本社会科学教科书都声称，中国的钓鱼岛及其附属岛屿以及韩国的独岛是所谓“日本固有领土的一部分”。

—摘自 2019 年 3 月 26 日《参考消息》

(4) 说出材料四所反映的问题。(1 分) 针对这一问题，我们可以做出哪些努力。(2 分)

