

北京市西城区 2022—2023 学年度第一学期期末试卷

八年级历史



2023.1

注 意 事 项	1. 本试卷共 8 页，共两部分，共 29 题，满分 100 分。考试时间 60 分钟。 2. 在试卷和答题卡上准确填写学校、班级、姓名和学号。 3. 试题答案一律填涂或书写在答题卡上，在试卷上作答无效。 4. 在答题卡上，选择题用 2B 铅笔作答，其他试题用黑色字迹签字笔作答。 5. 考试结束，请将考试材料一并交回。
------------------	--

第一部分

本部分共 25 题，每题 2 分，共 50 分。在每题列出的四个选项中，选出最符合题目要求的一项。

1. 1842 年，清政府被迫签订的不平等条约规定：“大皇帝恩准英国人民带同所属家眷，寄居大清沿海之广州、福州、厦门、宁波、上海等五处港口，贸易通商无碍……”，该条约是
- A. 《南京条约》 B. 《虎门条约》 C. 《北京条约》 D. 《天津条约》
2. 太平天国颁布的反映千百年来农民要求得到土地的强烈愿望的纲领性文件是



- A. 《天朝田亩制度》 B. 《资政新篇》 C. 《革命军》 D. 《警世钟》
3. 史实即历史事实，史论是对历史事件和历史人物的评论。以下叙述中，属于史论的是
- A. 1838 年底，道光帝派林则徐前往广东查禁鸦片
B. 虎门销烟显示了中华民族反抗外来侵略的坚强意志
C. 1851 年，洪秀全在广西桂平县金田村发动武装起义
D. 1861 年，清政府设立了总理各国事务衙门
4. 他是洋务派在地方的代表人物之一，1875 年受命为钦差大臣，督办新疆军务。他采取“先北后南，缓进急战”的策略，成功收复新疆。上文中的“他”是
- A. 奕訢 B. 左宗棠 C. 张之洞 D. 曾国藩

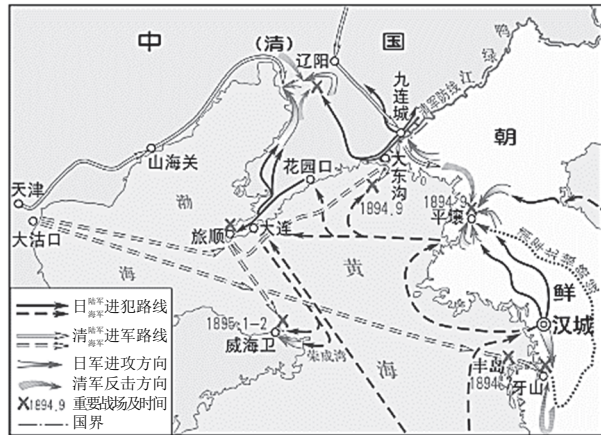
5. 下列关于洋务运动的评价, 正确的有

- ①是中国历史上第一次近代化运动 ②对外国资本入侵起到了一定抵制作用
③客观上促进中国民族资本主义产生 ④是一次成功的封建统治者的自救运动

- A. ①②③ B. ①②④
C. ①③④ D. ②③④

6. 右图是近代中国某次战争形势图, 根据图中信息判断该战争是

- A. 鸦片战争
B. 太平天国西征
C. 甲午中日战争
D. 八国联军侵华战争



7. 通过关键词梳理知识是学习历史的有效方法之一。与“发动公车上书”“发表《变法通议》”“筹划讨伐袁世凯”三个关键词都相关的历史人物是

- A. 邓世昌 B. 梁启超 C. 秋瑾 D. 杨靖宇

8. 义和团运动是一场波澜壮阔的反帝爱国运动。在义和团运动兴起的过程中提出的口号是

- A. 师夷长技 B. 自强求富
C. 扶清灭洋 D. 民主共和

9. 《辛丑条约》的签订, 标志着清政府沦为帝国主义统治中国的工具, 这主要表现在

- A. 承认了鸦片贸易合法化 B. 允许日本在通商口岸开设工厂
C. 允许外国公使进驻北京 D. 清政府保证严禁人民参加反帝活动

10. 黄花岗起义中, 革命党人不屈不挠的精神和视死如归的英雄气概, 极大地鼓舞了全国人民的斗志。以上叙述可以用来说明黄花岗起义的

- A. 原因 B. 经过 C. 结果 D. 意义

11. 关于《中华民国临时约法》的相关表述, 正确的有

- ①规定中华民国的主权属于全体国民
②肯定了资产阶级民主共和制度和民主自由原则
③是中国历史上第一部具有资产阶级共和国宪法性质的文件
④在当时的历史条件下充分发挥了实际的约束效力

- A. ①②③ B. ①②④
C. ①③④ D. ②③④



12. 在中国近代化的过程中，不同阶级、阶层的代表人物先后提出了体现时代变化和发展的口号或主张。其中，新文化运动提倡的是

- A. 暴力革命 B. 君主立宪 C. 实业救国 D. 民主科学

13. 史料是认识历史的主要依据。通过以下史料能够得出的结论是

据不完全统计，1912—1927 年间，中国各省区大小兵变共有 325 起，其中 1920 年为 40 起；1922 年为 45 起，是北洋军阀统治期间兵变最多的年代。

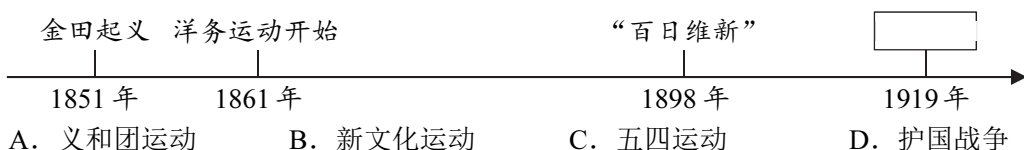
- A. 北洋政府统治时期社会很动荡 B. 反对袁世凯的斗争此起彼伏
C. 群众性反帝爱国运动蓬勃发展 D. 北洋军阀统治时期经济停滞

14. 浙江嘉兴南湖纪念馆开设了《开天辟地大事变》纪念展。作为中国红色旅游重要地区之一，嘉兴南湖见证了

- A. 中华民国的成立 B. 中国共产党的诞生
C. 五四运动的发展 D. 解放区的土地改革

15. 近代以来，国家陷入内忧外患的严重局面，社会各阶层为寻求国家出路进行了探索。

以下时间轴展示了其中的四件大事，方框处应填入



16. 有同学在进行研究性学习时，搜集到了以下资料，他研究的主题应该是



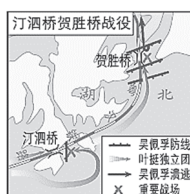
孙中山等人走出国民党一大会场



黄埔军校旧址大门



国民革命军第四军政治部印发的标语



汀泗桥贺胜桥战役战役形势图

- A. 推翻清朝统治的斗争 B. 新民主主义革命的开始
C. 国共合作与北伐战争 D. 中国共产党的经济建设

17. 右侧是某同学的学习笔记，横线中应该填入的是

- A. 叶挺
B. 贺龙
C. 陈毅
D. 左权

人物：_____

事件：①率领军队屡破强敌，为第四军赢得“铁军”美誉
②抗日战争爆发后，出任新四军军长
③1941 年，在“皖南事变”中，被国民党扣押



18. 从大革命失败的教训中，中国共产党开始认识到独立掌握革命武装力量的重要性。打响武装反抗国民党反动派第一枪的是
- A. 萍浏醴起义 B. 安庆起义 C. 南昌起义 D. 秋收起义
19. 建设强大人民军队，首要的是毫不动摇坚持党对人民军队绝对领导的根本原则和制度。确立了思想建党、政治建军原则的会议是
- A. 八七会议 B. 古田会议 C. 遵义会议 D. 中共七大
20. 十年内战基本停止，抗日民族统一战线初步形成的标志是
- A. 西安事变的和平解决 B. 国民党公开发表中共中央提交的国共合作宣言
C. 一二·九运动的爆发 D. 中国工农红军主力改编为国民革命军第八路军
21. 为了驳斥当时国民党内流行的“亡国论”和“速胜论”的错误观点，1938年，毛泽东发表了_____。大大增强了全国人民坚持抗战的决心和信心。横线中应填入的是
- A. 《中国的红色政权为什么能够存在？》 B. 《论持久战》
C. 《星星之火，可以燎原》 D. 《论联合政府》
22. 抗日战争时期，敌后战场的战略总后方与指挥中枢是
- A. 瑞金 B. 武汉 C. 延安 D. 西柏坡
23. 右图是丰子恺先生创作的漫画，图中的文字为：炮弹作花瓶，万世乐太平，卅四年（即1945年）九月二日作，子恺，圣扬学弟永存。对该漫画的解读正确的是
- A. 讽刺了国民党内反动集团背叛国民革命
B. 表达了对解放战争开始战略决战的喜悦
C. 反映了抗日战争胜利后，人民渴望和平
D. 对国民党发动全面内战进行了强烈谴责
24. 直接威胁到南京、武汉，揭开了人民解放军战略进攻序幕的是
- A. 农村革命根据地的建立 B. 工农革命运动的蓬勃发展
C. 国共双方签署“双十协定” D. 刘邓大军千里跃进大别山
25. 毛泽东诗词：“钟山风雨起苍黄，百万雄师过大江。虎踞龙盘今胜昔，天翻地覆慨而慷。宜将剩勇追穷寇，不可沽名学霸王。天若有情天亦老，人间正道是沧桑。”反映的史实是
- A. 红军三大主力胜利会师 B. 抗日战争进入相持阶段
C. 敌后抗日根据地的开辟 D. 人民解放军占领南京



第二部分

本部分共 4 题，共 50 分。

26. (13 分) 知史爱国，学史力行

某班同学利用假期开展寻找近代北京记忆的研学活动，同学们分组来到了三处遗址。阅读材料，回答问题。

遗址一 圆明园 为更好地了解圆明园遗址，同学们阅读了相关书籍



圆明园大水法遗址

(英国人形容): “……暗红的火光映照在往来忙碌的士兵脸上, 使他们活像魔鬼, 正在为举世无双的珍宝的毁灭而欢呼雀跃。”
焚掠圆明园, 对中国至为残酷, 而英法两国殖民军则极其可耻。
——[法]伯纳·布立赛《1860: 圆明园大劫难》

- (1) 写出与英法联军火烧圆明园有关的侵华战争。(1 分) 依据材料并结合所学, 谈谈你对英法联军火烧圆明园的感受。(2 分)

遗址二 杨椒山祠 行前, 老师给同学们提供了杨椒山祠的资料卡



北京市文物保护单位
杨椒山祠


1895 年, 康有为召集部分在京举子, 齐聚杨椒山祠, 联名上书光绪帝:
夫言战者, 固结民心, 力筹大局, 可以图存; 言和者, 解散民体, 鼓舞夷心, 更速其亡。
……伏乞皇上下诏鼓天下之气, 迁都定天下之本, 练兵强天下之势, 变法成天下之治而已。

- (2) 依据材料, 概括康有为的主张。(3 分) 结合所学, 分析此次上书的时代背景。(1 分)

遗址三 北大红楼 同学们来到北大红楼时看到了以下史料, 请将这些史料进行分类



①北京大学红楼



②漫画《巴黎和平大会》



③曹陆章免职令发表之经过

- (3) 属于文献史料的是: ____; 属于图像史料的是 ____; 属于实物史料的是 ____。
(3 分) (填序号, 错选、多选、少选均不得分)
- (4) 请给出你对保护、利用近代历史文化遗存的具体建议。(3 分)





27. (13 分) 中国人民为争取民族独立进行了英勇的斗争

材料一 历代备边 (注: 守卫边疆), 多在西北。……今则东南海疆万余里, 各国通商传教, 来往自如, 聚集京师及各省腹地, 阳托和好之名, 阴怀吞噬之计, 一国生事, 数国构煽 (注: 挑拨煽动), 实为数千年未有之变局。轮船电报之速, 瞬息千里; 军器机事之精, 工力百倍; 炮弹所到, 无坚不摧, 水陆关隘, 不足限制, 又为数千年未有之强敌。

——摘自李鸿章《筹议海防折》

(1) 依据材料, 写出“数千年未有之变局”的表现。(2 分) 结合所学, 说说清政府应对变局的举措。(3 分)

材料二

人物	简介	作品
 孙中山 (1866-1925)	出生于广东香山县。14 岁时赴美国檀香山, 就读于英国和美国传教士创办的教会学校。18 岁以后回国, 在香港、广州两地学医, 后在澳门、广州一带行医。通过行医实践, 他认识到“医国”比“医人”更重要。1894 年, 孙中山上书李鸿章, 提出变法自强等多项改革建议, 遭到拒绝。失望之余, 他认识到, 只有推翻清政府的专制统治, 才能拯救中国, 于是走上革新政治、反清革命的道路。	 孙中山手书 同盟会纲领
 鲁迅 (1881-1936)	出生于浙江绍兴。1898 年, 考入南京的新式学堂。1902 年他被选送到日本留学, 先补习外文和基础知识, 后到仙台医学专科学校学医。仙台医专学习期间, 在观看日俄战争的画片中, 他看到了中国人对列强的侵略、同胞的受辱麻木不仁, 深受刺激, 认为“医学并非一件紧要事……我们的第一要著, 是在改变他们 (指国民) 的精神”。于是, 他决定弃医从文。从此走上文学救国之路。	 鲁迅发表在《新青年》上的白话文小说《狂人日记》

(2) 依据材料二, 比较孙中山和鲁迅的相似之处。(2 分) 说出两者在救国方式上的差异。(2 分)

(3) 依据材料二并结合所学, 分别说明二人为近代中国社会进步所作的贡献。(4 分)



28. (14 分) 中国共产党团结带领中国人民创造了新民主主义革命的伟大成就

材料一 1919 年, 李大钊发表《我的马克思主义观》一文, 对马克思主义作了比较全面、系统的介绍。在李大钊等人的影响和当时形势的推动下, 一批爱国的进步青年, 走上了马克思主义的道路。1920 年 3 月, 李大钊在北京大学组织了中国最早的一个学习和研究马克思主义的团体——马克思主义学说研究会。同年 10 月, 李大钊等在北京成立共产党的早期组织, 当时称“共产党小组”, 同年底, 成立共产党北京支部, 李大钊为书记。1921 年 3 月, 李大钊著文公开呼吁创建工人阶级政党。

(1) 依据材料一, 概括李大钊为中国共产党诞生作出的贡献。(3 分)

材料二 画家徐英培创作的《井冈山斗争生活》版画



《革命的道理》

《土地还家》

《工农政权》

(2) 仔细观察版画, 说说版画中反映的井冈山革命根据地的活动。(3 分) 结合所学, 分析这些活动的历史意义。(1 分)

材料三 1935 年 1 月 7 日, 红军攻克黔北重镇遵义。1 月 15 日至 17 日, 中共中央在遵义召开政治局扩大会议。会议集中全力纠正博古等人在军事上和组织上的错误, 肯定了毛泽东的正确军事主张。遵义会议后, 中央红军在毛泽东等指挥下, 根据实际情况的变化灵活作战。在巧渡金沙江后, 中央红军摆脱了几十万国民党军队的围追堵截, 取得战略转移中具有决定意义的胜利。

材料四 雪皑皑, 野茫茫, 高原寒, 炊断粮。红军都是钢铁汉, 千锤百炼不怕难。雪山低头迎远客, 草毯泥毡扎营盘。风雨侵衣骨更硬, 野菜充饥志越坚。官兵一致同甘苦, 革命理想高于天。

——长征组歌《过雪山草地》

(3) 依据材料三并结合所学, 说说遵义会议的历史意义。(2 分) 结合材料三、四, 谈一谈你对长征精神的理解。(2 分)



材料五

1947年12月，毛泽东在党的扩大会议上提交《目前形势和我们的任务》的书面报告。报告阐明党的最基本的政治纲领，还总结人民军队的作战经验，提出十大军事原则，其核心是“集中优势兵力，各个歼灭敌人”。

淮海战役人民支援前线统计表（部分）

民工	运送弹药	粮食
543万人	1460多万斤	9.6亿斤

（4）依据材料并结合所学，分析人民解放战争迅速取得胜利的原因。（3分）

29.（10分）阅读抗日战争大事年表（部分），回答问题。

抗日战争大事年表（部分）

序号	时间	事件
①	1931年9月	九一八事变
②	1935年8月	中国共产党提出建立抗日民族统一战线主张
③	1936年12月	西安事变和平解决
④	1937年7月	七七事变
⑤	1937年8月	中国工农红军改编为国民革命军第八路军
⑥	1937年8月—1938年10月	淞沪会战、台儿庄战役、武汉会战
⑦	1937年9月	平型关大捷
⑧	1937年12月	南京大屠杀
⑨	1940年8月	八路军打响百团大战
⑩	1942年初	中国远征军入缅作战
⑪	1945年4至6月	中国共产党第七次全国代表大会
⑫	1945年9月2日	日本政府正式签署投降书

- （1）从上述材料中找出中国全民族抗战开始的标志。（1分）
- （2）参照示例，选择材料中相互关联的事件（至少选择2个），结合所学自定一个你想论述的观点，加以阐述或说明。（要求：观点正确，史论结合，条理清楚）（9分）

【示例】观点：中国战场是世界反法西斯战争的东方主战场

选择的事件：①⑥⑨⑩

论述：九一八事变后，中国揭开了世界反法西斯战争的序幕；七七事变后，在抗日民族统一战线的旗帜下，中国军民在台儿庄战役、百团大战等战役中沉重打击了日本侵略军，中国牵制日军最多。1942年，中国远征军入缅作战，中国与其他反法西斯国家相互配合，相互支持，保障了世界反法西斯战争的胜利。

由此可见，中国战场是世界反法西斯战争的东方主战场。

