

北京市平谷区 2019 年中考统一练习(一)



道德与法治试卷

2019.4

注意 事项	<p>1. 本试卷共 8 页,包括两部分,26 道小题,满分 90 分。考试时间 90 分钟。</p> <p>2. 在答题卡上准确填写学校名称、班级、姓名和准考证号。</p> <p>3. 试题答案一律填涂或书写在答题卡上,在试卷上作答无效。</p> <p>4. 在答题卡上,选择题用 2B 铅笔作答,其他试题用黑色字迹签字笔作答。</p> <p>5. 考试结束,请将答题卡交回。</p>
------------------	---

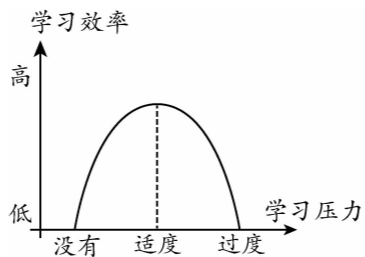
第一部分 选择题(共 40 分)

本部分共 20 小题,每小题 2 分,共 40 分。在每小题列出的四个选项中,选出最符合题目要求的一项。

- 自 2018 年 10 月 1 日起个人所得税起征点由每月 3500 元提高至每月 5000 元,增加赡养老人支出、子女教育支出、大病医疗支出、住房贷款利息或者住房租金等专项附加扣除。提高个税起征点有利于
 - 减少居民收入
 - 减轻居民税收负担,提高生活水平
 - 促进社会公平
 - 增加国家税收

A. ①② B. ②③ C. ①④ D. ③④
- 2018 年 11 月 5 日,首届_____在上海举办。这是迄今为止世界上第一个以进口为主题的国家级展会,是我国主动向世界开放市场的重大举措。
 - 中国国际进口博览会
 - 中国进出口商品博览会
 - 世界园艺博览会
 - 世界互联网大会
- 孔子曰:“见贤思齐焉,见不贤而内自省也。”这句话中体现的正确认识自己的方法是
 - 通过集体认识自己
 - 通过与他人比较认识自己
 - 通过他人评价认识自己
 - 通过自我观察认识自己
- 心理学家发现,学习压力和学习效率的关系是“倒 U 形曲线”。根据图示,你认为下列对学习压力认识正确的是
 - 适度的压力可以变成前进的动力
 - 所有的压力都会给人造成身心伤害
 - 压力过大会引发焦虑,影响学习效率的提高
 - 压力有好处,我们只能埋头苦干,不需要缓解

A. ①③ B. ②③ C. ①④ D. ②④



- 下列诗句中最能体现自信自强精神的是
 - 三军可夺帅也,匹夫不可夺志也
 - 不识庐山真面目,只缘身在此山中
 - 春风又绿江南岸,明月何时照我还
 - 天行健,君子以自强不息

A. ①② B. ②④ C. ①④ D. ②③

- 右图漫画《留言条》中,儿子的_____有待加强。
 - 自立自理能力
 - 平等待人意识
 - 自尊自信品质
 - 理解尊重意识



- 我国宪法明确规定:“中华人民共和国公民在法律面前一律平等。”对这一观点理解不正确的是
 - 公民一律平等地享有宪法规定的各项权利
 - 公民一律平等地履行宪法规定的各项义务
 - 公民合法权利一律平等地受到法律保护
 - 公民可以只享受权利不履行义务
- 小王和家人在饭店吃饭,结账后发现商家多收了餐费,小王与商家进行了沟通并得到了退款。小王采取的维护权利的方式是
 - 调解
 - 协商
 - 仲裁
 - 诉讼
- 中国自古就流传一句话:“天下无不是的父母。”但是《弟子规》却提出“亲有过”,认为父母也会犯错。在现实生活中,作为子女,与父母和谐相处应该
 - 正确认识父母对自己的关爱与教育,调适“逆反”心理
 - 敬重爱戴父母,主动沟通,注意交流的方式
 - 听父母的话,绝不违背父母的意愿
 - 理解父母行为中蕴含的爱

A. ①②③ B. ①②④ C. ①③④ D. ②③④
- 六年级学生张泽(化名)因从小患肌无力,在学校里倒水、交作业、上厕所等,都无法独立完成。从一年级开始,同班同学徐彬洋就担负起了照顾张泽的任务。徐彬洋连扶带抱加上背,帮助张泽从厕所到教室,不到 70 米的距离却需要三分钟。徐彬洋说:“刚开始背有点吃力,现在已经不觉得累了,我们是同学,相互帮助一下没什么。”对徐彬洋的行为理解正确的是
 - 举手之劳,谁都能做到
 - 帮助同学,与人为善
 - 助人为乐,关心他人
 - 为了荣誉,不惜一切

A. ①② B. ①③ C. ②③ D. ③④



11. 9月10日是教师节,为庆祝教师节,某校七年级(1)班准备召开以尊师重教为主题的班会,班主任王老师要求同学们搜集尊师重教的成语故事全班交流。以下成语故事中,能体现这一主题的是



A. 乌鸦反哺



B. 程门立雪



C. 一诺千金



D. 八拜之交

12. 下面是某些同学对“微行为”的评价,你赞同的是

微行为	同学评价
①计算机课上,以搜集素材为由,浏览游戏网站	没有正确利用网络资源
②做物理实验时,不按照老师要求的步骤完成,自己随意操作	是有主见的表现
③被老师误解虽然会不高兴,但还是原谅了老师	宽容他人,利人利己
④考试过程中拒绝帮同学作弊	没有处理好合作与竞争的关系

- A. ①③ B. ②③ C. ①④ D. ②④

13. 右边漫画告诉我们

- A. 不诚信的人一定会受到法律的制裁
 B. 不讲诚信只是小事,没必要严惩
 C. 对人守信、对事负责才能立身社会
 D. 社会是复杂的,不讲诚信很难避免



14. 外交部部长王毅在回答记者提问时说:“中美可以有竞争,不必做对手,更需当伙伴。”这表明,中美之间

- A. 只能相互合作,不能相互竞争
 B. 竞争必然会伤害两国之间的关系
 C. 要在合作中竞争,在竞争中合作
 D. 只要存在竞争,就不会有真正意义上的合作

15. 自习课上,九年级学生小明和小刚在讨论问题,影响到了周围同学的学习。学习委员提醒他们小点儿声,小刚却说:“学习是我的权利,你们无权干涉”。小刚的行为是

- A. 正确的,自觉履行了义务 B. 错误的,侵犯了他人的人身自由
 C. 正确的,依法行使了权利 D. 错误的,侵犯了他人的合法权利

16. 2018年3月10日,在政协记者会上,环保部副部长表示,全国生态保护红线正在逐步划定,以长江经济带为主的15省、市、自治区已经划定了第一批生态红线,划定面积占这15个省的25%,这一举措

- ①可以更好地践行“绿水青山就是金山银山”的理念
 ②可以更好地维护国家生态安全,促进经济社会可持续发展
 ③可以从根本上解决我国的生态问题
 ④可以更好地落实“合理利用资源,保护环境”的基本国策

- A. ①②④ B. ①②③ C. ①③④ D. ②③④

17. 西藏隆子县玉麦乡的卓嘎、央宗姐妹几十年如一日,始终谨记“这是祖辈生活的地方,更是祖国的土地”;始终牢记放牧守边的信念;始终坚守巡山守边的职责,谱写了时代赞歌。卓嘎、央宗姐妹以自己的实际行动

- ①热爱祖国,热爱家乡 ②自觉履行了维护国家安全的义务
 ③确保了祖国边疆的经济繁荣 ④自觉维护了国家统一

- A. ①② B. ①③ C. ②③ D. ③④

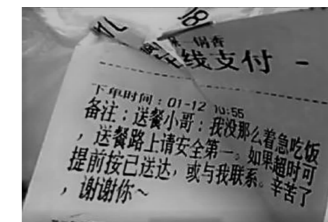
18. 3月31日凌晨5点,重庆小伙张书予准备出门参加重庆马拉松。一开门发现整个楼道浓烟滚滚。他顾不上去赛场,立即报警并找到保安,拿起灭火器一口气跑了26楼,直到找到失火点。然后他又开始一层一层往下跑,挨家挨户敲门叫醒住户疏散群众。由于张书予及时发现,并采取一系列措施,火情得以被迅速扑灭,整栋楼无一人伤亡,但张书予却错过了比赛。他说自己放弃一场比赛没什么,能帮助这么多邻居更有意义。张书予的行为

- ①具有强烈的责任感,是见义勇为的行为
 ②是尊重他人生命,对自己不负责任的行为
 ③是亲社会行为,促进良好社会风气的形成
 ④是正义的行为,能明辨是非

- A. ①②③ B. ①②④ C. ②③④ D. ①③④

19. 某餐厅收到了这样一份外卖订单(如右图)。餐厅店家将订单备注晒到网上,随即引来一片打call声(点赞)。很多网友直呼,已经被这张“暖心备注”暖哭。对以上材料理解错误的是

- A. 店家积极利用网络,传播社会正能量
 B. 网络使生活更加便捷,但有利也有弊
 C. 买家换位思考,体现了对外卖小哥的尊重与关爱
 D. 网友们为买家打call,是对其与人为善品质的赞扬



20. 每个人的行为都会产生一定的后果,我们必须对自己的行为后果负责。下列体现对自己行为负责任的是

- ①今天迟到,受到老师严肃批评,真没面子,以后和老师见面再也不打招呼了
- ②今天爸爸妈妈都不在,可以随便打游戏了
- ③清明节,主动参与文明祭扫志愿宣传活动
- ④每天上下学,坚持遵守交通规则,走人行横道

A. ①③ B. ②④ C. ①② D. ③④

第二部分 非选择题(共 50 分)

21. (共 6 分)

	<p>他被授予“时代楷模”“改革先锋”称号。有人说他放弃 300 倍高薪回国,用一生让中国领先世界 20 年;有人说他从壮年走到暮年,把一个朴素的想法变成国之重器;有人说他工作刻苦努力,几乎废寝忘食……</p> <p>他就是我国著名天文学家南仁东,是国家重大科技基础设施建设项目——“中国天眼”500 米口径球面射电望远镜工程(简称 FAST)的主要发起者和奠基人。他和“天眼”一起走过了 22 年。从建设射电望远镜设想的提出,到带着卫星遥感图,跋涉在祖国西南的大山里选址,再到攻克技术上一个又一个超乎想象的难关,实现了中国拥有世界一流水平望远镜的梦想。</p>
	<p>张超,海军某舰载航空兵部队原一级飞行员。他从小就树立了翱翔蓝天的人生理想,矢志强军报国。入伍 12 年,他苦练精飞本领,先后飞过 8 型战机,每次改装都当“领头雁”。在某新型战机改装中,仅用一个月时间就啃完 2000 多页的教材和资料,提前 4 个月完成改装任务,和战友们一道创造了多项纪录。他二不怕苦、二不怕死,凭着迎难而上的闯劲,顺利完成双机纵队斤斗、海上超低空飞行等高难课目。在海上维权中,先后 20 多次执行战斗起飞任务,数十次带弹紧急起飞驱离外军飞机。在战友眼里,他浑身透着真诚,连续一个月热心帮助住院战友补课,多次登门解答战友请教的技术问题,自己省吃俭用却经常捐钱救助战友。</p>

请从上述两位人物中任选其一,结合所学知识写一段人物评述。(要求 80 字左右)

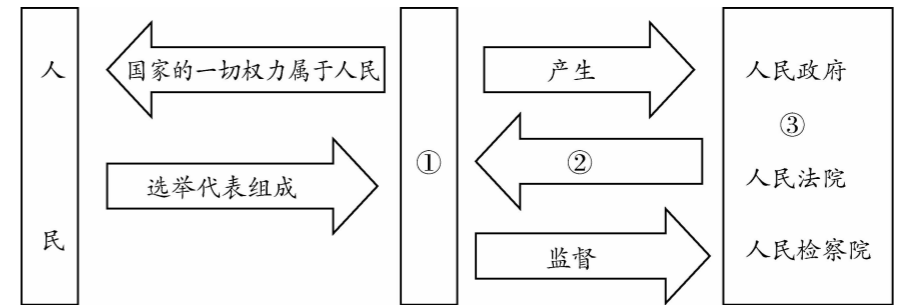
22. (6 分)甘肃张掖丹霞地质公园的丹霞地貌形成于侏罗纪白垩纪时期,是不可再生资源。某日,一名女游客不顾周边“禁止翻越”警示牌和其他游客提示,一脚翻越栈道护栏,进到内部直接踩在护栏外几十米的保护区地表拍照,周围工作人员告知她丹霞地貌属不可再生资源,一个脚印地表需要 60 年才可能恢复原貌,再三要求女游客“出来”的时候,女游客却反驳“你叫什么?我又不是耳背听不见”。之后这名女游客又在其中磨蹭了两三分钟才出来。

(知识链接:根据文物保护法、治安管理处罚法以及刑法的规定,破坏文物或者名胜古迹的行为要依法承担法律责任。)

结合所学知识,你想对这名女游客说点什么?

23. (8 分)2019 年 3 月 5 日,第十三届全国人民代表大会第二次会议在北京召开。某校九年级(1)班开展了“关注两会,关注国家生活”的综合社会实践活动,同学们积极准备,分工合作,踊跃参与。

(1)第一小组同学向大家展示了我国的国家机构体系示意图,请你将它补充完整,把答案填写在相应数字后的横线上。(3 分)



(2)由此图可以看出我国的根本政治制度是什么?(2 分)

(3)第二小组同学搜集到以下十三届全国人大二次会议相关议程,请在下表右侧空格内写一条最恰当的学科知识。(3 分)

会议内容	学科知识
3 月 5 日全国人大开幕会上听取国务院总理李克强作政府工作报告	监督权
3 月 12 日听取最高人民法院院长周强关于最高人民法院工作的报告,听取最高人民检察院检察长张军关于最高人民检察院工作的报告	
3 月 10 日代表团全体会议审议中华人民共和国外商投资法草案	④
接受张荣顺辞去第十三届全国人民代表大会常务委员会委员职务的请求	⑤
3 月 15 日表决关于政府工作报告的决议草案,表决中华人民共和国外商投资法草案,表决关于 2018 年国民经济和社会发展计划执行情况与 2019 年国民经济和社会发展计划的决议草案	⑥

24. (9分)材料一:《书法在校园》节目介绍了大量各地学校在学习、教学书法中的一些成功经验和做法,以及在落实书法教室、书法教材、解决书法教师等方面的有效办法。不少学校把书法作为特色教学吸引更多生源,受到学生、家长的欢迎。

材料二:《中国诗词大会》节目以“赏中华诗词、寻文化基因、品生活之美”为基本宗旨,力求通过对诗词知识的比拼及赏析,带动全民重温那些曾经学过的古诗词,分享诗词之美,感受诗词之趣,从古人的智慧和情怀中汲取营养,涵养心灵。各中小学纷纷开展“诗词诵读”等活动。

- (1)从这些节目中,你能感受到中华文化哪些魅力?(2分)
- (2)学校开展丰富多彩的“诗词诵读”、“书法进课堂、进校园”等活动有什么重要意义?(4分)

材料三:《一本好书》节目还原12本经典作品的经典场景,采取舞台戏剧、片段朗读、影像图文插播等手段,呈现书中的情节冲突、人物性格、优美语言,让阅读更加生动有趣。

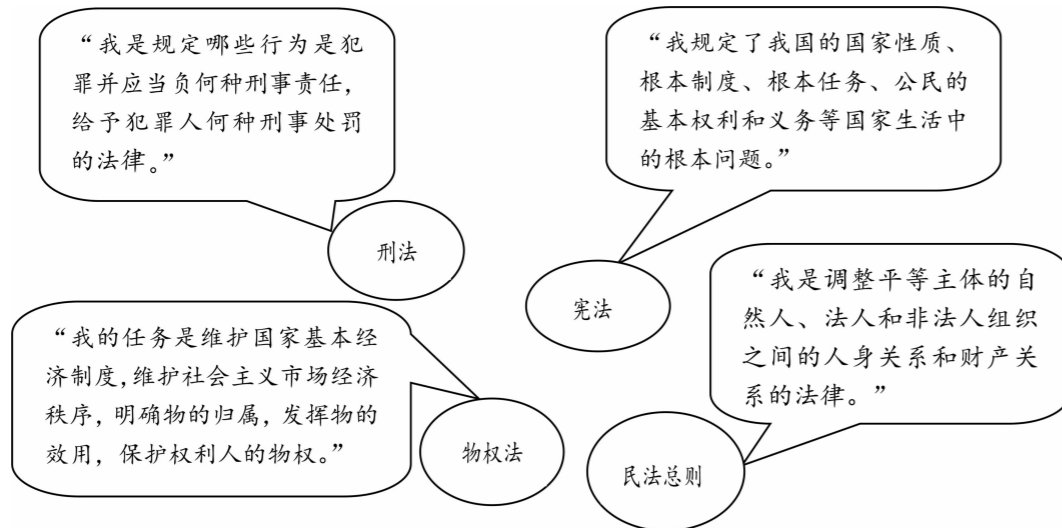
- (3)传承中华文化,阅读中华经典。请你向同学推荐一本传承中华优秀传统文化的好书,并写出推荐理由。(3分)

好书推荐卡

推 荐: _____ (请勿在此作答)

推荐理由: _____ (请勿在此作答)

25. (9分)我国已经建立起比较完备的中国特色社会主义法律体系,法律体系中的每部法律都有其独特作用。请听以下几部法律之间的“对话”,回答下列问题。



- (1)从这些法律的“对话”中,你能看出哪部法律处于最高的法律地位?为什么?(4分)
- (2)有人说,宪法规定的都是国家大事,与普通百姓没有多大关系。你是否赞同这一观点?请说明理由。(5分)

26. (12分)为庆祝改革开放四十周年,某校制作了宣传专栏,请你阅读,回答问题:

栏目一:【改革促发展】

改革开放40年来,中国迅速成长为世界第二大经济体,综合国力显著提高,人民生活极大改善。中国政府将加大改革开放力度,把改革开放不断向前推进。

- (1)请你说一说我国改革开放取得巨大成就的原因有哪些?(4分)

栏目二:【科技震国威】

近年来,我国重大创新成果竞相涌现。从天宫、蛟龙、悟空、墨子、大飞机相继问世,再到人类历史上最大的射电望远镜FAST、磁悬浮列车研发、5G技术等,一项项科技成果在新时代呈现“喷发”状态。大量创新成果浓缩着科研工作者的智慧,承载着我们强盛国家、造福人类的梦想。

- (2)材料中划线部分体现出我国怎样的科技现状?(2分)
- (3)创新成就家国梦想,作为中学生的我们应如何培养创新精神?(4分)

栏目三:【大国勇担当】

改革开放以来,我国的发展日新月异,对内改善人民生活,对外促进世界和平与稳定,发展成果惠及全球,越来越受到国际社会的关注。从加入世界贸易组织到共建“一带一路”,从博鳌论坛到上合峰会——我国积极倡导构建人类命运共同体,为世界发展贡献更多中国智慧。

- (4)上述材料表明我国在国际社会中的地位如何?(2分)