

# 北京市西城区 2017—2018 学年度第二学期期末试卷

## 七年级地理

2018.7

试卷满分：100 分，考试时间：60 分钟

### 一、你能选对吗？（50 分）

下列各小题均有四个选项，其中只有一项符合题意要求；每小题 2 分；请你将答案填写在下面的答题框中（使用机读卡的学校请填写在机读卡上）。

题号	1	2	3	4	5	6	7	8	9	10
答案										
题号	11	12	13	14	15	16	17	18	19	20
答案										
题号	21	22	23	24	25					
答案										

在北京市建筑拆除中正在推行“绿色拆除”，也就是将可利用、可移动的垃圾提前进行回收，其余的楼板等建筑垃圾再经过资源回收流水线直接制成材料用于新的建设，总体垃圾产生量与以往相比减少了 50%到 70%。据此，回答 1、2 题。

1. 下列物品属于“绿色拆除”中可以提前回收的有

- ①生活垃圾      ②木制门窗      ③金属      ④玻璃      ⑤塑料

- A. ①②③④      B. ①②③⑤      C. ①③④⑤      D. ②③④⑤

2. 对实施“绿色拆除”目的表述不正确的是

- A. 减少对土地资源占用      B. 带动废品回收产业发展  
C. 实现垃圾总量的减少      D. 通过回收利用节约资源

玉泉山清澈的泉水灌溉周边山脚下肥沃的土地，生产出著名的“京西稻”，种植历史已有千年，最高峰的时候（1971 年前后）达到 100 万亩！自 2000 年起，稻田面积不断被压缩。近年来，海淀区大力保护和推广京西稻文化，开展保护性种植，举办插秧节、收割节等活动（如图 1 所示），再造十里稻花香的美景。据此，回答 3~5 题。

3. “京西稻”的有利种植条件有

- ①起伏的地形      ②充足的降水  
③优质的水源      ④肥沃的土壤

- A. ①②      B. ③④  
C. ①③      D. ②④



图 1

4. 北京市压缩水稻种植面积的主要原因是

- A. 土壤肥力下降      B. 水资源短缺      C. 市场需求减少      D. 劳动力缺乏

5. 海淀区开展保护性水稻种植可以

- A. 促进区域经济的快速发展      B. 大规模利用从南方调来的水资源  
C. 继承和保护地方特色文化      D. 鼓励市民积极从事农业生产活动

农谚中，夏季农业生产有“龙口夺粮”之喻，农民收获时希望天晴，播种时盼望降雨。图2显示“截至2017年5月21日我国冬小麦产区生产状况”。读图2，回答6~8题。

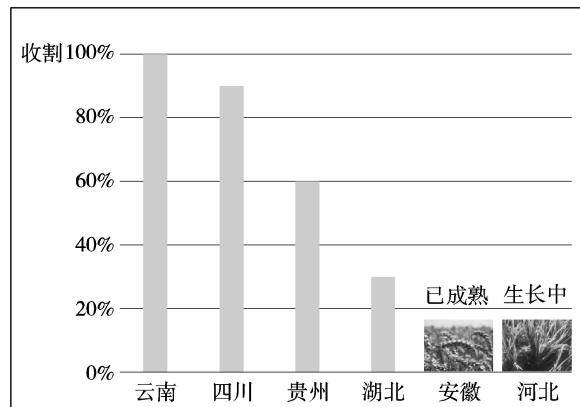


图2

6. 我国不同冬小麦产区生产差异，主要体现了
- A. 南北方的热量差异                      B. 农业技术的差异
- C. 东西部的水分差异                      D. 作物品种的差异
7. 为了更好地指导农民进行夏季农业活动，气象部门应
- A. 利用无人机拍摄云图                      B. 发布寒潮预警信号
- C. 收集近几年气温资料                      D. 提供降水概率预报
8. 上述省份在小麦收割中适宜使用宽幅、大型联合收割机的是
- A. 云南                      B. 四川                      C. 贵州                      D. 河北

图3是深圳到香港的深圳湾口岸，2018年4月1日广深港客运高铁（见图4）香港段开始试运行，将来全程开通后深圳到香港市中心仅15分钟。读图3、图4，回答9~13题。



图3

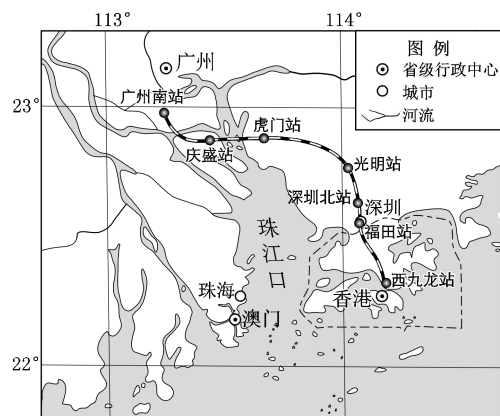


图4

9. 深圳地处我国
- A. 辽中南工业基地                      B. 京津唐工业基地
- C. 沪宁杭工业基地                      D. 珠江三角洲工业基地
10. 长期以来，深圳到香港之间的交通主要采取的方式是
- A. 铁路运输                      B. 航空运输                      C. 公路运输                      D. 管道运输
11. 深圳、香港之间交通已经非常便利，仍要修建高铁是
- A. 因为两地经济互补性强                      B. 考虑距离近，投资较少
- C. 为了深圳市民到香港购物                      D. 方便农产品、能源运输

12. 深圳到香港之间高铁开通后，最大的优势是  
A. 机动灵活                      B. 速度快                      C. 连续性强                      D. 能耗大
13. 在深圳打造创新城市的过程中，香港提供的支持有  
①矿产资源                      ②廉价劳动力                      ③科技人才                      ④充足资金  
A. ①②                      B. ①③                      C. ③④                      D. ②④
- 京城的中华老字号稻香村，售卖食品讲究“四时三节”，这与北京市的自然环境密切相关。据此，回答 14、15 题。
14. 北京市夏季的气候特点使人们感到  
A. 干燥，易中暑                      B. 闷热，无食欲  
C. 凉爽，易感冒                      D. 多风，常过敏
15. 以下稻香村的节气食品中，适宜在夏季食用的是  
① 椿芽酥——鲜嫩香椿芽为馅，咸鲜清香  
② 消暑糕——以绿豆沙制成馅，清凉解暑  
③ 陈皮饼——选用陈皮入馅，生津助消化  
④ 捏耳朵——羊肉、白菜为主料，温热滋补  
A. ①②                      B. ①④                      C. ②③                      D. ③④

陕西省西安市曾被描述为“八水绕长安”，图 5 示意西安城区及附近河流位置。读图 5，回答 16~18 题。

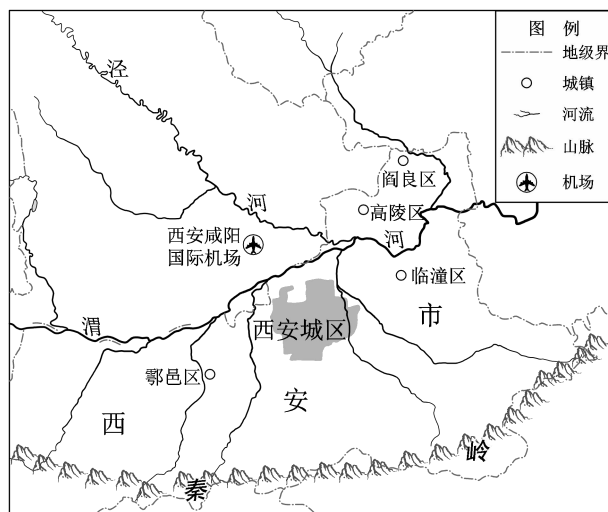


图 5

16. “八水”对古长安发展的作用有  
①水能开发                      ②农田灌溉                      ③城市供水                      ④水运便利  
A. ①②③                      B. ①②④                      C. ②③④                      D. ①③④
17. 由于历史上秦岭的森林被无限制砍伐，河流频繁改道，出现了严重的  
A. 水土流失                      B. 土地沙漠化                      C. 酸雨                      D. 雾霾
18. 上述环境问题表现最突出的地形区是  
A. 黄土高原                      B. 塔里木盆地                      C. 长江中下游平原                      D. 大兴安岭

近几年“环台骑行”成为越来越多年轻人台湾旅游的新选择，其中最热门的路线是海线（如图6），用时12天。读图7，回答19~21题。



图6

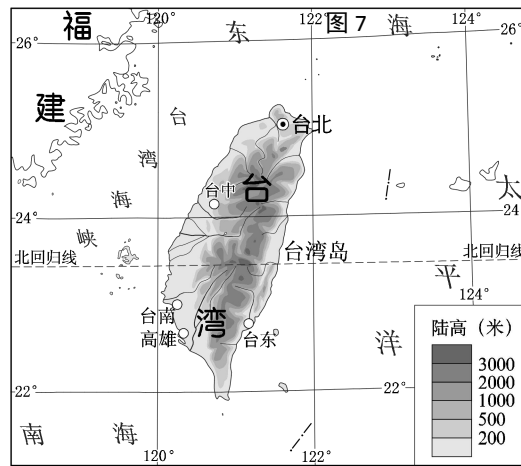


图7

19. “环台骑行”海线的设计主要考虑的因素是
- A. 地形                      B. 气温                      C. 降水                      D. 河流
20. 游客
- A. 应选择6、7月骑行，免受台风影响
- B. 感觉在西部骑行道路起伏较大
- C. 在东部沿线看到大面积水稻田
- D. 沿线最易得到物资补给的是西部
21. 下列最有可能是游客从台湾带回来的伴手礼是
- A. 煎饼                      B. 凤梨酥                      C. 人参                      D. 羊毛毯

首都博物馆《天路文华——西藏历史文化展》中介绍了“高原丝路”，它是不同时期古代西藏与中原和周边国家（地区）联系的交通网络。图8为“西藏那曲气候资料”。读图8，回答22~25题。

22. 高原丝路上商贾马队往来频繁的时间段为
- A. 全年
- B. 3~6月
- C. 7~9月
- D. 10~12月

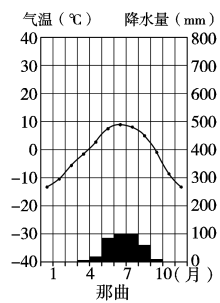



图8

23. 以下考古发现中，能体现西藏与南方地区在古代就有着经济、文化交流的是



昌早沟遗址中发现的小米等粟类作物

A



吐蕃贵族腰带上的马形金饰

B



吐蕃银壶上“反弹琵琶”的图案

C



象泉河上游墓葬中发现的茶叶

D

24. 行走于高原丝路上，需要克服的困难是  
A. 高寒缺氧      B. 洪水泛滥      C. 水源不足      D. 冰川阻隔
25. 高原丝路的挖掘说明青藏地区  
A. 守卫着我国的东大门      B. 自古与中原联系密切  
C. 人口稠密、交通便利      D. 资源丰富、经济发达

二、你能答对吗？（50分）

26. 艾草是一种多年生草本植物。在我国除干旱和高寒地区，几乎遍及全国。《食物本草》中载：艾叶具有祛湿、散寒、驱邪毒等功效。我国民间自古就有食艾、悬艾、饮艾、熏艾的习俗。读图9，回答下列问题。（19分）

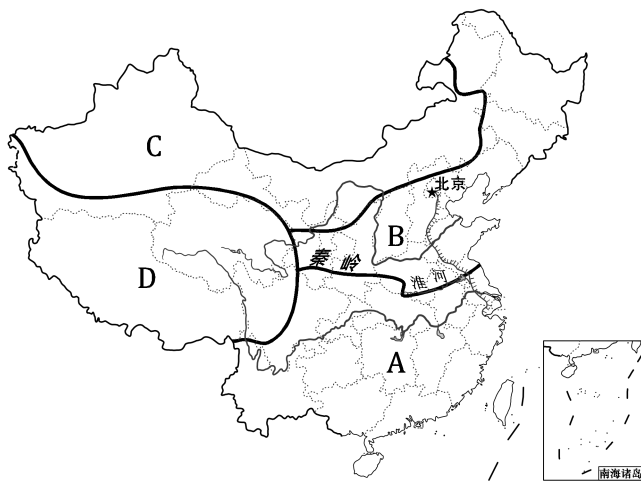


图9

(1) 图中字母代表中国的四大地理区域，它们分别是 A \_\_\_\_\_ 地区，B \_\_\_\_\_ 地区，C \_\_\_\_\_ 地区，D \_\_\_\_\_ 地区，根据艾草的生长习性，能够广泛生长的有 \_\_\_\_\_、\_\_\_\_\_（填字母）地区。

(2) “青团”（如图10）是用艾草的汁拌进糯米粉里，再包裹进豆沙馅儿或者莲蓉制成的点心，已经成为清明出行的首选食品。根据你的知识，“青团”应该是 \_\_\_\_\_（填字母）地区的传统食品，因为这里位于 \_\_\_\_\_—\_\_\_\_\_ 一线以 \_\_\_\_\_（方向），大部分属于 \_\_\_\_\_ 气候，是我国 \_\_\_\_\_（粮食作物）的主要产区。



(3) 每逢端午节（农历五月初五）前后，我国东部地区气温逐渐 \_\_\_\_\_，降水量逐渐 \_\_\_\_\_，古人利用艾草的特殊功效将其悬于房前，可以起到 \_\_\_\_\_（两项选择）作用。

- A. 装饰房屋      B. 驱除蚊虫      C. 防控瘟疫

我国许多地区都保持独具特色的饮食习惯，如蒙古族传统饮食以烤全羊、手抓肉、奶茶等最具代表性；藏族的传统食物是糌粑，它是将青稞洗净、晾干、炒熟后磨成的面粉，食用时用少量的酥油茶、奶渣、糖等搅拌均匀，用手捏成团即可，它不仅便于食用，营养丰富、热量高，还便于携带和储藏。

(4) 请从资料中任选一个，说明特色饮食与当地自然环境、农业生产的关系。（至少答三点）

27. 黄河以西，祁连山以北，有一片狭长的平原，被称为河西走廊。在中华民族的历史进程中，河西走廊关乎国家政治经略、经贸促进、文化交融的宏图大梦。读图 11 “河西走廊”，回答下列问题。（17 分）

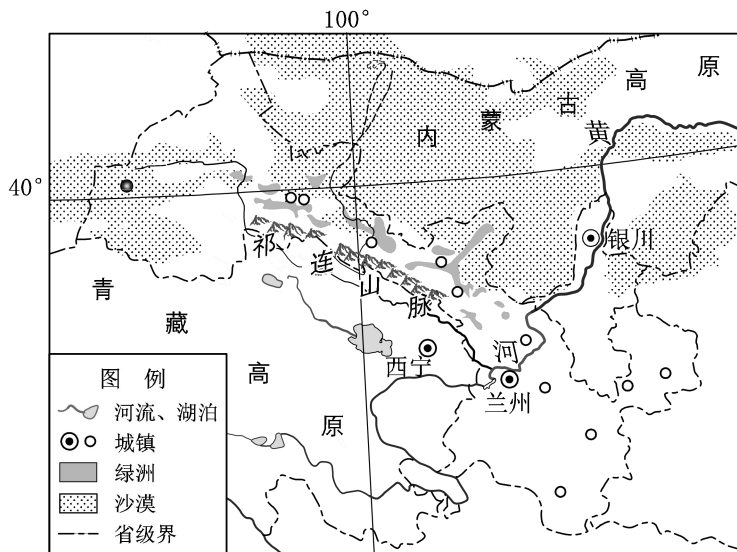


图 11

- 在图 11 中正确的位置填写出“河西走廊”的名称。
- 河西走廊位于我国的\_\_\_\_\_（地理区域），因地处黄河以西，形似走廊，故称河西走廊。向西通往\_\_\_\_\_（省级行政区），南、北毗邻\_\_\_\_\_高原和\_\_\_\_\_高原。
- 图 11 所示地区距海较\_\_\_\_\_（远、近），属于\_\_\_\_\_气候，降水\_\_\_\_\_，但得益于祁连山\_\_\_\_\_的灌溉，自古山麓形成多片绿洲。
- 唐朝诗人王翰在《凉州词》（凉州即现在河西走廊东部的武威市）中写到“葡萄美酒夜光杯，欲饮琵琶马上催。”河西走廊盛产优质葡萄，优势条件有光照\_\_\_\_\_，昼夜温差\_\_\_\_\_（大、小）；河西走廊还拥有目前世界上最大的军马场（如图 12），可以看出这里有广阔的\_\_\_\_\_，丰富的\_\_\_\_\_。
- 在航海技术不发达的古代，东西方的交流和贸易主要通过陆路进行。历史上闻名世界的“\_\_\_\_\_”从河西走廊经过，成为东西方交流的黄金通道。
- 今天经过河西走廊的“\_\_\_\_\_”工程将中亚的天然气输送到我国东部地区，“一带一路”的建设更为它带来新的发展机遇。但是随着工农业发展和人口的增加，加之全球气候变化的影响，河西走廊应该关注可能产生的\_\_\_\_\_资源短缺和\_\_\_\_\_等环境问题。




图 12

28. 图 13 是北京市地形图，图 14 是北京市气候资料。读图和资料，完成下列问题。（14 分）

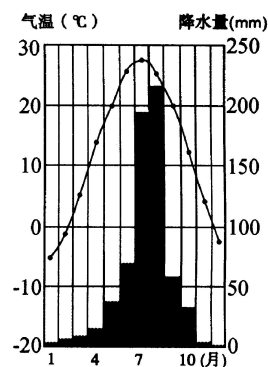
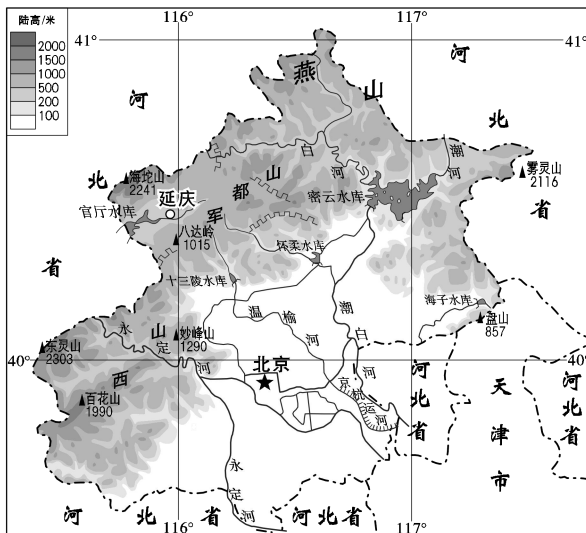


图 14

图 13

资料：2019 北京世界园艺博览会（简称北京世园会）由中国政府主办、北京市政府承办，是近十年在中国举办的级别最高、规模最大的又一次专业展会，规划面积规划总面积 9.6 平方千米。北京世园会将于 2019 年 4 月 29 日至 10 月 7 日在延庆区举办，会期 162 天，期间将有 100 多个国家和国际组织，以及海南、甘肃、西藏等多个国内省、自治区参展。

- (1) 北京市积极承办世园会，反映出北京市的核心功能之一是\_\_\_\_\_（单项选择题）。
- A. 全国政治中心      B. 全国文化中心  
C. 国际交往中心      D. 科技创新中心
- (2) 延庆区位于北京市\_\_\_\_\_（方位），以\_\_\_\_\_（地形类型）为主，是冬季\_\_\_\_\_（风向）风进入北京的重要通道，成为北京市重要的生态屏障，被《北京城市总体规划（2016 年-2030 年）》划定为\_\_\_\_\_（单项选择题）。
- A. 首都功能核心区      B. 北京城市副中心  
C. 中心城区      D. 生态涵养区
- (3) 延庆区举办世园会的优势条件有\_\_\_\_\_（双项选择题），需要进一步完善的条件有\_\_\_\_\_（双项选择题）。
- A. 自然环境      B. 交通      C. 基础设施      D. 政策
- (4) 北京世园会举办时间段的选择主要考虑了\_\_\_\_\_（气温、降水）因素，请结合数据说明你的判断理由\_\_\_\_\_。
- (5) 关于 2019 年北京世园会结束后园区的利用问题，延庆区某校学生搜集了 1999 年举办世园会的昆明市的相关经验。

资料：云南省昆明市世界园艺博览园（简称世博园），是世界上唯一完整保留的世博会会址，距昆明市区约 4 千米，占地约 2 平方千米，全年可游览，昆明市已将它打造成为 5A 级景区。

请对北京世园会建设过程应注意的问题以及后续利用提出你的建议。

## 北京市西城区 2017—2018 学年度第二学期期末试卷

七年级地理试卷参考答案及评分标准

2018.7

### 一、你能选对吗？（每小题 2 分，共 50 分）

题号	1	2	3	4	5	6	7	8	9	10
答案	D	B	B	B	C	A	D	D	D	C
题号	11	12	13	14	15	16	17	18	19	20
答案	A	B	C	B	C	C	A	A	A	D
题号	21	22	23	24	25					
答案	B	C	D	A	B					

### 二、你能答对吗？（共 50 分）

26. 本题共 19 分。

- (1) (6分) 南方 北方 西北 青藏 A B
- (2) (6分) A 秦岭 淮河 南 亚热带季风 水稻
- (3) (4分) 升高 增大 BC
- (4) (3分)

蒙古族：降水较少，草原面积大，以畜牧业为主

藏族：气温低，在河谷地区种植青稞

27. 本题共 17 分。

- (1) (1分) 填图略
- (2) (4分) 西北地区 新疆维吾尔自治区 青藏 内蒙古
- (3) (4分) 远 温带大陆性 较少 冰雪融水
- (4) (4分) 充足 大 草原 水源
- (5) (1分) 丝绸之路
- (6) (3分) 西气东输 水 土地荒漠化

28. 本题共 14 分。

- (1) (1分) C
- (2) (4分) 西北 山地 西北 D
- (3) (4分) AD BC
- (4) (3分) 气温 月均温在 10-30℃之间，满足大多数植物生长需要
- (5) (2分) 合理即可