



# 北京市西城区2019年九年级模拟测试

## 历史试卷

2019.5

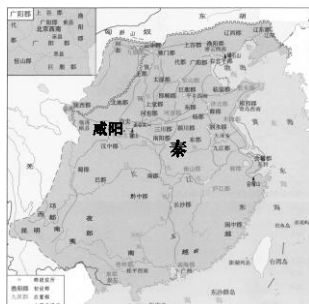
考生须知

1. 本试卷共 12 页，共 30 道选择题，4 道材料分析题。满分 90 分。考试时间 90 分钟。
2. 在试卷和答题卡上准确填写姓名、准考证号、考场号和座位号。
3. 试题答案一律填涂或书写在答题卡上，在试卷上作答无效。
4. 在答题卡上，选择题用 2B 铅笔作答，其他试题用黑色字迹签字笔作答。
5. 考试结束，将本试卷、答题卡一并交回。

### 第一部分 选择题（共45分）

本部分共30小题，每小题1.5分，共45分。在每小题列出的四个选项中，选出最符合题目要求的一项。

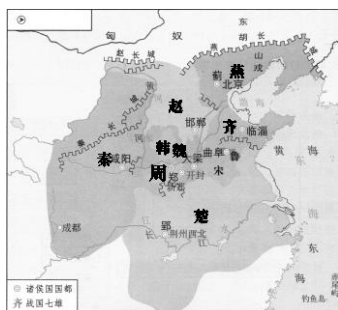
1. 我国原始农耕时代，北方和南方的主要农作物分别是  
A. 水稻 胡豆      B. 粟 水稻      C. 粟 小麦      D. 水稻 玉米
2. 下列四幅地图，反映春秋时期社会形势的是



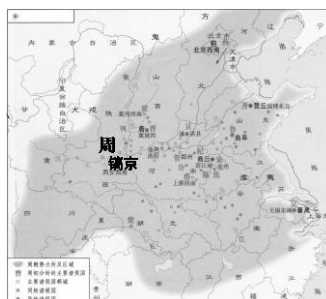
A



B



C



D

3. 《史记·商君列传》记载：“卫鞅曰：‘治世不一道，便国不法古。故汤武不循古而王，夏殷



不易礼而亡。复古者不可非，而循礼者不足多。’”这段话反映的核心主张是

- A. 顺应时代发展进行改革
- B. 遵循先代旧制保持稳定
- C. 加强思想控制焚书坑儒
- D. 强化专制统治维护集权

4. 西汉初年，诸侯“连城数十，地方千里”轻则骄奢淫逸，重则联手对抗中央。汉武帝时为解决这一问题所采取的措施是

- A. 坚持进行削藩
- B. 推行儒学教育
- C. 实施“推恩令”
- D. 在地方设转运使

5. 唐太宗开明的民族政策，促进了民族和睦。下列史事能够印证这一观点的有

- ①玄奘西行 ②文成公主入藏 ③被北方和西北各族尊奉为“天可汗” ④鉴真东渡
- A. ①④
- B. ②③
- C. ①②④
- D. ①③④

6. 下列影视剧中的情节，与史实相符的是

- A. 孔子将《春秋》纸书交给弟子
- B. 秦始皇用葡萄、花生等美食宴请群臣
- C. 唐代公主在长安城中逛夜市
- D. 宋代成都商人能够携带交子进行商品交易

7. 历史推论离不开对史实的正确解读。下列史实与推论之间的逻辑关系正确的是

选项	史实	推论
A	汉武帝接受“罢黜百家，独尊儒术”的建议	使诸子百家学说在社会上流行
B	755—763年，发生安史之乱	标志着唐朝的灭亡
C	1420年紫禁城基本建成	是东西方建筑艺术的结晶
D	雍正设置军机处	使君主专制进一步强化

8. 右侧邮票展示了中国某剧种的脸谱艺术，该剧种在道光年间逐渐形成，它是

- A. 秦腔
- B. 汉调
- C. 京剧
- D. 昆曲



9. 中华民族历来崇尚民族英雄。下表“？”处与人物相对应的事件是

民族英雄	戚继光	郑成功	林则徐	邓世昌
历史事件	抗击倭寇	？	虎门销烟	血战黄海

- A. 抗击沙俄
- B. 收复台湾
- C. 起兵抗元
- D. 收复新疆



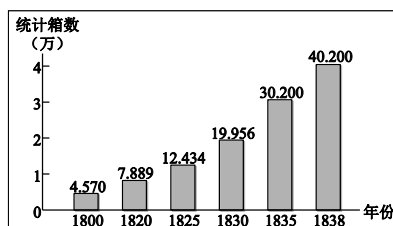
10. 右侧是学生整理的学习笔记，下列选项与笔记内容相符的是

- A. 社会动荡不安
- B. 休养生息政策
- C. 海外贸易发展
- D. 闭关锁国政策

目的：维护清王朝统治  
 表现：严格限制对外贸易，只开放广州一处作为对外通商口岸  
 影响：阻碍了中国社会的进步

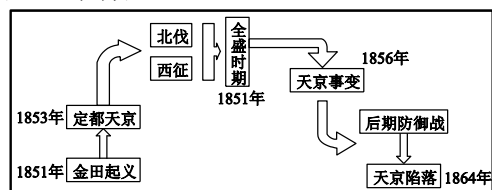
11. 右图为 1800-1838 年间英国输入中国鸦片数据。下列事件与图中所反映的现象直接相关的是

- A. 虎门销烟
- B. 签订中英《南京条约》
- C. 第二次鸦片战争
- D. 甲午中日战争



12. 右图为某一历史事件的形势示意图，由此判断这一事件是

- A. 李自成起义
- B. 太平天国运动
- C. 义和团运动
- D. 八国联军侵华战争



13. 清末民初山西有一首民谣：“破戏台，烂秀才，小足板子（缠足）洋烟袋；火车站，德律风(电话)，大足板子毕业生。”这反映出当时的社会景象是

- A. 民风奢华
- B. 全面西化
- C. 陋习横行
- D. 新旧并存

14. 与下列三幅图片资料相关的历史事件是



北大红楼旧址



《新青年》杂志封面



陈独秀

- A. 洋务运动
- B. 新文化运动
- C. 百日维新
- D. 北伐战争

15. 右图纪念碑记载的历史事件标志着

- A. 中华民族艰苦抗战的开始
- B. 日本全面侵华战争的开始
- C. 国民党正面战场抗战开始
- D. 抗日民族统一战线初步形成





16. 右侧的文字是某位历史人物的简介。他是

- A. 林则徐
- B. 曾国藩
- C. 张謇
- D. 康有为

中国实业家、教育家……江苏南通人。清光绪状元……1895年在南通创办大生纱厂……把实业、教育称为“富强之大本”。  
——《辞海》

17. 下列连环画反映的历史时期是



- A. 北伐战争
- B. 抗日战争
- C. 解放战争
- D. 抗美援朝

18. 对联有着鲜明的时代特色。下列对联中，反映我国改革开放后人民生活的是

- A. 万里河山归人民，五亿群众庆新生
- B. 自主权通富裕路，责任制架幸福桥
- C. 扎根农村干革命，广阔天地炼红心
- D. 食堂巧煮千家饭，公社饱暖万人心

19. 小李在检索某历史人物时，输入了“千里跃进大别山”“改革开放”“社会主义初级阶段理论”等关键词，他要查找的是

- A. 孙中山
- B. 毛泽东
- C. 周恩来
- D. 邓小平

20. 同学们搜集了“十一届三中全会”“深圳、珠海经济特区的发展”“习近平新时代中国特色社会主义思想”的相关资料，由此推断他研究的课题是

- A. 民族团结和国家统一
- B. 社会主义工业化的起步
- C. 现代中国农村的巨变
- D. 建设中国特色社会主义

21. 下图是古代亚非四大文明分布示意图，①处所在地区对应的文明成果有

- A. 哈拉帕、摩亨佐·达罗遗址
- B. 甲骨文、司母戊鼎
- C. 楔形文字、《汉谟拉比法典》
- D. 象形文字、狮身人面像



22. 2019年1月印度上映了一部传记题材电影《章西女王》，再现了一位民族女英雄的事迹，她抗击的是

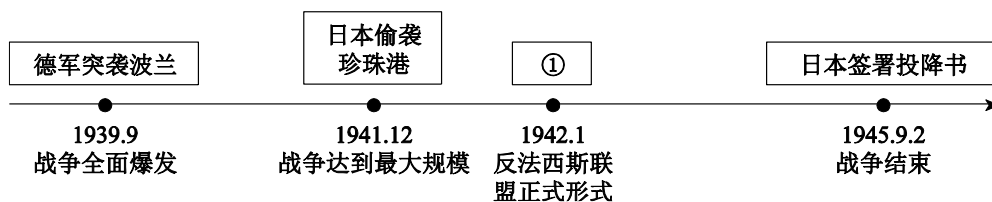
- A. 西班牙殖民者
- B. 荷兰殖民者
- C. 英国殖民者
- D. 法国殖民者

23. 下列史实反映的共同主题是

1649年，查理一世被推上了断头台。  
1777年，英军在萨拉托加陷入大陆军的包围，被迫投降。  
1789年，巴黎民众攻占了象征国王统治的巴士底狱。



- A. 欧美思想解放运动  
B. 欧美资产阶级革命  
C. 资本主义制度的扩展  
D. 殖民地人民的斗争
24. 1859年，一部引起巨大反响的著作问世。这部著作的出版，打破了千百年来的神创论，在生物科学领域掀起了一场伟大革命。它是
- A. 《物种起源》  
B. 《自然哲学的数学原理》  
C. 《狂人日记》  
D. 《神曲》
25. 同学们将下列历史事件进行排序，正确的是
- ①十月革命的胜利  
②五四运动的爆发  
③马克思主义诞生  
④中国共产党成立
- A. ①②③④  
B. ②①③④  
C. ③①②④  
D. ②④①③
26. 美国田纳西水利工程是政府投资兴建的大型公共工程。该项目招收大批失业工人，兴建水坝、水电站，发展航运，促进了这一地区工业和农业的发展。下列与该工程相关的是
- A. 新经济政策  
B. 罗斯福新政  
C. 杜鲁门主义  
D. 马歇尔计划
27. 为梳理二战的主要进程，某同学制作了如下时间轴示意图，其中①应填入



- A. 《开罗宣言》  
B. 《波茨坦公告》  
C. 《凡尔赛条约》  
D. 《联合国宣言》
28. 下列各项内容来自于某历史公众号推送的一个学习资源包。由此可知，该期推送的历史专题是
- ①论文：《论二战后资本主义的发展》  
②图片：《社会主义的改革》  
③视频：《美苏“冷战”》  
④地图：《亚非拉的独立运动》
- A. 战后世界的变化与发展  
B. 两极格局的对峙  
C. 战后政治多极化趋势  
D. 经济的全球化趋势
29. 下列事件中，标志着所有非洲国家都摆脱了殖民主义枷锁的是
- A. 埃及将苏伊士运河收归国有  
B. 纳米比亚独立  
C. 古巴走上社会主义道路  
D. 利比亚独立
30. 下列标识所代表的国际组织中，以维护世界和平及安全为宗旨的是



A



B



C



D



## 第二部分 材料分析题（共 45 分）

31.（10 分）中华文明源远流长

材料一

传说中炎帝和黄帝的发明

人物	衣食住行等物质文明	文字等精神文明
炎帝	生产工具、耕种、陶器、纺织、煮盐	天文、历法、琴瑟
黄帝及其部下	宫室、衣裳、水井、船只、弓箭	文字、算盘、音律

（1）每年清明节都有大量来自海内外的炎黄子孙到炎帝陵、黄帝陵拜祭。依据材料一，写出炎帝和黄帝被中华民族尊崇的原因。（2 分）

材料二 中华文明在各个领域都取得了辉煌成就



图 1 《齐民要术》书影



图 2 《兰亭集序》(摹本·局部)



图 3 紫禁城



图 4 《本草綱目》插图



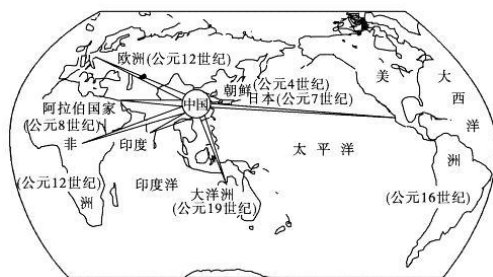
图 5 《天工開物》插图



图 6 《紅樓夢》插图

（2）从上述成就中任选两个，说出与之相关的历史人物及该成就的历史地位。（4 分）

材料三



造纸术外传示意图

各个古老的文明都有与其自然条件相适应的书写材料。古代埃及人用的是天然生长的植物纸草，但它容易发脆断裂，用它书写的作品很难保存。希腊人用羊皮作书写材料，但羊皮太贵，产量有限，不能广泛地使用。巴比伦人把文字刻在泥板上，但泥板笨重，不宜记录大量知识。在纸出现之前的中国，古人把文字刻画、书写在甲骨和简帛上面，或铸刻在青铜器物上面。东汉时，蔡伦改进造纸工艺，用树皮、麻头、破布、旧渔网等植物纤维为原料造纸，人称“蔡侯纸”，纸的质量大大提高。

——摘编自《科学的历程》



(3) 有学者认为“世界受蔡侯(伦)的恩惠要比受许多更知名的人的恩惠更大”。依据材料三，谈谈你对该观点的看法。(3分)

(4) 文明交流互鉴，是推动人类文明进步和世界和平发展的重要动力。请说出在文明交流互鉴中应秉持的正确态度。(1分)

32. (13分) 海内存知己，天涯若比邻

材料一 中外交往中的名人



图1 鉴真大师像



图2 郑和像



图3 玄奘西行求法



图4 张骞凿空西域

(1) 材料一是中国邮政发行的纪念邮票。请仿照示例，从除图4以外的人物中，任选一位并完成对其的介绍。(3分)

【示例】

图4纪念的是张骞。汉武帝时，张骞两次出使西域，促进了汉朝与西域各国之间的相互了解与往来，为丝绸之路的开通奠定了基础。


材料二 唐朝的中外交流

序号	史实
①	主要外国使团入唐次数：阿拉伯帝国 33、越南 24、新罗 26、波斯 26、日本 15、天竺 25、东罗马 7、粟特的安国 17、粟特的石国 21、粟特的曹国 8、高丽 7、斯里兰卡 5
②	唐朝教育制度完备，长安更是全国的教育中心。当时日本、新罗、百济、高丽、尼泊尔、天竺、林邑等国，派遣大批学生入唐留学，唐政府在学习和衣食住行方面给予优惠
③	大化新政府成立以后，任命曾长期居留中国并熟知中国典章制度的高向玄理、僧旻为国博士，参与新政府的施政。从 645 至 718 年，日本基本上完成了政治改革，通过吸取唐朝的律令制度，建立了古代天皇制国家
④	唐太宗以求新纳异的态度，广泛吸收各民族和外国艺术的精华，增订完成了十部乐，分为燕乐、清乐、西凉乐、天竺乐、高丽乐、龟兹乐、安国乐、疏勒乐、康国乐、高昌乐。这些乐舞融合了域外音乐和乐器，在长安有着压倒传统乐舞的优势

(2) 依据材料二，归纳唐朝时中外交流的特点。(2分) 任选其中一个特点，运用上述表格中的相关史实(至少选择一项史实)，说明该特点。(2分)




**材料三** 中华人民共和国的成立结束了旧中国一百多年来的屈辱外交，开创了新中国外交的新纪元。中国在国际事务中发挥着日益重要的作用。




本政府为代表中华人民共和国全国人民的唯一合法政府。凡愿遵守平等、互利及互相尊重领土主权等项原则的任何外国政府，本政府均愿与之建立外交关系。

——毛泽东



周恩来在亚非会议上表示：中国代表团是来求同而不是来立异的。亚非绝大多数国家和人民自近代以来都经受过、并且现在仍在受着殖民主义所造成的灾难和痛苦。无论是共产党领导的还是民族主义者领导的亚非国家都是从殖民主义的统治下独立起来的，可以相互了解和尊重、互相同情和支持，和平共处五项原则完全可以成为我们中间建立友好合作和亲善睦邻关系的基础。



中华人民共和国和美利坚合众国商定自一九七九年一月一日起互相承认并建立外交关系。美利坚合众国承认中华人民共和国政府是中国的唯一合法政府。在此范围内，美国人民将同台湾人民保持文化、商务和其他非官方关系。

——《中美建交公报》

- (3)
- ↓
  - ↓
  - ↓
- 写出中华人民共和国的外交政策。(1分)

指出中国与亚非国家的“同”。(2分)

写出中美两国关于中国主权达成的一致意见。(1分)

**材料四** 2013年9月和10月，中国国家主席习近平在访问哈萨克斯坦和印度尼西亚时，分别提出共建“丝绸之路经济带”和“21世纪海上丝绸之路”。这两大倡议被合称为“一带一路”，是中国深化改革开放和推进周边外交的大手笔，在国内外受到广泛关注，反响积极。

“一带一路”的主要内容是“五通”，突出务实合作和项目合作。一是“政策沟通”。二是“( A )”。中国人讲，“要想富，先修路”。很多国家都认同这一点。中国与周边国家需要积极探索完善跨境交通基础设施，逐步形成连接亚洲各次区域以及亚欧非之间的交通运输网络，实现“一带”方向“西出阳关有故人”，“一路”方向“直挂云帆济沧海”。三是“贸易畅通”。四是“货币流通”。五是“( B )”。国之交在于民相亲，中国与周边国家需要夯实国家关系的民间基础，促进不同文明之间的交流对话，加强各国人民特别是基层民众的友好往来，增进相互了解和传统友谊。

——《弘扬丝路精神，共建丝路伟业》

(4) “一带一路”是开放包容的经济合作倡议，契合各国追求开放、联动发展的共同愿望。阅读材料四，为A、B处分别提炼一个恰当的主题词。(2分)





33. (13分) 欧美大国的崛起

【步入近代】

材料一

序号	史实
①	1503年到1660年间,西班牙从美洲攫取了有据可查的总计18600吨白银和200吨黄金
②	16世纪初,马和牛被引进新大陆
③	哥伦布致西班牙国王和王后书:“黄金是一切商品中最宝贵的,黄金是财富,谁占有黄金,谁就能获得他在世上所需的一切。同时也就取得把灵魂从炼狱中拯救出来,并使灵魂重享天堂之乐的手段。”
④	1555年,中国出现最早的玉米记录
⑤	1675年,欧洲移民在弗吉尼亚发生了一场战争,明确消灭所有美洲土著,不论其友善与否
⑥	15世纪初,托勒密的《地理学指南》一书被翻译成拉丁文,地圆学说逐渐流行开来
⑦	1519-1522年,麦哲伦船队完成环球航行
⑧	1766年到1767年,英国东印度公司在对孟加拉地区的劫掠中获利750万英镑

(1) 依据材料一,完成表格。(3分)

历史专题		序号
		③⑥
新航路开辟的影响		②④
	殖民主义的罪恶	

【科技革命】

**材料二** 17世纪末,英国君主立宪制建立后,政局稳定,资本主义经济迅速发展。海外大扩张之后,欧洲经济发展速度惊人。随着国内外市场的不断扩大,对棉纺织业的需求迅速增长,刺激了棉纺织生产方式的改进和技术发明。1765年,哈格里夫斯发明了纺纱机,经过不断改进,能同时纺出80根纱线,大大提高了生产效率。1785年,瓦特改进的蒸汽机首先在纺织部门投入使用。到19世纪30年代,蒸汽机成为主要的动力来源。蒸汽机的广泛应用,极大地提高了生产力,使工业革命得以更快地向纵深发展。19世纪六七十年代,第二次工业革命开始。科学开始对工业没什么影响,纺织、采矿、冶金和运输业方面的种种发明,极少是由科学家们作出的。相反,它们多半是由响应非凡的经济刺激的、有才能的技工完成的。不过,1870年以后,科学开始起了更加重要的作用。渐渐地,它成为所有大工业生产的一个组成部分。电力成为新的能源进入生产生活领域,人类社会进入了“电气时代”。



——摘编自《全球通史》

(2) 依据材料二，对以下表述做出判断：直接从材料得出的，在括号内划“√”；违背材料所表达意思的，在括号内划“×”；材料没有涉及的，在括号内划“○”。(4分)

- ①英国君主立宪制的确立，以及海外扩张浪潮，为工业革命的发生提供了条件。( )
- ②瓦特发明的蒸汽机得到广泛应用。( )
- ③19世纪后期起，法国、美国、德国等国先后进行了工业革命。( )
- ④第二次工业革命的特点是科学研究同工业生产紧密结合。( )

### 【伟人风采】

#### 材料三

 <p>①</p>	<p>他兵败的根源在于，自由和平等的大革命理念意味着一切民族压迫行为都失去了合法性。被占国的人民先是在他的指引下觉悟到这一点，然后在这位导师的侵略行为背叛了革命原则时转而反抗。</p> <p style="text-align: right;">——《大国崛起》</p>
 <p>亚伯拉罕·林肯</p>	<p>2006年底美国的权威期刊《大西洋月刊》编辑部邀请十位著名历史学家，投票选举100位美国历史上最具影响力的人物。结果，亚伯拉罕·林肯因“拯救了国家，再造了美国”的历史功勋而排名第一。</p>

(3) 阅读材料三，回答问题。

- ❖ ①处的历史人物是\_\_\_\_\_；(1分)依据《大国崛起》的叙述，写出他的历史贡献。(1分)
  
- ❖ 你如何理解林肯“拯救了国家，再造了美国”？(2分)

### 【历史之思】

(4) 综合上述材料，概括近代以来欧美各国迅速发展的原因。(2分)



34. (9分) 中国近现代工业的发展

【近代化艰难起步】

材料一

序号	时间	内容
①	1861年	曾国藩设立安庆内军械所
②	1862年	恭亲王奕訢提议,在北京设立同文馆。课程初设英、法、俄文,后增添算学、天文等
③	1865年	李鸿章在上海创办江南制造总局
④	1866年	左宗棠创办福州船政局
⑤	1872年	李鸿章在上海创办轮船招商局
⑥	1878年	李鸿章在天津创立开平矿务局
⑦	1889年	张之洞始建汉阳铁厂
⑧	1881年	南洋、北洋、福建三支海军初见规模

(1) 上述表格中,以“求富”为口号,创办的民用企业是\_\_\_\_\_。(1分) 京师同文馆是中国第一所新式学堂,请结合所学指出它所起到的主要作用。(1分)

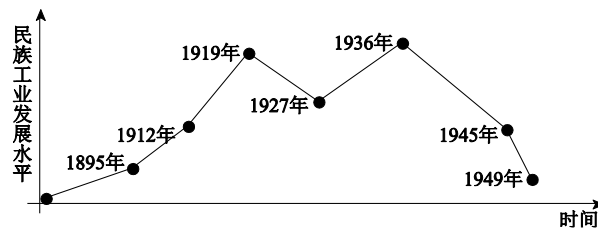
材料二 徐中约在《中国近代史》中说,洋务派官员“从未梦想要把中国锻造成一个新式国家,事实上,他们竭力地巩固而非取代现存的秩序,而且全然没有经济发展、工业革命和现代变革的概念。……在这个国家里,占主导地位的仍然是旧式制度。”

陈旭麓在《近代中国社会的新陈代谢》中指出,洋务运动期间“引进的大规模机器生产则是一种前所未有的新生产力”。

(2) 材料二中“他们竭力地巩固而非取代现存的秩序”指的是什么?(1分) 依据材料指出洋务运动的积极作用。(1分)

【民族工业曲折发展】

材料三



中国近代民族工业发展示意图

(3) 近代民族工业的发展是艰难曲折的,如材料三中所示:1937—1949年期间,民族工业发展进程呈下降趋势。请写出导致这一趋势的主要原因。(2分)



【现代工业的兴起】

材料四



图 1 实行股份制的  
邯郸钢铁公司



图 2 新中国第一辆  
“解放牌”汽车



图 3 王进喜（左二）和  
工人们一起钻井

(4) 结合所学，将材料四中的历史图片按照时间顺序进行正确排序。(1分)

【现代工业的发展】

材料五



海上钻井平台“蓝鲸二号”

“蓝鲸二号”这个海上巨无霸，有 37 层楼高，甲板有一个足球场大。它可以在水深超过 3000 米的海域作业，最大钻井深度 15240 米。这是全球最大、钻井深度最深的海上钻井平台。海上钻井平台被称为流动的国土，是一个国家整体工业实力的重要体现。几年前，中国还完全没有自主制造海上钻井平台的能力，现在不仅能够自己建造，而且领先全球。

——《厉害了，我的国》

(5) 经过漫长的艰辛坎坷之路，中国的民族工业飞速发展。请综合上述材料，写出新中国工业从兴起到飞速发展给我们的启示。(2分)

