



# 2022 北京昌平初三二模

## 历史

本试卷共 9 页，共 70 分。考试时长 70 分钟。考生务必将答案填涂或写在答题卡上，在试卷上作答无效。考试结束后，将答题卡交回。

### 一、单项选择题（每小题 15 分，共 30 分）

1. 《史记》记载：“武王……封尚父于营丘，曰齐。封弟周公旦于曲阜，曰鲁。封召公奭于燕。”此记载描述的西周政治制度是

- A. 分封制
- B. 郡县制
- C. 科举制
- D. 行省制

2. 春秋战国时期，思想学术繁荣。这一时期主张“仁政”“民为贵，社稷次之，君为轻”的是

- A. 老子
- B. 孟子
- C. 墨子
- D. 韩非子

3. 阅读下表材料，可以比较出秦始皇和汉武帝措施的共同作用是

秦始皇	汉武帝
确立了中央集权制度；下令统一文字、货币、度量衡；修筑长城。	实施“推恩令”；“罢黜百家，独尊儒术”；实行盐铁专卖；北击匈奴。

- A. 确立了儒学的主导地位
  - B. 推动了中外友好往来
  - C. 进经济文化交流
  - D. 巩固了国家的统一
4. ①（朝代）的统一，结束了三国两晋南北朝以来政权分立的局面。下列事件发生于①时期的是
- A. 修都江堰
  - B. 开凿灵渠
  - C. 开辟丝绸之路
  - D. 开通大运河
5. 中国古代史上出现了多个“治世”“盛世”时期。以下“治世”或“盛世”按时间排序正确的是
- ①光武中兴②文景之治③开元盛世④贞观之治
- A. ①②③④
  - B. ①②④③
  - C. ②①③④
  - D. ②①④③

6. 下列“中国古代南北方户数演变表”能够反映出我国古代

朝代	北方户数	南方户数
汉（公元 2 年）	965 万	111 万
唐（公元 742 年）	493 万	257 万
宋（公元 1080 年）	459 万	830 万

- A. 人口的不断增长
- B. 技术进步
- C. 经济重心的南移
- D. 政治制度的演变

7. 中国传统医学历史悠久、博大精深。以下书籍中总结了我国古代药物学成就是的



《史记》

《伤寒论》

《本草纲目》

《农政全书》

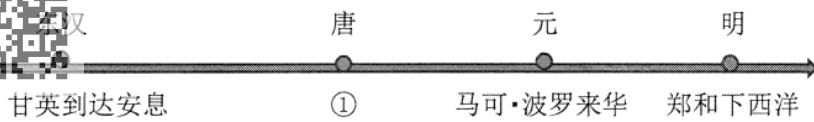
A

B

C

D

8. 整理时间轴是历史学习的重要方法。下列时间轴中①处可填写的事件是



(注：安息指今伊朗高原和两河流域)

- A. 安史之乱                      B. 文成公主入藏                      C. 黄巢起义                      D. 鉴真东渡

9. 下图是广东省东莞市虎门广场的标志性雕像《较量》，其展现了有力的双手与折断的“烟枪”。此雕像所反映的历史事件



- A. 显示了中华民族反抗外来侵略 坚强意志  
B. 客观上促进了中国民族资本主义的产生  
C. 沉重地打击了清朝的统治和外国侵略势力  
D. 使中国的半殖民地化程度进一步加深

10. 《每周评论》报道：“民国八年……北京学生几千人，因山东问题失败，在政府高压的底下，居然列队示威，作正当民意的表示。”此报道反映的历史事件是

- A. 太平天国运动                      B. 洋务运动                      C. 义和团运动                      D. 五四运动

11. 某校开展纪念“抗日战争的伟大英雄”主题活动。他们可以参观

①杨靖宇将军纪念馆②佟麟阁纪念馆③黄继光纪念馆④左权将军纪念馆

- A. ①②③                      B. ①②④                      C. ①③④                      D. ②③④

12. 1956年底，我国实现了生产资料私有制向社会主义公有制的转变。与此相关的历史事件是

- A. 开国大典                      B. 西藏和平解放                      C. 土地改革                      D. 三大改造

13. 下图反映的是



A. 资本主义工商业的改造

B. 第一个五年计划的实施

C. 人民代表大会制度的确立

D. 十一届三中全会召开

14. 下表是 1965 至 1971 年联合国大会关于恢复中国联合国大会合法席位提案的表决情况。从表中可以看出，我国恢复联合国合法席位

年份（年）	1965	1966	1967	1968	1969	1970	1971
赞成国家数（个）	47	46	45	44	48	51	76
反对国家数（个）	47	57	58	58	56	49	35

A. 过程的曲折性和艰难性

B. 与欧洲国家的有力支持密不可分

C. 国力提升结果

D. 得益于中美关系开始走向正常化


15. 下列图片可用于研究



俄国宣布“解放”农奴的法令



日本明治初期的小学课堂



1862年美国《宅地法》文件

A. 资本主义制度的初步确立

B. 资本主义制度的扩展

C. 一战后资本主义国家的变化

D. 两极格局的形成

16. 历史解释是以史料为依据，客观地认识和评判历史的态度和方法。下列选项中属于历史解释的是

A. 1859 年英国生物学家达尔文的著作《物种起源》出版

B. 1868 年明治政府开始实行一系列改革

C. 1919 年协约国与德国签订了《协约及参战各国对德和约》

D. 1917 年取得胜利的俄国十月革命，是人类历史上第一次胜利的社会主义革命

17. ①指出，人类进入资本主义时代，整个社会日益分裂为两大对立阶级：资产阶级和无产阶级。资本主义社会必将被没有剥削和压迫的共产主义社会所取代。材料中的①是

A. 《权利法案》

B. 《人权宣言》

C. 《独立宣言》

D. 《共产党宣言》

18. 某学习小组要研究冷战时期的历史，可选用的史料有

①杜鲁门在 1947 年的演讲稿

②拍摄于 20 世纪 40 年代末“柏林危机”期间空运的照片

③学生绘制的关于 1991 年苏联解体的手抄报

④亲身经历“华约”建立者 日记

A. ①②③

B. ①②④

C. ①③④

D. ②③④

19. 下表①②③处可填

资产阶级革命时代的领军者：克伦威尔；\_\_\_①\_\_\_；拿破仑亚洲和拉丁美洲反殖民统治的领  
导人：\_\_\_②\_\_\_；圣马丁；章西女王雅尔塔会议中的三巨头：丘吉尔；罗斯福；\_\_\_③\_\_\_

- A. ①华盛顿②玻利瓦尔③斯大林  
B. ①林肯 ②玻利瓦尔③列宁  
C. ①华盛顿②彼得一世③列宁  
D. ①林肯 ②彼得一世③斯大林

20. 联合国维持和平的行动始于 1948 年。近些年，共有数十万名军事人员和数万名联合国警察参加了联合国维持和平行动。由此说明，联合国

- A. 以促进世界贸易和经济发展为宗旨  
B. 彻底消除了世界各国间的冲突和争端  
C. 可以向冲突地区派出维和部队  
D. 致力于提高人们对地球环境问题的重视

二、非选择题（共 40 分）

21. 服饰的变化见证了历史的发展。

材料一 在远古时期，我国先民利用葛、麻、蚕丝、羊毛纤维和兽皮等材料，经过敲打、劈、搓、绩后，用纺织工具进行编织，制成可以御寒遮体的衣物。在距今 7000 年前的河姆渡遗址就曾经出土了不少石制（石纺轮）、陶制、木制（木制的织机部件），骨质（骨针）的原始纺织工具。

——摘编自韵晓雁《手经指挂开启纺织文明史的篇章》



(1) 依据材料一，概括我国远古时期纺织文明发展的特点。

材料二 通过对北魏墓葬女俑服装款式的研究，可以看到北魏女性服饰在沿袭汉代以来的汉族传统服饰习俗的同时，也采纳了少数民族的服饰样式，这些服饰元素影响到东魏、西魏、北齐甚至隋唐女性服饰之中。北魏墓葬女俑服饰款式，体现出当时女性社会中明确的分工（有女官俑、女侍用、舞乐俑、劳作俑等），折射出北魏女性相比较于其他朝代的女性，能有更多机会参与到社会生活之中，

——摘编自郑亦奇《北魏时期墓葬女俑服饰款式探究》

(2) 依据材料二，分析北魏女俑服饰 历史研究价值。

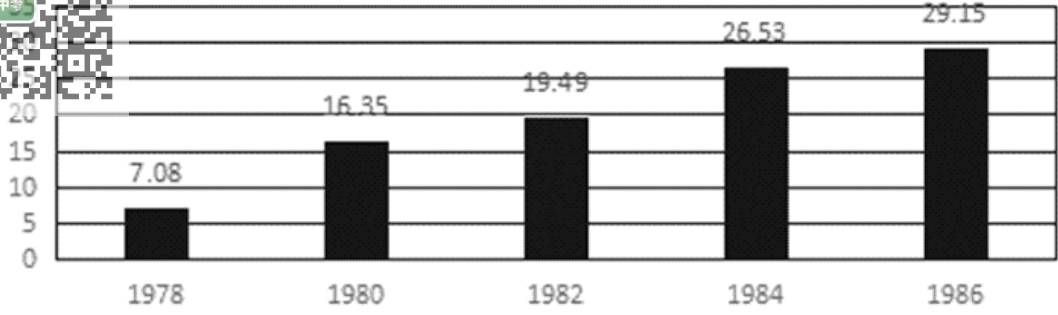
材料三

		<p>1912 年“改元易服”成为关系民生的社会话题，西装受到大众推崇。然而中国固有的丝、麻绵纺织不适宜西装制作，以至“外货畅销，内货阻滞”，对脆弱的民族纺织工业造成了巨大打击。由此，“博采西制，加以改良”的中山装应运而生。中山装领型与中国传统袍褂的领型结构相近符合中国人的穿衣习惯，且适用更多种类的布料，成本远低于西服套装，易于推广。</p>
---	---	--

孙中山所穿的中山装

(3) 指出与材料三中“改元易服”相关的历史事件。分析中山装“易于推广”的原因。

材料四



1978-1986年中国服装出口额（亿美元）

(4) 依据材料四，说出 1978 至 1986 年中国服装出口额的变化趋势。结合所学分析产生这种变化的背景。  
22. 博物馆是学习知识的重要场所，也是衡量国家文明发展的重要标志。

材料一

	<p>此俑的骆驼昂首挺立，驮载了 5 个汉、胡男子。中间一人在跳舞，另外一人拨奏琵琶，一人吹篪篥 (bìhì)，二人击鼓，均属胡乐。由于唐代经济繁荣，人们对精神享受的要求也相对提高。唐代乐伎群体在此背景下不断壮大。此外，“唐三彩骆驼载乐俑”作为陪葬品，与唐朝厚葬之风的形成也有莫大关系。</p>
<p>唐代骑驼乐舞三彩俑 现收藏于中国国家博物馆</p>	

(1) 依据材料一，说出唐代“骑驼乐舞三彩俑”出现的原因。

材料二 1851 年，英国举办了伦敦万国工业品博览会，展品包括蒸汽机、火车头、纺织机等，向全世界展示了英国非凡的工业实力。博览会盈余资金被用于建设公共事业，以博览会为契机而建立的、致力于公众教育的博物馆对英国社会产生的影响也不容小觑。此外，英国还借此机会向全世界宣扬其自由经济模式，从而进一步拓展其市场和贸易范围。

——摘编自魏冕《1851 年万国工业博览会研究》

(2) 结合所学，说出 1851 年英国举办伦敦万国工业品博览会的背景。依据材料二，概括万国工业品博览会的影响。

材料三 中国共产党历史展览馆展品（部分）

<p>①井冈山时期红军分给农民李尚发的食盐陶罐</p>	<p>②邓小平同志《解放思想，实事求是，团结一致向前看》的讲话提纲手稿</p>	<p>③神舟十二号载人飞船（2021 年 6 月 17 成功发射）搭载的中国共产党党旗</p>	<p>④高铁复兴号（2017 年 6 月 26 日日首发）模拟驾驶舱</p>
-----------------------------	---	---	--



			
⑤中国人民解放军在澳门政权交接仪式上使用的指挥刀 	⑥浙江嘉兴南湖红船复原场景 	⑦抗美援朝战争中使用过的武器 	⑧开国大典上毛泽东使用的话筒 

(3) 依据材料三完成以下表格 (填写序号, 多选, 少选, 错选不得分)

展览主题	相关展品 (填写序号)
主题一: 新民主主义革命的伟大成就	
主题二: 社会主义革命和建设的伟大成就	
主题三: 改革开放和社会主义现代化建设的伟大成就	
主题四: 新时代中国特色社会主义的伟大成就	

材料四 北京是一个有着三千年建城史, 八百年建都史的历史文化名城, 悠久的历史, 形成了北京独特的“京文化”。蔡元培、鲁迅、梅兰芳、郭沫若等许多文化大家均曾在北京生活居住, 利用名人故居开办博物馆成为北京得天独厚的条件。当今, 北京的发展方向是“现代化国际大都市”, 北京城市的性质要求它能够向世界展示北京过去和未来, 这也要求北京快速发展博物馆事业。

——摘编自梅宁华《北京地区博物馆发展的优势与问题》

(4) 依据材料四, 分析北京发展博物馆事业的优势。

23. 奥运会是人类社会政治、经济、科技和文化的符号。

材料一 古代奥林匹克随着古希腊文化的灭亡而被扼杀在基督教的统治下。14、15 世纪的欧洲社会文化回归到古希腊罗马文化中, 人们推崇古奥运所提倡的培养德智体全面发展的人的理念, 重新对古代奥林匹克运动会产生了兴趣。这一时期的资产阶级教育家将体育作为教育内容引入学校, 促使体育受到了空前的重视。其教育目的是为资本主义的发展培养身心健康、能力全面、富有进取精神的经济实业家。

——摘编自张振峰《现代奥林匹克产生和发展的文化动因!》


(1) 依据材料一, 说出 14、15 世纪前后欧洲体育运动地位的变化。结合所学, 说明变化的原因。

材料二

奥运会名称	奥运会介绍	相关史事说明
1912年瑞典斯德哥尔摩奥运会	本届奥运会首次使用电子计时和终点摄像设备，有效解决了一些终点名次判决上的纷争	电子计时和终点摄像设备，是第二次工业革命的成果。第二次工业革命①（ ）
1932年美国洛杉矶奥运会	此时欧美国家经济受到巨大打击，由于资金问题，本届参赛的运动员人数显著减少	欧美国家经济受到巨大打击是受到美国②（ ）影响。这一事件促使美国实施“新政”，开始采用国家干预手段来扭转经济形势
1968年墨西哥墨西哥城奥运会	本届奥运会选在1968年10月12日开幕，这一天是③（ ）发现新大陆476周年纪念日	新大陆的发现，改变了世界各地相对孤立的状态，世界各地的文明日益连成一个整体

(2) 结合所学，将材料二表格①②③处补充完整。

### 材料三

①北京冬奥会会徽“冬梦”	②北京冬奥会仪式火种台	③北京冬奥会开幕式倒计时
		
会徽的设计灵感来自于汉字草书“冬”。同时展现出滑冰运动员和滑雪运动员的英姿	火种台采用了西周时期的青铜礼器“何尊”的造型，基座沉稳，象征“地载万物”	开幕式以人类非物质文化遗产二十四节气作为倒计时，使开幕式从最开始，就有中华优秀传统文化蕴含其中

(3) 仿照示例，在材料三②③中任选一项，进行说明。

示例：①北京冬奥会会徽设计来源于中国传统书法艺术与冰雪运动员的英姿。传递出新时代中国对梦想的美好追求和不懈努力。

### 24. 某校历史社团开展“老北京胡同寻迹”考察活动

#### 材料一

时间	胡同数量	文献说明
元代	29条	北京胡同初见于元朝，经明、清两代大规模营建北京城胡同数量逐渐增多。民国时期，随着紫禁城的开放，街巷胡同就以此为中
明代	459条	



北京 清仁	978 条	心向外展开。从元代到如今 700 多年的历史，随着北京社会结构的变化，生产力的发展和科技的不断进步，改变了人们的思想，胡同的居住模式渐渐淡去。
1931 年	2623 条	
1931 年	2623 条	

(1) 依据材料一，说出北京胡同数量的变化。分析影响北京胡同数量变化的因素。

材料二

手绘南锣鼓巷胡同布局（局部）	南锣鼓巷代表建筑
	<p>福祥寺：坐落于福祥胡同。清雍正皇帝供西藏章嘉活佛居住。章嘉活佛在这里学习、生活，协助清帝管理藏地</p>
	<p>可园：坐落于帽儿胡同。晚清北京私家园林中富有代表性的作品。园内有凉亭、榭、拱桥、清池、翠竹，布置精巧，错落有致</p>
	<p>齐白石旧居；坐落于雨儿胡同。绘画大师齐白石逝世后国家曾在此筹建“齐白石纪念馆”</p>
	<p>茅盾故居：坐落于后圆恩寺胡同。设有“伟大的革命文学家茅盾”展览</p>




(2) 依据材料二，指出南锣鼓巷胡同的空间布局特点。从南锣鼓巷的代表建筑里任选其一，确定一个研究主题，并对如何进行研究提出建议。

材料三

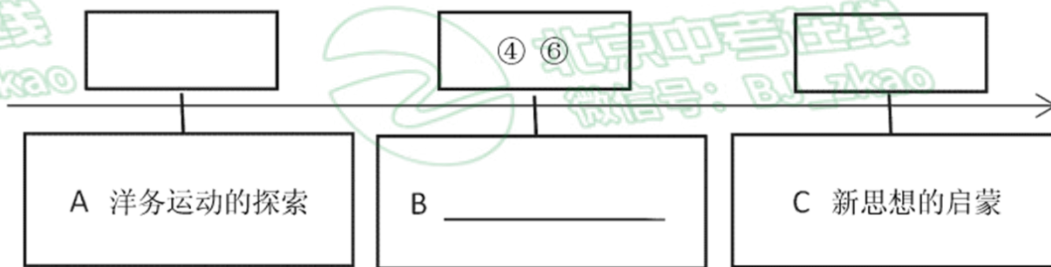
① 总理各国事务衙门	② 《新青年》编辑部旧址	③ 李大钊故居
<p>位于城区东堂子胡同。是清政府办理外交事务的机构，内设“同文馆”</p>	<p>位于东城区箭杆胡同</p>	<p>位于西城区文华胡同</p>





<p>北京 ④ 杨椒山祠</p> 	<p>⑤ 恭王府</p> 	<p>⑥ 京师大学堂旧址</p> 
<p>位于西城区达智桥胡同。 1895年，1300多名举人在这里集会，联名上书光绪皇帝</p>	<p>位于什刹海西北角的前海西街。是恭亲王奕訢的宅邸</p>	<p>位于东城区三眼井胡同南侧。创办于清光绪二十四年（1898）</p>

(3) 依据材料三，将以下考察示意图补充完整。（示意图上方方框内填写序号，下方横线上填写文字）



(4) 从示意图 A、B、C 三个主题中任选一项，说出其历史意义。

材料四 对胡同的风貌和环境整治，要准确把握文化特色，突出层次和特色，避免千篇一律以及外来文化元素的任意移植；要注意保留和恢复胡同内原有的文化元素，塑造具有老北京文化特色的胡同空间。

——摘编自《北京老城保护房屋修缮技术导则（2019版）》

(5) 综合以上材料，谈谈你对老北京胡同保护“必要性”的认识。

# 参考答案

单项选择题（每小题 15 分，共 30 分）

1. 《史记》记载：“武王……封尚父于营丘，曰齐。封弟周公旦于曲阜，曰鲁。封召公奭于燕。”此记载描述的西周政治制度是

- A. 分封制                      B. 郡县制                      C. 科举制                      D. 行省制

【答案】A

【解析】

【详解】根据所学可知，西周建立后实行分封制，重点分封人物有尚父姜尚、周公旦、召公奭，分别建立齐、鲁、燕，这样稳定了政局，巩固了统治，A 项正确；秦朝创立郡县制，隋朝创立科举制，元朝创立行省制，排除 BCD 三项。故选 A 项。

2. 春秋战国时期，思想学术繁荣。这一时期主张“仁政”“民为贵，社稷次之，君为轻”的是

- A. 老子                      B. 孟子                      C. 墨子                      D. 韩非子

【答案】B

【解析】

【详解】根据所学可知，春秋战国时期，思想学术繁荣，这一时期，儒家的孟子主张“仁政”“民为贵，社稷次之，君为轻”，B 项正确；老子主张无为而治，墨子主张兼爱，韩非子主张中央集权，排除 ACD 三项。故选 B 项。

3. 阅读下表材料，可以比较出秦始皇和汉武帝措施的共同作用是

秦始皇	汉武帝
确立了中央集权制度；下令统一文字、货币、度量衡；修筑长城。	实施“推恩令”；“罢黜百家，独尊儒术”；实行盐铁专卖；北击匈奴。

- A. 确立了儒学的主导地位                      B. 推动了中外友好往来  
C. 进经济文化交流                      D. 巩固了国家的统一

【答案】D

【解析】

【详解】根据所学知识可知，秦始皇统一文字、货币和度量衡；修筑长城等巩固统一的措施是为了适应国家统一的需要；汉武帝颁布实施“推恩令”、“罢黜百家，独尊儒术”、实行盐铁专卖等措施，是为了加强中央集权，适应国家统一发展的趋势。可见，秦始皇和汉武帝推行措施的共同作用是为了巩固政权，维护国家统一，D 项正确；确立了儒学的主导地位是汉武帝，概括不全，排除 A 项；材料内容不涉及中外往来，排除 B 项；材料内容与经济文化交流无关，排除 C 项。故选 D 项。

4. ①（朝代）的统一，结束了三国两晋南北朝以来政权分立的局面。下列事件发生于①时期的是

- A. 修都江堰                      B. 开凿灵渠                      C. 开辟丝绸之路                      D. 开通大运河

【答案】D

【解析】

【详解】根据所学可知，589年，隋朝统一全国，结束了三国两晋南北朝以来政权分立的局面，随后，开通大运河，促进了南北经济、文化的交流，D项正确；秦国修都江堰，秦朝开凿灵渠，西汉开辟丝绸之路，排除ABC三项。故选D项。

5. 中国古代史上出现了多个“治世”“盛世”时期。以下“治世”或“盛世”按时间排序正确的是

①光武中兴②文景之治③开元盛世④贞观之治

A. ①②③④                      B. ①②④③                      C. ②①③④                      D. ②①④③

【答案】D

【解析】

【详解】根据所学可知，东汉光武帝刘秀创立光武中兴，西汉文帝、景帝创立文景之治，唐朝唐玄宗开创开元盛世，唐朝唐太宗创立贞观之治，D项正确，排除ABC三项。故选D项。

6. 下列“中国古代南北方户数演变表”能够反映出我国古代

朝代	北方户数	南方户数
汉（公元2年）	965万	111万
唐（公元742年）	493万	257万
宋（公元1080年）	459万	830万

A. 人口的不断增长              B. 技术进步                      C. 经济重心的南移              D. 政治制度的演变

【答案】C

【解析】

【详解】根据所学可知，在农业文明时代，人口的多少意味着经济总量的大小，从汉代到宋代，南方户数超过北方，意味着经济重心的南移，C项正确；材料是说，南北户数的消长变化体现了经济格局的发展有什么趋势，而不是说人口增长、技术进步、制度演变，排除ABD三项。故选C项。

7. 中国传统医学历史悠久、博大精深。以下书籍中总结了我国古代药物学成就的是




《史记》



《伤寒论》



《本草纲目》



《农政全书》

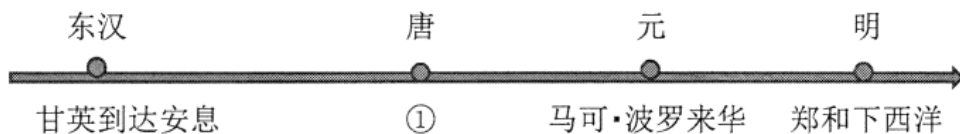
【答案】C

【解析】



【详解】依据所学可知，明朝医药学家李时珍总结前人经验，历时 27 年编成的一部具有总结性的药物学巨著《本草纲目》。《本草纲目》全书约 190 万字，记载了药物 1800 多种，其中 374 种是新增加的药物。收录药方 11000 多个，并附有 1100 多幅药物形态图。《本草纲目》总结了我国古代药物学成就，丰富了我国医药学宝库，在世界医药史上占有重要的地位，C 项正确；《史记》是西汉史学家司马迁撰写的纪传体史书，排除 A 项；张仲景所著的《伤寒杂病论》阐述了中医理论和治病的原则，排除 B 项；明代徐光启创作的《农政全书》是我国古代一部重要的农学和生物学专著，排除 D 项。故选 C 项。

8. 整理时间轴是历史学习的重要方法。下列时间轴中①处可填写的事件是



(注：安息指今伊朗高原和两河流域)

- A. 安史之乱                      B. 文成公主入藏                      C. 黄巢起义                      D. 鉴真东渡

【答案】D

【解析】

【详解】依据时间轴“甘英到达安息”“马可波罗来华”“郑和下西洋”的信息可知，这都是古代中外交往著名的史实，鉴真东渡日本弘扬佛法，是唐朝中外交往的著名史实，D 项正确；安史之乱是唐朝由盛转衰的转折点，文成公主入藏是唐朝民族交往的著名史实，黄巢起义是唐朝末年的农民起义，排除 ABC 项。故选 D 项。

9. 下图是广东省东莞市虎门广场的标志性雕像《较量》，其展现了有力的双手与折断的“烟枪”。此雕像所反映的历史事件



- A. 显示了中华民族反抗外来侵略的坚强意志  
 B. 客观上促进了中国民族资本主义的产生  
 C. 沉重地打击了清朝的统治和外国侵略势力  
 D. 使中国的半殖民地化程度进一步加深

【答案】A

【解析】

【详解】根据图片信息可知，图片反映的历史事件是虎门销烟。虎门销烟显示了中华民族反抗侵略的坚强意志，A 项正确；洋务运动开启了中国的近代化，客观上促进了中国民族资本主义的产生，排除 B 项；中国人民的反抗打击了清朝的统治和外国侵略势力，虎门销烟没有反抗清政府，排除 C 项；第二次鸦片战争，中国战败被迫签订《天津条约》、《北京条约》，使中国的半殖民地化程度进一步加深，排除 D 项。故选 A 项。

10. 《每周评论》报道：“民国八年……北京学生几千人，因山东问题失败，在政府高压的底下，居然列队示威，作正当民意的表示。”此报道反映的历史事件是



A. 太平天国运动

B. 洋务运动

C. 义和团运动

D. 五四运动

【答案】D

【解析】

【详解】根据题干材料“民国八年……北京学生几千人，因山东问题失败，在政府高压的底下，居然列队示威，作正当民意的表示。”，结合所学知识可知，1919年（民国八年），巴黎和会中国政府外交失败消息传到中国引发了广大人民群众の强烈不满，北京 3000 名学生集聚北京天安门举行示威游行，这是一次彻底的反对帝国主义和封建主义的爱国运动，D 项正确；太平天国运动、洋务运动、义和团运动都发生在清朝末期，与题干“民国”信息不符，排除 ABC 项。故选 D 项。

11. 某校开展纪念“抗日战争的伟大英雄”主题活动。他们可以参观

①杨靖宇将军纪念馆②佟麟阁纪念馆③黄继光纪念馆④左权将军纪念馆

A ①②③

B. ①②④

C. ①③④

D. ②③④

【答案】B

【解析】

【详解】依据所学可知，杨靖宇是东北抗日联军的主要领导人，佟麟阁牺牲于抗日战争时期七七事变的战争中，左权是抗日战争中牺牲的八路军最高将领，①②④符合题意；黄继光牺牲于抗美援朝战争中，③不符合题意。B 项正确；排除 ACD 项。故选 B 项。

12. 1956 年底，我国实现了生产资料私有制向社会主义公有制的转变。与此相关的历史事件是

A. 开国大典

B. 西藏和平解放

C. 土地改革

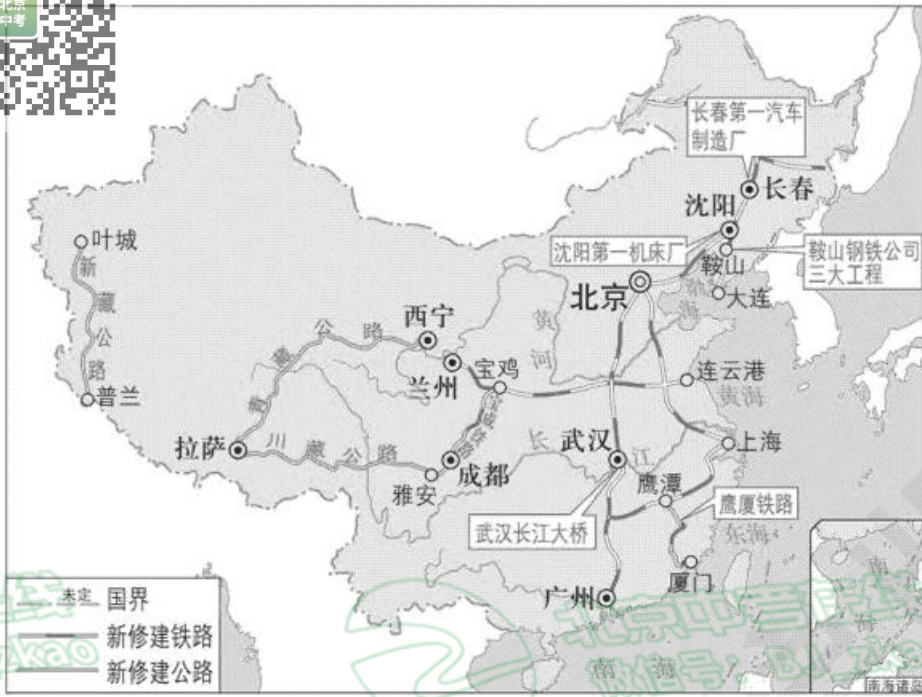
D. 三大改造

【答案】D

【解析】

【详解】据所学可知，1953---1956 年的三大改造，实现了生产资料私有制向社会主义公有制的转变，D 项正确；1949 年 10 月的开国大典宣布新中国成立，排除 A 项；1950 年西藏和平解放，与材料无关，排除 B 项；1950---1952 年的土地改革是变地主土地所有制为农民的土地所有制，与材料无关，排除 C 项。故选 D 项。

13. 下图反映的是



- A. 资本主义工商业的改造
- B. 第一个五年计划的实施
- C. 人民代表大会制度的确立
- D. 十一届三中全会召开

【答案】B

【解析】

【详解】根据图片信息，图片中的工业成就大多集中于东北地区，说明这一时期的工业成就主要集中于东北地区，与一五计划的特点相符，B项正确；资本主义工商业的改造属于生产关系的变革，图片呈现的是生产力的发展，排除A项；人民代表大会制度的确立是新中国民主政治建设的典型成就，图片呈现的是工业化建设的成就，排除C项；“长春第一汽车制造厂”“沈阳第一机床厂”“鞍山钢铁公司”都是50年代著名的工业成就，十一届三中全会召开于1978年，二者时间不符，排除D项。故选B项。

14. 下表是1965至1971年联合国大会关于恢复中国联合国大会合法席位提案的表决情况。从表中可以看出，我国恢复联合国合法席位

年份(年)	1965	1966	1967	1968	1969	1970	1971
赞成国家数(个)	47	46	45	44	48	51	76
反对国家数(个)	47	57	58	58	56	49	35

- A. 过程的曲折性和艰难性
- B. 与欧洲国家的有力支持密不可分
- C. 国力提升结果
- D. 得益于中美关系开始走向正常化

【答案】A

【解析】

【详解】根据所学和表格可知，支持恢复的国家个数上升、下降、再上升，最终达到法定个数，反对恢复的国家个数下降、上升、再下降，最终反对无效，在反反复复中，中国终于恢复了联合国合法席位，这体现出过程的曲折性和艰难性，A项正确；材料只是列举了支持中国的国家数目、反对中国的国家数目的消长变化，没有说明欧洲国家的作用、恢复合法席位的原因，排除BC两项；恢复合法席位是在1971年，中美关系开始走向正常化是在1972年，排除D项。故选A项。


15. 下列图片可用于研究



俄国宣布“解放”农奴的法令



日本明治初期的小学课堂



1862年美国《宅地法》文件

- A. 资本主义制度的初步确立
- B. 资本主义制度的扩展
- C. 一战后资本主义国家的变化
- D. 两极格局的形成

【答案】B

【解析】

【详解】据图片信息并结合所学可知，1868年日本明治维新走上了资本主义道路；1861年农奴制改革俄国走上了资本主义道路；1862年美国内战期间办不到《宅地法》促进了西部开发，促进了美国资本主义的发展，故三幅图片体现了资本主义制度的扩展，B项正确；早期英法美的资产阶级革命，标志着资本主义制度的初步确立，排除A项；一战期间是1914---1918年，与材料时间不符合，排除C项；两极格局形成于1955年，与材料不符，排除D项。故选B项。

16. 历史解释是以史料为依据，客观地认识和评判历史的态度和方法。下列选项中属于历史解释的是

- A. 1859年英国生物学家达尔文的著作《物种起源》出版
- B. 1868年明治政府开始实行一系列改革
- C. 1919年协约国与德国签订了《协约及参战各国对德和约》
- D. 1917年取得胜利的俄国十月革命，是人类历史上第一次胜利的社会主义革命

【答案】D

【解析】

【详解】依据所学可知，D项所述的是十月革命的意义，是对十月革命的客观地认识和评判，属于历史解释，D项正确；ABC三项是对历史人物或事件的客观叙述，不带任何功能性，属于历史事实，排除ABC项。故选D项。

17. ①指出，人类进入资本主义时代，整个社会日益分裂为两大对立阶级：资产阶级和无产阶级。资本主义社会必将被没有剥削和压迫的共产主义社会所取代。材料中的①是

- A. 《权利法案》
- B. 《人权宣言》
- C. 《独立宣言》
- D. 《共产党宣言》

【答案】D

【解析】



【详解】据所学可知，《共产党宣言》中指出人类进入资本主义时代，整个社会日益分裂为两大对立阶级：资产阶级和无产阶级。资本主义社会必将被没有剥削和压迫的共产主义社会所取代，D项正确；1689年《权利法案》颁布，标志着英国君主立宪制的逐渐确立，排除A项；1789年颁布的《人权宣言》，是法国大革命时期颁布的纲领性文件，排除B项；1776年的《独立宣言》发表，标志着美国的诞生，排除C项。故选D项。

18. 某学习小组要研究冷战时期的历史，可选用的史料有

- ①杜鲁门在1947年的演讲稿
- ②拍摄于20世纪40年代末“柏林危机”期间空运的照片
- ③学生绘制的关于1991年苏联解体的手抄报
- ④亲身经历“华约”建立者的日记

- A. ①②③                      B. ①②④                      C. ①③④                      D. ②③④

【答案】B

【解析】

【详解】依据所学可知，1947年杜鲁门主义出台标志着冷战的开始，柏林危机是冷战开始后其中一个最早发生的危机，“华约”是苏联为对抗北大西洋公约组织而成立的政治军事集团，演讲稿、照片和日记都是可选用的史料，①②④正确；学生绘制的关于1991年苏联解体的手抄报不属于史料，③不符合题意。B项正确；排除ACD项。故选B项。

19. 下表①②③处可填

资产阶级革命时代的领军者：克伦威尔；___①___；拿破仑 亚洲和拉丁美洲反殖民统治的领袖：___②___；圣马丁；章西女王雅尔塔会议中的三巨头： 丘吉尔；罗斯福；___③___
---

- A. ①华盛顿②玻利瓦尔③斯大林
- B. ①林肯 ②玻利瓦尔③列宁
- C. ①华盛顿②彼得一世③列宁
- D. ①林肯 ②彼得一世③斯大林

【答案】A

【解析】

【详解】据所学可知，资产阶级革命时代的领军者在英国是克伦威尔，美国是领导美国独立的华盛顿，法国是拿破仑；而在亚洲和拉美反殖民统治的过程中，1857年印度民族大起义爆发后，5月在章西发动起义响应，驱赶英国侵略者，章西女王的坚定和勇敢，使其成为印度民族大起义中最受爱戴的领导人；玻利瓦尔、圣马丁在拉美独立运动中发挥了重要作用；1945年2月的雅尔塔会议上的三巨头分别是英国首相丘吉尔、美国总统罗斯福，苏联领导人斯大林，A项正确；据所学可知，林肯是南北战争时期的美国总统，列宁早在1924年逝世，排除B项；彼得一世是1689年即位的俄国沙皇，排除C项；林肯是南北战争时期的美国总统，彼得一世是1689年即位的俄国沙皇，排除D项。故选A项。

20. 联合国维持和平的行动始于1948年。近些年，共有数十万名军事人员和数万名联合国警察参加了联合国维持和平行动。由此说明，联合国



A. 以促进世界贸易和经济发展为宗旨

C. 可以向冲突地区派出维和部队

B. 彻底消除了世界各国间的冲突和争端

D. 致力于提高人们对地球环境问题的重视

【答案】C

【解析】

【详解】依据“联合国已部署了 69 个维持和平行动，其中 56 个是 1988 年以来开展的。近些年，共有数十万名军事人员和数万名联合国警察以及来自超过 120 个国家的文职人员参加了联合国维持和平行动”这一现象表明联合国维持和平行动的规模扩大，可以向冲突地区派出维和部队，C 项正确；世界贸易组织以促进世界贸易和经济发展为宗旨，排除 A 项；彻底消除说法过于绝对，排除 B 项；联合国宗旨是维持国际和平与安全，不关注地球环境问题，排除 D 项。故选 C 项。

二、非选择题（共 40 分）

21. 服饰的变化见证了历史的发展。

材料一 在远古时期，我国先民利用葛、麻、蚕丝、羊毛纤维和兽皮等材料，经过敲打、劈、搓、绩后，用纺织工具进行编织，制成可以御寒遮体的衣物。在距今 7000 年前的河姆渡遗址就曾经出土了不少石制（石纺轮）、陶制、木制（木制的织机部件），骨质（骨针）的原始纺织工具。

——摘编自韵晓雁《手经指挂开启纺织文明史的篇章》


(1) 依据材料一，概括我国远古时期纺织文明发展的特点。

材料二 通过对北魏墓葬女俑服装款式的研究，可以看到北魏女性服饰在沿袭汉代以来的汉族传统服饰习俗的同时，也采纳了少数民族的服饰样式，这些服饰元素影响到东魏、西魏、北齐甚至隋唐女性服饰之中。北魏墓葬女俑服饰款式，体现出当时女性社会中明确的分工（有女官俑、女侍用、舞乐俑、劳作俑等），折射出北魏女性相比较于其他朝代的女性，能有更多机会参与到社会生活之中，

——摘编自郑亦奇《北魏时期墓葬女俑服饰款式探究》

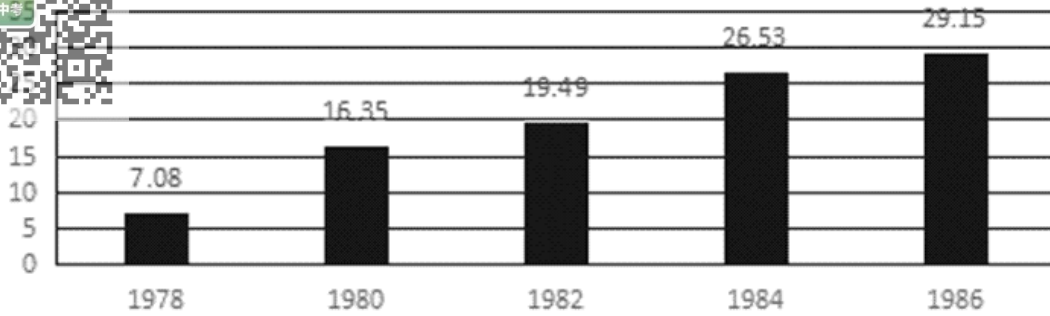
(2) 依据材料二，分析北魏女俑服饰 历史研究价值。

材料三

 孙中山所穿的中山装	<p>1912 年“改元易服”成为关系民生的社会话题，西装受到大众推崇。然而中国固有的丝、麻绵纺织不适宜西装制作，以至“外货畅销，内货阻滞”，对脆弱的民族纺织工业造成了巨大打击由此，“博采西制，加以改良”的中山装应运而生。中山装领型与中国传统袍褂的领型结构相近符合中国人的穿衣习惯，且适用更多种类的布料，成本远低于西服套装，易于推广。</p>
--	---

(3) 指出与材料三中“改元易服”相关的历史事件。分析中山装“易于推广”的原因。

材料四



1978-1986年中国服装出口额（亿美元）

(4) 依据材料四，说出 1978 至 1986 年中国服装出口额的变化趋势。结合所学分析产生这种变化的背景。

【答案】(1) 纺织 原材料种类较为多样；已经形成比较完整的纺织流程（纺织技术手段较为完备）；纺织工具种类和材质较为丰富。（答出两点即可）

(2) 实物史料，为研究北魏历史的提供直接证据；通过研究北魏女俑服饰，可以了解北魏时期妇女服饰的功能与特点；了解北魏时期的民族交融情况；了解古代妇女服饰的变化演进；了解北魏时期妇女的社会分工（地位）。

（答出两点即可）

(3) 事件：辛亥革命或中华民国建立。

原因：符合时代发展要求（符合大众“改元易服”/“博采西制”的要求）；有利于抵制洋货，振兴民族纺织工业；符合中国人穿衣习惯；制作成本低。（答出两点即可）

(4) 迅速增加；改革开放（对外开放）

【解析】

【小问 1 详解】

根据材料一的内容“在远古时期，我国先民利用葛、麻、蚕丝、羊毛纤维和兽皮等材料，经过敲打、劈、搓、绩后，用纺织工具进行编织，制成可以御寒遮体的衣物。”“出土了不少石制（石纺轮）、陶制、木制（木制的织机部件），骨质（骨针）的原始纺织工具”可以归纳出我国远古时期纺织文明发展的特点有：纺织的原材料种类较为多样；已经形成比较完整的纺织流程；纺织工具种类和材质较为丰富。

小问 2 详解】

根据材料内容“北魏女性服饰在沿袭汉代以来的汉族传统服饰习俗的同时，也采纳了少教民族的服饰样式，这些服饰元素影响到东魏、西魏、北齐甚至隋唐女性服饰之中。北魏墓葬女俑服饰款式，体现出当时女性社会中明确的分工（有女官俑、女侍用、舞乐俑、劳作俑等），折射出北魏女性相比较于其他朝代的女性，能有更多机会参与到社会生活之中，”可知，实物史料，为研究北魏历史的提供直接证据；通过研究北魏女俑服饰，可以了解北魏时期妇女服饰的功能与特点；可以了解北魏时期的民族交融情况；了解古代妇女服饰的变化演进；了解北魏时期妇女的社会分工和地位等，符合题意言之有理即可。

【小问 3 详解】


根据材料三的“中山装”结合所学知识可知，与“改元易服”相关的历史事件是辛亥革命或中华民国建立。根据“中山装领型与中国传统袍褂的领型结构相近符合中国人的穿衣习惯，且适用更多种类的布料，成本远低于西服套装，易于推广。”可知，中山装“易于推广”的原因有：符合时代发展要求；有利于抵制洋货，振兴民族纺织工业；符合中国人穿衣习惯；制作成本低。

【小问 4 详解】

根据材料四的数据可知，1978至1986年中国服装出口额迅速增加。结合所学知识可知，出口额迅速增加的原因是1978年我国开始实行改革开放。

22. 博物馆是学习知识的重要场所，也是衡量国家文明发展的重要标志。

材料一

	<p>此俑的骆驼昂首挺立，驮载了5个汉、胡男子。中间一人在跳舞，另外一人拨泰琵琶，一人吹筚篥（bìhǔ），二人击鼓，均属胡乐。由于唐代经济繁荣，人们对精神享受的要求也相对提高。唐代乐伎群体在此背景下不断壮大。此外，“唐三彩骆驼载乐俑”作为陪葬品，与唐朝厚葬之风的形成也有莫大关系。</p>
<p>唐代骑驼乐舞三彩俑 现收藏于中国国家博物馆</p>	





(1) 依据材料一，说出唐代“骑驼乐舞三彩俑”出现的原因。

材料二 1851年，英国举办了伦敦万国工业品博览会，展品包括蒸汽机、火车头、纺织机等，向全世界展示了英国非凡的工业实力。博览会盈余资金被用于建设公共事业，以博览会为契机而建立的、致力于公众教育的博物馆对英国社会产生的影响也不容小觑。此外，英国还借此机会向全世界宣扬其自由经济模式，从而进一步拓展其市场和贸易范围。

——摘编自魏冕《1851年万国工业博览会研究》

(2) 结合所学，说出1851年英国举办伦敦万国工业品博览会的背景。依据材料二，概括万国工业品博览会的影响。


材料三 中国共产党历史展览馆展品（部分）

<p>①井冈山时期红军分给农民李尚发的食盐陶罐</p> 	<p>②邓小平同志《解放思想，实事求是，团结一致向前看》的讲话提纲手稿</p> 	<p>③神舟十二号载人飞船（2021年6月17日成功发射）搭载的中国共产党党旗</p> 	<p>④高铁复兴号（2017年6月26日日首发）模拟驾驶舱</p> 
---	---	--	---




北京  
中考

⑤中国人民解放军在  
澳门政权交接仪式上  
使用的指挥刀



⑥浙江嘉兴南湖红船复  
原场景



⑦抗美援朝战争中使用过  
的武器



⑧开国大典上毛泽东  
使用的话筒



(3) 依据材料三完成以下表格。(填写序号, 多选, 少选, 错选不得分)

展览主题	相关展品 (填写序号)
主题一: 新民主主义革命的伟大成就	
主题二: 社会主义革命和建设的伟大成就	
主题三: 改革开放和社会主义现代化建设的伟大成就	
主题四: 新时代中国特色社会主义的伟大成就	

材料四 北京是一个有着三千年建城史, 八百年建都史的历史文化名城, 悠久的历史, 形成了北京独特的“京文化”。蔡元培、鲁迅、梅兰芳、郭沫若等许多文化大家均曾在北京生活居住, 利用名人故居开办博物馆成为北京得天独厚的条件。当今, 北京的发展方向是“现代化国际大都市”, 北京城市的性质要求它能够向世界展示北京的过去和未来, 这也要求北京快速发展博物馆事业。

——摘编自梅宁华《北京地区博物馆发展的优势与问题》

(4) 依据材料四, 分析北京发展博物馆事业的优势。

【答案】(1) 唐代民族交融进一步发展; 唐代经济繁荣, 人们对精神享受的要求也相对提高; 唐代乐伎群体不断壮大; 厚葬之风的影响。(答出两点即可)

(2) 背景: 英国率先完成了第一次工业革命。

影响: 展示了英国的工业实力(提高了英国国际地位); 推动公众事业的发展; 推动了博物馆的发展(建立); 向全世界宣扬英国的自由经济模式, 进一步拓展英国的市场和贸易范围。(答出两点即可)

(3)

展览主题	相关展品 (只填写序号)
主题一	①⑥
主题二	⑦⑧
主题三	②⑤
主题四	③④



北京拥有悠久的历史；独特的文化；众多的名人故居；北京作为全国政治文化中心的发展方向（北京城市性质）。（答出两点即可）【解析】

【小问1详解】

根据所学和材料一“均属胡乐。由于唐代经济繁荣，人们对精神享受的要求也相对提高。唐代乐伎群体在此背景下不断壮大。此外，“唐三彩骆驼载乐俑”作为陪葬品，与唐朝厚葬之风的形成也有莫大关系”可知，这体现的原因有，唐代民族交融进一步发展，唐代经济繁荣，人们对精神享受的要求也相对提高，唐代乐伎群体不断壮大，厚葬之风的影响。

【小问2详解】

根据所学和材料二“1851年，英国举办了伦敦万国工业品博览会，展品包括蒸汽机、火车头、纺织机等，向全世界展示了英国非凡的工业实力。博览会盈余资金被用于建设公共事业，以博览会为契机而建立的、致力于公众教育的博物馆对英国社会产生的影响也不容小觑。此外，英国还借此机会向全世界宣扬其自由经济模式，从而进一步拓展其市场和贸易范围”可知，1840年左右，英国率先完成了第一次工业革命；这体现的影响是，展示了英国的工业实力，推动公共事业的发展，推动了博物馆的发展，向全世界宣扬英国的自由经济模式，进一步拓展英国的市场和贸易范围。

【小问3详解】

根据所学和材料三“”可知，中国共产党的成立使中国革命的面貌焕然一新，井冈山道路是中国革命的正确道路，这些体现了新民主主义革命的伟大成就；开国大典，新中国成立，抗美援朝中国国际地位提高，这些体现了社会主义革命和建设的伟大成就；十一届三中全会决定改革开放，香港、澳门的回归，这些体现了改革开放和社会主义现代化建设的伟大成就；神舟十二号载人飞船，高铁复兴号，这些体现了新时代中国特色社会主义的伟大成就。

【小问4详解】

根据所学和材料四“北京是一个有着三千年建城史，八百年建都史的历史文化名城，悠久的历史，形成了北京独特的京文化、蔡元培、鲁迅、梅兰芳、郭沫若等许多文化大家均曾在北京生活居住、现代化国际大都市，北京城市的性质要求它能够向世界展示北京的过去和未来，这也要求北京快速发展博物馆事业”可知，这体现的优势是，北京拥有悠久的历史，独特的文化，众多的名人故居，北京作为全国政治文化中心的发展方向。

23. 奥运会是人类社会政治、经济、科技和文化的符号。

材料一 古代奥林匹克随着古希腊文化的灭亡而被扼杀在基督教的统治下。14、15世纪的欧洲社会文化回归到古希腊罗马文化中，人们推崇古奥运所提倡的培养德智体全面发展的人的理念，重新对古代奥林匹克运动会产生了兴趣。这一时期的资产阶级教育家将体育作为教育内容引入学校，促使体育受到了空前的重视。其教育目的是为资本主义的发展培养身心健康、能力全面、富有进取精神的经济实业家。

——摘编自张振峰《现代奥林匹克产生和发展的文化动因！

(1) 依据材料一，说出14、15世纪前后欧洲体育运动地位的变化。结合所学，说明变化的原因。

材料二


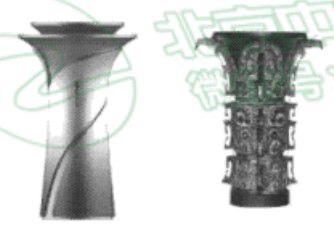

奥运会名称	奥运会介绍	相关史事说明
1912年瑞典斯德哥尔摩奥运会	本届奥运会首次使用电子计时和终点摄像设备，有效解决了一些终点名次判决上的纷争	电子计时和终点摄像设备，是第二次工业革命的成果。第二次工业革命① ( )



1932年美国洛杉矶奥运会	此时欧美国家经济受到巨大打击，由于资金问题，本届参赛的运动员人数显著减少	欧美国家经济受到巨大打击是受到美国②（ ）影响。这一事件促使美国实施“新政”，开始采用国家干预手段来扭转经济形势
1968年墨西哥墨西哥城奥运会	本届奥运会选在1968年10月12日开幕，这一天是③（ ）发现新大陆476周年纪念日	新大陆的发现，改变了世界各地相对孤立的状态，世界各地的文明日益连成一个整体

(2) 结合所学，将材料二表格①②③处补充完整。

材料三

①北京冬奥会会徽“冬梦” 	②北京冬奥会仪式火种台 	③北京冬奥会开幕式倒计时 
会徽的设计灵感来自于汉字草书体“冬”。同时展现出滑冰运动员和滑雪运动员的英姿	火种台采用了西周时期的青铜礼器“何尊”的造型，基座沉稳，象征“地载万物”	开幕式以人类非物质文化遗产二十四节气作为倒计时，使开幕式从最开始，就有中华优秀传统文化蕴含其中

(3) 仿照示例，在材料三②③中任选一项，进行说明。

示例：①北京冬奥会会徽设计来源于中国传统书法艺术与冰雪运动员的英姿。传递出新时代中国对梦想的美好追求和不懈努力。

【答案】(1) 变化：由消失（被扼杀）到受重视。（变化前后）

原因：文艺复兴提倡人文主义（提倡人的全面发展）；资本主义（资产阶级）发展的需要；体育成为学校教育的内容。（答出两点即可）

(2) ①第二次工业革命使世界进入“电气时代”，促进了欧美资本主义国家生产力（经济）的发展，改善了人们生活等；②经济大危机；③哥伦布。

(3) ②北京冬奥会仪式火种台采用了西周时期的青铜礼器“何尊”的造型。表现出新时代中国包容、厚德、文明的国家形象。

③北京冬奥会开幕式倒计时利用中国传统文化中的二十四节气作为倒计时，表现出新时代中国对于优秀传统文化的传承与发展，人与自然和谐相处的环保理念。（设计的灵感来源，表现内涵。）

【解析】

【小问1详解】

根据材料一的内容“古代奥林匹克随着古希腊文化的灭亡而被扼杀在基督教的统治下。”和“14、15世纪的欧洲社会文化回归到古希腊罗马文化中，人们推崇古奥运所提倡的培养德智体全面发展的人的理念，重新对古代奥林匹克运动会产生了兴趣。这一时期的资产阶级教育家将体育作为教育内容引入学校，促使体育受到了空前的重视。”可知，14、15世纪前后欧洲体育运动地位的变化是由消失（被扼杀）到受重视。结合所学知识可知，引起变化的原因是由于14世纪兴起的文艺复兴运动提倡人文主义，提倡人的全面发展；资本主义发展的需要；体育成为学校教育的内容等。

**【小问2详解】**

结合所学知识可知，第二次工业革命使世界进入“电气时代”，促进了欧美资本主义国家生产力（经济）的发展，改善了人们生活等。1932年的美国正处于经济大危机时期，受经济大危机的影响，这一事件促使美国实施“新政”，开始采用国家干预手段来扭转经济形势。新航路开辟时期，哥伦布发现新大陆。

**【小问3详解】**

结合所学知识可知，北京冬奥会仪式火种台采用了西周时期的青铜礼器“何尊”的造型。表现出新时代中国包容、厚德、文明的国家形象。北京冬奥会开幕式倒计时利用中国传统文化中的二十四节气作为倒计时，表现出新时代中国对于优秀传统文化的传承与发展，人与自然和谐相处的环保理念。言之有理即可。

24. 某校历史社团开展“老北京胡同寻迹”考察活动。

材料一

时间	胡同数量	文献说明
元代	29条	北京胡同初见于元朝，经明、清两代大规模营建北京城胡同数量逐渐增多。民国时期，随着紫禁城的开放，街巷胡同就以此为中心向外展开。从元代到如今700多年的历史，随着北京社会结构的变化，生产力的发展和科技的不断进步，改变了人们的思想，胡同的居住模式渐渐淡去。
明代	459条	
清代	978条	
1931年	2623条	
1931年	2623条	

(1) 依据材料一，说出北京胡同数量的变化。分析影响北京胡同数量变化的因素。

材料二

手绘南锣鼓巷胡同布局（局部）	南锣鼓巷代表建筑
	福祥寺：坐落于福祥胡同。清雍正皇帝供西藏章嘉活佛居住。章嘉活佛在这里学习、生活，协助清帝管理藏地
	可园：坐落于帽儿胡同。晚清北京私家园林中富有代表性的作品。园内有凉亭、



榭、拱桥、清池、翠竹，布置精巧，错落有致

齐白石旧居；坐落于雨儿胡同。绘画大师齐白石逝世后国家曾在此筹建“齐白石纪念馆”

茅盾故居：坐落于后圆恩寺胡同。设有“伟大的革命文学家茅盾”展览

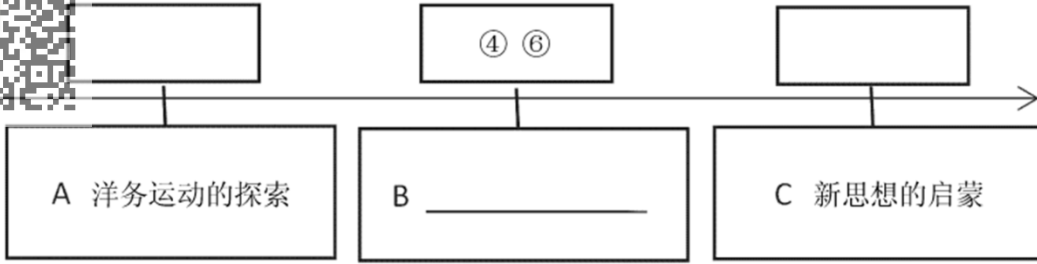
(2) 依据材料二，指出南锣鼓巷胡同的空间布局特点。从南锣鼓巷的代表建筑里任选其一，确定一个研究主题，并对如何进行研究提出建议。

材料三

<p>①总理各国事务衙门</p> 	<p>②《新青年》编辑部旧址</p> 	<p>③李大钊故居</p> 
<p>位于城区东堂子胡同。是清政府办理外交事务的机构，内设“同文馆”</p>	<p>位于东城区箭杆胡同</p>	<p>位于西城区文华胡同</p>
<p>④杨椒山祠</p> 	<p>⑤恭王府</p> 	<p>⑥京师大学堂旧址</p> 
<p>位于西城区达智桥胡同。1895年，1300多名举人在这里集会，联名上书光绪皇帝</p>	<p>位于什刹海西北角的前海西街。是恭亲王奕訢的宅邸</p>	<p>位于东城区三眼井胡同南侧。创办于清光绪二十四年（1898）</p>

(3) 依据材料三，将以下考察示意图补充完整。（示意图上方方框内填写序号，下方横线上填写文字）





(4) 从示意图 A、B、C 三个主题中任选一项，说出其历史意义。

材料四 对胡同的风貌和环境整治，要准确把握文化特色，突出层次和特色，避免千篇一律以及外来文化元素的任意移植；要注意保留和恢复胡同内原有的文化元素，塑造具有老北京文化特色的胡同空间。

——摘编自《北京老城保护房屋修缮技术导则（2019 版）》

(5) 综合以上材料，谈谈你对老北京胡同保护“必要性”的认识。

【答案】(1) 变化：逐渐增多后出现减少趋势。

因素：北京城市的扩建；国家政策的变化（紫禁城的开放）；社会结构、经济、科技、思想的改变。（答出两点即可）

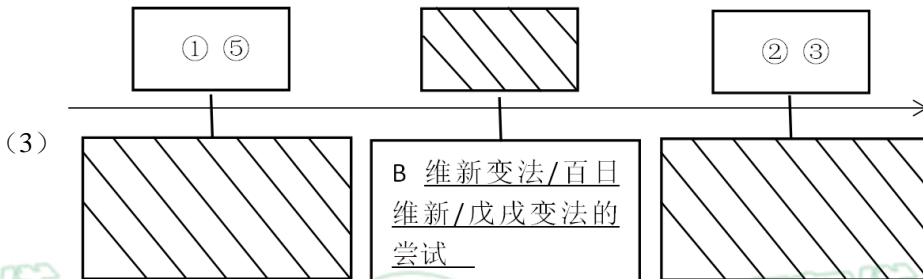
(2) 布局特点：布局规整；棋盘式布局（鱼骨状布局）；在中线两侧对称分布；

赋分标准：主题能够体现该建筑（或与之相关历史人物）的历史文化内涵与成就。所提建议需与主题相符，具有可行性。

示例：

研究主题：清朝对西藏的管辖；晚清私家园林的建筑特点；齐白石、矛盾的文学艺术成就等。

研究建议：网上搜及文献资料，实地考察，走访当地居民等。（研究主题，研究建议）



(3) (4) 洋务运动：是中国历史上第

一次近代化运动，客观上促进了中国民族资本主义的产生，对外国资本的入侵起到了一定的抵制作用。

戊戌变法：是中国制度变革 一次尝试，在思想文化方面产生了广泛而持久的影响。

新思想（新文化运动）：使中国人民接受了一次民主与科学的洗礼，为随后爆发的五四运动起了思想宣传作用，是一次伟大的思想解放运动。（此处回答马克思主义传播的意义，也可得分。）


(5) 从老北京胡同保护的原因、保护的意义等方面回答均可。

【解析】

【小问 1 详解】

根据所学和材料一“北京胡同初见于元朝，经明、清两代大规模营建北京城胡同数量逐渐增多、胡同的居住模式渐渐淡去”可知，这体现的变化是，逐渐增多后出现减少趋势。根据所学和材料一“从元代到如今 700 多年的历史，随着北京社会结构的变化，生产力的发展和科技的不断进步，改变了人们的思想，胡同的居住模式渐渐淡去”可知，这体现出的因素是，北京城市的扩建，国家政策的变化，社会结构、经济、科技、思想的改变。

【小问 2 详解】



第一问：根据所学和材料二示意图可知，这体现的布局特点是，布局规整，棋盘式布局，在中线两侧对称分布。第二问：此问相对开放，回答符合下列要点即可，如，可任选一个，但必须紧扣主题，建议要有可操作性，如，示例：研究主题：清朝对西藏的管辖；晚清私家园林的建筑特点；齐白石、矛盾的文学艺术成就等。研究建议：网上搜及文献资料，实地考察，走访当地居民等。

**【小问 3 详解】**

根据所学和材料三可知，在洋务运动中，总理各国事务衙门起了巨大作用，奕诉是洋务派在中央的代表；1895年，公车上书，揭开了维新运动的序幕，京师大学堂是戊戌变法的成就之一；《新青年》是新文化运动的代表刊物，李大钊为新文化运动的发展做出了巨大贡献。

**【小问 4 详解】**

此问相对开放，回答符合下列要点即可，如，可任选一个，但必须揭示出它的历史意义，如，洋务运动：是中国历史上第一次近代化运动，客观上促进了中国民族资本主义的产生，对外国资本的入侵起到了一定的抵制作用。戊戌变法：是中国制度变革的一次尝试，在思想文化方面产生了广泛而持久的影响。新思想（新文化运动）：使中国人民接受了一次民主与科学的洗礼，为随后爆发的五四运动起了思想宣传作用，是一次伟大的思想解放运动。

**【小问 5 详解】**

此问相对开放，回答符合下列要点即可，如，保护传统文化等。