



地 理

考生须知	<p>1. 本试卷共 10 页,共两部分,29 道题。满分 70 分。考试时间 70 分钟。</p> <p>2. 在试卷和答题卡上准确填写学校名称、班级、姓名和准考证号。</p> <p>3. 试题答案一律填涂或书写在答题卡上,在试卷上作答无效。</p> <p>4. 在答题卡上,选择题用 2B 铅笔作答,其他试题用黑色字迹签字笔作答。</p> <p>5. 考试结束,请将本试卷、答题卡和草稿纸一并交回。</p>
------	---

第一部分 选择题(共 25 分)

本部分共 25 题,每题 1 分,共 25 分。下列各题均有四个选项,其中只有一个选项是最符合题意要求的,请将所选答案前的字母涂在答题卡相应位置中。

某日早晨,北京(约 40°N , 116°E)的小明拍摄了日出照片,并发到微信朋友圈(见图 1)。读图,完成 1-3 题。



图 1





- 小丽所在的城市最有可能是
 A. 哈尔滨 B. 兰州 C. 西宁 D. 呼和浩特
- 与“太阳东升西落”最相关的是
 A. 地球大小 B. 地球形状 C. 地球自转 D. 地球公转
- 小明发朋友圈当天,北京的昼夜长短(白色表示“昼”,黑色表示“夜”)情况是
 A.  B.  C.  D. 



图2是某区域等高线地形图。读图,完成4-7题。

4. 图示区域的地形类型为

- A. 平原 B. 丘陵
C. 高原 D. 山地

5. 关于图2,下列说法正确的是

- A. ①山脊-有河流经过
B. ②山谷-等高线向高处凸出
C. ③盆地-两边高中部低
D. ④陡崖-位于两座山峰之间

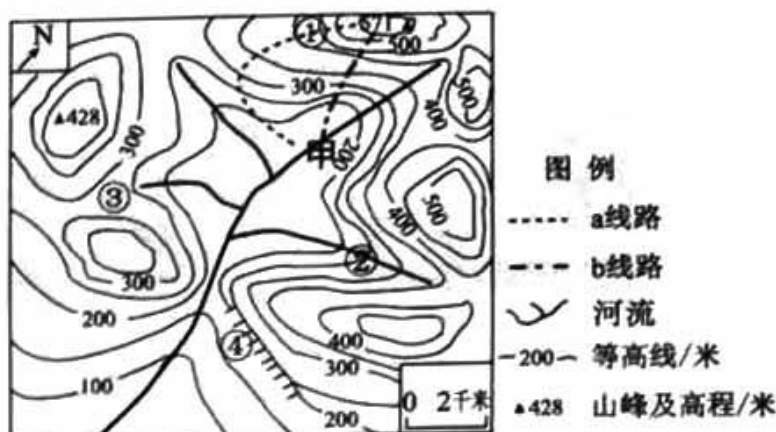


图2

6. 两组同学从甲地出发,分别沿a和b两条线路登山

- A. a线路距离更近 B. b线路实际距离小于1000米
C. a线路坡度更缓 D. b线路相对高度小于300米

7. 登山前,某同学观察到甲处河流流向为

- A. 自西北向东南 B. 自西南向东北 C. 自南向北 D. 自北向南

粮稳天下安。图3为我国主要粮食作物分布示意图,图4为我国2000-2020年粮食总产量变化统计图。读图,完成8-10题。



图3




图4

8. 图3中

- ①粮食作物主要分布在400毫米年等降水量线以东
②畜牧业主要分布在400毫米年等降水量线以西
③水稻主要分布在秦岭-淮河以北
④小麦主要分布在秦岭-淮河以南

- A. ①② B. ①③ C. ②③ D. ③④



9. 2000-2020 年我国粮食产量整体表现为

- A. 先增后降 B. 稳步增长 C. 波动下降 D. 迅速增长

10. 下列漫画中,符合“确保粮食安全”做法的是



图 5 为台湾省地图。读图,完成 11-13 题。

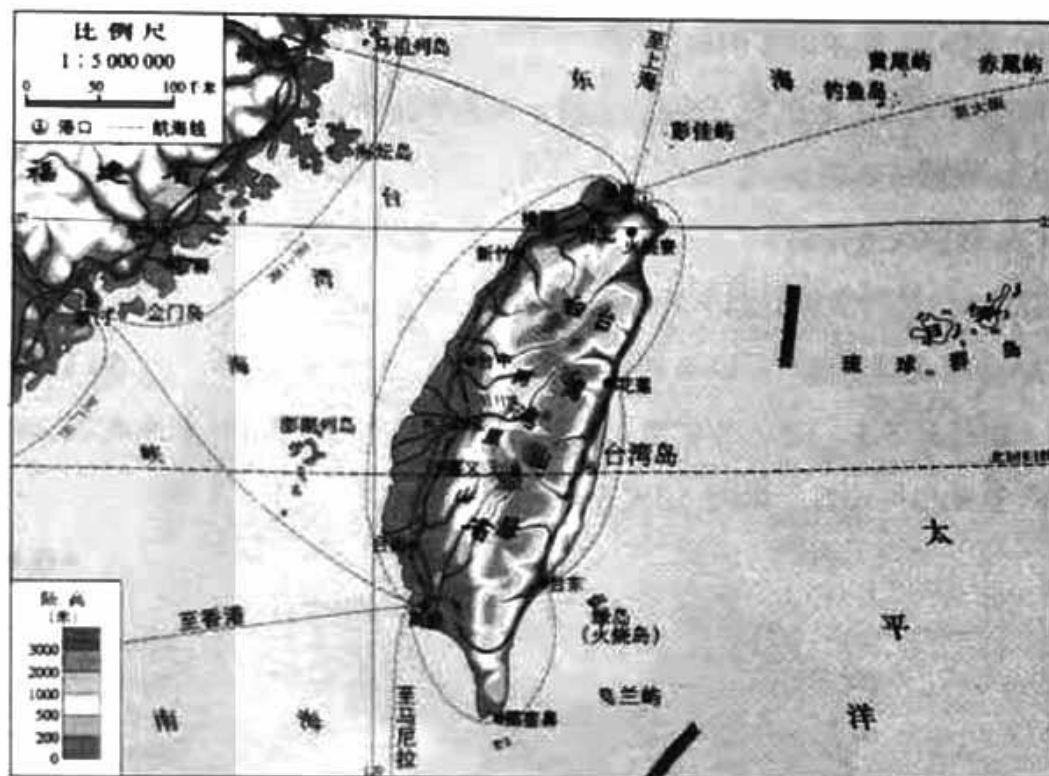


图 5

11. 台湾省

- A. 位于我国东南部,西隔台湾海峡与福建省相望
 B. 城市和人口主要分布在地势较高的东部沿海地区
 C. 地形以平原、山地为主,中部为东西走向的台湾山脉
 D. 气候温暖湿润,雨量充沛,河流多自西向东注入太平洋

12. 游客在台湾省能游览

- A. 日月潭 B. 桂林山水 C. 兵马俑 D. 布达拉宫

13. 与台湾省相关的美称有

- ①塞上江南 ②海上米仓 ③亚洲水塔 ④东方甜岛
 A. ①② B. ①③ C. ②④ D. ③④

小君一家暑假要到青藏高原体验雪域之旅,出发前他查阅资料,提前了解青藏地区的环境特点。图 6 为青藏地区。读图,完成 14-16 题。



图 6

14. 青藏地区

- A. 高原为主,地表沟壑纵横支离破碎
- B. 海拔高、空气稀薄,太阳辐射强烈
- C. 冰川广布,孕育了长江、黑龙江等大河
- D. 湖泊众多,青海湖是我国最大的淡水湖

15. 在拉萨可以体验的当地特色是

- A. 品尝米线、米酒等美食
- B. 骑“高原之舟”骆驼
- C. 住当地传统民居-竹楼
- D. 穿民族服饰-藏袍

16. 我国在三江源地区建立国家公园主要目的是

- A. 增加居民旅游收入
- B. 促进水资源的开发利用
- C. 保护自然生态系统
- D. 为发展畜牧业提供场所

据中国地震台网发布,2023年2月6日土耳其发生两次7.8级地震,大量建筑被毁。

图7为世界六大板块及主要火山、地震带分布示意图。读图,完成17、18题。

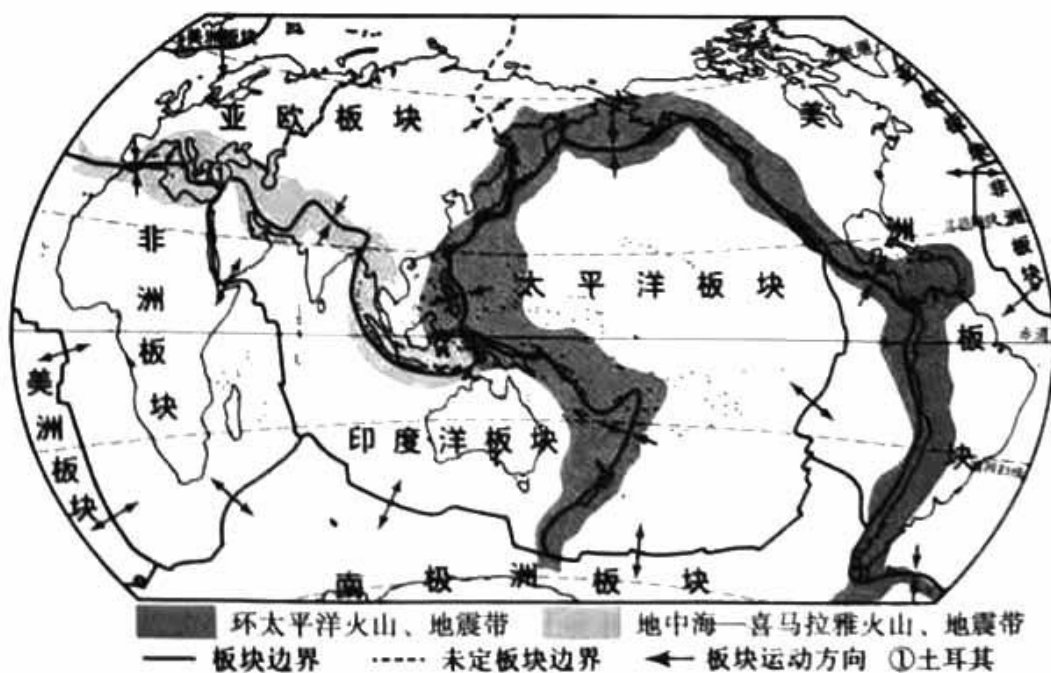


图 7



17. 土耳其地震频发是由于其地处

- A. 环太平洋火山、地震带
- B. 地中海-喜马拉雅火山、地震带
- C. 亚欧板块和太平洋板块交界处
- D. 美洲板块和南极洲板块交界处

18. 此次地震

- A. 属于气象灾害
- B. 对当地建筑破坏严重
- C. 可以精准预报
- D. 可以躲到电梯里避险

图 8 为非洲气候类型分布图。读图,完成 19-21 题。

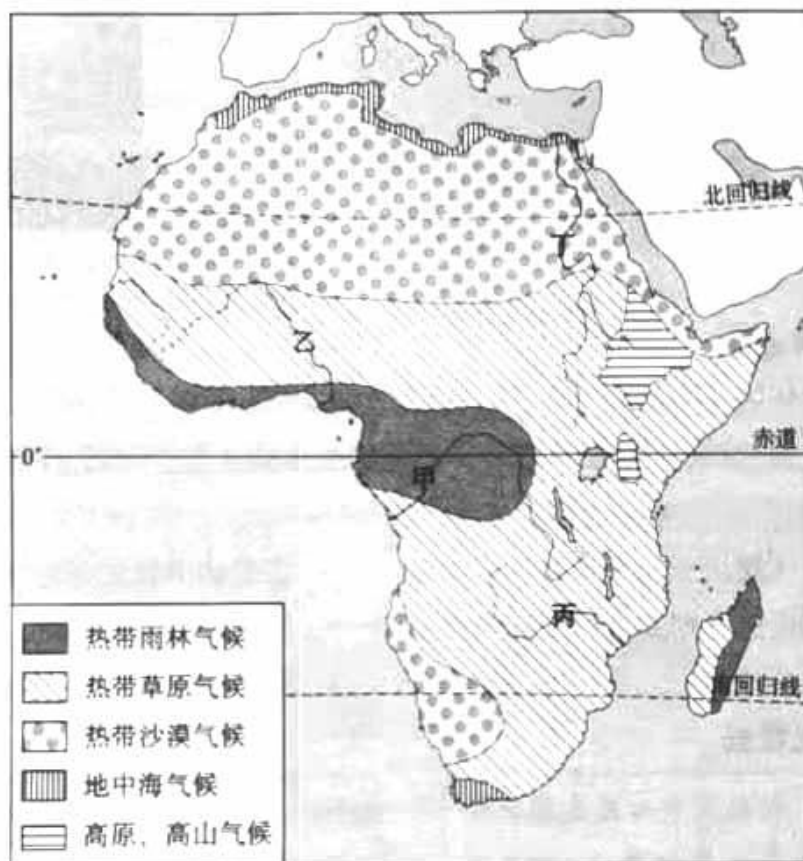


图 8

19. 非洲

- A. 气候类型复杂多样,主要以温带气候为主
- B. 热带雨林气候分布最广
- C. 气候类型以赤道为轴,大致南北对称分布
- D. 北回归线附近降水丰沛

20. 关于图 8 中各河流

- A. 甲河流量大
- B. 乙河水位季节变化小
- C. 丙河结冰期长
- D. 丁河自西北流向东南

21. 下列景观最有可能出现在非洲热带草原气候区的是



A



B



C



D



锂矿是制造锂电池的重要原料。全球锂矿集中分布在玻利维亚、阿根廷和智利构成的“锂三角”地区。图9为“锂三角”地区位置示意图。读图，完成22-25题。

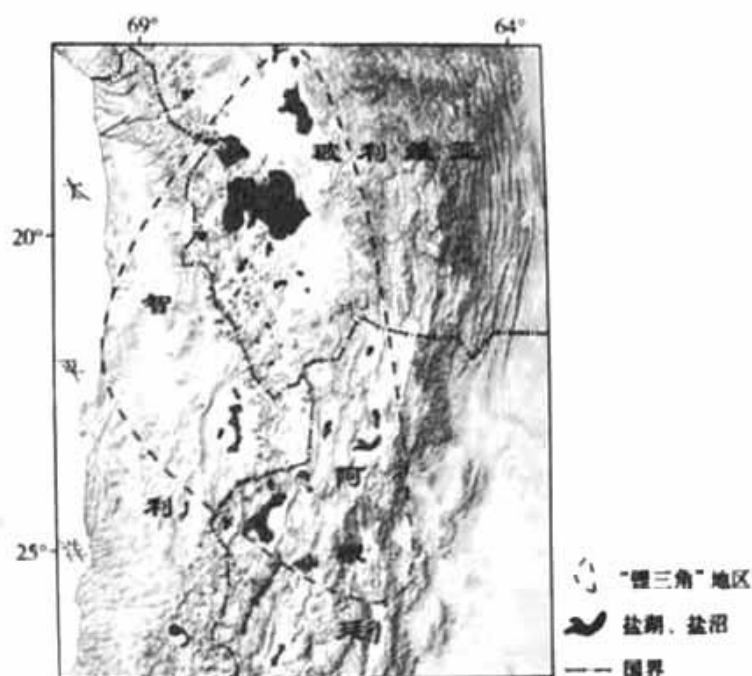


图9

22. “锂三角”地区

- A. 多发达国家
- B. 位于北美洲
- C. 东临太平洋
- D. 位于西半球

23. 锂矿属于

- A. 非可再生资源
- B. 可再生资源
- C. 土地资源
- D. 气候资源

24. “锂三角”地区曾是海洋,伴随安第斯山脉的隆起与海洋分离。这说明

- A. 全球气候在不断变暖
- B. 海陆处于运动和变化之中
- C. 海洋最终都会变成陆地
- D. 海平面每年都在快速上升

25. 我国与“锂三角”地区的国家合作,共同开发锂矿资源

- ①消除经济差异
 - ②促进互利共赢
 - ③属于南北对话
 - ④属于南南合作
- A. ①② B. ①④ C. ②③ D. ②④

第二部分 非选择题(本部分共4道题,共45分)

26. 黑龙江省某老年“乐游团”1月份从哈尔滨出发,途经北京、武汉,最后到达广州,一路体验“候鸟式养老”。图10为中国四城市的气温曲线和降水量柱状图,图11为中国地形图(局部)。读图文资料,回答下列问题。(13分)

第一站目的地:北京

(1)从哈尔滨出发乘坐高铁到达北京,与传统铁路运输相比,高铁的优势有_____等。

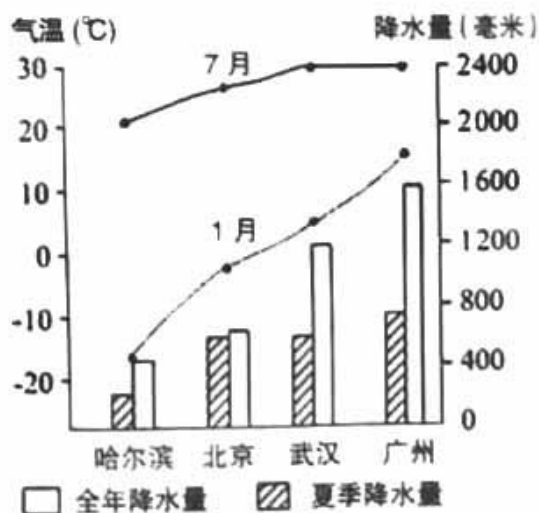


图10



(2) 团友们参观了北京故宫和长城,这些历史文化遗产与北京是全国的_____ (城市职能)定位相契合。游玩期间,团友们可以品尝北京的特色美食_____等。

第二站目的地:武汉

(3) “乐游团”抵达_____省的行政中心武汉。团友们认为武汉与家乡哈尔滨在地理环境上有很多异同点,进行了如下探讨。

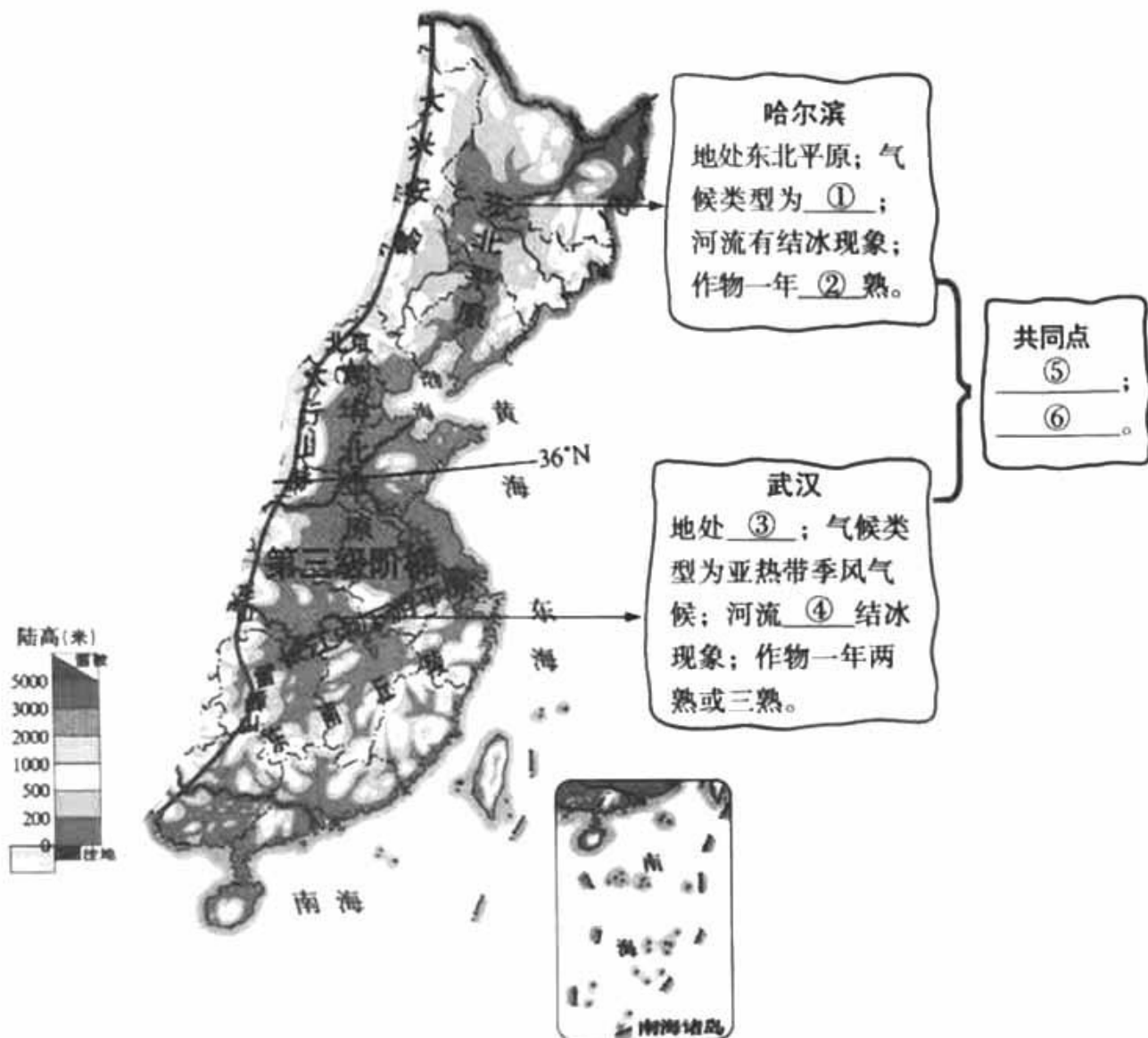


图 11

第三站目的地:广州

(4) “乐游团”一路南下,感受到气温在不断变化。从图 10 中可以看出,哈尔滨 1 月平均气温约_____℃,广州 1 月平均气温约 17℃,影响两地气温差异的主要因素是_____。

(5) 近年来,这种“候鸟式养老”成为新时尚,主要是因为我国_____ (单项选择)。

- ①幅员辽阔,跨纬度大
 - ②海岸线长,邻国众多
 - ③交通运输业发展迅速
 - ④居民生活水平的提高
- A. ①②③ B. ①②④ C. ①③④ D. ②③④



27. 大山再高,也高不过贵州人民对美好生活的向往。近年来,贵州省经济增速持续位居全国前列。图12为贵州省地形图,图13为贵州省北盘江大桥景观图。读图和资料,回答下列问题。(10分)

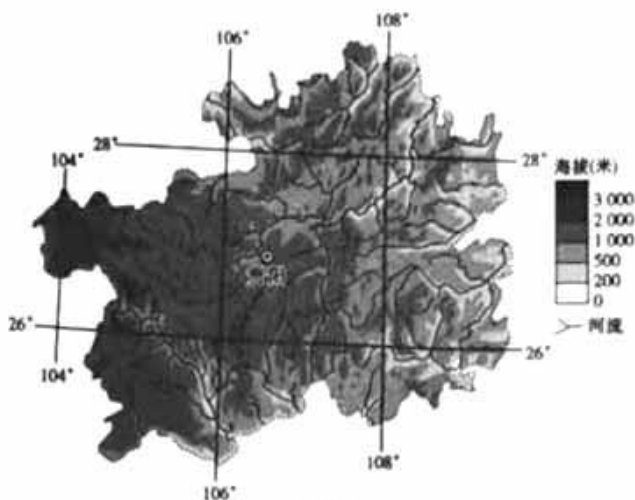


图12



图13

天堑变通途

- (1) 贵州省简称贵或_____,地形类型主要以_____和高原为主,地表崎岖。
 (2) 贵州省堪称“桥梁博物馆”,其桥梁众多的主要自然原因是_____,桥梁的建设_____。(单项选择)。

- ①体现出国家经济和技术实力
 ③促进东西西部地区交流与沟通

- ②带动少数民族地区发展
 ④实现水资源跨区域调配

A. ①②③ B. ①②④

C. ①③④ D. ②③④

玩转大数据

大数据中心是支撑云计算服务的基础设施,80%以上的花费都用在设备的供电和制冷上,运行时需恒温条件,且对空气质量要求高。

爽爽的贵阳

贵阳市平均海拔1000米以上,年平均气温约为15℃,气候凉爽。森林覆盖率55%以上,空气质量优良率多年保持在98%以上。



- (3) 贵阳市充分利用_____,_____等自然优势条件,重点发展_____ (高新技术产业/传统工业),有“中国数谷”的美誉。

小刺梨大产业

近年来,贵州省刺梨产业发展迅速。图14示意贵州刺梨产业的发展举措。



图14



(4) 目前贵州省发展刺梨产业的主要措施有_____、_____等。

(5) 请结合贵州省地理条件,为其进一步可持续发展提出合理化建议。

28. 地理课上同学们探究世界的居民与文化。图 15 为世界人口分布图,图 16 为丁地气温曲线和降水量柱状图及当地传统民居景观。阅读图文资料,回答下列问题。(11 分)

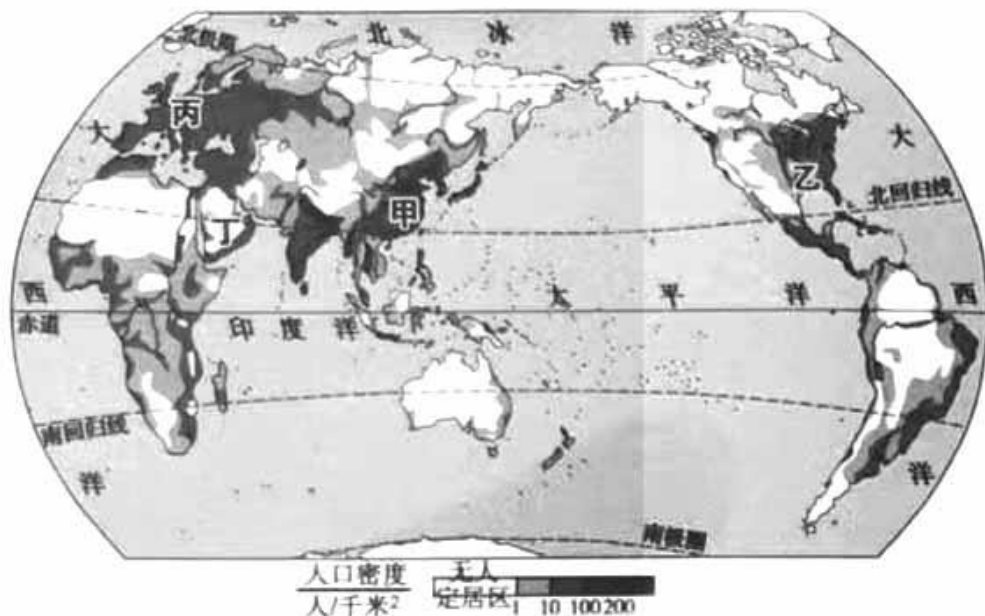


图 15

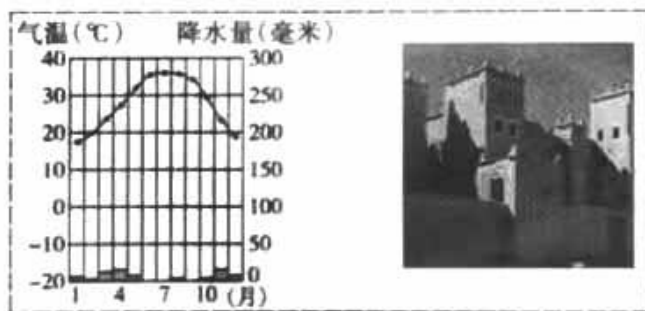


图 16

探究主题一:世界人口分布

(1) 从图 15 中可以看出,世界人口分布_____。甲、乙、丙三地人口_____ (稠密/稀疏),从纬度位置看,主要位于_____纬度地区;从海陆位置看,主要位于_____地区。丁地人口稀疏,主要因为该地气候_____。

探究主题二:丰富多彩的文化

(2) 结合所学世界各地不同的文化现象,完成下列表格。

地区	所处大洲	主要人种	主要语言	主要宗教
乙地	①	白色人种	③	基督教
丁地	亚洲	②	阿拉伯语	④

探究主题三:富有地域特色的传统民居

(3) 请描述丁地传统民居特点,并说明其与当地自然环境的关系。



29. 区域学习,重在方法。图17为欧洲西部地形图,图18为欧洲西部气候图。阅读图文资料,回答下列问题。(11分)

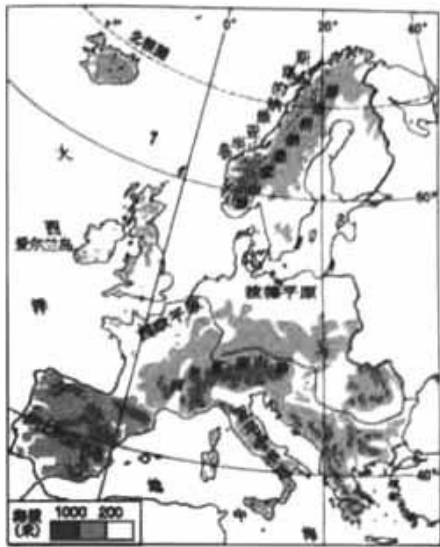
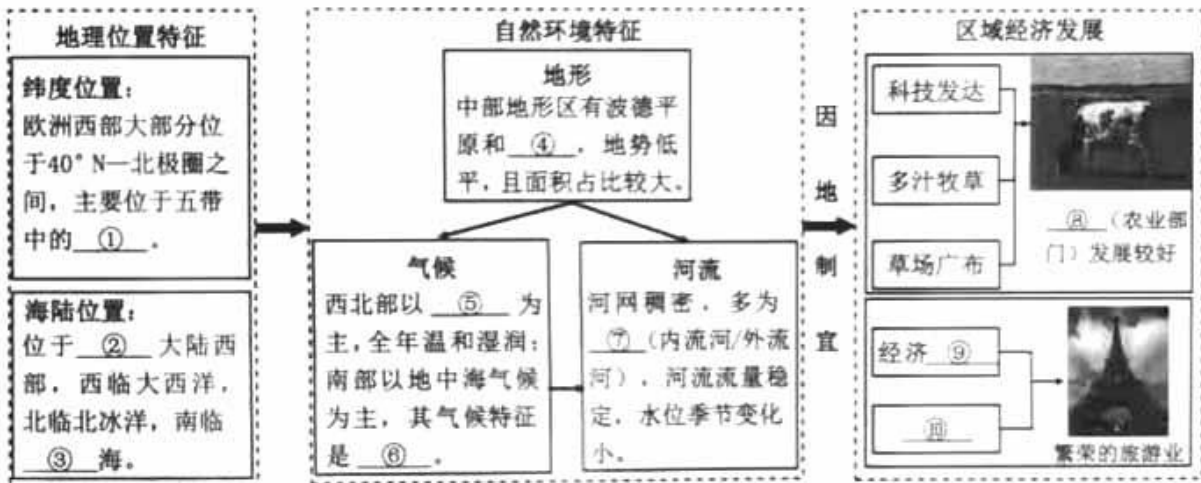
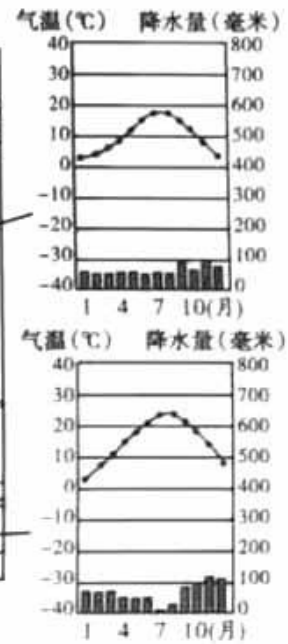


图17



图18





大兴区八年级第二学期期中练习

地理参考答案及评分标准

2023.05

第一部分 选择题（共 25 分）

1	2	3	4	5	6	7	8	9	10
A	C	C	D	B	C	D	A	B	C
11	12	13	14	15	16	17	18	19	20
A	A	C	B	D	C	B	B	C	A
21	22	23	24	25					
A	D	A	B	D					

第二部分 非选择题（本部分 4 道题，共 45 分）

26. (13 分)

- (1) 速度快
- (2) 文化中心 北京烤鸭（炸酱面等）
- (3) 湖北 ①温带季风气候 ②一 ③长江中下游平原 ④无 ⑤都位于平原地区，地势平坦（都位于第三级阶梯） ⑥同属于季风气候，雨热同期（夏季高温多雨）
- (4) -18 纬度位置
- (5) C

27. (10 分)

- (1) 黔 山地
- (2) 地势起伏大（河流众多） A
- (3) 全年凉爽 空气质量好 高新技术产业
- (4) 培育优良树种 刺梨产品深加工（扩大销售市场等）
- (5) 发展特色旅游业等，合理即可

28. (11 分)

- (1) 不均 稠密 中 沿海 干旱
- (2) ①北美洲 ②白色人种 ③英语 ④伊斯兰教
- (3) 屋顶平，适应当地干旱少雨的特征；墙体厚，窗小，适应当地炎热的特征等，合理即可

29. (11 分)

- ①北温带 ②亚欧 ③地中 ④西欧平原 ⑤温带海洋性气候 ⑥夏季高温少雨，冬季温和多雨（2 分） ⑦外流河 ⑧畜牧业 ⑨发达 ⑩交通便利（旅游资源丰富等）