

# 海淀区九年级第二学期期末练习

## 地 理

2018.6

学校 \_\_\_\_\_ 姓名 \_\_\_\_\_ 成绩 \_\_\_\_\_

考生 须知	<ol style="list-style-type: none"><li>1. 本试卷共 45 道小题。满分 90 分。考试时间 90 分钟。</li><li>2. 在试卷和答题卡上准确填写学校、姓名。</li><li>3. 试题答案一律书写在答题卡上，在试卷上作答无效。</li><li>4. 在答题卡上，选择题用 2B 铅笔作答，其他试题用黑色字迹签字笔作答。</li><li>5. 考试结束，将本试卷、答题卡和草稿纸一并交回。</li></ol>
----------	---

### 第一部分 选择题（共40分）

本部分共 40 小题，每小题 1 分，共 40 分。在每小题列出的四个选项中，选出最符合题目要求的一项。

小明到湖南省岳阳市岳阳楼景区游览，他在出行前查阅了以下图文资料。阅读图文资料，完成 1、2 题。

予观夫巴陵胜状，在洞庭一湖。衔远山，吞长江，浩浩汤汤，横无际涯；朝晖夕阴，气象万千。此则岳阳楼之大观也，前人之述备矣。然则北通巫峡，南极潇湘……若夫霪雨霏霏，连月不开，阴风怒号，浊浪排空；……沙鸥翔集，锦鳞游泳……

——范仲淹《岳阳楼记》

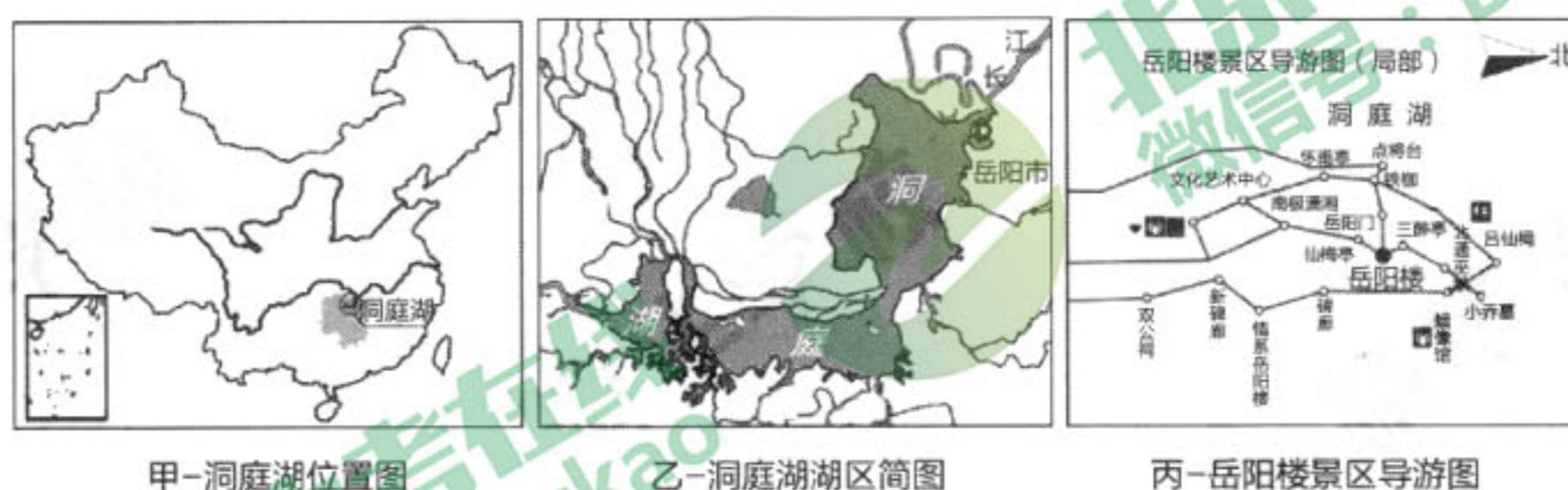


图 1

1. 小明查阅的三张地图图幅相同，其中比例尺最大的是  
A. 甲图      B. 乙图      C. 丙图      D. 一样大
2. 下列《岳阳楼记》中的文字，描述天气的是  
A. 衔远山，吞长江      B. 霪雨霏霏…阴风怒号  
C. 沙鸥翔集，锦鳞游泳      D. 北通巫峡，南极潇湘



读图2“某地等高线(米)地形图”，完成3~5题。

- 图中四个村庄，位于山脊部位的是  
A. 王庄                      B. 赵庄  
C. 李庄                      D. 张庄
- 王庄与风溪山山顶的相对高度可能是  
A. 480米                      B. 520米  
C. 580米                      D. 600米
- 张庄位于王庄的  
A. 西南方                      B. 东方  
C. 东北方                      D. 西方

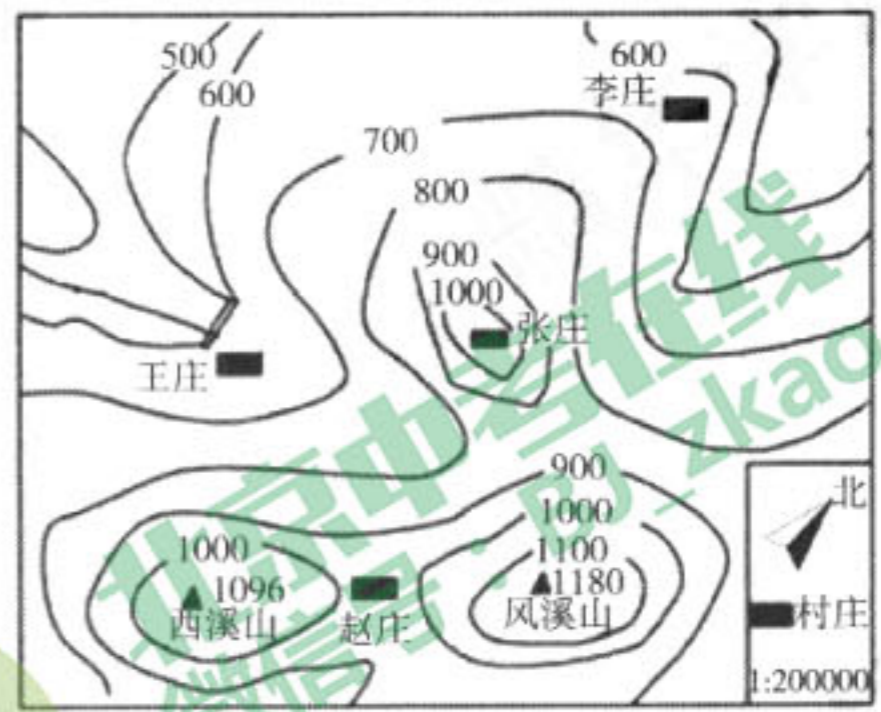


图2

读图3“某城市一处公共自行车租赁点多日平均借车和还车数量统计图”，完成6~8题。

- 下列时段，该租赁点自行车数量增加的是  
A. 5~6时                      B. 7~8时  
C. 11~12时                      D. 16~17时
- 市民在该租赁点选用公共自行车主要用于  
A. 上下班(学)                      B. 休闲健身  
C. 周末出游                      D. 探亲访友
- 该城市普及公共自行车的积极影响有  
①增加出行成本                      ②方便市民出行  
③减少环境污染                      ④缓解交通拥堵  
A. ①②③                      B. ①②④  
C. ①③④                      D. ②③④

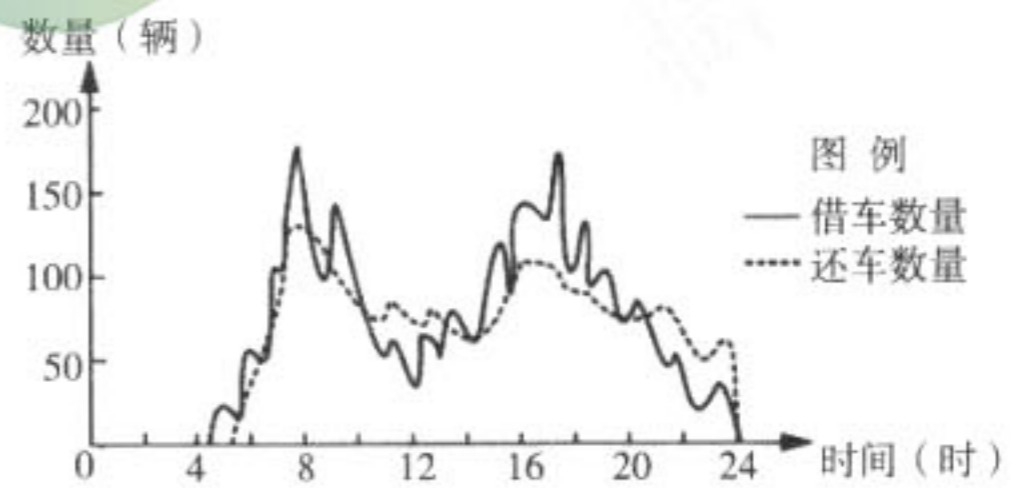


图3

2018年央视春晚的分会场分别设在广东珠海、山东泰安、海南三亚、贵州肇兴侗寨，各地特色鲜明、风格迥异。读图4，完成9、10题。

- 对春晚分会场所在地描述适当的是  
①珠海：中华文化发源地  
②泰安：长江沿岸重要城市  
③三亚：热带海滨、风光秀丽  
④肇兴：侗族风情、民族特色  
A. ①②                      B. ③④  
C. ①③                      D. ②④
- 我国人口众多，是一个多民族的大家庭，关于我国民族和人口分布叙述正确的是  
A. 我国共有56个少数民族  
B. 少数民族主要分布在我国东北、东南、西北地区  
C. 人口主要分布在黑河—腾冲一线西侧  
D. 中国人口分布不均匀，东部多、西部少

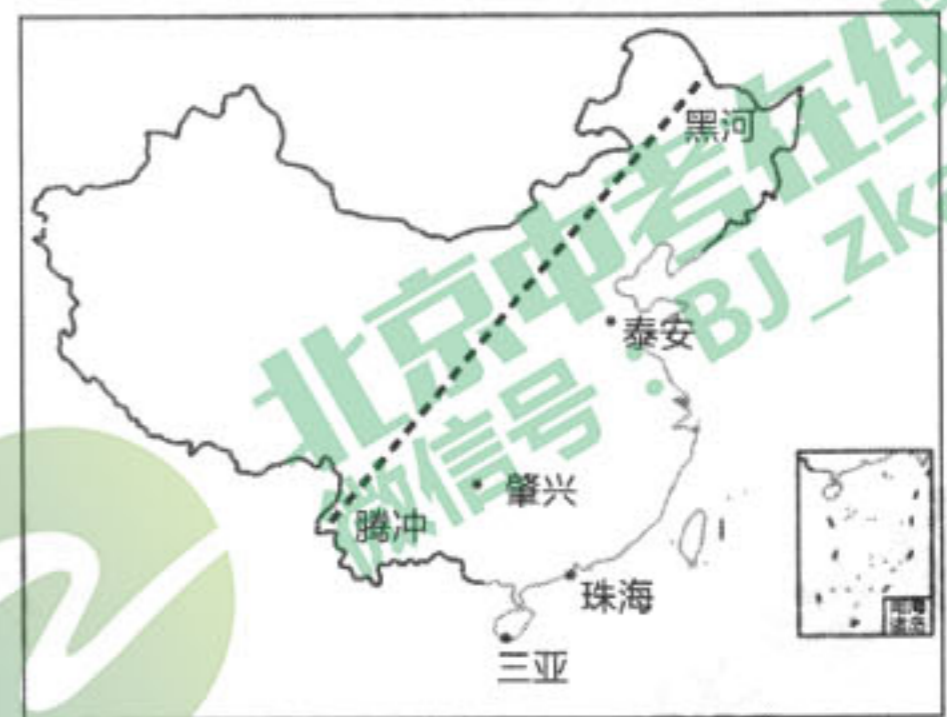


图4

图5示意黄河及四个水文站的数据资料。河口和桃花峪分别为黄河上、中游及中、下游的分界。读图，完成11~14题。

- 与长江相比，黄河的特征有  
A. 河流流量大                      B. 有结冰期  
C. 含沙量小                      D. 航运价值高

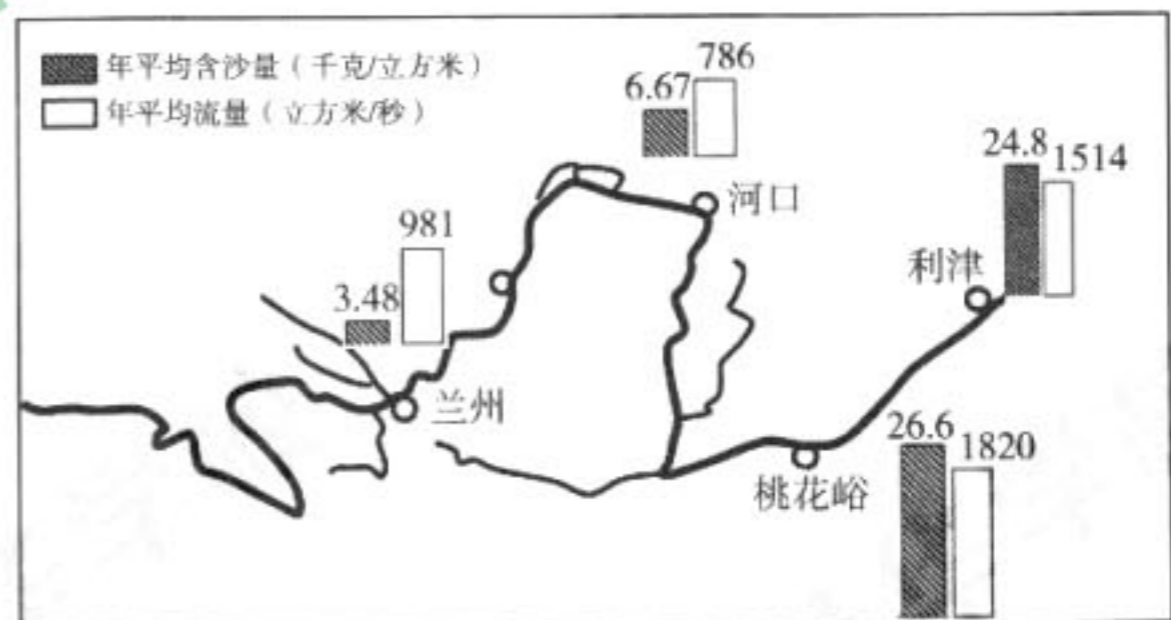


图5



12. 据图判断

- A. 兰州段含沙量最小，流量最大
- B. 利津段位于黄河下游，含沙量最大
- C. 从河口到桃花峪流量、含沙量均增大
- D. 黄河从上游至下游流量逐渐减小

13. 黄河下游河段年平均流量减少的社会经济原因是

- A. 季风气候，降水量较少
- B. 汇入支流少，蒸发量大
- C. 工农业发达，需水量大
- D. 污染严重，水质恶化

14. “土质疏松，降水集中、多暴雨，植被破坏，水土流失严重，生态环境恶化”，上述语言最可能描述的是黄河

- A. 上游的青藏高原
- B. 中游的黄土高原
- C. 下游的华北平原
- D. 河口的三角洲地带

图6为“我国东南沿海某区域示意图”。图中甲为山地，乙为城市郊区，丙为远离城市的平原地区，丁为近海。读图，完成15、16题。

15. 根据因地制宜的原则

- A. 甲处适宜种植小麦
- B. 乙处适宜大量饲养细毛羊
- C. 丙处适宜大规模种植甜菜
- D. 丁处适宜发展水产养殖

16. 以下做法中，有利于“十分珍惜和合理利用每一寸土地，切实保护耕地”的是

- A. 甲处植树造林，保持水土
- B. 乙处增加牲畜养殖的数量
- C. 丙处大规模的兴建别墅群
- D. 丁处开垦荒地，围海造田



图6

某旅行社推出了暑假期间锡林郭勒—河西走廊—吐鲁番的旅游线路。读图7，完成17、18题。



图7

17. 从锡林郭勒到吐鲁番的旅游线路上依次出现的地理事物最可能是

- A. 蒙古包、窑洞、竹楼
- B. 三河马、西藏牦牛、新疆细毛羊
- C. 草原、荒漠草原、荒漠
- D. 平原、盆地、山地



18. 图示区域

- A. 年降水量均小于 400mm  
 B. 自东向西年降水量逐渐增加  
 C. 吐鲁番距海遥远，年降水量小于 50mm  
 D. 旅游线路上锡林郭勒的年降水量最多

台湾是中国不可分割的领土。台湾与祖国大陆山水相连、骨肉相依。读图 8，完成 19、20 题。

资料卡

①台湾的很多居民祖籍是福建和广东；  
 ②台湾很多出版物使用汉字；  
 ③在地质时期台湾岛曾与大陆相连；  
 ④台湾多火山地震。



图 8

19. 资料卡中，可以说明台湾与祖国大陆联系密切的是

- A. ①②③  
 B. ①②④  
 C. ②③④  
 D. ①③④

20. 台湾岛

- A. 是我国最大的岛屿，西临渤海  
 B. 北回归线穿过，终年炎热干燥  
 C. 河流流程长，水流平稳  
 D. 物产丰富，有“宝岛”之称

网球四大满贯比赛是澳大利亚（墨尔本）网球公开赛、法国（巴黎）网球公开赛、英国（温布尔顿）网球锦标赛、美国（纽约）网球公开赛的简称，图 9 为网球四大赛事举办城市位置示意图。读图，完成 21~24 题。

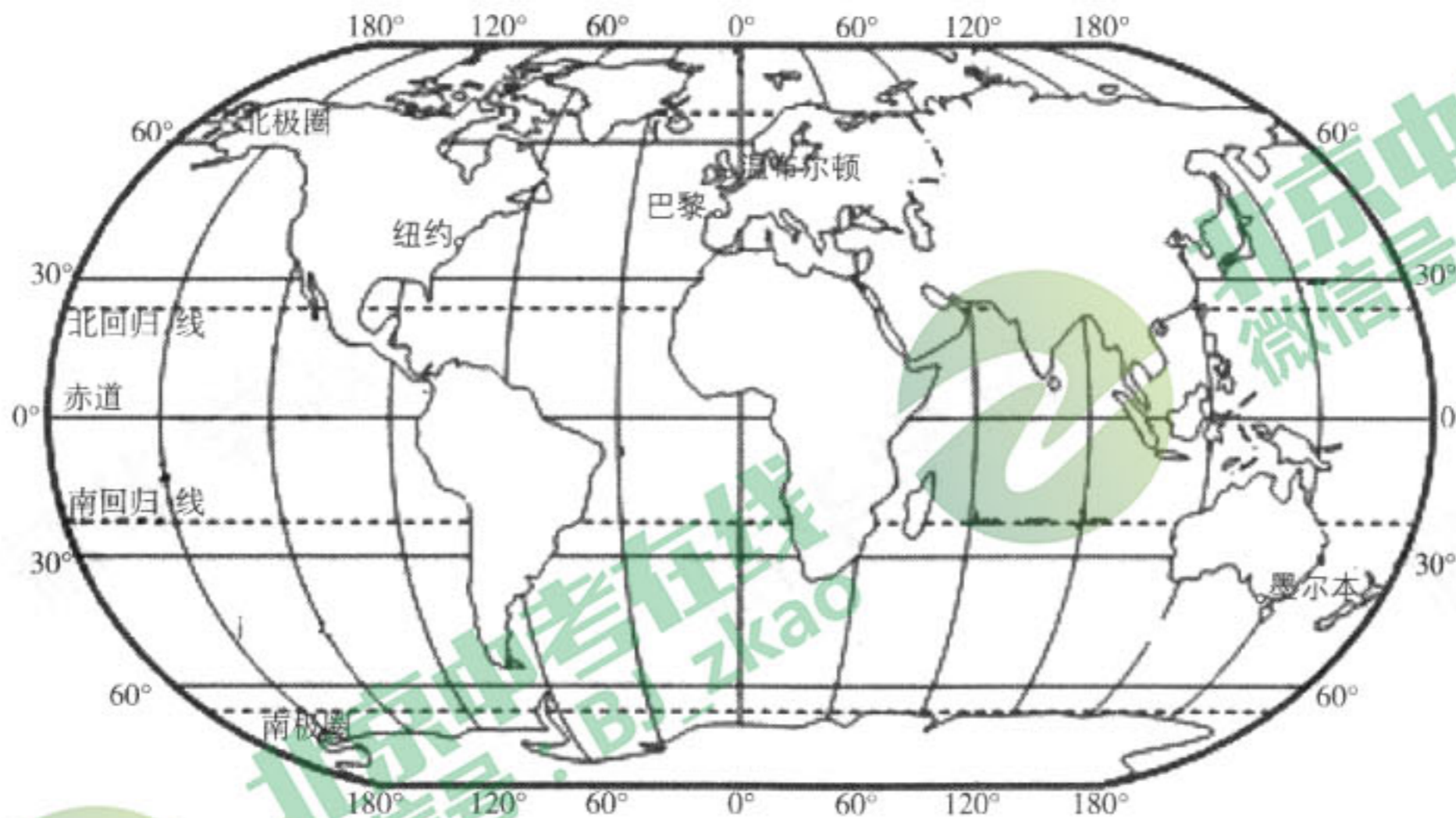


图 9

21. 四大网球比赛举办城市

- A. 全部在东半球  
 B. 分布在四个大洲  
 C. 均濒临大西洋  
 D. 均位于发达国家

22. 小明想去观看网球比赛，他查找资料，选取了地理位置为 40° N, 75° W 的某城市，该城市是

- A. 墨尔本  
 B. 巴黎  
 C. 温布尔顿  
 D. 纽约



23. 英国温布尔顿网球锦标赛是网球运动中最古老和最具声望的赛事，网球迷们在英国观看精彩比赛之余可以

- A. 在喜马拉雅山滑雪 B. 欣赏午夜太阳 C. 参观乳畜农场 D. 游览自由女神像

24. 澳大利亚网球公开赛每年1月中下旬举办，该赛事举办时

- A. 当地学生正在度寒假 B. 巴黎昼长夜短  
C. 太阳直射点在南半球 D. 太阳直射点向南移

读图10“世界人口分布随纬度变化示意图”，完成25、26题。

25. 世界人口集中分布在

- A. 北半球，中、低纬度  
B. 北半球，中、高纬度  
C. 南半球，中、低纬度  
D. 南半球，中、高纬度

26. 通常，世界人口集中分布地区

- A. 气候温暖 B. 地形以高原为主  
C. 降水稀少 D. 热带雨林面积广

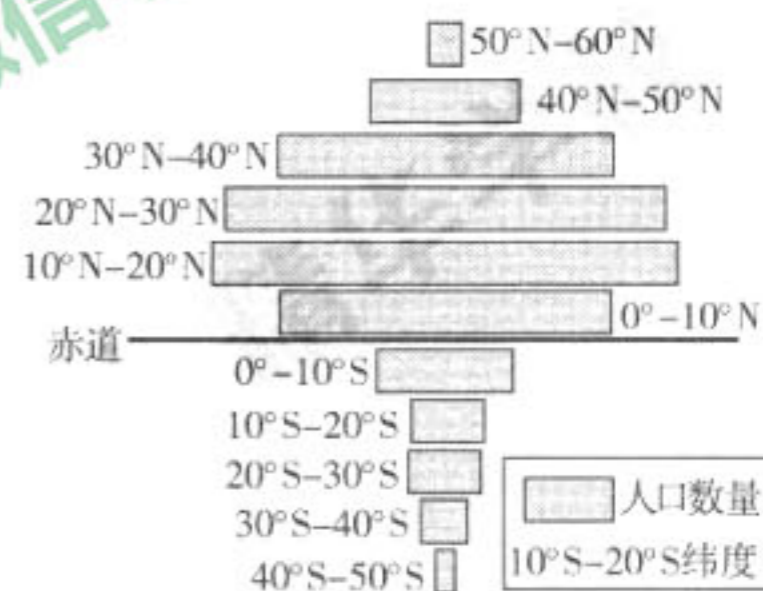


图10

表1是甲、乙两个国家的人口资料统计表。读表，完成27、28题。

表1

国家	年龄结构(%)			人口出生率 (%)	人口死亡率 (%)
	0~14岁	15~60岁	60岁以上		
甲	13.5	64.3	22.2	0.76	0.95
乙	36.7	58.1	5.2	2.81	0.44

27. 甲国的人口自然增长率(%)为

- A. -2.37 B. -0.19 C. 1.71 D. 3.25

28. 国际上通常把60岁以上人口占总人口比例达到10%，或65岁以上人口占总人口的比例达到7%作为进入老龄化社会的标准。依据表中数据判断

- A. 甲国劳动力比重较低 B. 乙国人口增长速度较慢  
C. 甲国养老负担较小 D. 乙国青少年教育需求较大

29. 图11为乡村聚落和城市聚落景观照片，下列叙述能够反映它们差异的是

- ①乡村的建筑更稀疏、低矮  
②城市的路网更密集  
③城市有大片农田  
④乡村商场更多更大

- A. ①② B. ③④  
C. ①③ D. ②④



乡村



城市

图11



读图 12 “北美地区气候类型分布图”，完成 30、31 题。

30. 北美地区

- A. 气候类型多样、以热带气候为主
- B. 极地气候均分布在北极圈以北地区
- C. 50° N 东、西两岸气候类型相同
- D. 温带海洋性气候主要分布在 40° N~60° N 大陆西岸

31. 北美地区西部气候类型狭长分布的主要影响因素是

- A. 纬度位置
- B. 海陆位置
- C. 地形
- D. 人类活动

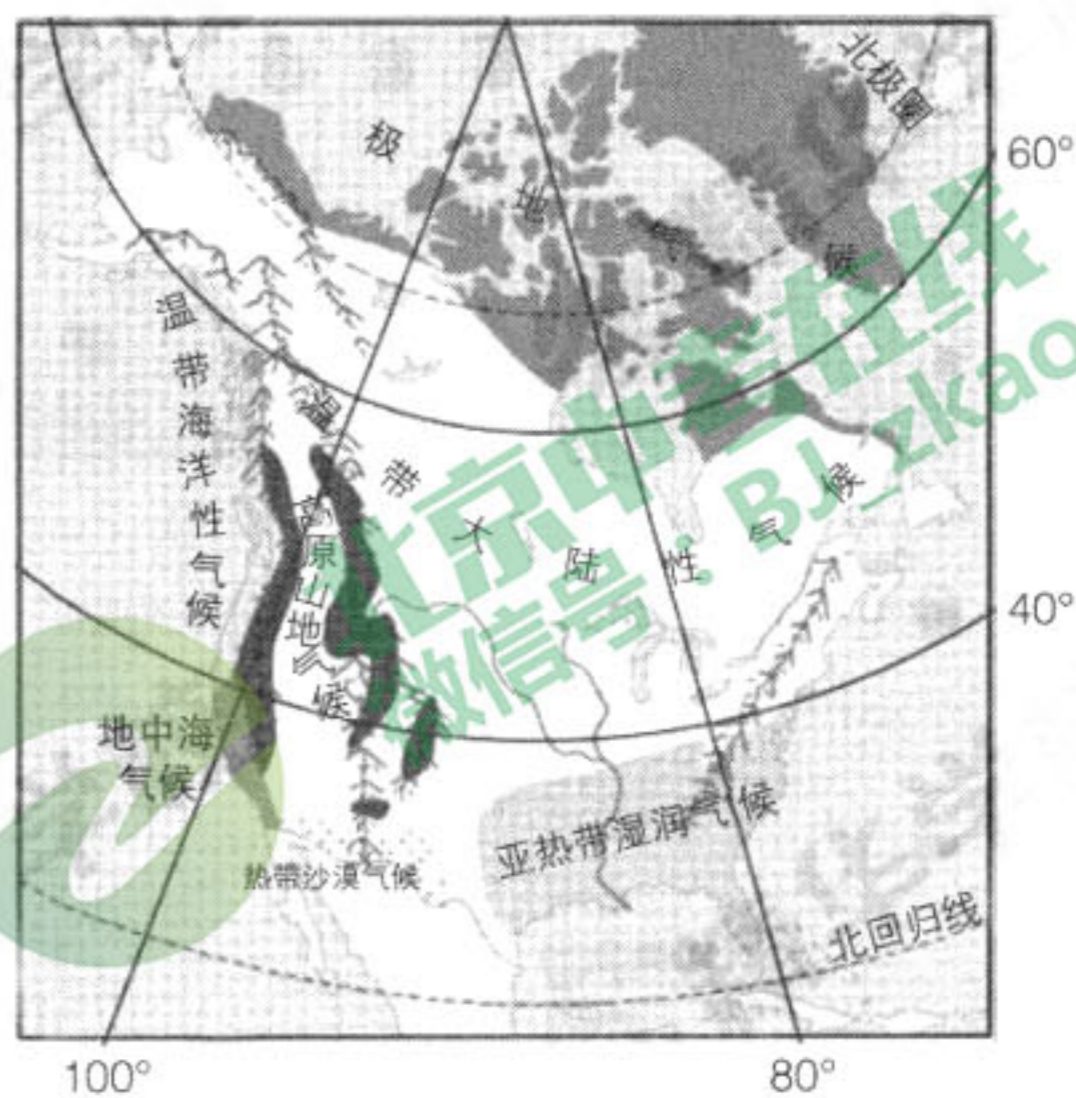


图 12

读图 13 “非洲地形图”，完成 32、33 题。

32. 非洲大陆的主要地形类型是

- A. 盆地
- B. 高原
- C. 平原
- D. 山地

33. 关于非洲河流叙述正确的是

- A. 尼罗河结冰期较短
- B. 尼罗河自北向南流
- C. 刚果河注入大西洋
- D. 刚果河流经平原区

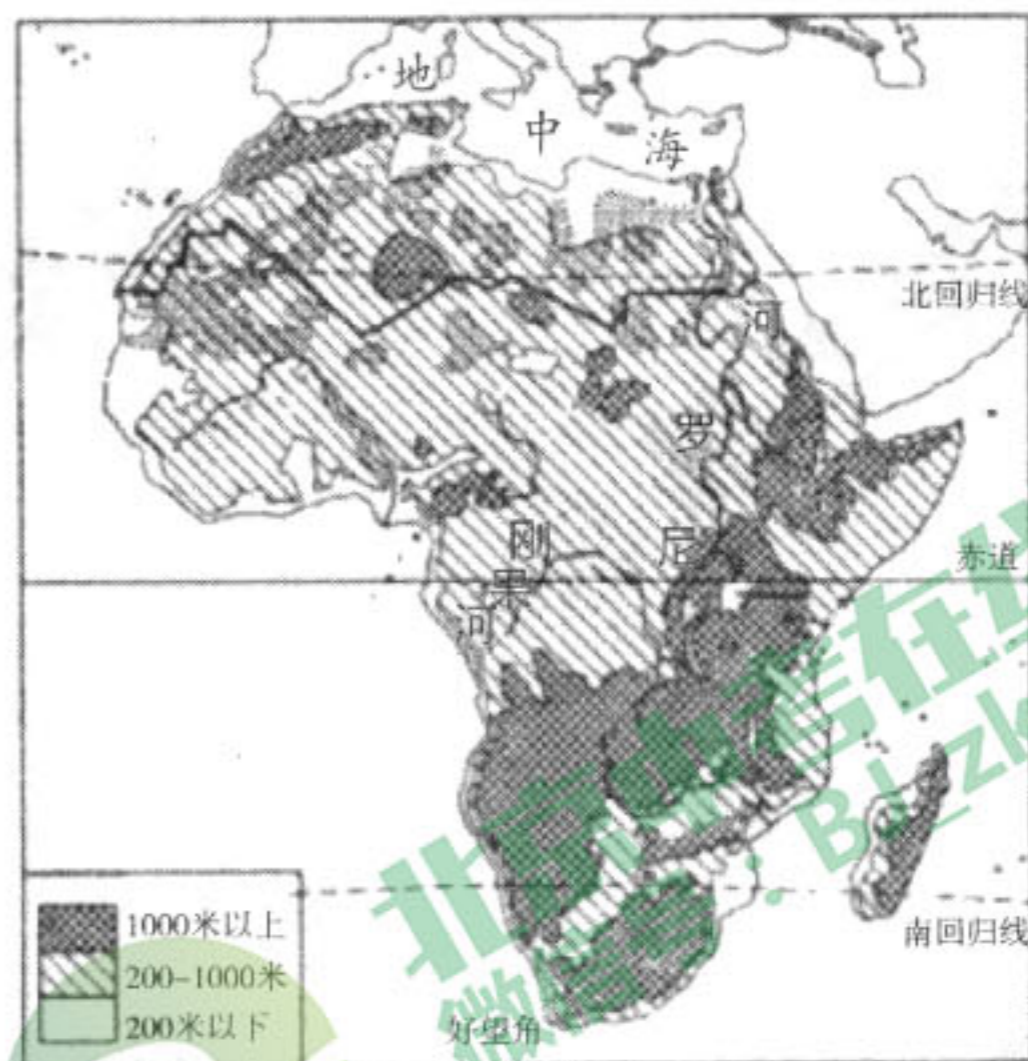


图 13


埃及位于非洲东北部尼罗河下游地区。在古代埃及每年 7 月，非洲中部充沛的雨水使尼罗河的水位升高，溢出河床，流向河谷，到 9 月泛滥达到高潮时，整个河谷都淹没在水中。河水退后，留下一层富含磷酸盐和腐殖质的淤泥，农民只需将种子撒在潮湿、肥沃的土地上，就可以静待来年的好收成。（选自历史教科书）据此，完成 34、35 题。

34. 以下说法与文中描述的古代埃及符合的是

- A. 雨水充沛，河流水位平稳
- B. 尼罗河赠与沿岸肥沃的土地
- C. 农业生产精耕细作
- D. 全年均可耕种，农作物产量高



35. 古埃及是世界四大文明古国之一，以下历史古迹位于埃及的是



读图 14 “中亚主要矿产和农业分布图”，完成 36、37 题。

36. 下列关于中亚地区说法正确的是

- A. 位于中、低纬度地区
- B. 主要农业类型为畜牧业
- C. 降水丰富、棉花种植广
- D. 深居内陆，森林广布

37. 中亚是“一带一路”上的重要地区，该地区在国际贸易中最可能出口的是

- ①矿产 ②木材 ③畜产品 ④热带经济作物
- A. ①②
- B. ①③
- C. ③④
- D. ①④

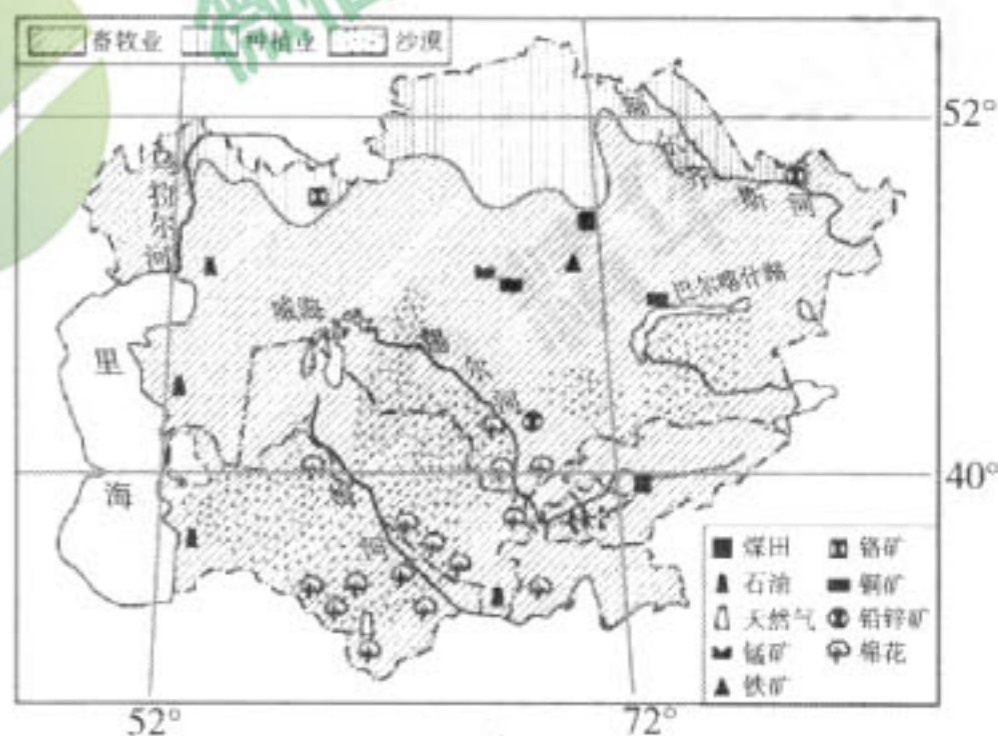


图 14

新西兰大部分地区为温和湿润的温带海洋性气候，广袤的森林和草场使其成为名副其实的“绿色王国”。图 15 中风向为该国盛行风。读图，完成 38~40 题。

38. 新西兰

- A. 是印度洋中的群岛国家
- B. 北岛的纬度高于南岛
- C. 南岛地势中间低、四周高
- D. 甲地的降水多于乙地

39. 新西兰对外联系的主要运输方式是

- A. 水路、公路
- B. 铁路、航空
- C. 水路、航空
- D. 管道、公路

40. 在中国超市买到产自新西兰的商品最可能是

- A. 香蕉、菠萝
- B. 奶粉、羊肉
- C. 咖啡、茶叶
- D. 服装、电脑

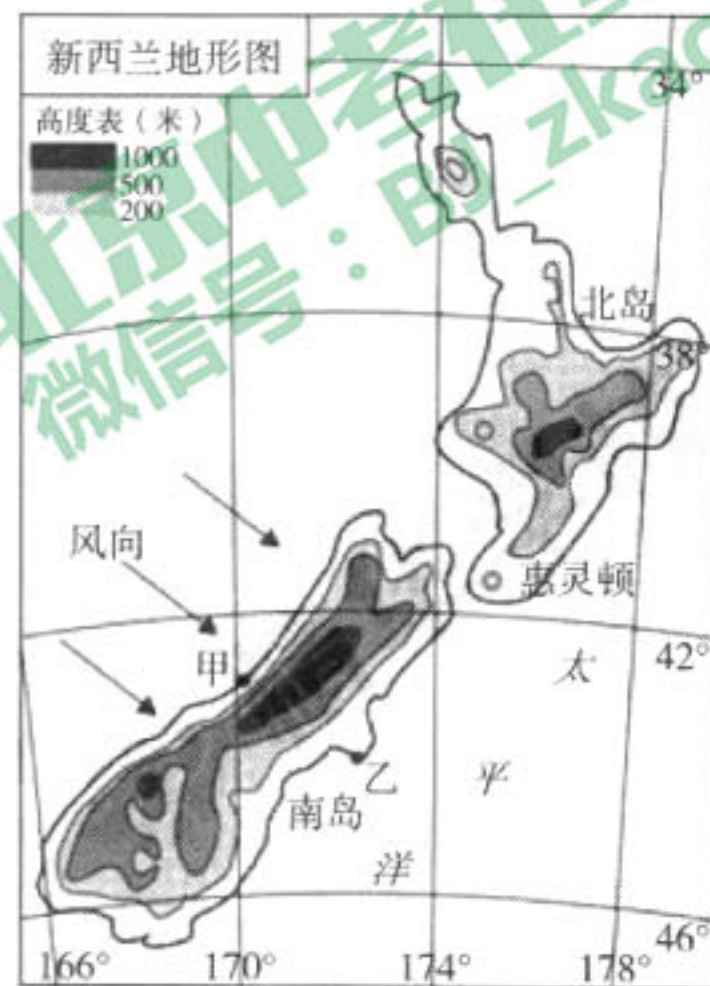


图 15



## 第二部分 综合题（共50分）

41. (16分) 人们阅读世界地图的方式正在发生改变——以北极为中心，世界主要经济体之间的距离，竟然如此之近！面对机遇，中国与俄罗斯等北极国家将共建“冰上丝绸之路”。读图16，回答下列问题。

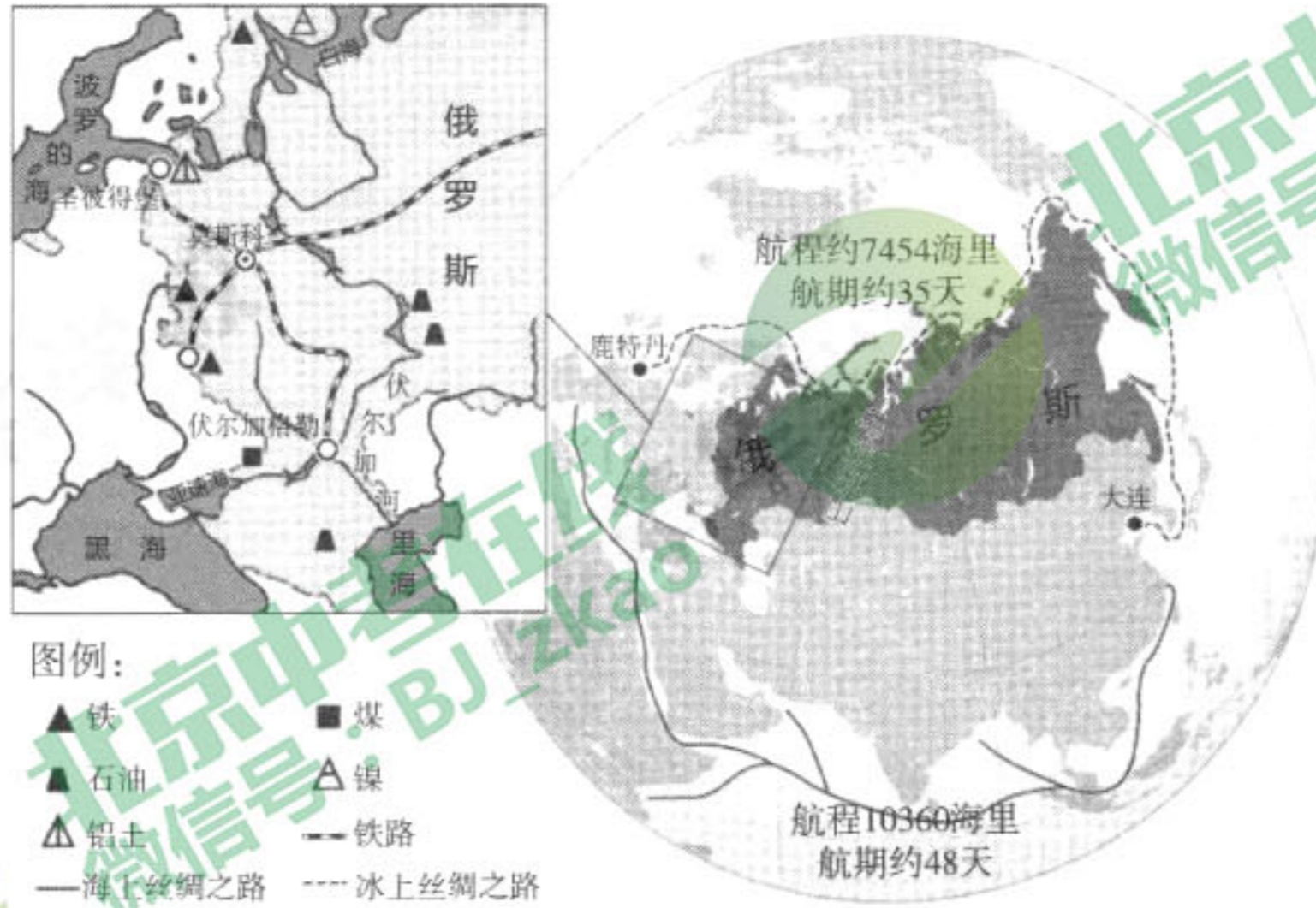


图 16

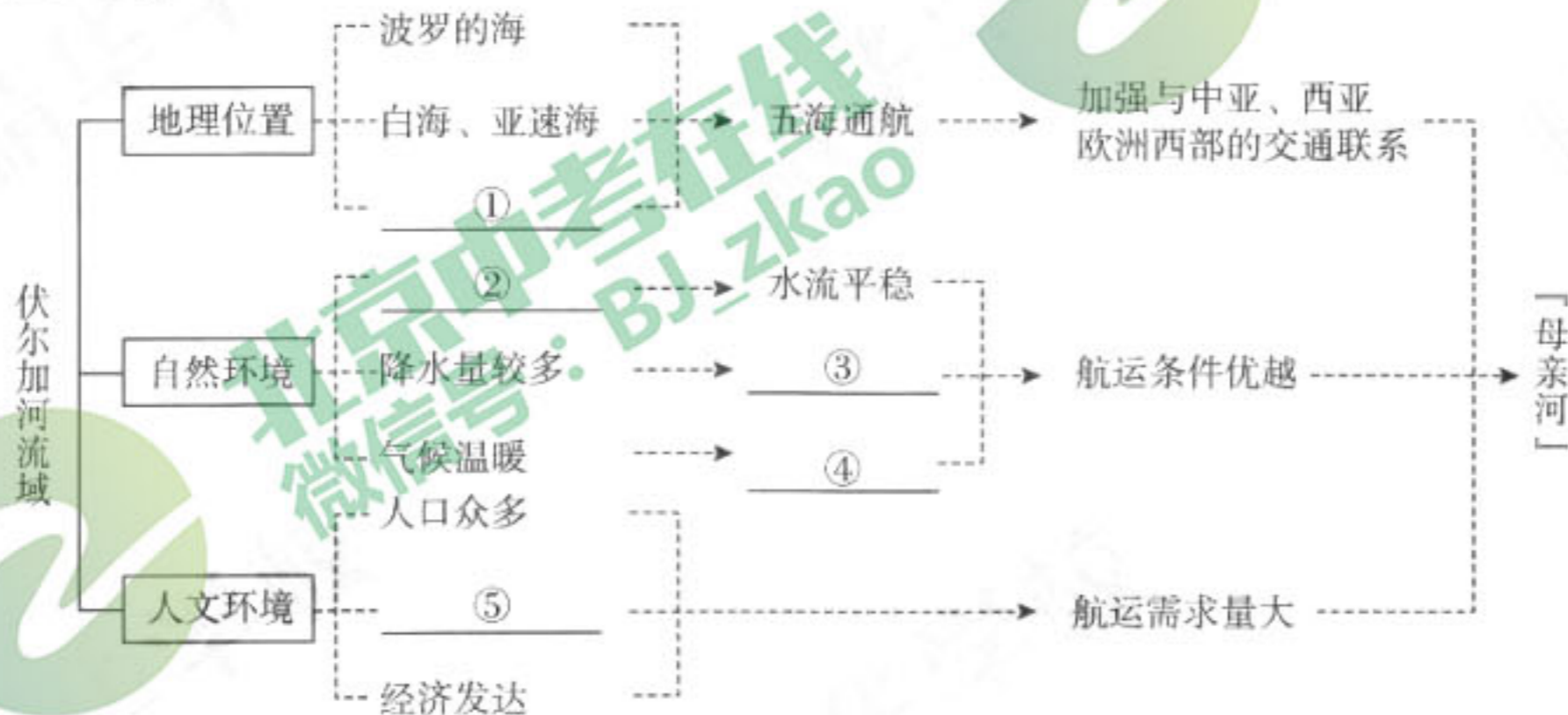
(1) “冰上丝绸之路”航线是从我国大连出发，经日本海向\_\_\_\_\_（方向）进入\_\_\_\_\_洋，穿过\_\_\_\_\_海峡进入北冰洋，最终到达\_\_\_\_\_洲西部的鹿特丹。

早在16世纪，人们就开始梦想穿过几乎完全封冻的北冰洋，拉近东西方之间的距离。北极地区拥有丰富的自然资源，但由于自然条件恶劣，开发成本较高，脆弱的生态环境使资源开发面临空前的挑战。“冰上丝绸之路”建设有助于整合亚欧大陆的发展，促进资源开发和共同发展。

(2) “冰上丝绸之路”与“海上丝绸之路”都连接了太平洋和大西洋，读图可知，与“海上丝绸之路”相比较，“冰上丝绸之路”的主要优势是\_\_\_\_\_、\_\_\_\_\_，请再列举一条“冰上丝绸之路”的不利自然条件\_\_\_\_\_。

(3) 俄罗斯是北冰洋沿岸最大的国家，下列关于俄罗斯的叙述，正确的是\_\_\_\_\_。  
 A. 地跨欧、亚两洲    B. 地跨南、北半球    C. 跨越纬度最广    D. 植被种类最多

(4) 伏尔加河位于俄罗斯西南部，被俄罗斯人誉为“母亲河”，其流向大致自北向南，注入\_\_\_\_\_。





阅读以上关于伏尔加河流域的资料，将下列词语填写到相应的序号后。

里海、黑海 结冰期较短 流量丰富 地势平坦 城市密集

①\_\_\_\_，②\_\_\_\_，③\_\_\_\_，④\_\_\_\_，⑤\_\_\_\_

(5) 以莫斯科为中心的工业区，是俄罗斯工业最发达的地区，该地区发展工业的优势条件有\_\_\_\_、\_\_\_\_等。

42. (12分) 随着公众森林旅游需求的日趋多样化，长距离徒步穿越自然区域的需求快速增长。为推动我国国家步道体系建设，2017年11月13日，国家林业局公布第一批五条国家森林步道名单(如图17所示)。阅读图文材料，回答下列问题。

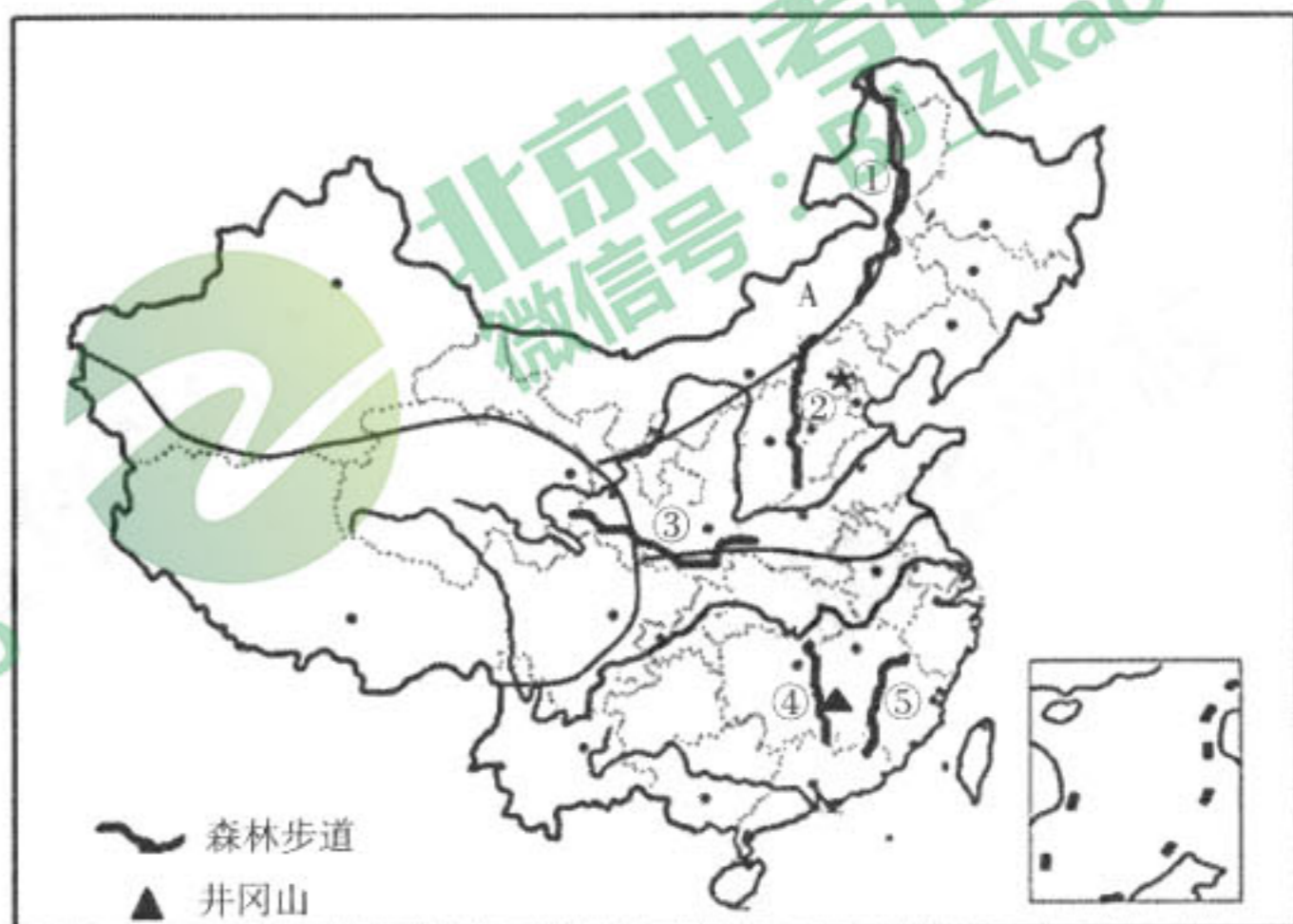


图17 中国森林步道线路图

(1) 森林步道主要分布在我国\_\_\_\_。(双项选择填空)

- A. 地势第一级阶梯  
C. 山地地区

- B. 温带、亚热带季风区  
D. 半干旱区

(2) 森林步道①西侧是我国四大地理分区中的\_\_\_\_地区，此地区主要发展的农业部门是\_\_\_\_业。此步道所在山脉西侧的省级行政区A的简称为\_\_\_\_，在此聚居的少数民族主要是\_\_\_\_。此步道东侧的地形区名称是\_\_\_\_，下列对该地形区描述正确的是\_\_\_\_(选择填空)。

- A. 纬度高，是我国四大牧区之一  
C. 农作物一年两熟

- B. 地形平坦辽阔，适合大规模机械化耕作  
D. 我国主要的甘蔗产地

(3) 森林步道③所在山脉的名称为\_\_\_\_，其南北两侧自然环境差异显著，是我国重要的地理分界线。请说出它的一个地理意义\_\_\_\_。

(4) 步道④所在山脉中段有被称为“中国革命摇篮”的井冈山，人文内涵丰富，红色文化突出。井冈山所在省区的行政中心是\_\_\_\_。


(5) ⑤为武夷山森林步道，所在区域是客家文化聚集地。客家人自秦朝从中原地区迁至此地，在此地居住已有两千多年，客家文化的核心在于团结和奋进，其民居具有一定的防御功能。下列四幅景观图中属于客家聚落形态的是\_\_\_\_(选择填空)



A



B



C



D



43. (12分)“太阳转身处”——北回归线是一条特殊的纬线，具有重要的地理意义，某校地理小组对北回归线沿线地区进行了探究学习。阅读图文资料，回答下列问题。

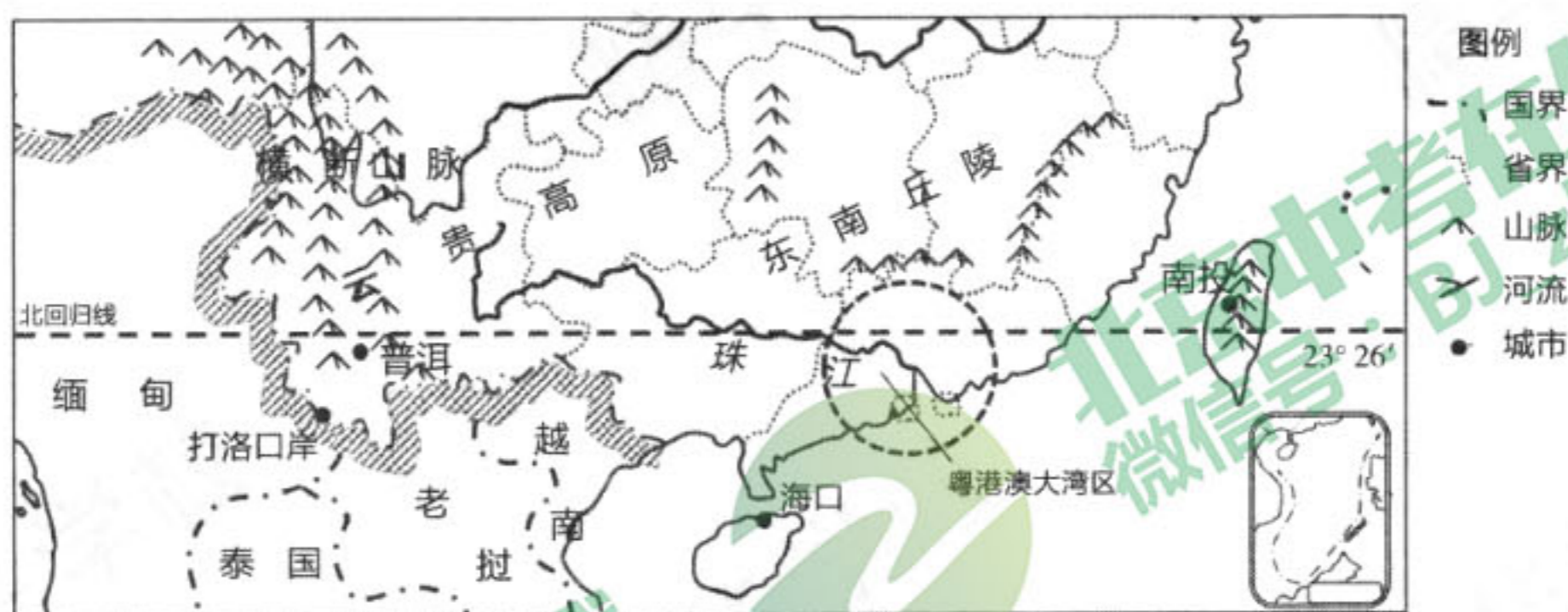


图 18

(1) 我国北回归线以南地区 (选择填空)。

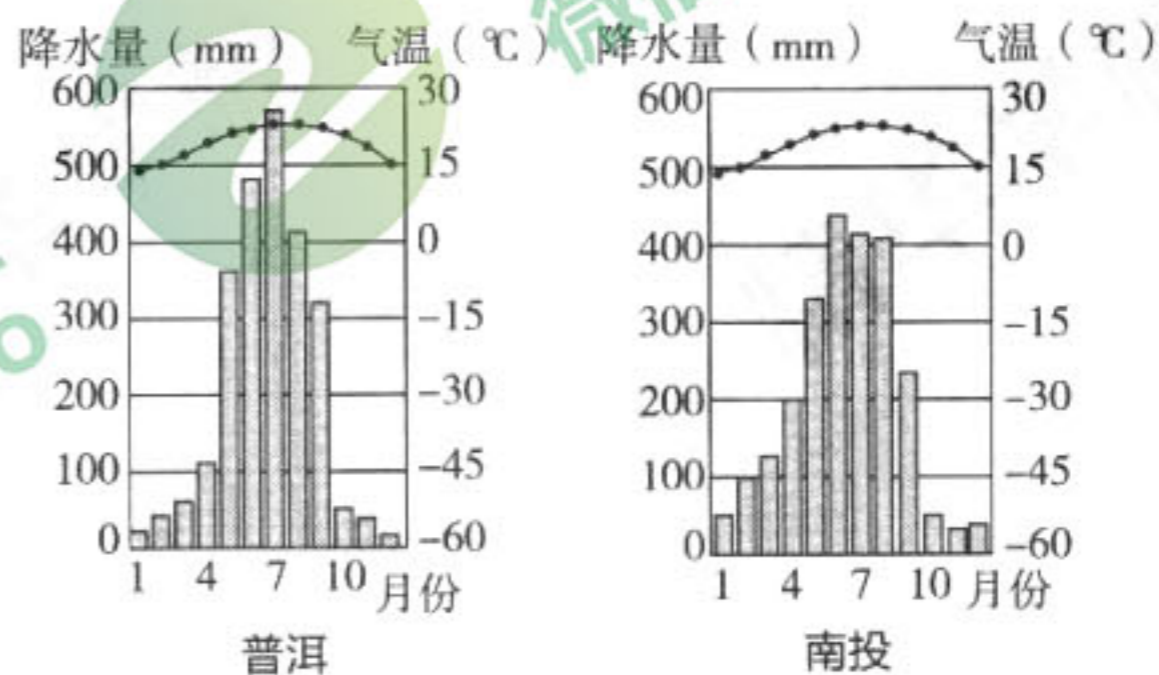
- A. 有阳光直射现象
- B. 属五带中的南温带
- C. 有极昼极夜现象
- D. 为中纬度地区

(2) 下列语言描述了部分北回归线附近地区的环境特色，请写出加点字代表的省级行政区的全称。

- ①探访茶乡——滇红茶的生产地
  - ②冬季到台北来看雨
  - ③桂菜北运——中国最大冬菜篮子
  - ④从“前店后厂”到“粤港模式”
- ① \_\_\_\_\_      ② \_\_\_\_\_      ③ \_\_\_\_\_      ④ 广东省、香港特别行政区

北回归线附近的普洱和南投都生产茶叶。普洱茶和南投的冻顶乌龙茶都是久负盛名的茶叶品种。茶树性喜温暖、潮湿，最适宜生长在 15~30℃ 之间。茶树生长需要年降水量至少在 800mm 以上，较好的品种甚至需要降水量大于 1500mm。茶树喜高山，尤其是在一定高度的山区（一般海拔 800~1500 米），雨量充沛，云雾多，排水良好，对茶树的生长有利，茶叶品质较高。

(3) 结合资料说明普洱、南投两地茶叶生产共同的有利自然条件（从地形、气候角度说明）。



(4) 粤港澳地区将建设粤港澳大湾区，促进祖国内地与港澳之间的合作，实现优势互补。同学们绘制了关于广东与香港经济合作模式的思维导图，根据资料卡中描述的两地经济发展的优势条件及主要方向，将序号分别填写在字母后面的横线上，补全思维导图。



A \_\_\_\_\_, B \_\_\_\_\_, C \_\_\_\_\_, D \_\_\_\_\_

(5) 下面是同学们到西双版纳实践考察途中的一段文字记录，其中有些错误表述，从中挑出两处，将序号及原文抄写在答题卡上。

2月10日 晴 12℃~30℃ 东风2级

今天我们到达了云南省最南端的西双版纳，这里①纬度较高，虽然②正值北京冬季，但感觉当地还是很热。上午我们参观了③傣族村寨。在村寨中，我们看到了村民④种植的芒果、火龙果、菠萝、苹果等热带水果；见到了当地⑤富有特色的民居—骑楼；中午吃到了美味的傣家饭，如竹筒饭、烤鱼等。下午，我们前往热带雨林，雨林中树木葱郁，空气清新。回酒店的途中，我们看到了澜沧江，现在⑥正值澜沧江的汛期，领略了大河之美。明天，我们将前往⑦中越边境上的打洛口岸。

错误1 \_\_\_\_\_

错误2 \_\_\_\_\_



44. (10分) 阅读图文资料, 回答下列问题。

首都经济圈是指以首都北京为中心形成的经济区域(图19所示)。实现京津冀协同发展, 是面向未来打造首都经济圈的新需要。

- (1) 首都经济圈位于\_\_\_\_\_平原的北部, 西部为\_\_\_\_\_山、北部为燕山, 西北跨内蒙古高原, 东临\_\_\_\_\_海, 拥有绵长的海岸线。
- (2) 首都经济圈中的“一带”是指\_\_\_\_\_经济带, 着重发展的“三重点”中的曹妃甸工业区和\_\_\_\_\_区即位于这个经济带内。
- (3) 2013年首钢搬迁至河北省唐山市南部沿海曹妃甸区, 相对于首钢原驻地北京石景山区, 首钢落户曹妃甸是因为当地\_\_\_\_\_ (选择填空)。

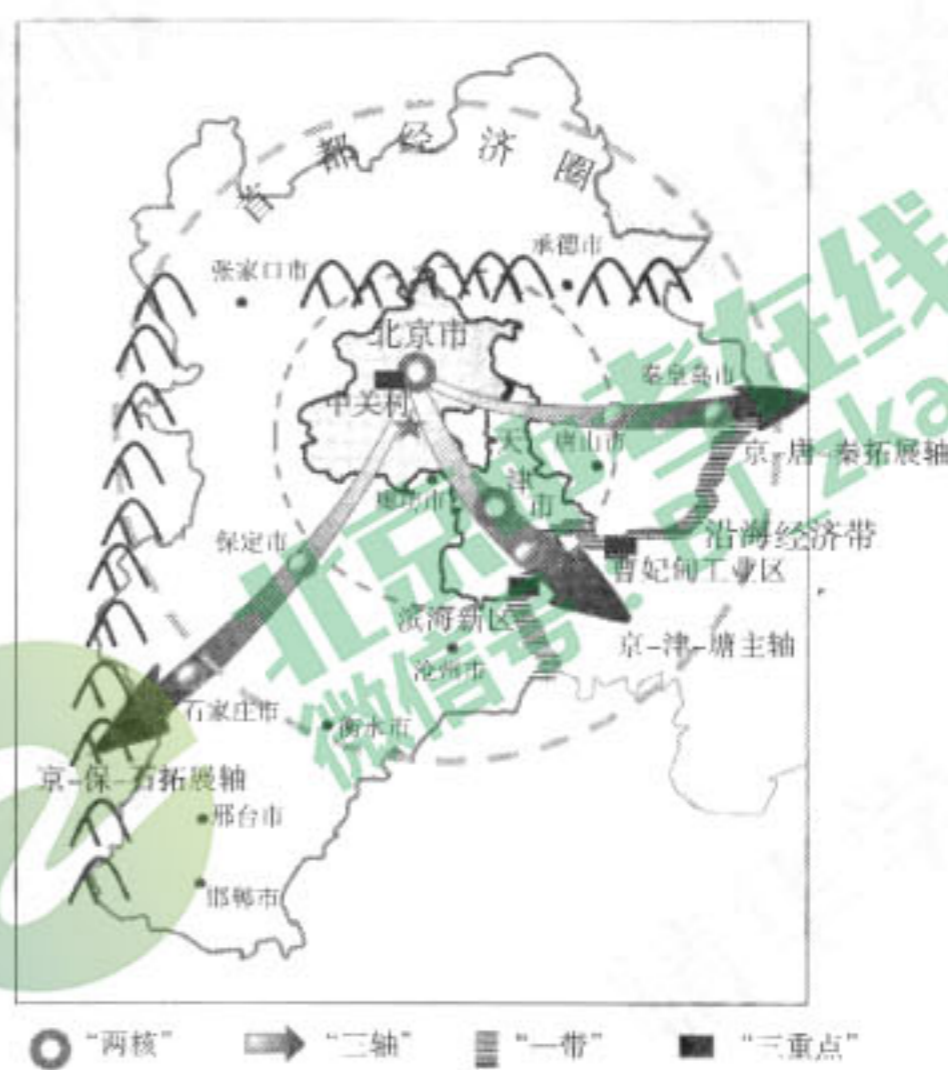


图19

- A. 科技力量雄厚 B. 海运条件便利 C. 地处辽中南工业区 D. 气候条件优越

《北京城市总体规划(2016年—2035年)》中提出: 北京城市战略定位是全国政治中心、文化中心、国际交往中心、科技创新中心。

- (4) 以下发展目标能够反映北京城市战略定位的是\_\_\_\_\_ (多项选择)。

- A. 为中央党政军领导机关提供优质服务, 保障国家政务活动安全、高效、有序运行
- B. 保护历史文化遗产, 建设世界一流大学
- C. 发展一大批重工业企业
- D. 建设国际会议会展区、外国驻华使馆区等

北京市某中学地理金老师购买了一张标有“交通联合”标识的京津冀互通卡, 既可在北京市市区刷卡乘车, 又可在天津部分线路和河北石家庄等城市全部线路刷卡乘车。这是京津冀一体化的一项重要举措。



- (5) 结合你的生活体验和相关资料, 说说这一事例对京津冀协同发展的意义。



# 海淀区九年级第二学期期末练习

## 地理参考答案

2018.6

### 第一部分 选择题 (共 40 分)

本部分共 40 小题，每小题 1 分，共 40 分。在每小题列出的四个选项中，选出最符合题目要求的一项。

题号	1	2	3	4	5	6	7	8	9	10
答案	C	B	C	B	C	C	A	D	B	D
题号	11	12	13	14	15	16	17	18	19	20
答案	B	C	C	B	D	A	C	C	A	D
题号	21	22	23	24	25	26	27	28	29	30
答案	D	D	C	C	A	A	B	D	A	D
题号	31	32	33	34	35	36	37	38	39	40
答案	C	B	C	B	C	B	B	D	C	B

### 第二部分 综合题 (共 50 分)

41. (16 分)

(1) 东北(1分) 太平(1分) 白令(1分) 欧(1分)

(2) 航程较短(1分) 航行时间较少(1分)等

气温低，海水结冰，全年通航时间短等(1分，合理即可。)

(3) A(1分)

(4) 里海(1分)

①里海、黑海(1分) ②地势平坦(1分) ③流量丰富(1分) ④结冰期较短(1分)

⑤城市密集(1分)

(5) 交通便利，(1分)矿产资源丰富(1分)等。



42. (12分)

(1) B(1分) C(1分)

(2) 西北(1分) 畜牧(1分) 内蒙古(1分) 蒙古族(1分) 东北平原(1分) B(1分)

(3) 秦岭(1分) 北方地区和南方地区的分界线等(1分,合理即可。)

(4) 南昌(1分)

(5) C(1分)

43. (12分)

(1) A(1分)

(2) ①云南省(1分) ②台湾省(1分) ③广西壮族自治区(1分)

(3) 地处山区,(1分)月平均气温在 $15\sim 30^{\circ}\text{C}$ 之间(或:年降水量800毫米以上)。(1分)

(4) A ②(1分), B ①(1分), C ④(1分), D ③(1分)

(5) 错误:①④⑤⑥⑦(2分,写出序号并抄写原文内容。只写序号不给分。)

44. (10分)

(1) 华北(1分) 太行山(1分) 渤海(1分)

(2) 沿海(1分) 滨海新区(1分)

(3) B(1分)

(4) A(1分)B(1分)D(1分)

(5) 区域间的联系(出行)更方便快捷,促进交流等,言之有理即可。(1分)

