

2020 北京顺义初一（上）期末

地 理



本试卷包括二道大题，共 10 页，100 分。答题用黑色字迹签字笔作答。考生需将答案填写在答题卡上相应题号下。考试结束后只收答题卡，不收试卷。认真填写答题卡上的学校、班级、姓名、准考证号。

一、单项选择题

本大题共 25 小题，每小题 2 分，共 50 分。在每小题列出的四个选项中，选出最符合题目要求的一项。

图 1 为 2019 年上半年的某个节气当天，某地拍摄的日出日落照片，据图回答 1-4 题。



图 1

1. 拍摄照片后的 2 个月之内，太阳直射点
A. 向北移动 B. 向南移动 C. 不动 D. 先向北后向南移动
2. 照片拍摄日后 30 天内，北京地区的农作物开始
A. 春种 B. 夏管 C. 秋收 D. 冬藏
3. 下列关于该地当天天气或空气质量的叙述，正确的是
A. 最高气温 4°C B. 阴天 C. 微风 D. 空气质量为优
4. 下列古诗词与该节气相关的是
A. “立春除夕，并为一日，此事今年创见。”——宋代：郭应祥
B. “清明时节雨纷纷，路上行人欲断魂。”——唐代：杜牧
C. “夏早日初长，南风草木香。”——唐代：白居易
D. “雨霁风光，春分天气。”——宋代：欧阳修
5. 下列地理现象中由地球自转产生的是
A. 赤道上每 24 小时出现一次昼夜更替



- B. 北京地区连续两天出现阴雨天
- C. 北京地区昼夜长短每天都在变化
- D. 位于中纬度地区的北京市四季分明

图 2 为中国西部某区域卫星影像图，读图 2 和材料 1 回答 6-9 题。

材料 1：武威市风能资源丰富，主要风向为西北风，风速稳定，年风能有效利用小时数达 1800 小时以上，极具风电开发价值。

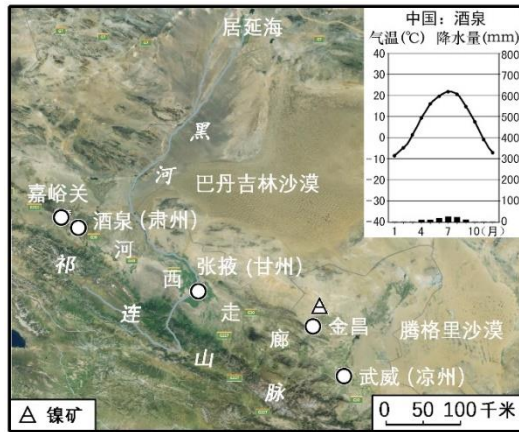


图 2 中国西部某区域卫星影像图

6. 图示区域自然环境的叙述，正确的是 ()
- A. 沙漠广布
 - B. 温带季风气候为主
 - C. 地形以山地为主
 - D. 黑河发源于昆仑山脉
7. 图示区域可开发利用的自然资源主要包括 ()
- ①森林资源
 - ②镍矿资源
 - ③风能资源
 - ④野生动物资源
- A. ①②
 - B. ③④
 - C. ①③
 - D. ②③
8. 图中标注城市所在省级行政区的简称是 ()
- A. 内蒙古
 - B. 青
 - C. 甘
 - D. 秦
9. 下列诗词中描写的景物与图示区域有关的是 ()
- ①大漠孤烟直，长河落日圆
 - ②日出江花红胜火，春来江水绿如蓝
 - ③会当凌绝顶，一览众山小
 - ④黄河远上白云间，一片孤城万仞山
- A. ②③
 - B. ①④
 - C. ②④
 - D. ①③

某班组织学生到北京市海淀区玉渊潭公园开展综合实践活动。行前学生查看了一星期天气预报（见表1），读图3和材料2，

回答10-13题。

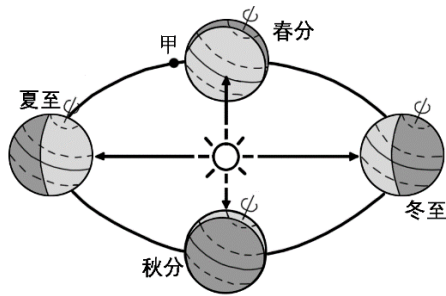


图3

北京03月29日-04月04日天气预报				空气质量指数
周五 03/29	-3°~12°	多云	西南风3级	053
周六 03/30	4°~12°	晴	西北风5级	018
周日 03/31	0°~16°	多云	西北风2级	026
周一 04/01	2°~16°	多云	东南风2级	079
周二 04/02	4°~19°	晴	东风2级	092
周三 04/03	3°~21°	晴	南风2级	095
周四 04/04	9°~28°	晴	西风3级	061



表1

材料2：（开、闭园时间）12月-次年3月：6:30-19:00；4月-5月和9-11月：6:00-20:30；6月-8月：6:00-21:30

10. 每年玉渊潭公园的开放时间都是如此，与其相关的地理依据是 ()
 - A. 地球的自转
 - B. 地球的形状
 - C. 地球的大小
 - D. 地球的公转
11. 某位同学提出此次活动应尽量避开周六，他主要考虑的是周六 ()
 - A. 气温太低
 - B. 有雨夹雪
 - C. 风力太大
 - D. 空气重污染
12. 此时北京昼夜状况为 ()
 - A. 昼渐长
 - B. 昼夜等长
 - C. 昼最短，夜最长
 - D. 昼渐短，夜渐长
13. 此时北京地区 ()
 - A. 冬小麦开始返青
 - B. 冬小麦正在收获
 - C. 正处于冬季供暖期
 - D. 玉米即将成熟

图4呈现了横断山脉地区的金沙江、澜沧江、怒江近于南北走向的“三江并流”奇观，与其它地区的江河分布截然不同，据图回答14-15题。

14. 有关该区域地理特征的叙述，正确的是 ()
 - A. 人口稠密经济发达
 - B. 海拔较高地势平坦
 - C. 河流落差大水能资源丰富
 - D. 河网稠密水运发达
15. 形成“三江并流”奇观的主要原因是 ()
 - A. 地势西高东低，形成“三江并流”



- B. 降水丰富且雨季长，形成“三江并流”
- C. 横断山脉是由多条近于南北走向的山岭组成，这些山岭构成分水岭，形成“三江并流”
- D. 地势由第一级阶梯向第二级阶梯过渡，形成“三江并流”

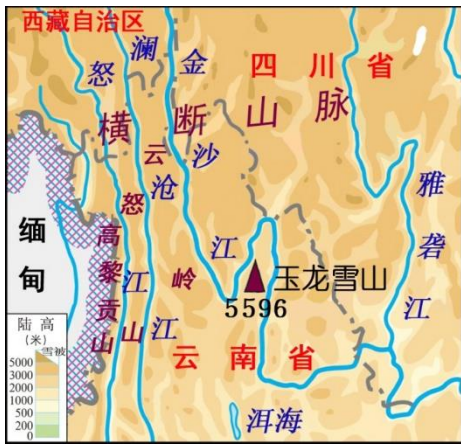


图4 三江并流

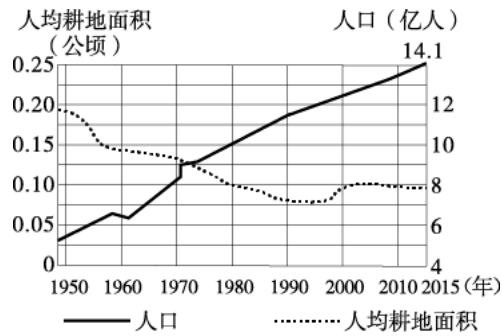


图5

图5为“中国人口增长和人均耕地变化图”。读图回答16-17题。

16. 据图判断
- A. 人口数量 1970 年以后持续增加
 - B. 人口自然增长率 1970 年以后持续变大
 - C. 人均耕地 1960 年以后持续减少
 - D. 耕地总面积在 2000 年后保持不变
17. 2016 年 1 月，我国全面实施一对夫妇可生育两个孩子的政策，其主要目的是
- A. 增加人均耕地面积
 - B. 应对社会老龄化问题
 - C. 降低人口增长速度
 - D. 提高人口素质

长江是中国第一大河，是横贯我国东西的水运大动脉，素有“黄金水道”之称。2016 年，《长江经济带发展规划纲要》正式印发，强调以长江黄金水道为依托，发挥上海、武汉、重庆的核心作用，以沿江主要城镇为节点，构建沿江绿色发展轴。读图6回答18-20题。

18. 下列关于长江水系的叙述，正确的是
- A. 是世界上流量最大、流域面积最广，长度第二的大河
 - B. 上、中、下游都有许多大的支流汇入
 - C. 鄱阳湖、洞庭湖对于长江中下游水位的变化有明显调节作用
 - D. 发源于巴颜喀拉山脉北坡，注入东海
19. 长江之所以成为黄金水道，是因为
- ① 干流长，支流众多，水量充足
 - ② 流域人口众多，经济发达



③ 具有江海联运、水陆联运优势 ④ 经过地势三级阶梯，落差大

A. ①②③ B. ②③④ C. ①③④ D. ①②④

20. 下列关于促进长江经济带实现可持续发展的叙述，正确的是

① 整治干流河道，改善支流通航条件，充分发挥“黄金水道”的作用

② 大力发展砂石采掘业，建设化工厂及开发区

③ 要把修复长江生态环境摆在压倒性位置，共抓大保护，不搞大开发

④ 重点建设上海、武汉、重庆等国家中心城市，带动长江经济带发展

A. ①②③ B. ②③④ C. ①②④ D. ①③④

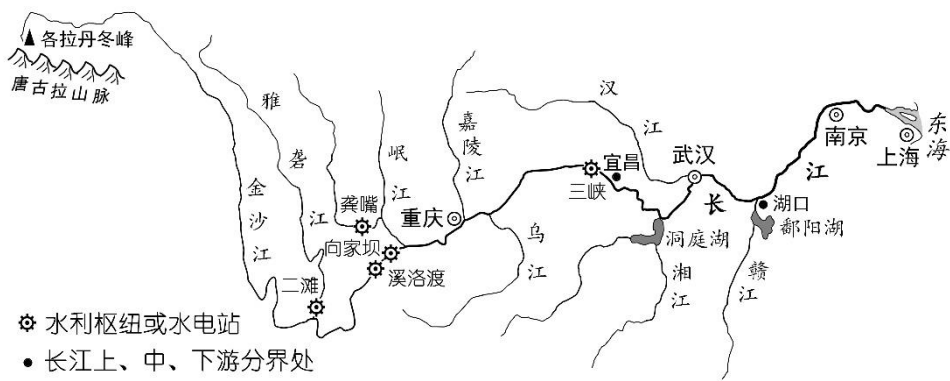


图 6 长江水系水电站分布

21. 成语“泾渭分明”中的泾河与渭河属于下列水系中的

A. 长江水系 B. 珠江水系 C. 黄河水系 D. 淮河水系

22. “羌笛何须怨杨柳，春风不度玉门关”是王之涣《凉州词》中的佳句，从地理视角看，“春风”应指

A. 冬季风 B. 夏季风 C. 西风 D. 台风

人民日报撰文：一首诗词一座城，40 首诗词带你走遍大美中国。结合下列诗词，回答 23-24 题。

23. 杜牧《泊秦淮》：“烟笼寒水月笼沙，夜泊秦淮近酒家。商女不知亡国恨，隔江犹唱后庭花。”写的是

A. 北京 B. 南京 C. 西安 D. 成都

24. 李商隐《夜雨寄北》：“君问归期未有期，巴山夜雨涨秋池。何当共剪西窗烛，却话巴山夜雨时。”写的是

A. 南昌 B. 杭州 C. 重庆 D. 成都

25. 下列属于非可再生资源的是

A. 水能 B. 森林 C. 耕地 D. 石油

二、综合题（本大题共 4 小题，共 50 分）



26. (14分) 阅读表2 回答下列问题。

表2: 北京月平均气温和月平均降水量

月 份	1	2	3	4	5	6	7	8	9	10	11	12
月平均气温 (°C)	-4.7	-1.9	4.8	13.7	20.1	24.7	26.1	24.9	19.9	12.8	3.8	-2.7
月降水量 (毫米)	3	7.4	8.6	19.4	33.1	77.8	193	212	57	24	6.6	2.6

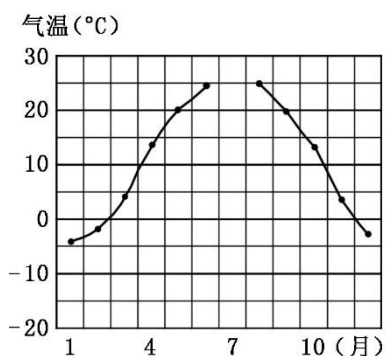


图7

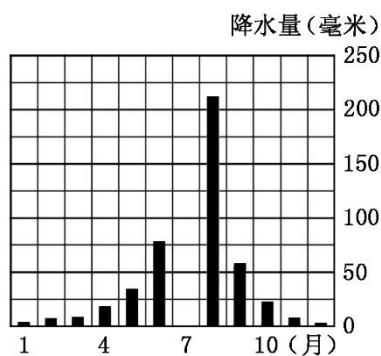


图8

- (1) 根据表2中的数据, 将图7和图8补绘完整。(2分)
- (2) 北京平均气温高于22°C的月份有_____, 是北京的_____季。(2分)
- (3) 北京平均气温低于10°C的月份有_____, 是北京的_____季。(2分)
- (4) 北京月均降水量大于50毫米的月份有_____, 是北京的_____季节。(2分)
- (5) 北京月均降水量小于10毫米的月份有_____, 是北京的_____季节。(2分)
- (6) 根据北京各季节气温和降水状况, 描述北京的气候特征。(2分)
- (7) 选择填空。(2分)

后面括号中的词语能反映北京冬季天气特征的有_____ (漫天飞雪、瓢泼大雨、春暖花开、秋高气爽、落叶纷飞、阴雨连绵、天寒地冻)

27. (14分) 读图9 回答下列问题。

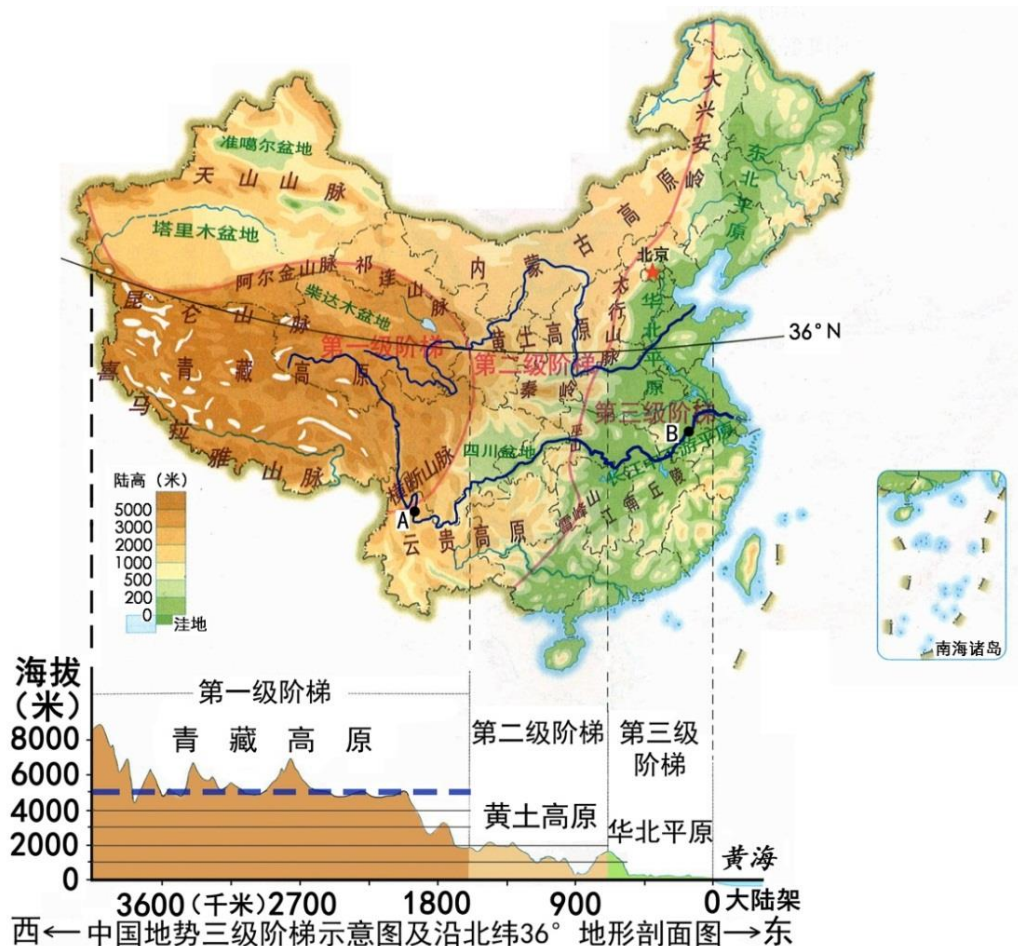


图 9

- (1) 中国地势第二、三级阶梯间的界线山脉有_____、太行山脉、_____和雪峰山。(2分)
- (2) 中国地势第三级阶梯的地形类型以_____、_____为主。(2分)
- (3) 长江干流 A、B 两点附近河段相比，哪个河段更适合发电？哪个河段更适合航运？分别说明理由。(4分)
- (4) 沿 36° N 剖面线上第一级阶梯平均海拔约_____米，主要地形区是_____。(2分)
- (5) 简答我国地形、地势特征。(2分)
- ① 我国地形的显著特征是：
- ② 我国地势的显著特征是：
- (6) 简答我国地势特点对降水及河流的影响。(2分)

28. (12分) 读图 10 回答下列问题。

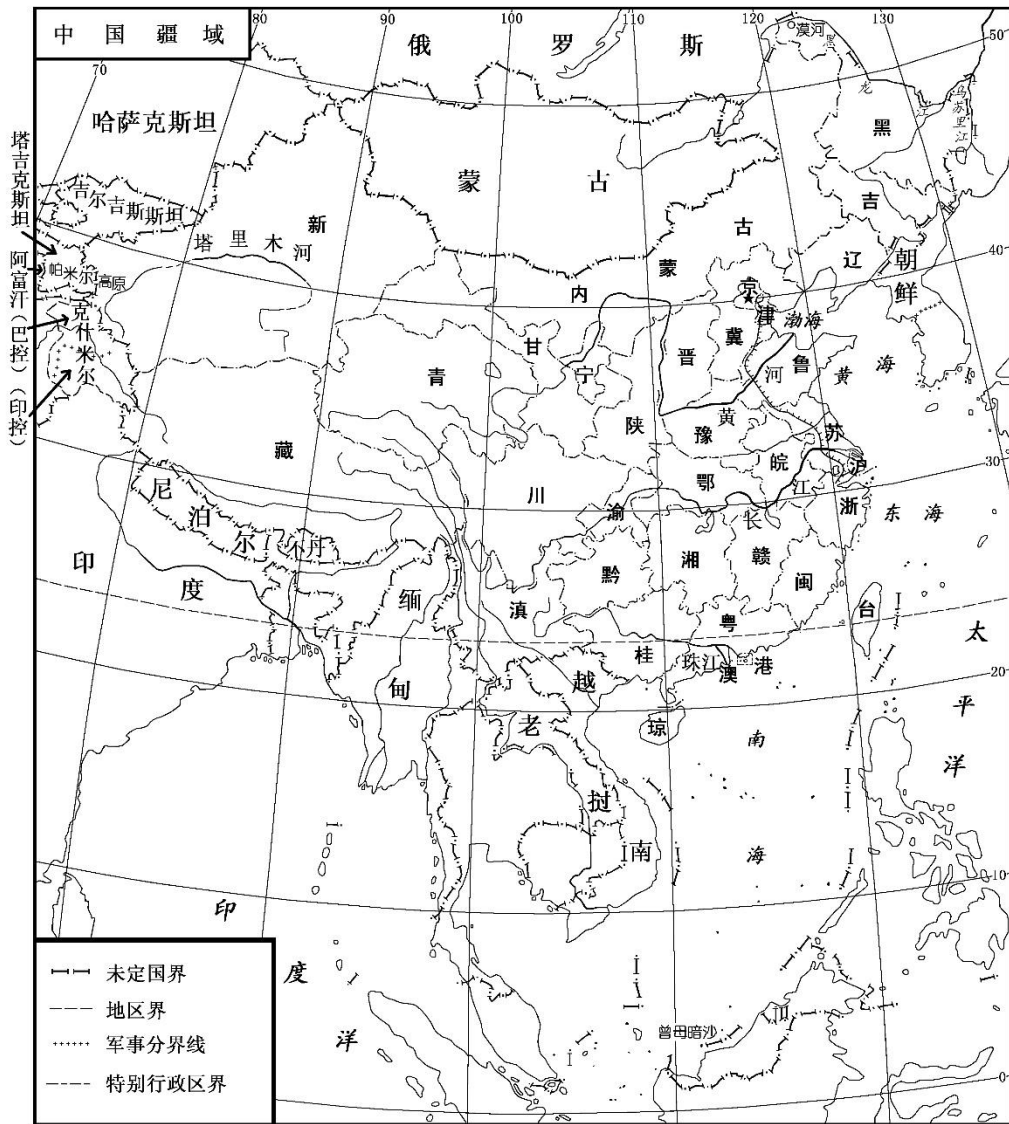


图 10 中国的疆域和行政区划

- (1) 介于中、俄之间的是_____（国），与辽宁接壤的邻国是_____。（2分）
- (2) 位于长江上游和下游的直辖市分别是_____和_____。（填全称 2分）
- (3) 中国大部分国土位于_____带，南部有一小部分国土位于_____带。（2分）
- (4) “齐鲁大地”和“蜀道难”分别与_____省和_____省有关。（填全称 2分）
- (5) 中国最大的岛是_____岛；东西跨经度最多的省区简称是_____。（2分）
- (6) 下列能说明我国是陆地大国有_____、_____。（选择填空，只填字母，2分）

A. 陆地面积约 960 万平方千米	B. 大陆海岸线长 18 000 多千米
C. 陆地国界线长 22 000 多千米	D. 东临渤海、黄海、东海、南海

29. (10分) 读图 11 回答下列问题。

- (1) 我国土地资源类型_____（多样或单一），耕地和林地所占比例_____（大或小）。（2分）

(2) 旱地与水田的分界线大致与1月_____℃等温线一致，还与_____毫米年等降水量线分布比较接近。

(2分)

(3) 草地主要分布在年降水量不足_____毫米的西部内陆地区，所以，该地区的农业生产以_____为主。(2分)

(4) 图中利用价值较低的土地类型是_____。(1分)

(5) 判断下列关于中国土地国策的说法是否正确，在正确说法后打“√”，错误说法后打“×”。(3分)

①为确保18亿亩耕地，凡建设用地占一亩耕地，就要在本县荒山陡坡开垦一亩耕地。

②应完全停止在耕地上修建铁路、公路等基础设施。

③北京郊区新建住宅小区应尽量使用原有村镇拆迁腾出的土地。

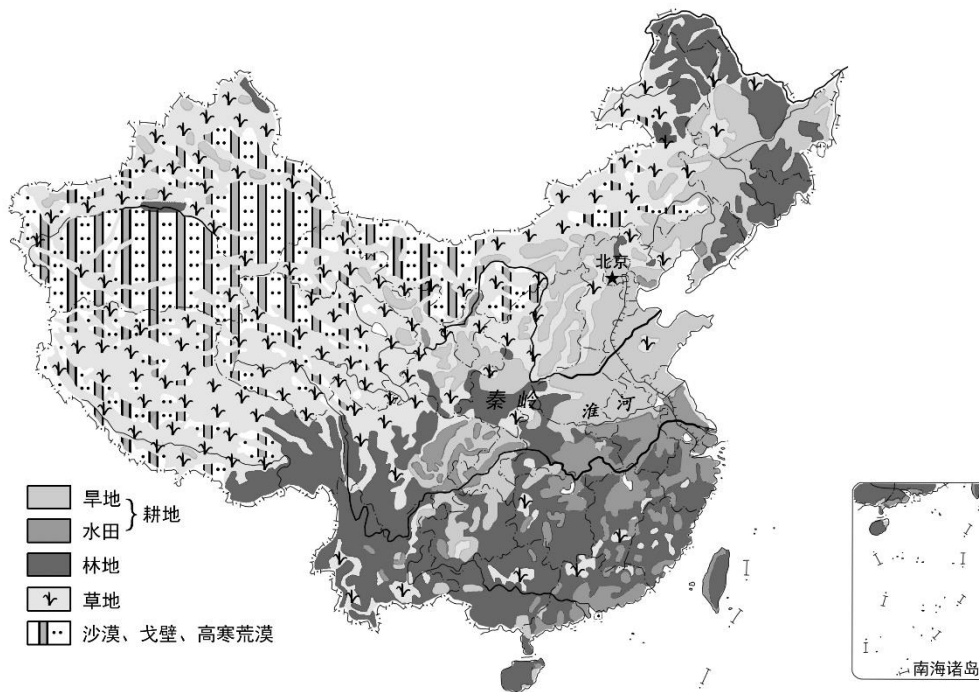


图 11 中国土地资源利用类型分布

2020 北京顺义初一（上）期末地理



参考答案

I. 评分标准

本试卷包括二道大题，满分为 100 分。每题具体分值参见试卷。

II. 参考答案

一、单项选择题（本大题共 25 道小题，每小题 2 分，共 50 分）

题号	1	2	3	4	5	6	7	8	9	10	11	12	13
答案	A	A	D	D	A	A	D	C	B	D	C	A	A
题号	14	15	16	17	18	19	20	21	22	23	24	25	
答案	C	C	A	B	C	A	D	C	B	B	C	D	

二、综合题（本大题共 4 道小题，共 50 分）

26. (14 分) (1) 略 (2) 6、7、8 夏 (3) 11、12、1、2、3 冬

(4) 6、7、8、9 多雨 (5) 11、12、1、2、3 少雨

(6) 北京的气候特征为：冬季寒冷干燥，夏季高温多雨。

(7) 漫天飞雪 天寒地冻（对错相抵，选对 2 个即可）

27. (14 分) (1) 大兴安岭 巫山 (2) 平原 丘陵

(3) A 点附近河段适合发电；因为 A 点附近河段处于我国地势第一、二级阶梯过渡地段河流落差大，水能丰富。

B 点附近河段适合航运，因为 B 点附近河段地处长江中下游平原，河流落差小，江阔水深，水流平稳。

(4) 5000 青藏高原

(5) ①地形多种多样，山区面积广大 ②地势西高东低，大致呈阶梯状

(6) 我国地势西高东低，有利于海洋湿润空气深入大陆内部，形成降水；使许多大河自西向东流入海洋，沟通东西方交通。

28. (12 分) (1) 蒙古 朝鲜 (2) 重庆市 上海市 (3) 北温 热

(4) 山东省 四川省 (5) 台湾 内蒙古 (6) A C

29. (10 分) (1) 多样 小 (2) 0 800 (3) 400 畜牧业

(4) 沙漠、戈壁、高寒荒漠 (5) ①× ②× ③√