

2017 北京房山区初二（下）期末

地 理



一、单项选择题（共 30 小题，每小题 1.5 分，共 45 分）。

1. 房山区主要粮食作物有

- ①小麦 ②玉米 ③葡萄 ④柿子

- A. ①② B. ③④ C. ①③ D. ②④

2. 房山区主要货运方式有

- ①公路运输 ②铁路运输 ③水路运输 ④航空运输

- A. ①② B. ③④ C. ①③ D. ②④

继深圳经济特区和上海浦东新区之后，2017 年中央政府决定设立雄安新区，集中疏解北京非首都功能，雄安新区将建成国际一流、绿色、现代、智慧城市。读图 1，回答 3~5 题。

3. 雄安新区位于

- A. 唐山市 B. 北京市
C. 天津市 D. 河北省

4. 与深圳经济特区和上海浦东新区相比，雄安新区

- ①基础设施完善 ②人口密度较大
③土地价格较低 ④发展潜力较大

- A. ①② B. ①③
C. ②③ D. ③④

5. 雄安新区的发展将会使北京

- A. 生态环境压力减轻 B. 城市人口数量越来越多
C. 第二产业比重增大 D. 环境污染加重



图 1

读图 2 “亚洲大陆沿 30° N 的地形剖面图”，回答 6~8 题。

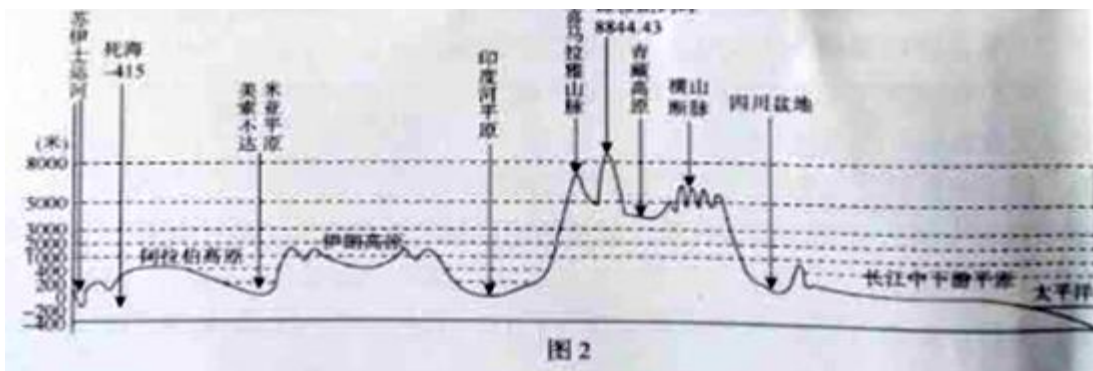


图 2

6. 根据图中的信息，叙述正确的是



A. 海拔最高点是青藏高原 B. 长江中下游平原海拔为 200 米

C. 海拔最低点为四川盆地 D. 最高海拔在 8000 米以上

7. 亚洲有“地球之巅”珠穆朗玛峰和世界陆地表面的最低处死海湖面，说明亚洲的地形具有的特征是

A. 平均海拔高 B. 平均海拔低

C. 地形复杂多样 D. 地势起伏大，高低悬殊

8. 受地势影响，亚洲大江、大河的流向特征是

A. 仔细向东流 B. 自中部流向四周

C. 自南向北流 D. 自东向西流

9. 下列关于亚洲气候特点的叙述，正确的是

①气候复杂多样 ②气候类型作南北对称分布

③季风气候显著 ④温带大陆性气候分布广

A. ①②③ B. ①③④ C. ①②④ D. ②③④

图 3 为东南亚“中南半岛地形图”。读图，回答 10~12 题。

10. 根据河流的分布和流向，可以看出中南半岛的地形特点是

A. 地形以高原为主

B. 山脉多南北走向

C. 河流上游多平原

D. 地势为东高西低

11. 中南半岛的城市分布在河流沿岸，主要是因为

①水能丰富 ②水运便利

③地形平坦 ④靠近水源

A. ①②③ B. ①②④

C. ②③④ D. ①③④

12. 中南半岛大量出口的农产品是

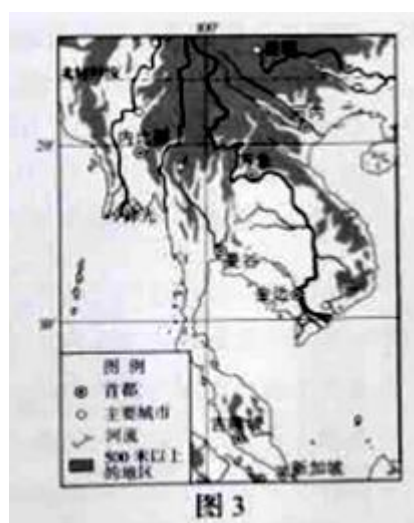
A. 油菜 B. 棉花

C. 天然橡胶 D. 牛肉

13. 世界上外籍华人和华侨分布最集中、人数最大的地区是

A. 美国和加拿大 B. 东南亚地区

C. 欧洲西部地区 D. 澳大利亚和新西兰



西亚被称为“世界石油宝库”，图 4 显示了西亚石油资源的分布和主要输出线路，读图，回答 14~16 题。

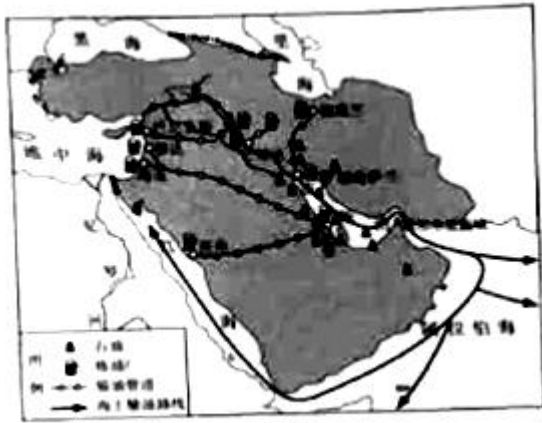


图 4

14. 西亚的石油资源集中分布在

- A. 波斯湾及其沿岸
- B. 地中海及其沿岸
- C. 红海及其沿岸
- D. 黑海及其沿岸

16. 西亚是全世界关注的热点地区，其原因有

- ①是东西方交通枢纽，战略位置重要
- ②有丰富的铁矿，各国争夺铁矿资源
- ③水资源匮乏，在分配上各国存在矛盾
- ④宗教文化巨大差异，存在冲突危机

- A. ①②③
- B. ②③④
- C. ①③④
- D. ①②④

读图 5，“欧洲各国墙壁厚度的变化”，回答 17、18 题。

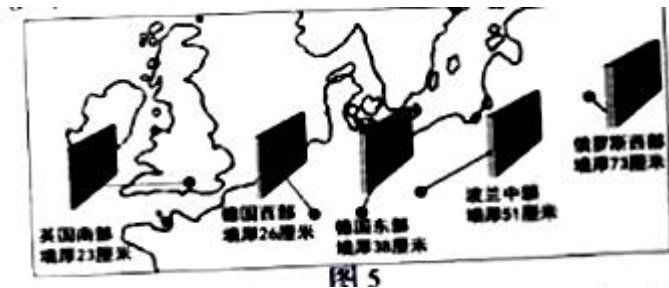


图 5

17. 从欧洲各国传统名居中青碧厚度变化可以看成，这里的气候自西向东


- A. 降水量逐渐减少
- B. 大陆性逐渐增强
- C. 昼夜温差逐渐变小
- D. 海洋性逐渐增强

18. 造成这种差异的主要因素是

- A. 人工造林
- B. 纬度位置 海陆位置
- C. 地形起伏
- D. 地形起伏

明明寒假期间去英国的学校交流学习，他认真记下沿途见闻。据此完成 19、20 题。

19. 下列记录中不可能出现的是

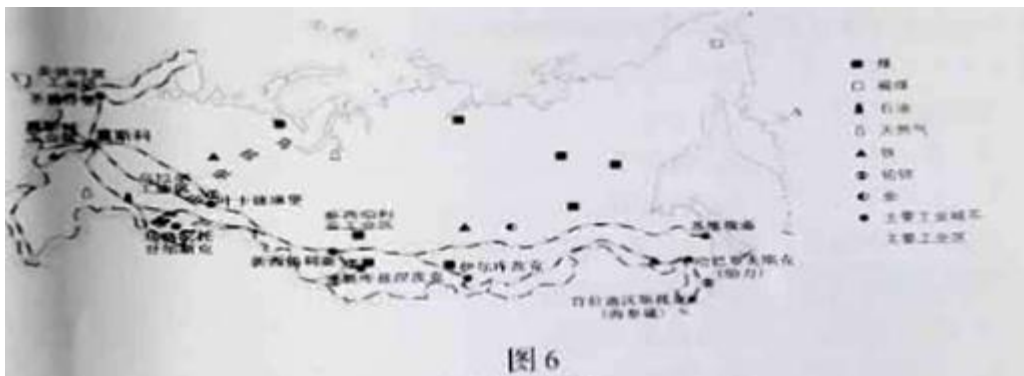


20. 英国属于欧洲西部，该地区的特点有

- ①以发展中国家为主
- ②以自然资源为主
- ③人口稠密
- ④工业发达

- A. ①②
- B. ②③
- C. ①④
- D. ③④

2013年3月22日至3月24日，国家主席习近平访问了俄罗斯。读图6“俄罗斯矿业、工业区和铁路分布”图，完成21、22题。



21. 俄罗斯境内划分欧洲部分和亚洲部分的分界线是

- A. 伏尔加河
- B. 中西伯利亚高原
- C. 叶尼塞河
- D. 乌拉尔山

22. 俄罗斯铁路

- A. 以莫斯科为最大枢纽
- B. 分布均匀
- C. 分布在西部
- D. 分布在南部

23. 关于俄罗斯矿产资源和工业的叙述，正确的是

- A. 工业发展的基础条件较差，工业生产落后
- B. 矿产资源少，工业生产的原料、燃料匮乏
- C. 工业集中分布阿走四大工业区
- D. 轻工业、核工业和航天工业最为突出

24. 俄罗斯和中国有密切的贸易往来，俄罗斯出口到中国的商品中最可能有

- A. 石油、服装
- B. 煤炭、稻米
- C. 木材、石油
- D. 有色金属、玩具

因纽特人，是指北极地区的土著民族，大部分居住在格陵兰，美国、加拿大和俄罗斯的北极圈以北地区，狩猎是因纽特人的传统生活方式，表1示意因纽特人传统狩猎活动的相关信息。读表，回答25~27题

表1

季节	主要猎物	狩猎方式	说明
春季（4，5月）	贻贝、鲨鱼、海豹	人为进入冰面下的传统垂钓+鲸鱼肉诱饵	贻贝用于改善伙食
夏秋季（6-9月）	海雀等鸟类、鳕鱼、独角鲸、海豹、北极狐、驯鹿	捕鸟网（动物蹄筋制）渔网（鲸鱼筋制）刃具（鱼骨制）	从独角鲸皮下脂肪获取维生素 C1 储存过冬食物
冬季（10月-次年3月）	海豹	凿冰诱捕	主要食物是夏、秋季贮藏的肉类

25. 因纽特人生活的北极圈以北地区是指

- A. 60° 以北地区
- B. 66.5° N 以北地区
- C. 66.5° N 以南地区
- D. 66.5° S 以北地区

26. 因纽特人生活的北极地区的季节特点是

- A. 春季持续 4 个月的时间
- B. 夏秋季最短
- C. 冬季最长
- D. 无季节变化

27. 有关因纽特人传统狩猎生活的说法，正确的是

- A. 夏秋季是主要狩猎季节，以捕食贻贝为主
- B. 就地取材，大部分狩猎工具材料取自动物
- C. 次年 2 月，狩猎种类丰富，进行传统垂钓
- D. 肉类是主要食物，维生素 C 取自绿色蔬菜

28. 巴西的热带雨林具有巨大的环境效益和经济效益，其中属于经济效益的是

- A. 涵养水源
- B. 调节全球气候
- C. 维护生物多样性
- D. 提供木材、药材

29. 开发亚马孙河流域热带雨林的正确做法是

- A. 刀耕火种，发展农业
- B. 严禁采伐，全面保护
- C. 科学规划，合理利用
- D. 全部采伐，重新栽种

30. 图 7 展示了甲、乙两个国家独特的种族构成和文化，这两个国家分别是



- A. 美国、巴西
- B. 美国、俄罗斯
- C. 巴西、俄罗斯
- D. 澳大利亚、印度

二、非选择题。(55分)

31. 读图结合所学，指出下面一段文字中五处地理知识方面的错误，并抄写在后面的横线位置。(55分)

第35届达喀尔拉力赛于2013年1月5日~1月20日在南美洲举行，选手驾车从利马出发，穿越长距离的沙漠和山地，途径8000多千米，最后抵达圣地亚哥。



图8 第35届达喀尔拉力赛线路示意图

拉力赛线路从秘鲁首都利马，由北到南经过了巴西、智利、阿根廷，最后到达智利的首都圣地亚哥。图中A至B赛段经过阿尔卑斯山脉，该山脉大致呈南北走向，是世界上最长的山脉。从利马出发，选手途径了世界上最狭长的荒漠带，该荒漠带属于热带沙漠气候，该荒漠带狭长分布的主要影响因素是纬度位置。比赛进行期间，智利正处于冬季。巴西是南美洲国土面积最大的国家，首都巴西利亚由于地处低纬度且位于巴西高原等原因，气候四季如春，终年繁花似锦。2016年夏季奥运会在这座城市举办。全世界人民都希望巴西着重保护的自然资源热带雨林。

32. 阅读下列图文资料，完成下列表格。(8分)

丝绸之路经济带是在“古丝绸之路”的概念基础上形成的一个新的经济发展区域。图9为古丝绸之路在中国境内示意图。读图，完成下列表格。



图9

读图，完成表格中“丝绸之路”所涉及的我国部分省级行政区的全称、简称或行政中心的名称。(8分)

	1	2	3	4
全称			青海省	
简称	新	甘或_____		陕或_____
行政中心		兰州		西安

33. 读图 10、11 和资料，完成下列各题。(10分)

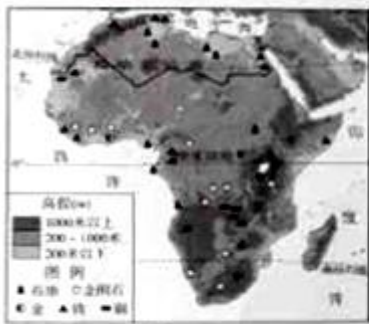


图10

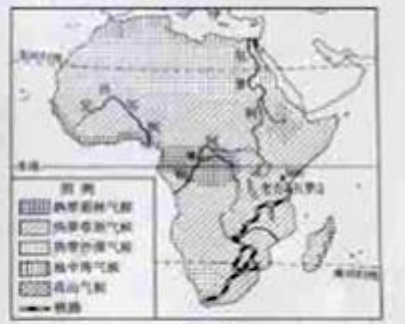


图11

- (1) 非洲大陆轮廓较为完整，海岸线比较_____，海湾、岛屿和半岛很少。
- (2) 非洲大陆以_____地形为主，地势特点的_____。背部有世界上最大的_____沙漠。
- (3) 通过学习我们知道大多数河流的流量与流经地区降水量密切相关。据此判断，图 11 三条河流中，流量最大是_____河。
- (4) Sahara以南非洲的气候特点是 ()

A. 均位于南北回归线之间的热带	B. 有世界最大的热带雨林气候区
C. 高山和高原气候面积最广大	D. 以赤道为中线呈南北对称分布

随着毕淑敏的有机《非洲三万里》畅销，越来越多的人知道“非洲之傲”列车。线路如图 11 所示

- (5) 铁路线穿过地区大多数居民属于_____人种。
- (6) “非洲之傲”线路北段行驶在我国援建的赞铁路上，能建该铁路最初是为了解决沿线_____矿石出口的问题。至今，热带经济作物和矿产资源仍是非洲的主要出口产品。
- (7) 茅草屋是非洲南部热带草原的典型民居，如图 12 所示，一般用树枝、木棍构架，房顶铺茅草。试着分析茅草屋与周围自然环境的关系。(任选两点即可)

34. 读图文材料，完成下面问题。（10分）

2013年的8月8号，中远集团“永盛”轮从大连港出发，沿途破冰雨、迎寒风、冲激流、试水北极航道成功到达欧洲。图13为“北极航道和传统航道示意图”。



(1) 传统航道线路：大连→中国黄海、东海→_____海峡→_____海峡→印度洋→红海→_____运河→地中海→_____海峡→大西洋→鹿特丹港。

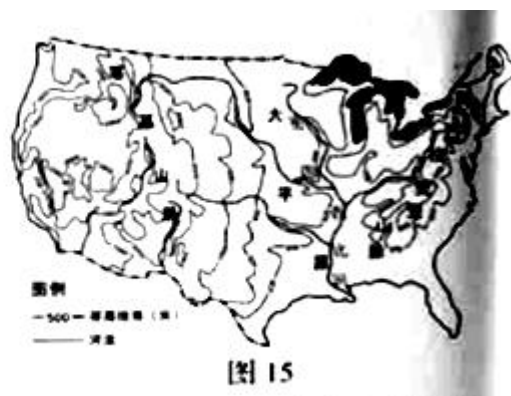
(2) 北极航道大部分位于_____（国家）北部沿海的_____洋海域。“永盛”轮选择8月出发的原因是_____。

(3) 下列国家因北极航道的开通，受益最大的是（ ）（选择填空）

- A. 日本—澳大利亚
- B. 中国—英国
- C. 印度—巴西
- D. 美国—加拿大

(4) 随着航道的通航，北极地区面临进一步的开发，请提出你的建议。（提示：可以从开发方向、开发中注意的问题等角度，至少提出两条）

35. 读图14美国本土农业带类型分布图和15美国本土地形图及文字资料。回答下列问题。（10分）



美国的农业生产充分利用不同地区的自然条件，实现了地区生产的专业化，形成了农业带。

乳畜带：分布在美国东北部五大湖附近，气候温凉，热量条件差，适宜牧草生长；这里人口稠密，经济发达、城市众多，对乳畜产品的需求量大，是乳畜业的主要分布地区

玉米带：分布在美国中央大平原，地形平坦开阔，土壤肥沃、气候温和湿润，密西西比河和五大湖，提供充足水



源；这里地广人稀，交通便利，农业技术先进，机械化水平高农业产业大，商品率高。

(1) 读图 14，根据资料判断图中 B 所代表的农业名称是_____。

(2) 影响美国乳畜带分布的主要自然条件是 ()

- A. 高温多雨的气候
- B. 气候温凉，适宜牧草的生长
- C. 土壤贫瘠，不利于种植业的发展
- D. 附近城市和人口分布密集

(3) 美国农业专业化生产的好处有 () (可多选)

- A. 便于机械化生产
- B. 提高农业生产效率
- C. 提高农业商品率
- D. 可以缓解人多地少的矛盾

(4) 为了方便农产品的运输，拟修建 CD 和 CE 两段高速公路，你认为工程量较大的是_____段，理由是_____，_____。

(5) 美国东北部地区工业发达，利用途中信息，从资源和交通两方面说明其原因：

资源优势_____。

交通优势_____。

36. 日本和澳大利亚是近年来中国出境游的热门目的地。读图 16，回答下列问题。(12 分)

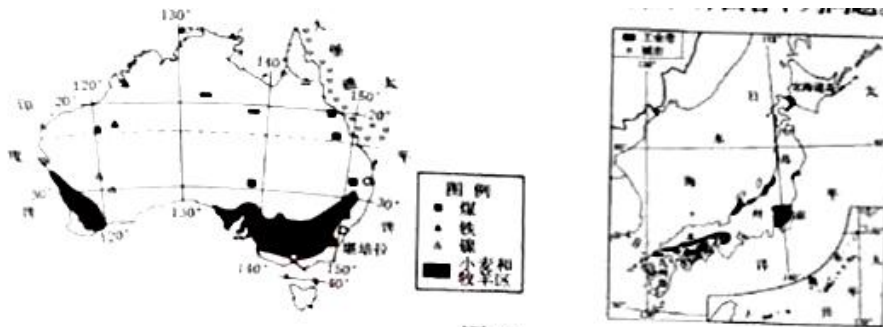


图 16

- (1) 两国都四面环海，但澳大利亚独占一个大陆，日本则附属于_____国家。
- (2) 受纬度位置影响，当日本本州岛的樱花凋谢时，四大岛中的_____赏樱活动正当时。
- (3) 两国经济上都属于_____国家，重要的港口城市都分布在_____洋沿岸。
- (4) 对比澳大利亚、日本两国的社会经济差异，完成表 2。

表 2

比较项目	澳大利亚	日本
面积、人口状况	地广人稀	低_____人_____
农业发展不利条件	大部分地区气候干燥	平原小、_____少
工业发展特点	矿产品出口国	原料_____，成品出口
特色旅游活动	游览_____	_____、赏樱花
别称	_____	日出之国