



# 东城区 2020 届初三第一学期期末考试

## 历史试卷

本试卷共 12 页，共 90 分。考试时长 90 分钟。考生务必将答案答在答题卡上，在试卷上作答无效。考试结束后，请将答题卡交回。


一、选择题(共 30 小题，每小题 1.5 分，共 45 分。在每小题所列的四个选项中，只有一项符合题目要求)

1. 北京西山永定河文化带蕴含了丰富的历史资源，其中就包括以周口店龙骨山猿人遗址为代表的考古文化，曾在此生活过的早期人类有

- ①元谋人    ②半坡人    ③北京人    ④山顶洞人

- A. ①②    B. ②④    C. ③④    D. ①③

2. 同学们搜集了以下图片资料，请判断它们可共同用于研究



良渚遗址的石犁



春秋战国时期的铁制农具



唐朝的曲辕犁和筒车



- A. 原始农业的兴起    B. 传统犁耕的演变

- C. 金属冶炼的发展    D. 农业工具的进步

3. 《汉书》记述：“汉家承秦之制，并立郡县，主有专己之威，臣无百年之柄。”下列属汉承秦制的有

- ①皇帝制度    ②分封制    ③郡县制    ④三省六部制

- A. ①②    B. ①③    C. ①④    D. ③④

4. 成语“一衣带水”出自《南史·陈纪下》。隋文帝对宰相高颀(jiǎng)说：“我为百姓父母，岂可限一衣带水不拯之乎？”之后隋文帝于 589 年

- A. 定都长安，发展经济    B. 创立进士科，选拔人才

- C. 灭掉陈朝，统一全国    D. 开凿大运河，贯通南北

5. 唐太宗是我国古代一位有作为的君主。下列言论体现他“以民为本”思想的是

- A. 明主之任人，如巧匠之制木

- B. 治安之本，唯在得人。为政之要，唯在得人

- C. 以古为镜，可以知兴替；以人为镜，可以明得失

- D. 舟所以比人君，水所以比黎庶，水能载舟，亦能覆舟

6. 若将“宋代经济发展”这一内容进行分类梳理。下面①处可填



第一类：定窑 汝窑 ①
第二类：早市 夜市 草市
第三类：广州 明州 泉州


- A. 指南针      B. 景德镇      C. 市舶司      D. 交子

7. 从下表材料能够归结出元曲与京剧的共同之处是

元曲	京剧
元曲包括散曲、杂剧和南戏等。元曲原本来自所谓的“蕃曲”“胡乐”，在北方民间流传。随着元朝建立。元曲逐渐融合各种表演艺术形式，先后在大都和临安为中心的南北广袤地区流传开来。	京剧源于清初流行于江南地区的徽班。徽班流动性强，与昆曲、秦腔、京调、汉调等互有交流渗透。四大徽班进京后，逐渐形成京剧，受到皇室的扶持以及群众的喜爱，得以流传四方。

- A. 伴随经济重心的南移而产生      B. 古代科技进步提供重要条件  
C. 只为满足皇室贵族精神需求      D. 国家统一促进文学艺术发展

8. 下面是收藏于中国国家博物馆的明代《皇都积胜图》(局部)，它再现了明中后期北京城的繁盛景况。明代北京城的建筑中堪称当时世界上最宏大、最辉煌的皇家建筑群是



- A. 鼓楼      B. 太庙      C. 天地坛      D. 紫禁城

9. 时空观念是理解历史的基础。以下历史事件与其发生的时间和地点搭配正确的是

序号	历史事件	发生时间	发生地点
①	陈胜、吴广起义	秦末	大泽乡
②	岳家军打败金军	北宋	郾城
③	朱元璋废除丞相	明初	应天府
④	雍正设立军机处	清朝	京师

- A. ①②③      B. ①③④      C. ②③④      D. ①②④

10. 下列文物按其所属朝代的先后顺序排列正确的是



① 青瓷莲花尊



② 开元通宝



③ 兵马俑



④ 锦衣卫印

A. ①②③④

B. ②①③④


C. ③①②④

D. ④③①②

11. 以下两张图片最有可能出现在



三元里抗英画作



《南京条约》文本



A. 鸦片战争纪念馆

B. 西安事变纪念馆

C. 抗日战争纪念馆

D. 渡江战役纪念馆

12. 毛泽东指出：“自从 1840 年鸦片战争失败那时起，先进的中国人，经过千辛万苦，向西方国家寻找真理。洪秀全、康有为、严复和孙中山，代表了在中国共产党出世以前向西方寻找真理的一派人物”，其中康有为主张

A. 变法图强

B. 创立民国

C. 民主科学

D. 以俄为师

13. 东交民巷在近代曾是著名的使馆区，先后有英国、法国、美国等多国在这里设立使馆。将东交民巷划为使馆界源于

A. 《天津条约》

B. 《北京条约》

C. 《马关条约》

D. 《辛丑条约》

14. 右侧对联是为庆祝某重大历史事件而作。此事件应为

A. 太平天国运动

B. 义和团运动

C. 辛亥革命

D. 五四运动

厥功首功， 武昌响， 长沙应	今日何日， 专制死， 自由生
----------------------	----------------------

15. 中国近代报刊的发展，深刻影响着人们的日常生活。下列报刊中为近代中国存在时间最长的中文报纸是

A. 《民报》

B. 《申报》

C. 《新青年》

D. 《时务报》

16. 看下面的学习笔记，发表这些文章的是中国马克思主义思想传播的先驱，他在中华大地上第一次高高举起了马克思主义的旗帜。他是

- \* 1918 年发表《庶民的胜利》
- \* 1918 年发表《布尔什维主义的胜利》
- \* 1919 年发表《我的马克思主义观》

A. 陈独秀

B. 毛泽东

C. 李大钊

D. 周恩来

17. 下列各组词语中能够最恰当表达中国共产党诞生意义的是

A. 思想自由、兼容并包

B. 开天辟地、焕然一新

C. 生死枚关、走向成熟

D. 完全胜利、民族觉醒

18. 右图是某次战争形势示意图的局部。这场战争

- A. 推翻了清王朝的统治
- B. 推翻了北洋军阀的统治
- C. 使中国革命转危为安
- D. 标志中国全民族抗战开始



19. 江西被誉为“红土地”，全省分布着大量的革命胜迹。若想更好地了解江西的红色文化，可以前往参观的目的地有

- ①瑞金      ②井冈山      ③南昌      ④遵义
- A. ①②③      B. ①②④
- C. ②③④      D. ①③④

20. 一位同学以“中国共产党在全民族团结抗战中发挥了中流砥柱作用”为题进行问题探究，下列选项能为其探究活动提供材料依据的有

- ①上海守军奋起抗击日军的照片      ②百团大战示意图
- ③中共七大会议代表证      ④毛泽东的文章《论持久战》
- A. ①②③      B. ②③④      C. ①②④      D. ①③④

21. 1945年，在毛泽东回到延安的欢迎晚会上，张治中将军发表感想说：“毛先生此去重庆，造成了普遍的最良好的印象。”材料中所说的毛先生去重庆的目的是

- A. 促成国共两党第一次合作      B. 建立抗日民族统一战线
- C. 为了尽一切可能争取和平      D. 要求停止内战、联合抗日

22. 右图景观所在地曾是中共中央所在地，党中央和毛主席在此指挥了辽沈战役、淮海战役、平津战役三大战役。三大战役的胜利

- A. 消灭了国民党军队主力
- B. 结束了国民党在大陆的统治
- C. 粉碎了国民党的重点进攻
- D. 揭开人民解放军战略进攻的序幕



23. 1949年10月1日，中华人民共和国成立。下列事件巩固了新生的人民政权的是

- A. 第一颗原子弹爆炸成功      B. 进行抗美援朝战争
- C. 正式加入世界贸易组织      D. 中共十四大的召开

24. 2019年，庆祝中华人民共和国成立70周年大型成就展开幕。下列纪念邮票反映“一五计划”成就是



长春第一汽车制造厂  
生产的解放牌汽车

A



500 米口径球面  
射电望远镜

B



南水北调工  
程开工纪念

C



高速铁路  
发展成就

D



25. 改革开放以来，我国形成了“全方位，多层次，宽领域”的对外开放格局，对此格局表述正确的是

- A. 经济特区——沿海开放城市——内地——沿海经济开放区
- B. 内地—经济特区——沿海经济开放区——沿海开放城市
- C. 沿海开放城市——内地——沿海经济开放区——经济特区
- D. 经济特区——沿海开放城市——沿海经济开放区——内地

26. 习近平赴兰考调研时指出，他是县委书记的榜样，他的精神同井冈山精神、延安精神、雷锋精神等革命传统和伟大精神一样，过去是、现在是、将来仍然是我们党的宝贵精神财富，我们要永远向他学习。他是

- A. 黄继光
- B. 钱学森
- C. 焦裕禄
- D. 王进喜

27. 下表数据变化反映了我国人民生活水平不断提高。由此能够联想到 1978 年开启了我国

项目	1978 年	2018 年
城镇居民人均可支配收入	343 元	39251 元
城镇居民人均消费支出	311 元	26112 元

- A. 社会主义工业化建设时期
- B. 全面建设社会主义时期
- C. 改革开放和社会主义现代化建设新时期
- D. 中国特色社会主义新时代

28. 1955 年万隆会议上，周恩来面对复杂的局面，以卓越的外交才能挽狂澜。针对帝国主义的破坏阴谋和各国间的矛盾，他提出的外交方针是

- A. 公道正义
- B. 求同存异
- C. 开放创新
- D. 合作共赢

29. “搏击长空心向党，飞行万里不迷航”“空天铸忠魂，阔步新征程”。这些诗句描绘的是中国人民解放军的

- A. 陆军
- B. 海军
- C. 空军
- D. 火箭军

30. 2019 年被授予“共和国勋章”，60 多年来致力于中医药研究，发现青蒿素，为人类健康事业作出巨大贡献的人物是

- A. 屠呦呦
- B. 邓稼先
- C. 杨利伟
- D. 王淦昌

二、非选择题(共 4 )1, 题, 31 题 12 分, 32 题 11 分, 33 题 10 分, 34 题 12 分, 共 45 分)

31. (12 分)改革促进社会发展。

材料一

- ①奖励军功，发展武备，平民可因军功拜爵。
- ②普遍推行县制，其官员受君主任免，集权于朝廷。
- ④ 废井田，开阡陌。奖励耕织，生产粟帛多者，免除其本身徭役。

(1)战国时期各国变法中，秦国的商鞅变法成效最大。材料一所列商鞅变法的措施中提高了军队战斗力的是\_\_\_\_，有利于经济发展的是\_\_\_\_\_。(填写序号，2 分)

材料二 商鞅虽死，但新法在秦长期行用并取得显著成效，改革的趋势已不可逆转……秦国亦因而得以长期保持强盛的国力，最终完成统一大业。

——摘自张帆《中国古代简史》



(2) 依据材料二，分析“商鞅虽死，但新法在秦长期行用”的主要原因。(2分)

材料三 从1861年曾国藩创建“安庆内军械所”仿制洋枪洋炮开始，到1890年创办湖北枪炮厂为止，洋务派先后创办了19个兵工厂……这些军事工业是中国最早出现的近代机器工业，它是中国现代工业的起步。其所训练的人才均为日后中国工业发展的生力军。

——摘自章开沅、朱英《中国近现代史》

(3) 材料三体现了洋务派的什么主张?(1分) 依据材料三及所学，指出洋务运动在中国近代历史发展进程中的作用。(1分)

材料四

<p style="text-align: center;">A</p>	<p style="text-align: center;">B</p>	<p style="text-align: center;">C</p>
<p>1951年青海民和县川口区磨沟村雇农冶金财第一次在自己分得的土地上劳动。</p>	<p>1954年湖南省花垣县张生荣农业生产合作社正式成立，社员们挑肥上山。</p>	<p>1984年山东牟平县水道镇一个农户将责任田收获的玉米挂在自家的树上。</p>

(4) A、B、C三幅照片展现了新中国成立后我国农村的改革之路，从其中任意选择一幅，结合所学，说出与照片场景相关联的历史事件及其意义。(3分)

材料五几千年前，中华民族的先民们就秉持“周虽旧邦，其命维新”的精神，开启了缔造中华文明的伟大实践。自古以来，中国大地上发生了无数变法变革图强运动，留下了“治世不一道，便国不法古”等豪迈宣言……正是这种“天行健，君子以自强不息”“地势坤，君子以厚德载物”的变革和开放精神，使中华文明成为人类历史上唯一一个绵延5000多年至今未曾中断的灿烂文明。

——习近平《在庆祝改革开放40周年大会上的讲话》(2018年12月18日)

(5) 习近平在上面的讲话中指出中华民族以怎样的精神创造了灿烂的中华文明?(1分)

从上述五则材料中任意选取一例，谈谈你对这种精神的认识。(2分)

32. (11分) 引进·接纳·推广

材料一

汉代以来引进中国的重要作物时空表(部分)

作物	引进的时间	首先引种的地区	原产地
苜蓿、葡萄、石榴、胡桃、胡豆、胡瓜、胡麻、胡葱、胡荽(香菜)、胡萝卜	公元前2世纪	西北地区	中亚、西亚

——蓝勇《中国历史地理学》

文明的进步，通过交通条件可以充分地扩大影响，传播文化，同时能够促进对其他地域和其他民族文化的吸收，为本民族本地域文化注入新的血液。文化传播是一个双向过程。中国的丝绸，改变了西方人的穿着；而西域的物产音乐，也改变着中国人的日用习惯和音乐风格。

——《中国历史十五讲》

(1) 依据材料一并结合所学，判断上表中的作物是通过什么途径引入中国的？这条道路因何闻名世界？(3分)

材料二《农政全书》曰：“今番薯扑地传生，枝叶极盛……闽、广人赖以救饥，其利甚大。”嘉庆《汉中府志》说：“数十年前，山内秋收以粟谷为大宗。粟利不及包谷，今日遍山漫谷皆包谷矣。”


——《试述美洲粮食作物对中国粮食生产土地开发和人口再生产的影响》

明清时期，大量对环境适应能力强而又高产的美洲作物引入中国，使得先前难于利用的荒山、丘陵、滩涂得以开发，从而增加了粮食生产的面积和产量。

——《中华农业文明的融合与再生》

(2) 说出材料二所述明清时期引入中国的美洲作物各是什么？它们有何共同优点？给明清时期的农业生产带来什么影响？(3分)

材料三



《飞影阁画报》别饶风味

1893年《沪游梦影》一书描述中国人自办的西餐馆：向时华人鲜过问者，近则裙屐少年，巨腹大贾，往往携姬挈眷，异味争尝，亦沾染习俗之一端也。19世纪六七十年代，在上海租界也有了不少外国酒居、咖啡馆。1895年张裕酿酒公司成立，致函美国采办有根葡萄秧，购地栽种，所制葡萄酒国内销路甚广，且大量出口南洋各地。


——邹振环《西餐引入与近代上海城市文化空间的开拓》



(3) 上面图文材料从哪个角度反映了中国近代社会生活的变化？(1分) 具体有什么表现？(2分)

材料四

**具有世界影响力的中国人**



**袁隆平**  
中国杂交水稻研究创始人

美国媒体：袁隆平使一半中国人的饭碗里装满了珍珠般的高产稻米。

俄国媒体：在袁隆平的努力下，亚洲水稻产量大幅提高，解决了粮食短缺问题。他的杂交水稻技术目前已被推广到20多个国家。

(4) 上图是一位同学制作的历史小报，依据图中信息及所学，说说看袁隆平对中国及世界作出的杰出贡献。(2分)

33. (10分) 艺海品史。



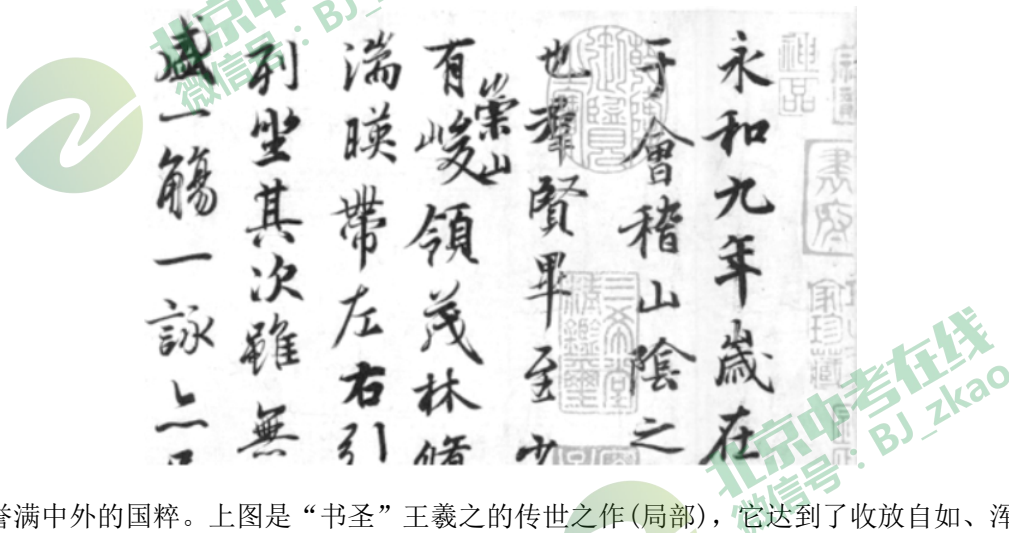
【青铜瑰宝】



文物名称:西周董鼎(及其铭文)  
 出土地点:北京房山区琉璃河镇  
 馆藏地点:北京首都博物馆  
 文物简介:北京地区出土青铜礼器中体形最大、最重的一件,代表着北京地区青铜文化发展的最高水平。  
 文物欣赏:董鼎器身上的兽面纹庄重大方、凝重安稳。内壁铭文文书体清秀俊美,结构严谨精到,记载了做器者董受匭侯委派,前往宗周向太保进献食物之事。

(1) 依据图文材料及所学, 归纳西周董鼎的工艺价值及史料价值。(2分)

【国粹精华】



(2) 书法艺术是誉满中外的国粹。上图是“书圣”王羲之的传世之作(局部), 它达到了收放自如、浑然天成的境界。说出此作品的名称及在中国书法艺术史上的地位。(2分)

【电影经典】



①



②



③



④



⑤



⑥

① 《林则徐》

② 《甲午风云》

③ 《四渡赤水》

④ 《血战台儿庄》

⑤ 《铁道游击队》

⑥ 《建国大业》





(3)从①和④两部电影中任意选择一部。仿照示例写出它所反映的历史事件及其意义。(3分)

示例:⑤《铁道游击队》

历史事件:中国共产党领导敌后根据地军民展开人民游击战争。

意义:使日军攻防无措、疲于奔命、不得安宁,敌后战场与正面战场相互配合,构成中国抗日战争的整体。

(4)从以上六部电影中任意选择组合。(A、C两项至少2个以上)将下表补充完整。(3分)

	序号	主题
组合1	___A___	中国共产党领导人民进行新民主主义革命
组合2	④⑤	___B___
组合3	___C___	中国近代史上反抗外来侵略的斗争

34. (12分)记忆与认同。

材料一



唐朝阎立本《步辇图》

历代和亲,盛莫过于汉、唐,而唐代比之汉代又有所不同。汉代和亲对象只有匈奴与乌孙,唐则与吐谷浑、突厥、契丹、回纥等民族都有联姻;汉出嫁者都是宗室女或宫女,唐代的宁国、咸安、太和公主却是“天子真女”,这说明唐代和亲在广度和深度上都比汉代有发展。

—摘自马大正《中国边疆经略史》

(1)依据材料一,说出与《步辇图》相关的唐朝与吐蕃和亲的史实。概括唐代的民族关系有何特点。(2分)

材料二



①金奔巴瓶

中秋日闻海上佳音  
康熙(1683年)  
万里扶桑早挂弓,  
水犀军指岛门空。  
来庭岂为修文德,  
柔远初非黩武功。  
牙帐受降秋色外,  
羽林奏捷月明中。  
海隅久念苍生困,  
耕凿从今九壤同。

②



③康熙平定噶尔丹纪功碑

(2)依据材料二并结合所学,将①——③内容与下面的史实进行合理搭配(填写序号)。并概括清朝采取这些措施有何意义。(4分)

台湾归入清朝版图\_\_\_\_\_清朝有效管辖西藏\_\_\_\_\_清朝巩固西北边疆\_\_\_\_\_

材料三



**人民日报**

国务院发布第221号令  
公布香港特别行政区行政区域图

中华民族永披光明的盛事 世界和平正义事业的胜利  
**中英香港政权交接仪式在港隆重举行**

江泽民主席庄严宣告中国政府对香港恢复行使主权  
李鹏总理等中国政府代表团成员及英国查尔斯王子希蒙尔公爵等出席交接仪式



①

**人民日报**

习近平同马英九会面  
**跨越66年的握手**



2015年中共中央总书记、国家主席习近平同台湾方面领导人马英九在新加坡会面。

②

**重庆时报**

3·1 厦门国门神扑杀美籍篮

**青藏铁路全线通车**



③

**共同纲领**

1949年通过的《中国人民政治协商会议共同纲领》第五十一条：各少数民族聚居的地区，应实行民族的区域自治。



④

(3) 依据材料三并结合所学，归纳上面四幅新闻报道反映的共同主题。(1分) 任选其中一则报道加以说明。(2分)

材料四



圆明园马首铜像，为清代圆明园十二生肖兽首喷泉主要构件之一。1860年英法联军侵入北京，圆明园惨遭劫掠焚毁。马首铜像与其他11尊兽首铜像一同流失海外。2019年11月，何鸿燊(shēn)先生决定将马首铜像正式捐赠国家文物局。这一义举展现了他令人钦佩的家国情怀，也折射着千千万万港澳同胞对祖国文化深沉的眷恋热爱、与祖国血浓于水的根脉亲缘。

(4) 从近代到当今，马首铜像失而复得。依据材料四，说说你对此有何感想。(3分)



## 参考答案

### 一、选择题(每小题 1.5 分, 共 45 分)

题号	1	2	3	4	5	6	7	8	9	10	11	12	13	14	15
答案	C	D	B	C	D	B	D	D	B	C	A	A	D	C	B
题号	16	17	18	19	20	21	22	23	24	25	26	27	28	29	30
答案	C	B	B	A	B	C	A	B	A	D	C	C	B	C	A

### 二、非选择题(共 45 分)

#### 31. (12 分)

(1) 提高了军队战斗力的是:①;有利于经济发展的是:③。(每空 1 分, 共 2 分)

(2) 商鞅变法顺应了历史发展潮流;使秦国的国力大为增强,提高了军队的战斗力一跃成为最强盛的诸侯国。(2 分)

(3) 主张:学习西方先进技术以自强。(1 分)洋务运动是中国历史上第一次近代化运动。(1 分)

(4) 选择 A, 事件:土地改革。(1 分)意义:彻底摧毁了我国存在 2000 多年的封建土地制度, 消灭了地主阶级;农民翻身获得土地;使人民政权更加巩固;为国家的工业化建设准备了条件。(写出任意两点即可, 2 分)

选择 B, 事件:农业合作化。(1 分)意义:到 1956 年底, 国家对农业、手工业和资本主义工商业的社会主义改造基本完成, 标志着社会主义基本制度在我国建立起来, 我国从此进入社会主义初级阶段。(2 分)

选择 C, 事件:实行家庭联产承包责任制。(1 分)中共十一届三中全会后, 实行了改革开放政策。家庭联产承包责任制的实行, 拉开了农村改革的序幕。激发了农民的劳动热情, 带来农村生产力的大解放。(2 分)

(5) 精神:变革和开放精神。(1 分)认识:言之成理、结合史实即可, 2 分。

#### 32. (11 分)

(1) 通过丝绸之路引入。(1 分)丝绸之路是古代东西方往来的大动脉, 对于中国同其他国家和地区的贸易与文化交流, 起到了极大的促进作用。(2 分)

(2) 作物:甘薯和玉米。(1 分)优点:对环境适应能力强、高产。(1 分)影响:使粮食产量大幅提高。(1 分)

(3) 饮食方面。(1 分)人们的饮食日益开放, 出现了崇洋逐新的趋向。西式餐饮在沿海城市成为时尚。(2 分)

(4) 袁隆平和他的杂交水稻, 为解决我国这样一个人口大国的吃饭问题和保障我国的粮食安全, 作出了巨大贡献。(1 分)袁隆平的杂交水稻技术对解决世界性饥饿问题也有重要贡献。(1 分)

#### 33. (10 分)

(1) 工艺价值:青铜技艺高超, 代表北京地区青铜文化发展的最高水平。(1 分)史料价值:为研究西周分封制提供了重要和真实的资料。(1 分)

(2) 名称:《兰亭集序》。(1 分)地位:被誉为“天下第一行书”。(1 分)

(3) 选择①《林则徐》, 历史事件:虎门销烟。(1 分)意义:是中国人民禁烟斗争的伟大胜利, 显示了中华民族反抗外来侵略的坚强意志。(2 分)

选择④《血战台儿庄》, 历史事件:台儿庄战役。(1 分)意义:是抗战以来, 中国正面战场取得的最大的一场胜仗, 振奋了中国军民的精神, 坚定了抗战意志和信念。(2 分)

(4)A:③⑤6 B:抗日战争时期正面战场与敌后战场的抗战(或抗日战争亦可)C:①②④⑤(每空 1 分, 共 3 分)

34. (12 分)



(1) 史实:文成公主入藏。(1 分)特点:唐代民族和睦, 民族间交融进一步发展。(1 分)

(2) ②①③(每空 1 分, 共 3 分)意义:有利于统一多民族国家的巩固和发展。(1 分)

(3) 主题:民族团结与祖国统一。(1 分)说明:选择①:1997 年中英香港政权交接仪式举行, 中国对香港恢复行使主权, 标志着中国在完成祖国统一大业的道路上迈出重要一步。

(2 分)选择②:2015 年习近平同马英九会面, 这次会面是 1949 年以来两岸领导人的首次会面, 翻开了两岸关系历史性的一页。(2 分)选择③:2006 年青藏铁路全线通车, 大大加强了祖国内地与边疆地区的联系, 促进了青海、西藏地区的经济社会发展。(2 分)选择

④:1949 年通过的《中国人民政治协商会议共同纲领》将实行民族区域自治作为一项基本政治制度确定下来。民族区域自治制度是解决我国民族问题的基本政策。(2 分)

(4) 价值观正确, 言之成理即可, 3 分。

