



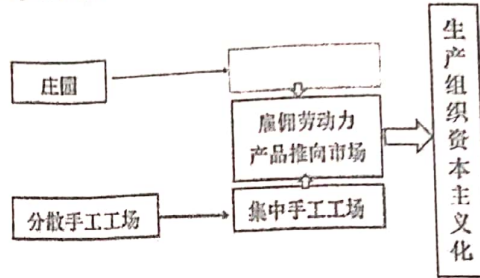
时间： 70 分钟 满分： 70 分

班级： _____ 姓名： _____ 学号： _____

一、选择题：本大题共 20 个小题，每小题 1.5 分，共 30 分。在每小题给出的四个选项中，有且只有一项是符合题目要求的。

1. 下图是某同学设计的思维导图。应在空白框中填上 ()

- A. 庄园法庭
- B. 公民大会
- C. 手工作坊
- D. 租地农场



2. 他的长篇诗作《神曲》抨击教会，表达市民阶层的情感和理想；他被称为标志封建中世纪的终结和现代资本主义开端的人物。“他”是 ()


- A. 但丁
- B. 莎士比亚
- C. 哥白尼
- D. 达·芬奇

3. 下图是 13 世纪末到 14 世纪初的航海图，是现存最古老的新型航海图。这种航海图呈现了海岸、海域地貌，布满航海用的放射状罗盘方位线，它可以用来研究 ()

- A. 罗马帝国不断扩张
- B. 亚历山大帝国东征
- C. 唐朝丝绸之路盛况
- D. 远洋航海技术进步



4. 下图中白色区域为不同时期西方人对世界的认知范围，出现变化的主要原因是 ()



- A. 丝绸之路开通
- B. 郑和七下西洋
- C. 新航路的开辟
- D. 蒸汽机的应用

5. 16 世纪以后，大量非洲黑人奴隶到达拉丁美洲。到 1660 年，光是输入西班牙殖民地的黑奴就达 15 万人，很多地方的黑奴甚至占到总人口的半数。这是因为 ()

- A. 查理曼帝国的扩张
- B. 人们思想的解放
- C. “三角贸易”的进行
- D. 美洲经济的发展

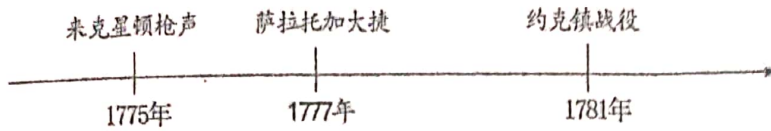
6. 某学者将英国资产阶级革命划分为四大阶段，结合所学判断空格处应该填写的是 ()

时间	阶段
1640—1649 年	专制君主制向议会共和制转变
1649—1653 年	议会共和制向权威政体转变
1653—1685 年	权威政体向复辟君主制转变
1685—1688 年	复辟君主制向 _____ 转变

- A. 三权分立体制
- B. 君主立宪制
- C. 联邦共和制
- D. 军事独裁制



7. 历史学习中需要将史事置于具体的时空下加以考察。通过绘制下面的时间轴，我们能了解的重要历史事件是（ ）




- A. 英国与西班牙海战 B. 英国资产阶级革命
C. 美国独立战争 D. 法国大革命
8. 美国 1787 年宪法制定过程中，南北方因税额分配等问题，对黑人奴隶是否计入人口产生矛盾，双方妥协后将黑人奴隶按五分之三人口计算。这反映出 1787 年宪法（ ）

- A. 带有种族主义的烙印 B. 标志着北美殖民地独立
C. 确立分权制衡的原则 D. 表明中央政府软弱无力


9. 下列历史文献按照出现的先后顺序，排列正确的是（ ）
- ①《权利法案》 ②《拿破仑法典》
③《独立宣言》 ④《人权宣言》

- A. ①③④② B. ①③②④ C. ②①③④ D. ②③①④

10. 2022 年 1 月，故宫博物院举办了“钟鸣盛世——紫禁城和避暑山庄藏钟表联展”，集中展示了清代宫廷的钟表藏品。以下是两个制造于法国的钟表藏品，它们应制造于（ ）



火车头式表



轮船式风雨表

- A. 手工工场产生阶段 B. 新航路的开辟时期
C. 文艺复兴兴起阶段 D. 工业革命开展以后

11. 某班研究性学习展示活动中呈现了下面的材料。依据材料，下列结论正确的是（ ）

	左上：钟表匠凯伊，1733年发明飞梭
	右上：理发师理查德·阿克莱特，1769年发明水力纺纱机（获得专利权）
	下方：珍妮纺纱机，1765年由纺织工哈格里夫斯发明

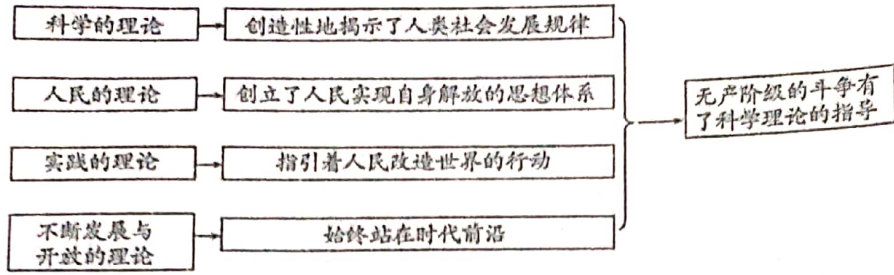
- ①生产技术不断革新促进了棉纺织业发展 ②工业革命把人类带入了蒸汽时代
③以上发明大大提高了生产效率 ④以上发明者都是理论素养深厚的科学家
- A. ①②③ B. ②④ C. ①③ D. ①②③④

12. 1821 年英国创办爱丁堡工艺学校，近代职业教育兴起。学校教授机械制图、建筑等课程，学生主要为当地青年，上课时间以晚上为主。近代职业教育兴起的原因是（ ）

- A. 英国殖民霸权的确立 B. 工业革命发展的需要
C. 城市人口向农村流动 D. 社会保障制度的建立



13. 以下思维导图的主题是 ()



- A. 启蒙运动兴起的历史影响 B. 马克思主义诞生的意义
C. 国际共产主义运动的兴起 D. 文艺复兴运动的影响

14. 下列表格中历史人物和评价对应正确的一组是 ()

A	达·芬奇、莎士比亚	文艺复兴的先驱
B	哥伦布、麦哲伦	早期殖民扩张时期的探险家和航海家
C	华盛顿、拿破仑	欧洲资产阶级革命期间著名的政治家和军事家
D	马克思、恩格斯	撰写《共产党宣言》，是世界无产阶级的革命导师

15. 以下第六单元的主题是 ()

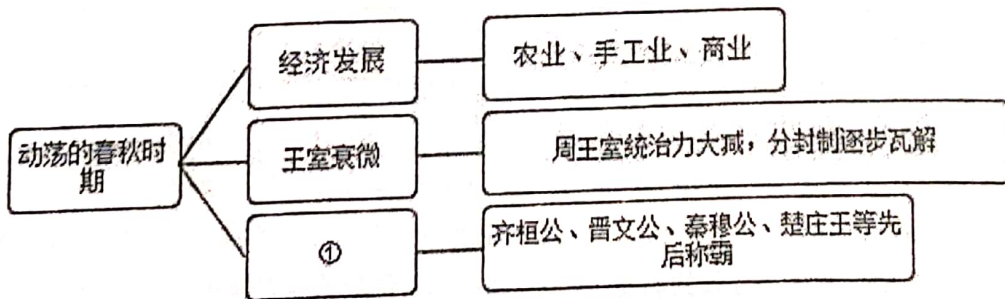
第五单元	第六单元	第七单元
第13课 西欧经济和社会的发展	第17课 君主立宪制的英国	第20课 第一次工业革命
第14课 文艺复兴运动	第18课 美国的独立	第21课 马克思主义的诞生和国际共产主义运动的兴起
第15课 探寻新航路	第19课 法国大革命和拿破仑帝国	
第16课 早期殖民掠夺		

- A. 步入近代 B. 资本主义的曙光
C. 资本主义制度的初步确立 D. 工业革命和国际共产主义运动的兴起

16. 在远古传说中，黄帝能制作衣裳、制造船只、会炼铜。现代考古工作者在河南、陕西、山西、甘肃等地发掘出距今 8000—6000 年的蚕茧、丝织品、独木舟和铜刀等。这说明 ()

- A. 传说中的内容都是真实的 B. 考古是了解历史唯一途径
C. 传说中包含一些历史信息 D. 考古发现证实了所有传说

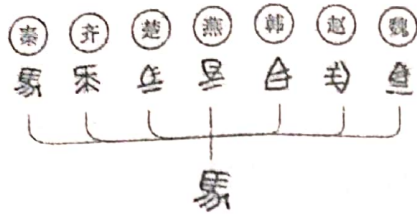
17. 下侧是一位同学的课堂笔记，其中①处的内容应是 ()



- A. 盘庚迁殷 B. 平王东迁 C. 诸侯争霸 D. 战国七雄



18. 下面两幅图片反映的历史主题是

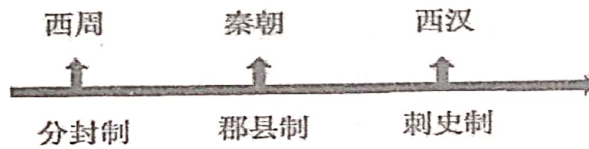


- A. 列国纷争 B. 诸子百家 C. 改革变法 D. 巩固统一

19. 某校历史社团要开展“汉武帝巩固大一统王朝”的项目式学习，涉及的学习内容应该有（ ）

- ① 实施“推恩令” ② 推行“罢黜百家，尊崇儒术”
③ 铸造五铢钱、盐铁官营 ④ 统一度量衡
- A. ①②③ B. ①②④ C. ①③④ D. ②③④

20. 对下列不同历史时期统治阶级采取的政策措施理解正确的是（ ）



- A. 君主专制不断强化 B. 不断加强地方管理
C. 结束分裂巩固统一 D. 社会秩序日趋动荡

二、材料题：本大题共 4 个小题，共 40 分。


21. (10 分) 城市是经济发展和社会进步的重要标志。

材料一 在西欧城市重新兴起和工商业迅速发展的过程中，市民阶层形成了，并从中进一步分化出手工业者、商人和银行家。商人和银行家作为市民阶层的上层，发展为早期的资产阶级。广大西欧城市开展了争取自治权利的斗争，并制定自己的法律，建立自己的武装，向封建王权和各级封建主发起挑战。一些城市中，如法国的巴黎、英国的牛津和剑桥还建立了大学，成为著名的大学城。

——摘编自侯建新《西欧城市的兴起》

(1) 依据材料一，概述中世纪西欧城市发展的表现。(3 分)

材料二 刘易斯·芒福德在《城市发展史》中说，随着贸易从波罗的海移往北海，阿姆斯特丹开始成为货物的转运港口。由于有一条长长的水上路线通往这个港口，这条路线，平稳安全。因此，阿姆斯特丹交易所成了货币市场的中心。1602 年，荷兰的东印度公司在阿姆斯特丹成立，这是世界上第一个可上市交易的股份公司。此后陆续成立了证券交易所、贷款银行等。阿姆斯特丹人口在 1567 年时有 3 万，到 1603 年时增加到大约 11.5 万。



17 世纪初荷兰东印度公司的武装商船

(2) 依据材料二，说明阿姆斯特丹得以发展的条件，并分析其影响。(4 分)



材料三 有学者估计，1572年到1821年，大约有2亿比索的西班牙银币流入中国；16世纪末到17世纪初，每年从美洲流入中国的白银数量约为57吨到86吨。大量白银的流入，增加了国内白银的数量，扩大了白银的流通范围，货币开始以银为主，以铜钱为辅。白银对商业和市镇的发展也起到了积极的作用。白银流入和白银货币化，加速了农业、手工业的商品化进程，因此人们必须先将自己的产品拿到市场交易，换取白银，才能再购买其他生活用品，缴纳赋税。

——摘编自中国社会科学院历史研究所《简明中国历史读本》

(3) 依据材料三，概括大量白银流入对中国经济发展的影响。(2分) 结合所学，分析其产生的历史背景。(1分)


22. (8分) 图说英、美、法资产阶级革命。

材料一



5 基尼金币上的威廉三世与玛丽二世头像

A



2 美元纸币背面图案 绘画作品《独立宣言》

B

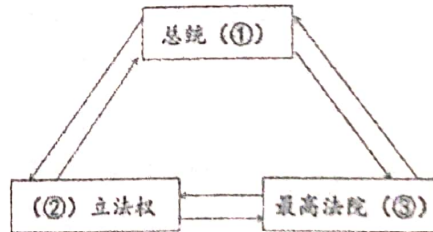


10 法郎硬币(攻占巴士底狱纪念)

C

(1) 依据材料一并结合所学，从 A、B、C 三个货币中任选其一，简要叙述这个货币的名称或图案所关联的重要历史事件。(2分)

材料二 政府应由选举产生的执政官，也就是总统执政，由总统掌管行政部门以及各行政机构，总统完全独立于国会这一立法部门，不必对国会负责，这两大部门还要加上以最高法院为首的司法部门……每一部门都有各自的权力范围，并制约着另外两大部门的权力。这三大部门各自保持相当程度的独立。



示意图

——摘编自麦克斯·J·斯基德摩《美国政府简介》

(2) 依据材料二，将示意图补充完整，(3分) 并说明示意图中三大部门之间的关系。(1分)



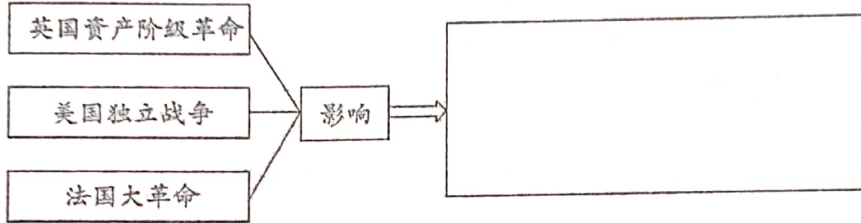
材料三 具有首创精神的英国人，在世界上第一个打破了专制王权，并在架空国王的情况下建立了世界上第一个责任制政府，英国由此而成为现代政府制度的创立者。

恩格斯也谈到：在法国，革命同过去的传统完全决裂；它扫清了封建制度的最后遗迹。

独立战争的胜利，打碎了英国殖民统治的桎梏，实现了北美殖民地政治上的独立，大大解放了北美殖民地的生产力……

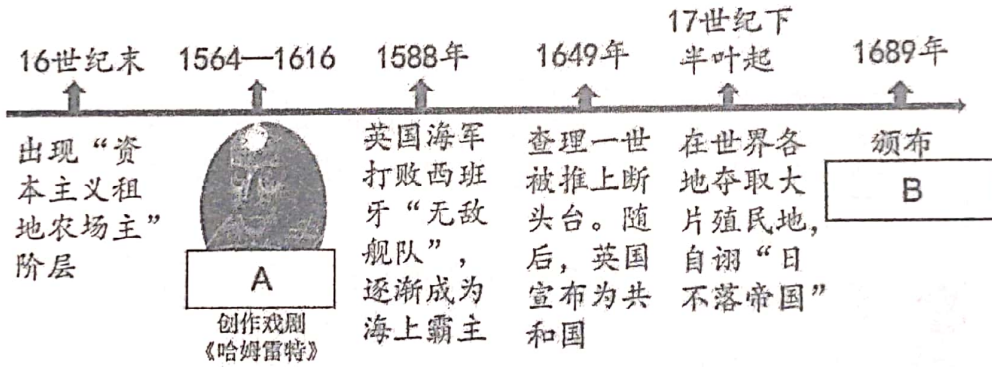
——摘编自唐晋《大国崛起》

(3) 下面图示是一位同学的课后作业，请依据材料三并结合所学，将图示中内容补充完整。(2分)



23. 从英国看世界近代发展 (14分)

材料一



(1) 依据英国发展时间轴判断 A 处历史人物是_____ B 处颁布_____ (2分)

材料二 英国近代的城市化与工业化是同步进行的。从 1750 年到 1850 年间，英国的城市化水平从 10% 提高到了 50%。1861 年，全英国就已经有 16 个城市人口超过了 10 万。到 19 世纪晚期，成为世界上第一个初步实现城市化的国家。英国还出现了工矿、港口、海滨、休闲、交通枢纽和商业型城市等具有专门功能的城市。

——摘编自齐爽《英国城市化发展研究》

(2) 依据材料二，概括英国近代城市化发展的特点。(3分)

材料三 1830 年，英国利物浦至曼彻斯特铁路的通车运营，标志着“铁路时代”的开始。到 1870 年，英国铁路里程长达 15500 英里，铁路网布满英国。1842-1870 年，英国铁路客运量由 0.25 亿人次增加到 3.37 亿人次货运量由 0.05 亿吨增加到 1.69 亿吨。铁路建设带动了建筑业、邮政通讯、金融保险等产业发展。铁路降低了个人出行的费用，1841 年出现了第一个乘坐火车的旅游观光团。

——摘编自欧阳萍《19 世纪英国城市交通的发展及其影响》



(3) 依据材料三并结合所学, 说出英国“铁路时代”开始的背景。(1分) 说明“铁路时代”对英国社会的影响。(3分)




材料四

序号	时间	史事
①	1687年	牛顿的科学巨著《自然哲学的数学原理》出版
②	1765年	哈格里夫斯发明了纺纱机, 命名为“珍妮机”
③	1785年	瓦特改进的蒸汽机投入使用
④	1825年	斯蒂芬森设计的蒸汽机车正式试车
⑤	19世纪三四十年代	欧洲三大工人运动
⑥	1848年	《共产党宣言》
⑦	1864年	第一国际
⑧	1871年	巴黎公社

(4) 选择材料四中相互关联的事件(两个及以上), 结合所学自定一个你想论述的观点, 加以阐述或说明。(要求: 观点正确, 史论结合, 条理清楚) (5分)

24. 丝绸之路与对外交往 (8分)

材料一 丝绸之路通常指西汉之后东西方政治、经济和文化交流的桥梁。但生活在古代中原地区的人们和西域及以西地区人们之间的交流并非自汉代才开始。

史料①	史料②	史料③
 <p>《穆天子传》出土于战国墓, 记载了周穆王西巡会见西王母(学者认为其位于今葱岭以西中亚沿海一带), 并将精美的丝织品作为国礼赠送给西王母的故事。</p>	 <p>阿尔泰巴泽雷克墓(今俄罗斯境内)出土的战国时期的凤鸟纹刺绣, 刺绣工艺与中国的传统工艺一样, 其中的凤鸟形象是楚文化的特色。</p>	 <p>新疆吐鲁番阿斯塔那墓出土的北朝灯树纹锦, 其主体花纹表现的是中原上元节火树银花不夜天的情景。</p>

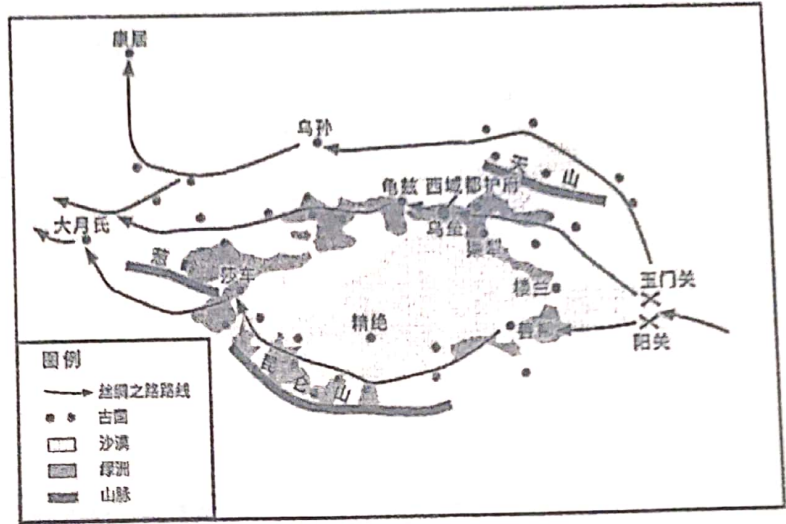
(1) 阅读上述三则史料, 属于文献史料的是_____, 属于实物史料的是_____。如果要研究汉代以前中原地区的人们和西域及以西地区人们的交流, 你会选择_____。(填写史料序号, 多选、错选不给分) (3分)



材料二

都护府设置在乌垒城，距离阳关二千七百三十八里，距离渠犁的屯田官比较近，这里土地肥沃，位于西域的中心，所以都护府驻在这里。

—依据《汉书·西域传》注：武帝时常在渠犁、乌垒屯田，以供应汉朝与西域往来的使者。



(2) 阅读材料二的图文资料，概括西域都护府设置在乌垒城的原因。(1分) 依据材料和所学，分析西汉都护府设置的历史意义。(1分)

材料三 今天的甘肃、新疆地区是古丝绸之路东西方交通的要道。这里发现了很多遗址遗迹，出土了很多汉朝和魏晋南北朝时期的文物。

地点	悬泉	尼雅	高昌
考古发现	出土农具、铁制的牛车零件、筷子、谷物、核桃、杏仁、有汉字的木简、公元前1世纪的纸张残片。	出土蚕茧、桑树种子、织有“延年益寿大宜子孙”的锦缎、印有铭文“君宜高官”的铜镜，发现炼铁工人的住所和炼铁炉残迹，及一座佛塔。	出土最古老的伊朗萨珊王朝的银币，出土公元5世纪左右的基督教壁画“圣枝图”，出土公元399年至423年古抄本《论语》《孝经》。

(3) 悬泉、尼雅和高昌是亚欧各地文明的交汇之处。阅读上表，挑选符合下列表格要求的文物或遗址(每个类别挑选两件，全对得1分，共2分)。

类别	遗址遗迹与文物
体现中原文明传入西域	
体现外来文明传入西域	

(4) 综合上述材料，分析西汉丝绸之路开通的意义。(1分)