



丰台区 2021 届初三年级一模考试

历史试卷

2021.04

考 生 须 知	<p>1. 本试卷共 8 页，满分 70 分。考试时间 70 分钟。</p> <p>2. 在试卷和答题卡上认真填写学校名称、姓名和考试号。</p> <p>3. 试题答案一律填涂或书写在答题卡上，在试卷上作答无效。</p> <p>4. 在答题卡上，选择题用 2B 铅笔作答，其它试题用黑色字迹签字笔作答。</p> <p>5. 考试结束，将本试卷和答题卡一并交回。</p>
------------------	--

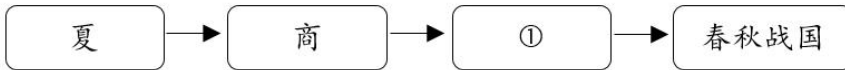
第一部分 选择题（共 30 分）

本部分共 20 小题，每小题 1.5 分，共 30 分。在每小题列出的四个选项中，选出最符合题目要求的一项。

1. 2020 年 5 月，浙江正式发布首批“浙江文化印记”，并制作宣传短视频。其中提到“干栏青石微风里，骨耜农耕稻谷收”。下列与之相关的历史文化遗迹是

- A. 元谋人遗址 B. 北京人遗址 C. 河姆渡遗址 D. 半坡遗址

2. 与以下示意图中①相关的制度是



- A. 禅让制 B. 分封制 C. 皇帝制 D. 科举制

3. 春秋战国时期，思想学术繁荣，各种学说蓬勃兴起。主张“以德治国”，提出“民为贵，社稷次之，君为轻”的思想学派是

- A. 道家 B. 法家 C. 儒家 D. 墨家

4. 汉武帝统治时期，实施“推恩令”、盐铁专营和“罢黜百家，独尊儒术”。其目的是

- A. 巩固大一统 B. 扩大地方权力
- C. 发展商品经济 D. 繁荣思想文化

5. 下表为西汉、唐朝和北宋南北方人口对照表。该表反映出

朝代	南方		北方	
	人口（户）	占全国户口比例	人口（户）	占全国户口比例
西汉	2470685	19.8%	9985785	80.2%

唐朝	3920415	43.2%	5148529	56.8%
北宋	11224760	62.9%	6624296	37.1%

- A. 江南经济开发
B. 中外交流频繁
C. 君主专制强化
D. 经济重心南移

6. 以下图片呈现中国古代科技文化成就。属于明清时期的是

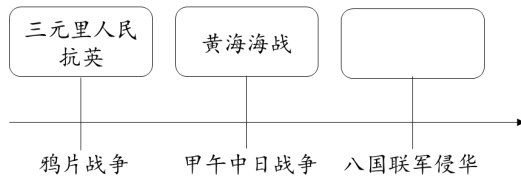


- A. 司母戊鼎
B. 泥活字版
C. 《本草纲目》书影
D. 《齐民要术》书影



7. 右侧示意图中空白处应填的是

- A. 戚继光抗倭
B. 虎门销烟
C. 太平天国运动
D. 义和团运动



8. 江苏省南通博物苑的近代文物展览中，陈列了一位历史人物创办大生纱厂和兴办文化公益事业的照片。这位历史人物是

- A. 李鸿章
B. 张謇
C. 陈独秀
D. 李大钊

9. 某校举办“百年党史邮票展”。按照邮票反映的历史事件先后顺序布展，正确的是

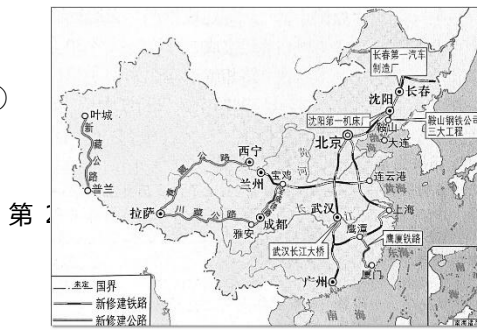


- ①遵义会议
②中国共产党成立
③中共七大
④井冈山革命根据地
- A. ①②③④
B. ①②④③
C. ②①③④
D. ②④①③

10. 史料的价值在于客观真实。下列可用于研究“抗日战争”的史料有

- ①西安事变谈判旧址
②《中共中央为公布国共合作宣言》档案
③李宗仁在台儿庄的照片
④电影作品《百团大战》

- A. ①②③
B. ①②④
C. ①③④
D. ②③④



第

11. 右侧地图反映的历史事件的影响是

- A. 开辟中国历史新纪元
- B. 开始改变工业落后面貌
- C. 巩固新生的人民共和国
- D. 建立社会主义基本制度



12. 中华人民共和国的成立，揭开了中国对外关系的新篇章。下列史实反映出

- ◇ 1955年，周恩来率代表团参加亚非会议。
- ◇ 1971年，第26届联合国大会通过决议，恢复中华人民共和国在联合国的一切合法权利。
- ◇ 1979年，中美正式建立外交关系。

- A. 维护祖国统一
- B. 积极参与国际事务
- C. 捍卫领土主权
- D. 取得外交巨大成就

13. 中世纪的法国，游戏伦理的话语权掌握在基督教会手中，游戏被看做是“魔鬼的礼物”。15世纪开始，儿童玩具或游戏场面越来越多地出现在宗教肖像画中。这种变化出现的原因是

- A. 文艺复兴影响
- B. 工业革命推动大众教育
- C. 进化论的传播
- D. 法国推翻封建等级制度

14. 18世纪80年代后期，一位极富经营头脑的英国纺织厂厂主把工厂从河边搬迁到交通便利的地方。这可能是因为

- A. 汽车的出现
- B. 改良蒸汽机使用
- C. 内燃机发明
- D. 无轨电车的发明

15. 17世纪到19世纪，资产阶级通过革命或改革，相继在欧美主要国家和亚洲的日本取得了政权。上述革命或改革的共同点是

- A. 建立了资本主义制度
- B. 解放了黑人奴隶
- C. 推翻了君主专制制度
- D. 推翻了殖民统治

16. 某班开展专题探究，搜集到如下资料：《共产党宣言》、巴黎公社、十月革命。其探究的主题是

- A. 马克思主义诞生
- B. 第一个社会主义国家诞生
- C. 工人运动兴起
- D. 社会主义由理论到实践

17. 玻利瓦尔和章西女王是世界近代历史上的重要人物，受到后人敬仰。这是因为他们

- A. 领导人民反抗殖民统治
- B. 被誉为“解放者”
- C. 领导人民获得民族独立
- D. 主张发展资本主义

18. 1921年，第一份给外国特许权的合同在苏俄外交部正式签署，一位美国人获得了一所石棉矿的特许权。与上述现象直接相关的是

- A. 战时共产主义政策的实行
- B. 新经济政策的实施
- C. 社会主义工业化的完成
- D. 农业集体化的实现

19. 史论结合是历史学习的重要方法之一。下表史实与结论对应正确的是

选项	史实	结论
A	萨拉热窝事件	第一次世界大战中最激烈的战役
B	《凡尔赛条约》	中国回复到几个帝国主义国家共同支配的局面
C	《联合国宣言》	反法西斯联盟取得最后胜利
D	斯大林格勒战役	第二次世界大战的转折点

20. 冷战结束后，世界格局朝着多极化趋势发展。以下能够说明这一观点的是

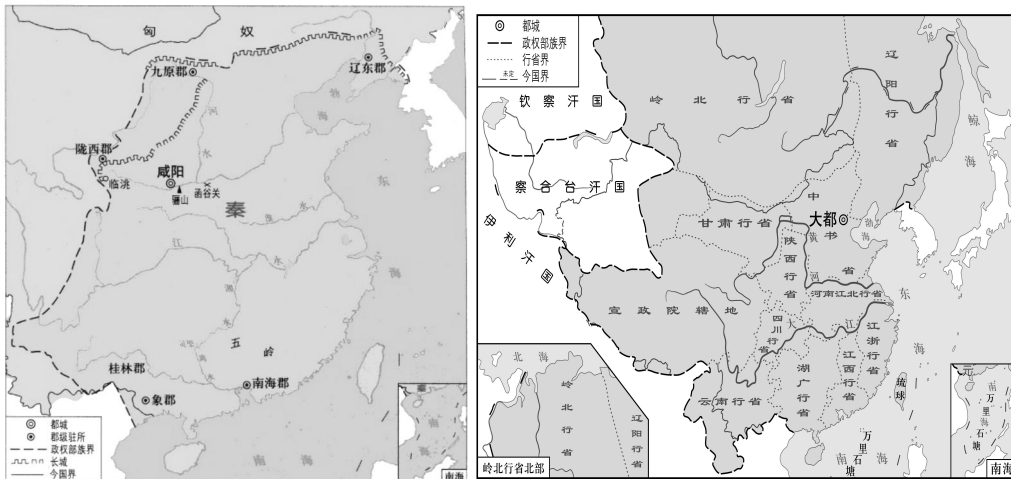
- ①中国和平崛起
 - ②发展中国家总体实力增强
 - ③欧盟地位提高
 - ④苏联唯一能与美国抗衡
- A. ①②③ B. ①②④ C. ①③④ D. ②③④



第二部分 材料分析题（共 40 分）

21. （10 分）有效的国家治理是国家统一和社会稳定的基础。

材料一



秦朝形势图

元朝疆域图

（1）观察地图，指出秦朝和元朝在地方治理中采取的措施。（2分）结合所学，概括这些措施的共同作用。（2分）

材料二 美国独立后不久，1777年由大陆会议通过《邦联条例》。按照这部宪法，成立起来的美国国家组织有以下特点：第一，各州享有征税、征兵及发行纸币的权力；各州也有权规定入口税。国家有事时，中央政府只

能请求各州提供军队。中央需要钱时，只能向各州摊派款项，而且各州可以拒绝提供金钱。第二，中央最高机构是一院制的邦联国会，中央不设置国家元首，只是在国会下面设立一个诸州委员会，在国会休会时管理经常性事务。第三，邦联国会只能宣战和媾和，派遣对外使节，调整各州的争端和掌管邮政……只有在各州的同意下，才能与外国订立有关贸易的条约。它完全依靠各州来维持国家秩序，无权干涉各州内部事务。

——吴于廑 齐世荣《世界史·近代史编》

(2) 依据材料二，说出美国独立后面临的主要问题。(2分) 结合所学，指出1787年宪法是如何解决上述问题的。(1分)



材料三 1978~2017年中国农业总产值和农村居民人均可支配收入表

年份	农业总产值(亿元)	农村居民人均可支配收入(元)
1978	1397	133.6
1990	7662.1	686.3
2000	24915.8	2253.4
2017	109331.7	13432.4

(3) 依据材料三，概括1978~2017年中国农村的变化。(1分) 结合所学，分析出现这一变化的原因。(2分)

22. (11分) 文明交流互鉴是推动人类社会发展的动力。

材料一 自古以来，西北地区是许多不同民族进进出出的地方，千里驼铃，渡过沙漠，翻过山隘。自从汉代开通西域的丝道，中国经由这个西北的出入口，与中亚、中东及欧洲接触，两千年来从未停止。中国的丝帛西运，西方的宗教东来，佛教、祆教……都从这一条通道传入中国地区，也再转输东亚其他地区。中国获得了贸易的利润，然后西方思想的刺激，更为深切地改变了中国文化的思维方式。

——许倬云《万古江河》

(1) 写出材料一中“汉代开通西域”的标志性事件，(1分) 并概括“丝道”的历史作用。(2分)

材料二 自认为负有传教使命的欧洲人到达新大陆时，便以各种方式扩大基督教的影响，他们在南美取得了很大进展，罗马天主教在拉丁美洲大多数地区盛行……随着大西洋奴隶贸易的展开，来到美洲的奴隶中间也形成了混合宗教，即非美混合宗教，如海地的伏都教，至今仍在其农村流行。

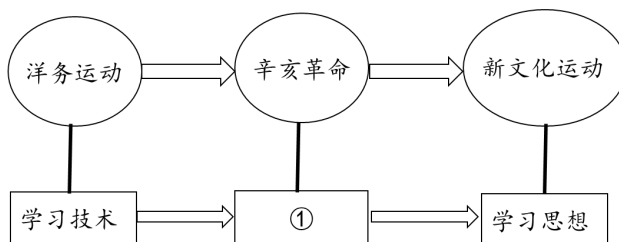
迁移到美洲的白人把旧世界的各种家畜(特别是马、牛和羊)以及农作物(小麦、燕麦、大麦)带到新世界。与此同时，美洲的特产也流向世界各地：玉米、马铃薯、西红柿、番薯、花生、各种豆类以及南瓜、可可等。

——徐蓝《世界近现代史》

(2) 依据材料二，概括文明交流的表现。(2分) 结合所学，推断文明交流的影响。(1分)



材料三 下列图示呈现了中国近代向西方学习的历程



(3) 将图示中①处补充完整。(1分) 结合所学，任选一个历史事件，分析其国内国际背景。(2分)

材料四 2013年，习近平主席提出与有关国家建设“丝绸之路经济带”和“21世纪海上丝绸之路”，即“一带一路”倡议。“一带一路”贯穿欧亚大陆，东边连接亚太经济圈，西边进入欧洲经济圈。

(4) 从历史和现实的角度，谈谈对“一带一路”的认识。(2分)

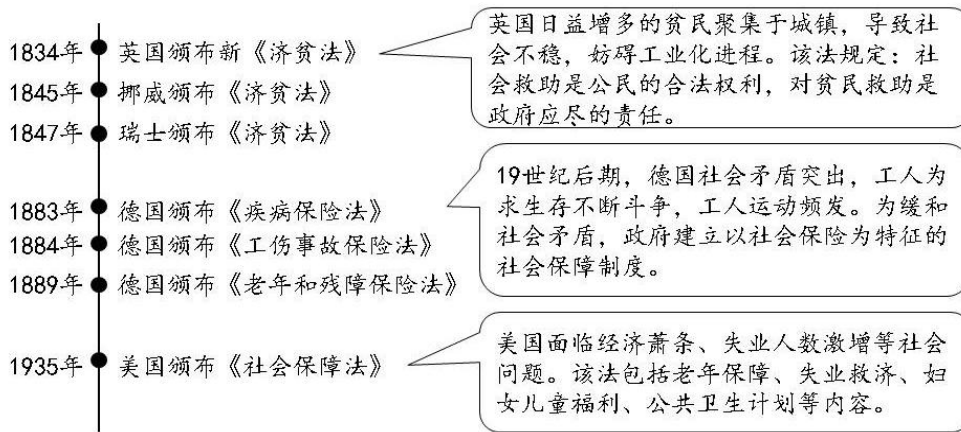
23. (9分) 国计民生关系社会的稳定与进步。

材料一

时期	措施	局面
①	文帝、景帝采取“休养生息”政策。鼓励农业生产，减轻赋税和徭役；废除严刑峻法	文景之治
唐朝	唐太宗推行革新措施。减轻人民劳役负担，鼓励发展农业生产；减少刑罚	②
清朝	前期诸位帝王推行垦荒；推崇儒家学说，继承历代文化传统	康乾盛世

(1) 将表格中①②处补充完整。(2分) 结合所学，分析出现上述兴盛局面的共同原因。(2分)

材料二 西方社会保障的发展(部分)



(2) 依据材料二，说出西方社会保障发展的特点，（2分）并分析西方社会保障发展的背景。（1分）

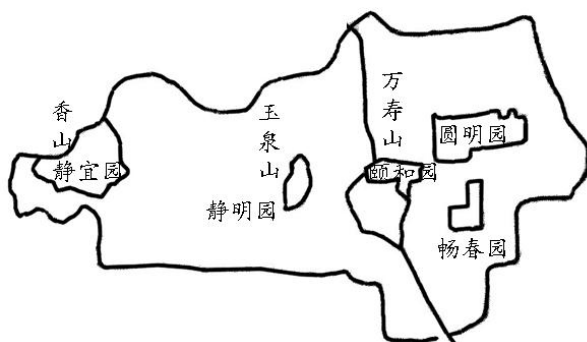
材料三 党中央顺应人民对美好生活的期待，把增进民生福祉作为发展的根本目的。中国“十三五”规划（2016~2020年）取得的部分成就：

- ◇ 国内生产总值年均实际增长 6.7%。
- ◇ 贫困地区农民人均可支配收入年均增长 8.5%，10.8 万所义务教育薄弱校办学条件改善，733 万户危房改造，脱贫攻坚目标如期完成。
- ◇ 居民收入年均增长 6.5%，家电全面普及，汽车快速进入寻常百姓家。
- ◇ 基本医疗覆盖超 13 亿人。
- ◇ 完成造林面积 2957 万公顷，生态修复全面加强。

(3) 依据材料三，概括“十三五”规划在增进民生福祉方面取得的成就。（2分）

24. (10分) “三山五园”是对北京西北郊皇家园林的总称。某校历史社团开展“三山五园”考察活动。

【资料研究】



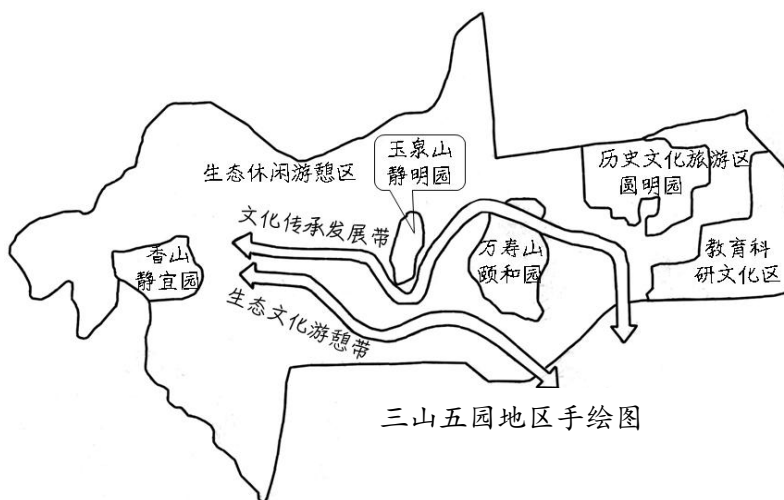
“三山五园”所在地区山峦环抱、水系纵横，辽金时期已经开始造园。定都北京的少数民族首领有出巡传统，将玉泉山与香山一带作为游猎与巡幸之地。康熙帝在北京城西北郊兴建畅春园，并长期居住听政，开创园居理政的先河，后继者效仿扩建，逐渐形成“三山五园”的格局。

① 时期的“三山五园”



(1) 依据资料, 填写①处对应的内容, (1分) 分析“三山五园”形成的相关因素。(2分)

【实地考察】



(2) 依据手绘图, 概括三山五园地区现今发展的特点。(2分)

①静宜园	②圆明园遗址公园	③颐和园	④玉泉山下京西稻梯田
静宜园位于香山, 区别于其他园林, 景观以山为主, 借助山林条件, 因山就势而建	1860年, 被英法联军劫掠并焚毁。 1900年, 又被八国联军再次破坏	借鉴全国知名建筑和景观, 借用周围环境的山水, 运用“借景”手法造园的范例	京西稻由康熙、乾隆帝选种并在“三山五园”种植, 形成稻田景观, 再现农耕生活
⑤苏州街	⑥耶律楚材祠	⑦香山双清别墅	⑧香山昭庙
模仿江南街市, 在皇家园林中开设买卖街, 设有各式店铺, 再现市井生活	耶律楚材是“以儒治国”的元朝政治家, 乾隆帝在他墓地原址上重修建祠	1949年, 中共中央从西柏坡迁入, 这里见证了筹备新政协与建立新中国的历史	为嘉勉班禅六世来京向乾隆帝祝贺七十大寿而建, 兼具汉族和藏族的建筑风格

(3) 以上是三山五园地区的几处重要考察地点。从以下主题 1、2、3 中任选一个, 并选取两个相关的考察地点, 分别说明考察地点与主题的关系。(3分。仿照示例完成, 不得选用示例中的主题和材料)

主题 1: 见证重大历史事件; 主题 2: 园林艺术; 主题 3: 社会经济

示例:

主题	考察地点	关系说明
民族交融	⑥	墓主人是“以儒治国”的少数民族政治家, 乾隆帝为这样的政治家建祠, 有利于民族交融

	⑧	昭庙的建筑风格融合汉、藏不同特色，体现了民族交融
--	---	--------------------------

【成果运用】

“国家历史文化遗产的典范地区”是北京新版总规划对三山五园地区提出的明确要求之一。目前，这一区域正在加紧规划建设，“看得见物、望得见景、感受得到厚重的历史文化”正在这片区域逐渐成为现实。

——《北京历史文化名城保护条例》修订立法调研纪实

(4) 传承和保护北京丰富的历史文化遗产是首都公民的职责。请你为三山五园地区历史文化遗产的传承和保护提出一项行动建议。(2分)





参考答案

第一部分 选择题（每小题 1.5 分，共 30 分）

题号	1	2	3	4	5	6	7	8	9	10
答案	C	B	C	A	D	C	D	B	D	A
题号	11	12	13	14	15	16	17	18	19	20
答案	B	D	A	B	A	D	A	B	D	A

第二部分 材料分析题（共 40 分）

21. （10 分）

（1）措施：秦朝郡县制；元朝行省制度。（2 分）作用：巩固统一；有利于民族交融。（2 分）

（2）问题：中央政府软弱，对外缺少国际竞争力，对内不能稳定社会秩序；地方独立，权力较大。（2 分）解决措施：确立联邦制（1 分）。

（3）变化：农业总产值和农民收入增加。（1 分）原因：中共十一届三中全会，确定了改革开放的方针；（1 分）实行家庭联产承包责任制，发展乡镇企业。（1 分）

22. （11 分）

（1）标志性事件：张骞通西域。（1 分）历史作用：“丝道”是古代东西方交往的大动脉；促进了中外贸易与文化交流。（2 分）

（2）表现：宗教的扩散；物种交流。（2 分）影响：促进了文化的交流；丰富了物种，改变了食物结构。（1 分，答出任意 1 点即可）

（3）①学习制度。（1 分）

背景：（2 分）

洋务运动：清政府面临统治危机与西方列强侵略。

辛亥革命：民族危机加深与西方民主思想的影响。

新文化运动：北洋军阀统治下的混乱政治局面与西方启蒙思想的传播。

（4）历史角度：“一带一路”是对古代丝绸之路的传承与发展。现实角度：促进中外交流、合作与共同发展。（2 分，每个角度 1 分。言之有理即可）

23. （9 分）

（1）①西汉；（1 分）②贞观之治。（1 分）原因：国家统一；政府制定恰当的政策。（2 分）

（2）特点：社会保障制度不断完善；社会保障以立法形式确立；社会保障内容覆盖广泛。（2 分，答出任意 2 点即可）

背景：社会矛盾突出；工人阶级不断斗争。（1分，答出任意1点即可）

（3）成就：人民收入增加，生活水平提高；脱贫攻坚目标实现；大规模社会保障体系建立；生态环境改善。（2分，答出任意2点即可）

24.（10分）

（1）①清朝。（1分）相关因素：自然环境优越；少数民族首领出巡传统；清朝帝王大力修建。（2分，答出任意2点即可）

（2）特点：注重传统文化的保护与传承；人与自然的和谐相处；功能多元丰富。（2分，答出任意2点即可）

（3）考察地点与主题对应正确1分，关系说明准确2分。

（4）建议：提出合理建议（2分）

