

2016 海淀初二（下）期末 历史



一、单项选择题（本大题共 24 个小题，每小题 2 分，共 48 分。在每小题列出的四个选项中，只有-项是正确的。请将正确选项前的字母依次填在下面答题栏内）

1.（2 分）史料是历史学习的重要素材。第一手史料是当事人或历史现场遗留下的历史材料。下列各项中可以作为研究开国大典的第一手史料是（ ）



①《天安门歌》（诗歌，1949年10月1日）



②开国大典（油画，局部）



③开国大典中新组建的中国人民解放军海军方阵通过天安门广场（照片）



④建国大业（电影，2009年）

A. ①② B. ①③ C. ②④ D. ③④

2.（2 分）如图为 1950 年 11 月《人民画报》的封面，上面是一位手捧丰收稻谷的农民。此时广大农村发生的变化是（ ）



A. 土地改革 B. 农业合作化
C. 人民公社化运动 D. 乡镇企业飞速发展

3.（2 分）1953 年，彭德怀说：“它雄辩地证明：西方侵略者几百年来只要在东方一个海岸上架起几尊大炮就可霸占一个国家的时代是一去不复返了……”，文中的“它”指的是（ ）

A. 南昌起义 B. 抗日战争胜利
C. 全国大陆的基本解放 D. 抗美援朝胜利

4.（2 分）如图表示我国民主法治进程，“？”所在方框内应填写（ ）





- A. 第一届全国人民代表大会召开，通过第一部《中华人民共和国宪法》
- B. 全国人大常委会通过《中华人民共和国刑法》，法律体系更加完备
- C. 《中华人民共和国义务教育法》颁布，开始推进九年义务教育
- D. 以宪法为核心的中国特色社会主义法律体系框架初步建立
5. (2分) 2015年4月，中国国家主席习近平同来自亚洲、非洲和其他地区的国家领导人沿着亚非大街步行前往万隆会议旧址 - 独立大厦，纪念万隆会议召开60周年。1955年参与万隆会议的亚非领导人需要解决的共同问题是 ()

- ①争取民族独立
- ②成立“亚太经合组织”
- ③发展民族经济
- ④对抗“共产主义威胁”

A. ①② B. ③④ C. ①③ D. ②④

6. (2分) 如图，图中的场景是1956年天津市公私合营盛锡鞋帽厂挂上了新招牌时，工人们聚集在门前互相祝贺。依据所学知识判断，图中人民在庆祝 ()



- A. 人民政权得到巩固，国民经济恢复
- B. 第一个五年计划工业指标超额完成
- C. 出现农业、手工业合作化运动高潮
- D. 资本主义工商业社会主义改造成果
7. (2分) 历史叙述有史实陈述、历史评价等方式。其中，历史评价是指对历史现象或历史事件进行态度与价值的评判表达。下列选项属于历史评价的是 ()
- A. 民族区域自治是我国解决民族问题的基本政策
- B. 民族区域自治制度有利于少数民族地区的发展
- C. 我国民族分布上呈现出大杂居，小聚居的特点
- D. 省级民族自治区中建立最早的是内蒙古自治区
8. (2分) 1956年，中国共产党第八次全国代表大会在北京举行，本次会议 ()
- A. 选举了毛泽东为国家主席 B. 公布过渡时期总路线

C. 正确分析了国内主要矛盾 D. 决定发动“大跃进”运动

9. (2分) 如图所示是大跃进时期的一幅宣传画, 它反映了这一阶段 ()



“坐着花生
过黄河”

A. 农业生产中的真实状况 B. 经济建设取得重大成就

C. 农业科技得到飞速发展 D. 存在不切实际的浮夸风

10. (2分) 20世纪70年代, 中国外交取得的重大成就是 ()

A. 提出和平共存五项原则

B. 提出“求同存异”方针

C. 恢复中国在联合国的合法席位

D. 加入世界贸易组织 (WTO)

11. (2分) 经国务院批复同意, 自2016年开始, 每年4月24日被设定为“中国航天日”, 它源于我国空间技术一项重要成就, 即 ()

A. 第一颗原子弹爆炸成功 B. 第一颗氢弹爆炸成功

C. 第一颗导弹发射成功 D. 第一颗人造卫星发射成功

12. (2分) “文化大革命”结束后, 中国共产党决定将党和国家工作重点转移到社会主义现代化建设上来的会议是 ()

A. 十一届三中全会 B. 十二大

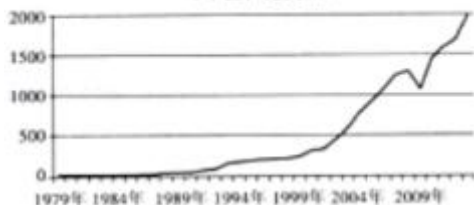
C. 十三大 D. 十四大

13. (2分) 如图, 阅读表格, 从中可以得到的信息是海峡两岸 ()

A. 科学技术交流蓬勃发展 B. 经济贸易往来日益密切

C. 有效遏制“台独”势力 D. 尚未实现通航及通邮

1979—2013年海峡两岸历年贸易总额统计表
(单位: 亿美元)



14. (2分) 杨绛在《干校六记》中记述了自己 1970 - 1972 年在河南罗山干校的劳动、生活情况。此时中国正处于 ()

- A. 第一个五年计划期间
- B. 全民大炼钢铁运动时期
- C. “文化大革命”时期
- D. 社会主义现代化建设的新时期

15. (2分) 2015 年 12 月 31 日, 中央军委举行仪式, 以原第二炮兵为主组建的战略核打击力量正式命名为“中国人民解放军火箭军”部队, 并授予军旗。从“二炮”到“火箭军”的发展历程见证了 ()

- A. 中国核力量的发展历程
- B. 中国炮兵建设的巨大成就
- C. 中国陆军的发展历程
- D. 我国开始跨入了核国家行列

16. (2分) 1976 年, 籼型杂交水稻开始进行大面积推广, 全国达到 208 万亩, 增产全部在 20% 以上, 为此做出突出贡献的科学家是 ()

- A. 钱学森
- B. 侯德榜
- C. 容国团
- D. 袁隆平

17. (2分) 一组同学进行探究学习, 发现一位月收入 5000 元的北京职工, 社保与公积金缴费情况如图所示, 请问这组同学探究的课题是 ()

缴纳项目	个人比例	单位比例	单位: 元
养老	8% 400.00	20% 1000.00	
医疗	2% 103.00	10% 500.00	
失业	0.2% 10.00	1% 50.00	
工伤		0.5% 25.00	
生育		0.8% 40.00	
公积金	12% 600.00	12% 600.00	
合计	个人缴纳: 1113.00	单位缴纳: 2215.00	

- A. 科教兴国战略取得成效
- B. 社会保障制度更加完善
- C. 高等教育招生人数增加
- D. 文艺体育事业百花齐放

18. (2分) 古代学者记述一条河流的水位对埃及人生活的影响: “升高 12 ells (古埃及计量单位, 一个 ells 大约 1.5 米) 是饥饿; 升高 13ells 是辛苦; 升高 14ells 是开心; 升高 15ells 是无忧; 升高 18ells 变灾难。”这条河流是 ()

- A. 尼罗河
- B. 底格里斯河
- C. 幼发拉底河
- D. 印度河

19. (2分) 《汉谟拉比法典》是目前已知较早的成文法典, 其中一条法令规定: “窝藏他人奴隶并且被抓获者将被处以死刑。”这条法令所反映的《汉谟拉比法典》的特点是 ()

- A. 保护奴隶人权
- B. 维护奴隶制度
- C. 同态复仇思想
- D. 理性补偿观念

20. (2分) 以下各项对日本“大化改新”相关内容解读正确的是 ()

- ①“大化”是年号
- ②“改新”是指改革
- ③措施效仿中国隋唐

④为后来繁荣奠定基础。

A. ①② B. ③④ C. ①③④ D. ①②③④

21. (2分) 以君士坦丁堡(今伊斯坦布尔)为首都, 地跨欧亚非三洲的帝国是()

A. 西罗马帝国 B. 阿拉伯帝国 C. 拜占庭帝国 D. 查理帝国

22. (2分) 英格兰国王亨利二世(1133 - 1189)进行改革, 把大部分司法权力集中到自己手中。当改革涉及教会权利时, 遭到坎特伯雷大主教贝克特的反对, 双方矛盾尖锐。四名骑士为讨好亨利二世, 在坎特伯雷大教堂刺杀了贝克特。教皇威胁要将亨利二世驱逐出天主教会, 亨利二世不得不屈服, 公开举行仪式, 表示悔罪。以上材料说明中古西欧天主教会()

A. 可以与王权分庭抗礼 B. 占有大量土地, 经济实力强
C. 教皇直接统治教皇国 D. 与富裕市民联盟, 对抗君主

23. (2分) 一位同学查找资料, 完成资料卡片如图所示, 资料卡片描述的人物是()

生卒年: 公元前356—前323年

事迹: 率军远征, 灭亡波斯帝国, 一直打到
印度河流域, 建立了空前庞大的帝国

作用: 促进希腊文化与古代东方文明结合

A. 屋大维 B. 亚历山大 C. 穆罕默德 D. 查理·马特


24. (2分) 哥特式建筑发源于12世纪的法国, 持续至16世纪, 整体风格为高耸削瘦, 主要用于教堂。以下各项中属于哥特式建筑的是()




A. 希腊帕台农神庙



B. 罗马圆形竞技场



C. 巴黎圣母院



D. 麦加大清真寺

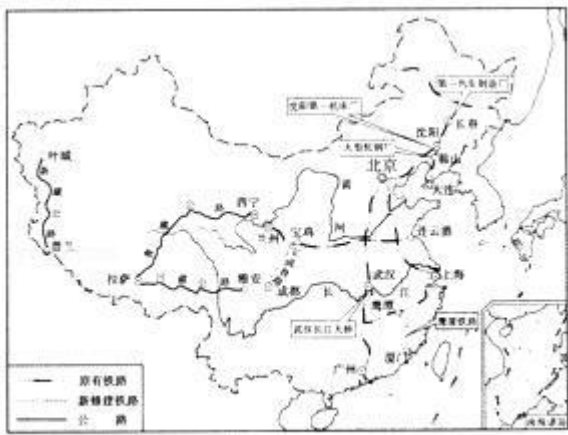
二、非选择题(共3小题, 满分52分)

25. (10分) 1949年以来, 中国共产党领导中国人民一步步走向民族复兴, 在经济、政治等各方面都取得了长足的发展和进步。

1. 阅读《第一个五年计划成就示意图》, 回答问题

(1) 一五计划期间修建的位于西部地区的铁路是_____。

(2) 国家重点建设的重工业基地位于_____地区。



第一个五年计划成就示意图

1978年12月邓小平指出：“一个党，一个民族，如果一切从本本出发，思想僵化，迷信盛行，那它就不能前进，它的生机就停止了，就要亡党亡国……实事求是，是无产阶级世界观的基础，是马克思主义的思想基础。”

2. 以上材料中邓小平提出了怎样的主张？此后在探索中国社会主义建设的道路上，他又有哪些思想和实践创新？

26. (26分) 同学们通过各种综合社会实践活动，可以了解身边的历史，提高综合运用知识解决问题的能力。

【举办专题展览】

在新中国建设中，从人民中涌现的英雄模范人物强烈地影响着我们的社会，震撼了人们的心灵。班级准备举办一次介绍建国初期模范的专题展览，你负责的工作如下：



王进喜

雷锋

邓稼先

焦裕禄

1. (1) 请参考示例，从以上英雄模范中任选两人，完成事迹介绍。

示例



黄继光
事迹介绍：中国人民志愿军特级英雄。在上甘岭战役中用胸膛堵住敌人机枪射孔，为部队开辟通路。

(2) 了解以上英雄模范的事迹后，说一说体现了建国初期中国人民的哪些精神风貌。

【历史遗迹考查】

材料一 深圳经济特区蛇口工业区负责人袁庚在1980年提出“时间就是金钱，效率就是生命”这一观念。在特区建设的过程中，他深切地感受到中国内地大锅饭体制下，人们不珍惜时间，不讲究效率，国有企业普遍效率低下，不讲成本。袁庚认为改革开放就是要让人们振作起来，按经济规律办事，用经济手段去管经济。

在2010年的一次投票评比中，“时间就是金钱，效率就是生命”被评为“深圳十大观念”之首，评语说：“这一观念的出现的是中国社会主义市场经济破壳的标志，是深圳精神的逻辑起点。”

2. 结合图文材料和所学，分析“时间就是金钱，效率就是生命”这一口号提出的背景及影响。



历史照片:蛇口标语牌
(原标语牌现在已由博物馆收藏)



【进行社会调查】

材料二 采访实录（有摘编）

采访者：方方（化名，时为初一年级学生）；口述者：妈妈；采访时间：2014年5月6日

我：我们历史课有一个口述历史的作业，您能给我讲讲您小时候有没有经历的印象比较深刻的事情吗？

妈妈：小时候我随着父母住在陕西山沟沟的工厂里，厂区外面就是庄稼地。我爸爸为了给我和弟弟增加营养，想买些鸡蛋。可是那个时候，是不允许随便做小买卖的。到周末休息的时候，我爸爸就带着大篮子到附近的村子去，桥桥的，挨门挨户的敲人家门，问有没有鸡蛋。一般农民家会养几只鸡下蛋，也不敢出去卖。一般一家最多也就能存个十来个鸡蛋，要买一篮子鸡蛋，要跑好多家，用掉差不多一天的时间。

后来到了八十年代的时候呢 开始改革开放了就允许做小生意了，有自由市场了。那个时候明显的就物质丰富了，农民拿着整筐的鸡蛋呀，到那儿去卖，然后还包括卖肉的呀，卖菜的呀什么都有了。

在改革开放初期呢，那个时候虽然说比在这之前物质稍微丰富了一点，但是买什么东西很多都得要票。我记得那时候住在北京的爷爷家里，还有副食本。副食本就是每家按人口定量的，买个芝麻酱呀，化石花生瓜子啊这些的，那都得要凭本去买的。

我：是吗，那多麻烦呀！

妈妈：这不是麻烦的问题，关键是它物质匮乏，你要是想买什么就买什么，那有人可能买不到了。所以呢，就是在有限的这些资源里，要让大家都能有，那就只能靠这个定量供应了。你想想现在，改革开放这么多年了，你看看现在，物质多丰富呀！从你小时候你就知道，你想吃什么，爸爸妈妈就给你买什么。

我：对呀。

3.（1）从采访实录妈妈的叙述中能看到改革开放前后的哪些变化？结合所学知识，解释变化出现的原因。

变化	变化原因
改革开放前农民不能做小买卖，改革开放后农民可以在市场上出售农产品	

教师阅读方方的采访实录后指出，“您能给我讲讲您小时候有没有经历的印象比较深刻的事情吗？”这个问题过于宽泛，妈妈的回答非常随意，涉及当时社会生活的方方面面，所以方方需要花费大量时间整理访谈记录；建议以后进行社会调查时，应选确定主题（领域），再设计相关问题。

(2) 如果你要向长辈了解改革前后社会生活的变化, 你会选择什么主题(领域), 设计哪些问题?(2个问题即可。

要求: 问题具体, 指向明确)

27. (16分) 城市是伴随着人类文明与进步发展起来的, 它不仅是富足的标志, 而且体现着这一文明的特点。

地理环境对当地人们的经济生活、政治制度都有很大影响。古代希腊就是一个典型例证。

古代希腊城邦林立, 城邦的特征是小国寡民。如图, 结合图, 说一说古代希腊出现这一政治局面的原因。



历史试题答案

一、单项选择题（本大题共 24 个小题，每小题 2 分，共 48 分。在每小题列出的四个选项中，只有-项是正确的。请将正确选项前的字母依次填在下面答题栏内）

1. 【解答】第一手史料是当事人或历史现场遗留下的历史材料，是指接近或直接在历史发生当时所产生，可较直接作为透视历史问题的史料；第二手史料后者是指经过后人运用一手史料所作的研究及诠释。因而①③是研究开国大典的第一手史料，②④是研究开国大典的第二手史料。

故选 B.

2. 【解答】1950 年 6 月，中央人民政府公布《中华人民共和国土地改革法》轰轰烈烈的土地改革运动在全国农村展开。到 1952 年底，全国大陆除部分少数民族地区外，土地改革基本完成，三亿多无地少地的农民分到了土地。土地改革的完成，彻底废除了两千多年的封建土地制度，消灭了地主阶级，农民成为土地的主人，在政治、经济上翻了身；解放了农村生产力，促进了农村经济迅速恢复和发展。

故选 A.

3. 【解答】1950 年 10 月，中国人民志愿军在彭德怀的率领下，入朝作战。入朝半年内，就五战五捷，把美国军赶回“三八线”附近，至 1953 年，美国与中国在板门店签订《朝鲜停战协定》，标志着中国人民志愿军取得抗美援朝的胜利。雄辩地证明：西方侵略者几百年来只要在东方一个海岸上架起几尊大炮就可霸占一个国家的时代是一去不复返了。

故选 D.

4. 【解答】图片给出的关键信息是“1954 年”。1954 年 9 月，第一届全国人民代表大会在北京召开，大会制定了《中华人民共和国宪法》。这是我国第一部社会主义类型的宪法，也是我国有史以来真正反映人民利益的宪法。BCD 均在 1978 年改革开放以后。

故选 A.

5. 【解答】1955 年，亚非独立国家的首脑，在印尼的万隆举行第一次没有殖民主义国家参加的亚非国际会议，讨论保卫和平、争取民族独立和发展民族经济等共同关心的问题。

故选 C.

6. 【解答】根据“1956 年”“公私合营”可知，这是三大改造中对资本主义工商业的改造。1954 年起，国家开始对资本主义工商业的社会主义改造，逐步发展企业的公私合营，公私双方共同经营企业。1956 年初出现了全行业公私合营的高潮。1956 年底，对资本主义工商业的社会主义改造基本完成，中国民族资产阶级和资本主义工商业退出中国历

史舞台。

故选 D。

7. 【解答】民族区域自治是在国家统一领导下，各少数民族聚居的地方设立自治机关，行使自治权，实行区域自治。民族区域自治是我们党解决民族问题的基本政策，实行民族区域自治，体现了国家充分尊重和保障各少数民族管理本民族内部事务权利的精神，体现了国家坚持实行各民族平等、团结和共同繁荣的原则，体现了民族因素与区域因素、政治因素与经济因素、历史因素与现实因素的统一。历史和实践充分证明，民族区域自治制度在维护中国各民族的大团结和社会稳定、维护中国统一、促进民族自治地区经济社会的发展，保障少数民族的各项合法权益方面发挥了巨大的作用。所以 ACD 属于史实陈述，B 属于历史评价。

故选 B。

8. 【解答】1956 年召开的中共八大主要内容有：指出了国内的主要矛盾不再是农民阶级和资产阶级之间的矛盾，而是人民对于建立先进的工业国的要求同落后的农业国的现实之间的矛盾，是人民对于经济文化迅速发展的需要同当前经济文化不能满足人民需要的状况之间的矛盾；指出当前党和人民的主要任务是：集中力量发展社会生产力，实现国家工业化，逐步满足人民日益增长的物质和文化需要。所以八大正确分析了国内矛盾，提出了主要任务。

故选 C。

9. 【解答】据图片并结合所学知识可知，由于党和人民对于我国社会主义所处的发展阶段认识不足，对如何建设社会主义缺乏经验，又急于求成，忽视了经济发展的客观规律。1958 年发动的“大跃进”运动，导致以高指标、瞎指挥、浮夸风和“共产”风为标志的“左”倾错误泛滥。图片漫画正是浮夸风的表现。

故选 D。

10. 【解答】A 提出和平共存五项原则和 B 提出“求同存异”方针是在 20 世纪 50 年代；D 加入世界贸易组织（WTO）是在 2001 年；C1971 年 10 月 25 日，第 26 届联合国大会恢复了中国在联合国的合法席位，这是中国外交的重大胜利。故选 C。

11. 【解答】1970 年 4 月 24 日，我国第一颗人造地球卫星“东方红一号”发射成功，我国成为世界上第五个能独立自主研制并发射人造地球卫星的国家，这是我国航天事业发展的第一个里程碑，是我国航天事业发展中的历史性、开创性、奠基性事件，具有很强的时代性、影响性，将 4 月 24 日作为“中国航天日”，得到了各有关单位和航天界相关人士的普遍认可，最具代表性和纪念性。这颗卫星的发射开启中国人“探索宇宙、利用太空，造福人类”的征程。

故选 D。

12. 【解答】1978 年 12 月，中国共产党十一届三中全会在北京召开。全会确立解放思想、实事求是的指导思想，做

出把党和国家的工作重心转移到社会主义现代化建设上来和实行改革开放的重大决策，形成以邓小平为核心的党中央的第二代领导集体。

故选 A.

13. 【解答】由题目中的曲线图可以看出，从 1979 年到 2013 年，除个别年份外，海峡两岸的贸易是呈持续快速上升态势的，这充分说明了海峡两岸经济贸易往来日益密切。ACD 三项从图表中反映不出来，可排除。

故选 B.

14. 【解答】根据关键信息“1970 - 1972 年”可知，此时中国正处于“文化大革命”时期（1966 - - 1976），出现了知识青年下乡、红卫兵闹革命的情况，社会动荡。

故选 C.

15. 【解答】导弹部队是现代军队不可缺少的，主要担任核反击任务，1966 年中国组建战略导弹部队，被命名为第二炮兵，加强了新中国的国防建设，中国人民解放军从此走上了科技强军的道路。2015 年 12 月 31 日，中央军委举行仪式，将第二炮兵正式命名为“中国人民解放军火箭军”。从“二炮”到“火箭军”的发展历程见证了中国核力量的发展历程。

故选 A.

16. 【解答】依据已学知识可知，1973 年，袁隆平首次在世界上育成籼型杂交水稻，比普通水稻增产 20%，被称为“东方魔稻”，他被称作“杂交水稻之父”。

故选 D.

17. 【解答】题目给出的图片为“一位月收入 5000 元的北京职工，社保与公积金缴费情况”，图片中涉及养老、医疗、工伤、生育、公积金等，这反映了我国社会保障制度更加完善。

故选 B.

18. 【解答】据题干“古代学者记述一条河流的水位对埃及人生活的影响”可知这条河是尼罗河。在非洲东北部尼罗河，每年定期泛滥，水退后留下肥沃的黑土，便于农业种植，约从公元前 3500 年年开始，河流两岸陆续出现了几十个奴隶制小国大约，约公元前 3000 年左右，初步统一的古代埃及奴隶制国家建立，古希腊历史学家希罗多德说：“埃及是尼罗河的馈赠”。

故选 A.

19. 【解答】为了维护统一王国的统治和奴隶制社会秩序，汉谟拉比颁布了一部成文法典，史称《汉谟拉比法典》。从

题目中可以看到奴隶属于奴隶主的私人财产，如果有人窝藏了奴隶会对其处以死刑，说明法典实质上是为了维护奴隶主阶级的利益。

故选 B.

20. 【解答】7 世纪中期大化年间，孝德天皇颁布改新诏书参照中国隋唐制度实行改革的大化改新开始了，大化改新是日本从奴隶社会向封建社会过渡的标志，为后来繁荣奠定了基础，题目给出的内容均正确。

故选 D.

21. 【解答】根据所学知识可知：东罗马帝国定都君士坦丁堡，它是地跨欧亚非三洲的帝国，又被称作拜占庭帝国。

故选 C.

22. 【解答】由材料“教皇威胁要将亨利二世驱逐出天主教会，亨利二世不得不屈服，公开举行仪式，表示悔罪。”可知，在西欧封建社会时期，罗马教廷有至高无上的权利，可以与王权分庭抗礼。

故选 A.

23. 【解答】亚历山大大帝东征指公元前 334~公元前 324 年，马其顿国王亚历山大对东方波斯等国进行的侵略战争。公元前 4 世纪，马其顿国征服希腊各邦。前 334 年，马其顿王亚历山大率军进攻波斯，开始了亚历山大东征。历时十年，灭亡了包括埃及、巴比伦在内的庞大的波斯帝国，一直打到印度河流域，建立了空前庞大的亚历山大帝国。

故选 B.

24. 【解答】巴黎圣母院是一座典型的哥特式天主教堂。它建造全部采用石材，其特点是高耸挺拔，辉煌壮丽，整个建筑庄严和谐。雨果在《巴黎圣母院》比喻它为“石头的交响乐”。

故选 C.

二、非选择题（共 3 小题，满分 52 分）

25. 【解答】1. 从图中看出一五计划期间修建的位于西部地区的铁路是宝成铁路，一五计划的主要任务是集中力量发展重工业，第一个五年计划期间，我国先后施工的工业项目有一万多个，以鞍山钢铁公司为中心的东北工业基地形成，沿海原有的工业基地得到加强，华北和西北也建立了一批新的工业基地，从此，我国开始改变了工业落后的面貌，向社会主义工业化迈进。

2. 据材料“一个党，一个民族，如果一切从本本出发，思想僵化，迷信盛行，那它就不能前进，它的生机就停止了，就要亡党亡国...实事求是，是无产阶级世界观的基础，是马克思主义的思想基础”并结合所学知识可知，邓小平提出了解放思想，实行改革的主张，1978 年十一届三中全会召开，会议重新确立了解放思想，实事求是的思想路线，作

出把党的工作重心转移到经济建设上来，实行改革开放的伟大决策。此后在探索中国社会主义建设的道路上，邓小平从维护祖国和中华民族根本利益出发，创造性地提出“一国两制”的伟大构想。

1982年的中共十二大上，邓小平提出建设有中国特色的社会主义道路；1987年中共十三大，邓小平提出社会主义初级阶段的基本路线。

故答案为：1.（1）宝成铁路。（2）东北。

2. 解放思想，实行改革的主张；提出“一国两制”的伟大构想、提出建设有中国特色的社会主义道路、提出社会主义初级阶段的基本路线。

26. 【解答】1.（1）大庆石油工人王进喜，他带领队友参加石油会战，大庆油田的第一口井提前开钻，打出了原油，王进喜赢得了“铁人”称号。解放军战士雷锋，默默无闻地为人民做了很多好事，在一次意外事故中，雷锋不幸因公殉职，年仅22岁，雷锋牺牲后，毛泽东向全国人民发出了“向雷锋同志学习”的号召。雷锋用行动体现了以为人民服务为荣，以辛勤劳动为荣，他的精神影响了几代人。邓稼先是著名核物理学家，中国核武器研制工作的开拓者和奠基者，成功地设计了中国原子弹和氢弹，是中国核武器研制与发展的主要组织者、领导者，为我国的核武器研制事业做出了重大贡献，被称为“两弹元勋”。20世纪60年代，焦裕禄在河南省兰考县任县委书记，他带领兰考人民艰苦奋斗，治理灾害，直至生命的最后一息仍坚持工作，人们称颂他是“党的好干部”。

（2）这些英雄模范的事迹，体现了建国初期中国人民艰苦奋斗、勤俭节约、密切联系群众、全心全意为人民服务的优秀品质。

2. 据材料一“在特区建设的过程中，他深切地感受到中国内地大锅饭体制下，人们不珍惜时间，不讲究效率，国有企业普遍效率低下，不讲成本。袁庚认为改革开放就是要让人们振作起来，按经济规律办事，用经济手段去管经济。”可知，“时间就是金钱，效率就是生命”这一口号提出的背景是计划经济下的金钱观和价值观阻碍着改革开放大业；“时间就是金钱，效率就是生命”这一口号的提出在当时对国人思想产生了巨大影响，从而改变了人们的时间观念、效率观念。

3.（1）从采访实录妈妈的叙述中能看到改革开放前后的变化有：改革开放买东西很多都要票，改革开放后想买什么就买什么；改革开放前定量供应，改革开放后想吃什么就能买什么。变化出现的原因是改革开放前，由于经济发展水平低，商品供应严重匮乏，国家对生产和供应加以控制；改革开放后，随着生产力的迅速发展，物质丰富起来，购物的各种凭证也相继取消，成为往事了。

（2）选择的主题（领域）、设计的问题，如：主题（领域）：改革开放前后服饰的变迁；问题：改革开放前和改革开放后服装发生了怎样的变化？主题（领域）：改革开放前后食物的变化；问题：改革开放前和改革开放后食物发生了怎样的变化？主题（领域）：改革开放前后住房的变化；问题：改革开放前和改革开放后住房发生了怎样的变化？主题（领域）：改革开放前后交通的变迁；问题：改革开放前和改革开放后交通发生了怎样的变化？（问题具体，指向明确即可）

故答案为：1.（1）王进喜：大庆石油工人王进喜，他带领队友参加石油会战，大庆油田的第一口井提前开钻，打

出了原油，王进喜赢得了“铁人”称号。雷锋：解放军战士雷锋，默默无闻地为人民做了很多好事，在一次意外事故中，雷锋不幸因公殉职，年仅 22 岁，雷锋牺牲后，毛泽东向全国人民发出了“向雷锋同志学习”的号召。雷锋用行动体现了以为人民服务为荣，以辛勤劳动为荣，他的精神影响了几代人。邓稼先：邓稼先是著名核物理学家，中国核武器研制工作的开拓者和奠基者，成功地设计了中国原子弹和氢弹，是中国核武器研制与发展的主要组织者、领导者，为我国的核武器研制事业做出了重大贡献，被称为“两弹元勋”。焦裕禄：20 世纪 60 年代，焦裕禄在河南省兰考县任县委书记，他带领兰考人民艰苦奋斗，治理灾害，直至生命的最后一息仍坚持工作，人们称颂他是“党的好干部”。（2）艰苦奋斗、勤俭节约、密切联系群众、全心全意为人民服务的优秀品质。

2. 背景：计划经济下的金钱观和价值观阻碍着改革开放大业；影响：在当时对国人思想产生了巨大影响，从而改变了人们的时间观念、效率观念。

3. （1）变化：改革开放买什么东西很多都得要票，改革开放后想买什么就买什么；改革开放前定量供应，改革开放后想吃什么就能买什么。变化出现的原因：改革开放前，由于经济发展水平低，商品供应严重匮乏，国家对生产和供应加以控制；改革开放后，随着生产力的迅速发展，物质丰富起来，购物的各种凭证也相继取消，成为往事了。

（2）主题（领域）：改革开放前后服饰的变迁；问题：改革开放前和改革开放后服装发生了怎样的变化？主题（领域）：改革开放前后食物的变化；问题：改革开放前和改革开放后食物发生了怎样的变化？主题（领域）：改革开放前后住房的变化；问题：改革开放前和改革开放后住房发生了怎样的变化？主题（领域）：改革开放前后交通的变迁；问题：改革开放前和改革开放后交通发生了怎样的变化？（2 个问题即可，问题具体，指向明确即可）

27. 【解答】据图片可知，多山，多港，多岛，三面环海的地理环境，导致经济上农业不发达，航海业发达，商品生产和海外贸易占主导地位，形成小国寡民的城邦政治。古希腊广泛的海外贸易，殖民扩张及经济和文化交往活动，形成了宽松自由的社会环境，并较早地接受平等互利观念，利于民主政治的形成。古希腊城邦小国寡民，具有各邦长期独立自主的特征。希腊城邦政体的类型大致分为民主制，贵族制和君主制等。雅典和斯巴达是最著名的城邦，斯巴达实行贵族制，雅典以民主制著称。贵族制由元老院和贵族会议掌权，是一种集体领导的制度；民主制的特点是人民主权和轮番而治，是一种较充分的民主政治。各种政体虽然不同，但都体现了公民政治这一特点，古希腊各城邦出现了近现代几乎所有的政体形式，这是希腊对人类社会政治制度发展的贡献。

故答案为：①地缘因素——多山，多港，多岛，三面环海的地理环境，导致经济上农业不发达，航海业发达，商品生产和海外贸易占主导地位，形成小国寡民的城邦政治。②经济因素——古希腊广泛的海外贸易，殖民扩张及经济和文化交往活动，形成了宽松自由的社会环境，并较早地接受平等互利观念，利于民主政治的形成。③政治因素——古希腊城邦小国寡民，具有各邦长期独立自主的特征。希腊城邦政体的类型大致分为民主制，贵族制和君主制等。雅典和斯巴达是最著名的城邦，斯巴达实行贵族制，雅典以民主制著称。贵族制由元老院和贵族会议掌权，是一种集体领导的制度；民主制的特点是人民主权和轮番而治，是一种较充分的民主政治。各种政体虽然不同，但都体现了公民政治这一特点，古希腊各城邦出现了近现代几乎所有的政体形式，这是希腊对人类社会政治制度发展的贡献。