



考生须知	1. 本试卷共 10 页，27 道题，满分 100 分。考试时间 90 分钟。 2. 在答题纸上准确填写姓名、准考证号，并将条形码贴在指定区域。 3. 试题答案一律填涂或书写在答题纸上，在试卷上作答无效。 4. 在答题纸上，选择题用 2B 铅笔作答，其他试题用黑色字迹的签字笔作答。 5. 考试结束。请将答题纸和草稿纸一并交回。
------	--

第一部分选择题(共 48 分)

本部分共 24 小题，每小题 2 分，共 48 分。在每小题列出的四个选项中选出最符合题目要求的一项。

1. 1949 年 9 月 27 日。某会议做出决议：“中华人民共和国的国旗为红色五星旗，象征中国人民大团结。”这次会议是

- A. 中国人民政治协商会议第一届全体会议
- B. 中央人民政府委员会第一次全体会议
- C. 第一届全国人民代表大会
- D. 中国共产党第八次全国代表大会

2. 1949 年 10 月 1 日。某报社论写道：“中国人民已由过去被压迫被剥削的奴役地位，一跃而为现在管理国家政权的主人翁。占人类总数四分之一的中国人，从此在地球上站立起来了！”这篇社论的题目应是

- A. 《华北解放区的当前任务》
- B. 《庆祝新中国诞生，保卫世界和平》
- C. 《热烈庆祝西藏和平解放十周年》
- D. 《开辟中国特色社会主义新境界》

3. 图 1 是创作于 1950 年的漫画。它可以说明

- A. 西藏的和平解放
- B. 抗美援朝的背景
- C. 土地改革的作用
- D. “大跃进”的目标



图 1 邻居起火，不容坐视（依原图改绘）

4. 安徽省合肥市肥西县人均土地占有情况(单位:亩)

	地主	贫农	雇农
1951 年前	9.709	0.76	0.304
1952 年	2.206	2.17	2.66

带来以上变化的历史事件的意义是

- ①中国由农业国转变成为先进的工业国
- ②农民的生产积极性提高
- ③彻底摧毁地主剥削的封建土地所有制
- ④确立了土地的国有制度

A. ①②

B. ①④

C. ②③

D. ③④

5. 从图 2 中可以获得的信息是

- A. 我国社会主义政治制度建立
- C. 建成了多条通向西藏的铁路

- B. 中国完成了社会主义工业化
- D. 重工业建设集中在东北地区

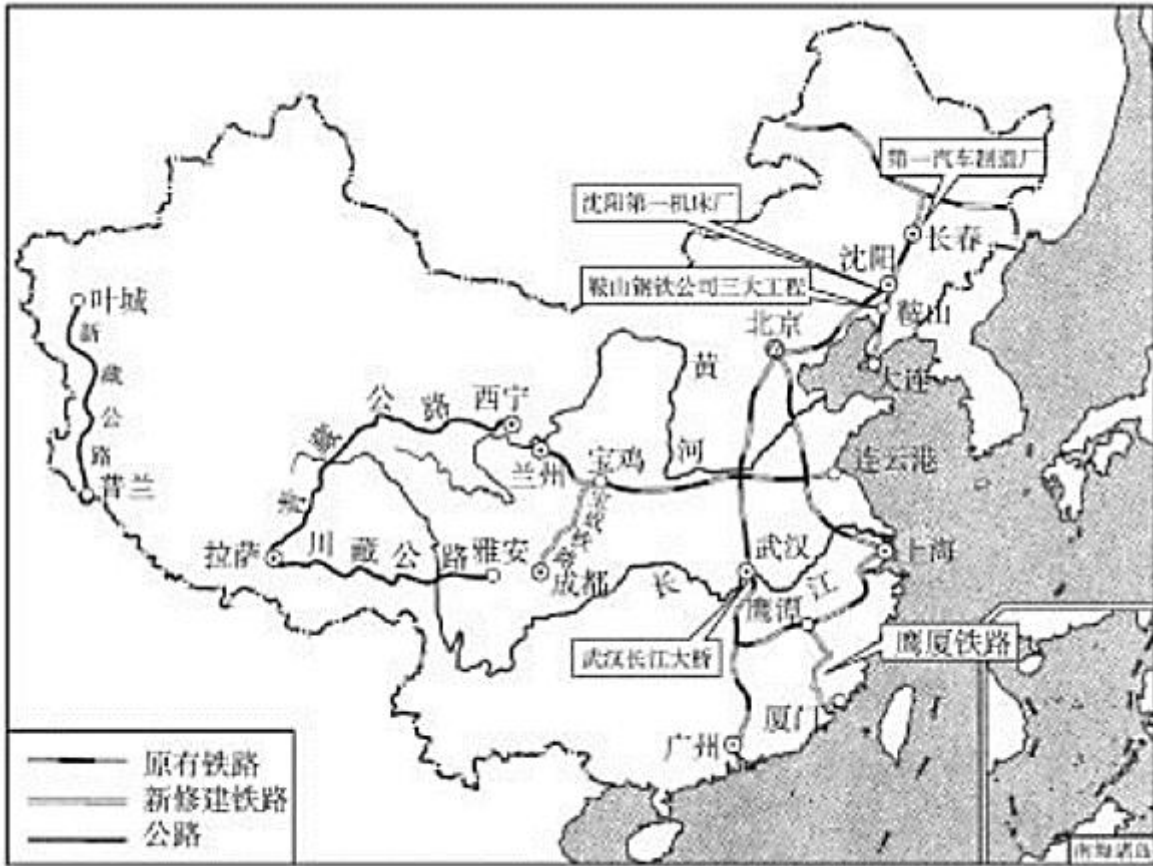


图 2 第一个五年计划期间工业交通主要建设成就分布示意图

6. 北京同仁堂是闻名全国的中药店，创建于清朝康熙八年(1669年)。1954年，国家开始对资本主义工商业进行社会主义改造，其经理乐松生顺应历史潮流，向国家递交申请，实行

- A. 公私合营
- B. 中外合资
- C. 承包经营
- D. 国企改革

7. 图 3 的场景是国庆游行队伍中的人们正在展示该年社会主义建设的最新成果。此场面发生在

- A. 1950 年
- B. 1954 年
- C. 1960 年
- D. 1966 年



图 3 参加国庆游行的队伍抬着《中华人民共和国宪法》模型通过天安门

8. 图 4 是大跃进时期的一幅宣传画，画旁配诗：“叶作风帆菜作船，长江飞渡若云烟；出自豆类成大器，家在东吴试验田。”它反映了这一时期

- A. 农业生产中的真实情况
- B. 经济建设取得重大成就
- C. 农业科技得到飞速发展
- D. 存在不切实际的浮夸风



图 4 大豆过江

9. “到 1981 或 1982 年，在最贫困的省份中，90%以上的家庭以户而不是以生产队为单位负责耕种以前的集体土地，这个制度在较富的省份中也日益推广开来。”以上材料说明

- A. 农业合作化达到高潮社的建立
- B. 手工业生产合作社的建立
- C. 人民公社化运动开始责任制推广
- D. 家庭联产承包责任制推广

10. 图 5 可以说明:中国

- A. 多种所有制经济共同发展
- B. 改革开放后综合国力增强
- C. 经济在长时期内稳定增长
- D. 社会保障体系在不断健全

2017 年中国城镇就业人口比例 (%)

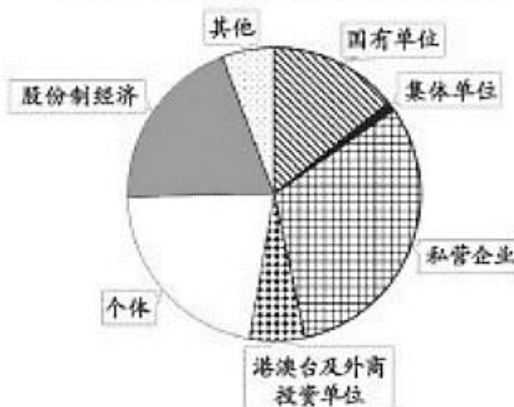


图 5

11. 有一个地区如此介绍自己：“位于珠江口东岸，与香港一水之隔，是中国改革开放和现代化建设先行先试的地区。”这个地区是

- A. 厦门
- B. 深圳
- C. 海南
- D. 浦东

12. 高新技术产品的进出口不仅反映了一个国家的开放水平，也反映出一个国家在科技和综合国力方面实力的强弱。

2000、2017 年中国高新技术产品进出口额 (单位: 亿美元)

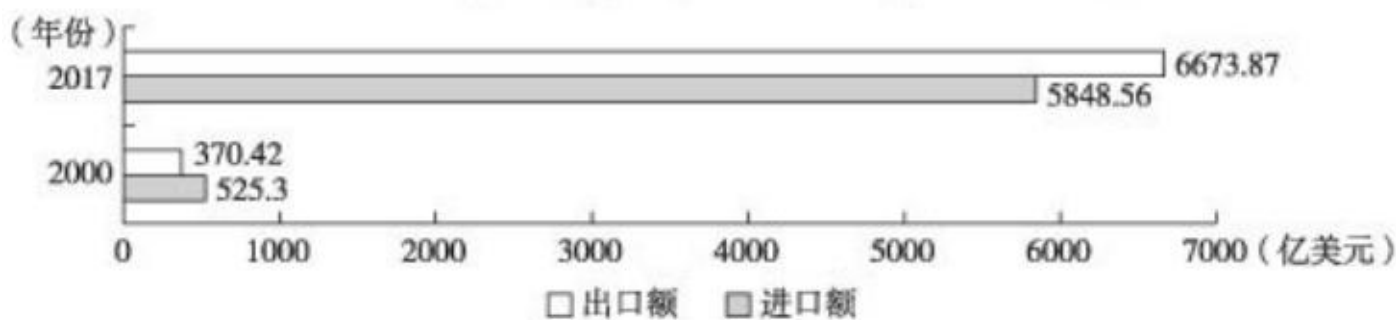


图 6

阅读图 6 可以得到的信息是:2000-2017 年中国高新技术产品

- A. 进出口额都有很大提高
- B. 2000 年出口额高于进口额
- C. 2017 年进口额高于出口额
- D. 在中国进出口总额中的比例保持不变

13. 依据《内蒙古自治区蒙古语言文字工作条例》《内蒙古自治区社会市面蒙汉两种文字并用管理办法》等法规，内蒙古自治区各级党政机关行文以及各机关团体、国营企事业单位各种牌匾、标语、路标等，蒙汉两种文字并用率已达到 90%以上。以上材料说明，民族区域自治政策

- A. 尊重少数民族宗教信仰自由
- B. 保持或者改革本民族风俗习惯
- C. 使用和发展各民族语言文字
- D. 保护少数民族地区的名胜古迹

14. 诗作《孩子，该回家了》中写道：“可恨的强盗将你拐走，泪水打湿了一个世纪。当历史驶进了新的港湾，一国两制的辉煌向你伸出了手臂。火红的紫荆盛开着，九七沿途顺风平安。孩子，该回家了！”诗中提到的“孩子”是

- A. 香港 B. 澳门 C. 台湾 D. 西藏



15. 某同学在网上查找资料，完成资料卡(如图7)。从中可以概括的主题是

1949—1987年	郑坚一家被台湾海峡分隔，书信断绝
1987年	郑坚寄出了给台湾家人的第一封书信，由香港中转，历时两个星期到达
2008年12月15日	两岸直接通邮，郑坚寄出了第一封从大陆到台湾的直邮家书，信件送达时间比之前节省一半

图7

- A. 海峡两岸经济交流，互利互补 B. 海协会与海基会开始对话
C. 台湾当局坚持不与大陆接触 D. 海峡两岸从隔绝到密切交往

16. 图8所示的军种成立于2015年，其军歌唱道：“大国长剑，威震苍穹；听党指挥，热血写忠诚。”这一军种的前身是

- A. 航空兵部队 B. 战略支援部队
C. 第二炮兵部队 D. 水而舰艇部队



图8

17. 1955年，周恩来总理在亚非会议上，针对各国间的矛盾和分歧，提出

- A. 加强中苏友好交流 B. 和平共处五项原则
C. “求同存异”的方针 D. 发展全球伙伴关系

18. 美国国务院1971年4月14日的一篇评估报告说：“今天，周恩来向关网乒乓球代表团明确表示：邀请他们以及若干美国新闻记者访华……策略性地改变了北京长期以来拒绝接受美国来访者的政策，并同时回复到更加灵活的对美政策。材料所述的事件

- A. 说明美国延续敌视新中国政策 B. 体现中国改善对美关系的态度
C. 标志中美关系开始走向正常化 D. 表明中美正式建立了外交关系

19. “发展杂交水稻，造福世界人民，是我毕生的追求和梦想。”发表这一感言的科学家是

- A. 邓稼先 B. 钱学森 C. 焦裕禄 D. 袁隆平

20. 历史评价是对历史事件、人物的作用、意义等的认识。以下各项属于历史评价的是

- A. 发现青蒿素的灵感来自中医药古典文献
B. 青蒿素类药物将重症疟疾的死亡率降低了1/3
C. 青蒿素的发现为人类健康事业作出巨大贡献
D. 屠呦呦获得2015年诺贝尔生理学或医学奖

21. 1990年《经济日报》报道：“如今，在中国，玉米面和甘薯仍有稳定的销路，但那已远远不仅是为了充饥。在精米白面供应比较充裕的地方，粗粮和杂粮作为独特口味和某些必不可少营养的来探，受到人们欢迎。”出现这一现象的原因是

- A. 粮食供应紧张
- B. 收入水平较低
- C. 人们注重健康饮食
- D. 追求生活方便快捷

22. “全国青少年模拟政协活动”首创于2012年，以高中生为主体，其核心是通过模拟人民政协的提案形成过程，同时模拟和体验人民政协的组织形式、议事规则，以了解和体会

- A. 中国共产党领导的多党合作和政治协商制度
- B. 中国历史上第一次全国人民参加的普选过程
- C. 生产资料私有制向社会主义公有制的转变
- D. 最高国家权力机关的运作方式和决策过程

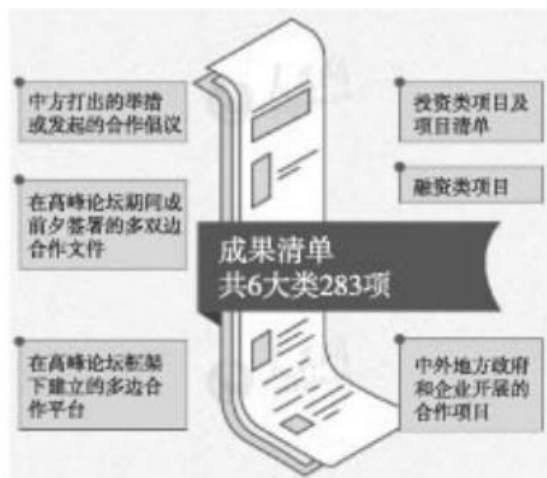
23. 某同学在团课学习中，从《中国共产党章程》中了解到“中国共产党以马克思列宁主义、毛泽东思想、邓小平理论、‘三个代表’重要思想、科学发展观、习近平新时代中国特色社会主义思想作为自己的行动指南”。这部党章通过于

- A. 第一届全国人民代表大会
- B. 中国共产党十一届三中全会
- C. 中国共产党第十五次全国代表大会
- D. 中国共产党第十九次全国代表大会

24. 以下两幅图片所示内容体现了



习近平主席在联合国发表题为《共同构建人类命运共同体》的主旨演讲（日内瓦，2017）



第二届“一带一路”国际合作高峰论坛成果（北京，2019）

- A. 世界各国实现空前的团结
- B. 中国在国际事务中发挥重要作用
- C. 世界贸易自由化完全实现
- D. 中国的现代化建设成就举世瞩目

第二部分非选择题(共 52 分)

25. (18分)历史有多种呈现方式，包括文献资料、图片以及历史文学作品等。

【画报上的共和国史】

材料一 1949年4月23日，人民海军诞生，此时海军武器装备非常落后，只有从原国民党海军中起义的部分小型舰艇，全部家底加起来也不过几千吨，还不如大国海军的一艘驱逐舰。《人民画报》2019年第4期发表了《纵横海疆 护卫和平——图记人民海军成立70周年》，部分图片如下：



图9 1966年，中国自行研制的33型常规动力鱼雷潜艇在武昌造船厂建成



图10 1973年南海舰队
在汕头海区保护渔船



图11 1988年，在中国南海，南沙
卫士居住的第一代的高脚屋



图12 歼-15舰载战斗机准备着舰
(2012年中国第一艘航空母舰“辽宁
舰”入列)



图13 2014年，澳大利亚军医与
中国海军军医共同诊治患者(地点：
南太平洋岛国)



图14 2015年，中国
海军临沂舰撤离在也
门的中国公民

(1)从材料一的图文材料中，提炼与人民海军发展相关的主题，并举出与这一主题吻合的图片(每一主题两幅图片即可)。(6分)

主题1	图片(序号)	主题2	图片(序号)
武器装备不断更新			

【文学作品中的共和国史】

材料二作家阿耐的长篇小说《大江大河》主要人物的生活经历(部分)如下:

宋运辉:1978年高考进入大学,毕业后被分配到一家大型国管企业金州总厂,当上了技术员。在国家政策的支持下,金州总厂获得生产经营自主权,迈入国际市场。

雷东宝:小雷家村党支部书记。他组织村民签订土地承包书。20世纪八十年代他带领乡亲们创办砖窑厂、电缆厂等。1986年小雷家村进行改造,村民纷纷搬进新居。

杨巡:个体户出身,一直怀有创业梦想。他从卖馒头开始,后来经营电线、电缆。1992年他投资建造电器建材市场。1994年收购木器厂,建设新市场,成为大型民营企业。

(2)依据材料二并结合所学,完成表格。(10分)

要求:从上述人物的生活经历中提取情节,指出它所反映的中国改革开放的重大事件,并分析该历史事件的作用。



人物：宋运辉		
小说情节（抄写材料原文）	所反映的历史事件	历史事件的作用
1		教育工作的拨乱反正，为国家现代化培养大批人才
2	金州总厂获得生产经营自主权	城市经济体制改革
人物：_____（从雷东宝、杨巡中任选一位）		
小说情节（抄写材料原文）	所反映的历史事件	历史事件的作用

(3) 是否可以用《大江大河》这部小说为依据，解释中国社会的变迁？请说明理由。（2分）

26. (18分) 领袖引领发展方向，模范彰显时代精神。

材料一“两弹一星”功勋奖章、改革先锋称号获得者于敏同志(1926-2019年)资料摘录如下：

朱光亚院士评价称，在突破氢弹的技术途径的过程中，“于敏发挥了关键作用”，可以说是首功。被问及科研的动力，于敏感慨地说：“童年亡国奴的屈辱生活给我留下了惨痛的记忆，中华民族不欺负旁人，也不能受旁人欺负，核武器是一种保障手段，这种民族情感是我的精神动力。”

于敏所说的“欺负”，并非仅指过去而言。20世纪五十年代，美国等核大国多次威胁使用核武器来打击中国。于敏回忆：“抗美援朝的时候，美军统帅麦克阿瑟就曾建议用核武器袭击中国。它是真的在进行核讹诈、核威慑，不是报纸上说说玩儿的。”

—摘编自《信念创新奉故：国家最高科学技术奖获奖者风采》等

(1) 依据材料并结合所学，说说于敏同志的科技成就对于中国的意义。（4分）

材料二王启民，大庆油田有限责任公司原总经理助理。他始终用“大庆精神”和“铁人精神”从事科学研究，敢于挑战油田开发极限；坚持“宁肯把心血熬干，也要让油田稳产再高产”的信念，攻克一道道技术难关，创造多项世界纪录。他是一代石油人的杰出代表，为“铁人精神，赋予了新的时代内涵。

—摘编自《关于改革开放杰出贡献拟表彰对象的公示》（原载2018年11月26日《人民日报》）

(2) 依据所学，说出20世纪六十年代“铁人精神”的代表人物。王启民为“铁人精神”注入了什么新内涵？（4分）

(3) 以下是龙平平著《邓小平与他的事业》的部分目录。

第六章 邓小平与十一届三中全会.....	(153)
6—1 中国又一次走到了“十字路口”.....	(155)
6—2 要“实事求是”，不要“两个凡是”...	(156)
6—3 邓小平与真理标准问题大讨论	(160)
.....	

①依据所学，参照示例，说明第六章第2节或第3节与本章主题的关系。（2分）

示例：第1节：粉碎“四人帮”后，人们要求纠正“文化大革命”的错误，十一届三中全会为社会主义建设指出了新的道路。

②中共十一届三中全会具有哪些重要意义？（4分）

③为了说明邓小平在 1978 年后的贡献,《邓小平与他的事业》还可能设置哪些章?请设计一章的题目,并说明设计此章题目的原因。(4 分)

27. (16 分)建国初期,海淀区四季青地区因常年生产蔬菜而被誉为“蔬菜之乡”。今天的四季青已无传统农业,正在为全国科技创新中心核心区建设、首都建设国际一流的和谐宜居之都作出贡献。

材料一

批注

四季青合作社 1952 年只有 108 间种植蔬菜的温室,到 1953 年扩大到 144 间,1954 年由东冉村 4 个社合并扩大到 614 间温室。现在四季青、远大、金庄 3 个社合并扩大后已成为一个有 652 间温室的大社了。

(1) 阅读材料,概括四季青农业合作社的变化。(2 分)

合并社后,各社的领导力量集中了,能按照每个人的特长分工,使生产搞得更好;土地多了,容易调茬(在一块地上轮换种植不同的作物)了,使一年四季都有青菜供应首都,成为名符其实的四季青。土地连片了,给机耕和全面规划打下基础。

(2) 结合材料和所学,说说变化产生的影响。(4 分)

——摘编自李墨林“在北京农村工作会议上的发言”

(约 1955 年 10 月)

注:李墨林(1911—1975 年):四季青劳动模范

材料二



A. 国家网络安全产业园:被国家工信部确定为国家网络安全产业园核心区和孵化区,将打造成为全国第一个集基础科研、学术讨论、产业发展等多功能于一体,专注网络安全的国家级产业园区

B. 中关村军民融合产业园:签约企业涵盖大数据及人工智能、集成电路及核心传感器、无人系统、新材料、光电装备、高端海洋装备等领域,业务涉及海军、陆军、空军、火箭军等军兵种

C. 平庄郊野公园：结合本区域的历史地位、自然风貌等现状特征，形成中国古典园林山环水抱的意境，突出郊野的特色，把城市和郊野统一协调在绿色空间之中

D. 海舟慧霖葡萄观光园：充分利用温室大棚，采用全方位物联网农业智能数据监控系统，种植 40 余个葡萄品种；园区还设有采摘区等休闲功能区，使观光休闲智慧农业成为主旋律

图 15

(3) 综合以上所有图文材料，概括今天的四季青与建国初期相比，发生了哪些变化。(6 分)

(4) 社会调查是行之有效的学习方法。某校同学计划在四季青地区进行一次社会调查，请帮助他们完善调查问卷。(4 分)

调查问卷

您好!

我们是海淀区某中学的学生，希望了解四季青地区的变迁，并展望地区的进一步发展。希望您能如实介绍您工作或居住周边建设项目的情况。感谢您的支持和合作!

某学校八年级社会调查组

访谈对象：项目 _____ (从图 15 A—D 中选取，填写字母序号即可)

人员 _____ (工作人员、参观者或周边居民等均可)

访谈问题：

- ① _____
- ② _____

访谈问题要求：有利于调查目的的达成，与所选项目建设背景、发展目标等关系密切，不脱离访谈对象的工作或生活。



2019 北京海淀区初二（下）期末历史参考答案



第一部分 选择题 （共 48 分）

题号	1	2	3	4	5	6	7	8	9	10
答案	A	B	B	C	D	A	B	D	D	A
题号	11	12	13	14	15	16	17	18	19	20
答案	B	A	C	A	D	C	C	B	D	C
题号	21	22	23	24						
答案	C	A	D	B						

第二部分 非选择题（共 52 分）

25. （18 分）

(1)

主题 1 图片依据（序号）

武器装备不断更新

答案示例：

主题 2	图片依据 (序号)	主题 2	图片依据 (序号)	主题 2	图片依据 (序号)
保卫中国人民安全	10 14	维护国家主权	10 11	活动范围扩大	13 14

(2)

人物：宋运辉

小说情节	所反映的历史事件	历史事件的作用
1 1978 年高考进入大学	恢复高考制度	
2		调动了企业、职工的积极性，增强了企业活力，促进经济发展，有利于社会主义市场经济体制建立和发展

答案示例 1：

人物：雷东宝

小说情节（抄写材料原文）	所反映的历史事件	历史事件的作用
组织村民签订土地承包书	家庭联产承包责任制推广	激发了农民的劳动热情，农业生产和农民收入均有很大提高

带领乡亲们创办砖窑厂、电缆厂等 农村乡镇企业发展 促进农民致富和实现现代化

答案示例 2:

人物: 杨巡

小说情节(抄写材料原文) 所反映的历史事件 历史事件的作用

建设新市场,成为大型民营企业 发展以公有制为主体的多种所有制经济 促进经济发展,有利于社会主义市场经济体制建立和发展

(3)不可以。文学作品包含虚构成分(作者主观因素),不能作为研究历史的证据。

26. (18分)

(1)鼓舞了中国人民的志气,振奋了中华民族的精神。打破了当时有核大国的核垄断;增强了我国的国防实力,大大提高了我国的国际地位。

(2)代表人物:王进喜。

新的时代内涵:创新精神;重视科技作用。

(3)①答案示例:

第2节:“两个凡是”的推行引起普遍不满,引发真理标准问题大讨论,为十一届三中全会召开准备了条件。

第3节:真理标准问题大讨论是一场深刻的思想解放运动,为十一届三中全会召开准备了条件。

②中共十一届三中全会开启了改革开放和社会主义现代化的伟大征程。这次会议实际上形成了以邓小平为核心的党的第二代中央领导集体。中共十一届三中全会以后,中国共产党在思想、政治、组织等方面进行全面拨乱反正。

③答案示例1:章节题目:邓小平与社会主义市场经济体制;

原因:1992年,邓小平南方谈话,提出计划和市场都是经济手段,关键是发展经济,进一步解放了人们的思想,中国共产党第十四次代表大会明确提出要建立社会主义市场经济体制。

答案示例2:章节题目:邓小平与港澳回归;

原因:邓小平创造性地提出“一国两制”的伟大构想,为香港和澳门回归祖国开辟了途径。

27. (16分)

(1)农业合作社规模扩大。(或农业合作化进一步发展)

(2)生产规模扩大,有利于合理分工和机械化生产,为北京市民提供更多的蔬菜。

(3)建国初期,四季青以农业闻名;今天四季青产业多元化;发展休闲、观光农业(或不再从事传统农业);发展高科技产业;重视生态环境建设,提高人们生活质量。

(4)(略)

