



北京师大附中 2020 届上学期初中九年级期中考试历史试卷（中考班）


本试卷有 2 道大题。考试时长 60 分钟，满分 100 分。

一、选择题(本大题共 30 小题，每小题 1.5 分，共 45 分)


- 若以“我国境内著名的原始人类”为题开展研究性学习，主要的证据来源应该是
A. 神话传说 B. 史书记载 C. 学者推断 D. 考古发掘
- 我国有文字可考的历史始于商朝，对这一说法最有力的证据是



A



B



C



D

- 如图是北京西周燕都遗址博物馆中青铜器克罍(léi)的铭文拓片，其大意为：周王对太保说，我非常满意你的供奉，命你的儿子克做燕地的君侯。该铭文拓片可直接用于研究



- 禅让制 B. 郡县制 C. 分封制 D. 世袭制
- 如图是《中华传统文化经典百篇》的目录截图，图中两个空白书名号中应填写的是

兼爱	《 》	(107)
非攻	《 》	(114)
《孟子》三章	《孟子》	(118)
齐桓晋文之事		
天时不如地利		
民为贵		
逍遥游	《庄子》	(130)

- 老子 B. 孔子 C. 墨子 D. 韩非子



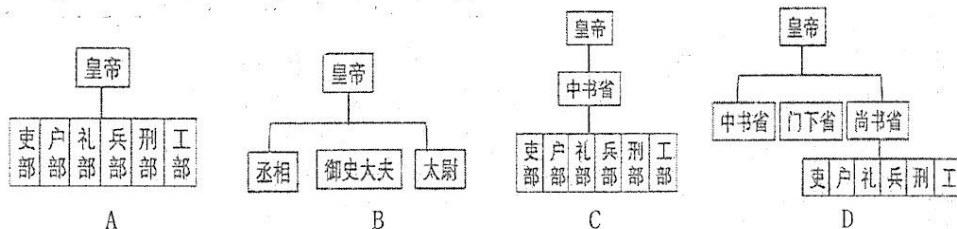
5. 许多成语来源于历史。一位同学搜集了如下成语：退避三舍、卧薪尝胆、围魏救赵和纸上谈兵，从这些成语可以看出春秋战国时期的重要时代特征是

- A. 经济快速发展
- B. 国家实现统一
- C. 学术思想活跃
- D. 军事战争不断

6. 秦孝公即位时，秦国“兵弱”，而商鞅变法后，秦人“勇于公战”。这是因为变法

- A. 奖励耕织
- B. 推行县制
- C. 奖励军功
- D. 允许土地自由买卖

7. 下列示意图中反映了秦朝中央行政系统的是



8. 《史记·秦始皇本纪》提到“一法度衡石丈尺，车同轨，书同文字”。贾谊《过秦论》提到“乃使蒙恬北筑长城而守蕃篱，却匈奴七百余里”。秦朝实行这些措施的主要目的是

- A. 兴修水利
- B. 奖励军功
- C. 兼并诸侯
- D. 巩固统一

9. 汉武帝为消除封国叛乱的威胁所采取的措施是

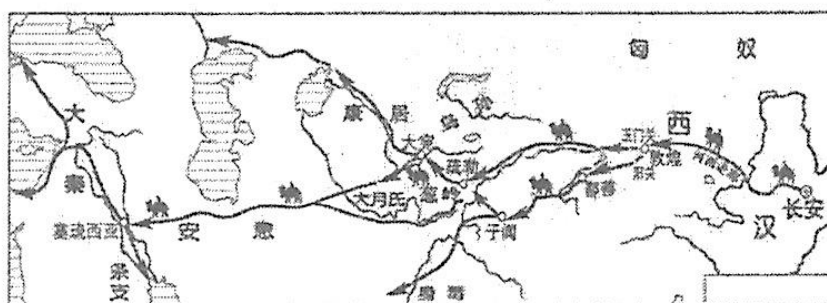
- A. 矫秦之失策，封建王侯
- B. 有敢偶语诗书者弃市
- C. 罢黜百家，独尊儒术
- D. 令诸侯得推恩分子弟，以地侯之

10. 据下侧“笔记卡片”判断，这页笔记记录的主题是

政治上：颁“推恩令”，设刺史
经济上：盐铁专卖，统一铸五铢钱
思想上：“罢黜百家，独尊儒术”

- A. 秦始皇建立中央集权制度
- B. 汉武帝巩固“大一统”
- C. 唐玄宗开创开元盛世
- D. 宋太祖强化中央集权

11. 识读历史地图是学习和研究历史事件的重要方式。结合所学指出下图反映的历史事件是



- A. 张骞出使西域 B. 汉代丝绸之路 C. 玄奘西行 D. 郑和下西洋
12. 东汉初期，经过刘秀的励精图治，出现了政治清明、经济发展、社会安定的治世局面。史称
- A. 文景之治 B. 贞观之治 C. 光武中兴 D. 开元盛世
13. 历史推论离不开对史实的正确解读，下列历史推论正确的是
- A. 休养生息——使汉武帝“大一统”局面迅速出现
- B. 罢黜百家，独尊儒术——从此儒学成为封建统治的正统思想
- C. 张骞通西域——解除了匈奴的威胁
- D. 《伤寒杂病论》——对外科手术及“麻沸散”进行了详细论述
14. 2017年5月14日，习近平总书记在“一带一路”国际合作高峰论坛上指出：古丝绸之路跨越尼罗河流域、两河流域、印度河和恒河流域、黄河和长江流域……古丝绸之路跨越的“尼罗河流域”诞生了
- A. 古印度文明 B. 古埃及文明 C. 古巴比伦文明 D. 古希腊文明
15. 伯里克利任职期间，雅典民主政治达到极盛。下列情景可能出现在他统治时期的是
- ①公民甲按时参加城邦活动，获得了补贴 ②某女子在公民大会上演讲
- ③公民乙通过抽签的方式担任了国家公职 ④外邦人丙无权享受城邦政治权利
- A. ①②③ B. ①②④ C. ②③④ D. ①③④
16. 历史课上，老师安排同学们收集日本大化改新、伊斯兰教的传播、法兰克王国、西欧中世纪的城市等相关资料，作为下节活动课讨论的内容。该活动课的主题应该是
- A. 人类文明的开端 B. 改革促进社会进步
- C. 城市，让生活更美好 D. 亚欧封建社会
17. 下列关于“三角贸易”路线和内容的表述，正确的是
- A. 欧洲(廉价商品)→非洲(黑人)→美洲(金银、原料)→欧洲
- B. 欧洲(金银、原料)→非洲(黑人)→美洲(廉价商品)→欧洲
- C. 非洲(黑人)→欧洲(廉价商品)→美洲(金银、原料)→欧洲
- D. 非洲(黑人)→美洲(金银、原料)→欧洲(廉价商品)→非洲
18. 文艺复兴时期的圣母像与中世纪的圣母像有很大不同，这主要是因为



中世纪圣母像



文艺复兴时期圣母像

- A. 画家的绘画技法有了很大提高
- B. “人”的觉醒
- C. 但丁、达·芬奇等人的积极倡导
- D. 教会的要求

19. 英国伦敦环球剧院的建成是为了表达对一位天才的怀念之情，他的代表作《罗密欧与朱丽叶》被全世界公认为传世经典。这位天才是()

- A. 但丁
- B. 达·芬奇
- C. 彼特拉克
- D. 莎士比亚

20. 下面所示法律条文出自下列哪部法律文献?

凡未经议会同意，以国王权威停止法律或停止法律实施之僭越权力，为非法权力。

凡未经议会准许，借口国王特权，为国王而征收，或供国王使用而征收金钱，超出议会准许之时限或方式者，皆为非法。

议会之选举应是自由的。

- A. 《独立宣言》
- B. 《人权宣言》
- C. 《权利法案》
- D. 《民法典》

21. 下列内容，史实与结论对应正确的一组是

- ①新航路开辟——世界开始联为一个整体
- ②“三角贸易”——促进了欧洲资本主义发展
- ③萨拉托加大捷——标志着美国独立战争结束
- ④《民法典》——体现了自由平等、保护私有财产等原则

- A. ①②③
- B. ②③④
- C. ①③④
- D. ①②④

22. 某同学在复习《跨入近代社会》这一单元时，列出了英国资产阶级革命、美国独立战争、法国大革命的相同点，下列各项表述正确的是

- ①资产阶级都在革命中起到领导作用
- ②都以暴力方式进行
- ③都源于封建专制统治阻碍了资本主义发展
- ④都促进了资本主义的发展

- A. ①②③
- B. ②③④
- C. ①②④
- D. ①②③④



23. 1861 年，沙皇亚历山大二世宣称：“继续拖延只会更加引起灾祸，只会对整个国家，特别是对地主阶级造成有害的、灾难性的后果。”为此他采取的改革措施是

- A. 签署了废除农奴制法令
- B. 进行殖民扩张与掠夺
- C. 实行“文明开化”政策
- D. 加入“三国协约”集团


24. 1860 年，林肯代表美国共和党参加总统竞选，主题是“联邦必须而且将会得到保留”。这表明林肯

- A. 维护国家统一的决心
- B. 主张与南方黑人奴隶主妥协
- C. 主张废除黑人奴隶制
- D. 抗击英国殖民统治的决心

25. 创新与发展是当今世界的主题。日本明治维新时期，为以后科技创新与可持续发展奠定坚实基础的政策是

- A. 废藩置县
- B. 允许土地买卖
- C. 加强中央集权
- D. 努力发展教育

26. 如图为一位发明家耗时 20 余年完成的工业动力机器，在某种程度上结束了人类对畜力、风力和水力的依赖。这位发明家是



- A. 哈格里夫斯
- B. 瓦特
- C. 史蒂芬孙
- D. 富尔顿

27. 《世界文明史》中写道：“如果人们把整个人类社会的演进用 12 个小时来表示，那么现代工业时代只代表最后的 5 分钟，而不是更多。英国是最先发生这个 5 分钟事件的地方……”此句中的“5 分钟事件”是指

- A. 工业革命
- B. 第二次工业革命
- C. 英国资产阶级革命
- D. 处死查理一世

28. 1848 年，由马克思和恩格斯共同起草，标志着马克思主义诞生的著作是

- A. 《人权宣言》
- B. 《资本论》
- C. 《人民宪章》
- D. 《共产党宣言》

29. 霍布斯鲍姆的“年代四部曲”详细描述了欧洲的现代化历程。你认为工业、工厂、工人阶级、法国大革命这些关键词会是哪本著作的核心内容

- A. 《帝国的年代： 1875~1914》
- B. 《资本的年代： 1848~1875》
- C. 《革命的年代： 1789~ 1848》
- D. 《极端的年代： 1914~ 1991》



30. 历史事实指的是历史的真实情况，历史观点是分析历史事实的看法和状态。下列选项中属于历史观点的是
- A. 马克思指出，英国资产阶级革命是一场“欧洲范围的革命”
 - B. 美国独立战争期间，乔治·华盛顿被任命为大陆军总司令
 - C. 1804年拿破仑加冕称帝，建立法兰西第一帝国
 - D. 章西女王领导印度起义军英勇抗击英国军队

二、材料解析题(本题共4道大题，共55分。第31题15分，第32题17分，第33题16分，第34题7分)

31. (15分)联结的世界·变化的世界·发展的世界

材料一


<p style="text-align: center;">新航路开辟示意图</p>	<p>美洲的作物在非洲、亚洲和欧洲生根发芽，有玉米、马铃薯、豆类、番茄、美洲辣椒、花生……到了18世纪，在亚欧人的饮食中，玉米和马铃薯的比重大大提高。花生和马铃薯……以丰厚的产出，支撑着众多的人口。</p> <p style="text-align: right;">——摘编自《新全球史》</p>
---	---

(1)观察材料一中的地图，写出开辟①②两条新航线的航海家。(2分)依据材料一，概括新航路开辟的影响。(4分)

材料二

建筑图片	图片解读
	<p>“光荣革命”后，英国议会通过《权利法案》，确立了议会在国家政治生活中的最高地位，逐渐形成了君主立宪制。</p>
<p>图1 威斯敏斯特宫，又称议会大厦，是英国议会所在地</p>	



 <p>图2 自由女神像，女神右手高举火炬，左手持有一部典籍，上面刻着“1776年7月4日”</p>	
 <p>图3 埃菲尔铁塔，为庆祝法国大革命胜利100周年而建造</p>	

(2)仿照材料二中对图1的解读示例，从图2、图3中任选一幅，完成对该图片的解读。(4分)

材料三

1811—1871年英国就业人口比例(%)的变化

年代 行业	1811	1821	1831	1841	1851	1861	1871
农业	35.2	33.3	28.1	22.3	22.0	18.8	15.3
工商运输业	44.4	45.9	42.1	48.5	53.8	55.7	54.6
其他	20.4	20.8	29.8	29.2	24.2	25.5	30.1

(3)观察材料三，写出1811~1871年期间英国的“就业人口”比例发生的变化。(3分)说出变化的主要原因。(2分)

32. (17分)城市发展折射出社会的变迁

材料一 中世纪西欧城市气象



市民们通常能说服国王向他们颁发皇家特许状，准许他们拥有自己的市政厅、法院以及市外属地；准许商人和工匠组织行会，用以防护和互助，但不能完全摆脱国王和领主控制。正如当时的俗语所说的那样：“城市的空气使人感到自由。”在某些地区，一批批城市联合起来组成联盟，这些联盟成为强有力的政治及经济统一体。1350年，不来梅、但泽等城市组成了汉萨同盟，迫使外国承认它们的商业特权，实际上垄断了北部欧洲的贸易。

——摘编自《全球通史》

(1) 依据材料一，指出中世纪西欧城市的发展状况。(3分)

材料二 佛罗伦萨城的历史遗迹



图1 米开朗琪罗广场



图2 但丁故居




图3 达·芬奇故居

(2) 佛罗伦萨位于意大利中部，是文艺复兴的摇篮。去过当地的网友纷纷感慨，佛罗伦萨上空至今仍弥漫着浓浓的文艺复兴韵味。请参照范例，从图2、图3中任选其一，说明与其相关的历史人物，以及他们的成就所体现的“文艺复兴韵味”。(4分)

【范例】

图1 米开朗琪罗是文艺复兴“美术三杰”之一，《大卫》是其创作的大理石雕塑。塑造了大卫的英雄形象，表现了人类的巨大力量，是人文主义思想的具体体现。

材料三 近现代城市的发展

序号	资料
1	19世纪后期，伦敦有钱人以乘坐汽船游览泰晤士河为时尚。但这些巨大的蒸汽轮船，在河中冒着呛人的浓烟；岸边工厂排放的污水，也使河水变得污浊不堪。
2	1955年日本经济开始进入高速增长期。电视、冰箱、洗衣机及塑料制品的普及，东京的垃圾排放量随即急剧上升，使焚烧塑料产生的有害气体及垃圾处理场环境问题成为主要公害之一。
3	从2005年起，上海市科委先后在工业节能、交通节能、资源循环利用等方面部署了约200项重大科技攻关项目，为上海的低碳发展之路奠定了良好技术基础。
4	丹麦哥本哈根利用风能资源，建立海上风能发电厂，总产能160兆瓦，占全国耗电量的2%，为15万户居民提供电能，年碳减排量66万吨。
5	纽约是国际级的艺术及传媒中心，被视为都市文明的代表。纽约有着多家著名大学，有着众多的世界级博物馆、画廊和演艺比赛场地，是西半球的文化及娱乐中心之一。
6	北京是全球拥有世界文化遗产最多的城市，拥有众多名胜古迹和人文景观。北京市会展、新闻出版业发达，注册博物馆多达151座，列世界第二。北京同时也是全国教育最发达的地区。

(3) 阅读上表中的资料，围绕城市发展，提炼两个主题，主题立意明确，每个主题必须涵盖两条或以上资料。



(6 分)

材料四 北京建设“世界城市”

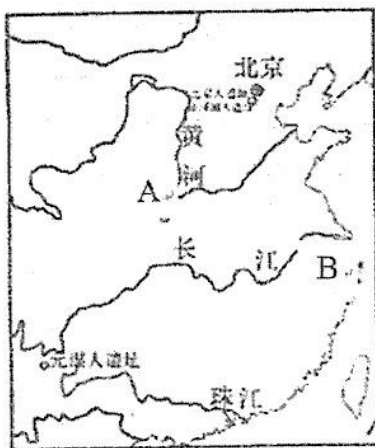
北京市提出了建设“世界城市”的目标。要实现“世界城市”的目标，对城市生态环境提出更高要求，将环境保护与建设“世界城市”目标相结合，则是实现环境保护与建设“世界城市”“双赢”的有效途径。

(4)北京建设“世界城市”需要同学们的参与，请你提出一项助力北京建设环境友好型城市的行动建议。(4 分)


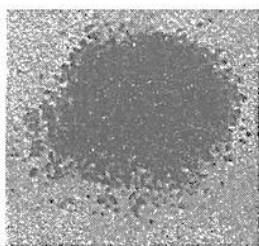
要求：紧扣“北京建设环境友好型城市”主题，切实可行；说出具体做法。

33. (16 分)自然环境与人类社会的发展密切相关。

材料一



(1)下列图片与材料一中 A 处遗址有关的是_____，与 B 处遗址有关的是_____。(只填写序号，4 分)



- ①半坡遗址出土的粟
- ②河姆渡遗址出土的有稻穗纹的陶器
- ③干栏式建筑想象复原图
- ④半地穴式房屋想象复原图

(2)依据材料一，说出我国境内原始人类遗址分布的特点。并说明原因。(4 分)

材料二

地质学、气象学和考古学的发现，也可以连贯到中国初期早期的统一。黄河夹带大量泥沙，随时有阻塞河床，冲破河堤，淹没人畜，损坏作物的可能，局部治理无济于事……《孟子》一书中提到治水十一次之多。足见光治水一事，中国之中央集权，已无法避免。中国季风气候显著，季风与农业的关系，也促使中国在公元前趋向统一。中



国农产区雨量 80%出现于夏季三个月内。且由于自然地理因素，旱涝灾害频发。灾荒时，邻国如不接济，即可能发生战事……凡此种种，都增加了中央集权的趋向。

——摘编自黄仁宇《赫逊河畔谈中国历史》

(3)依据材料二，说明中国中央集权制度的形成与自然环境因素之间的关系。(3 分)

材料三

这些新涌入地球的几十亿人给我们的家园施加了压力，这种压力即使在人口相对稀少、十分富裕的美国也随处可见——为从内布拉斯加到得克萨斯潘汉多的大草原提供灌溉水的巨大的奥格拉拉地下蓄水层的枯竭;加利福尼亚的牧场和长岛的马铃薯地向住宅区的转变；西北部残存的已被砍伐殆尽的原始森林;全国已知的 99%的未被清理且仍在污染水源的有毒垃圾堆。不仅美国，以上问题已随着第二次工业革命的传播成为一个世界范围的问题。

——摘编自斯塔夫里阿诺斯《全球通史》

(4)依据材料三，指出人类社会对环境造成的影响。(3 分)

材料四

 <p>1970年美国各地约 2000 万人发起了宣传环境保护的大游行，“世界地球日”从此诞生。</p>	 <p>1989 年中国颁布《中华人民共和国环境保护法》。</p>	 <p>1996 年联合国人居大会提出了“宜居城市”概念。生态环境是一个城市是否宜居的重要指标。</p>
--	---	---

(5)依据材料四，谈谈人类社会应如何更好地保护自然环境。(2 分)

34. (7 分)史料是历史研究的基础

【史料鉴别】

材料一 就性质而言，史料有原始史料(当时留下的事物、文件、记录、日记、当事人的回忆录、调查记录、群众传说);撰述史料(根据原始史料撰写的历史著作，如《春秋》、《史记》等);依据载体的不同，史料可以分为实物史料、文字史料、口述史料、声像史料、数字化史料等类型。

——李剑鸣《历史学家的修养和技艺》

阅读下列史料，并依据材料一，进行判断。




图1 罗马万神庙




图2 巴比伦空中花园(想象图)



图3 《汉谟拉比法典》石柱(局部)




图4 《全球通史》




图5 第一次世界大战后的欧洲(照片)

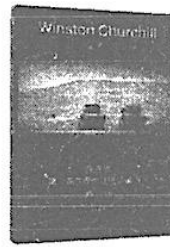


图6 丘吉尔《第二次世界大战回忆录》

(1)上述史料中,属于原始史料的是_____ (2分);属于撰述史料的是_____。(2分)

【史料运用】

材料二 口述史料,不仅可以作为文献史料的补充,还具有不可替代的特殊价值,例如,口述史提倡创立平民化的历史,让不掌握话语霸权的人们,包括社会底层的百姓、少数裔族群和妇女都有发出自己声音的可能性,使这些人的经历、行为和记忆有了进入历史记录的机会,并因此构成历史的一部分。此外,口述史具有特有的“个人性”,重视从个人的角度来体现对历史事件的记忆和认识。但是,口述中往往会有太多或有意,或无意的记忆失误,也会有有意的、无意的谎言。因此,使用史料过程中,需要将口述材料与文献记载互相参考。

——摘编自定宜庄《口述史料的独特价值与史料的整理鉴别》

(2)某校研学小组搜集了美国前总统林肯的作品《亚伯拉罕·林肯自述》,其中涉及到关于美国南北战争的内容。请依据材料二,结合所学,指出其作为研究美国内战的资料,具有哪些局限性?(2分) 应该如何弥补?(1分)



参考答案

一、选择题(本大题共 30 小题, 每小题 1.5 分, 共 45 分)

1	2	3	4	5	6	7	8	9	10
D	A	C	C	D	C	B	D	D	B
11	12	13	14	15	16	17	18	19	20
B	C	B	B	D	D	A	B	D	C
21	22	23	24	25	26	27	28	29	30
D	C	A	A	D	B	A	D	C	A

二、材料解析题(本题共 4 道大题, 共 55 分。第 31 题 15 分,第 32 题 17 分, 第 33 题 16 分,第 34 题 7 分)

31. (15 分)

(1)哥伦布;麦哲伦。(2 分)

世界开始成为一个整体;逐步确立了世界的观念;证明了地圆说的正确;促进了各大洲之间的经济交流;改变亚欧人的饮食结构;促进了人口增长。(4 分)

(2)图 2: 美国独立战争期间, 大陆会议颁布了《独立宣言》, (2 分)宣告北美 13 个殖民地脱离英国而独立, 被称为“第一个人权宣言”。(2 分)

图 3: 法国大革命开始后, 制宪议会通过了《人权宣言》, (2 分)宣告了人权、自由、平等、保护私有财产等基本原则, 弘扬了资产阶级自由民主思想。(2 分)

(3)农业的就业人口在逐年下降, 工商运输业的就业人口稳定增长, 其他行业的就业人口有波动。(3 分)

原因: 英国进行了工业革命。(2 分)

32. (17 分)

(1)城市取得了一定程度的“自治”; 市民享有一定的自由;城市的政治经济实力增强。(3 分)

(2)图 2: 但丁是文艺复兴的先驱, (1 分)《神曲》是其创作的长篇诗作。(1 分)作品抨击了教会的贪婪腐化, 表达了市民阶层的情感与理想。(2 分)

图 3: 达·芬奇是文艺复兴“美术三杰”之一, (1 分)《蒙娜丽莎》是其著名的肖像画。(1 分)该画以现实人物为主题, 人物富有生命的活力, 体现了人文精神。(2 分)

或: 达·芬奇是文艺复兴“美术三杰”之一, (1 分)《最后的晚餐》是其著名的绘画作品。(1 分)该画将人物的神态刻画得惟妙惟肖, 体现了人文精神。(2 分)(其他合理答案可酌情给分)

(3)赋分标准: 提炼主题 2 分, 符合该主题的资料序号 1 分。要求提炼两个主题, 共 6 分。

答案示例 1: 主题: 世界文化名城。资料序号: 5, 6。



答案示例 2: 主题: 城市环境问题。资料序号: 1, 2。

答案示例 3: 主题: 城市的可持续发展。资料序号: 3, 4。

0 分: 未回答。或只提炼一个主题, 没写出符合该主题的资料;或所提炼的主题与资料不相符。

1 分: 提炼一个主题, 及一条符合主题的资料。

2 分: 提炼一个主题, 及两条或两条以上符合主题的资料。

(4)赋分标准: 建议与“北京建设环境友好型城市”关系密切;(2 分)做法具体可行。(2 分)

答案示例: 制作宣传展板, 向市民普及环境保护的基本理念和知识, 使公众认识到自身应负的环境责任和义务, 自觉选择绿色生活和绿色消费方式。

33. (共 16 分)

(1) A: ①④; B: ②③(每空 2 分, 共 4 分。多选、错选、漏选均不得分)

(2)分布特点: 多集中在黄河、长江流域(或河流附近)。(2 分)

形成原因: 大河能够为早期人类提供水资源和食物(或易于获得生活资料);大河流域土地肥沃、方便灌溉, 利于发展农耕(或利于生产);长江、黄河流域气候适宜早期人类生存(2 分, 答任意两点即可得 2 分)

(3)黄河易泛滥, 中国季风气候显著, 易出现水灾或旱灾。(1 分)

采用中央集权能够更好地调动人力、物力和财力, 更好地应对自然灾害。(2 分)

(4)环境污染;资源枯竭;耕地减少(3 分)

(5)加强立法;加强宣传;合理开发自然资源(或其他合理答案)。(2 分)

34. (7 分)

(1)属于原始史料的是①③⑤⑥(2 分。答对 4 项才能给分)

属于撰述史料的是④(2 分)

(2)局限性: 记忆失误;主观编造;个人认识局限(2 分, 答任意两点得 2 分)

弥补: 言之有理即可得分。(1 分)