

2021北京朝阳初一（上）期末

地 理（选用）



2021.1

(考试时间60分钟满分100分)

学校_____ 班级_____ 姓名_____ 考号_____

考 生 须 知	1.本试卷共8页,在试卷和答题卡上准确填写学校名称、班级、姓名和考号。2.试题答案一律填涂或书写在答题卡上,在试卷上作答无效。 3.在答题卡上,选择题用2B铅笔作答,其他试题用黑色字迹签字笔作答。 4.考试结束,将本试卷和答题卡一并交回。
------------------	---

第一部分 选择题

本部分共25小题,每小题2分,共50分。在每小题列出的四个选项中,选出最符合题目要求的一项。

图1为人类在太空拍摄的地球照片。读图,完成第1、2题。




图1

1.地球的形状是

- A.球体 B.圆弧 C.圆形 D.梨形

2.能够描述地球大小的是

- ①海洋深度 ②地球平均半径 ③地球表面积 ④陆地平均海拔

- A.①② B.②③ C.①④ D.③④

地球仪是地球的模型,也是学习地理的重要工具。图2为地球仪示意图。读图,完成第3~5题。



图 2

3.地球仪上

- ①有底座
- ②有经纬线
- ③标注了公转轨道
- ④地轴与球面交汇于南北极点

- A.①②③
- B.①②④
- C.①③④
- D.②③④

4.由图可知

- A.纬线指示东西方向
- B.纬度越高纬线越长
- C.经线是长度相等的圆圈
- D.所有经线相互平行

5.中国

- A.大部分位于北温带
- B.东临大西洋
- C.北回归线穿过中部
- D.小部分位于高纬度

图3是我国第五套人民币50元背面示意图。读图,完成第6、7题。




图 3

6.50元人民币背面所示景观位于

- A.台湾省
- B.云南省
- C.西藏自治区
- D.内蒙古自治区

7.该景观所在省级行政区域的主要少数民族为



劳动力人口是指一个国家或地区全部人口中具有劳动能力的人口。目前我国男性16~59岁、女性16~54岁为劳动适龄范围。图4为我国1960~2020年劳动人口增长率变化图。读图,完成第8~10题。

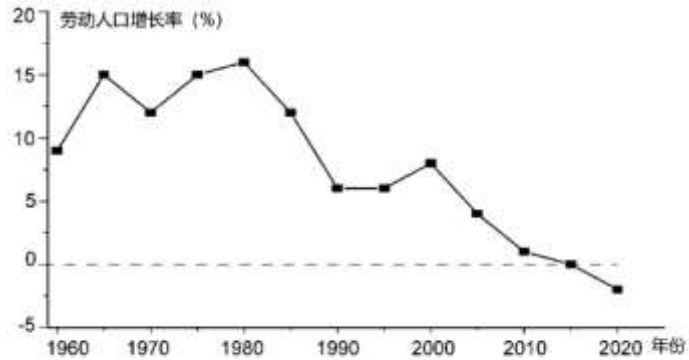


图4

8.我国

- A.劳动人口数量持续下降
- B.劳动人口增长率持续增加
- C.1980年劳动人口数量最多
- D.2020年劳动人口增长率最低



9.根据劳动人口增长率的变化趋势,应采取的措施是

- A.实施独生子女政策
- B.实施二孩政策
- C.提高医疗水平
- D.增加就业岗位

10.下列漫画中,能反映人口数量过多、增长过快带来的问题是



2020年11月24日,嫦娥五号探测器在文昌航天发射场发射成功,开启我国探月新时代。图5为海南省示意图。读图,完成第11~15题。

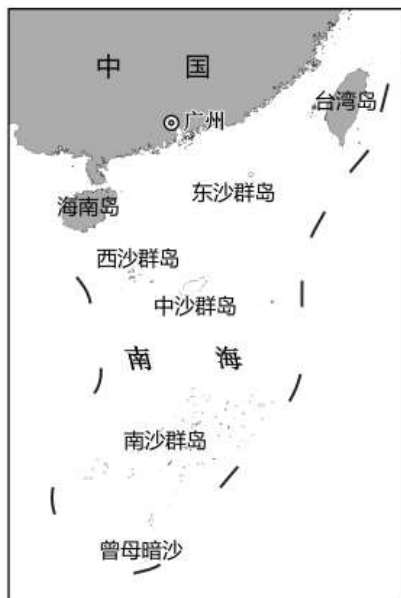
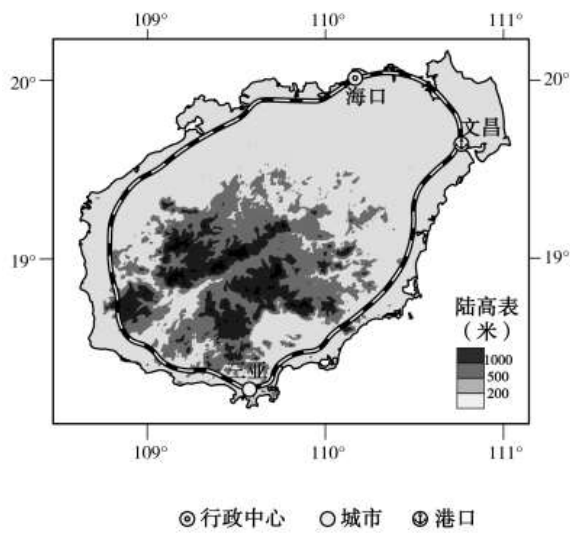


图 5

11.海南省

- ①简称是琼 ②只包括海南岛 ③地势北高南低 ④位于我国最南端
- A.①② B.②③ C.①④ D.③④

12.文昌市

- ①位于 20°N , 111°E 附近 ②位于 20°S , 111°W 附近
 - ③位于海南岛的东北部 ④位于中纬度地区
- A.①② B.①③ C.②④ D.③④

13.此图判别方向的方法是

- A.无法定向 B.一般定向法
- C.指向标定向法 D.经纬网定向法

14.家住文昌的小明想去航天发射场参观,需使用

- A.海南省行政区域图 B.海南岛城市分布图
- C.文昌市交通图 D.文昌市地形图

15.读图6,发射当天天气状况为



图 6



- A.晴朗 B.多云 C.小雨 D.雾霾

2020年8月27日上午8点30分前后,第八号台风“巴威”在朝鲜登陆,给朝鲜和我国东北地区带来了一定的经济损

失。图7为台风部分路径图。读图,完成第16~18题。

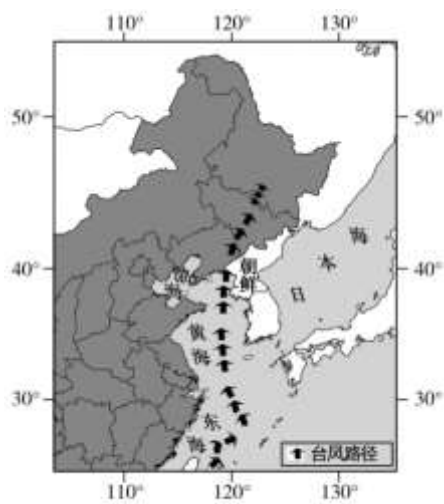


图7

16.“巴威”登陆的朝鲜

- A.是一个岛国 B.西临日本海 C.位于北寒带 D.是我国的陆上邻国

17.台风“巴威”

- A.属于一种气象灾害 B.自东北向西南移动
C.经过了东海、黄海和渤海 D.是在陆地上生成的自然灾害

18.台风“巴威”带来的灾害有

- A.降温降雪 B.大风、沙尘 C.强风暴雨 D.滑坡、地震

2020年12月8日,中国和尼泊尔共同宣布珠穆朗玛峰的新高程为8848.46米。图8为珠峰测量队测量线路周边等高线地形图。读图,完成第19~21题。

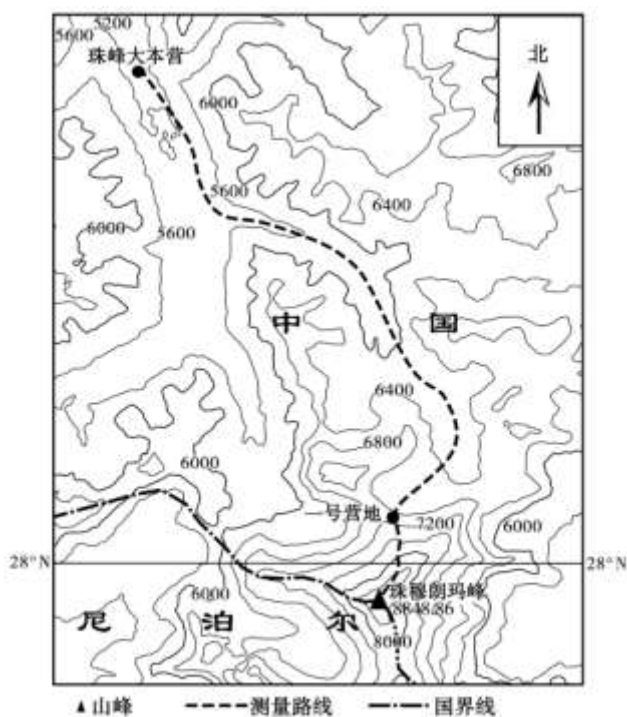


图8



19.新高程8848.46米是

- A.珠穆朗玛峰的海拔
- B.珠穆朗玛峰的相对高度
- C.珠穆朗玛峰与海平面的距离
- D.珠穆朗玛峰到珠峰大本营的长度

20.珠穆朗玛峰

- A.南坡位于中国境内
- B.位于南纬28度附近
- C.位于中国和尼泊尔交界处
- D.位于北温带和中纬度地区

21.从珠峰大本营前往珠穆朗玛峰

- A.一直沿山谷前进
- B.一直向东方前进
- C.一号营地至珠穆朗玛峰坡度最陡
- D.珠峰大本营至一号营地海拔无变化

黄河养育华夏子孙,孕育中华文明。图9为黄河流域示意图。读图,完成第22~25题。



图9

22.黄河

- A.发源于祁连山脉
- B.桃花峪是上、中游分界点
- C.自西向东注入黄海
- D.中游流经黄土高原

23.河套平原年降水量只有200mm左右,却成为我国著名的米粮川,主要因为

- ①该河段水运便利
- ②引黄河水灌溉
- ③地处热带全年高温
- ④地形以平原为主

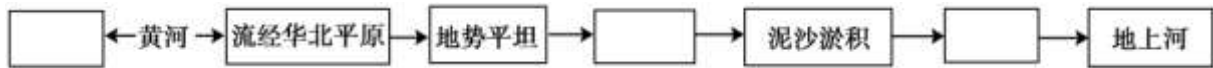
- A.①②
- B.①③
- C.②④
- D.③④

24.黄河流域的水电站

- A.多位于下游地区
- B.位于地势阶梯交界处
- C.多分布在支流上
- D.集中在地形平坦地区

黄河自古多忧患,尤其是下游地区的“地上河”,严重威胁着沿岸人民的生命财产安全。

25.下列关于“地上河”成因的排列顺序,符合框图结构的是



- ①河床抬升 ②流速减慢 ③含沙量大
- A.①②③ B.②③① C.②①③ D.③②①



第二部分 综合题

本部分共4题,共50分。

非凡旅程影响深远

26.(12分)地球在宇宙空间不停的运动,周而复始的进行着一场非凡的旅程,并对地球环境带来深远影响。图10为地球运动示意图。读图,完成下列要求。

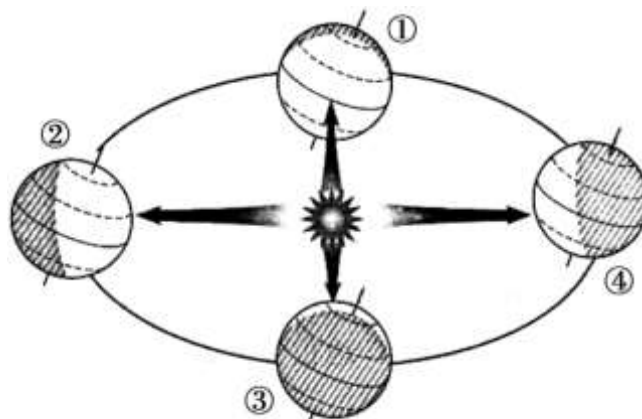


图 10

- (1)地球运动主要包括_____和_____两种形式,且两种运动同时进行。请在图10中相应位置标注出两种运动的方向。
- (2)请任选一种地球运动,选择其产生的地理现象。我选择_____运动,产生的地理现象有()。(双选)
- A.太阳东升西落 B.日出时间不同 C.昼夜更替现象 D.昼夜长短变化
- (3)地球运行到②点时,阳光直射_____ (纬线),北极圈以北出现_____现象。地球运动还会带来奇妙的美景。每年的12月22日前后,落日的光辉穿过颐和园十七孔桥的桥洞,形成“金光穿洞”的景观,吸引了众多游客前来参观。
- (4)此时地球大体运行在_____ (序号)处,节气为_____,十七孔桥下的湖水可能出现_____现象。

追寻花期寻找规律

27.(13分)油菜花是乡村田野最美的景致,用金黄的色彩妆点着神州大地。图11为我国油菜花开时间分布图,图12是辽宁丹东和江西婺源的气温曲线和降水量柱状图。读图,回答下列问题。

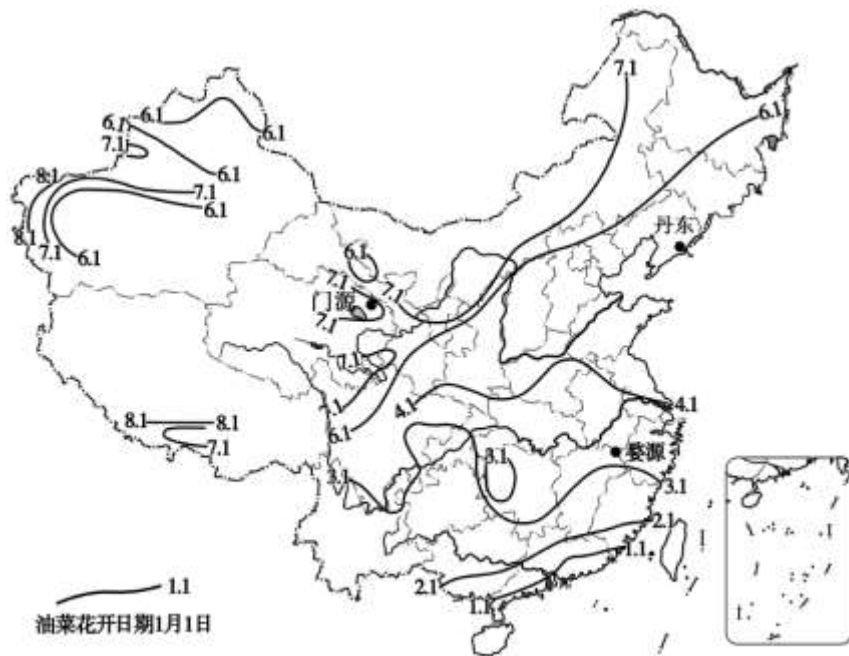


图 11

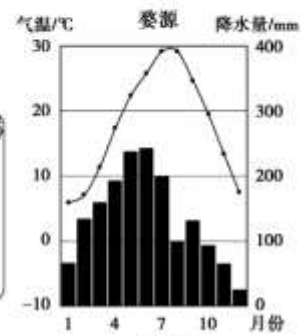
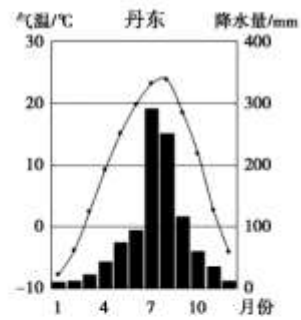


图 12

(1)每到油菜花开的季节,江西婺源总能吸引无数游客。江西省的简称是_____,婺源油菜花开的时间可能在()。

A.1月10日左右 B.2月10日左右 C.3月10日左右 D.4月10日左右

(2)读图12可知,江西婺源的最高气温约为_____°C,当地油菜花开时气温约为_____°C。

(3)丹东气温高于20°C的有_____个月,最低气温出现在_____月。丹东油菜花开的时间比婺源_____ (早/晚)。

(4)丹东的气候特征是夏季高温_____,冬季_____干燥。

(5)我国东部地区油菜花开的分布规律是:纬度越_____,油菜花开的时间越_____ (早/晚)。

(6)与婺源和丹东相比,青海门源油菜花开时间最_____ (早/晚),因为当地_____。(选择填空)

A.纬度高 B.纬度低 C.海拔高 D.海拔低

山川纵横风光万千

28.(11分)我国众多的名山大川构成了中国地形的骨架,划分了形态各异的地形单元。图13是我国地形分布图。读图,完成下列要求。



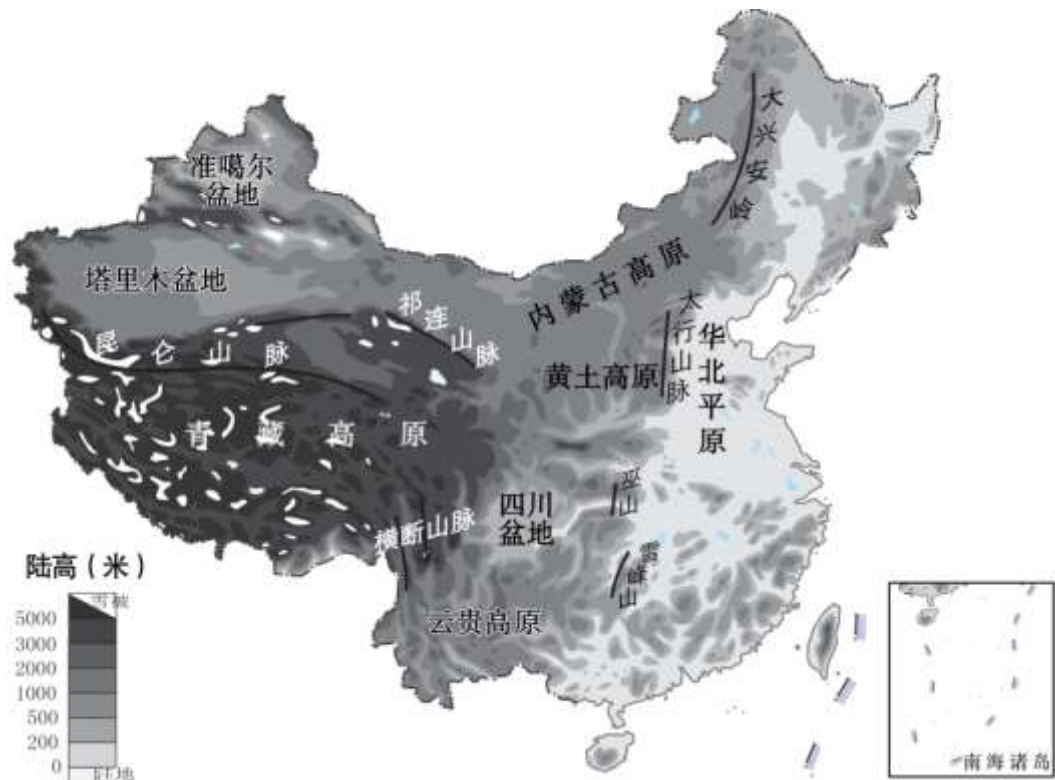


图 13

(1)平原的海拔多在_____米以下,主体分布我国的_____ (方位),其中的_____平原隔太行山与黄土高原相邻,两地的生产生活方式差异显著。

(2)第二级阶梯由形态各异的高原、_____ (地形类型)组成,请将下列地形区与景观图进行连线。



内蒙古高原



云贵高原



黄土高原

(3)第一级阶梯的主要地形区是_____。第一、二级阶梯的分界线是昆仑山、祁连山和_____山脉等高大山脉。

(4)读图13可以看出,我国的地势特征是_____,呈阶梯状分布,这种地势特征有利于海洋气流向陆地深入,在季风区形成较为丰富的_____。

大河奔流惠及华夏

29.(14分)长江从雪山而来,奔腾咆哮东流入海,是我国的第一大河。图14为长江流域图。读图,完成下列各题。



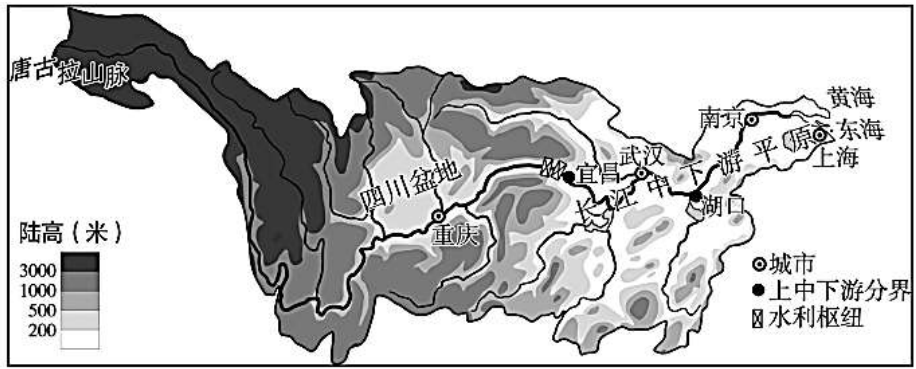
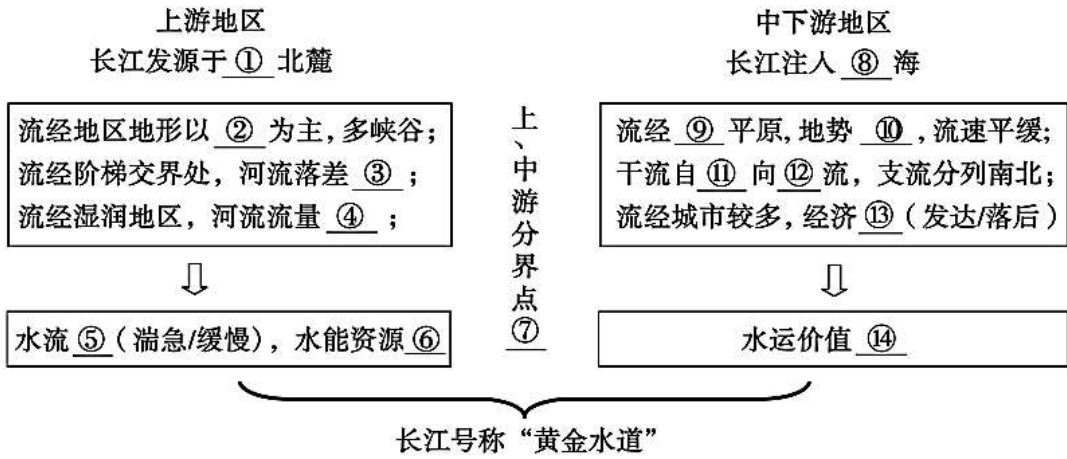


图 14



2021北京朝阳初一（上）期末地理（选用）

参考答案

第一部分（共50分）

题号	1	2	3	4	5	6	7	8	9	10
答案	A	B	B	A	A	C	B	D	B	B
题号	11	12	13	14	15	16	17	18	19	20
答案	C	B	D	C	B	D	A	C	A	C
题号	21	22	23	24	25					
答案	C	D	C	B	D					

26.非凡旅程 影响深远（12分，每空1分）

- (1) 自转 公转（顺序可颠倒） 略（自转、公转各1分）
- (2) 选择自转：AC 选择公转：BD
- (3) 北回归线 极昼
- (4) ④ 冬至 结冰

27.追寻花期 寻找规律（13分，每空1分）

- (1) 赣 C
- (2) 29（1分） 12（上下误差为1°）
- (3) 2（或3） 1 晚
- (4) 多雨 寒冷
- (5) 低 早（或高 晚）
- (6) 晚 C



28.山川纵横 风光万千（11分，每空1分）

- (1) 200 东部 华北
- (2) 盆地



内蒙古平原

云贵高原

黄土高原

(3) 青藏高原 横断

(4) 西高东低 降水

29.大河奔流 惠及华夏 (14分, 每空1分)

- ①唐古拉山 ②山地 ③大 ④大 ⑤湍急 ⑥丰富 ⑦宜昌 ⑧东
⑨长江中下游 ⑩低平 ⑪西 ⑫东 ⑬发达 ⑭大



北京中考在线
微信号: BJ_zkao

