



石景山区 2019 年初三综合练习

道德与法治试卷

考
生
须
知

1. 本试卷共 10 页，共两部分，26 道小题，满分 90 分。考试时间 90 分钟。
2. 在答题卡上准确填写学校名称、姓名和准考证号。
3. 试题答案一律填涂或书写在答题卡上，选择题请用 2B 铅笔作答，其他试题请用黑色字迹签字笔作答，在试卷上作答无效。
4. 考试结束，请将本试卷和答题卡一并交回。

第一部分 选择题（共 40 分）

本部分共 20 小题，每小题 2 分，共 40 分。在每小题列出的四个选项中，选出最符合题目要求的一项。

1. 第二届“一带一路”国际合作高峰论坛于 2019 年 4 月 25-29 日在北京举行。党的十八大以来统筹国内国际两个大局，首倡的“一带一路”是_____和_____的简称。
①共商共建共享、互联互通之路
②21 世纪海上丝绸之路
③丝绸之路经济带
④繁荣、开放、绿色、创新、文明之路
A. ①② B. ③④ C. ②③ D. ①④
2. 2018 年 9 月 10 日，_____在北京举行。本次大会首次将教育定位为“国之大计、党之大计”。大会强调把立德树人融入思想道德教育、文化知识教育、社会实践教育各环节。
A. 澳门回归 20 周年纪念大会
B. 全国教育大会
C. 庆祝改革开放 40 周年大会
D. 五四运动 100 周年庆祝大会
3. 2019 年 4 月 22 日是第 50 个世界地球日，主题为“珍爱美丽地球 守护自然资源”。人类珍爱地球，守护自然是因为
①每一个生命的存在，都依赖于地球的独特自然环境
②人向来是万物之灵，必然是整个自然界的主宰
③保护自然环境，是人类维护自身生存与发展的前提
④每个人的生命来之不易，我们只需保护好自己生命
A. ①③ B. ③④ C. ②③ D. ①④

4. 2019年《政府工作报告》强调要大力发展养老服务业，并对相关机构给予政策扶持。结合右漫画和政府举措，下列说法正确的是



- ①计划生育政策已不适合我国现有国情
- ②政府举措有利于家庭幸福与社会和谐
- ③人口老龄化导致人口结构性问题突出
- ④漫画反映了我国新增人口绝对数量多

- A. ①② B. ③④ C. ②③ D. ①④

5. 一网民为发泄个人情绪，在微信群中发布了侮辱四川凉山因公牺牲救火英雄的言论。下列对网民行为认识正确的是

- A. 该网民依法行使了公民言论自由权
- B. 该网民侵犯了救火英雄的人格尊严
- C. 在个人微信群里发表评论无关紧要
- D. 网民通过网络合理宣泄情绪很正常

6. 下表数据体现了我国2016年-2018年各阶段教育发展变化。

2016年数据	小学 毛入学率	初中阶段 毛入学率	高中阶段 毛入学率	高等教育 毛入学率
世界平均	104.3	85.0	67.8	36.8
高收入国家	102.0	105.6	108.6	75.2
中上收入国家	103.6	99.8	86.7	50.7
中国：2018年	104	100.9	88.8	48.1

(注：毛入学率指某学年度某级教育在校生数占相应学龄人口总数比例，是衡量教育发展水平的重要指标)

对此正确的认识是：

- ①我国各阶段的教育普及率不断提升
- ②我国教育水平已经赶超高收入国家水平
- ③我国已经成为社会主义现代化教育强国
- ④我国需坚持实施科教兴国、人才强国战略

- A. ①② B. ①④ C. ②③ D. ③④


7. 下列关于人民代表大会制度的说法正确的是

- ①人民代表大会制度是我国的根本政治制度
- ②人民代表大会实行民主集中制，遵循少数服从多数原则
- ③依据宪法规定我国国家机关全部由人民直接选举产生
- ④坚持和完善人民代表大会制度必须坚持共产党的领导

- A. ①②③ B. ②③④ C. ①③④ D. ①②④



8. 读右图《失衡》，下列认识正确的是



- ①科技创新能力成为综合国力竞争决定性因素
- ②只有高技术水平才能引领产业高利润水平
- ③我国需要从资源驱动转向创新驱动发展方式
- ④增强国家竞争力必须依靠引进国外高科技

A. ①② B. ①③ C. ②④ D. ③④

9. “有钱不可任性”“有权不可任性”成为网络流行语。钱是个人财产，取得和使用要合法；权力是人民赋予的，不可有丝毫的任性。对此理解正确的是

- A. 公民既是权利的享有者也是义务的承担者
- B. 尽量不损害国家、集体和其他公民的权利
- C. 法律要求和鼓励做的，一般可做可不做
- D. 某些权利与义务是相互依存、相互结合的

10. 《汉书》记载了“钟子期死，伯牙终身不复鼓琴”的故事，表达了千百年来人们对于友谊的理解和向往，下列诗句与其寓意相近的是

- A. 人生自古谁无死，留取丹心照汗青
- B. 夜阑卧听风吹雨，铁马冰河入梦来
- C. 洛阳亲友如相问，一片冰心在玉壶
- D. 落红不是无情物，化作春泥更护花

11. 下表所示的 2017-2018 年修宪大事记（部分）：

时间	相关事宜
2017 年 12 月	习近平主持召开党外人士座谈会，当面听取各民主党派中央、无党派人士代表等对“修宪建议草案稿”的意见和建议
2018 年 1 月	全国人大常委会委员长张德江召开 4 场座谈会，分别听取中央和国家机关党员干部、智库和专家学者、各省市人大常委会党员干部对“修宪建议草案稿”的意见和建议
2018 年 1 月	中共中央向全国人大常委会提出《中国共产党中央委员会关于修改宪法部分内容的建议》
2018 年 3 月	十三届全国人大一次会议第三次全体会议下午经投票表决，通过了《中华人民共和国宪法修正案》

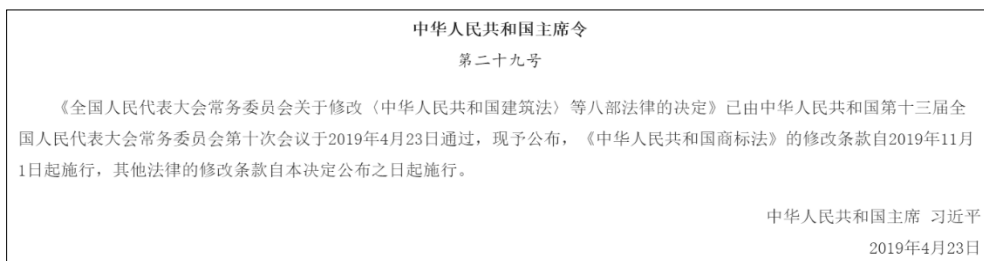
据此，下列认识正确的是

- ①修宪过程多方公开听取意见确保我国宪法是党和人民意志的集中体现
- ②与宪法修订过程相比，我国其他法律制定和修改的程序更加严格
- ③听取党外人士座谈会表明我国实行党领导的多党合作与政治协商制度
- ④宪法由全国人大表决通过说明人民代表大会是我国的根本政治制度

A. ①② B. ②③ C. ①③ D. ②④



12. 如下图所示, 2019年4月23日, 中华人民共和国主席习近平签署国家主席令第二十九号。这表明中华人民共和国主席行使



- A. 选举权 B. 决定权 C. 任免权 D. 公布法律
13. 独龙族——世代刀耕火种的民族, 七十载历经两次跨越, 踏入社会主义社会, 实现整族脱贫, 迈上小康幸福之路。独龙族发生巨变的原因是

- ①我国坚持民族平等、团结、共同繁荣的原则
②我国是负责任、有担当的世界发达国家
③我国实行扶贫攻坚以实现共同富裕的目标
④我国坚持党领导的多党合作和政治协商制度

- A. ①③ B. ②③ C. ③④ D. ①④

14. 近年来, 我国各级人民法院认真清理超期羁押案件, 超期羁押的现象大为减少; 各级人民检察院加大了依法查处非法拘禁、非法搜查、刑讯逼供、暴力取证、虐待被监管人员等案件的力度。司法机关的上述举措表明我国

- A. 保障公民的政治权利
B. 保障公民的社会经济权利
C. 保障公民成为国家的主人
D. 尊重和保障人权

15. 如右漫画, 面对校园欺凌, 正确的建议是

- ①遇事找法, 依法维护权益
②拒绝欺凌, 坚决以暴制暴
③忍气吞声, 委屈求得保全
④勇敢说“不”, 积极寻求帮助

- A. ①② B. ②③ C. ②④ D. ①④



16. 某民警在对一无牌、无证违法行为进行查处时, 遭到执法对象的对抗, 民警以标准、规范却又果断地执法将涉事人员制服。整个执法过程被围观群众拍摄并上传至网络。警察“镜头”下执法的行为体现了

- A. 司法机关须公正司法
B. 公民应自觉知法守法
C. 公民应积极行使监督权
D. 行政机关须严格执法



17.

新闻 一女子称遭遇某楼盘的消费欺诈，坐在楼盘的沙盘上维权，导致她身下的部分楼盘模型被损坏。经过沙盘维修方检查初步确定被毁坏沙盘的维修价格在5万元左右。目前，该女子因涉嫌故意毁坏财物罪被警方依法刑事拘留。

新闻中女子的维权经历启示我们

- ①公民权利受到侵害时只能忍气吞声，自认倒霉
- ②公民权利受到侵害时应该按照法定程序维权
- ③公民行使自由和权利时不得损害社会、集体的利益
- ④解决当事人之间消费纠纷的方式只有协商和调解等

A. ①② B. ②③ C. ③④ D. ①④

18. 《中华人民共和国劳动法》第三十六条规定：“国家实行劳动者每日工作时间不超过八小时、平均每周工作时间不超过四十四小时的工时制度。”某些企业盛行的加班文化的“996工作制”是指员工每天上午9点到岗工作到晚上9点，每周工作6天。据此，对“996工作制”认识正确的是

- ①企业如果强制推行此制度，则违反我国劳动法
- ②企业涉嫌侵犯员工生命健康权、休息休假权
- ③企业以此引导员工崇尚奋斗、高效工作，无可厚非
- ④企业实施此工作制度必将大力提高员工工作效率

A. ①② B. ①③ C. ②④ D. ③④

19. 2018年《中华人民共和国宪法修正案》第三章“国家机构”中增加了“监察委员会”一节，对各级监察委员会的性质、地位等作出规定。2019年，国家、省、市、县四级监察体系全部组建完成，实现了对所有行使公权力的公职人员监察全覆盖。宪法设立监察委员会到监察全覆盖

- ①实现了宪法组织国家机构并授权
- ②表明国家机构依据宪法行使权力
- ③是为了与其他国家机关相互配合
- ④体现对公权力的制约以保障公民权利

A. ①②③ B. ①③④ C. ①②④ D. ②③④



20.

案例：某省化工科技公司非法将生产的危废物废碱液交给不具有危废物处置资质的个人进行处置，导致废碱液被直接倾倒入长江及新通扬运河，严重污染了环境。该省人民政府向法院提起民事诉讼。法院一审判决令该化工科技公司赔偿环境修复费用、生态环境服务功能损失、评估费等共计5千万余元。

下列同学们对此案例的认识正确的是

- ①小明：企业环境保护意识薄弱，必须为损害环境的行为担责
 - ②小林：依靠法治监管才能为生态文明建设提供有力保障
 - ③小方：保护环境只是国家权力机关的执行机关的工作目标
 - ④小丽：表明环境保护与经济发展是一对不可调和的矛盾
- A. ①② B. ②③ C. ②④ D. ③④

第二部分 非选择题（共50分）

21. （8分）北京地铁见证新中国70周年伟大变革。

材料一 北京地铁自1981年正式运营至今，已从最初的1条线路到22条线路、370座车站、608公里运营里程；从人工控制、最小发车间隔14分钟到达世界领先水平的最小发车间隔2分钟以内；售票方式经历纸质车票——刷卡——线上购票车站取票——扫二维码支付；从“一穷二白”首次在苏联指导下建地铁，到北京地铁技术、管理、装备集体出口俄罗斯；从“明挖”地铁动用上千卡车运土，到运用新科技手段“静音式”工作……快速发展的北京地铁不仅是我们的出行首选，更是我们的骄傲。

材料二 地铁建设投资大。为筹集建设资金，北京市在加大中央财政资金的投入的同时，充分利用社会资本，如4号线的建设引入了香港地铁的投资，促进了地铁的发展。

- （1）结合材料一，谈谈对北京地铁发展变化的认识。（4分）
- （2）结合材料二，说明北京地铁得以快速发展的基本制度支持。（4分）

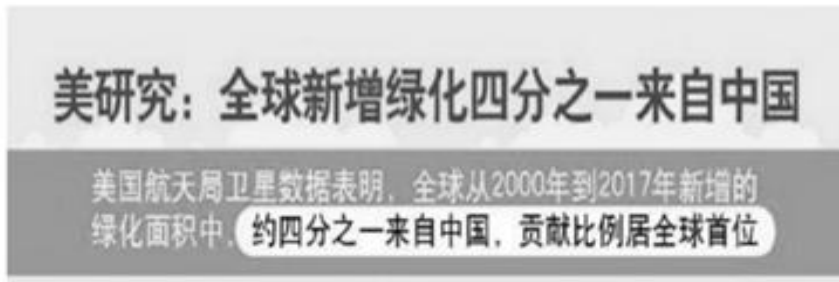


22. (6分)

材料 2019年4月15日晚，法国巴黎圣母院遭遇火灾，虽经过5个多小时的扑救火势得到控制，但损失惨重无法预计。巴黎圣母院是享誉世界的历史文化遗产，更是法国文化的核心代表。巴黎圣母院大火事件引发了网友们的热议：
网友甲：“相比圆明园，巴黎圣母院火灾正是“因果报应”的结果！”
网友乙：“一场大火带走了古老的文化，实在是令人遗憾痛心”。
网友丙：“一座教堂被烧不足以产生什么影响，只是一个新闻而已。”
任选一个网友的观点，运用所学知识予以辨析。

23. (12分)中国引领全球绿化面积“逆袭”的数据格外引人注目。

材料一



(1) 结合材料一图片，说明我国为地球增绿方面取得成就的意义。(4分)

材料二 三代塞罕坝林场建设者在高原上接力，创造出世界最大面积的人工林，被联合国授予环保最高荣誉“地球卫士奖”；中国四大沙地之一毛乌素沙漠经几代人治理，止沙生绿，被联合国盛赞“值得世界所有国家向中国致敬”；曾被称为“死亡之海”的库布其沙漠经过近30年艰辛治理，实现“绿进沙退”的历史性转变，被联合国确定为“全球沙漠生态经济示范区”……中国为全球绿化做出贡献的42%源于植树造林。

(2) 结合材料二，运用所学知识，说明我国绿化建设取得瞩目成就的原因。(4分)



材料三 2016 年至今，支付宝“蚂蚁森林”的五亿用户用选择步行、支付宝支付等方式积攒绿色能量球，当收取能量球达到 17900 克时就可领取一棵虚拟梭梭树，支付宝则在中国荒漠化地区种下一棵真的梭梭树。这种数字公益既促使用户节能减排，又将减少的碳排放转化成荒漠中抵御风沙的一亿棵真树苗。



(3) 结合材料三，请对“蚂蚁森林”用户的行为进行点评。(不少于 50 字)(4 分)

24. (7 分) 在“法治的价值追求”的主题研讨活动中，同学们结合热点问题展开讨论。

【请你判断】

序号	社会热点事件	讨论结果	你的判断
示例	某马拉松运动员在体育赛事中服用兴奋剂	有违公平	正确
①	北京市医院急诊科改变过去患者“先来后到”的看病顺序，实行“急诊分级”就诊制度，病情不太紧急的患者挂急诊号可能会等待很长的时间	有违公平	①
②	国家医保局发通知：17 种抗癌药纳入医保报销目录，此举利于减轻肿瘤患者的药费负担	彰显正义	②
③	消防车悬挂“特权车牌”上路，享有道路优先通行权，且不受行驶路线、行驶方向、行驶速度和信号灯的限 制，其他车辆和行人应当让行	有失平等	③
④	某网络主播在直播中篡改国歌曲谱，以嬉皮笑脸的方式表现国歌内容，并将国歌作为自己所谓“网络音乐会”的开幕曲	有违自由	④

(1) 运用所学知识，用“正确”或“错误”对讨论结果进行判断，填入答题卡对应序号中。(2 分)



【请你评析】

案例：赵某因阻止女邻居无故被打，与施暴者产生肢体冲突，造成了施暴者重伤。

地方人民检察院认定赵某行为属正当防卫过当，但鉴于赵某有制止不法侵害的行为，对其作出不予起诉决定。最高人民检察院审查后认定赵某行为属于正当防卫且不应追究刑事责任，对赵某作出无罪的不予起诉决定。而原不予起诉决定书认定赵某防卫过当属适用法律错误，依法予以撤销。后赵某收到公安机关颁发的见义勇为证书。

(2) 运用所学有关正义的知识，对此事件进行评析。(5分)

25. (6分) 5月的北京，三场国际峰会作为2019年主场外交活动的重头戏接连召开。小昊制作了时事专题手抄报。

(1) 请协助小昊完成下列表格。(在答题卡相应位置填写，2分)

2019年中国主场外交活动会标	议题	经典语录	体现我国所倡导的何种理念
	共建‘一带一路’、开创美好未来	“人心齐，泰山移” “独行快、众行远”	①
	绿色生活 美丽家园	地球是全人类赖以生存的唯一家园。 我们要像保护自己的眼睛一样保护生态环境，像对待生命一样对待生态环境。	②
	亚洲文明交流互鉴与命运共同体	人类只有肤色语言之别，文明只有姹紫嫣红之别，但绝无高低优劣之分。	平等、开放、包容的世界观





小昊在专题手抄报上分享了自己的思考：

“一带一路”国际合作高峰论坛是以“一带一路”为纽带促进中国与世界各国的经贸往来，而北京世界园艺博览会是通过园林艺术交流促进合作发展，亚洲文明对话大会则是推动中华文明、亚洲文明和世界文明交流互鉴，促进世界文化大繁荣。这三场不同主题的主场外交活动的共同之处在哪呢？

(2) 运用所学知识，谈谈小昊的思考给予你的启发。(4分)

26. (11分) 某校组织纪念五四运动100周年——“新时代、新青年”系列综合社会实践活动。

【活动一】“中国有梦，青春无悔”座右铭征集活动

青春虚度无所成，
白首衔悲亦何及。
—[唐]权德舆《放歌行》

座右铭一

看似寻常最奇崛，
成如容易却艰辛。
—[北宋]王安石《题张司业诗》

座右铭二

士不可以不弘毅，
任重而道远。
—《论语·泰伯》

座右铭三

(1) 请向同伴推荐一个座右铭，并说明理由。(4分)

【活动二】“缅怀与展望”班级主题板报展示活动

依据各班主题板报内容的摘录，运用所学知识，在答题卡相应位置上填空。

每个时代都有每个时代的精神，每个时代都有每个时代的价值观念。五四运动狂飙般的呐喊声早已散去，五四运动精神一直沉浸在中华民族奋斗的血脉里。

100年前，无数青年学子为救亡图存、振兴中华而奔走呼号，汇聚成推动国家前进的强大力量；100年后的今天，五四青年曾经渴望并为之呐喊的强国梦在一代代年轻人的接力奋斗中逐步实现。

(2) “五四运动精神”是指：_____ (1分)

“强国梦”是指：_____ (1分)

(3) 五四运动以来的100年，是中国青年创造青春之中国、青春之民族的100年。继承五四运动精神，成长于新时代的青年学子应如何实现自己的人生价值？(5分)