




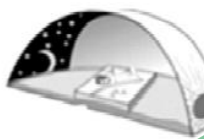
考生须知	1. 本试卷共 12 页，两大部分，44 个小题，满分 90 分。考试时间 90 分钟。 2. 在答题卡上准确填写学校名称、姓名和准考证号。 3. 试题答案一律填涂或书写在答题卡上，在试卷上作答无效。 4. 在答题卡上，选择题用 2B 铅笔作答，其他试题用黑色字迹签字笔作答。 5. 考试结束，请将本试卷和答题卡一并交回。
------	---

第一部分：选择题(每题 1 分，共 40 分)

1. 人们对地球形状探索经历了漫长的过程，下列对地球形状认识按从古到今排序正确的是



a

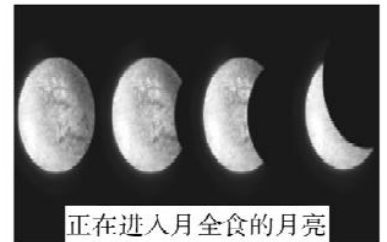


b



麦哲伦船队环球航行

c



正在进入月全食的月亮

d

- A. a-b-c-d      B. b-a-c-d      C. b-d-c-a      D. a-c-d-b

2. 电影《流浪地球》讲述了在不久的将来太阳即将毁灭，而面对绝境，人类将开启“流浪地球”计划，试图带着地球一起逃离太阳系，寻找人类新家园的故事。地球要去“流浪”，首先就要停止自转和公转，假如真是这样，现在地球上的哪些现象将不复存在

- ①太阳每天的东升西落      ②地壳的运动      ③旗杆的影长随季节变化而不同      ④四季的变化

- A. ①②③      B. ①②④      C. ①③④      D. ②③④

某校地理小组利用暑假的时间去南方某地进行野外考察，并利用手持 GPS 测量一些地理数据。读该地的等高线图(图 1)，回答 3~5 题。

3. 出发前，地理小组利用等高线地形图对该地区进行了简单的分析判断，以下四个判断正确的是

- A. 甲村位于山脊部位  
 B. 乙村位于丁地的东南方向  
 C. 山峰 a 与 b 的海拔高度可能相同  
 D. 丙地可以发展种植业

4. 地理小组从甲村出发爬到 a 山峰，他们利用手持 GPS 测量甲村与山峰 a 的相对高度。出发时四名同学中有三位同学将初始点的坐标输入错误，导致到达山峰 a 时测量出了四组不同的相对高度值，其中测量最为准确的是

- A. 300m      B. 350m      C. 400m      D. 450m

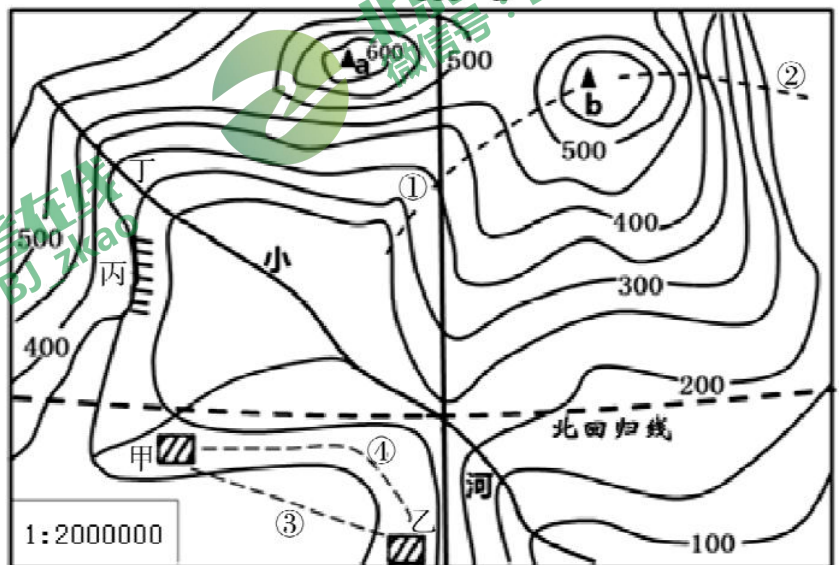


图 1

5. 此地想发展旅游业，地理小组为此进行了讨论，下列讨论正确的是

- A. 与道路①相比，道路②更适合老年人登山锻炼
- B. 由甲村到乙村，选择道路③比选择道路④更省力气
- C. 丙地适合发展攀岩等极限运动
- D. 可在丁处河流中乘船观赏山川美景

6. 电子地图在我们生活中应用很广，图 2 是某电子地图的截屏，则下列哪一项是不能从电子地图上获取的信息

- A. 北京城区内公园的位置
- B. 北京市内的交通状况
- C. 天安门广场的人流量
- D. 北京西站的具体位置



图 2

小明利用清明小长假去北京植物园看植物，他准备了一张植物园平面图(图 3)，读图回答 7~9 题。

7. 在去之前，小明想计划一下游览路线。他计划从地铁植物园站下车，直接去热带植物展览温室，测得图上距离为 1.7 厘米，则实际他需要步行\_\_\_\_\_米他才能到达。

- A. 800 米
- B. 820 米
- C. 840 米
- D. 850 米

8. 在游览时小明利用手机导航可以

- A. 查找植物名称
- B. 实时观测热带植物展览温室的人流量
- C. 查找由科普馆到卧佛寺的最近路线
- D. 查看植物园内的气温情况

9. 小明现在的位置处于科普馆，他想去五华寺，则他需要向\_\_\_\_\_方向走

- A. 西南
- B. 西北
- C. 东南
- D. 东北

10. “五十六个民族，五十六枝花，五十六个兄弟姐妹是一家……”，这首歌唱出了各族人民的心声。下列说法中正确的是

- A. 我国有五十六个少数民族
- B. 各民族不论大小，一律平等
- C. 各民族使用统一的语言和文字
- D. 各民族均匀分布在祖国各地

11. “山坡坡栽树崖畔青，黄土高原有了好风景，狂沙那个不起尘少见，林果绕村绿满山。”歌曲展示了黄土高原的治理成果，其治理措施正确的是

- ①开荒种田，增加耕地面积
  - ②退耕还林、还草
  - ③坡脚建档土坝、护坡
  - ④缓坡地修建梯田
- A. ①②③
  - B. ①②④
  - C. ②③④
  - D. ①③④

图 4 为我国《2017 年度气象数据报告》。据图分析，完成 12~14 题。



图 3

12. 2017年“洗肺”城市主要分布在

- A. 北方地区 B. 西北地区  
C. 南方地区 D. 青藏地区

13. 根据各地区装备地图，下列叙述正确的是

- ①吐鲁番年度最湿热  
②东三省年度降雪量最大  
③深圳年度风力最多最强  
④石家庄成为年度“履城”  
⑤高雄成为年度“日光城”  
⑥贵阳成为年度“雨都”



图 4

- A. ①②③ B. ④⑤⑥ C. ①③⑤ D. ②④⑥

14. 2017年，“棉衣”成为西藏、青海年度日常装备，说明该地区

- A. 太阳辐射强 B. 气候干燥 C. 低温天数多 D. 空气稀薄

“廊桥”又称虹桥，是一种有屋檐的桥，多为木质结构，可遮阳避雨，保护桥梁，还可供人休憩。廊桥是能够反映区域地理特征的独特建筑。图 5 为单跨式木拱廊桥景观图，图 6 为各省廊桥数量占全国总量的比例图。据此，完成 15~17 题。

15. 廊桥数量居前两位的省区依次是

- A. 浙、闽 B. 湘、滇  
C. 桂、赣 D. 黔、皖

16. 廊桥的主要作用是

- A. 举行宗教活动 B. 避雨、通行  
C. 供人居住 D. 存储谷物

17. 直接影响廊桥建造的自然地理因素是

- ①河流 ②地方风俗 ③降水 ④农业活动  
A. ①② B. ②④  
C. ①③ D. ②③




图 5

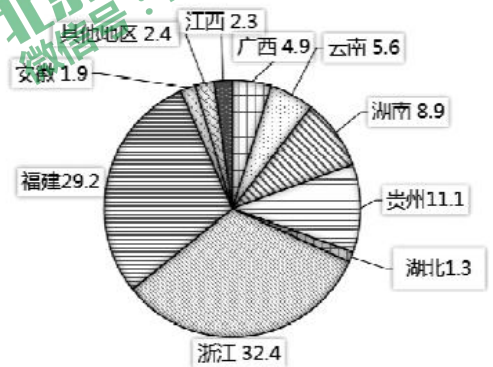


图 6

积温是一年内日平均气温 $\geq 10^{\circ}\text{C}$ 持续期间日平均气温的总和，即活动温度总和，简称积温。材料一为我国以积温为标准的温度带划分表。图 7 陕西省区域图。据上述图文材料，完成 18~20 题。

18. 图 7 能称之为亚热带和暖温带的分界线是

- A. 秦岭 B. 黄土高原  
C. 渭河平原 D. 汉水谷地

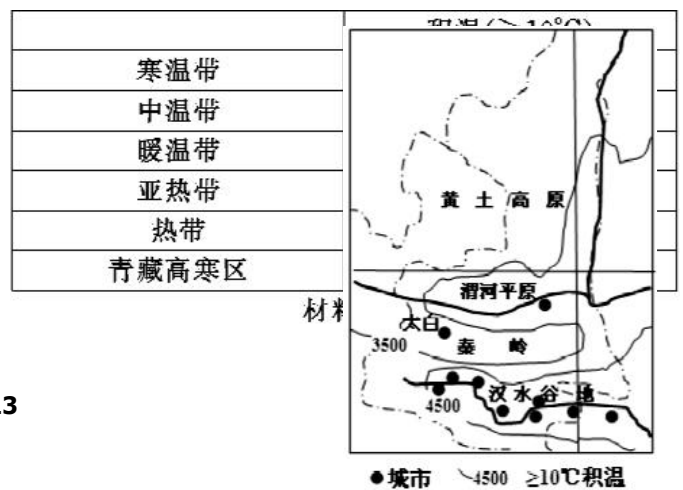


图 7

19. 图 7 中影响城市聚落分布的主导因素是

- A. 气候
- B. 地形
- C. 河流
- D. 土壤

20. 古诗句：“黄梅时节家家雨，青草池塘处处蛙”最可能出现在图 7 中的

- A. 秦岭山区
- B. 汉水谷地
- C. 渭河平原
- D. 黄土高原

图 8 为我国部分地点春耕春播时间示意图。读图，回答第 21~22 题。

21. 图中造成我国东部季风区春耕春播时间差异的主要因素是

- A. 纬度
- B. 经度
- C. 河流
- D. 国界线

22. 由图示春耕春播时间的差异可以推断出图中甲、乙、丙、丁四地中

- A. 甲地的单位耕地面积年产量高于丙地
- B. 乙地水稻的生长周期短于丁地
- C. 丙地与丁地的耕地类型不同
- D. 丁地一年中农作物收获的次数最多



图 8

2018 年 2 月 11 日，人民网刊登了一篇关于“红旗河”西部调水工程设想(如图 9)的文章，引起了广泛热议。“红旗河”西部调水工程分为一条主线、三条支线，工程计划从雅鲁藏布江取水，采取“山区打隧洞、河道修水库、平原开明渠”的方式，沿青藏高原边缘全程自流。输水至我国西北缺水地区。图 9 为该工程示意图。请阅读上述图文材料，回答 23~25 题。

23. “红旗河”调水设想的主要动因是

- ①解决西部缺水问题
- ②解决雅鲁藏布江洪涝灾害
- ③解决我国水资源空间分布不均
- ④解决我国水资源时间分布不均

- A. ①③
- B. ③④
- C. ①②
- D. ②④

24. “红旗河”西部调水工程要穿越山高谷深的横断山区，面临的障碍是

- A. 资金相对欠缺
- B. 技术水平较低
- C. 地质环境复杂
- D. 气候条件恶劣

25. “红旗河”西部调水工程主线主要穿行在我国地势的

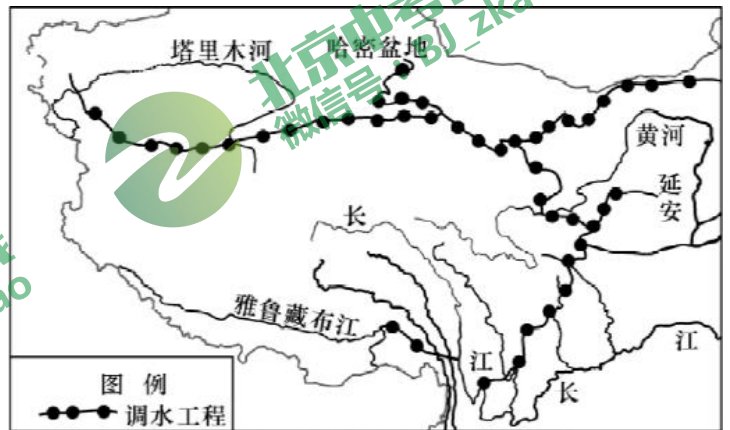


图 9

- A. 第一级阶梯之上
- B. 第二、三级阶梯之上
- C. 第三级级阶梯之上
- D. 第一、二级阶梯之上

2018年2月7日,中国第五个南极考察站—罗斯海新站在恩克斯堡岛正式选址奠基,预计2022年建成。目前中国在南极的考察站有:中国南极长城站、中国南极中山站、中国南极昆仑站、新建的中国南极泰山站和在建的中国南极罗斯海新站。读图文资料,完成26~27题。

26. 泰山站主楼建筑架空离地,最关键作用是

- A. 防寒保暖
- B. 防积雪融水进入
- C. 防强紫外线辐射
- D. 防大风积雪掩埋



图10 中国南极泰山站

27. 我国在南极建立科考站的主要目的是

- A. 开发南极地区丰富的淡水资源
- B. 作为游客旅游观光的休息区域
- C. 体验南极地区酷寒的气候特点
- D. 利用独特的环境进行科学实验

2020年7月24日~8月9日第32届夏季奥林匹克运动会即将在日本东京举行。奥运圣火将于2020年3月从希腊雅典传到日本福岛,最后回到东京。

日本被誉为樱花之国,本次传递的火炬设计灵感源自樱花。图11为日本火炬设计图;图12为日本樱花开放时间。读图文材料回答28~31题。



图11

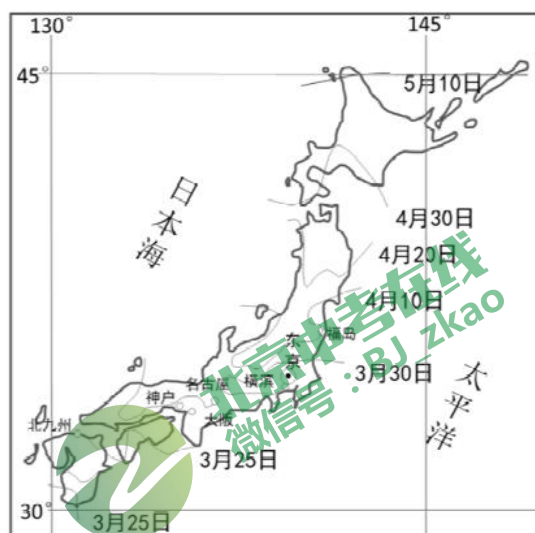


图12

28. 关于日本位置的表述正确的是

- A. 日本东临日本海,西临太平洋
- B. 日本大部分位于北温带,四季分明
- C. 福岛位于北海道岛上
- D. 因处在美洲板块和太平洋板块交界处,所以地震火山频发

29. 想要将圣火安全快速的从希腊雅典传递到日本东京,最为合适的交通方式是

- A. 公路运输
- B. 水路运输
- C. 铁路运输
- D. 航空运输

30. 为了感受樱花的魅力,小明预计在明年5月初去日本看樱花,应去

- A. 本州岛
- B. 北海道岛
- C. 九州岛
- D. 四国岛

31. 在樱花盛开时节，日本人通常都是与家人和朋友一起到公园里一边观赏美丽的樱花，一边享用美味的赏花便当，下列食物中最不可能出现在赏花便当中的是

- A. 生鱼片                      B. 寿司                      C. 烤全羊                      D. 紫菜包饭

32. 读地球表面海陆面积随纬度分布图(图13)，可知

- A. 从南、北半球看陆地集中在南半球  
 B. 北极地区以陆地为主  
 C. 从高、中、低纬看，陆地集中分布在北半球中纬度  
 D. 南极地区以海洋为主

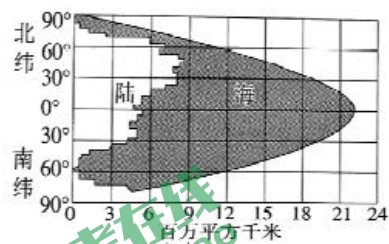


图13

北极东北航道是连接东北亚和北欧的最短可行航道，与传统航线相比，可以缩短大约三分之一航程，一艘3.6万吨的货轮可节省约300吨燃油。2018年某月的18日，中国“天恩”与“天健”两艘轮船在北极地区楚科奇海域相遇。“天恩”号轮船17日通过白令海峡，正式进入北极东北航道，其后将沿“冰上丝绸之路”西行前往欧洲。“天健”号轮船则满载纸装货物，由欧洲出发东行取道北极东北航道，前往青岛。图14为北极航线略图。据此，完成33~37题。

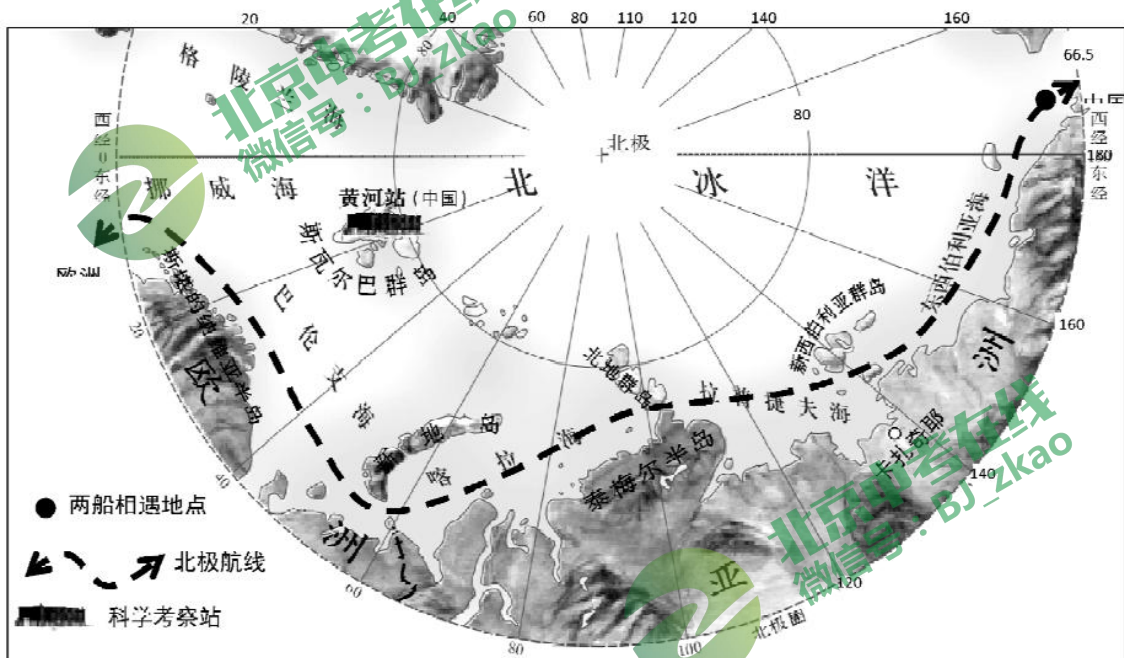


图14

33. 中欧货物采用轮船运输的优势是轮船

- A. 运量大，长途运输成本低                      B. 运输灵活，便于货物装卸  
 C. 运输速度快，可以缩短时间                      D. 运输的连续性强，效率高

34. 中国“天恩”与“天健”两艘轮船在北极海域相遇的月份最可能是

- A. 1月                      B. 4月                      C. 8月                      D. 10月

35. 中国“天恩”与“天健”两艘轮船相遇地点的经纬度大约是

- A. 60° N, 175° E                      B. 75° N, 172° W                      C. 70° N, 170° E                      D. 68° N, 172° W

36. 北极航线的开通得益于北极沿岸海冰的季节性融化范围扩大，造成这种现象最可能的原因是

- A. 全球变暖                      B. 全球变冷

C. 人类在北极沿岸活动加剧

D. 地壳运动

37. 船员们航行在北冰洋沿岸过程中, 最可能看到的景观是



图 15 是世界人口的增长及预洲图、图 16 是 2018 年 3 月 20 日中国人口时钟图。读图, 完成 38~40 题。

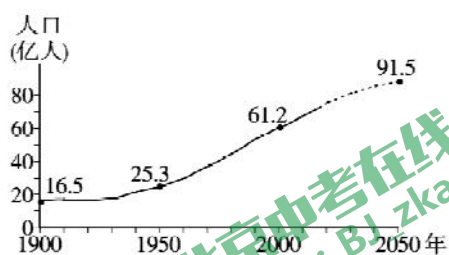


图 15



图 16

38. 读图 15, 世界的人口增长速度

A 一直很快

B. 1900 年后逐渐变缓

C 一直缓慢

D. 1950 年后迅速加快

39. 人口增长过快可能带来的问题有

A. 粮食供给压力加大

B. 劳动力可能会短缺

C. 资源得到有效利用

D. 消费水平迅速提高

40. 据图 16 分析, 我国近年来施行“全面二孩”人口政策, 主要原因是

A. 人口基数已变小

B. 人口老龄化问题严重

C. 新生人数已很少

D. 已不需要“计划生育”

第二部分: 非选择题(共 50 分)

41. 阅读下列相关图文材料, 回答问题。(12 分)

资料 1: 2019 年 2 月, 中共中央国务院印发了《粤港澳大湾区发展规划纲要》。目的是发挥港澳独特优势, 提升其在中国经济发展和对外开放中的地位。

资料 2: 粤港澳大湾区指的是由广州、深圳、珠海等 9 市和香港、澳门形成的城市群, 是继纽约湾区、旧金山湾区、东京湾区之后的世界第四大湾区。

资料 3: 日本的东京湾区聚集了日本 1/3 人口、2/3 经济总量, 3/4 工业产值, 在东京湾的沿岸, 有六个港口首尾相连, 形成庞大的港口群, 年吞吐量超过 5 亿吨。在庞大港口群的带动下, 东京湾地区逐步形成了京滨、京叶两大工业地带。东京湾区有全世界最密集的轨道交通网, 湾区内 80-90% 通勤客运依赖轨道交通。

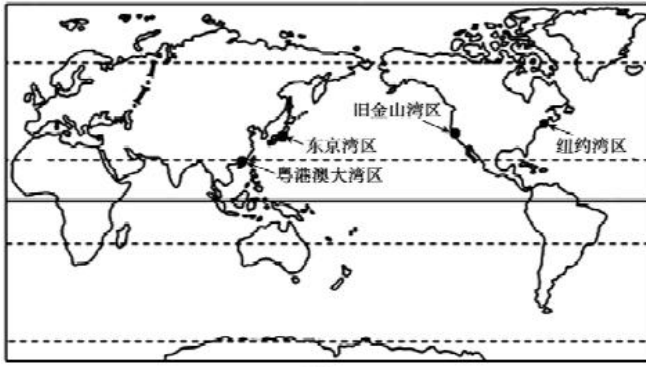
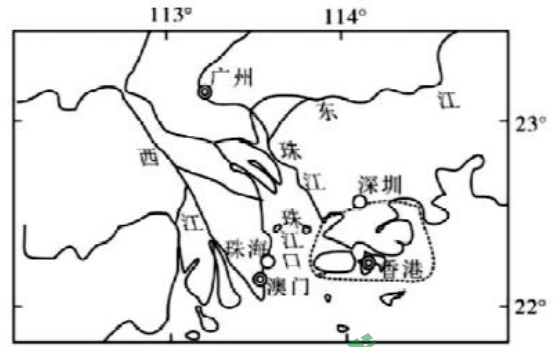


图 17



图例: ● 主要城市 ○ 经济特区城市 — 香港特别行政区界

图 18

	纽约湾区	旧金山湾区	东京湾区	粤港澳大湾区
人口密度 (人/平方千米)	1088.37	399.44	1181.25	1197.32
国际港口 (个)	5	4	6	4
国际机场 (个)	2	3	2	4
世界 100 强大学 (所)	2	3	2	4

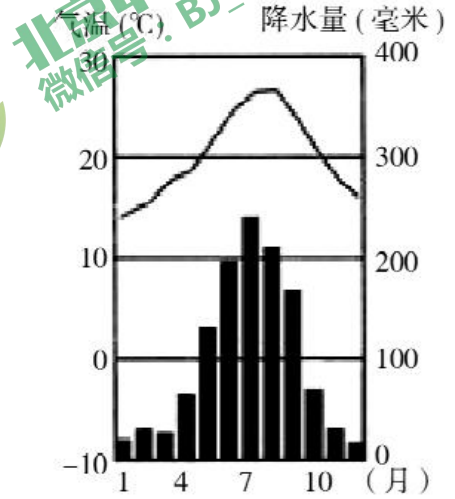


图 19 广州气候图

(1) 粤港澳大湾区城市群位于我国四大地理分区中的\_\_\_\_\_地区, “粤”代表的是\_\_\_\_\_ (填省级行政区全称)。(2分)

(2) 结合图 17, 图 18 和资料 1, 说出粤港澳大湾区发展对外开放经济的特殊优势有\_\_\_\_\_、\_\_\_\_\_ (2分)

(3) 结合资料 3、表 1, 说明粤港澳大湾区与东京湾区成为世界大湾区所具备的共同条件(至少答出 2 点): \_\_\_\_\_、\_\_\_\_\_。(2分)

(4) 判断对错:

根据题目中信息及所学知识判断, 对的打√, 错的打×, (3分)

- ① 粤港澳大湾区城市群经济发达, 并且受到国家政策的支持。 ( )
- ② 粤港澳大湾区属于热带季风气候。 ( )
- ③ 粤港澳大湾区内的城市中, 深圳、珠海均属于经济特区城市。 ( )

资料 4: 港珠澳大桥是连接香港、珠海、澳门的超大型跨海通道, 全长 55 千米。图 20 是港珠澳大桥示意图。2019 年 2 月香港特区港珠澳大桥管理局通知, 春节期间, 大桥一连 7 天实施小客车免费通行政策。期间小客车经过口岸无须缴纳 150 元人民币。

(5) 港珠澳大桥在修建过程中可能遇到的困难是\_\_\_\_\_ (单选)。(1分)

- A. 暴雪
- B. 台风
- C. 寒潮
- D. 沙尘暴

(6) 港珠澳大桥的建成有利于\_\_\_\_\_ (两项选择) (2分)

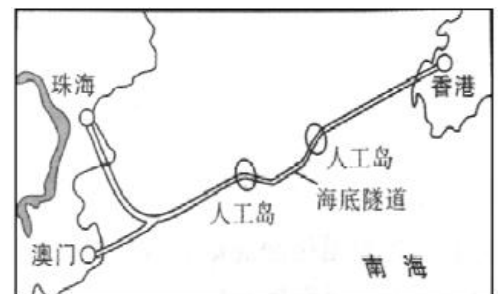


图 20



A. 港、澳经济繁荣和稳定发展

B. 港澳为祖国内地提供原料与燃料

C. 珠江口两岸社会经济发展

D. 祖国内地为港澳提供先进管理技术

42. 2017年9月29日《北京城市总体规划(2016年—2035年)》正式发布。其中要点有:①确定北京城市战略定位;②疏解非首都功能,设立北京城市副中心;③生态保护;④历史文化名城保护;⑤京津冀协同发展。并提出“一核一主一副、两轴多点一区”的城市空间结构。据图21、图22学校王老师带领学生进行小组活动。依据小组活动资料,完成下列各题。(13分)第一小组收集到:北京作为历史文化名城,今年将“中轴线”申遗纳入核心发展内容。传统中轴线是古都北京的中心标志,也是世界上现存最长的城市中轴线。

(1)“一核”是指首都功能核心区,故宫和人民大会堂均位于核心区,分别体现出北京是全国的\_\_\_\_\_中心、\_\_\_\_\_中心的城市职能。(2分)

(2)首都北京是著名的历史文化名城,有众多的世界文化遗产(故宫、颐和园、长城、十三陵、大运河、周口店北京人遗址、天坛),请任选一个世界文化遗产,谈一谈具体的保护措施:\_\_\_\_\_ (2分)

第二小组关注到习近平总书记提出的“绿水青山就是金山银山”,通过查阅资料发现北京地区历史上也是一个森林茂密、水草丰盛的地方,那时候温暖湿润,水资源丰富。

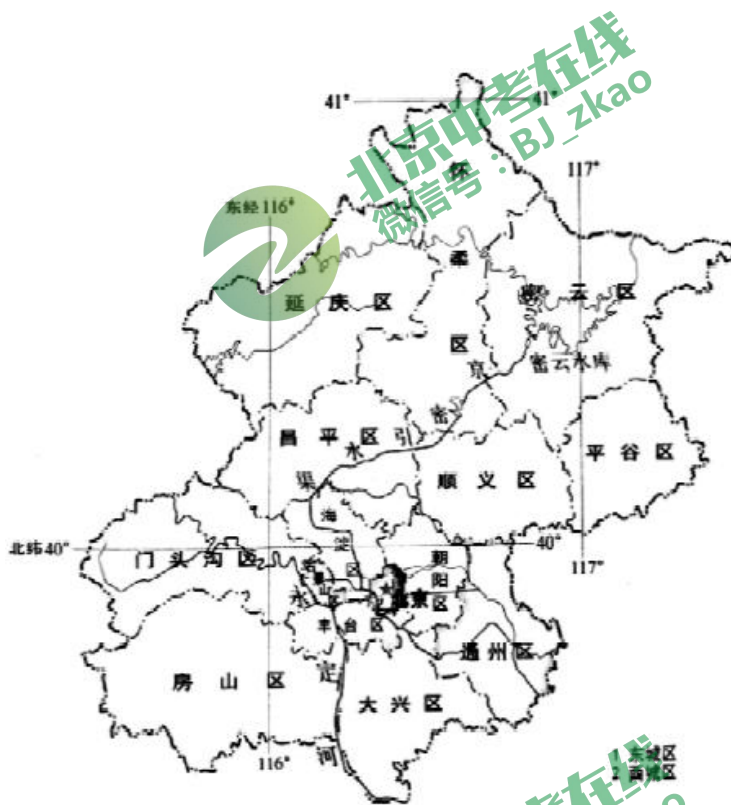


图 21 北京市政区图

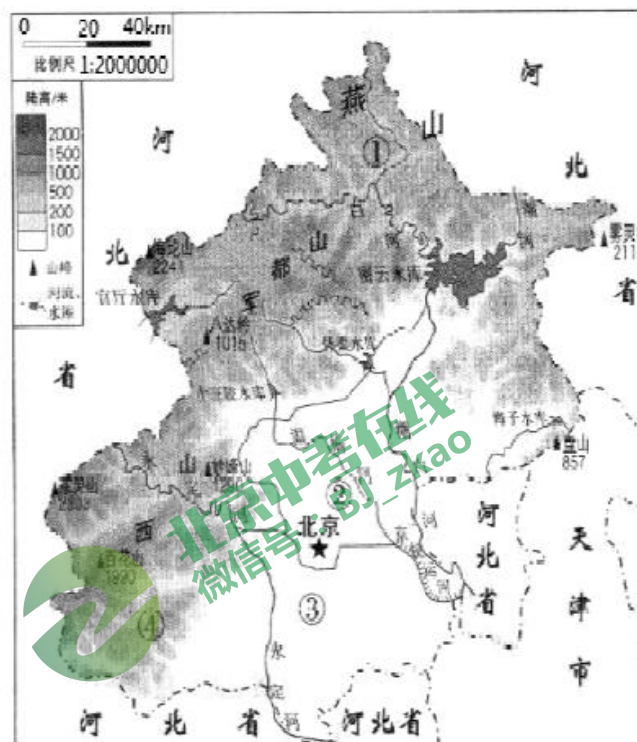


图 22 北京市地形图

(3)“一区”是指生态涵养区,是北京重要的生态屏障、水源保护地和“大氧吧”,包括门头沟区、平谷区、怀柔区、密云区、延庆区以及昌平区和房山区的部分地区。“一区”的地形类型主要是\_\_\_\_\_。(1分)

北京早在五六十万年前便是森林密布之地,就连平原地区也分布着松、桦、极树等茂密的森林。随后的历史时期里,森林没有被破坏。唐代,北京地区经济繁荣,商业发达。市民需要大量木炭做燃料。辽、金代统治者多次批准解除“山林之禁”,不限制乱砍乱伐。明代建都北京,修缮之木也大肆从西山索取。

(4)结合以上文字资料,尝试归纳北京森林遭到破坏的原因\_\_\_\_\_、\_\_\_\_\_ (2分)从整体上来看,由于森林逐渐减少,优越的气候慢慢消失了,取而代之的是频繁的水旱灾害。2019年1月9日,为建设生态北京,《新一轮百万亩造林绿化建设工程总体规划》,正式出炉。规划提出,到2022年,北京将新增100万亩森林,全市森林覆盖率达到45%,平原地区森林覆盖率达到32%。

(5) 森林覆盖率越\_\_\_\_\_灾害发生次数越\_\_\_\_\_。结合实际生活，由于北京森林覆盖率低，带来的自然灾害或环境问题有哪些\_\_\_\_\_。(3分)

(6) “一主”是中心城区，包括东城区、西城区、朝阳区、海淀区、丰台区、石景山区。其中海淀区的中关村是我国科技创新和人才资源最为密集的区域，主要发展\_\_\_\_\_产业，其发展优势条件主要是\_\_\_\_\_。(双项选择)。(3分)

- A. 高等院校云集
- B. 地形平坦，水源充足
- C. 科技实力雄厚
- D. 人口稠密，劳动力丰富

43. 2018年中非合作论坛北京峰会于9月3日至4日在北京举行，本次峰会以“合作共赢，携手构建更加紧密的中非命运共同体”为主题。为迎接这次意义重大的盛会，北京城内各处摆放出靓丽的花坛。图23中非合作论坛会议现场和北京城内花坛一角；图24地球公转轨道图；图25非洲气候类型分布图。依据图文资料，回答下列问题。(13分)



图 23

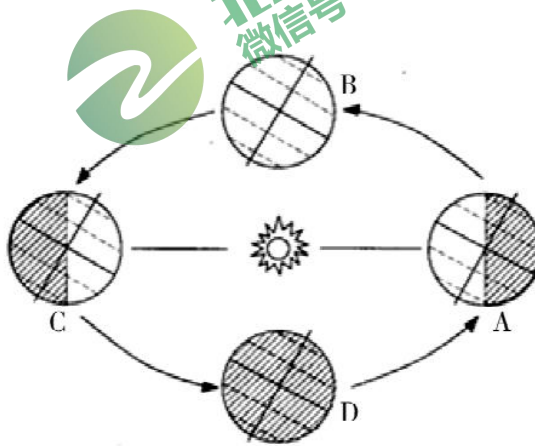


图 24

(1) 论坛举办期间，地球处在公转轨道上的\_\_\_\_\_。(单项选择)，此间北京的昼夜长短状况是\_\_\_\_\_。(2分)

- A. A 和 B 间更靠近 A
- B. B 和 C 间更靠近 C
- C. C 和 D 间更靠近 D
- D. D 和 A 间更靠近 D

(2) 结合图 23 看出，非洲以\_\_\_\_\_色人种为代表，他们的故乡是\_\_\_\_\_。(2分)

(3) 本次峰会以“合作共赢，携手构建更加紧密的中非命运共同体”为主题，中国与非洲的合作属于\_\_\_\_\_。(南南合作/南北对话)。(1分)

近年来，中非不断加强非洲基础设施建设方面的合作，促进了非洲自中国进口建材、机械设备等产品的数量不断增加。由于非洲缺少原材料加工能力，目前非洲对中国的出口仍然以原油和各种原材料为主。

(4) 请根据上述文字材料写出一种中国向非洲出口产品\_\_\_\_\_和一种非洲向中国出口的产品\_\_\_\_\_。(2分)

猴面包树，树干虽然很粗，但是为了能够顺利度过旱季，木质却非常疏松。这种木质最利于储水，在雨季时，它就利用自己粗大的身躯和松软的木质代替根系，大量吸收并贮存水分。它的木质部像多孔的海绵，里面含有大量的水分。每当旱季来临，为了减少水分蒸发，它会迅速脱光身上所有的叶子，待到干旱季节慢慢享用。

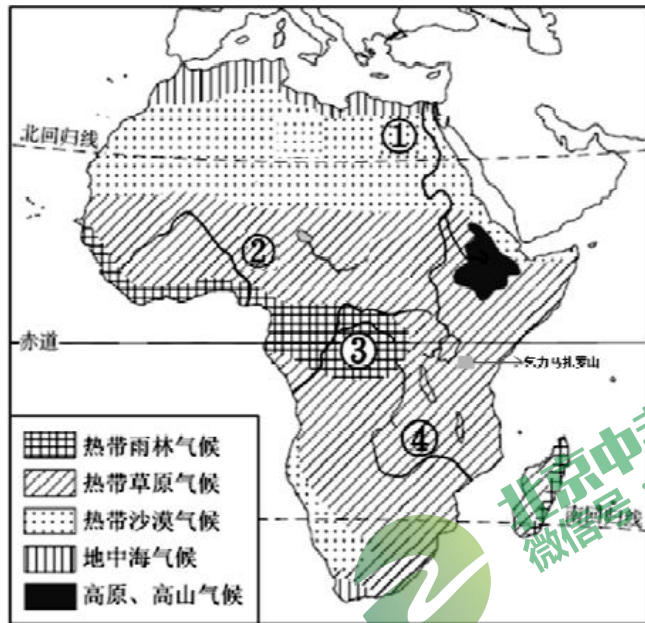


图 25

(5) 景观图中设计了猴面包树(图 23), 上述材料中所描述的猴面包树生存特性主要是在\_\_\_\_\_自然因素影响下形成的, 它在非洲气候类型分布图(图 25)中最可能分布在\_\_\_\_\_地区(填气候类型)。(2 分)

(6) 分析非洲气候类型分布图(图 25)可知, 图中①、②、③、④四条河水量最大的是\_\_\_\_\_, 判断理由是\_\_\_\_\_, 其中①河的流向大致为\_\_\_\_\_。(3 分)

(7) 《乞力马扎罗的雪》是海明威的著作之一, 乞力马扎罗山地处赤道附近, 山上却有积雪, 形成这种现象的主要影响因素是\_\_\_\_\_。(单选)(1 分)

- A. 海陆位置因素      B. 纬度位置因素      C. 地形因素      D. 都不对

44. 法国位于亚欧大陆西部, 工业、农业、旅游业发达。依据《法国河流分布图》(图 26), 《法国葡萄小麦产区图》(图 27)及相关文字材料, 回答下列各题。(12 分)

材料: 法国大西洋沿岸的广大平原地区, 气温年变化小, 全年降水分配比较均匀, 基本没有旱、涝等气候灾害, 对发展农业生产非常有利。法国地中海沿岸地区, 夏季气温高降水少, 光照充足, 有利于作物糖分的积累, 冬季温和多雨。



图 26

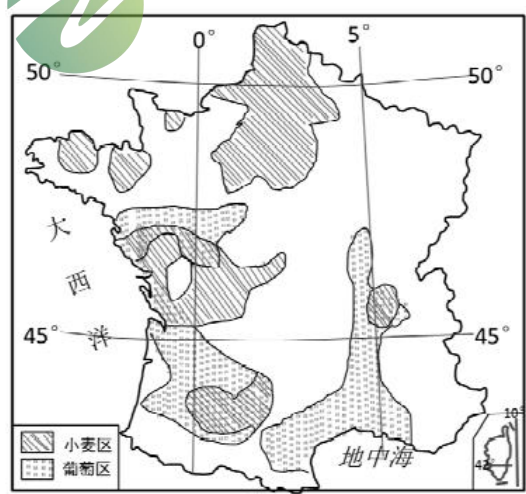
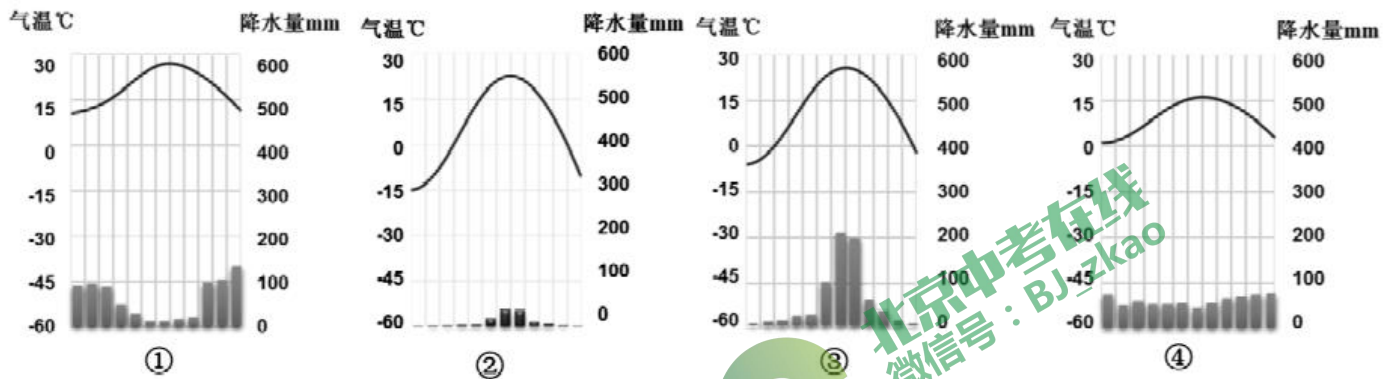


图 27

(1) 从纬度位置看, 法国位于地球五带中的\_\_\_\_\_带。(1 分)

(2) 由图分析可知, 法国的地势特点是\_\_\_\_\_, 判断依据是\_\_\_\_\_。(3 分)

(3)法国是欧洲重要的小麦产区，小麦种植区主要分布在其国土的\_\_\_\_\_部，根据材料中的描述，其小麦产区的气候类型主要是下列四种气候类型中的\_\_\_\_\_ (单选填序号);法国的葡萄酒闻名于世，南部的葡萄产区主要分布在\_\_\_\_\_沿岸。该地区生长的葡萄质地优良，糖分含量高，其主要自然原因是受\_\_\_\_\_气候(单选填序号)的影响，该气候类型的特征是夏季\_\_\_\_\_、冬季\_\_\_\_\_。(6分)



(4)法国各种旅游资源都十分丰富，是世界第一旅游接待国。下面三幅图中，属于法国著名景点的是\_\_\_\_\_ (单选填序号)，它与另外两个旅游景观在旅游资源的分类上同属于\_\_\_\_\_旅游资源。(2分)



A. 自由女神像



B. 悉尼歌剧院



C. 埃菲尔铁塔

# 地理试题答案

第一部分：选择题（每题1分，共40分）

题号	1	2	3	4	5	6	7	8	9	10
答案	C	C	B	B	C	C	D	C	B	B
题号	11	12	13	14	15	16	17	18	19	20
答案	C	C	D	C	A	B	C	A	C	B
题号	21	22	23	24	25	26	27	28	29	30
答案	A	D	A	C	D	D	D	B	D	B
题号	31	32	33	34	35	36	37	38	39	40
答案	C	C	A	C	D	A	B	D	A	B

第二部分：非选择题（共50分）

41. 12分

- (1) 南方地区 广东省 (2分)  
 (2) 临海（或位于沿海）对外交通便利 毗邻香港、澳门对外交流便利 (2分)  
 (3) 海陆空交通便利 人口密度大，劳动力充足 高等学府多，高科技人才多  
 （任意两点即可）(2分)  
 (4) √ × √ (3分) (5) B (1分) (6) A C (2分)

42. 13分

- (1) 文化 政治 (2分) (2) 任选其一，合理即可（选择1分措施1分）(2分)  
 (3) 山地 (1分) (4) 伐木烧炭 伐木取材（相似描述亦可）(2分)  
 (5) 低 多 水灾（或旱灾）（相关亦可）(3分) (6) 高新技术 A C (3分)。

43. 13分

- (1) C 昼长夜短 (2分) (2) 黑 撒哈拉以南非洲 (2分)  
 (3) 南南合作 (1分) (4) 建材（或机械、具体相关产品均可） 原油（或原料、具体相关产品均可）  
 (2分) (5) 气候 热带草原气候 (2分)  
 (6) ③ 位于热带雨林气候区，降水量最大 自南向北 (3分) (7) C (1分)

44. 12分

- (1) 北温带 (1分)  
 (2) 东高西低（或东南高西北低） 大部分河流由东（东南）向西（或西北）流，根据水往低处流的原理，所以东部（东南部）地势高，西部（西北部）地势低 (3分)  
 (3) 西部（或西北部） ④ 地中海 ① 高温少雨 低温多雨 (6分)  
 (4) C 人文 (2分)