

门头沟区 2020—2021 学年度第一学期期末调研试卷

九年级道德与法治 2021.1

考生须知	1. 试卷共 9 页，分选择题和非选择题两种题型，30 道小题，满分为 100 分。 2. 请将条形码粘贴在答题卡相应位置处。 3. 试卷所有答案必须填涂或书写在答题卡上，在试卷上作答无效。请使用 2B 铅笔填涂，用黑色签字笔或钢笔作答。 4. 本次考试采取闭卷方式，考试时间为 90 分钟。
------	---



第一部分（选择题 共 48 分）

本部分共 24 小题，每小题 2 分，共 48 分。在每小题列出的四个选项中，选出最符合题目要求的一项。

1. 2020 年，为纪念中国人民志愿军抗美援朝出国作战_____周年，中国电影人集体发力，创作了《金刚川》《英雄连》等多部影片。以光影方式回望历史，满腔热血致敬英雄志愿军，从多个维度还原抗美援朝战争，唤醒人们对这段历史刻骨铭心的记忆。

- A. 60 B. 65 C. 70 D. 75

2. 2020 年 11 月 24 日，中国探月工程_____探测器成功发射，开启中国首次地外天体采样返回之旅。12 月 17 日，返回器携带月球样品在内蒙古四子王旗安全着陆。


- A. 嫦娥五号 B. 天舟三号
C. 天宫五号 D. 长征三号

3. 2019 年全国 GDP 百强县排行发布。百强县东部地区远超中西部地区，东部地区占 71 席，中部地区占 19 席、西部地区仅占 7 席。这表明我国当前经济建设要

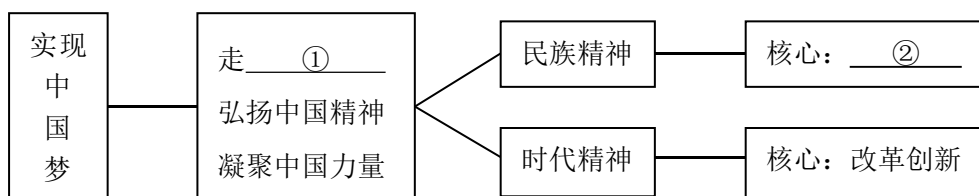
- A. 促进区域协调发展 B. 坚持新型城镇化道路
C. 实施乡村振兴 D. 推动城乡发展一体化

4. 右侧漫画《托起中国梦》揭示的道理是

- A. 实现中国梦就是要实现全面建设小康社会
B. 只要大家心往一块儿想就能实现中国梦
C. 实现中国梦离不开各族人民的艰苦奋斗
D. 中国梦确保全体公民都能过上幸福的生活



5. 以下思维导图中的①和②依次应填的内容是



- A. 强国道路 爱国主义 B. 中国道路 爱国主义
C. 富裕之路 团结统一 D. 富民之路 团结统一

6. 近日,小梁在微信上新加的好友称自己在做军民融合课题研究,要求小梁拍摄一些国内军事档案的内容发给他,并提供了丰厚报酬。小梁很高兴,却丝毫没有意识到自己已经出卖了国家机密。这启示我们要

- A. 提高辨别能力,拒绝上网交友
- B. 增强法律意识,严惩违法犯罪
- C. 正确认识网络,减少上网时间
- D. 树立国家安全意识,维护国家安全


7. 党的十九届五中全会强调,全面深化改革,实行高水平对外开放。这一郑重宣示,为实现“十四五”规划和二〇三五年远景目标指明了方向。下列关于改革开放的认识正确的有

- ①改革开放是决定当代中国命运的关键抉择
 - ②改革开放是强国之路
 - ③改革开放只有进行时,没有完成时
 - ④改革开放能解决当前中国的一切问题
- A. ①②③ B. ①②④ C. ①③④ D. ②③④

8. 中国共产党第十九届五中全会于2020年10月26日至29日在北京胜利召开。第二十次全国代表大会(“二十大”)预计将于2022年秋召开。从“十九大”到“二十大”,是“两个一百年”奋斗目标的历史交汇期。这一交汇简单的表述就是

- A. 温饱与小康的交汇
- B. 总体小康与全面小康的交汇
- C. 全面小康与社会主义现代化的交汇
- D. 全面小康与构建社会主义和谐社会的交汇

9. 实现下图“目标”,我国必须



- ①坚持走共同富裕道路,坚持共享发展理念
 - ②转变经济发展方式,不断优化经济结构
 - ③立足基本国情,大力发展生产力
 - ④坚持改革开放,改变根本制度
- A. ①②③ B. ①②④ C. ①③④ D. ②③④

10. 社会主义民主政治是中国特色社会主义政治文明的集中体现。社会主义民主政治的本质特征是

- A. 推进广泛而真实的民主
- B. 探索民主道路
- C. 保障最广大人民的利益
- D. 人民当家作主

11. 第十三届全国人民代表大会代表分别来自各省、自治区、直辖市和军队等 35 个选举单位，其中一线的工人、农民代表 468 名(含 45 名农民工代表)，专业技术人员代表 613 名，妇女代表 742 名。从人大代表的组成可以看出社会主义民主具有

- A. 权威性 B. 真实性 C. 集中性 D. 广泛性

12. 全面依法治国是中国特色社会主义的本质要求和重要保障，全面依法治国必须坚持厉行法治。坚持厉行法治，公民应该

- ①增强尊法学法守法用法意识
②自觉依法行政，严格依法办事
③树立正确的权利义务观念
④弘扬法治精神，强化规则意识

- A. ①②③ B. ①②④ C. ①③④ D. ②③④

13. 在认真阅读了下面漫画《我们期盼祖国的统一》后，同学们纷纷发表了自己的看法，其中不正确的是



- A. 台湾是中国不可分割的一部分
B. “一国两制”可以解决一切领土争端问题
C. 实现祖国统一是海峡两岸人民的共同心愿
D. 祖国完全统一是中华民族的根本利益所在

14. 下列四幅图画共同反映了政府的宗旨是



- A. 为人民服务 B. 依法行政
C. 维护统治阶级的利益 D. 科学抉择

15. 新中国成立后，过高的出生率和生育率带来了人口激增和发展压力，1980 年我国推行计划生育政策，提倡一对夫妇生育一个子女。随着经济发展水平的提升，人们的生育观念发生转变，出生人口数量逐步减少，2016 年我国开始全面实施一对夫妇可生育两个子女政策。我国生育政策的调整

- A. 表明我国已经不是世界上人口最多的国家
- B. 能够从根本上解决人口对资源、环境的压力
- C. 有利于人口的增长同经济和社会发展计划相适应
- D. 表明人口老龄化是我国现阶段人口现状的基本特点

16. 公民积极参与政治生活、正确行使民主权利是政治素养提高的重要表现。下列选项对公民参与政治生活和行使民主权利的分析，对应正确的是

序号	参与政治生活	行使民主权利
A	李某向生态环境部门反映当地环境污染问题	主动履行公民义务
B	王某作为选民参加选举市人大代表的活动	行使民主选举的权利
C	张某参加市政府机关举行的民主评议活动	直接参与民主管理
D	林某对小区内物业管理问题提出批评和建议	自觉参与民主协商

17. 严于律己，宽以待人是中华民族的传统美德。下列成语典故体现这一美德的是



A. 精忠报国



B. 三顾茅庐



C. 负荆请罪



D. 卧薪尝胆

18. 2020 年 7 月 1 日，香港回归祖国 23 周年。回归祖国 23 年来，香港特别行政区实现各项事业全面发展，取得世所公认的成就。这主要是因为实施了

- A. 中国共产党领导的多党合作和政治协商制度
- B. 自由贸易政策
- C. 民族区域自治制度
- D. “一国两制”方针

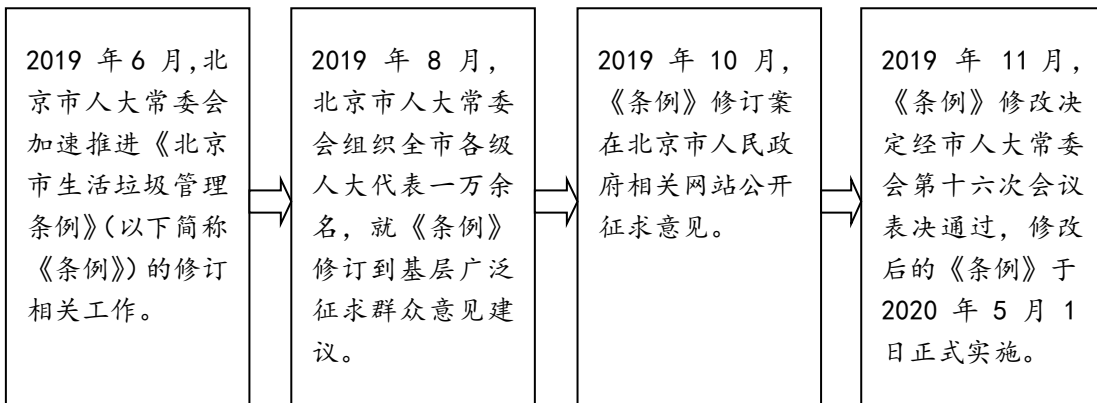
19. 观察下图，下列选项对其理解正确的有



- ①经济增速呈下降趋势，我国经济总量在不断增长
- ②经济呈高速增长态势，我国经济总量在不断增长
- ③我国贯彻以共同富裕为中心的发展思想
- ④经济发展进入新常态，需要转变发展方式，优化经济结构，转换增长动力

A. ①② B. ①④ C. ②③ D. ③④

20. 2019年11月28日，北京市十五届人大常委会第十六次会议表决通过了关于修改《北京市生活垃圾管理条例》的决定。本《条例》的修订部分过程如下图所示：



本《条例》的修订过程说明了

- ①公民有权参与法律法规的制定，行使立法权
- ②公民积极建言献策，参与民主生活，行使民主权利
- ③民主决策是保障人民利益得到充分实现的有效方式
- ④良法要求反映最广大人民群众的意志和利益

A. ①②③ B. ①②④ C. ①③④ D. ②③④

21. 西藏玉麦乡地处祖国边陲，环境险恶、交通不便，最少时全乡只有3个人。如今的玉麦公路通了，电通了，有商店有民宿，买东西也能用手机支付，玉麦乡发生巨大变化的主要原因有

- ①我国坚持各民族平等团结共同繁荣的原则
- ②各民族之间相互融合，已没有差异
- ③党和政府大力扶持民族地区发展
- ④当地享有高度自治权

A. ①③ B. ①④ C. ②③ D. ②④

22. 以下名句与核心价值观的基本内容对应正确的是

序号	名句	基本内容
①	位卑未敢忘忧国	爱国
②	有很多良友胜于很多财富	敬业
③	春蚕到死丝方尽，蜡炬成灰泪始干	友善
④	民无信不立	诚信



- A. ①② B. ①④ C. ②③ D. ②④

23. 习近平总书记在基层考察时提出，全面建成小康社会“一个都不能少”。这“一个都不能少”既包括各个民族一个不能少，也包括全体社会个体成员一个不能少。“一个都不能少”的承诺与要求，表达了以习近平同志为核心的中共中央全面建成小康社会的坚强意志，设立了小康社会的严格标准。全面建成小康社会“一个都不能少”

- ①是把共享作为发展的重要理念的具体体现
 ②是尊重和保障人权，维护社会公平正义的具体体现
 ③表明我国坚持同等富裕原则
 ④需要持续推动全面深化改革的历史进程

- A. ①②③ B. ①②④ C. ①③④ D. ②③④

24. 下列新闻事件与反映的学科观点对应正确的是

序号	新闻事例	反映的学科观点
①	自党的“十八大”以来，冤错案不断平反。2018年，平反的冤错案依然不少。重审张文中案；再审金哲宏案，改判无罪……	坚持公正司法，让每一个司法案件都体现公平正义
②	全国人大常委会决定将民法典草案提请十三届全国人大三次会议审议；十三届全国人大二次会议通过《中华人民共和国外商投资法》等大事件入选2019年中国十大法治影响力事件	坚持科学立法，完善社会主义法律体系
③	2020年6月5日，北京市规划和自然资源委员会门头沟分局拟组织对门头沟区征地区片综合地价举行听证会	政府推进政务公开，促进决策科学化民主化；保障公民对重大事项的决策权
④	2020年5月28日，十三届全国人大三次会议表决通过了《中华人民共和国民法典》	人民代表大会制度是我国的一项基本政治制度

- A. ①② B. ①③ C. ②③ D. ②④

第二部分（非选择题 共 52 分）

25.（6分）围绕我国资源生态环境现状、绘制生态文明蓝图、建设美丽中国目标等内容，某校九年级（1）班同学展开了激烈讨论，下面是三位同学的观点：

生态建设初见成效，再绘生态蓝图没必要。



小勇

我国是资源大国，自然资源丰富，我们可以尽情地大量开发资源。



小昕

美丽中国是目标，大家行动才有效。



小婧



请从三个同学的观点中任选其一，运用所学知识作出简要评析。

26.（9分）为梦想，凝聚共识；为梦想，汇聚力量。2020年全国“两会”胜利闭幕，亿万华夏儿女从新的起点出发，向着美丽的“中国梦”进发。

【汇聚世界目光】

“中国梦”不仅激发了中国人民对未来的美好憧憬，也成为世界各大媒体报道和街谈巷议的热词。一些外国人士认为世界各国能够从“中国梦”的实现过程中获得更多发展机遇。“‘中国梦’将对世界经济贸易产生积极影响。”“不管是调解朝核、伊核问题，还是援手欧债危机、支持非洲国家，国际舞台上处处可以看到中国的身影。‘中国梦’的实现更将有利于世界和平与稳定。”

……

（1）“中国梦”引发外媒关注和外国人士的评价，让我们感到了中国自信。这种自信的根本所在是什么？（3分）

【凝聚力量 实现梦想】

党的十九届五中全会既把“十四五”时期的发展作为重点，同时又对2035年基本实现社会主义现代化的远景目标进行了展望，把我国近期、中期、远期不同发展阶段的目标协调统一起来，使“两个一百年”奋斗目标更加紧密地有机衔接。在当前和未来复杂多变的内外大环境下，这将大大有利于全国各族人民坚定信心，进一步明确战略指导，凝聚力量，不断朝着实现中国梦的方向迈进。

（2）要凝聚力量，实现梦想，必须坚持具有中国特色的社会制度、方针和政策。如：坚持人民代表大会制度有利于充分调动广大人民的积极性，增强主人翁责任感。请依据此格式再举一例。（2分）

（3）作为一名中学生，在实现中国梦的征程中，你如何做一个追梦人？（4分）

27. (9分) 共建法治森林, 增强法治意识。下面是北京市门头沟区某镇的法治宣传栏内容, 请认真阅读后回答问题。

<p style="text-align: center;">护林有法</p> <p>为了有效预防和扑救森林火灾, 保障人民生命财产安全, 保护森林资源, 维护生态安全, 根据国务院《森林防火条例》等法律法规, 结合本市实际情况, 《北京市森林防火办法》于2011年11月1日起正式施行。</p>	<p style="text-align: center;">执法有力</p> <p>2019年4月2日, 北京市密云区一村民郭某某, 在其承包的山场内燎地边, 被本村的护林员发现并及时制止扑灭。北京市公安局密云分局库东森林公安派出所民警对其违反规定擅自野外用火行为作出给予警告处分, 并根据国务院《森林防火条例》、《北京市森林防火办法》处1000元罚款的处罚决定。</p>
<p style="text-align: center;">守法有人</p> <p>近年来, 人们基本能做到不带火种进山、不在林区用火和吸烟; 村民也基本不在山边林内烧野草、秸秆积肥; 清明期间, 人们更多地开展“无烟祭祀”、“植树祭祀”等文明祭祀形式。</p>	<p style="text-align: center;">用法有我</p> <p>护林防火需要全社会的通力合作, 全体市民都应该积极行动起来, 为此, 我们应该为家乡的护林防火及其生态文明建设贡献自己的力量。积极宣讲森林防火内容及相关法律知识; 发现林区非法用火等行为, 要及时举报、制止……</p>

(1) 建设法治森林体现了我国坚持什么治国方略? (2分)

(2) 依据宣传栏内容, 运用“建设法治中国”知识, 概括北京市“共建法治森林”的措施。(4分)

(3) 建设法治中国, 必须厉行法治。最近, 某学校打算开展“厉行法治”的主题活动, 请你设计三种活动形式。(3分)

28. (9分) 阅读下面的材料, 回答问题。

材料一 小华到民族地区旅游后写了以下感悟: 我国是统一的多民族国家, 55个民族组成了中华民族大家庭; 我国已经形成了平等团结互助合作的社会主义新型民族关系; 民族地区的发展日新月异; 在这里, 各民族不论人口多少、风俗习惯和宗教信仰有多大差异, 都是平等的; 各民族公民都是国家的主人, 在国家和社会生活各领域享有平等的权利, 承担相同的道德义务。

材料二 全党要牢记我国是统一的多民族国家这一基本国情, 坚持把维护民族团结和国家统一作为各民族最高利益, 把各族人民智慧和力量最大限度凝聚起来, 同心同德为实现“两个一百年”奋斗目标, 实现中华民族伟大复兴的中国梦而奋斗! ——习总书记在中央民族工作会议上的重要讲话节选。

(1) 材料一中小华写的感悟中有几处错误, 请至少指出两处并改正。(4分)

(2) 材料二中习总书记为什么强调把维护民族团结作为各民族最高利益? (答出一点即可)(2分)

(3) 请你为中学生如何维护民族团结提几条建议。(3分)

29. (10分) 咏经典, 扬文化。

材料一 2018年, 在中央电视台《经典咏流传》的舞台上, 74岁的台湾音乐人陈彼得演绎的一首《青玉案·元夕》震撼全场。他觉得中国的音乐人要多关注本国文化, 在他的眼里, “一个树要有根, 这个文化就是根。没有文化基础的音乐, 是不会长久的, 是不会伟大的。你努力想要学习寻找的所有养分, 出去了之后才会发现, 最珍贵的资源其实老祖先都留给我们了。”音乐成了陈彼得寻根的方式。陈老说, 古诗词是我们老祖宗祖祖辈辈留下来, 我们这个土地上最珍贵的东西。

材料二 2020年3月12日, 中国驰援意大利抗击新冠肺炎疫情专家组带去了两种中药: 连花清瘟和金花清感。中医药学不仅是中国古代科学的瑰宝, 也对世界文明进步产生了积极影响。大量事实证明, 中西医结合非常有效。

- (1) 请用一句话谈谈你对材料一中划线部分的理解。(2分)
- (2) 请从文化的角度, 谈谈我国中医药走出国门的意义。(4分)
- (3) 作为当代中学生, 我们应该怎样对待中国优秀传统文化, 以增强文化自信?(4分)

30. (9分) “无芯”可用, 让人心痛。

2019年5月17日, 美国商务部发表声明, 正式将华为列入“实体清单”, 禁止美国企业向华为出售相关技术和销售一切产品。

2020年5月15日, 美国升级禁令, 美国商务部称, 正在制定更“全面”的计划, 不仅是美国的公司, 全球范围内的公司, 只要用美国设备和技术(达到一定比例)给华为生产芯片, 就必须得到美国批准。这一禁令的目标是切断华为与台积电等芯片制造企业的联系。2020年秋季发布的华为旗舰手机Mate 40, 所搭载的新款麒麟9000芯片很可能成为麒麟高端芯片的绝版。这一禁令让中国“无芯”之痛被重新唤起。

- (1) “无芯”之痛反映了我国目前的科技发展现状是怎样的?(4分)
- (2) 解决材料中问题的关键是什么?(2分)
- (3) 科技创新有你有我, 即将完成九年义务教育的你打算如何成为创新型人才?(3分)

