

学校 _____ 班级 _____ 姓名 _____ 考号 _____

考生须知

1. 本试卷共 8 页,共两部分。满分 70 分。考试时间 70 分钟。
2. 在试卷和答题卡上认真填写学校名称、班级、姓名和考号。
3. 试题答案一律填涂或书写在答题卡上,在试卷上作答无效。
4. 在答题卡上,选择题用 2B 铅笔作答,其他试题用黑色字迹签字笔作答。
5. 考试结束,请将本试卷、答题卡一并交回。

第一部分 选择题(共 30 分)

本部分共 20 小题,每小题 1.5 分,共 30 分。在每小题列出的四个选项中,选出最符合题目要求的一项。

1. 北京人遗址中发掘有动物的碎骨。(见右图)有考古学家发现骨头上有人工打击的痕迹,因此认为北京人会制作骨器。也有考古学家认为这些碎骨是北京人为食用动物而打碎,不能说明是骨器。这表明



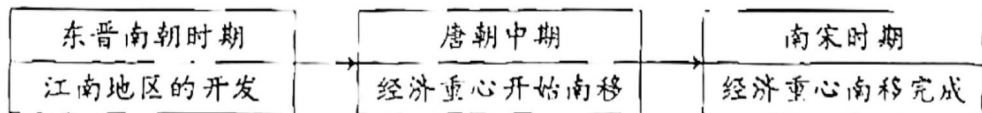
- A. 考古学家的观点完全没有依据
- B. 北京人已会使用火并保存火种
- C. 考古学家对考古发现有不同的解释
- D. 研究远古人类生活要依据文献史料

2. 《史记》以人物传记为中心反映历史内容,“不虚美,不隐恶”“使百代以下,史官不能易其法,学者不能易其书。”以上内容说明

- ①《史记》是纪传体史书
- ②司马迁公正记录史事
- ③《史记》对后世影响深远
- ④司马迁注重实地考察

- A. ①②③
- B. ①②④
- C. ①③④
- D. ②③④

3. 以下三个时期经济格局变化的共同原因是



- A. 铁器牛耕的推广
- B. 丝绸之路的开通
- C. 北方人口的南迁
- D. 多民族政权并立

4. 元朝各行省的重大民政、军政事务均须呈报中书省和枢密院,没有中书省、枢密院转发的诏旨,行省不能更改赋税,也不得调动军队。由此可见

- A. 元朝疆域空前辽阔
- B. 中央政府对西藏行使行政管辖
- C. “腹里”直属中书省
- D. 行省制度有利于加强中央集权



5. 对以下示意图理解正确的是,中国古代



- ①粮食作物种类逐渐丰富
②粮食总产量有所起伏
③北方的主要作物是水稻
④引进了高产粮食作物
- A. ①② B. ②③ C. ③④ D. ①④

6. 有学者认为从中国历史的发展来看,清朝前期值得颂扬。这是因为当时

- A. 君主专制制度得到空前强化
B. 统一多民族国家进一步巩固
C. 清政府长期推行闭关锁国政策
D. 科技外传对西方产生重大影响

7. 以下是洋务派兴办的部分企业,这说明

创办时间	1861 年	1862 年	1865 年	1867 年
洋务企业	安庆内军械所	上海三所洋炮局	金陵机器制造局	天津机器制造局

- A. 鸦片战争后清政府面临内忧外患的局面
B. 洋务企业受到外国势力的挤压
C. 洋务运动初期以发展近代军事工业为主
D. 清政府建立了完整的工业体系

8. 甲午战争后,中国知识分子形成了不同的政治派别。一类寄希望于清政府进行制度改革;另一类则走到了清王朝的对立面。这两类知识分子的代表人物分别是


- A. 林则徐、关天培 B. 曾国藩、洪秀全
C. 李鸿章、詹天佑 D. 康有为、孙中山

9. 《马关条约》签订后,日本人在中国开办工厂。张謇认为中国也要有自己的工商业,与日厂竞争。他发现进口货物中棉织物最多,于是决定在南通开办纱厂。这反映出张謇创办企业的直接目的是

- A. 抵制外国的经济侵略 B. 引进先进的生产技术
C. 推动自由平等的风尚 D. 打破官僚资本的压迫



10. 以下是某班同学参观一座纪念馆时看到的部分展品,他们主要可以了解到



我国第一部白话诗集



鲁迅在北大讲学时的教室复原陈列



李大钊照片

- A. 推翻封建王朝的斗争
- B. 近代思想解放的潮流
- C. 全国工人运动的高涨
- D. 国共两党合作的实现

11. 右侧是1953年12月《北京日报》刊载的漫画《钢铁给人们带来了幸福》。漫画的创作背景是



- A. 抗美援朝战争的开始
- B. 第一个五年计划实施
- C. 全行业公私合营的高潮
- D. 我国社会主义制度建立

12. 以下四个城市国内生产总值(单位:亿元)的变化反映出我国

	深圳	珠海	厦门	汕头
1980年	2.7	2.6	6.4	10.8
2020年	27700	3481.9	6384	2730.6

- A. 提出和平共处五项原则
 - B. 实现了生产资料公有制
 - C. 对外开放取得显著成就
 - D. 对外开放格局最终形成
13. 13—14世纪,西欧一些商人将统一购买的原料交给其雇佣的工人加工,付给工人报酬,成品运到市场销售。到16世纪,英国这类生产场所的规模有些达到了上千人。材料表述的是
- A. 庄园经济的瓦解
 - B. 租地农场的产生
 - C. 手工工场的发展
 - D. 世界市场的形成
14. 历史学家多伊尔说:拿破仑是大革命的产物,他的执政进一步推进了大革命的影响,深入到欧洲的每一个角落。以下能体现这一观点的是
- A. 《人权宣言》的发表
 - B. 《拿破仑法典》的颁布
 - C. 拿破仑加冕称帝
 - D. 拿破仑远征俄国失败
15. 19世纪30—40年代,法国的里昂工人起义、英国的宪章运动和德国西里西亚织工起义,表明工人阶级开始作为独立的政治力量登上历史舞台。当时的工人运动
- A. 为马克思主义的诞生创造了条件
 - B. 建立了第一个社会主义国家
 - C. 推动亚非拉民族民主运动的高涨
 - D. 促进了社会主义工业化建设



16. 世界近代科学革命以两大成就为标志。下表中①处应为

标志	影响
①	从宏观上确立了地面物体和天上物体服从统一的运动规律(万有引力)
拉瓦锡化学理论的建立	从微观上确立了化学反应的质量守恒定律和物质燃烧现象背后的氧化反应原理

- A. 牛顿力学体系的建立 B. 达尔文进化论观点的提出
 C. 法拉第发现电磁感应现象 D. 爱迪生的发明创造
17. 一位日本学者说,明治时期的日本尽管颁布了宪法,但神权体系依然强大,议会权力之小自不必说,内阁也十分脆弱。日本军部直属天皇,是最肆无忌惮的势力。他意在说明
- A. 日本废藩置县,加强中央集权
 B. 日本学习西方,建立新式军队
 C. 明治维新使日本迅速走上了发展资本主义的道路
 D. 明治维新保留了旧制度残余,军国主义色彩浓厚
18. 以下照片属于第一次世界大战时期的是



- A. 林肯在战场上 B. 遭炮轰后的凡尔登 C. 日本向盟军投降 D. 柏林危机中的空运

19. 右侧两位历史人物的共同贡献是

- A. 领导印度人民反抗英国殖民统治
 B. 号召人民开展非暴力不合作运动
 C. 为印度赢得了民族独立
 D. 推动印度民族经济发展



辛西女王



甘地

20. 反法西斯战争的胜利使昔日同盟的基础不复存在,内部矛盾日益凸显。而美苏国家战略之间的激烈碰撞,以及他们的对外政策和行为的对立互动,使冷战最终未能避免。以上内容

- A. 描述了世界反法西斯战争胜利进程 B. 强调了冷战局面形成中美国的责任
 C. 列举了北约与华约对峙的多项史实 D. 分析了导致冷战发生的多方面原因



第二部分 材料分析题 (共 40 分)

21. (10 分) 印刷术是人类历史上重要的发明创造。

材料一 隋唐时期科举制度日臻完善, 推动了教育的发展。唐代是诗歌的黄金时代, 诗歌创作所需的类书、韵书等工具书需求增大; 随着农业经济的发展, 历书的需求量增加, 手工抄写已无法满足需求。雕版印刷术出现后, 为更快更多的复制书籍提供了条件。宋代官府、私家刻书都兴盛起来。

——摘编自佟春燕《典藏文明——古代造纸印刷术》

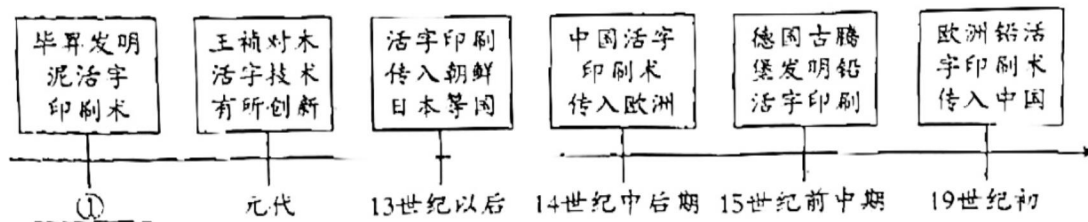
(1) 依据材料一并结合所学, 概括雕版印刷术出现的背景及作用。(3 分) 选出从“唐代雕版印经”中能得出的历史信息。(2 分, 写序号)

- ①唐代雕版印刷技术传播到欧洲; ②题记使用年号纪年; ③唐代雕版印刷技术成熟; ④唐代雕版印刷书籍完全取代了手抄书籍。



唐代雕版印经(局部), 版画精美, 雕版楷书秀丽, 卷尾题记有: “咸通九年”(唐懿宗时期) 字样。

材料二 活字印刷术发展示意图(部分)



(2) 依据材料二并结合所学, 填写①处的朝代, 概括活字印刷术发展的特点。(3 分)

材料三 金属活字印刷术诞生后, 欧洲很多航海指南、航海图便开始使用这种技术印刷。一些地理学家绘制的带有全球一体观念的地图传播开来, 为推动 15—16 世纪海上活动起到了重要作用。新型印刷技术产生后, 古希腊、罗马的著作和文艺作品也为更多的普通人所阅读。人们发现“人”的地位早在古典时代就已经被肯定, “神”的至高无上无非是教士们的合谋。


——摘编自崔林《从印刷术到互联网》

(3) 依据材料三并结合所学, 说出受活字印刷技术影响而发展的历史事件。(2 分)



22. (11分)新民主主义革命时期中国共产党的重要会议

材料一

①	②	③
<p>我们的党定名为“中国共产党”。我们党的纲领如下：革命军队必须与无产阶级一起推翻资本家阶级的政权，必须援助工人阶级，直到社会阶级区分消除的时候。</p> <p>——1921年7月《中国共产党第一个纲领》</p>	 <p>电影《建党伟业》</p>	<p>我们加入国民党，但仍旧保存我们的组织，并须努力从各工人团体中，从国民党左派中，吸收真有阶级觉悟的革命分子……以立强大的群众共产党之基础。</p> <p>——1923年6月《关于国民运动及国民党问题的议决案》</p>

(1)材料一中能说明中共一大内容的史料是_____。(1分、写序号)依据材料一并结合所学，说出中共一大的历史意义。(2分)

材料二 这次会议前中国共产党遭受了大革命失败后一次最重大的失败，而且党和红军的领导人博古、李德等在军事指挥上依然存在“左”的错误。他们不顾实际情况指挥红军直线行军，进入贵州时，红军已处在生死关头。会议后，党和红军呈现出全新的面貌，独立自主的坚持从实际出发，大胆灵活的采取行之有效的决断和行动，四渡赤水，直入云南，挥师北上，取得一系列胜利，闯出一条新路来。

——摘编自金冲及《生死关头：中国共产党的道路抉择》

(2)依据材料二并结合所学，说出“这次会议”的名称及会议召开的背景。(2分)指出会议前后党和红军在军事上发生的变化。(2分)

材料三

中共七大(1945年4至6月)	中共七届二中全会(1949年3月)
<p>中国急需把各党各派和无党无派的代表人物团结在一起……使中国人民从日本侵略者手中解放出来。然后，需要……民主的正式的政府，领导解放后的全国人民，将中国建设成为一个独立、自由、民主、统一和富强的新国家。</p> <p>——毛泽东《论联合政府》</p>	<p>党的工作重心由乡村转向城市……把中国逐渐由落后的农业国转变为先进的工业国，是中国共产党的奋斗目标。全党同志务必继续保持谦虚、谨慎、不骄、不躁的作风，继续保持艰苦奋斗的作风。</p> <p>——《中国共产党第七届中央委员会第二次全体会议决议》</p>

(3)依据材料三并结合所学，分别说出这两次会议召开的历史背景。(2分)综合以上材料，说明中国共产党领导中国革命取得胜利的原因。(2分)



23. (8分) 阅读材料, 回答问题。




材料 《成为一名维多利亚人》一书介绍了 19 世纪中期以后英国的社会生活, 以下是从书中整理的内容。

①新型化学染料的上色力度和耐光性都比以往的染料好。不掉色的新型黑色一出现就受到了追捧, 男性居民开始以黑色为着装的主要颜色。

②蒸汽洗衣机是新的发明, 人力洗衣开始转变为蒸汽带动的旋转滚筒洗衣。

③当时在家工作的人减少, 无论在乡下还是城里, 到工厂上班成了惯例。长时间的工作加上饥饿导致工人在操作机械时睡着的情况很常见。

④电灯和家庭照明技术的广泛运用, 使晚餐时间推后成为可能, 部分家庭直到晚上 8 点才开始用餐。

⑤	⑥	⑦
		
<p>图中是新出现的农业机械, 以蒸汽为动力的早期收割机, 加快了收割速度。</p>	<p>工人阶级工资很低, 童工的年龄变得越来越小, 图中是被送下矿井的孩子。</p>	<p>漫画反映伦敦的城市污水源源不断排入泰晤士河, 河中散发出的大恶臭笼罩城市。</p>

(1) 从材料中选出一项以第一次工业革命成果为动力的新发明 _____; (1分, 写序号)

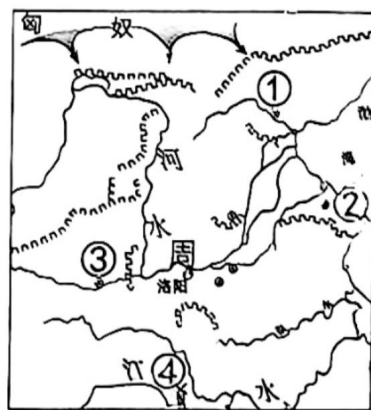
选出一项第二次工业革命成果推动的新发明 _____。(1分, 写序号)

(2) 依据材料, 围绕工业革命的影响写一篇小短文。(6分, 要求: 从两个方面概括影响, 选取材料分别进行说明, 60—120字)

24. (11分) 以下是某班同学参观首都博物馆后整理的材料。

材料一 公元前 11 世纪周武王灭商后, 燕、蓟两个诸侯国的发展使北京历史迈上了封国都城的台阶。中原王朝表现出对其北面门户——北京地区的重视, 直接派重臣率军队守护。春秋战国时期, 燕都蓟城物产丰富, 北面的匈奴、东胡等游牧民族和南边晋、鲁等地的商人们都汇集于此, 蓟城市场上流通大量燕国的刀币及韩、赵、魏等国的布币, 蓟城是“富冠海内”的名城。

——整理自首都博物馆《读城——探秘北京中轴线》展览



战国形势图

(1) 依据材料一并结合所学, 写出使北京成为“封国都城”的政治制度。(1分) 从地图中选出燕都蓟城的位置, (1分, 写序号) 并概括周代蓟城的城市功能。(2分)



材料二 辽、金、元时期的北京

	五京之一	北国之都	大汗之城
背景	契丹族建立辽政权,与北宋并立,国力不断增强。	女真族建立金政权,灭辽后与南宋对峙。	①
北京城的发展	幽州(北京)成为辽的五京之一南京。辽南京在唐幽州城的基础上发展起来,繁华富庶居五京之首。辽统治者对中原文化采取宽容及吸收的态度,极大的促进了民族交融。	金参照北宋汴京的规制在辽南京旧城基础上进行大规模扩建,城市布局已经具备中国封建王朝后期都城的特点,有纵贯南北的大路,三重城墙套合,突出了皇权独尊的威势。	忽必烈在金中都东北方营建新城,命名为大都。规划建设基本恪守中原王朝都城的理想模式,中轴线坐落在宫城的主体建筑上,显示了王朝统治中心至高无上的重要性。

——整理自首都博物馆《古都北京——历史文化篇》展览

(2)依据材料二并结合所学,将①处补充完整。(2分)概括辽、金、元时期北京城发展的共同特点。(1分)

材料三

时期	明清时期	1912—1949年	1949年以后
建筑名称	紫禁城	故宫博物院	故宫博物院
	先农坛	城南公园	北京古代建筑博物馆
	社稷坛	中山公园	中山公园
	太庙	和平公园	劳动人民文化宫

1949年以后,进一步改造天安门广场势在必行。1958年人民英雄纪念碑落成,1959年,人民大会堂与中国历史博物馆、中国革命博物馆(今国家博物馆)对称分布于广场两侧,被称为新时代的“左祖右社”。自此,天安门前形成了可容纳百万人集会的广场建筑群,被赋予了新时代的政治内涵,天安门广场成为城市平面布局的中心,对比之下,旧日突出于全城中轴线上的紫禁城在城市布局中已退居到次要地位。

——整理自首都博物馆《读城——探秘北京中轴线》展览

(3)依据材料三,说明明清以后北京建筑及城市布局的变化。(2分)结合所学,分别说明1912年及1949年前后变化的原因。(2分)

