



长按二维码 识别关注



北京中考在线
www.zgkao.com

专注北京中考升学

七年级第一学期期末调研

地 理

2018.1

学校_____ 班级_____ 姓名_____ 成绩_____

一、单项选择题（每小题2分，共50分）

下列各小题均有四个选项，其中只有一项是符合题意要求的。请将所选答案前的字母，填写在答题卡的表格内。

1. 人们对地球形状的认识，经历了一个漫长的过程。下列认识过程排序正确的是

- ①天圆地方
 - ②麦哲伦环球航行
 - ③根据太阳、月亮的形状推断
 - ④地球卫星照片
- A. ①→②→③→④ B. ④→③→②→① C. ①→③→②→④ D. ④→②→③→①

国际上习惯用西经20°和东经160°组成的经线图作为划分东、西半球的界线。读图1“某区域经纬网示意图”，回答第2、3题。

2. 甲、乙、丙三地中，位于东半球的是

- A. 甲地和乙地
- B. 甲地和丙地
- C. 乙地和丙地
- D. 甲、乙、丙三地

3. 图中甲地位于乙地的

- A. 西北方
- B. 东南方
- C. 西南方
- D. 东北方

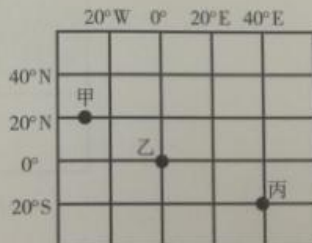


图1

以下是四位同学根据出行需要选择地图的情况。据此，回答第4~6题。

① 2020年7月第32届夏季奥运会举行，汤姆想了解220个参赛国家的位置，他选用了“世界政区地图”

② 东京真大啊！玲玲想知道日本皇宫在什么位置，她选用了“东京市城市地图”；

③ 小军打算去上海迪士尼游玩，他选用了“中国地形图”；

④ 兰兰不想出国，想利用假期游览安徽黄山风景区，她选用了“黄山风景区导游图”。

4. 选用的地图不恰当的是

- A. ①
- B. ②
- C. ③
- D. ④

5. 下列是小军从“中国地形图”上描画下来的图例，可能描画错误的是

- A. 常年河、湖
- B. 水库
- C. 港口
- D. 公路

6. 如果上述四幅地图的图幅大小相等，那么比例尺最小的是

- A. 世界政区地图
- B. 东京市城市地图
- C. 中国地形图
- D. 黄山风景区导游图

北宋沈括在《梦溪笔谈》中记载：“予奉使河北，遵太行而北，山崖之间，往往衔螺蚌壳及石子如鸟卵者，横亘石壁如带。此乃昔之海滨，今东距海已近千里。”据此，回答第7、8题。

7. 在太行山发现许多海螺、海蚌等生物化石，说明

- A. 太行山是从古老的大海里升起来的
- B. 太行山今后将从陆地转变为海洋
- C. 今天的海螺、海蚌是从陆地进入海洋
- D. 古老的海螺、海蚌是生活在陆地上的

8. 能解释文中描述现象的是

- A. 人类填海造陆
- B. 海平面的上升
- C. 地壳运动
- D. 生物生活习性的变化

在日常生活用品中经常可以看到各种地理元素。图2所示的枕头上就有世界地图，读图，回答第9~11题。

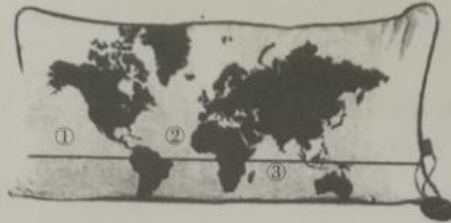


图2

9. 在“枕面地图”中未能显示的大洲是

- A. 亚洲
- B. 欧洲
- C. 非洲
- D. 南极洲

10. 在“枕面地图”中有一条横线，该线最有可能示意

- A. 赤道
- B. 北回归线
- C. 南极圈
- D. 南回归线

11. 在“枕面地图”中的数字①、②、③分别对应的大洋是

- A. 太平洋、大西洋、印度洋
- B. 太平洋、印度洋、大西洋
- C. 大西洋、太平洋、印度洋
- D. 印度洋、太平洋、大西洋

2017年11月27日，印度尼西亚巴厘岛火山喷发预警提升至最高级别，当地政府要求紧急疏散火山附近十公里范围内的游客。图3为“六大板块分布示意图”。读图，回答第12、13题。



图3

12. 印度尼西亚巴厘岛火山

- A. 位于亚欧板块与太平洋板块交界处
- B. 位于亚欧板块内部
- C. 位于亚欧板块与印度洋板块交界处
- D. 处于板块张裂地带

13. 遭遇火山喷发有效的自救方法是

- ①火山爆发溢出的气体可致人死亡，应用湿手巾掩住口鼻尽快逃离。
- ②火山灰越积越厚，车轮陷住无法行驶时，应放弃汽车，向大路奔跑，离开灾区。
- ③穿上厚衣服，保护身体，更要注意保护头部免遭飞坠的石块击伤。
- ④火山喷发难得一见，应该抓紧时机，近距离观察、拍照。
- ⑤如果处于火山岩浆流经区域，应该站立不动等待救援。

- A. ①②④ B. ②③④ C. ②④⑤ D. ①②③

表1是小红从网上查询到的北京某月10日和11日两天的天气状况及相关信息。据此，回答第14~16题。

表1

日期	日出/日落时间	天气现象	气温(℃)
10日	日出 05:43	白天 多云	最高 17
	日落 18:47	夜间 小雨	最低 10
11日	日出 05:42	白天 晴天	最高 19
	日落 18:48	夜间 月亮	最低 9

14. 10日的天气状况是

- A. 白天阴 B. 白天多云
C. 夜间有雾霾 D. 夜间雨夹雪

15. 11日比10日

- A. 白天气温低 B. 夜间气温高
C. 白昼时间变长 D. 气温日较差小

16. 表中的预报信息最有可能出现在

- A. 1月 B. 4月 C. 7月 D. 10月

某兴趣小组为研究不同要素对气候的影响，搜集了某区域甲、乙两个地点的数据(图4)。据此，回答第17~19题。

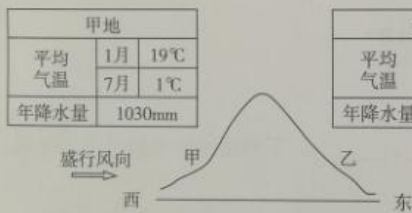


图4

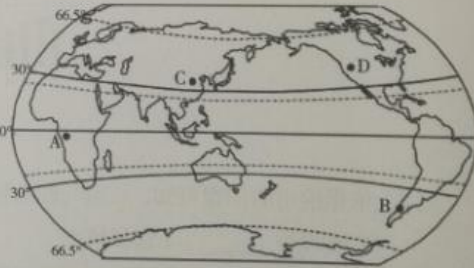


图5

17. 图4中甲、乙两地降水差异的主要影响因素是

- A. 纬度位置 B. 海陆位置 C. 地形因素 D. 人类活动

18. 该兴趣小组的研究区域最有可能是图5中的

- A. A地 B. B地 C. C地 D. D地

19. 图5中，A地年平均气温显著高于C地，两地气温差异的主要影响因素是

- A. 纬度位置 B. 海陆位置 C. 地形因素 D. 人类活动

读图6“四大洲人口出生率和死亡率统计图”，回答第20、21题。

20. 人口自然增长率最低的大洲是

- A. 非洲 B. 北美洲 C. 亚洲 D. 欧洲

21. 据图推测, 非洲人口增长带来的影响是

- ①社会、经济发展压力大
 - ②居民就业、教育等问题突出
 - ③劳动力短缺
 - ④人口老龄化严重
- A. ①②
B. ③④
C. ①③
D. ②③

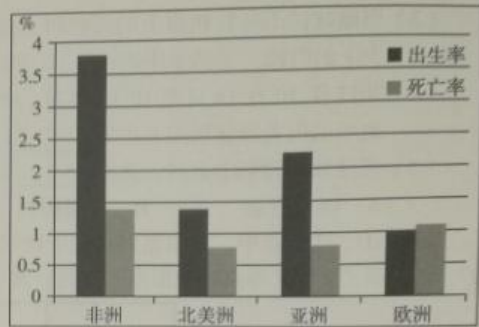


图6

根据发展水平的差异, 大体可以把世界上的国家分为发达国家和发展中国家。读图7“两类国家人口与国内生产总值比较图”, 完成第22、23题。

22. 下列四个国家中属于I类国家的是

- A. 中国 B. 澳大利亚
C. 印度 D. 尼日利亚

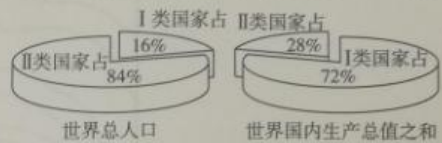


图7

23. 国际上把I类国家与II类国家之间的政治、经济商谈称为

- A. “南北之差” B. “南北对话” C. “南南合作” D. “南北合作”

海尔洗衣机品牌全球销量第一; 张裕葡萄酒是融合中、美、意、葡多国资本与技术共同打造的; 日本地震使美国汽车生产商面临零件短缺之苦。据此, 回答第24、25题。

24. 上述实例反映的是

- A. 国际合作与经济全球化 B. 国际商业竞争越来越激烈
C. 国家之间和平共处 D. 世界各国的经济独立发展

25. 下列属于经济全球化具体体现的有

- ①资源、技术共享 ②人才、信息共享 ③经济相互依赖 ④生产分工不明显
- A. ①②③ B. ②③④ C. ①③④ D. ①②④

二、综合题 (共 50 分)

26. 读图8“地球公转示意图”, 回答下列问题。(10分)

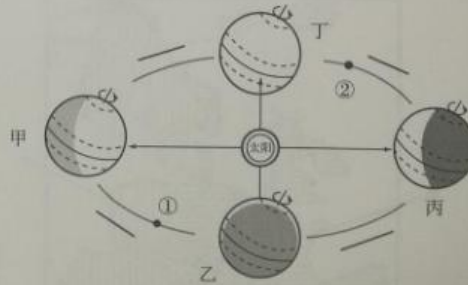


图8

(1) 请在图8中的短线上用箭头标出地球公转方向。

(2) 当地球公转到甲处时, 北半球的节气是 _____, 此时太阳直射的纬线是 _____, 北半球白昼时间比黑夜时间 _____ (长/短), 北极圈出现 _____ (极昼/极夜) 现象。

- (3) 当地球位于公转轨道上的丙处时,北京地区处于一年中获得太阳光热 _____ (较多/较少) 的时段,是四季中的 _____ 季。
- (4) 2017年10月18日至10月24日,中国共产党第十九次全国代表大会在北京召开,此时地球的位置最接近图8中的 _____ (乙/丙) 处。
- (5) 当地球运动到①点时,北京 _____。(选择填空)
A. 冰天雪地 B. 昼短夜长 C. 昼长夜短 D. 阳光直射
- (6) ①、②两点中,太阳直射点位于南半球的是 _____。
27. 读图9“某地区等高线地形图(海拔:米)”,回答下列各题。(10分)

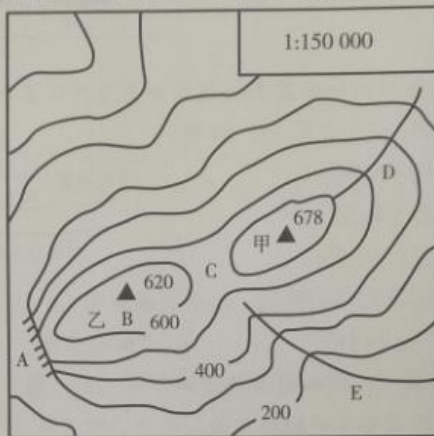


图9

- (1) 写出图中字母所代表的地形部位名称:
A _____, B _____, C _____。
- (2) 图中D、E两地中可以发育成河流的是 _____, 判断理由 _____。
- (3) 图中的等高距是 _____ 米, 甲、乙两山山顶的相对高度是 _____ 米。
- (4) 甲山在乙山的 _____ 方向, 两地之间的实地直线距离约 _____ 米。
28. 李欣同学在探究欧洲的气候时,发现不同地区间的气候与景观差异显著,且气候数据有多种呈现方式,她对此很感兴趣并进行了深入研究。阅读图文资料,回答下列问题。(10分)



图10

七年级(地理) 第5页(共8页)

- (1) 图 10 中的 A、B 两地相比较, 年降水量较少的是 _____ 地, 气温年较差较小的是 _____ 地, 造成这种差异的主要因素是 _____。
- (2) 图 11 表示图 10 中 C 地的气温与降水数据, 例如, 1 月份的月平均气温为 5℃, 月平均降水量为 60mm。读图 11 可知, 该地最热月是 _____ 月, 降水最多的是 _____ 月。

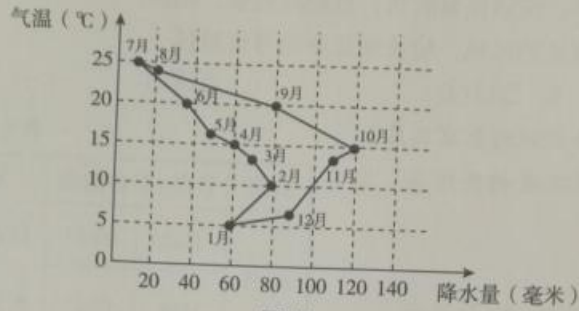


图 11

- (3) 依据图 11 中所给数据, 将图 12 中的气温曲线与降水量柱状图补充完整。

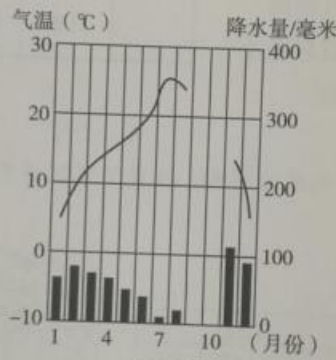


图 12

- (4) 依据绘出的图像可知, C 地气候的特点是 _____, _____。下列图示景观最可能出现在 C 地的是 _____。(选择填空)



29. 某地理小组拟探究“世界人口分布规律”, 请你一起完成探究过程。(10分)

探究主题: 世界人口分布规律。

探究方法: 通过阅读资料, 发现世界人口的分布规律。

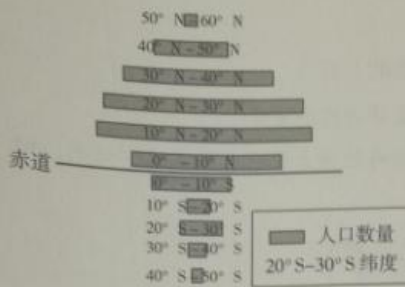


图 13

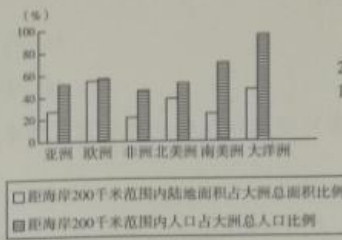


图 14

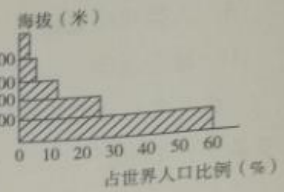


图 15

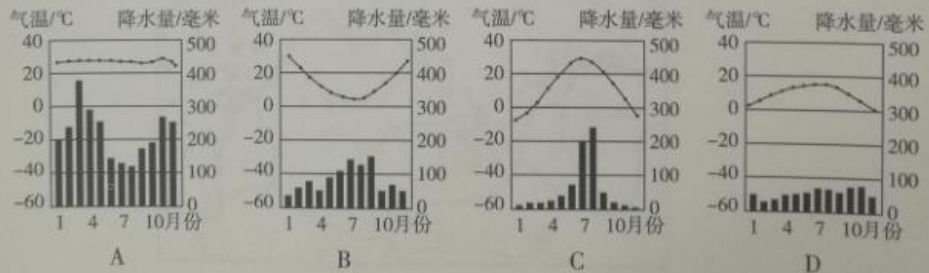
- (1) 读图 13 归纳, 从南北半球看, 世界人口主要分布在 _____ (南/北) 半球; 从纬度位置看, 世界人口主要分布在 _____ (中低纬度/中高纬度) 地区。
- (2) 读图 14 可知, 距海岸 200 千米范围内陆地面积占大洲总面积比例最大的洲是 _____, 人口占大洲总人口比例最小的洲是 _____, 该大洲是 _____ 人种的主要分布地区。
- (3) 从海陆位置看, 世界人口主要分布在 _____ 地区。
- (4) 读图 15, 从地形来看, 世界人口主要分布在海拔 _____ 米以下的 _____ (填地形类型) 地区。
- (5) “用人口迁移的方法, 让全球各地的人口均匀分布。” 评价这一观点, 并说明理由。

30. 某中学学生在地理教师的指导下, 开展了名为“环游世界”的网络学习活动。通过上网收集、分析资料, 逐步加深对世界各地自然环境、人文环境的认识。(10 分)

学习主题 1——探究自然环境与聚落的关系

“高大的阔叶林, 清清的溪流, 悬崖边用树搭成的天梯, 拉着老藤枯枝的艰难攀援, 看不见阳光的阴湿潮热, 令人目不暇接的雨林资源, 还有稍纵就过的野生动物, 一切的一切, 给我们一份神秘、一份美丽、一份惊叹。”

- (1) 上述文字描述的场景是下列哪种气候类型区的典型景观 _____ (选择填空)。



- (2) 适应当地气候的民居是 _____ (选择填空)。



(3) 聚落的形成与环境关系密切, 下列条件有利于聚落形成与发展的是 _____ (选择填空)

- ①便利的交通 ②平坦的地形 ③高山、荒漠 ④气候湿热 ⑤水源充足
A. ①②③ B. ②③④ C. ①②⑤ D. ③④⑤

学习主题2——探究人种、宗教与语言的分布

第一届“一带一路”国际合作高峰论坛于2017年5月14日至15日在北京举行。“一带一路”是“陆上丝绸之路经济带”和“21世纪海上丝绸之路”的简称。结合图16, 回答下列问题。



图16

- (5) 鹿特丹、雅典、科伦坡、广州四个城市中, 最早迎来新一天日出的是 _____。
(6) 将图中“一带一路”沿线的城市名称和相关地理信息填入表中适当位置。

城市	主要信息
德黑兰	地处中东, 居民以 _____ (人种) 为主, 语言以波斯语为主, 信仰伊斯兰教, 其宗教建筑为 _____, 石油工业发达。
内罗毕	居民以 _____ (人种) 为主, 地处赤道附近大陆东岸, 经济较落后。
_____	地处欧洲西部, 居民以 _____ (人种) 为主, 气候全年温和湿润, 居民主要信仰 _____ 教, 经济发达。

