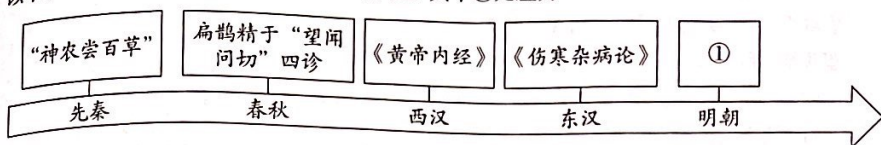






5. 以下示意图呈现了中国传统医学的发展历程。其中①处应为



- A. 《齐民要术》      B. 《天工开物》      C. 《农政全书》      D. 《本草纲目》

6. 清朝将南海诸岛列入水师的巡查范围。康熙四十九年至五十一年（1710—1712年），广东水师副将吴升率水师巡视到西沙群岛一带。由此说明

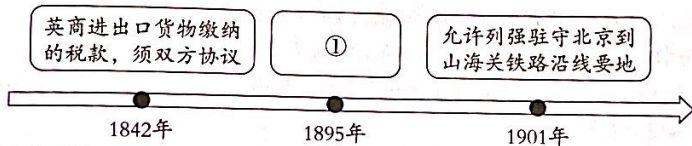
- A. 清朝的社会矛盾尖锐      B. 东南亚诸国与清朝友好往来  
C. 清政府扶持海上贸易      D. 清政府对南海诸岛行使主权

7. 下列连环画所反映的历史事件的共同点是



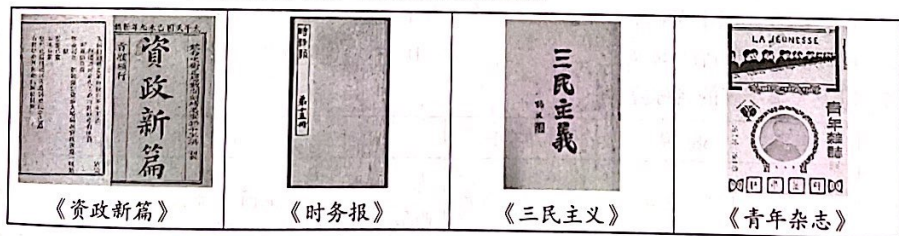
- A. 加强对外交往      B. 加强边疆管理  
C. 强化君主专制      D. 抗击外来侵略

8. 以下示意图反映了中国近代民族危机的不断加深，其中①处应为



- A. 割香港岛给英国      B. 允许日本在中国开设工厂  
C. 改总理衙门为外务部      D. 划定东交民巷为使馆界

9. 下图为某历史学习小组搜集的资料，他们研究的主题应为



- A. 西方科技的引进      B. 君主立宪制的建立  
C. 救亡图存的探索      D. 清政府改革的深入





10. 右图为 1935 年 5 月的《中国工农红军布告》，布告中写道：“中国工农红军，解放弱小民族；一切彝汉平民，都是兄弟骨肉。”“红军万里长征，所向势如破竹；今已来到川西，尊重彝人风俗。军纪十分严明，不动一丝一粟；粮食公平购买，价钱交付十足。”由布告可知



- ①红军是军纪严明的军队
- ②红军推行民族平等政策
- ③红军维护人民群众利益
- ④红军三大主力胜利会师

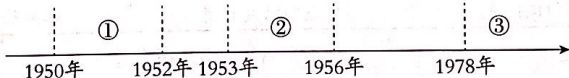
- A. ①②③      B. ①②④      C. ②③④      D. ①③④

11. 下表中的史实反映了

- 张自忠将军和八路军副参谋长左权英勇抗战，血洒疆场
- 海外华侨和港澳同胞，捐款捐物，支援前线士兵作战
- 工人不分昼夜，加班加点，支援前线
- 马本斋组织回民义勇队，抗击日军入侵

- A. 全民族抗战      B. 正面战场抗战      C. 敌后战场抗战      D. 抗战取得胜利

12. 某同学围绕“中国共产党在不同时期实行的土地政策”进行梳理，其中②应填写的是



- A. “打土豪，分田地”
- B. “地主减租减息、农民交租交息”
- C. 废除地主阶级封建剥削的土地所有制，实行农民的土地所有制
- D. 把分散的个体农民组织起来，引导他们参加农业生产合作社

13. 社会主义建设时期，各条战线上涌现出了大批英雄模范人物，例如雷锋、焦裕禄等。同一时期的英雄模范人物还有

- A. 黄继光      B. 王进喜      C. 莫言      D. 杨利伟

14. 1821 年英国创办爱丁堡工艺学校，近代职业教育兴起。学校教授机械制图、建筑等课程，学生主要为当地青年，上课时间以晚上为主。近代职业教育兴起的原因是

- A. 英国殖民霸权的确立
- B. 工业革命的发展需要
- C. 城市人口向农村流动
- D. 社会保障制度的建立

15. 以下大事年表的名称应是

时间	1688 年	1787 年	1792 年	1861 年	1868 年
事件	英国“光荣革命”	美国宪法制定	法国成立法兰西第一共和国	俄国废除农奴制	日本明治维新

- A. 民主共和制的确立
- B. 资本主义制度的确立与扩展
- C. 殖民地人民的反抗
- D. 资本主义世界市场的形成



16. 1903年，一位德国大臣说：“皇上首要的和基本的思想就是粉碎英国的霸权，以有利于德国。”1911年，一位英国外交大臣说：“真正决定我国外交政策的，是海上霸权的问题。”以上材料可用于研究

- A. 第一次世界大战的背景
- B. 英国殖民霸权的确立
- C. 第一次世界大战的结果
- D. 德国法西斯政权建立

17. 右侧是某同学拟定的《社会主义：从理论到实践》的论文提纲，其中①处应为

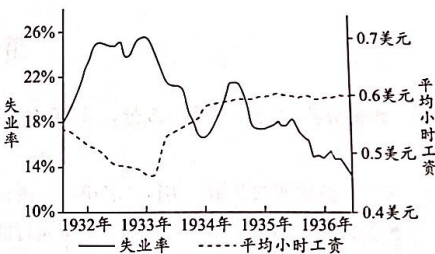
- A. 《共产党宣言》
- B. 第一国际
- C. 巴黎公社
- D. 十月革命

一、社会主义从空想到科学  
 (一) 科学社会主义的诞生  
 (二) 普法战争后的革命实践  
 二、第一个社会主义国家实践  
 (一) \_\_\_\_\_ ① \_\_\_\_\_  
 (二) 新经济政策与斯大林模式  
 三、中国社会主义现代化建设

18. 右图为美国1932—1936年失业率和平均小时工资图表，下列各项能够解释1935年后数据变化原因的是

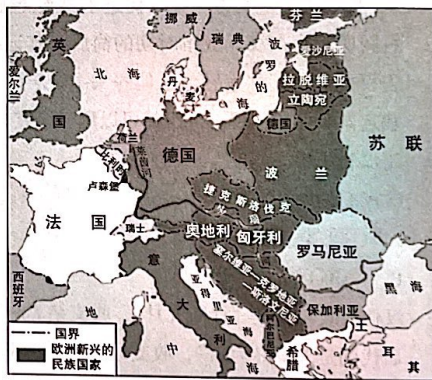
- A. 工业革命地开展
- B. 南北战争的爆发
- C. 罗斯福新政的实施
- D. “新经济”的出现

美国1932—1936年失业率和平均小时工资



19. 右侧地图呈现的国家格局，反映的具体时空是

- A. 拿破仑时代的欧洲
- B. 一战前的欧洲
- C. 一战后的欧洲
- D. 冷战结束后的欧洲



20. 以下主题和史实对应正确的是

	主题	史实
A	工业革命时期的世界	美国内战、欧洲经济共同体成立
B	两次世界大战之间的世界	《凡尔赛条约》、不结盟运动
C	冷战时期的世界	三国同盟、杜鲁门主义
D	走向和平发展的世界	联合国的成立、经济全球化





## 第二部分

本部分共4题，共40分。

### 21. (8分) 汉字的书写与传播

材料一



(1) 依据材料一，指出从东汉到北宋书写的变化。(2分) 结合所学，说明变化的原因。(2分)

材料二 汉字不仅是中华灿烂文化的结晶，它还为周边国家所使用，如日本、朝鲜、越南等国在历史上曾长期使用汉字，日本利用汉字的偏旁部首创制了日文，现在仍夹用汉字。我国很多少数民族仿照汉字创造了本民族文字，如契丹文、女真文、西夏文等，且汉字被多个民族共同使用，成为大范围社会交际和文化沟通的桥梁。

——摘编自李滨英《中华汉字对周边少数民族创制文字的影响》

(2) 依据材料二，说说汉字传播的历史影响。(2分)

材料三 19世纪，西方人发明了打字机，极大提高了书写效率。为捍卫汉字的书写传播，林语堂曾不惜倾家荡产，设计制作中文打字机。20世纪中后期，王永民发明汉字输入法，提高了用西式键盘输入汉字的效率，使得汉字成为数字化时代的重要文字。今天，我们实现了在键盘上“敲字如飞”，但也因为长期使用电脑，许多人只能大致记住汉字的形状，提笔却无法正确写出具体部首和结构。

——摘编自刘瀛璐《书写：智能时代的田园牧歌》

(3) 综合上述材料，从科技创新与文化遗产的角度，谈谈你对汉字的认识。(2分)

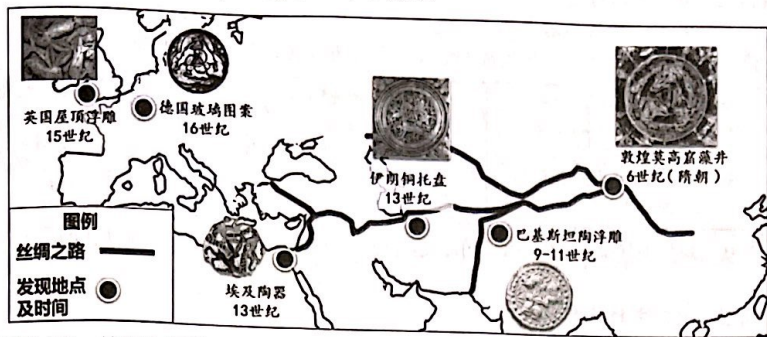
### 22. (10分) 丝绸之路·一带一路

材料一 隋唐时期的敦煌莫高窟中绘有一种特殊图案——三兔共耳(见右图)。在中国传统文化中，兔子是多子多福的象征，“三”有吉祥寓意。经过魏晋南北朝战争，隋朝统一后，人口相对退减，多子多福、生生不息成为普通民众朴素的期盼。





该图案在很多国家和地区也有出现。如以下示意图：



(1) 依据材料一并结合所学，说出隋唐时期敦煌出现“三兔共耳”图案的原因。(2分) 依据示意图，指出其传播的特点。(2分)

材料二 “西厢瓷”因瓷器取材于元朝杂剧《西厢记》而得名。其最早出现于晚明，在清初逐渐发展兴盛。其人物刻画受到外籍宫廷院画家绘画技法影响，五官和服饰刻画分明，较为写实，有的还添加有异域风情的纹样装饰。其表现形式有连环画、组合画以及图文结合等多种。明清时期，“西厢瓷”随着中国瓷器的外销而传入欧洲，成为欧洲瓷画模仿的范本。《西厢记》故事也随着瓷器的销售在欧洲传播开来。



清康熙青花《西厢记》故事捧桂瓶

——摘编自简圣宇、华雪《瓷器上的戏曲图示》

(2) 依据材料二，概括明清“西厢瓷”的特点。(2分) 分析“西厢瓷”畅销欧洲的影响。(2分)

材料三 2013年，习近平总书记着眼人类前途命运及中国和世界发展大势，提出建设“丝绸之路经济带”和“21世纪海上丝绸之路”的战略构想。十年来，倡议拉动近万亿美元规模投资，形成3000多个合作项目，为沿线国家和地区创造42万个工作岗位，使将近4000万人摆脱贫困。中老铁路、匈塞铁路等重点线路运营、建设进展顺利，一批农业、医疗、减贫等民生项目相继实施，给沿线国家民众带来实实在在的好处。

——2023年3月30日《经济日报》

(3) 依据材料三，谈谈你对中国“一带一路”实施效果的认识。(2分)

## 23. (10分) 亚非拉民族解放与发展

材料一 版画中的历史



(1) 依据材料一，指出早期殖民扩张的具体表现。(2分) 结合所学，分析其影响。(2分)





### 材料二 货币中的历史

货币不仅是经济生活的基本元素，也是国家的象征。许多国家会把对本国历史有突出贡献的人物肖像印在货币上。以下货币上的历史人物分别为玻利瓦尔、甘地和曼德拉。



(2) 从材料二中任选一个国家的货币，结合史实，说明此历史人物为本国所作的历史贡献。(2分)

### 材料三 照片中的历史

	
<p>1955年4月，来自亚洲、非洲的29个国家和地区的代表在印度尼西亚的万隆举行了第一次亚非会议。会议体现的亚非国家和地区团结合作、友好相处，共同反对帝国主义和殖民主义，争取和巩固民族独立，保卫世界和平的精神，被称为“万隆精神”。周恩来提出的“求同存异”原则获得与会代表一致赞同。</p>	<p>2015年4月，来自亚非102个国家和地区的代表相聚万隆，参加第三次亚非会议，纪念万隆会议召开60周年。会议围绕“加强南南合作，促进世界和平繁荣”主题进行研讨，重申了“万隆精神”，聚焦新形势下缩小南北差距，消除贫困和实现可持续发展。中国在关税待遇、技术培训、经济援助等方面，主动承担新时期推动亚非共同发展的历史责任。</p>

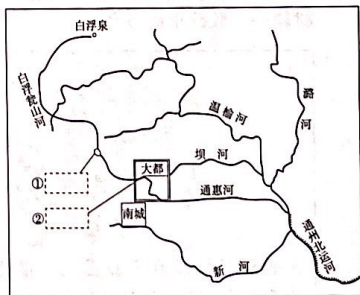
(3) 依据材料三并结合所学，比较两次亚非会议的异同点。(4分)

24. (12分) 三山五园地区承载丰富的历史文化。某学校开展了有关三山五园的历史项目学习。

#### 【探究颐和园】

历史项目学习小组查找了昆明湖相关资料，并绘制了示意图：

颐和园昆明湖在元代称瓮山泊。当时大都所需物资供应均要依赖运河由南向北运输，但大运河北段只到达通州，为此元朝政府计划修建通惠河。由于通州地势低于大都，只能从大都引水通往通州。为解决此问题，1292年，郭守敬引白浮泉，经白浮瓮山河引水渠，最后汇入瓮山泊储存，然后流进大都城积水潭。经过郭守敬系统的修筑治理，瓮山泊成为供应大都城和通惠河的水库。



——摘编自张帆《郭守敬与通惠河》

(1) 将材料中划线部分的地点分别填写在地图中

①②处。(2分，在答题卡相应位置填写字母) 分析瓮山泊对元大都发展的历史作用。(1分)



### 【考察清华园车站】

历史项目学习小组考察了清华园车站，整理出以下资料：

清华园车站大事年表

序号	时间	事件
①	1909年	由詹天佑主持修建的京张铁路建成通车。
②	1910年	京张铁路因运力加大，增设了五座车站，清华园车站是其中之一。
③	1922年	清华园车站等京绥铁路沿线60多个站点的1500余名车务工人，在京绥铁路工人共产党小组的领导下，进行罢工斗争。
④	1933年	“九一八事变”后，清华大学研制的防毒面具，经清华园车站发往绥远前线。
⑤	1935年	清华大学学生从清华园车站出发，参加中共地下党组织领导的“一二·九”运动。
⑥	1938年	共产党员宋亚男、宋亚夫、万一等用炸药袭击清华园车站，破坏铁路线，干扰日军运输。
⑦	1949年	清华园车站成为中共中央从西柏坡进入北平的首个落脚点。
⑧	1954年	由于清华大学东扩，京张铁路东移800米，并修建了新的清华园车站。
⑨	1960年	清华园老站改为货运站。
⑩	1980年	货运业务终止。
⑪	2021年	被列为北京市首批不可移动革命文物。
⑫	2023年	被列为北京市文物保护单位。

——摘编自石碧兰《百年清华园车站》等

(2) 参照示例，自拟一个与清华园车站相关的主题，并运用两则及以上资料，对主题进行说明。(5分)

示例：

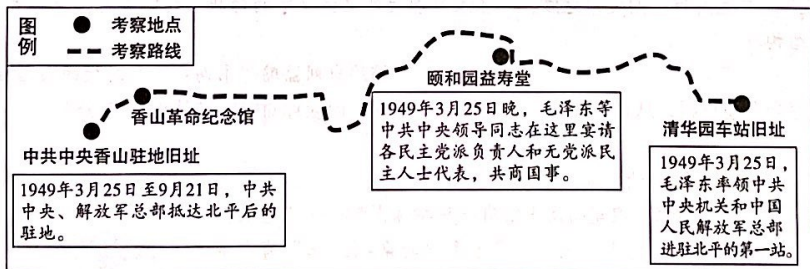
主题：清华园车站的修建与京张铁路

序号：①②

说明：清华园车站是京张铁路沿线的站点，它的修建提高了运输的效率，体现了中国近代交通的发展。

### 【重走“进京赶考之路”】

1949年3月23日，中共中央从西柏坡起程前往北平，毛泽东将这一天比喻为“进京赶考”的日子。历史项目学习小组通过查找相关资料，规划了考察路线，打算重走中国共产党的“进京赶考”之路。



(3) 依据考察路线并结合所学，说出“进京赶考”的时代背景。(2分)

(4) 2022年10月，习近平总书记在参加党的二十大广西代表团讨论时强调：“我们要坚定历史自信、增强历史主动，在新的赶考之路上向历史和人民交出新的优异答卷。”结合新中国七十多年的发展史实，谈谈你对中国共产党书写的优异“答卷”的认识。(2分)